

## 地理试卷(选用)

(考试时间 60 分钟 满分 100 分)



学校 \_\_\_\_\_ 班级 \_\_\_\_\_ 姓名 \_\_\_\_\_ 考号 \_\_\_\_\_

考生须知

1. 本试卷共 10 页,共 25 道题。在试卷和答题卡上准确填写学校名称、姓名和准考证号。
2. 试题答案一律填涂或书写在答题卡上,在试卷上作答无效。
3. 在答题卡上,选择题用 2B 铅笔作答,其他试题用黑色字迹签字笔作答。
4. 考试结束,将本试卷和答题卡一并交回。

## 第 I 卷 单项选择题

下列各小题均有四个选项,其中只有一项是符合题意要求的。(每小题 2 分,共 40 分,多选、错选、漏选该小题均不得分)

台湾是中国不可分割的领土,与祖国大陆山水相连,骨肉相依。读图 1 和资料卡,完成 1~4 题。

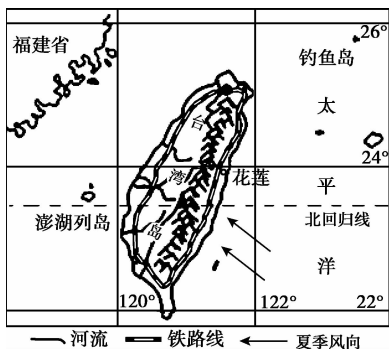


图 1

## 资料卡

- ①台湾的很多居民祖籍福建和广东
- ②台湾很多出版物使用汉字
- ③远古时期,台湾岛曾经与大陆相连
- ④台湾多火山地震

1. 图 1 中,花莲
  - A. 位于热带地区
  - B. 位于南半球,东半球
  - C. 东临太平洋
  - D. 与福建隔海相望
2. 下列对台湾岛描述,正确的是
  - A. 通过公路运输与大陆联系
  - B. 铁路线呈环状分布
  - C. 东部地区降水比西部地区少
  - D. 山脉东部耕地比西部广
3. 资料卡中,可以说明台湾与祖国大陆联系密切的是
  - A. ①②③
  - B. ①②④
  - C. ②③④
  - D. ①③④
4. 下列美称与物产及自然环境对应正确的是
  - A. 东方甜岛——盛产甜菜——热带、亚热带季风气候,高温多雨
  - B. 海上粮仓——盛产水稻——地处热带,热量充足
  - C. 植物王国——森林面积广,植物种类多——平原面积广大
  - D. 东南盐仓——海盐丰富——四面环海的岛屿

图2是世界人口分布示意图。读图,完成5、6题。

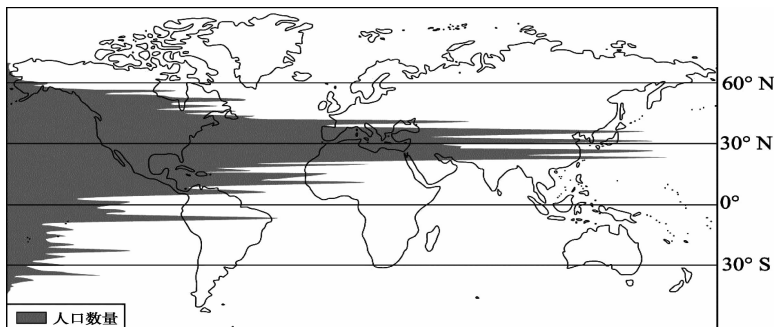


图2

5. 世界人口集中分布在

- A. 北半球中低纬    B. 北半球中高纬    C. 南半球中低纬    D. 南半球中高纬

6. 造成世界人口集中分布的原因是

- ①陆地面积较大    ②地形全部为平原    ③气温较为适中    ④降水量全球最多

- A. ①②    B. ①③    C. ②④    D. ③④

山东省威海市附近的海草房极具特色。威海市濒临黄海,夏季多雨凉爽,冬季多雪寒冷,风速较大。当地居民以厚石砌墙,用海草晒干后作为材料苫盖屋顶,建造出海草房。

7. 下列关于海草房特点的描述,正确的是

- ①受降水影响,屋顶的坡度较大  
②因濒临海洋,用海草苫盖屋顶  
③受气温影响,房屋的墙壁较厚  
④受风速影响,房屋的门窗较大

- A. ①②③    B. ②③④  
C. ①③④    D. ①②④



图3

中国与西班牙“一带一路”合作的金名片——“义新欧”班列截至2018年10月31日,已往返运行383列。图4为西班牙人的照片,图5为“义新欧”班列(义乌-马德里)线路示意图。读图,完成8、9题。



图4

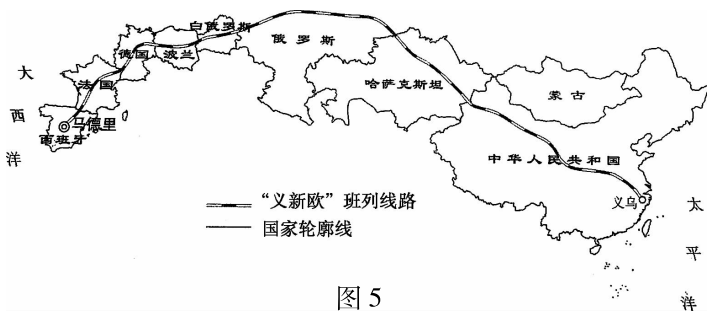


图5

8. 西班牙人眼窝深,鼻梁高,肤色较白,所属人种是

- A. 黄色人种    B. 白色人种    C. 黑色人种    D. 混血人种

9. “义新欧”班列

①跨越亚欧大陆

②跨越北美大陆

③连接中国、蒙古、俄罗斯等国家

④连接起太平洋沿岸与大西洋沿岸

A. ①③

B. ②③

C. ①④

D. ②④

日本有一座无人小岛(图6),2013年因一次剧烈的火山喷发,自海平面上升了约25米,一年后面积已接近230万平方米。随着火山持续活动,该岛屿至今仍在自动“长高”、“长大”。据此完成10、11题。

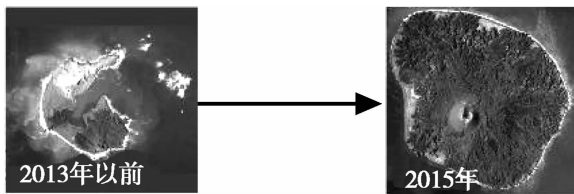


图6

10. 小岛不断“长高”、“长大”,体现了

A. 海陆分布

B. 海陆变迁

C. 海平面上升

D. 地球运动

11. 下列现象与小岛“长高”、“长大”相似的是

A. 喜马拉雅山上发现海洋生物化石

B. 荷兰退田还海

C. 东海近海海底发现古代水井、河床遗迹

D. 洪水淹没农田村庄

图7为2016年世界部分国家的人口状况。读图,完成12、13题。

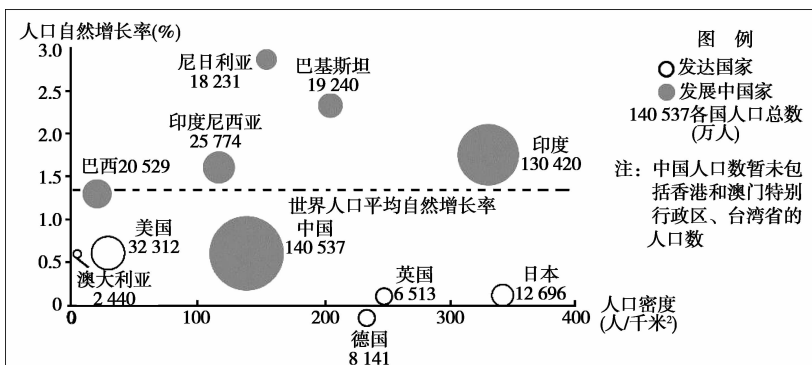


图7

12. 图7中

A. 人口自然增长率最高的是印度

B. 德国的人口总数比英国少

C. 发达国家的人口自然增长率普遍较低

D. 人口密度最高的是中国

13. 印度面临的人口问题是

①人口老龄化严重

②劳动力严重不足

③人口增长过快

④人口总量大

A. ①②

B. ①③

C. ③④

D. ②③

东北亚地区自然资源丰富,各国的劳动力和其他社会经济因素有很强的互补性。读图8“东北亚地区国家间资源、资本、劳动力流动示意图”,完成14~16题。

14. 东北亚国家中,具有劳动力与资源优势的国家分别是

- A. 日本、韩国
- B. 朝鲜、韩国
- C. 俄罗斯、日本
- D. 中国、俄罗斯

15. 从经济联系的角度看,东北亚国家中经济发展最具活力的是

- A. 俄罗斯
- B. 日本
- C. 中国
- D. 韩国

16. 东北亚国家加强经济合作有利于

- A. 共同促进各国经济发展
- B. 解决各国资金都短缺问题
- C. 解决各国劳动力都短缺问题
- D. 共同解决地区环境问题

读图9,完成17、18题。

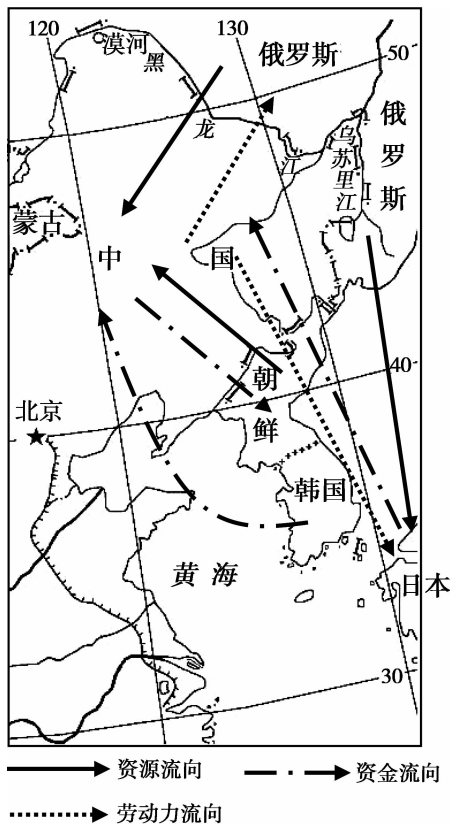


图8

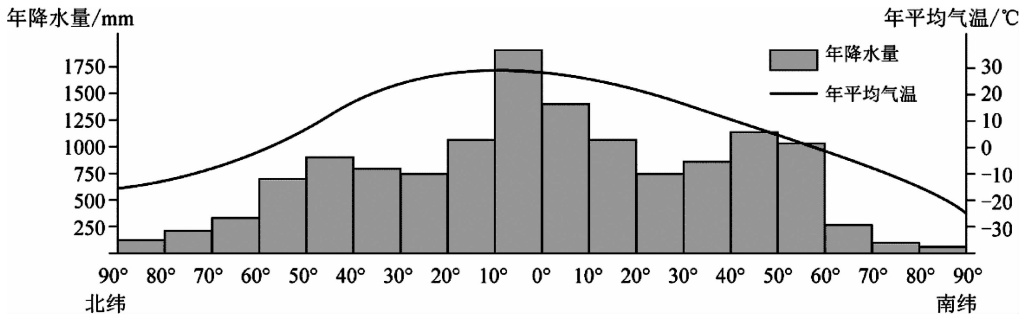


图9

17. 关于全球年平均气温分布特点的描述,正确的是

- A. 全球年平均气温从南向北递减
- B. 全球年平均气温从低纬向高纬递减
- C. 南北纬 30°附近的年平均气温一样
- D. 全球年平均气温最低值出现在北极地区

18. 关于全球年降水量分布特点的描述,正确的是

- A. 全球年降水量从低纬向高纬递减
- B. 南极地区比北极地区年降水多
- C. 中纬度地区比低纬度地区降水量多
- D. 赤道附近地区年降水量最多



读表 1,完成 19、20 题。



表 1 我国与撒哈拉以南非洲国家贸易往来

合作项目	中国协助 勘探石油	中国投资国家 基础设施建设		中国企业投资采矿			向中国出口石油	
		国家名称	毛里塔尼亚	科特迪瓦	中非	津巴布韦	赞比亚	刚果(金)
人均国民生产总值居 世界位次(2014 年)	154	153	184	159	143	183	119	91

19. 表 1 反映出,撒哈拉以南非洲国家多是

- A. 发达国家  
B. 发展中国家  
C. 矿产资源短缺  
D. 人口增长速度慢

20. 在和中国的贸易中,中国向撒哈拉以南非洲国家主要提供了

- ①资金                      ②矿产资源                      ③技术                      ④劳动力  
A. ①④                      B. ②③                      C. ①③                      D. ②④

第 II 卷 综合题(共 5 道题,60 分)

21. (13 分)潮涌中国——四十年改革开放图振兴

2018 年是我国改革开放 40 周年。40 年沧桑巨变,谱写了一个个动人的故事。

春天的故事:1979 年,深圳响起填海建港的开山炮,掀起了我国南部沿海的改革浪潮。

读图和资料,完成下列问题。



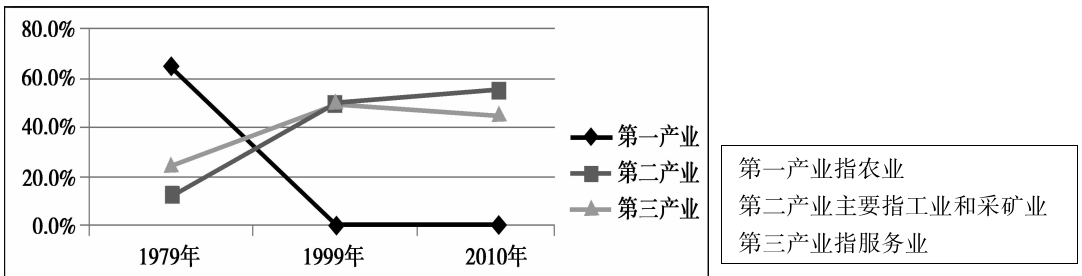
深圳(1975年)



深圳(2017年)

图 10

表 2 深圳产业结构的变化



(1) 改革开放 40 年,深圳三大产业中比重呈显著下降趋势的是\_\_\_\_\_产业,比重持续增加的是\_\_\_\_\_产业;深圳从\_\_\_\_\_ (聚落类型) 发展成\_\_\_\_\_ (聚落类型) 见证了深圳经济的腾飞。(4 分)

2018年10月24日港珠澳大桥通车。

(2)港珠澳大桥的通车意义是( )

(1分)

- ①促进港珠澳地区旅游业快速发展
- ②缩短香港和澳门之间的行程
- ③提高深圳的综合实力
- ④加强港、澳与内地的紧密联系
- ⑤提高珠三角大湾区的国际竞争力

A. ①②③④      B. ②③④⑤

C. ①②④⑤      D. ①②③⑤

(3)改革开放以来,珠江三角洲发挥

毗邻\_\_\_\_\_和澳门的优势,积极引进外资,经济建设取得了世人瞩目的成就。(1分)

浦东奇迹:浦东发展让上海和长江三角洲傲立潮头,再次腾飞扬远帆。

表3 长江三角洲和珠江三角洲部分数据对比

	10万人中具有大学教育程度的人数	两院院士人数	重点大学数量
长江三角洲	4493	220	17
珠江三角洲	3560	22	4

(4)表3说明长江三角洲更具有\_\_\_\_\_优势,利于发展\_\_\_\_\_。位于该区域的\_\_\_\_\_工业基地是全国最大的综合性工业基地。(3分)

长江腾飞:以上海为龙头的长江经济带(图12)已发展成为我国综合实力最强、战略支撑作用最大的区域之一。长江经济带确定了一轴、两翼、三极、多点的发展新格局。

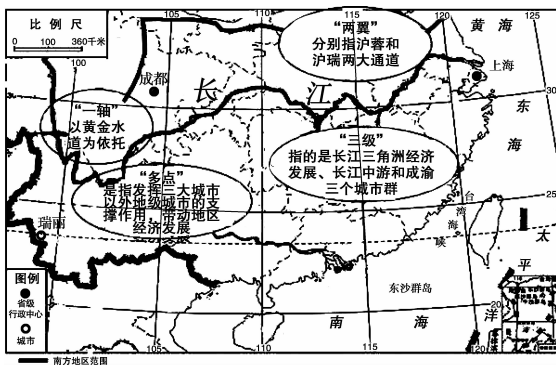


图12

(5)“一轴”是指以长江经济带黄金水道为依托,以下描述能体现黄金水道的是( )

(1分)

- ①江阔水深,终年不冻,是我国最重要的内河航道
- ②发源于青海省唐古拉山脉北麓
- ③干流及其支流的水能资源丰富
- ④两岸农业区引长江水灌溉

A. ①②③

B. ②③④

C. ①②④

D. ①③④

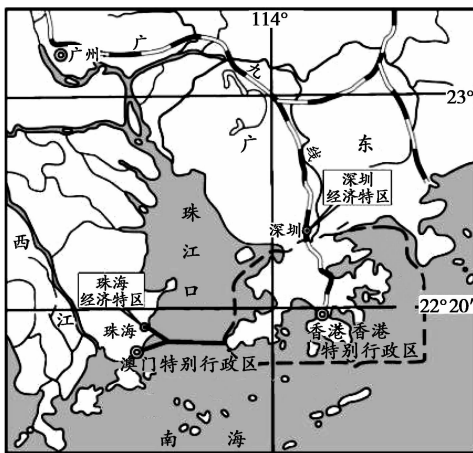


图11

(6)“两翼”分别指上海到云南瑞丽的沪瑞高速和上海到成都的沪蓉高速,它们沟通了我国\_\_\_\_\_向交通,与长江干支流一起组成便捷高效的综合交通走廊。(1分)

(7)习近平多次满怀深情地说“长江是中华民族的母亲河……生态优先、绿色发展之路,使绿水青山产生巨大生态效益、经济效益、社会效益,使母亲河永葆生机活力。”请从①“长江是中华民族的母亲河”、②“推动长江经济带发展必须走生态优先、绿色发展之路”,任选其一,从地理视角谈谈你的想法。\_\_\_\_\_ (2分)

## 22. (11分) 自然灾害——科学认知助力防灾减灾

2018年是不平静的一年。最强的寒潮、超强的台风和飓风、最强的洪灾纷纷登陆。图13为美国龙卷风范围图,图14为世界台风分布和地震分布图。读图,回答下列问题。

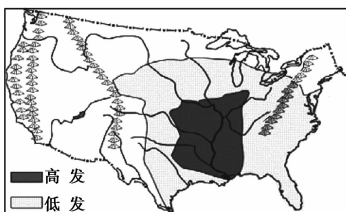


图13

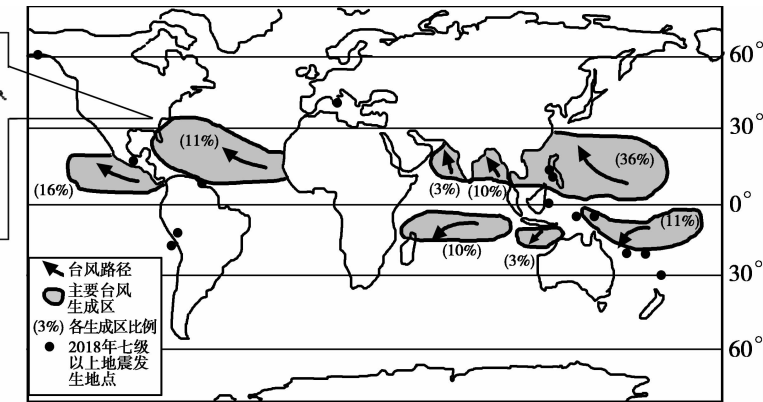


图14

(1)图14中,台风主要生成在\_\_\_\_\_ (温度带)的\_\_\_\_\_洋和\_\_\_\_\_洋,受台风影响最大的是\_\_\_\_\_洲。(4分)

(2)超强台风“山竹”登陆我国东南沿海时,不会出现的灾害有( ) (1分)

- A. 巨浪掀翻船只
- B. 暴雨淹没街道
- C. 山区出现泥石流、滑坡等地质灾害
- D. 狂风带来海啸

(3)美国是世界上龙卷风发生最多的国家。图13中,美国龙卷风高发地区地势\_\_\_\_\_。(1分)

(4)国家气象局发布“12月5~10日,我国中东部地区将先后出现大范围雨雪和强降温天气”,据此推测我国中东部地区将发生\_\_\_\_\_ (灾害)天气。(1分)

(5)2018年世界七级以上地震主要发生在\_\_\_\_\_地震带上。此地震带,位于\_\_\_\_\_ (板块交界处/板块内部),地壳运动\_\_\_\_\_。(3分)

(6)面对自然灾害,以下做法正确的是( ) (1分)

- A. 当台风来临时,出门一定带伞
- B. 当地震发生时,立刻乘电梯下楼
- C. 面对洪灾,去山区躲避
- D. 面对寒潮,要添衣保暖



### 23. (13分) 冰雪盛会——从体育运动看地理环境

冬季奥运会是世界上规模最大的冬季综合性运动会,有高山滑雪,越野滑雪,跳台滑雪等雪上项目,冰壶、冰球、短道速滑、花样滑冰等冰上项目。北半球的冬奥会一般在2月份举行。1998年冬奥会在日本长野举行,2022年冬奥会北京和张家口合办。距北京西北100多千米的张家口,雪场平均海拔1000米以上。图15为三城市示意图,图16为北京气温曲线和降水量柱状图,表4为长野气温和降水量统计数据。据此,完成下列问题。

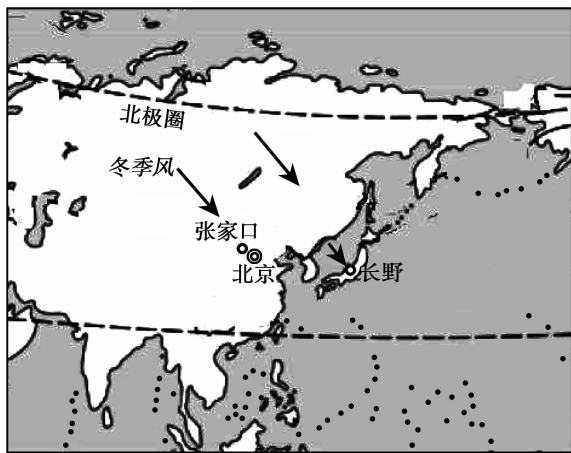


图 15

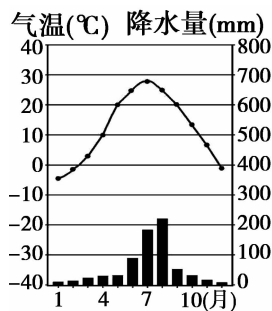


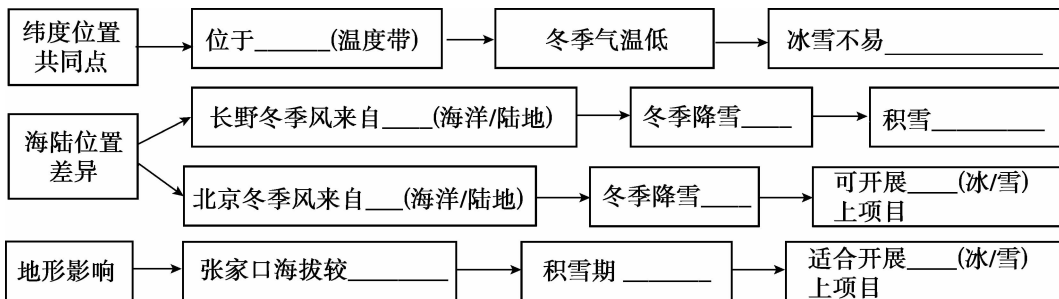
图 16

表 4

	1月	2月	3月	4月	5月	6月	7月	8月	9月	10月	11月	12月
平均气温(摄氏度)	-4.6	-4.0	-0.1	6.4	12.0	16.1	20.2	21.7	17.2	10.8	4.3	1.4
降水量(毫米)	110.7	95.7	80.1	60.9	55.1	51.4	67.2	137.0	137.0	124.0	102.0	104.0

(1)北京气候特征是\_\_\_\_\_;长野冬季气候特征是\_\_\_\_\_。(2分)

(2)结合资料和已有知识,完成框架图。(11分)





## 24. (13分) 五彩内蒙——让颜色告诉你大美中国

内蒙古自治区是我国最大的畜牧业基地,河套平原农田遍布,以盛产粮食而著称,被誉为“塞外米粮川”。不同的季节,内蒙古色彩不同,呈现五彩斑斓的景象。图17是内蒙古自治区简图。读图,完成下列问题。

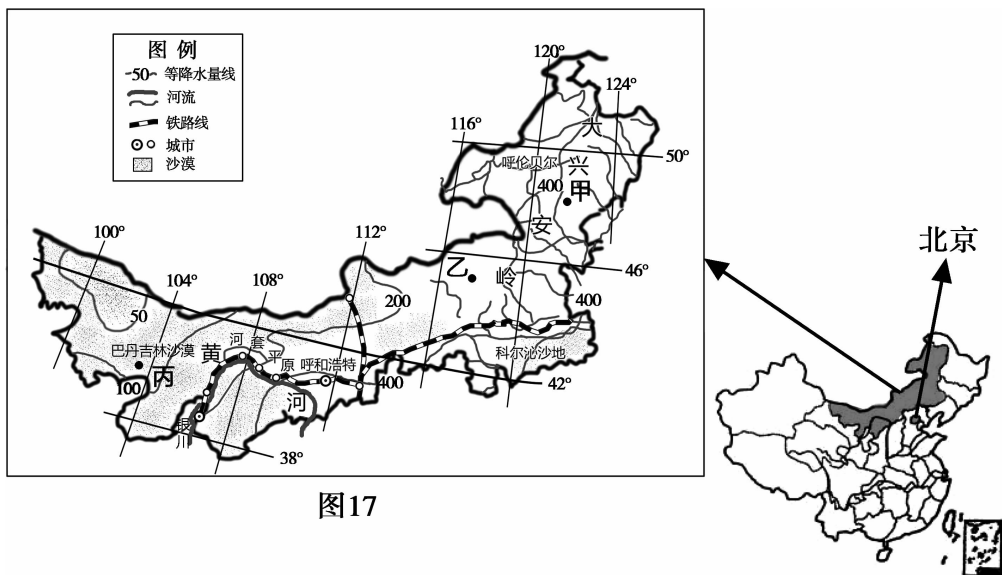


图17

(1)从四大地理区域看,内蒙古自治区主体属于\_\_\_\_\_ (地理区域),省级行政区中心是\_\_\_\_\_。(2分)

(2)内蒙古景色优美,沙漠、草原、森林、湖泊闪烁迷人的光芒。从东向西,景观依次表现为\_\_\_\_\_ (选择填空)。(1分)

- ①草原青                      ②林海绿                      ③沙漠金  
A. ①②③                      B. ②①③                      C. ③①②                      D. ③②①

景观的变化反映出年降水量分布的特点是\_\_\_\_\_,影响以上风光和降水量差异的主要因素是\_\_\_\_\_。(2分)

(3)“蓝蓝的天上白云飘,白云下面马儿跑。”歌中表现出的农业部门是\_\_\_\_\_业,本着因地制宜的原则,该农业部门主要集中分布在\_\_\_\_\_ (甲、乙、丙)地。(2分)

(4)河套平原麦浪金黄,与附近的沙漠相映成辉。河套平原降水量大约为\_\_\_\_\_ mm左右,但却成为著名的商品粮产区,其有利的自然条件是\_\_\_\_\_。(2分)

(5)飞驰的列车串联起大美风光,该地区铁路线大致呈\_\_\_\_\_走向延伸,城市分布特点是( ) (双选)。(3分)

- A. 沿铁路线分布    B. 沿河流分布                      C. 沿山脉分布                      D. 沿省区界线

(6)1978年开始,我国实施三北防护林工程,在内蒙古自治区大力植树种草,治理沙漠,形成一道绿色长城。举例说出三北防护林对北京生态环境改善所起的作用。(答出一条即可)(1分)



25. (10分) 茶马古道——连接历史和未来的发展路

“茶马古道”源于古代汉藏民族之间茶马互换,是古代中国与南亚地区一条重要的贸易通道。图18为茶马古道线路图,图19为溜索景观图,图20为西双版纳气温曲线和降水量柱状图,图21为普洱茶资料。读图,完成下列问题。

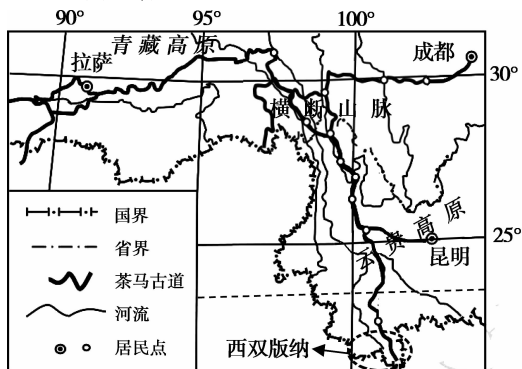


图18

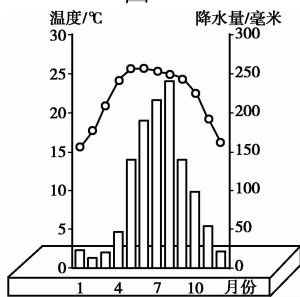


图20

**普洱茶**

分布：云南西双版纳，以集散地普洱命名。

习性：喜温暖潮湿、云雾荫蔽的环境，长在海拔1000~2100米、排水良好的山地。

图21



图19

(1)茶马古道主要有滇藏线、川藏线,其中滇藏线是指从\_\_\_\_\_ (省级行政区)到西藏的路线。茶马古道\_\_\_\_\_ (选择填空)。(2分)

- A. 主要位于热带
- B. 全部位于低纬度地区
- C. 能看见沙漠风光和雪域高原
- D. 部分穿行在横断山脉地区

(2)在滇藏线沿途,可以看到溜索这种传统交通方式。从图19中可看出,溜索所在河道较窄,流速\_\_\_\_\_;图18显示河流流向大致为\_\_\_\_\_,反映出这里的地势是\_\_\_\_\_。(3分)

(3)“普洱茶”是中国名茶,请从气候和地形两个方面说明西双版纳生产普洱茶的有利自然条件。(2分)

(4)昔日,马帮和牦牛队用生命铺就了一条透迤于世界屋脊之上的茶马古道,今天更多的交通方式可供选择,让天堑变为通途。交通运输工具的演变和提速得益于\_\_\_\_\_的进步,也是我国综合国力提升的见证。(1分)

川藏线途经雀儿山,雀儿山被称为“山鹰飞不过的山峰”。2016年平均海拔4300米的雀儿山隧道贯通,穿越雀儿山仅需5至10分钟,可避开3处雪崩、6处泥石流路段;冬季积雪厚度大于1.5米的路段减少了约22公里。

(5)归纳上述资料,说出两条雀儿山隧道修建过程中面临的困难。(2分)

