



# 北京市朝阳区 2018 ~ 2019 学年度第一学期期末检测

## 九年级地理试卷(选用)

2019. 1

(考试时间 90 分钟 满分 90 分)

学校 \_\_\_\_\_ 班级 \_\_\_\_\_ 姓名 \_\_\_\_\_ 考号 \_\_\_\_\_

考 生 须 知	1. 本试卷共 12 页,44 题。在试卷和答题卡上准确填写学校名称、姓名和准考证号。 2. 试题答案一律填涂或书写在答题卡上,在试卷上作答无效。 3. 在答题卡上,选择题用 2B 铅笔作答,其他试题用黑色字迹签字笔作答。 4. 考试结束,将本试卷和答题卡一并交回。
------------------	--

### 第一部分 选择题(40 分)

单选题,共 40 小题,每小题 1 分。

今年第 22 号台风“山竹”9 月 16 日 17 时在广东台山海宴镇登陆,截至 2018 年 9 月 18 日 17 时,已造成广东、广西、海南、湖南、贵州 5 省(区)近 300 万人受灾,5 人死亡,1 人失踪,160.1 万人紧急避险转移和安置。图 1 为“山竹”移动路径示意图,据此回答 1~3 题。

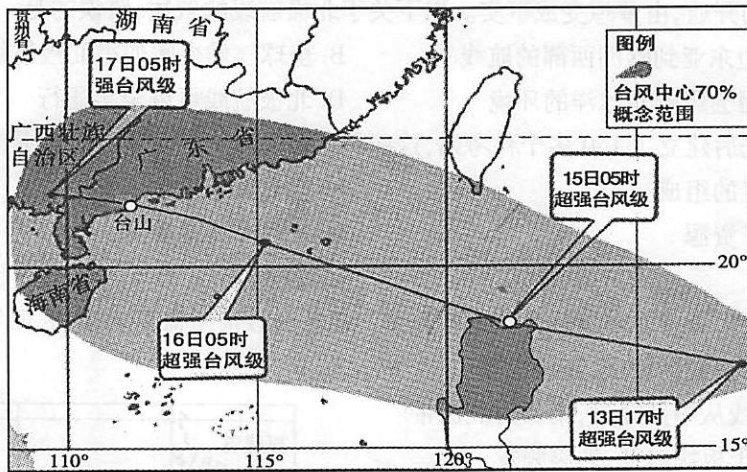


图 1

- 以下关于台风“山竹”的描述,正确的是
  - “山竹”属于一种海洋灾害
  - “山竹”自西南向东北方向移动
  - 15 日 05 时,“山竹”位于印度洋洋面上
  - “山竹”可以用 表示
- “山竹”在广东台山海宴镇登陆,其地理坐标是
 

A. 22°N, 112°W	B. 22°N, 112°E
C. 22°S, 112°E	D. 22°S, 112°W



微信扫一扫，快速关注

3. “山竹”登陆时,广东等省遭遇的天气和可能产生的灾害是

- ①“山竹”所到之处,所有房屋倒塌、大树连根拔起
- ②“山竹”登陆时产生的暴雨,会造成城市内涝
- ③“山竹”登陆时产生的巨大风力,会引发海啸
- ④伴随着暴雨,山区出现泥石流、滑坡等地质灾害

- A. ①②
- B. ①④
- C. ①③
- D. ②④

明明去甲村看望奶奶,发现当地正在建设旅游度假项目。图2是该地区的等高线地形图。读图,回答4~7题。

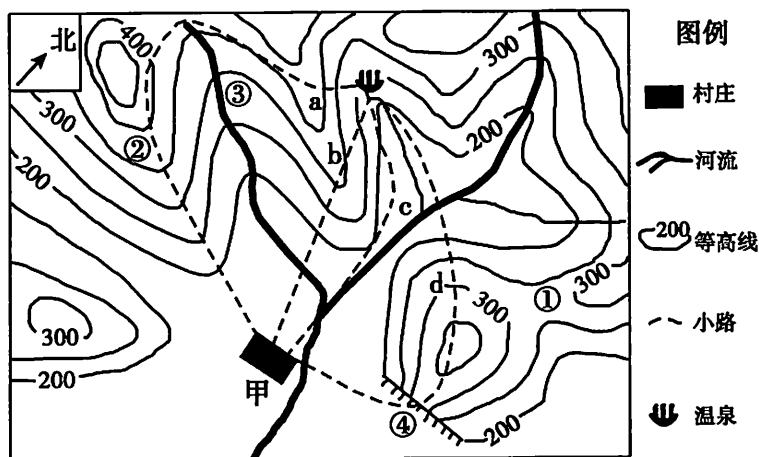


图2

4. 关于甲村的描述,正确的是

- A. 位于平原地区,有河流流过
- B. 海拔在200米以上,周围有丘陵
- C. 甲村的东北方向有一处温泉
- D. 位于山谷地区,周围有高大山脉

5. 该地可开发的旅游项目有

- ①处攀岩
  - ②处蹦极
  - ③处漂流
  - ④处玻璃栈道观光
- A. ①②
  - B. ③④
  - C. ①③
  - D. ②④

6. 甲村与海拔最高处的相对高度有可能是

- A. 67m
- B. 111m
- C. 332m
- D. 405m

7. 明明想带奶奶去新建成的露天温泉,从甲村出发,最适合的路线是

- A. a
- B. b
- C. c
- D. d

位于内蒙古自治区锡林郭勒盟的乌拉盖草原是我国保存最完好的天然草原之一,电影《狼图腾》在此拍摄,该地借势大力发展草原生态旅游。据此回答8、9题。

8. 在乌拉盖草原能够感受到的蒙古族特色文化是

- A. 泼水节
- B. 冰雪节
- C. 火把节
- D. 那达慕大会

9. 乌拉盖草原发展生态旅游可以

- A. 对草原任意开发与利用
- B. 促进草原可持续发展
- C. 导致自然灾害的增多
- D. 限制原生态文化的发展



微信扫一扫，快速关注

每年的12月22日前后，落日的光辉穿过颐和园十七孔桥的桥洞，形成“金光穿洞”的景观。图3为“颐和园导览图”，图4为十七孔桥“金光穿洞”照片，图5为“地球公转示意图”。读图，回答10~14题。



图3



图4

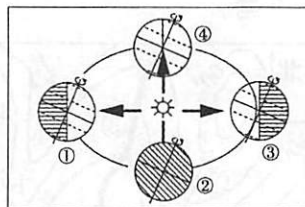


图5

10. 图3中量得文昌院到耕织图景区约为3厘米，两地实际距离约为1.2千米，比例尺接近
  - A. 1/400
  - B. 1 : 40000
  - C. 0  千米
  - D. 图上1厘米代表实地距离40千米
11. 拍摄图4照片时，阳光来自
  - A. 正南方向
  - B. 东南方向
  - C. 西南方向
  - D. 东北方向
12. 出现“金光穿洞”的景观时，地球大体运行在图5中的
  - A. ①点附近
  - B. ②点附近
  - C. ③点附近
  - D. ④点附近
13. 以下诗句中，与此时情境最为接近的是
  - A. 春风又绿江南岸
  - B. 映日荷花别样红
  - C. 霜叶红于二月花
  - D. 冬至阳生春又来
14. 家住朝阳劲松地区的玥玥想去颐和园观看“金光穿洞”的景观，查询出行线路需参考
  - A. 北京地形图
  - B. 北京政区图
  - C. 北京电子地图
  - D. 颐和园导游图

非洲尖毛草是一种生长过程十分怪异的草，前半年长根部，人们看不出它在生长。半年后，雨水到来之际，尖毛草以每天一尺半的速度向上疯长，三五天的时间，它便会长到一米六至两米的高度，成为草地之王。读图6，回答15~17题。

15. 尖毛草可能生长在图6中
  - A. 甲地
  - B. 乙地
  - C. 丙地
  - D. 丁地
16. 近些年，在尖毛草生长的地方，建起了很多国家公园，这些国家公园吸引游客的原因是
  - A. 完善的旅游配套设施
  - B. 丰富的野生动植物资源
  - C. 众多的文化名胜古迹
  - D. 发达的交通运输条件
17. 甲乙两地交界地带最可能出现的生态环境问题是
  - A. 湿地退化
  - B. 臭氧层空洞
  - C. 森林被破坏
  - D. 土地沙漠化

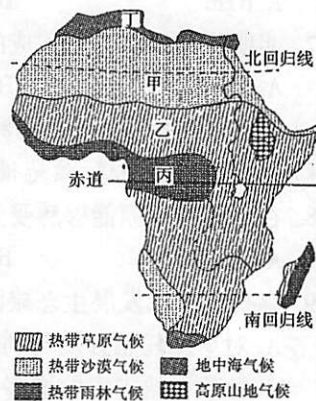


图6



南、北极地区是人类干预最少的地区,是最具科学考察价值的地区。读图7,回答18~21题。

18. 以下关于两极地区共性的描述,正确的是
- 两极地区均是高纬度地区且生态环境脆弱
  - 两极地区均外围是海洋,中心是陆地
  - 两极地区均无常住人口
  - 南极的长城站和北极的黄河站都有极昼、极夜现象
19. 两极地区气候都很寒冷,但是南极比北极更寒冷的原因
- ①南极地区冰雪覆盖
  - ②南极地区海拔更高
  - ③南极地区纬度更高
  - ④南极地区以海洋为主
- ①②
  - ③④
  - ②③
  - ②④
20. 北极航线的开通,由梦想变成事实。以下关于北极航线的叙述,错误的是
- 大大缩短东亚到欧洲西部的航线
  - 全球气候变暖使得北极航线得以开通
  - 航线开通会影响北冰洋的环境
  - 北极航线可以全年通行
21. 南极地区先后建立了150多个科考站,这些科考站开展的科学考察任务是
- ①研究大气的组成
  - ②监测海平面的升降
  - ③开发矿产资源
  - ④考察古气候变化
- ①②③
  - ①②④
  - ②③④
  - ①③④

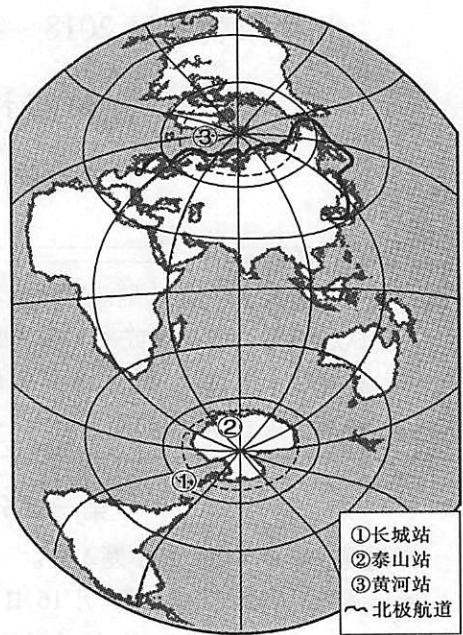


图7

2018年2月,台湾花莲附近海域发生地震。图8为台湾省简图。读图,回答22~24题。

22. 下列有关台湾省的叙述,正确的是
- 北回归线从中部穿过,南部为北温带
  - 花莲位于板块内部,地震频发
  - 台湾省包括台湾岛、澎湖列岛、钓鱼岛等
  - 与大陆的联系主要通过铁路运输
23. 下列关于台湾岛自然地理要素相互作用的表述,正确的是
- 受地势影响,河流自西向东流
  - 受山地影响,降水东多西少
  - 岛屿面积小,植被类型单一
  - 受地形影响,森林集中分布在西部

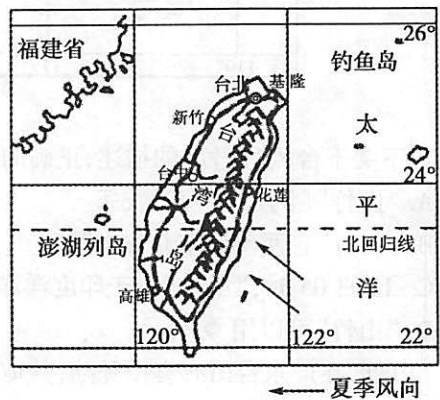


图8



微信扫一扫，快速关注

24. 台湾的主要城市大多分布在西部弧形地带,其主要原因是
- A. 地势平坦、交通便利  
B. 全年高温、土壤肥沃  
C. 矿产丰富、人口众多  
D. 河流众多、水能丰富

我国的“三江并流”自然景观被联合国列入《世界自然遗产名录》。从空中望去,三条大江平行流动近170千米,形成世界上罕见的“江水并流而不交汇”的奇特自然地理景观。读图9,回答25、26题。

25. “三江并流”的“三江”是指
- A. 黄河、长江、澜沧江  
B. 怒江、澜沧江、雅砻江  
C. 怒江、澜沧江、金沙江  
D. 长江、金沙江、澜沧江
26. 关于“三江并流”的特征,描述正确的是
- ①均发源于青藏高原,自北向南流  
②流经高山峡谷地区,水能丰富  
③流程长,水运便利  
④都是外流河,流经东南亚各国
- A. ①②  
B. ①③  
C. ②③  
D. ②④



图9

今年是我国改革开放40周年,40年潮起中国,40年沧桑巨变。据此,回答27~31题。

27. “1979年,那是一个春天,有一位老人在中国的南海边画了一个圈,神话般地崛起座座城,奇迹般聚起座座金山……”改革开放使深圳完成了从小渔村到现代化城市的巨变。资料中的“小渔村”和“现代化城市”的本质区别是
- A. 规模大小不同  
B. 房屋高矮不同  
C. 经济水平不同  
D. 生产方式不同
28. 深圳1979年的GDP约1.96亿,2017年的GDP约2.24万亿元,产业结构也发生了巨大的变化,充分体现了“深圳速度”。以下关于深圳经济发展的叙述,正确的是

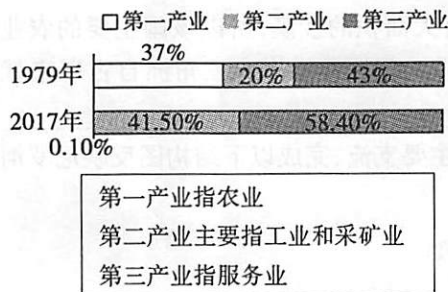


图10



图11

- A. 改革开放之初,深圳的产业结构以农业为主  
B. 2017年的GDP约是1979年的1.1万倍  
C. 现在深圳的产业结构以工业和采矿业为主  
D. 深圳的产业结构变化中第三产业增幅最大



微信扫一扫，快速关注

29. 1979年，深圳成为我国第一个对外开放的经济特区，其最为独特的优势是

- A. 毗邻香港利用外资
- B. 地域广阔利于建厂
- C. 濒临海洋海运便利
- D. 农业发达农产品丰富

伴随着改革的深入，“中国速度”已经成为一张名片。2018年10月24日上午9时，全世界最长的桥隧结构跨海大桥——港珠澳大桥正式通车，标志着港澳与内地联系更加紧密。

30. 大桥的通车，可以

- A. 促进长江三角洲的发展
- B. 缩短了香港到广州的车程
- C. 加强港澳台三地之间的联系
- D. 推动粤港澳大湾区的发展

31. 大桥上可通行的车辆有货运车辆、穿梭巴士以及跨境私家车(两地双车牌)等车型。下列私家车，能够在大桥上通行的是



- A. ①②
- B. ①③
- C. ②③
- D. ②④

图 12

中国天眼(FAST)是500米口径球面射电望远镜，位于贵州省平塘县大窝凼(dàng)，该地的地形方便建造天眼。迁出该地原有的12户人家后，满足附近5~10公里范围内不能有电磁波信号发射的条件，避免对信号接收造成干扰。

天眼的反射面板上密布小孔，具有透光、透水、透气的功能，使原本生长在大窝凼底部的植被得到很好地呵护，再加上该地地质条件可以保障雨水向地下泄流，不会对设备的运行产生影响。读图13，回答32~35题。



图 13

32. 中国天眼(FAST)

- A. 使用过程中消耗大量能源
- B. 属于劳动密集型产业
- C. 属于钢铁工业部门
- D. 属于高新技术产业

33. FAST所在的地形区是

- A. 东南丘陵
- B. 横断山区
- C. 云贵高原
- D. 四川盆地

34. FAST选址该地的主要原因有

- ①光照较好，空气稀薄清新
  - ②地形独特，建设工程量小
  - ③人烟稀少，电磁波干扰小
  - ④环境优美，吸引天文人才
- A. ①②
  - B. ①③
  - C. ②③
  - D. ②④



微信扫一扫，快速关注

35. FAST 的反射面板如图 13 所示。关于该面板的描述正确的是

- A. 方便接收宇宙脉冲信号,更加精准
- B. 透光透水,使该地区的植被得以保护
- C. 节省一定的建筑原材料,降低成本
- D. 透水性强,对设备的运行工作有影响

图 14 为“中国人口增长和人均耕地变化折线图”。读图,完成 36、37 题。

36. 据图判断

- A. 人口数量 1970 年以后持续增加
- B. 人口自然增长率 1970 年以后持续变大
- C. 人均耕地 1960 年以后持续减少
- D. 耕地总面积在 2000 年后保持不变

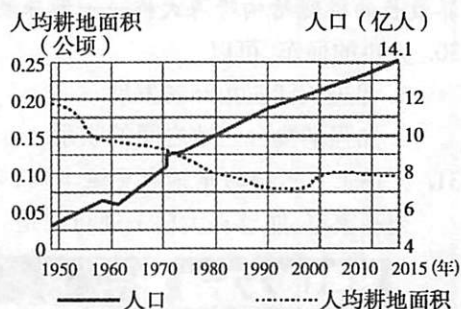


图 14

37. 2016 年 1 月 1 日,我国计划生育政策调整为“全面实施二孩”,该政策有利于


- A. 缓解人口老龄化问题
- B. 解决城市人口过多问题
- C. 均衡男女性别比问题
- D. 解决人口基数过大问题

某中学的地理实践活动是演示地球的运动,解释生活中的现象。据此回答 38~40 题。

38. 用灯泡模拟太阳,用地球仪观察昼夜之分现象,需要选择的地球仪是



透明地球仪 A



发光地球仪 B



经纬网地球仪 C



立体地形地球仪 D

图 15

39. 实践活动中,同学们的操作正确的是

- A. 拨动地球仪,演示地球的公转
- B. 地球仪围绕光源在圆形轨道上运动,演示地球的自转
- C. 保持地轴竖直向上,地球仪围绕光源运动,演示地球的公转
- D. 面对地球仪,从左向右拨动地球仪,演示地球的自转

40. 学习地球运动后,学生对参观天安门升旗活动的时间提出了建议。以下关于活动时间和理由的叙述,合理的是

- A. 3 月初,昼夜等长,升旗时间适中且气温适宜
- B. 6 月初,昼短夜长,升旗时间虽早但气温较高
- C. 9 月初,昼长夜短,升旗时间适中且气温适宜
- D. 12 月初,昼长夜短,天气寒冷但升旗时间较晚



## 第二部分 综合题(50分)

### 41. (15分) 尼罗河的礼赠

在古代埃及,每年7月,非洲中部充沛的雨水使尼罗河的水位升高,溢出河床,流向两岸;河水退后,留下一层肥沃的淤泥,农民只需将种子撒在潮湿、肥沃的土地上,就可以静待来年的好收成。尼罗河的定期泛滥,孕育了古埃及灿烂的文明。读图,回答下列问题。

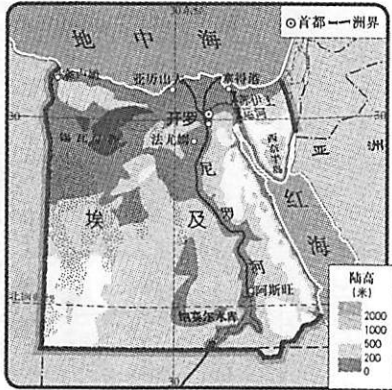


图 16

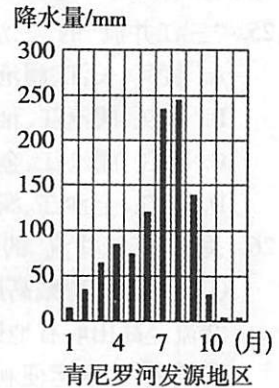
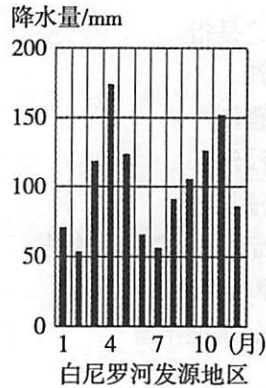


图 17

(1) 埃及的西奈半岛位于\_\_\_\_\_洲,苏伊士运河沟通了\_\_\_\_\_和\_\_\_\_\_,从而大大缩短了印度洋和大西洋沿岸各港口之间的航程。(3分)

(2) 古埃及是世界四大文明古国之一,以下属于埃及的历史遗迹是( )。(1分)




图 18

(3) 尼罗河的流向是\_\_\_\_\_,因为埃及有大面积的沙漠,所以该国主要的农业区均位于尼罗河沿岸和三角洲地区,属于\_\_\_\_\_农业。尼罗河沿岸和三角洲自古以来就是埃及主要城市 and 人口集中的地区,请分析其原因\_\_\_\_\_。(4分)

(4) 青尼罗河和白尼罗河是尼罗河的两条主要支流,完成以下结构图反映尼罗河定期泛滥的原因。(5分)

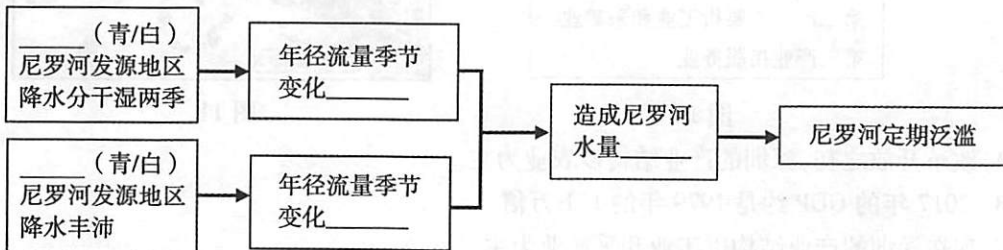


图 19





(5)为防止尼罗河的定期泛滥,埃及于1960年建造了阿斯旺水坝。对于阿斯旺水坝建造的利与弊,人们一直争论不休。关于利与弊,请说明你的观点,并阐述理由。

观点:\_\_\_\_\_,理由:\_\_\_\_\_。(2分)

42. (10分)花香果香溢广西

广西是我国重要的“南菜北运”生产基地之一。读图,回答下列问题。

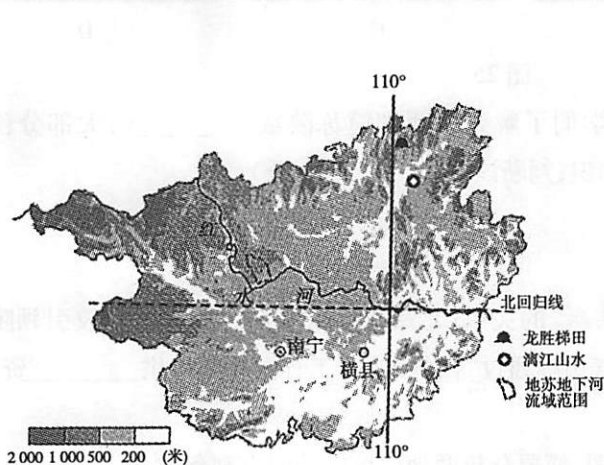


图 20

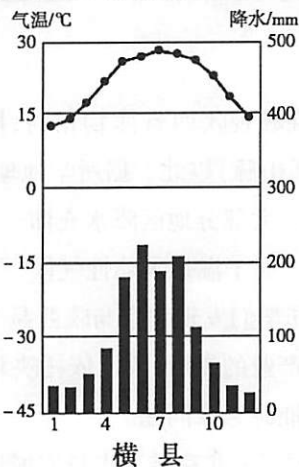


图 21

资料 1:2000 年,广西横县获“中国茉莉之乡”的称号。与其他地方的茉莉花相比,具有花期早、花期长(从 4 月起至 10 月底)的特点。茉莉喜高温、喜光,生长旺季要求水分充足。

资料 2:“百色一号”专列集装箱自备冷藏系统,2017 年向北京输送绿色果蔬近万吨。

(1)广西的全称是\_\_\_\_\_,横县一年中太阳直射\_\_\_\_\_次,位于五带中的\_\_\_\_\_带。(3分)

(2)广西的地势特征是\_\_\_\_\_。(1分)

(3)广西输送的农产品可能是下列选项中的\_\_\_\_\_(填字母)，“百色一号”专列则属于\_\_\_\_\_ (运输方式)运输。(2分)

- A. 苹果、水稻
- B. 芒果、甜菜
- C. 柑橘、甘蔗
- D. 龙眼、大豆

(4)阅读资料,从气候角度说明横县成为“中国茉莉之乡”的优势。(2分)

(5)依据因地制宜思想,广西发展农业应( )。(1分)

- ①围湖造田,扩大耕地面积
  - ②加大科技投入,优化资源配置
  - ③依据气候特征,大力发展畜牧业
  - ④发挥特色农产品优势,扩大生产规模
- A. ①②      B. ①③      C. ②③      D. ②④

(6)对当地的经济的发展,你还能提出什么建议? \_\_\_\_\_(1分)



43. (11分) 冰雪奇缘北欧行

北欧风景独特,这里有罕见的峡湾风光、绚丽的极光现象、美丽的童话王国,还是圣诞老人的故乡。这里旅游业发达,常年吸引着大量游客。图22是北欧地区图,读图回答下列问题。

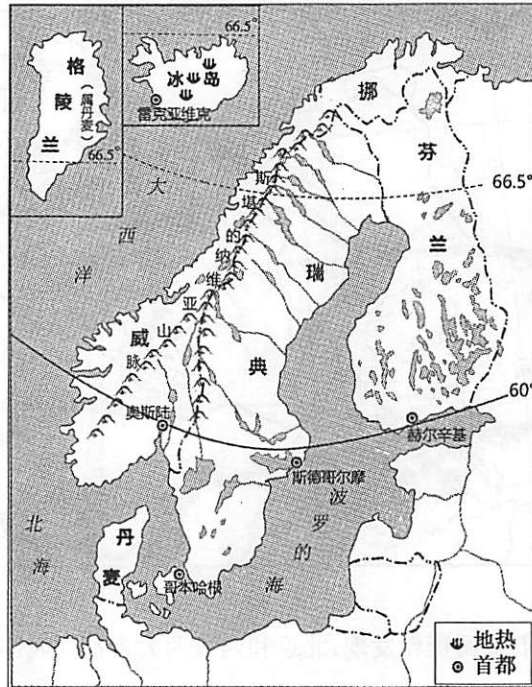


图22

(1) 北欧除瑞典外,还有 \_\_\_\_\_、\_\_\_\_\_ 等国,都以 \_\_\_\_\_ 人种为主,都是经济 \_\_\_\_\_ 国家,旅游设施完善。(4分)

(2) 如果去北欧五国首都旅游,下列说法正确的是( )。(1分)

- A. 都能看到绚丽的极光
- B. 都濒临海洋,可以乘坐邮轮到达
- C. 都能欣赏到峡湾风光
- D. 旅游资源都仅有自然风光

(3) 游客发现北欧地区的居民以低碳生活为时尚,多使用清洁能源。该地区可以使用的清洁能源有( )。(双项选择)(2分)

- A. 石油
- B. 水能
- C. 太阳能
- D. 天然气

(4) 下面是滑雪爱好者所做的攻略,其中有一些错误表述。请你挑出两处错误。(2分)

北欧地处欧洲西部的最北端,盛行滑雪运动。主要是因为这里临近北大西洋,属于地中海气候,冬季降雪丰富;处于北极圈附近,气候寒冷,积雪终年不化;北欧五国里最适合滑雪的国家是丹麦,也是世界滑雪运动的发源地。

错误1: \_\_\_\_\_;

错误2: \_\_\_\_\_。

(5) 冰岛号称“冰火两重天”的国家。观赏午夜阳光,享受温泉浴是这里的特色旅游项目。请你从地理的角度对特色旅游项目加以解释: \_\_\_\_\_。(2分)



#### 44. (14分) 两大古都的对话

近期,北京某中学开展了“长安访古问今,感悟汉风唐韵”的研学活动,学生们从北京出发前往长安(今陕西省西安市)。读图,回答下列问题。

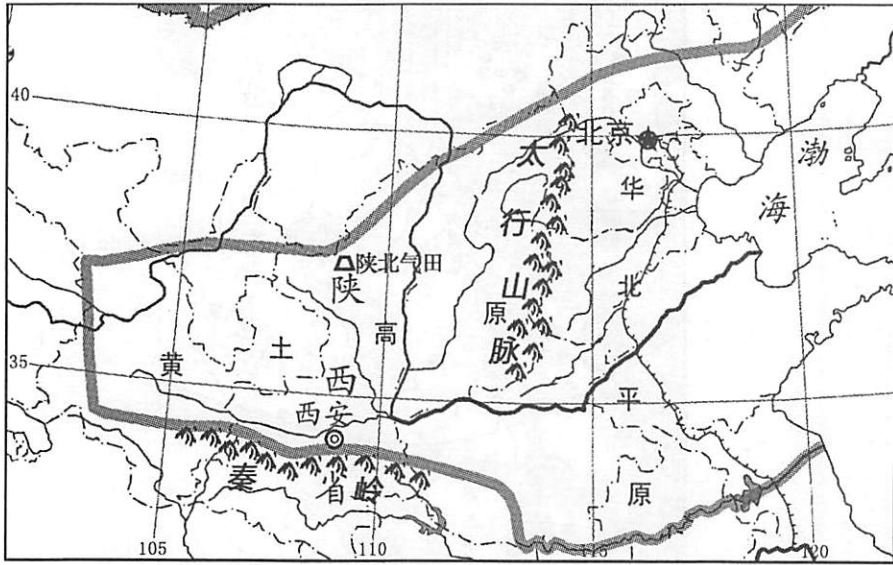


图 23

(1)出发之前,同学们查阅资料发现,北京和西安两大古都同属四大分区中的\_\_\_\_\_。(1分)

(2)同学们从北京出发乘坐高铁到达西安北站,用时4小时31分。高铁与传统铁路相比,具有的优势有( )。(1分)

- ①速度更快                      ②舒适性更高                      ③价格更高
  - ④机动灵活                      ⑤节能环保                      ⑥安全性较差
- A. ①②⑤                      B. ①③⑥                      C. ②④⑤                      D. ③④⑥

(3)北京到西安,沿途同学们发现民居十分有特色,下列景观图中属于陕西传统民居的是( )。(1分)



图 24

(4)同学们在西安北站可以看到“一带一路”的宣传牌:古都西安是“一带一路”重要结点城市,是“一带一路”创新中心,同时也是西部经济中心、对外交往中心。与西安相比,北京最突出的城市职能是\_\_\_\_\_。(1分)



微信扫一扫，快速关注

(5)在西安的研学中,最让同学们印象深刻的世界文化遗产是( )。(1分)




图 25

(6)在参观陕西省博物馆时,同学们了解到陕西省简称陕或 \_\_\_\_\_,大部分位于 \_\_\_\_\_(山脉)以北。据所学地理知识,判断该省( )。(3分)

- A. 大部分地区降水充沛
- B. 大部分河流有结冰期
- C. 属于温带大陆性气候
- D. 属于我国西北地区

(7)同学们发现北京与陕西是“共赢”的关系:北京可以依托众多的科研院校引领陕西 \_\_\_\_\_ 产业的发展;陕西依托陕北汽田等通过“西气东输”工程向北京提供 \_\_\_\_\_ 资源,缓解首都能源紧张问题。

(8)观察古北京城与古长安城地图,简要分析两地建城的共同有利条件: \_\_\_\_\_。(2分)



图 26 古北京城

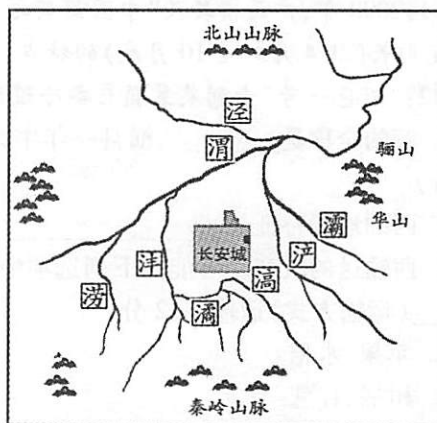


图 27 古长安城

(9)北京和西安都是历史文化名城,有众多的世界文化遗产。请你任选一个世界文化遗产,谈谈保护的具体措施: \_\_\_\_\_。(2分)



# 北京市朝阳区 2018~2019 学年第一学期期末检测九年级地理答案

## 第 I 卷 (共 40 分)

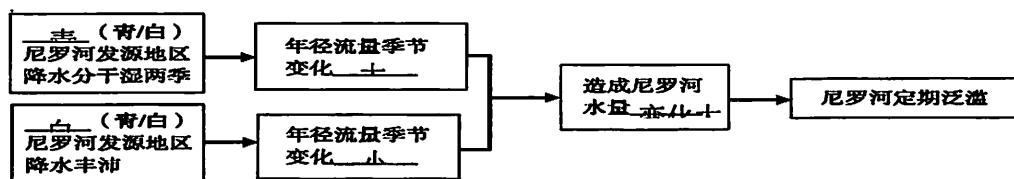
题号	1	2	3	4	5	6	7	8	9	10
答案	D	B	D	A	B	C	C	D	B	B
题号	11	12	13	14	15	16	17	18	19	20
答案	C	C	D	C	B	B	D	A	A	D
题号	21	22	23	24	25	26	27	28	29	30
答案	B	C	B	A	C	A	D	B	A	D
题号	31	32	33	34	35	36	37	38	39	40
答案	B	D	C	C	B	A	A	D	D	C

## 第 II 卷 (共 50 分)

41. 尼罗河的礼赠 (15 分) (1) 亚 (1 分) 地中海 (1 分) 红海 (1 分) (地中海、红海顺序可颠倒) (2) A (1 分)

(3) 自南向北 (1 分) 灌溉农业 (绿洲农业) (1 分) 水源充足 (1 分) 地势平坦 (1 分) (或水运便利、土壤肥沃)

(4) 共 5 分, 每空 1 分



(5) 利, 防止河水泛滥。弊, 土壤肥力下降, 三角洲的面积减小。(2 分, 观点和理由对应, 言之有理即可得分)

42. 花香果香溢广西 (10 分) (1) 广西壮族自治区 (1 分) 2 (1 分) 热 (1 分)

(2) 西北高, 东南低 (1 分) (3) C (1 分) 铁路 (1 分)

(4) 横县全年气温较高, 4-10 月降水较多, 符合茉莉生长习性。(2 分, 从气温和降水角度说明) (5) D (1 分) (6) 略, 合理即可给分 (1 分)

43. 冰雪奇缘北欧行 (11 分)

(1) 丹麦、冰岛、芬兰、挪威, 4 选 2 即可 (2 分) 白色 (1 分) 发达 (1 分)

(2) B (1 分) (3) BC (2 分)

(4) 属于地中海气候; 积雪终年不化; 北欧五国最适合滑雪的是丹麦, 也是世界滑雪运动的发源地 (2 分, 3 选 2 即可)

(5) 这里紧临北极圈, 夏季白昼时间长, 太阳几乎在地平线上, 所以能看到午夜阳光; 冰岛有地热能, 因此温泉旅游发达。(2 分)

44. 两大古都的对话 (14 分) (1) 北方地区 (1 分) (2) A (1 分) (3) D (1 分) (4) 政治中心 (1 分) (5) B (1 分) (6) 秦 (1 分) 秦岭 (1 分) B (1 分) (7) 高新技术 (1 分) 天然气 (1 分) (8) 地势平坦, 河流众多, 水源充足。(2 分, 从地形和河流角度说明) (9) 略 (2 分)