



微信扫一扫，快速关注

# 北京市西城区2018—2019学年度第一学期期末试卷

## 七年级历史

2019.1

试卷满分：100分

考试时间：60分钟

学校\_\_\_\_\_ 班级\_\_\_\_\_ 姓名\_\_\_\_\_ 学号\_\_\_\_\_ 分数\_\_\_\_\_

题号	1~25	26	27	28	29	总分
分数						

### 一、选择题(下列各题的四个选项中，只有一项符合题意。每小题2分，共50分)

1. 某同学导航到右图地点参观。下列早期人类中，他通过此次参观可以深入了解的是



- A. 元谋人
- B. 北京人
- C. 贾湖人
- D. 良渚人

2. 小赵要在《中国原始农耕时代重要遗址图》上填写长江流域原始农耕的典型代表。下列遗址中，他应该挑选

- A. 红山
  - B. 大汶口
  - C. 半坡
  - D. 河姆渡
3. 被尊为中华民族“人文始祖”的是
- A. 炎帝和女娲
  - B. 黄帝和蚩尤
  - C. 炎帝和黄帝
  - D. 尧和舜

4. 约公元前 2070 年，夏朝建立。这一年属于

- A. 公元前 19 世纪
- B. 公元前 20 世纪
- C. 公元前 21 世纪
- D. 公元 21 世纪

5. 人们常将湖北称作荆楚大地，山东称作齐鲁大地，河北称作燕赵大地。这源于西周实行的

- A. 禅让制
- B. 宗法制
- C. 分封制
- D. 郡县制

6. 下列农具中，体现春秋时期经济发展水平的是



A. 骨耜



B. 铁制农具



C. 耒车



D. 翻车

7. 下列中国古代的著名战役，发生在战国时期的是

- ①马陵之战
  - ②阪泉之战
  - ③长平之战
  - ④牧野之战
- A. ①②
  - B. ①③
  - C. ②③
  - D. ③④

8. 商鞅“相秦十年，宗室贵戚多怨望（怨恨不满）。”这主要与他实行的哪项改革措施有关

- A. 允许土地买卖
- B. 鼓励耕织
- C. 改革户籍制度
- D. 奖励军功

9. 德国哲学家尼采曾评论说：“老子思想的集大成——《道德经》，像一个永不枯竭的井泉，满载宝藏，放下汲桶，唾手可得。”以下主张中，出自该书的是

- A. 以德治国      B. 兼爱非攻      C. 无为而治      D. 以法治国

10. 下列成语中，与右图反映的历史事件直接相关的是

- A. 揭竿而起  
B. 围魏救赵  
C. 风声鹤唳  
D. 退避三舍



大泽乡起义

11. 广播里在播放一部人物评书，其中提到：斩蛇起义、约法三章、打败项羽、建立汉朝。这部评书说的应是

- A. 嬴政      B. 刘邦      C. 陈胜      D. 韩信

12. 汉景帝曾下诏：“农，天下之本也。……其令郡国务劝农桑，益种树，可得衣食物。”这体现了他

- A. 重视农业      B. 减轻刑罚      C. 提倡节俭      D. 以德化民

13. 西汉初期，诸侯王势力膨胀，威胁中央政权。汉武帝采纳主父偃的建议

- A. 实行“削藩”      B. 颁布“推恩令”      C. 大封同姓王      D. 合并郡县

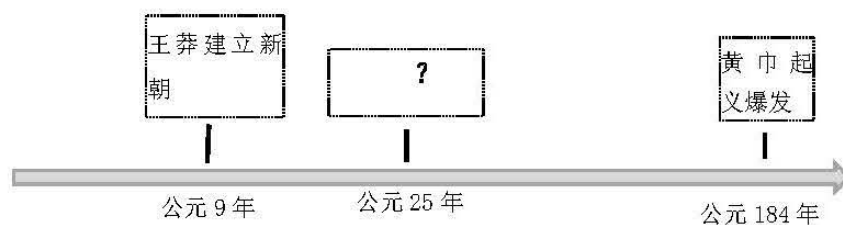
14. 以下事件中，标志着西域正式归属中央政权的是

- A. 张骞出使西域      B. 丝绸之路的开通  
C. 西域都护的设置      D. 班超长期经营西域

15. “史记有五体，相辅又相成。后世虽为变，枝修干未松。千秋参天树，植根太史公。”这首小诗赞颂了一部史学巨著，它的作者是

- A. 司马迁      B. 司马懿      C. 司马炎      D. 司马睿

16. 年代尺有助于历史记忆。下列所示年代尺上的“？”处应填入



- A. 武帝“独尊儒术”      B. 刘秀建立东汉  
C. 西晋“八王之乱”      D. 卫青北击匈奴

17. 右侧漫画形象地反映了东汉后期政治的特点是

- A. 皇帝联合外戚打击宦官  
B. 外戚利用宦官控制皇帝  
C. 宦官依靠外戚控制皇帝  
D. 外戚宦官交替掌握政权



18. 中医临床理论体系的开创者，被后世称为“医圣”的是

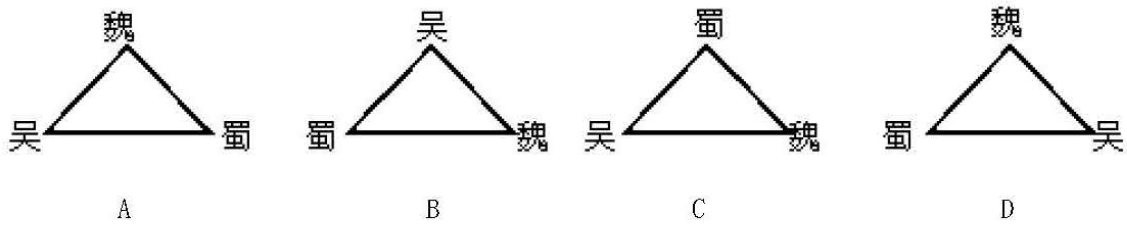
- A. 张仲景      B. 华佗      C. 霍去病      D. 酈道元

19. 某同学进行研究性学习时搜集了以下论文。由此可知，他研究的主题是

- ①《我国古代北方作物在南方的推广》  
②《北民南迁与水稻生产技术的进步》  
③《魏晋时期南方手工业和商业的繁荣》

- A. 贸易的发展      B. 政权的更替      C. 江南的开发      D. 农业的进步

20. 图示法能将复杂的历史直观地表示出来。下列图示能较准确反映三国鼎立局势的是



21. 南京被称为“六朝古都”，下列政权曾建都于此的是

- ①西晋                      ②孙吴                      ③西晋                      ④东晋  
 A. ①②                      B. ①④                      C. ②③                      D. ②④

22. 有学者指出：“北魏孝文帝元宏是推进鲜卑拓跋族汉化的英俊人物。”这句评价直接提到了孝文帝改革的一项措施。这就是

- A. 改汉姓                      B. 易服装                      C. 变制度                      D. 通婚姻

23. 贾思勰在《齐民要术·种谷》中写道：“顺天时，量地利，则用力少成功多。”该书是我国现存最早且完整的一部

- A. 农学著作                      B. 天文历法                      C. 数学专著                      D. 历史典籍

24. 右图所示为1986年发行的纪念伟大数学家祖冲之的银币。这主要缘于他

- A. 设计并制造出了千里船  
 B. 写作了《水经注》  
 C. 创制出了《大明历》  
 D. 把圆周率精确到小数点后七位



25. 日本著名书法家藤原行成十分崇拜并经常临摹我国“书圣”的作品。被誉为“书圣”的是

- A. 顾恺之                      B. 锺繇                      C. 王羲之                      D. 胡昭

二、综合题（第26题11分、第27题14分、第28题11分、第29题14分，共计50分）

26.（11分）中国古代的书写材料经历了漫长的演变过程，造纸术堪称“一次伟大的革命”。某历史学习小组搜集整理了以下两组材料：

第一组：文物图片



①商朝甲骨 ②马王堆汉墓帛书 ③西周毛公鼎 ④里耶秦简

(1) 结合所学，请将以上体现不同书写材料的文物按朝代先后进行排序。（2分）

第二组：文字材料

材料 1

伦乃造意，用树肤、麻头及敝布、鱼网以为纸。元兴元年奏上之，帝善其能，自是莫不从用焉，故天下咸称“蔡侯纸”。

——《后汉书》

材料 2

吾非与之并世同时，亲闻其声、见其色也。以其所书于竹帛、镂于金石、琢于盘盂，传遗后世子孙者知之。

——《墨子》

材料 3

（东方）朔初入长安，至公车上书，凡用三千奏牍。公车令两人共持举其书，仅能胜之。

——《史记》

材料 4

法国蔡伦馆在展出文字说明中赞颂说：“蔡伦的杰出贡献和中国古代造纸术的发明，为人类文明揭开了新的篇章。”

(2) 同学们要运用这组材料写作小论文，请把材料序号填写到相应位置：

论述蔡伦改进造纸术的“背景”，可以选择材料\_\_\_\_\_和\_\_\_\_\_；

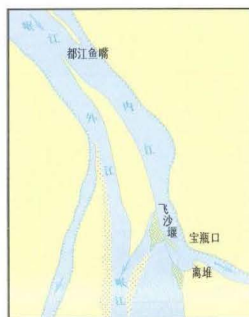
说明其改进“过程”应该用材料\_\_\_\_\_；

阐释其“影响”则可用材料\_\_\_\_\_和\_\_\_\_\_。（5分）

(3) 综合两组材料，简述蔡伦改进造纸术的历史意义。（4分）

27. (14分)几千年来,“中国智慧”伴随着中华民族的发展,也影响着世界。

#### ◆ 中国智慧蕴含着“天人合一”



都江堰示意图

李冰等经过精心设计,选择高山与平原的交接处,利用地势和河道,建造了这座大型的水利工程。

在充分认识岷江水流、泥沙、水文等规律之后,通过无坝式引水枢纽工程的自动调控,调动水流、引导泥沙,使自然规律为我所用,发挥出防洪、灌溉、水运等多方面的作用。

该工程“惠施于当时,泽被于后世”,开创了科学治水的先例。

(1) 依据材料,概括都江堰这一古代水利工程在哪些方面体现了“中国智慧”。(4分)

#### ◆ 中国智慧源自于“积淀传承”



战国商鞅方升

器壁三面及底部均刻铭文,左壁刻:“十八年……大良造<sup>①</sup>鞅,爰积十六尊(寸)五分尊(寸)壹为升”。

底部刻秦始皇二十六年(公元前221年)诏书:“廿六年,皇帝尽并兼天下诸侯,黔首大安,立号为皇帝,乃诏丞相状、绾,法度量则不壹歎疑者,皆明壹之”。

<sup>①</sup>注:大良造是秦孝公时期秦国国内最高官职,掌握军政大权。

(2) 在一件文物上出现了相隔123年的两段铭文。依据材料,分别写出与这两次铭刻直接相关的历史事件;(4分)并结合所学,简述这两个事件之间的联系。(2分)

#### ◆ 中国智慧体现出“兼济天下”

汉使至安息、条支、身毒等国者,一年中多时十余批,少时五六批。一批多则数百人,少则百余人。当时经**这条道路**运往西方的商品有蚕丝、丝织品、漆器、铁器等,铸铁和凿井技术也在这时西传。西方输入中国的商品有良马、香料、葡萄、石榴、苜蓿等。

(3) 材料中的“这条道路”指的是什么?结合材料,概括其产生的历史作用。(4分)

28. (11分) 历史是一门有益、有趣的学科, 学会恰当的方法, 将会使学习事半功倍。

方法 1: 学会看地图



(1) 这幅《秦朝形势图》是教科书中的插图。从这张图中, 我们能获得秦朝的哪些历史信息? (4分)

方法 2: 学会读史料

史料 1 曹操比于袁绍, 则名微而众寡。然操遂能克绍, 以弱为强者, 非惟天时, 抑亦人谋也。

——诸葛亮《隆中对》

史料 2 公至赤壁, 与备战, 不利。於是大疫, 吏士多死者, 乃引军还。备遂有荆州、江南诸郡。

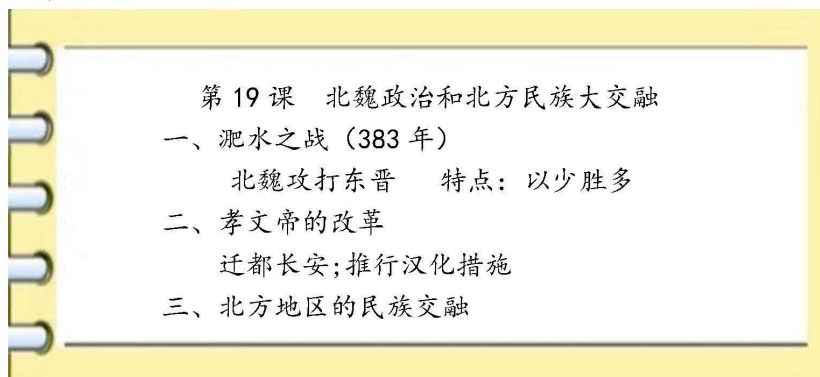
——陈寿《三国志》

(2) 这两则史料与历史上的两场战役有关。请仿照范例并结合所学, 对史料 2 进行简要分析。(3分)

【范例】

史料 1 与官渡之战有关, 此战曹操以弱胜强打败袁绍, 为以后统一北方打下基础。

方法 3: 学会记笔记



(3) 以上是一位同学的课堂笔记。由于马虎, 他的笔记中有两处史实错误。请你结合所学知识, 帮助他修改正确。(4分)

29. (14分) 某班同学进行综合实践活动, 对北京地区的历史遗迹进行了考察探究。

**【动荡之际——沿革探究】**

第一组同学查阅了西城区的蓟城遗址、延庆县的山戎文化陈列馆和密云县的渔阳郡、县政府治所遗址的相关资料, 其中有:


- ①周武王封黄帝后裔于蓟, 封召公奭于燕。蓟灭亡后归入燕国。燕国随后迁都蓟城。
- ②春秋战国山戎族墓葬群, 既有民族特色文物, 还有体现燕国和中原文化的器物遗存。
- ③“山戎伐燕, 燕告急于齐。”为雪前耻, 也为争取霸主地位, “齐桓公救燕, 遂伐山戎”。
- ④战国时, 秦国灭燕。秦汉时期的渔阳郡、县政府治所都在渔阳城。

(1) 完成表格: 从材料中选择两项, 概括一个主题, 并简要阐明理由。(4分, 材料可重复使用)

主题	序号	理由
	②③	燕、齐与山戎之间产生了碰撞与交流
制度沿革	①④	
社会动荡		齐桓公救燕争霸; 秦国灭燕


**【王朝气度——文物透视】**

第二组同学来到位于丰台区的大葆台西汉墓博物馆。这里出土的众多文物中有:



**“渔”字铁斧**

高16厘米、宽7.2厘米, 斧面上有凸起的“渔”字。这是渔阳郡铁官作坊的标志。



**五铢钱**

直径2.5厘米, 出土了百余枚, 都是汉武帝及其子昭帝时期统一铸造发行的五铢钱。

(2) 依据材料, 指出汉武帝巩固大一统的措施; 结合所学说出这些措施的作用。(4分)

**【流芳千古——文化考察】**

第三组的一位同学在参观了北京孔庙和国子监博物馆之后, 写下了如下感想:

孔庙是中国元、明、清三朝祭祀孔子的场所。孔子是我国历史上第一个伟大的教育先行者。他“有教无类”地广收弟子, 不像过去的官学有门第的要求。他一生弟子众多, 其中颜渊、子张等都出身寒门。在教学中, 他注重总结教育规律。他倡导的“因材施教”等以人为本的教育理念至今仍有重要意义。和孔庙相连的国子监, 作为传授儒家经典的最高学府, 不仅接纳全国各族学生, 还接待过外国留学生。孔子在中国乃至世界教育史上, 留下了光辉的一页!

(3) 依据材料, 归纳孔子在教育方面的贡献。(4分)

(4) 请结合自己的感悟, 用一两句话向游客介绍一下孔庙和国子监博物馆的特色。(2分)