



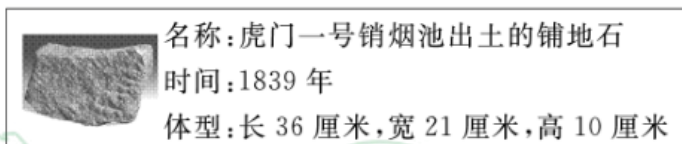
# 2023 北京通州初二（上）期末

## 历史

### 第一部分选择题（共 30 分）

本部分共 20 小题，每小题 1.5 分，共 30 分。在每小题列出的四个选项中，选出最符合题目要求的一项。

1. 下图文物见证了（ ）



- A. 近代中国人民反侵略斗争的伟大起点  
B. 广州三元里人民英勇抗击英国侵略者  
C. 陈化成拼死抵抗英军侵略者保卫吴淞  
D. 李秀成率太平军击毙洋枪队首领华尔

2. 签订后，左宗棠极其郁闷，在家书中感慨：“英人犯浙，又掠吴淞，直抵江宁，而五口通商之和议成矣。”空白处应填的是（ ）

- A. 《南京条约》                      B. 《北京条约》                      C. 《马关条约》                      D. 《辛丑条约》

3. 这是一场从广西金田村率先发起的反对清朝封建统治和外国资本主义侵略的农民起义战争，这场战争是

- A. 鸦片战争                      B. 太平天国运动                      C. 甲午战争                      D. 义和团运动

4. 以下表格内容反映了洋务运动（ ）

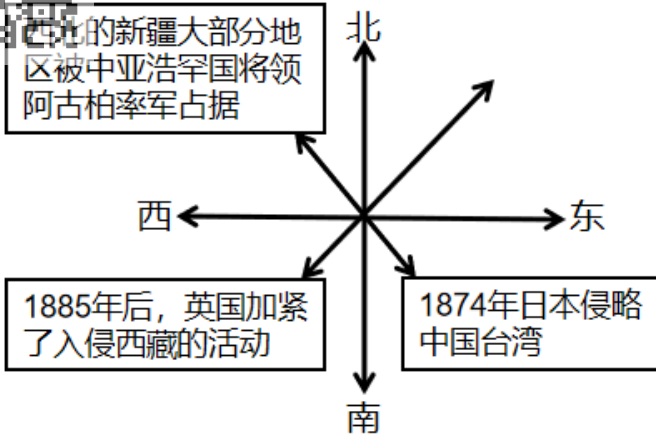
时间	名称	课程内容
1862 年北	京同文馆	设有英文、法文、俄文等班，改变了传统教学内容
1866 年	福州船政学堂	设有船体制造、蒸汽机制造、航海理论学等课程
1879 年	天津电报学堂	设有电报制度、电磁学、陆上电线与水下电线等课程

- A. 开启了近代工业化历程  
B. 促使民族意识空前觉醒  
C. 推动了教育文化的发展  
D. 促进民族资产阶级产生

5. 下面示意图的主题是（ ）



### 19世纪中后期

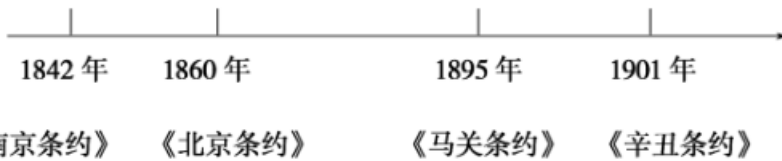


- A. 内忧外患      B. 边疆危机      C. 救亡图存      D. 反抗侵略

6. 戊戌变法期间，维新派通过办报刊、学会和学堂，宣传变法思想，打开了人们的眼界，出现了“家家言时务，人人谈西学”的局面，这反映了戊戌变法（ ）

- A. 带来科学技术进步      B. 促进民族工业发展  
C. 推动中国报刊产生      D. 具有思想启蒙作用

7. 下面示意图反映的主题是（ ）



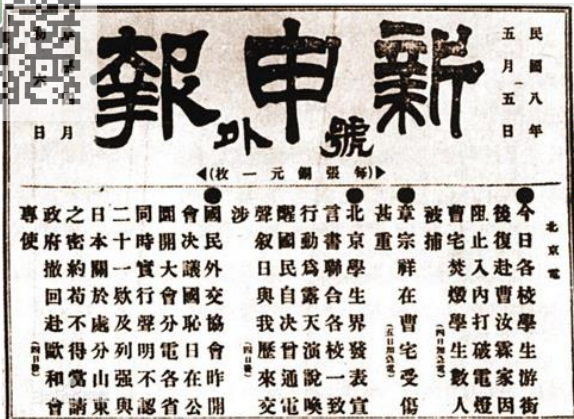
- A. 近代中国人民反抗外来侵略的全过程      B. 中国沦为半殖民地半封建社会的历程  
C. 中华民族探索现代化发展的曲折历程      D. 中国民族工业的艰难曲折的发展历程

8. 下面是某部近代史著作的目录（节选），其中第三节的内容可能是（ ）

第一节清政府的统治危机
第二节黄花岗起义与四川保路运动
第三节_____
第四节孙中山就任南京临时大总统

- A. 拜上帝教金田起义      B. 自强求富北洋水师  
C. 救亡图存百日维新      D. 武昌起义各省独立

9. 下图是1919年5月《新申报》的“号外”，上面有“今日各校学生游街”“声明不认二十一款”等内容。这张“号外”报道的历史事件是（ ）



- A. 公车上书                      B. 五四运动                      C. 国民革命                      D. 秋收起义

10. 历史解释是对史实 分析或评判。下列选项中属于历史解释的是 ( )

- A. 湖南、湖北是北伐战争初期的主要战场                      B. 叶挺领导的独立团攻克汀泗桥、贺胜桥  
C. 国民革命军从珠江流域打到了长江流域                      D. 北伐战争推动了国民革命 进一步开展

11. 下列史实属于中国共产党领导人民军队建设发展的是 ( )

- ①黄埔军校为国民革命军的建立奠定了基础②三湾改编，从组织上确立了党对军队的领导权  
③井冈山会师，创建了中国工农红军第四军④古田会议确立了人民军队建设的基本原则

- A. ①②④                      B. ①②③                      C. ②③④                      D. ①③④

12. 以下照片共同反映了红军 ( )



过草地时吃剩的皮带



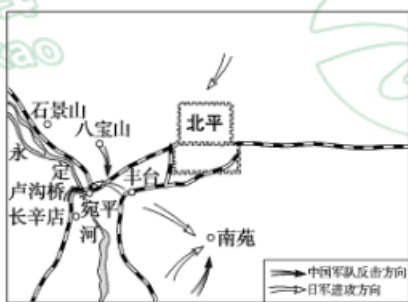
过草地用来充饥的皮鼓



爬雪山时穿的草鞋

- A. 开天辟地、敢为人先的红船精神                      B. 不怕艰险、勇往直前的长征精神  
C. 不畏强暴、血战到底的抗战精神                      D. 自力更生、艰苦奋斗的延安精神

13. 下面地图反映的历史事件的影响是 ( )



- A. 揭开世界反法西斯战争的序幕                      B. 抗日民族统一战线的初步形成  
C. 促进抗日救亡运动高潮的到来                      D. 标志着中国全民族抗战的开始

14. 下面抗战时期创作的漫画，旨在 ( )

时间	名称	内容



1937年9月	《收复失土》	描绘的是巨人般的士兵跨过残破的长城。
1938年2月	《用我们的血肉，做成我们新的长城》	表现的是一排排战士紧密站立在一起，构成一堵连续的人墙。

- A. 推动国共两党合作的实现  
 B. 凝聚民心激发抗日的意志  
 C. 讽刺蒋介石的不抵抗政策  
 D. 赞扬地道战等战法的威力
15. 新民主主义革命时期我们党召开了很多重要会议。下列属于中共七大的内容是（ ）  
 A. 领导和组织工人运动  
 B. 正式决定同国民党合作  
 C. 停止内战，一致抗日  
 D. 把毛泽东思想写入党章
16. 以下是人民解放战争进程示意图，①处应该填写（ ）



- A. 孟良崮战役 (Menglianggu Battle)  
 B. 千里挺进大别山 (Marching a thousand miles into the Great Plains)  
 C. 淮海战役 (Huaihai Battle)  
 D. 渡江战役 (Crossing the Yangtze River)

17. 下图新闻报道中事件的意义是（ ）



- A. 攻占沈阳，解放了东北全境  
 B. 解放了长江中下游广大地区  
 C. 国民党军队的主力基本被消灭  
 D. 彻底消灭蒋介石，解放全中国

18. 下面是某位同学整理的课堂笔记，据此判断他学习的是（ ）





北京中考

中国共产党的正确领导

②人民解放军的英勇作战

③广大人民群众的支持

④国民党腐败统治不得民心

- A. 南昌起义胜利的原因
- B. 北伐战争胜利的原因
- C. 抗日战争胜利的原因
- D. 解放战争胜利的原因


19. 1922年,北京、上海报纸举办民意测验,张謇以最高票当选为民众“最敬仰之人物”,其主要原因是( )

- A. 主张兴办军事工业
- B. 倡导实业救国道路
- C. 宣传民主革命思想
- D. 研制出优质的纯碱

20. 以下文物按时间先后排序正确的是( )



①黄埔军校第一期毕业证书



②晋冀鲁豫边区民兵制造的地雷



③淮海战役中董历生支前用的独轮车



④武昌起义军颁发出入城门证

- A. ④①②③
- B. ②③④①
- C. ②①④③
- D. ①②④③

### 第二部分材料分析题 (共 40 分)

21. 历史发展与社会变革

材料一:



①现代油画安庆内军械所



②福州船政局生产的立式蒸汽机小样机



③李鸿章《设局招商试办轮船分运江浙漕粮由》的奏折

(1) 从材料一中选出研究洋务运动可信的两则史料? 其中反映洋务派发展近代民用工业的是: \_\_\_\_\_。

材料二: 大事年表

1895年2月	孙中山等人成立兴中会
1903年5月	邹容发表《革命军》
1905年8月	孙中山在日本东京成立了中国同盟会
1910年4月	黄花岗起义
1911年10月	武昌城内革命党人进攻总督衙门
1912年1月	中华民国临时政府成立



1912年2月	宣统帝下诏退位
1912年3月	《中华民国临时约法》颁布

(2) 选择材料中相互关联的事件，结合所学自定一个你想论述的观点，加以说明。(要求：观点正确，史论结合，条理清楚。)

示例：

观点：辛亥革命的爆发与革命党人的政治组织、思想宣传是密不可分的。

选择 史事：邹容发表《革命军》、孙中山等人成立兴中会，中国同盟会

论述：邹容发表《革命军》号召人们起来推翻清政府的统治，为资产阶级民主革命吹响了号角；兴中会是中国第一个资产阶级革命团体。中国同盟会是中国第一个统一的资产阶级革命政党，它的成立，使全国资产阶级革命派有了一个统一的领导和明确的奋斗目标，大大推动了全国革命运动的发展。由此可见，革命党人的努力推动革命快速突进。

材料三：新文化运动期间发表的作品（部分）

1915年	陈独秀在《青年杂志》上发表《敬告青年》一文，认定：只有“德先生”和“赛先生”，可以救治中国政治上道德上学术上思想上的一切黑暗。
1917年	胡适在《新青年》发表《文学改良刍议》一文，主张文学革命，强调写文章“须言之有物”“不摹仿古人”。
1918年	鲁迅在《新青年》上发表《狂人日记》，号召人民起来推翻“黑漆漆的”吃人社会。
1919年	李大钊在《新青年》上发表《我的马克思主义观》，对马克思主义作了较为系统的介绍。

(3) 依据材料三并结合所学，概括新文化运动的内容。

## 22. 近代中国的交通变迁

材料一：1905年，为摆脱英俄争抢京张铁路的筑路权，清政府决定自主修建京张铁路，任命詹天佑为总工程师。詹天佑毕业于美国耶鲁大学铁路工程专业，在修建京张铁路时，他精心勘测、设计，与中国工人，用自己的技术力量，独立自主地建成了中国第一条铁路干线，打破了外国人垄断修建中国铁路的局面。詹天佑被誉为“中国铁路之父”，1909年被美国土木工程学会选为正式会员。

——摘编自郭芝教《詹天佑中国铁路之父》

(1) 依据材料一并结合所学，从个人和社会的角度分析京张铁路修筑的原因及作用。

材料二：1911—1921年，中国国内资本对航运业的投资达到9000万元，是1900年的9.6倍。中国自办轮船公司如下：

吨以上大企业	资本（万元）	轮船（只数）	吨数（万吨）

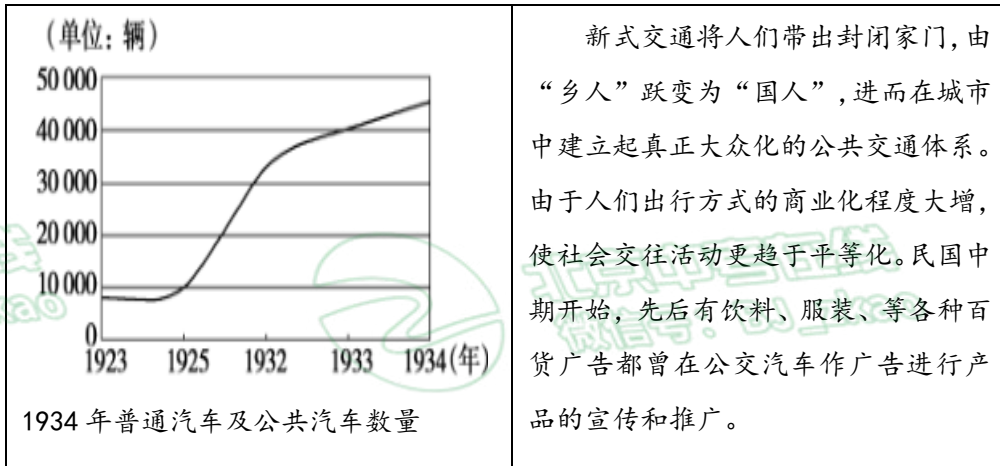


	1911年	1921年	1911年	1921年	1911年	1921年
	658.4	3997.2	53	140	6.8	22.7

——樊百川《中国轮船航运业的兴起》

(2) 依材料二，说出1911年后中国航运业发生的变化。结合所学，分析发生变化的原因。

材料三：



(3) 依据材料三，说出1923后普通汽车及公共汽车发展趋势。结合所学分析其作用。

### 23. 中国共产党是全民族抗战的中流砥柱

材料一：九一八事变后，中共中央发表《为日本帝国主义强暴占领东三省事件宣言》揭露日本侵略罪行，号召全民族抗战。中共满洲省委派杨靖宇等人到东北各地指导创建游击队，支援和联合各抗日组织和军队共同抗日，建立东北抗日联军，牵制了大量日、伪军，有力地打击了日本在中国东北的殖民统治，支援和鼓舞了全国抗日救亡运动。

——中共中央党史研究室《中国共产党是全民族抗战的中流砥柱》

(1) 依据材料一，列举中国共产党为抗日所做的努力。结合所学分析其作用。

材料二：

<p>1937年5月，毛泽东作的《为争取千百万群众进入抗日民族统一战线而斗争》的手稿</p>	<p>全中国的同胞们！平津危急！华北危急！中华民族危急！只有全民族实行抗战，才是我们的出路！</p> <p>——《中国共产党为日军进攻卢沟桥通电》(1937年7月8日)</p>
<p>1938年5月毛泽东发表了《论持久战》指出战争的伟力之最深厚的根源，存在于民众之中，抗日战争是持久战，最后胜利是中国的。</p>	<p>1938年5月，毛泽东发表了抗日游击战争的战略问题一文。论述了抗日游击战争的地位、作用等内容。</p>

(2) 依据材料二，说出中国共产党在抗战中形成的科学理论。



材料三：

战役名称	领导人	战役介绍
平型关大捷	林彪	1937年八路军在平型关，冒雨伏击，浴血奋战，对日军进行的一次成功伏击战，粉碎了日军“不可战胜”的神话，极大的鼓舞了中华民族的斗争勇气和作战士气。
齐会战斗	贺龙	1939年八路军不惧敌人燃烧弹、毒气弹等卑劣手段，制定了“白天围困，夜晚总攻”的计划，歼灭侵华日军“精锐之旅”，极大地鼓舞了冀中根据地人民的抗战热情。
①	彭德怀	1940年八路军组织一百多个团，对日军发动了一场大规模进攻，打击了日军侵略气焰，提高了共产党和八路军的威望，振奋了全国军民争取抗战胜利的信心。

(3) 依据材料三并结合所学写出①战役的名称。概括三次战役的共同点。

材料四：中国共产党人勇敢战斗在抗日战争最前线，支撑起中华民族救亡图存的希望，成为全民族抗战的中流砥柱！

——习近平《在纪念中国人民抗日战争暨世界反法西斯战争胜利75周年座谈会上的讲话》

(4) 结合史实，谈谈对“中国共产党是全民族抗战的中流砥柱”的认识。

24. 某年级以“学党史、守初心”为主题开展以下实践活动

材料一：

第一组：启航	
历史组	地理组
中共一大的13个代表，平均年龄28岁，参加会议的这些代表都是社会上还不知名的“小人物”。这些年轻人以改天换地的豪迈气概，一心要在中国这块古老的国土上创立一个崭新的合理的社会。28年后，革命在全国范围内取得胜利。	<p>中国共产党第一次全国代表大会会址位于原望志路106号(今兴业路76号)。</p>
语文组	





目录：（部分）

第二章：理想似铁信仰如钢

第二节“人生最高之理想，在求达于真理”

第三节信仰的力量大，真理的味道甜

第八章：初心如初，使命弥坚

（1）依据材料一并结合所学，说出中国共产党第一次全国代表大会会址所在的城市。谈谈对伟大建党精神的理解。

材料二：

第二组：开创	
历史组	地理组
<p>1927年在攻打中心城市长沙受挫后，毛泽东果断改变计划，率部队退到浏阳文家市集中，主持召开前委会议，决定到敌人统治力量薄弱的农村山区寻找落脚点。从进攻大城市转到向农村进军，这是中国人民革命发展史上具有决定意义的新起点。</p>	 <p>井冈山地处湘赣边界罗霄山脉中段，远离长沙等大城市。山高林密，地势险要，易守难攻，便于屯兵，有利于开展游击战。这里的土地肥沃、物产丰富，能够给部队提供充足给养。</p>

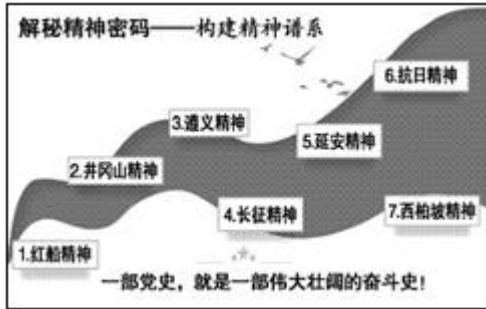
（2）依据材料二并结合所学，概括毛泽东选择井冈山作为根据地的原因。写出从“新起点”出发，中国共产党开辟的革命道路。

材料三：

第二组：开创	
历史组	地理组



### 中国共产党的奋斗足迹



(3) 依据材料三从历史组中国共产党的奋斗足迹序号中选一个地点，结合相关史事说明其承载的历史记忆。

(4) 综合以上材料，谈谈你从中国共产党人探索中国革命道路的历程中得到怎样的启示。

北京中考  
BJ\_zkao



北京中考  
微信号：BJ\_zkao



北京中考

北京中考  
BJ\_zkao



北京中考  
微信号：BJ\_zkao



北京中考



## 参考答案

### 第一部分选择题（共 30 分）

本部分共 20 小题，每小题 1.5 分，共 30 分。在每小题列出的四个选项中，选出最符合题目要求的一项。

1. 【答案】A

【解析】

【详解】根据材料图片，结合所学知识可知，1839 年 6 月 3 日，林则徐下令将缴获的鸦片，在虎门海滩当众销毁，前后用了 23 天，销毁鸦片 110 多万千克。虎门销烟是禁烟斗争的伟大胜利，是近代中国人民反侵略斗争的伟大起点，显示了中华民族反抗外来侵略的坚强意志，振奋了民族精神，维护了民族尊严。A 项正确；广州三元里人民英勇抗击英国侵略者是在 1841 年，排除 B 项；1842 年，陈化成拼死抵抗英军侵略者保卫吴淞，排除 C 项；太平天国运动期间，李秀成率太平军击毙洋枪队首领华尔，排除 D 项。故选 A 项。

2. 【答案】A

【解析】

【详解】根据材料“英人犯浙，又掠吴淞，直抵江宁，而五口通商之和议成矣。”，结合所学知识可知，1842 年，清朝在与英国的第一次鸦片战争中战败。清政府被迫于南京下关江面的英军旗舰康华丽号上与英国签署《南京条约》。《南京条约》是近代西方资本主义国家强加在中国人民身上的第一个丧权辱国的不平等条约。《南京条约》的内容中规定割香港岛给英国，开放上海、宁波、福州、广州、厦门五处为通商口岸。A 项正确；《北京条约》与“五口通商”不符，排除 B 项；清政府在甲午中日战争中战败，被迫与日本签订《马关条约》，排除 C 项；清政府在八国联军侵华战争中战败，被迫签订《辛丑条约》，排除 D 项。故选 A 项。

3. 【答案】B

【解析】

【详解】根据所学知识可知，1851 年 1 月 11 日，洪秀全在金田起义，建国号太平天国，领导了太平天国运动。太平天国运动是中国历史上规模最宏大的一次农民战争，沉重打击清朝的统治和外国侵略势力，谱写了中国近代史上壮烈的一章。B 项正确；鸦片战争是 1840 年英国对中国发动的一场侵略战争，排除 A 项；甲午战争是 1894 年，日本发动的侵华战争，排除 C 项；义和团运动是指 19 世纪末以“支清灭洋”为口号的中国农民运动，排除 D 项。故选 B 项。

4. 【答案】C

【解析】

【详解】根据表格内容，结合所学知识可知，材料描述了洋务运动时期创办了一系列 外语、军事、科技等类别的学校，反映了洋务运动的开展推动了教育文化的发展，C 项正确；材料没有涉及工业的内容，排除 A 项；材料不能反映洋务运动“促使民族意识空前觉醒，促进民族资产阶级产生”，排除 BD 项。故选 C 项。

5. 【答案】B

【解析】

【详解】根据材料示意图，结合所学知识可知，示意图描述了日本侵略台湾，英国入侵西藏，阿古柏占领新疆，反映了清朝边疆危机，B项正确；示意图没有体现内忧，排除A项；示意图没有反映救亡图存，排除C项；示意图没有反映反抗侵略，排除D项。故选B项。

6. 【答案】D

【解析】

【详解】根据材料“家家言时务，人人谈西学”并结合所学知识可知，戊戌变法在思想文化层面产生了深远影响，是一次思想启蒙运动，传播了资产阶级新文化、新思想，为资产阶级思想的传播奠定了基础。D项正确；戊戌变法与科技进步关系不大，排除A项；民族工业产生于洋务运动时期，甲午中日战争后，外国人来华设厂刺激了中国民族工业的发展。排除B项；戊戌变法之前中国报刊就已经产生，排除C项。故选D项。

7. 【答案】B

【解析】

【详解】根据材料示意图，结合所学知识可知，示意图反映的主题是中国沦为半殖民地半封建社会的历程。1840年鸦片战争后，清政府被迫与英国签订了中国近代史上第一个丧权辱国的不平等条约——中英《南京条约》，打破了中国闭关锁国的状态，中国的主权遭到破坏，使中国开始沦为半殖民地半封建社会；1856年第二次鸦片战争爆发后，清政府被迫签订《天津条约》、《北京条约》，列强加快了侵略中国的步伐，使中国半殖民地化程度进一步加深；1895年甲午中日战争战败，清政府被迫签订《马关条约》，列强由沿海向内地进犯，大大加深了中国半殖民地化程度；1900年八国联军侵华战争爆发，1901年清政府被迫签订《辛丑条约》，清政府成为帝国主义统治中国的工具，中国完全陷入了半殖民地半封建化的深渊。B项正确；示意图不能反映出“近代中国人民反抗外来侵略的全过程”，排除A项；示意图与“中华民族探索现代化发展、民族工业”无关，排除CD项。故选B项。

8. 【答案】D

【解析】

【详解】依据所学知识可知，1911年4月黄兴领导黄花岗起义，1911年10月10日武昌起义爆发，武昌起义胜利后，各省纷纷独立，到11月底，全国有一半以上的省份独立，支持革命，1912年1月1日中华民国临时中央政府成立，孙中山就任南京临时大总统，D项正确；1851年，洪秀全领导金田起义，与题干时间不符，排除A项；19世纪60年代至90年代洋务派以自强求富为口号，兴起洋务运动，创办北洋水师，与题干时间不符，排除B项；1898年维新派救亡图存，实行百日维新，与题干时间不符，排除C项。故选D项。

9. 【答案】B

【解析】

【详解】根据材料及所学知识，1919年中国在巴黎和会上外交失败，1919年5月4日，北京3000多名学生汇集在天安门前，发表宣言，揭露帝国主义列强的侵略行径，并示威游行。学生们提出“外争主权，内





除国贼”“誓死力争，还我青岛”“取消二十一条”“拒绝在和约上签字”等口号，五四运动爆发了。B项正确；公车上书是指1895年康有为与梁启超集结1300余名举人，联名上书光绪帝，反对在甲午战争中战败的清政府签订丧权辱国的《马关条约》的事件。排除A项；1924年1月至1927年7月是第一次国内革命战争时期，也称国民革命时期，这是中国人民在中国共产党和中国国民党合作领导下进行的反对帝国主义、北洋军阀的战争。排除C项；秋收起义是1927年9月9日，由毛泽东在湘赣边界领导工农革命军举行的一次武装起义，排除D项。故选B项。

10. 【答案】D

【解析】

【详解】根据所学知识，历史叙事和历史解释是历史认识的两个层面。所谓历史叙事，是叙述以往发生过的事件。而历史解释则是对史实的分析或评判，“北伐战争推动了国民革命的进一步开展”是对北伐战争事件的分析和判断，属于历史解释，D项正确；“湖南、湖北是北伐战争初期的主要战场”、“叶挺领导的独立团攻克汀泗桥、贺胜桥”、“国民革命军从珠江流域打到了长江流域”属于叙述以往发生过的事件，属于历史叙事，排除ABC项。故选D项。

11. 【答案】C

【解析】

【详解】根据所学知识可知，1927年8月1日，南昌起义打响了武装反抗国民党反动派的第一枪，是中共独立领导武装斗争和创建革命军队的开始；1927年9月29日至10月3日，毛泽东在江西省永新县三湾村，领导了举世闻名的“三湾改编”。从政治上、组织上保证了党对军队的绝对领导，是我党建设新型人民军队最早的一次成功探索和实践，标志着毛泽东建设人民军队思想的开始形成；井冈山会师是指1928年4月28日(三月初九)毛泽东率领的秋收起义部队，和朱德、陈毅领导的湘南起义和南昌起义部分部队在井冈山(原宁冈县龙市镇)胜利会师，是中国人民解放军建军史上的重要历史事件。井冈山会师后根据中共湘南特委决定，两军合编为工农革命军第四军。壮大了井冈山的革命武装力量，对巩固扩大全国第一个农村革命根据地，推动全国革命事业的发展，具有深远的意义。古田会议是中国工农红军第四军在1929年12月28日至29日在福建省上杭县古田村召开的第九次党的代表大会，确立了人民军队建设的基本原则。这次会议解决了中国共产党在中国特殊国情中建党、建军的历史性难题，对中国革命产生深远影响，因而在中国共产党和工农红军的发展史上有着极其重要的意义。②③④正确，C项正确；黄埔军校是第一次国共合作时期，孙中山在苏联和中国共产党帮助下创办的培训陆军初级军官的学校，①错误，排除ABD项。故选C项。

12. 【答案】B

【解析】

【详解】根据材料图片，结合所学知识可知，图片反映了红军长征时期爬雪山、过草地，不怕艰险、勇往直前的长征精神，B项正确；“开天辟地、敢为人先的红船精神”与共产党的成立有关，排除A项；“不畏强暴、血战到底的抗战精神”与抗日战争有关，排除C项；延安精神主要反映抗日战争时期的精神，与材料无关，排除D项。故选B项。

13. 【答案】D



北京中考

【解析】结合所学知识可知，1937年7月7日，日军以军事演习中一名士兵失踪为借口，要求进入宛平城搜查遭拒，随即炮轰我军防地，中国守军奋起反击。这就是“七七事变”，又称“卢沟桥事变”；七七事变标志着中国全民族抗战的开始。D项正确；1931年九一八事变成为中国人民抗日战争的起点，揭开了世界反法西斯战争的序幕，排除A项；西安事变的和平解决，十年内战基本结束，抗日民族统一战线初步形成，排除B项；一二·九运动，揭露了日本侵略者企图吞并华北的阴谋，打击了国民党政府对日妥协的政策，促进了全国抗日救亡运动新高潮的到来，排除C项。故选D项。

14. 【答案】B

【解析】

【详解】根据表格材料信息可知，材料反映了抗战时期，漫画凝聚民心激发抗日的意志，B项正确；国共两党合作的正式形成于1937年9月，排除A项；蒋介石实行不抵抗政策的时间是在抗日战争民族统一战线形成前，排除C项；材料没有赞扬地道战等战法的威力，排除D项。故选B项。

15. 【答案】D

【解析】

【详解】根据所学知识可知，1945年4月，中共七大在延安举行。中共七大把毛泽东思想写入党章，为夺取抗战最后胜利和为新民主主义革命在全国的胜利奠定基础，为争取抗战的最后胜利奠定了基础，D项正确；中共一大确定了党的中心工作是领导和组织工人运动，排除A项；中共三大正式决定同国民党合作，排除B项；“停止内战，一致抗日”与西安事变有关，排除C项。故选D项。

16. 【答案】B

【解析】

【详解】依据所学知识可知，1947年夏，刘伯承、邓小平率领晋冀鲁豫解放军主力，在山东西南强渡黄河天险，千里挺进大别山，直接威胁到南京、武汉，揭开了人民解放军战略进攻的序幕，B项正确；孟良崮战役粉碎了国民党对山东解放区的重点进攻，排除A项；1948年11月，中原野战军与华东野战军在刘伯承、陈毅、邓小平、粟裕、谭震林等指挥下，在以徐州为中心的广大地区发起淮海战役，歼灭大量敌军。到1949年1月，淮海战役胜利结束，淮海战役的胜利，解放了长江中下游以北的广大地区，排除C项；渡江战役解放了南京，结束了国民党阿紫大陆的统治，排除D项。故选B项。

17. 【答案】A

【解析】

【详解】根据材料“攻克沈阳，全歼守敌，东北全境欢庆解放”，结合所学知识可知，1948年9月，辽沈战役打响。林彪、罗荣桓指挥东北野战军首先攻占辽宁锦州，一举切断了敌人向关内的退路。随后，攻占长春、沈阳、解放东北全境。A项正确；淮海战役解放了长江中下游广大地区，排除B项；三大战役的胜利使国民党军队的主力基本被消灭，排除C项；台湾至今未回归祖国，排除D项。故选A项。

18. 【答案】D

【解析】

【详解】根据材料中的“解放军”及所学知识，1946年共产党领导的军队，第一次使用“中国人民解放军”称



北京  
中考

项。此期属于解放战争时期。故而，该同学梳理的笔记与解放战争相关。D项正确；南昌起义时间是1927年8月1日，排除A项；北伐战争的时间是1926年至1928年，排除B项；抗日战争胜利的时间是1945年，排除C项。故选D项。

19. 【答案】B

【解析】

【详解】根据材料及所学知识，张謇是江苏南通人，清末状元。甲午战败后，他抱着“实业救国”的思想，创办大生纱厂，获利颇丰，他还带动了很多中国人走上“实业救国”道路。B项正确；洋务运动期间，洋务派从19世纪60年代起，以“自强”为口号，发展近代军事工业，先后创办了安庆内军械所、江南机器制造总局、福州船政局等一批近代军事工业。排除A项；1901年《辛丑条约》签订后，清政府沦为帝国主义统治中国的工具，国内革命情绪日趋高涨。资产阶级革命思想得到迅速传播，排除C项；研制出优质纯碱的是我国著名科学家、企业家侯德榜，排除D项。故选B项。

20. 【答案】A

【解析】

【详解】根据所学知识可知，①黄埔军校创办于国民革命时期，②晋冀鲁边区民兵制造的地雷反映的是抗日战争时期，③淮海战役是解放战争期间的战役，④武昌起义是辛亥革命的首义，按时间先后排序正确的是④①②③，A项正确；而BCD项排序错误，排除BCD项。故选A项。

## 第二部分材料分析题（共40分）

21. 【答案】（1）史料：②③；民用工业：③

（2）观点：孙中山是我国伟大的民主革命先行者。

选择的史事：孙中山等人成立兴中会、孙中山在日本东京成立了中国同盟会、中华民国临时政府成立、《中华民国临时约法》颁布。

论述：孙中山在上书李鸿章力求改革失败后，走上了革命的道路，创办了兴中会，后整合为中国同盟会，把同盟会的民主革命纲领阐述为“三民主义”，随后又领导了辛亥革命，推翻了清政府及2000多年的封建君主专制制度，建立中华民国，颁布了中国历史上第一部具有资产阶级共和国宪法性质的重要文件——《中华民国临时约法》，其中确立的主权在民、自由平等、三权分立原则影响深远。

结论：综上所述，孙中山的一生都在为革命而奋斗，为维护共和而奋斗，他是我国伟大的民主革命先行者。

（3）内容：新文化运动抨击旧道德和旧文化；提倡民主与科学；提倡白话文，反对文言文；后期马克思主义开始传播。

【解析】

【详解】（1）史料：材料一所展示的二则史料，只有②③是一手史料，①属于二手史料，故而，②③是研究洋务运动更可信的史料。民用工业：从19世纪70年代起，洋务派在继续发展军事工业的同时，又提出“求富”的主张，开办一些近代民用企业，以辅助军事工业。其中比较重要的有轮船招商局、开平煤矿、汉阳铁厂、湖北织布局等。图③即展现了兴办轮船招商局的原奏折，故而，图③反映了洋务派发展近代民用工业。

（2）此题为开放性试题，言之有理皆可，但格式和史实不能出错，要求史论结合，条理清楚。





21. 孙中山是我国伟大的民主革命先行者。

选择的史事：孙中山等人成立兴中会、孙中山在日本东京成立了中国同盟会、中华民国临时政府成立、《中华民国临时约法》颁布。

论述：孙中山在上书李鸿章力求改革失败后，走上了革命的道路，创办了兴中会，后整合为中国同盟会，把同盟会的民主革命纲领阐述为“三民主义”，随后又领导了辛亥革命，推翻了清政府及 2000 多年的封建君主专制制度，建立中华民国，颁布了中国历史上第一部具有资产阶级共和国宪法性质的重要文件——《中华民国临时约法》，其中确立的主权在民、自由平等、三权分立原则影响深远。

结论：综上所述，孙中山的一生都在为革命而奋斗，为维护共和而奋斗，他是我国伟大的民主革命先行者。

(3) 根据材料三及所学知识，新文化运动抨击旧道德和旧文化；提倡民主与科学；提倡白话文，反对文言文；后期马克思主义开始传播。

22. 【答案】(1) 原因：个人——詹天佑具有很强的爱国主义精神；自身具有创新的智慧和杰出的才干。社会——京张铁路地理位置重要具有不可磨灭的政治、经济价值。作用：个人——詹天佑被誉为“中国铁路之父”并成为美国土木工程学会的正式会员。社会——打破了外国人垄断修建中国铁路的局面，为以后中国自己建设铁路积累了经验；京张铁路促进了南北经济的往来加速了张家口、内蒙古等北部地区的发展。

(2) 变化：中国航运业的也蓬勃发展起来。原因：清末以来，我国的领水主权逐步丧失，西方资本主义列强逐渐窃据了我国的内河航运权，外国资本主义企业的航船横行在我国的内陆江河，攫取了大量的利益。在此影响下中国本国也兴办了资本主义生产关系的航运企业。

(3) 趋势：汽车数量逐年攀升。作用：近代化交通工具的改善和发展使得人们出行方式的商业化程度大增，社会交往活动更趋于平等化。

#### 【解析】

【详解】(1) 原因：根据材料及所学知识，个人——詹天佑具有很强的爱国主义精神；自身具有创新的智慧和杰出的才干。社会——京张铁路地理位置重要具有不可磨灭的政治、经济价值。作用：根据材料及所学知识，个人——詹天佑被誉为“中国铁路之父”并成为美国土木工程学会的正式会员。社会——打破了外国人垄断修建中国铁路的局面，为以后中国自己建设铁路积累了经验；京张铁路促进了南北经济的往来加速了张家口、内蒙古等北部地区的发展。

(2) 变化：根据材料“1911—1921 年，中国国内资本对航运业的投资达到 9000 万元，是 1900 年的 9.6 倍。”可知，1911 年后中国航运业也蓬勃发展起来。原因：根据材料及所学知识，清末以来，我国的领水主权逐步丧失，西方资本主义列强逐渐窃据了我国的内河航运权，外国资本主义企业的航船横行在我国的内陆江河，攫取了大量的利益。在此影响下中国本国也兴办了资本主义生产关系的航运企业。

(3) 趋势：根据材料中的趋势图可以看出，1923 后普通汽车及公共汽车数量逐年攀升。作用：根据材料“新式交通将人们带出封闭家门，由“乡人”跃变为“国人”，进而城市中建立起真正大众化的公共交通体系。由于人们出行方式的商业化程度大增，使社会交往活动更趋于平等化。”可知，近代化交通工具的改善和发展使得人们出行方式的商业化程度大增，社会交往活动更趋于平等化。





北京  
中考

25. 【答案】(1) 努力：发表宣言，揭露日本侵略罪行；指导创建游击队；建立东北抗日联军等。作用：牵制了大量日、伪军，有力打击了日本在中国东北的殖民统治，支援和鼓舞了全国抗日救亡运动。

(2) 统一战线理论、持久战理论、游击战争理论等。

(3) 百团大战；成功打击了日本侵略者，增强了抗战胜利的信念。（意思相近即可）

(4) 中国共产党最早高举全民族抗战旗帜，最早组织东北抗日游击战争，以局部抗战揭开世界反法西斯战争的序幕；中国共产党积极倡导、诚心维护抗日民族统一战线，凝聚了中华民族的抗日力量；中国共产党提出全面抗战路线、持久战战略总方针、游击战争的战略战术，为全民族抗战指引了胜利方向；中国共产党领导抗日军民在敌后战场与日本侵略者浴血奋战，为抗战胜利作出巨大贡献；中国共产党领导抗日军民对抗日战争胜利发挥了决定性的作用。

### 【解析】

【详解】(1) 根据材料一“九一八事变后，中共中央发表《为日本帝国主义强暴占领东三省事件宣言》揭露日本侵略罪行，号召全民族抗战。中共满洲省委派杨靖宇等人到东北各地指导创建游击队，支援和联合各抗日组织和军队共同抗日，建立东北抗日联军，……”可知，中国共产党为抗日所做的努力有：发表宣言，揭露日本侵略罪行；指导创建游击队；建立东北抗日联军等。根据材料一“建立东北抗日联军，牵制了大量日、伪军，有力地打击了日本在中国东北的殖民统治，支援和鼓舞了全国抗日救亡运动。”可知，中国共产党为抗日所做的努力，牵制了大量日、伪军，有力打击了日本在中国东北的殖民统治，支援和鼓舞了全国抗日救亡运动。

(2) 根据材料二结合所学可知，中国共产党在抗日战争时期形成的科学理论有统一战线理论、持久战理论、游击战争理论等。

(3) 根据材料三“1940年八路军组织一百多个团，对日军发动了一场大规模进攻，……”可知，材料反映的是百团大战；根据材料三可知，平型关大捷、齐会战斗、百团大战都取得了胜利，成功打击了日本侵略者，增强了抗战胜利的信念。

(4) 根据材料四结合所学可知，中国共产党是全民族抗战的中流砥柱。因为中国共产党最早高举全民族抗战旗帜，最早组织东北抗日游击战争，以局部抗战揭开世界反法西斯战争的序幕；中国共产党积极倡导、诚心维护抗日民族统一战线，凝聚了中华民族的抗日力量；中国共产党提出全面抗战路线、持久战战略总方针、游击战争的战略战术，为全民族抗战指引了胜利方向；中国共产党领导抗日军民在敌后战场与日本侵略者浴血奋战，为抗战胜利作出巨大贡献；中国共产党领导抗日军民对抗日战争胜利发挥了决定性的作用。（根据史实言之有理即可）

24. 【答案】(1) 城市：上海；理解：伟大建党精神，指的是坚持真理、坚守理想，践行初心、担当使命，不怕牺牲、英勇斗争，对党忠诚、不负人民的精神。

(2) 原因：井冈山地区敌人统治力量薄弱、地势险要，易守难攻；土地肥沃、资源丰富可以为部队提供给养。道路：农村包围城市，武装夺取政权的井冈山道路。（或工农武装割据）

(3) 序号：②遵义；说明：长征路途中的遵义会议，开始确立以毛泽东为主要代表的马克思主义正确路线在中共中央的领导地位，在极其危急的情况下，挽救了党，挽救了红军，挽救了中国革命，是中国共产党历史上一个生死攸关的转折点。遵义凝结了中国共产党人坚定理想、百折不挠的奋斗精神；坚持独立自主、实



北京  
中考

实事求是、一切从实际出发的伟大精神。

【4】启示：中国共产党一百年来实践积累的宝贵经验，是党和人民共同创造的精神财富，我们必须倍加珍惜、长期坚持，并在新时代实践中不断丰富和发展，不断深化对共产党执政规律、社会主义建设规律、人类社会发展规律的认识。（言之有理皆可，但不能出现史实错误）

### 【解析】

【详解】（1）城市：1921年7月23日，中国共产党第一次全国代表大会在上海开幕。理解：根据材料及所学知识，伟大建党精神，指的是坚持真理、坚守理想，践行初心、担当使命，不怕牺牲、英勇斗争，对党忠诚、不负人民的精神。

（2）原因：根据地理组所示材料分析，毛泽东选择井冈山作为根据地的原因是井冈山地区敌人统治力量薄弱、地势险要，易守难攻；土地肥沃、资源丰富可以为部队提供给养。道路：根据材料及所学知识，中国共产党人逐渐找到了一条井冈山革命道路——农村包围城市，武装夺取政权。（或工农武装割据）

（3）序号：②遵义（任选一个即可，要求能够说明清楚，不出现史实错误）；说明：根据材料及所学知识，长征路途中的遵义会议，开始确立以毛泽东为主要代表的马克思主义正确路线在中共中央的领导地位，在极其危急的情况下，挽救了党，挽救了红军，挽救了中国革命，是中国共产党历史上一个生死攸关的转折点。遵义凝结了中国共产党人坚定理想、百折不挠的奋斗精神；坚持独立自主、实事求是、一切从实际出发的伟大精神。

（4）启示：根据材料及所学知识，中国共产党一百年来实践积累的宝贵经验，是党和人民共同创造的精神财富，我们必须倍加珍惜、长期坚持，并在新时代实践中不断丰富和发展，不断深化对共产党执政规律、社会主义建设规律、人类社会发展规律的认识。（言之有理皆可，但不能出现史实错误）

北京中考  
BJ\_zkao



北京中考  
微信号：BJ\_zkao



北京  
中考