

2019 北京石景山初三（上）期末

地 理

学校_____姓名_____准考证号

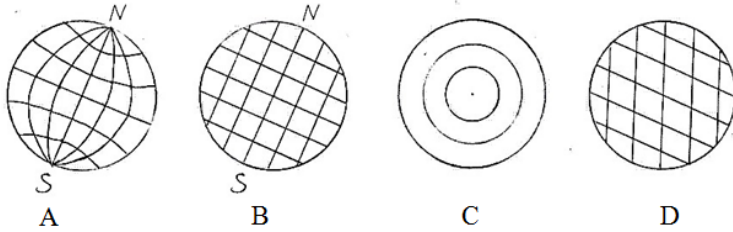


微信扫一扫，快速关注

一、选择题(共40道，共40分)

地球仪是地球的模型。地球仪上的经纬网在军事、航海、航空和气象观测等方面有广泛用途。

1 一某班同学在制作小地球仪之前，绘制了“经纬网平面示意图”。你认为正确的是



2. 有关经纬线特点表述正确的是

- ①地球自身具有经线和纬线
- ②经线圈由两条经线组成
- ③赤道是南北半球分界线
- ④纬线是长度不等的圆圈

- A. ①②
- B. ②③
- C. ③④
- D. ①④

1519~1522年，葡萄牙航海家麦哲伦率船队首次完成绕地球一周的航行。读图1“麦哲伦环球航行路线图”，完成第3.-4题。

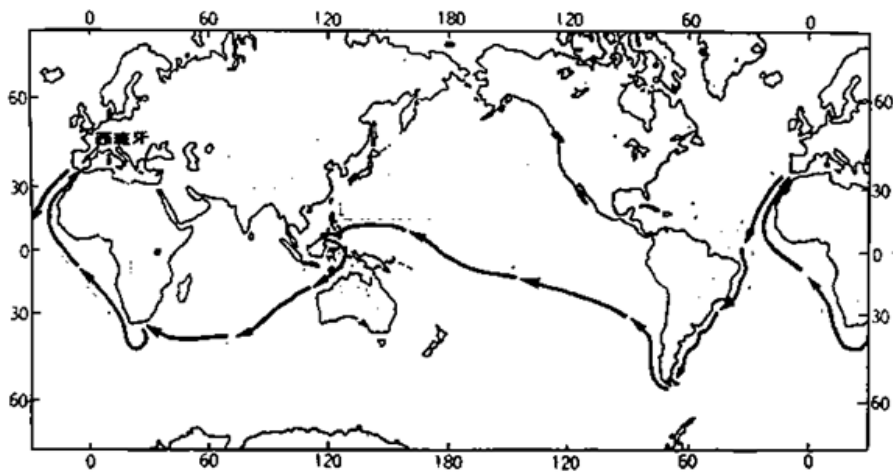


图 1

3. 船队横渡太平洋时的航行方向是

- A. 向西
- B. 向南
- C. 向西北
- D. 向东南

4. 船队航行成功最伟大的意义

- A. 在南美洲发现麦哲伦海峡
- B. 在航行中穿越4次赤道
- C. 首次命名“太平洋”海域
- D. 用实践证明了地球的形状

图 2 是北京某中学校园平面图。读图 2 和图 3，完成第 5、6 题。

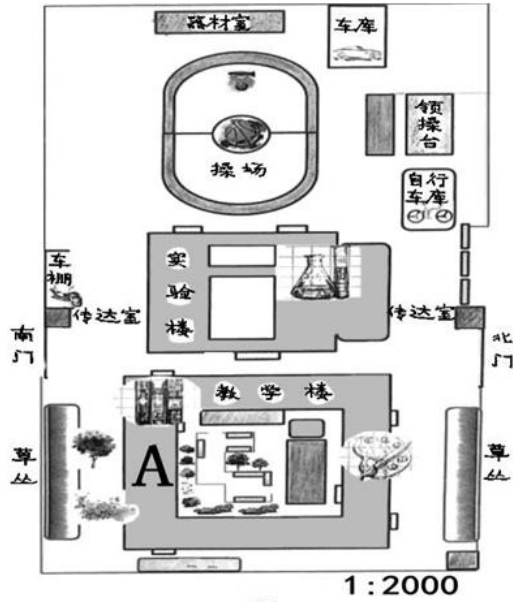


图 2



图 3

5. 北门到南门的直线距离约
- A. 1000 米 B. 100 米 C. 150 米 D. 200 米
6. 图 3 是 11 月 22 日 A 座教学楼南侧教室的课堂场景，推测拍照时间是
- A. 晨读时间 B. 上午 C. 午饭时间 D. 下午

读图 4 “我国部分省区图”，完成第 7. 8 题。

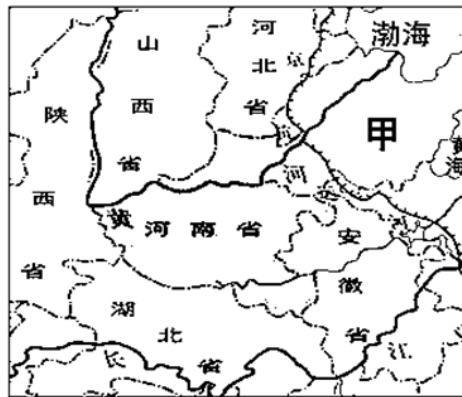



图 4

7. 甲省
- A. 简称——豫 B. 省会——济南 C. 位于长江下游地区 D. 地处东海沿岸
8. 下列文化特色与所在省区对应正确的是



- A. ①—州胡北省 B. ②—安徽省 C. ③—河南省 D. ④—河北省

吕军用歌谣总结《统一的多民族国家》学习要点。“中华民族五十六，人口最多是汉族。少数民族五十五，人口最多是壮族。汉族分布遍全国，集中东部和中部。甲，少数民族多分布。乙，平等团结又互助。”

9. 你认为歌谣中甲和乙分别对应的是

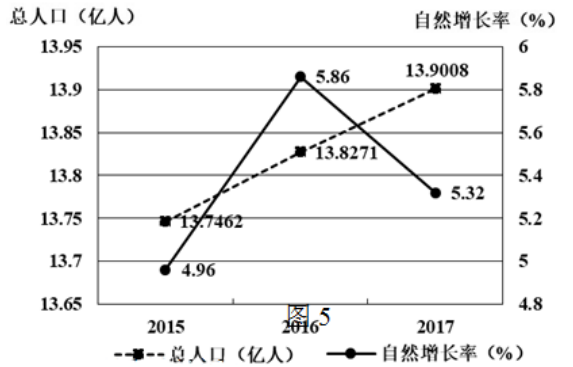
- ①东北、东南和西南 ②东北、西北和西南 ③各族分布广而散 ④各族杂居或聚居

- A. ①③ B. ①④ C. ②③ D. ②④

读图 5 “2015~2017 年我国人口统计图图”，完成第 10、11 题。

10. 我国人口

- A. 总数自 2016 年开始下降
 B. 2017 年自然增长率最高
 C. 自 2015 年总数持续增加
 D. 自 2015 年自然增长率逐渐降低



11. 人口增长过快可能带来的问题有

- A. 粮食供给压力加大 B. 老龄化问题甘超尹量忆
 C. 资源得到有效利用 D. 消费水平迅速提高读

图 6 “中国主要山脉分布图” 完成第 12、13 题。



图 6

12. 我国东部地区“自然地理分界线”是

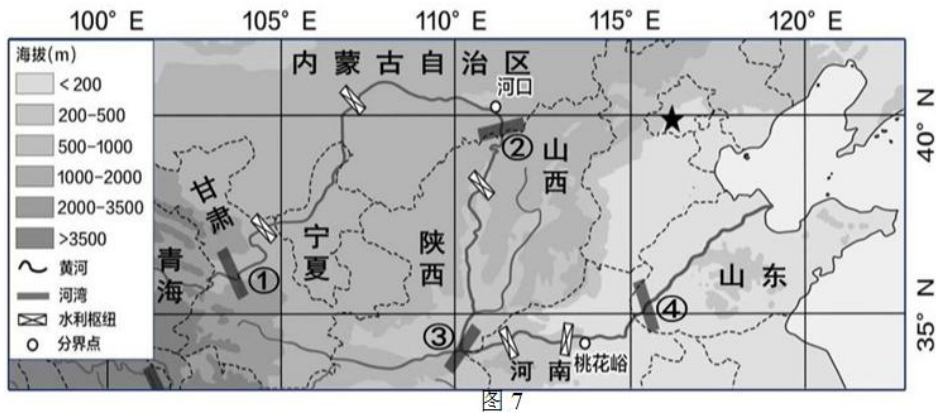
- A. ⑦ B. ⑨ C. ⑫ D. ⑩

13. 组成地势第二、三级阶梯分界的山脉

- A. ⑤④②⑥ B. ③⑦⑩ C. ⑧④②⑥ D. ⑤①⑦⑩

读图 7 “黄河示意图” 及有关资料，完成第 14~16 题。资料：近几十年来，我国重点开展黄土高原水土流失综合治理，并在黄河上修建水库，使下游年均来沙量大幅减少。





14. 下列表述正确的是

- A. 青海省—有三江源自然保护区，此段黄河水量大
- B. 山西省—隔黄河与陕西省为邻，此段黄河有凌汛现象
- C. 陕西省—地形类型多样，此段黄河含沙量大
- D. 河南省—位于黄河中游，此段黄河水能资源丰富

15. 人们在黄土高原植树种草的主要目的

- ①固定表层土壤 ②减少暴雨冲刷 ③降低噪音 ④减弱风速
- A. ①② B. ②③ C. ③④ D. ①④

16. 河湾④处比③处河水含沙量明显减少的主要原因是

- A. 修筑梯田 B. 植树种草 C. 修建水库 D. 人为挖沙

2018年11月19日我国成功发射第42、43颗北斗导航卫星，标志着中国自行研制的北斗卫星导航系统(BDS)将部署完成。该系统是全球四大卫星导航定位系统之一。

17. 北斗卫星系统的研制、开发及应用，体现了我国

- A. 矿产资源种类多 B. 高新技术产业发展迅速
- C. 劳动力资源丰富 D. 农业基础雄厚



近年来我国交通运输业快速发展。根据“北京—广州不同交通运输方式的比较”资料，完成第18、19题。

<p>北京—广州高铁 发车时间：最早 7:27，最晚 20:35，发车主要集中在上午和晚上时段。 运行时间：8-10 小时； 票价：一等座为 1380 元，二等座为 862 元。</p>	<p>北京—广州航班 飞行时间：约 3 小时； 票价：最低 3.9 折，810 元</p>	<p>北京—广州快车 运行时间：29 小时 58 分； 票价：硬座：251 元，硬卧：426 元，软卧：750 元</p>
---	--	--

18. 北京—广州

- A. 航空运输普遍比铁路运输价格低 B. 高铁比快车运行时间短
- C. 航空运输比铁路运输运量大 D. 高铁比快车的坐席种类丰富

19. 北京—广州航班出现票价“跳水”现象的原因

- A. 北京—广州的距离缩短 B. 高铁的速度超过飞机的速度

C. 政府部门对价格的规定

D. 多种交通方式的优势竞争

“中国人的饭碗一定要端在自己手里”。今后若干年我国粮食自给率应维持在 95%，5%可依靠国际市场。实现我国粮食安全，解决国民吃饭问题，必须保障耕地资源安全。读图 8 “中国土地利用比重”、图 9 “南北方耕地与水资源比重”和资料，完成第 20、21 题。

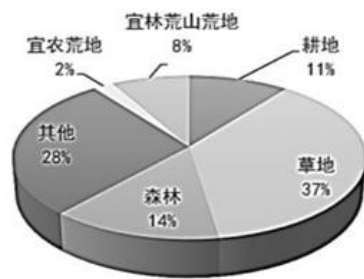


图 8 中国土地利用比重




图 9 南北方耕地与水资源比重

资料 1: 据调查，我国现有耕地中，中低产田占耕地总面积的 70%

资料 2: 我国耕地数量特点

耕地总量	人均数量
次于美国、印度、俄罗斯，居世界第 4 位	为世界人均的 40%，居世界 120 位以后

20. 我国耕地资源特点

- ①绝对量大，人均耕地少
- ②总体质量高，中低产田比重少
- ③耕地资源与水资源空间匹配较好
- ④耕地比重小，耕地后备资源不足

- A. ①② B. ③④ C. ①④ D. ②③

21. “十分珍惜和合理利用每一寸土地，切实保护耕地”基本国策的制定是为确保我国

- A. 耕地面积不断扩大
- B. 粮食供给自力更生
- C. 环境质量不断提升
- D. 土地资源种类多样

中国是世界上最先以政令形式保护自然资源的国家，禹治国时即“春三月，山林有不登斧，以成草木之长。夏三月，川泽不入网罟(gǔ)，以成鱼鳖之长。(网罟:渔网) 据此完成第 22 题。

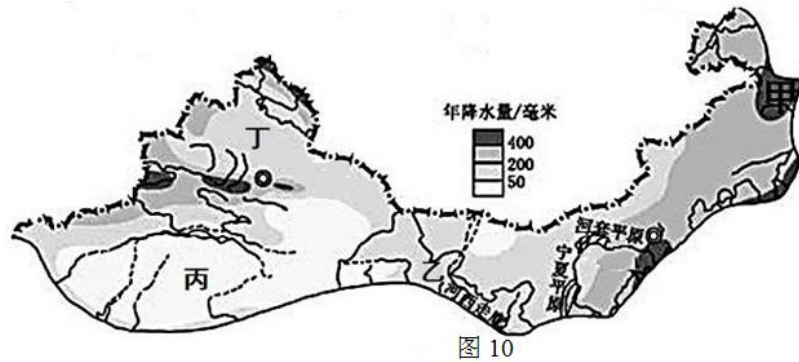
22. 我国目前一些做法与古时政令基本一致的是

- ①在黄海、东海和南海执行海区伏季休渔制度
- ②云贵高原设立可可西里自然保护区
- ③在内蒙古牧区推行禁牧、休牧、轮牧制度
- ④在黄土高原适宜地区建设太阳能发电项目

- A. ①④ B. ②④ C. ①③ D. ②③

读图 10 “西北地区图”，完成第 23、24 题。





23. 有关西北地区内部差异描述正确的是

- A. 甲地降水量大于 800mm
- B. 乙地属于温带大陆性气候
- C. 丙地有我国海拔最高的盆地
- D. 丁地东西两翼山脉分布

24. “我们新疆好地方，……，戈壁沙滩变良田，……”。戈壁沙滩变良田，主要自然原因是

- A. 高山冰雪融水灌溉
- B. 有“人定胜天”的信念
- C. 农业科学技术发展
- D. 有充足雨水的灌溉

“晋太元中，武陵人捕鱼为业。缘溪行，忘路之远近。……便舍船，从口入。……土地平旷，屋舍俨然，有良田美池桑竹之属。阡陌交通，鸡犬相闻。其中往来种作，男女衣着，悉如外人。”（俨然一整齐的样子，阡陌一田地中间纵横交错的小路）—《桃花源记》[魏晋]陶渊明。据此完成第 25、26 题。

25. 武陵人在“桃花源”看见的聚落类型及判断理由

- A. 农村，“屋舍俨然”
- B. 农村，“土地平旷、有良田”
- C. 书拼寸，“鸡犬相闻”
- D. 渔村，“捕鱼为业”，

26. “桃花源”形成的自然条件

- ①地势平坦
 - ②交通便利
 - ③矿产丰富
 - ④气候湿润
- A. ①④ B. ②③ C. ②④ D. ①③

2018 年 11 月 30 日至 12 月 1 日，第十三届二十国集团(G20)领导人高峰会议在阿根廷首都布宜诺斯艾利斯召开。读图 11 “历届会议主办城市位置示意图”，完成第 27 题。

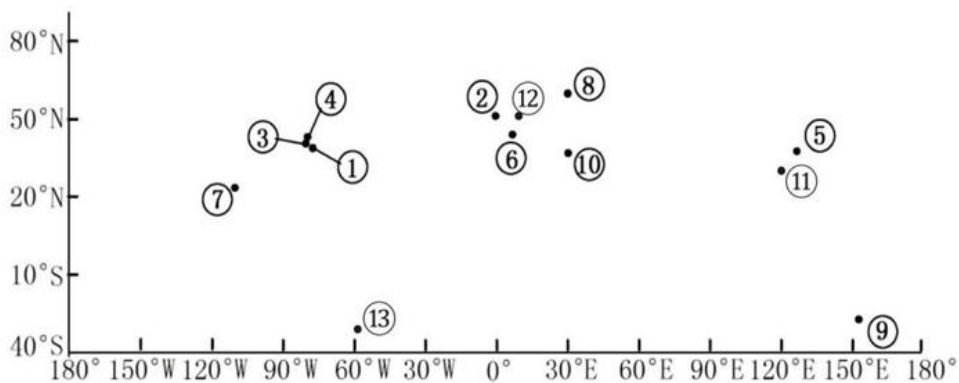


图 11

27. 主办城市

- A. 多数分布在西半球
- B. 多分布在高纬地区
- C. ②位于欧亚大陆西部
- D. ⑩位于太平洋西岸

当地时间 2018 年 11 月 19 日，危地马拉的福埃哥活火山发生爆发，造成约 4000 名当地居民撤离避难。读图 12，完成第 28、29 题。

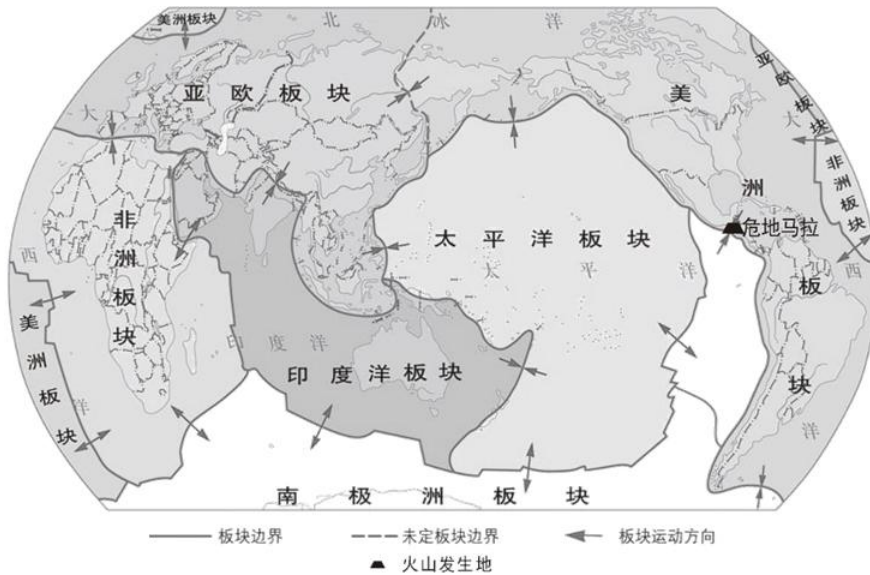


图 12

28. 火山发生在

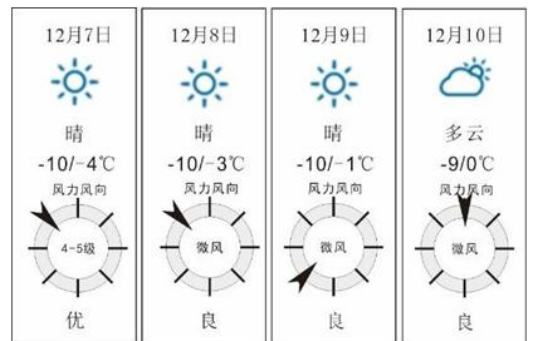
- A. 美洲板块与太平洋板块交界处
- B. 非洲板块美洲板块交界处
- C. 南极洲板块与美洲板块交界处
- D. 美洲板块与亚欧板块交界处

29. 板块运动造成的结果

- ①环太平洋地带多火山
 - ②青藏高原高度不变
 - ③地中海面积不断缩小
 - ④印度尼西亚少火山地震
 - ⑤红海面积不断扩大
 - ⑥澳大利亚多火山地震
- A. ①③⑤ B. ①②④ C. ②③⑥ D. ④⑤⑥

刘明在手机上查到中央天气网发布的 12 月 7-10 日预报信息。读图 13，完成第 30 题。30. 据图 13，看出

- A. 7 日，西北风强，利于污染物扩散
- B. 8 日，日照充足，适宜穿薄衣类服装
- C. 9 日，西北风弱，不利于驾车出行
- D. 10 日，多云转晴，适宜户外运动



赵菲在运用图像学习“亚洲气候”时，有一个组合关系搞错了，请你帮她挑出来。读图 14，完成第 31、32 题。





微信扫一扫，快速关注

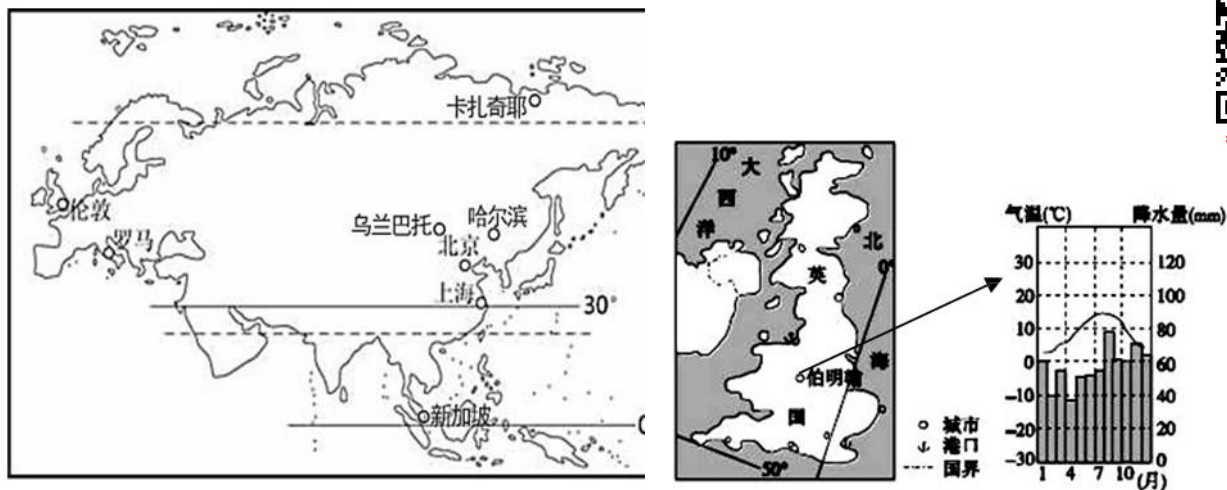


图 15

31. 下列组合错误的是

- A. 乌兰巴托—欧亚大陆内部—①—年较差大
- B. 罗马—地中海沿岸—②—夏季炎热干燥
- C. 新加坡—赤道附近—③—全年高温多雨
- D. 卡扎奇耶—北冰洋沿岸—④—四季分明

32. 亚洲气候类型复杂多样，这是因为

- ①纬度范围广，经度跨度大
- ②四面均濒临海洋
- ③地形复杂多样，地势起伏大
- ④大部分地处高纬地区

- A. ①②
- B. ①③
- C. ③④
- D. ②④

南极的生态系统脆弱，一粒外来的种子都可能给南极带来颠覆性的破坏。因此，开展安全环保的南极旅游活动成为各国共识。目前，我国已成为仅次于美国的南极旅游第二大客源国。每年 11 月至次年 2 月，在中国南极长城科考站要迎接近 2000 名国内游客，每批游客至少需要 3 名科考队员迎接、解释该站，并防止游客进入危险区域。据此完成第 33、34 题。

33. 11 月至次年 2 月，南极地区

- A. 昼短夜长
- B. 昼夜等长
- C. 昼先渐长后渐短
- D. 夜先渐长后渐短

34. 旅行社组织赴南极旅游活动时，应

- ①提高游客环保意识，做好环保培训
- ②告诉游客可近距离与企鹅、海豹等动物拍照
- ③告诉游客不可喂食、触摸极地动物
- ④要求游客准备防寒服、雪地靴、墨镜、防晒霜等极地旅游装备
- ⑤鼓励更多游客参观科考站，增加对南极的科学考察知识
- ⑥要求游客将垃圾集中一处，并就地销毁

- A. ①②③
- B. ②④⑥
- C. ③⑤⑥
- D. ①③④

18 世纪中叶以来，棉纺织业在英国迅速崛起，但其棉花种植并未得到同步快速发展。读图 15，完成第 35、36 题。

35. 有关英国气候特征的正确描述是

- A. 冬季温和夏季凉爽，降水均匀
- B. 气温年较差大，全年降水多
- C. 夏季气温高，雨热同期
- D. 冬季寒冷，全年降水均匀

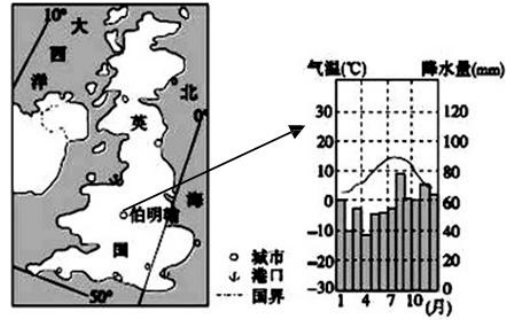


图 15

展”

36. 王亮想解释英国“棉纺织业发展快，而棉花种植未快速发展的原因，查找资料的方向应是

- A. 棉纺织工业的分布
- B. 适宜棉花种植的气候条件
- C. 棉纺织工业的主要产品
- D. 影响棉花种植的技术条件

毛里求斯是地处印度洋西南的一个岛国。读图 16，完成第 37、38 题。

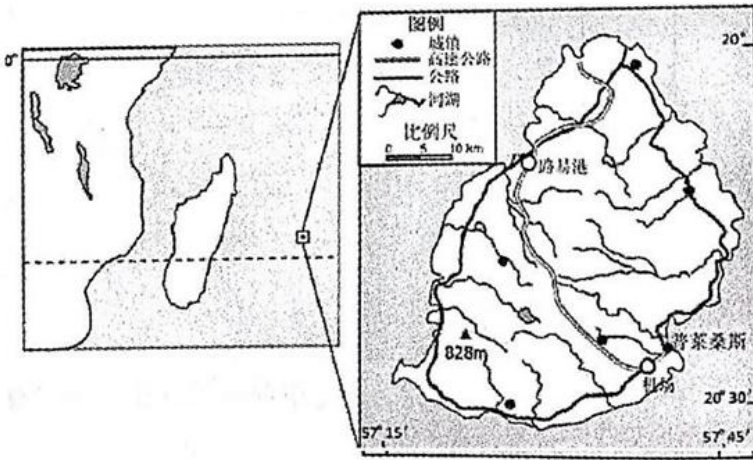


图 16

37. 毛里求斯

- A. 四面环海，东临太平洋
- B. 海拔 500m 以下，地势低平
- C. 水系大致呈放射状分布
- D. 地处南半球的温带地区

38. 影响该国城镇分布的主要因素

- A. 地形、气候
- B. 地形、河流
- C. 河流、交通
- D. 气候、交通首届

中国国际进口博览会于 2018 年 11 月 5-10 日在上海举行。172 个国家、地区和国际组织参加了“进博会”。据图 17 和资料，完成第 39、40 题。

资料:12 个主宾国设立的特色展馆一览表



国家	主要展品	国家	主要展品
英国	医疗和生命科学、金融和专业服务、教育、创意产业、人工智能等	加拿大	智能及高端装备、医疗器械及医药保健、食品及农产品等
印度尼西亚	咖啡、山竹、凤梨、香蕉等	南非	钻石、水果、葡萄酒、羊毛
越南	腰果、鱼类、大米、龙眼、鞋类等	匈牙利	葡萄酒、蜂蜜、萨拉米肉肠等
埃及	农产品、食品、纺织品、手工产品、家具、工程皮制品等	巴西	甘蔗酒、特色咖啡、奶酪面包、坚果、时装、鞋类、足球和牙科产品等
德国	人工智能、制造业、汽车、化工、机械设备和食品等	俄罗斯	食品(牛奶)和农产品,高科技设备,医疗设备和药品,服务业,消费品等
墨西哥	玻璃、猪肉、牛油果等	巴基斯坦	食品及农产品、服装、运动用品等

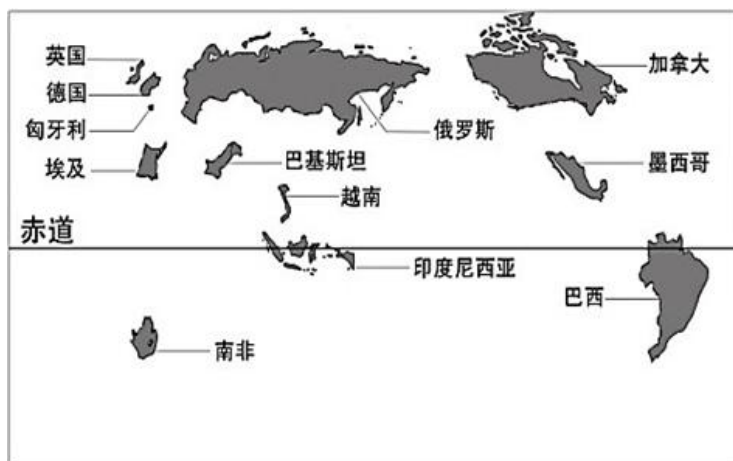


图 17

39. 以农产品出口为主的国家主要分布在

- A. 亚洲、非洲、南美洲 B. 亚洲、欧洲、南美洲
C. 北美洲、南美洲、非洲 D. 欧洲、非洲、北美洲

40. 中国举办“首届国际进口博览会”，表明

- ①要提高人民生活水平②向世界开放中国市场
③与更多国家互利共赢④要加强国际经济合作

- A. ① B. ①② C. ①②③ D. ①②③④

二、综合题(共 4 道，共 50 分)

41. 地理小实验(或小制作)、社会调查和野外考察等活动是中学生认识环境、学好地理的重要方法。(17 分)宋老师带领学生在校内进行“地理小制作”活动，所用材料见图 18。

(1)请你依据材料，命名两个活动主题。(4 分)选

用材料 _____，主题 1 _____。

选用材料 _____，主题 2 _____。



图 18

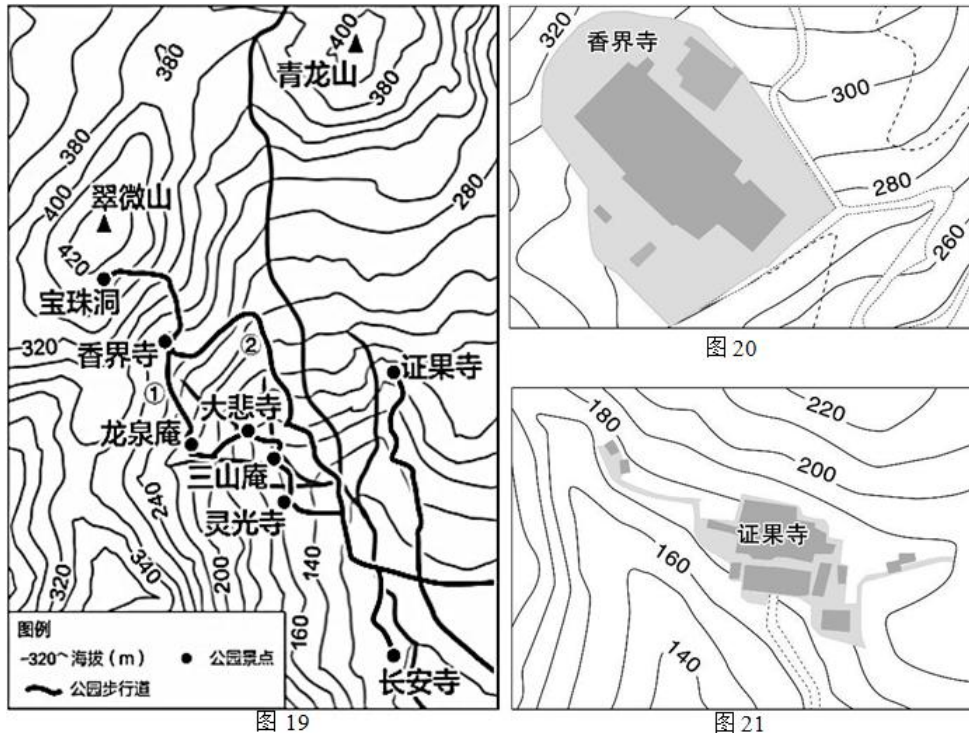
八大处公园位于北京西山南麓，是一座历史悠久、风景宜人的山地佛教寺庙园林。宋老师指导学生在此开展了长期的地理实践活动。据图和资料，完成下列问题。

第一小组研究主题是“寺庙与地形的关系”。



资料:公园由翠微山、虎头山、卢师山环抱,八座古寺分布其间。古人赞“三山如华屋,八刹如屋中古董”。

略图。图 19 为八大处地形略图,图 20 为香界寺略图,图 21 为证果寺略图



- (2) 青龙山主峰的海拔约_____米。(1分)
- (3) 香界寺与证果寺相比,规模较小的寺庙是_____,内部相对高度较大的寺庙是_____
- 理由_____。(4分)
- (4) 比较①、②两条登宝珠洞的步行道,不同之处有:(2分)

第二小组研究主题“八大处十二景成因初探”,撰写了研究报告。

报告节选:十二景包括绝顶远眺、春山杏林、翠峰云断、卢师夕照、烟雨鹃声、雨后山洪、水谷流泉、高林晓日、五桥夜月、深秋红叶、虎峰叠翠、层峦晴雪。按成因可将其大致分类,如①“绝顶远眺”、“翠峰云断”等;②“春山杏林”、“深秋红叶”、“层峦晴雪”等。这些美景是自然地理环境要素相互影响的表现。

- (5) 据此报告分析得出:①类美景形成的主要因素是_____,②类美景形成的主要因素是_____。(2分)



图 22

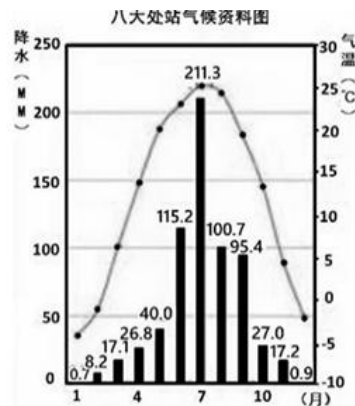


图 23





(6) 图 22 为“雨后山洪”景观，结合图 23，简要分析该景观形成的条件。(4 分)

42. 图 24 为中国气候类型分布图，图 25 为我国小麦分布图。读图完成下列各题。(10 分)

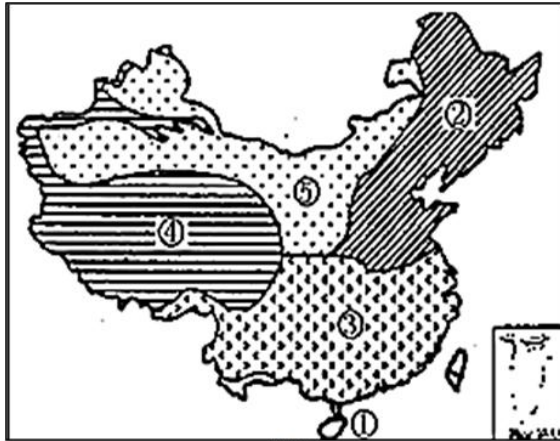


图 24

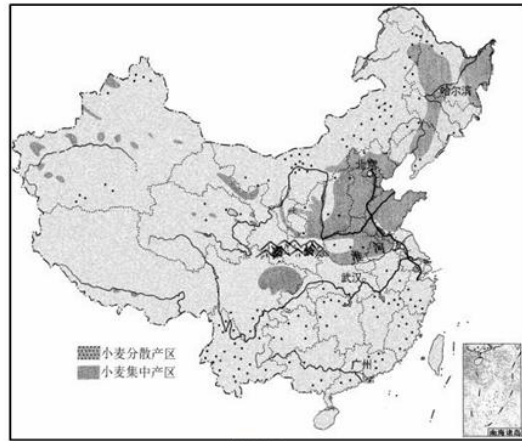


图 25

(1) 图 24 中②③两种气候类型的分界线大致与_____毫米年等降水量线一致。(1 分)

(2) 据图 26 所示的气温、降水量特点，判断该地位于图 24 中_____ (填序号) 气候类型区。(1 分)

(3) 影响图 24 中①→③→②气候类型变化的主要因素是_____；影响②→⑤气候类型变化的主要因素是_____。(2 分)

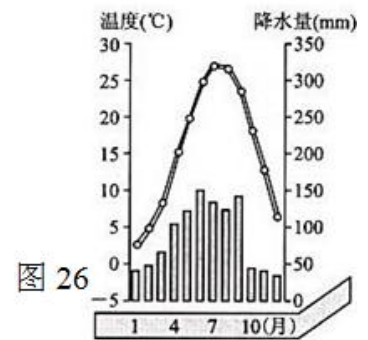


图 26

(4) 据图 25，我国小麦分布特点：从东、西部看，集中分布在_____；从南、北方看，集中分布在秦岭—淮河以_____。(2 分)

(5) 一般来说，图 27 中能反映四地小麦收割时间变化趋势的是() (1 分)

- A. ① B. ② C. ③ D. ④

(6) ④气候类型分布区内，种植业主要分布在_____地区，原因是_____。(3 分)

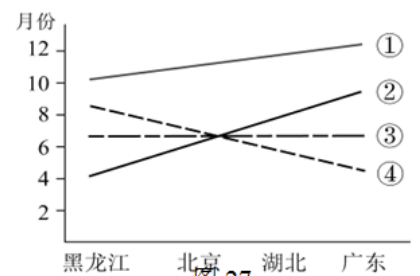


图 27

43. 地理课的学习让吴凡对北美洲的自然风光和风土人情产生浓厚兴趣。下面是吴凡的自学记录，请根据图文资料将其补充完整。(10 分)

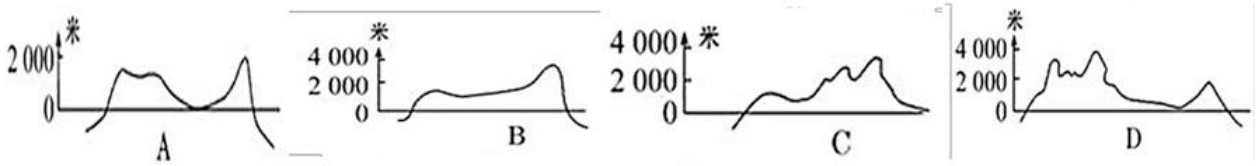


图 28

图 29

(1) 北美洲大部分位于_____带(北温带/北寒带);西临太平洋,东临②_____洋;①处是_____运河,这里是南、北美洲分界线。五大湖西岸地区_____矿资源丰富。(4分)

(2) 能体现图 28 中 MN 一线地势特点的地形剖面图是_____。(1分)



(3) 图 29 所示国家的农业区分布_____化突出。乳畜带主要分布在该国_____部地区,该地区水源_____,消费市场_____。(4分)

(4) 该国著名的旅游景观是() (1分)



44. 图 30 是某校同学在地理学习过程中绘制的非洲卡通地图。(13分)



图 30

(1) 若想说明非洲主要位于热带地区,图中需添加_____,_____,_____。(3分)

(2) 非洲与亚洲的分界是_____运河,非洲与欧洲的分界是_____海峡。(2分)

(3) 从地形看,非洲被称为_____;从气候看,非洲被称为_____。(2分)

卡通地图表现了该同学对非洲地理环境的理解。



(4)图中有一处信息绘制错误，请你挑出并写出修改意见。(2分)

_____，_____。

(5)在图中任选两个信息，各写一句解说词。(4分)

_____。

_____。



微信扫一扫，快速关注

地理试题答案



微信扫一扫，快速关注

一、选择题（40分）

题号	1	2	3	4	5	6	7	8	9	10
答案	A	C	C	D	B	D	B	B	D	C
题号	11	12	13	14	15	16	17	18	19	20
答案	A	B	A	C	A	C	B	B	D	C
题号	21	22	23	24	25	26	27	28	29	30
答案	B	C	B	A	B	A	C	C	A	A
题号	31	32	33	34	35	36	37	38	39	40
答案	D	B	C	D	A	B	C	B	A	D

二、综合题（50分）

41.（共17分）

(1) 选用材料：乒乓球、支架、软尺等。

主题1：制作小地球仪（2分）

选用材料：土豆、小刀、直尺、白纸等。

主题2：绘制简易高线地形图（2分）

【或者】选用材料：土豆、小刀等

主题3：削制山地的地形部位

（主题名称的得分要点：动词+内容）

(2) 400~410（或400~410米之间的任意高度）（1分）

(3) 证果寺（1分）；香界寺（1分），香界寺被4条等高线穿过，证果寺被2条等高线穿过（2分）

(4) 线路①经过灵光寺、三山庵、大悲寺、龙泉庵、香界寺和宝珠洞（或6座寺庙），参观游览的寺庙多；线路②可游览香界寺、宝珠洞（或2座寺庙），游览的寺庙少；线路①坡度较陡，线路②坡度较缓。（2分）

(5) 地形（1分） 气候（1分）

(6) 气候：夏季（1分）多暴雨，降水量较大（1分）；地形：位于山谷（1分）且有较大落差（1分）。

42.（共10分）

(1) 800（1分）

(2) ③（1分）

(3) 纬度位置（1分） 海陆位置（1分）

(4) 东部（1分） 南（1分）

(5) ④（1分）

(6) 河谷（1分）；地势较低，气温较高，风力较小。（答出2点即可）（2分）

43.（共10分）

(1) 北温带（1分）；大西洋（1分）；巴拿马运河（1分）；铁矿（1分）

(2) D（1分）

(3) 专业 (1分)；东北 (1分)；充足 (1分) 广阔 (1分)

(4) D (1分)

44. (共 13分)

(1) 赤道 (1分) 北回归线 (1分) 南回归线 (1分)

(2) 苏伊士运河 (1分) 直布罗陀海峡 (1分)

(3) 高原大陆 (1分) 热带大陆 (1分)

(4) 错误：黑人头像的位置 (1分)，应调整至撒哈拉以南的非洲地区 (1分)

(5) 咖啡、黑猩猩、猴面包树、钻石等信息，已放在图中正确位置。学生任选 2 个信息，表达出此信息与当地环境的关系即可。每个信息及说明 2 分 (共 4 分)



微信扫一扫，快速关注