

七年级第二学期期末调研

地 理

2018.7

一、单项选择题（每小题 2 分，共 50 分）

下列各小题均有四个选项，其中只有一项是符合题意要求的。请将所选答案前的字母，填写在答题卡的表格内。

图 1 为某大洲沿 300°N 的地理事物分布图。读图，完成 1~3 题。

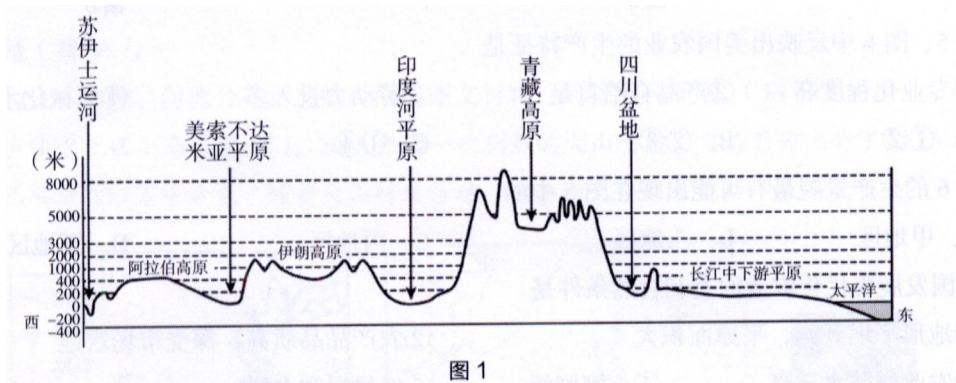



图 1

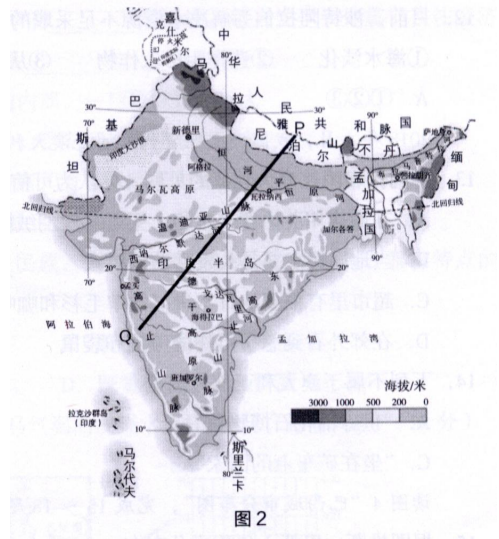
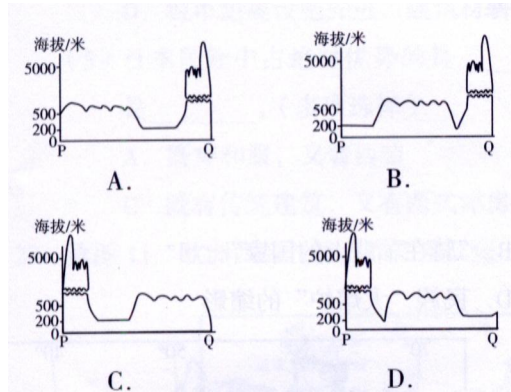
1. 图示地区位于
A. 北美洲 B. 亚洲 C. 大洋洲 D. 非洲
2. 图示地区的地势特征是
A. 中间低，南北高 B. 中间高，东西低
C. 西高东低，呈阶梯状 D. 中部低，四周高
3. 与青藏高原相比，长江中下游平原
A. 纬度低，降水多 B. 地势低，气温高 C. 面积大，耕地少 D. 距海远，河流少
- 喜爱旅游的小明计划暑假期间到东南亚旅游。据此完成 4、5 题。
4. 小明需要携带的出行物品是
A. 雨伞 B. 御寒衣物 C. 防风镜 D. 滑雪服
5. 小明旅游时，能看到的景观是



七年级（地理）第 1 页（共 8 页）

由于喜马拉雅山脉将南亚与亚洲其他地区隔开，南亚形成了一个相对独立的地理单元，被称为南亚次大陆。读图 2 并结合所学知识完成 6~8 题。

6. 下面四幅图中，能够大致表示由 P 至 Q 地表形态变化的是



7. 印度是南亚面积最大的国家，其水旱灾害频繁的主要原因是
A. 地形阻挡水汽输送 B. 西南季风不稳定
C. 东北季风的影响强 D. 原始森林遭破坏

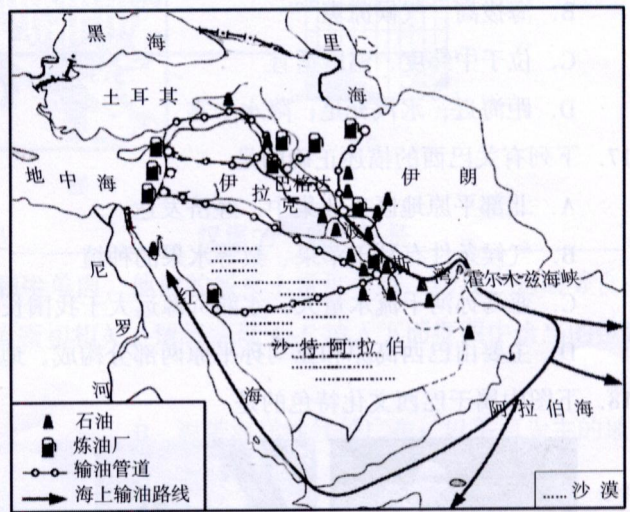
8. 印度
A. 人口数居亚洲第一位 B. 属发达国家，城市环境好
C. 气候凉爽，农业发达 D. 人口仍以较快的速度增长

图 3 为“中东地区示意图”，读图完成 9~12 题。

9. 中东石油资源主要分布在
A. 地中海及其沿岸地区
B. 波斯湾及其沿岸地区
C. 红海及其沿岸地区
D. 里海及其沿岸地区

10. 中东石油输出的主要方式有
①铁路运输 ②公路运输
③海洋运输 ④内河运输
⑤管道运输

A. ①② B. ②④
C. ①⑤ D. ③⑤



11. 沙特阿拉伯降水稀少，非常干燥，从图中可直接找到的证据是
A. 所在半岛三面环海 B. 石油资源丰富
C. 沙漠广布，河流稀少 D. 森林茂密

图 3

12. 目前，沙特阿拉伯为解决水资源不足采取的主要措施有
①海水淡化 ②选择耐旱农作物 ③从南极地区输入冰川 ④发展喷灌、滴灌技术
A. ①②③ B. ①②④ C. ①③④ D. ②③④

2018 年 1 月，我国一个经贸代表团赴澳大利亚悉尼参加订货会。据此完成 13、14 题。

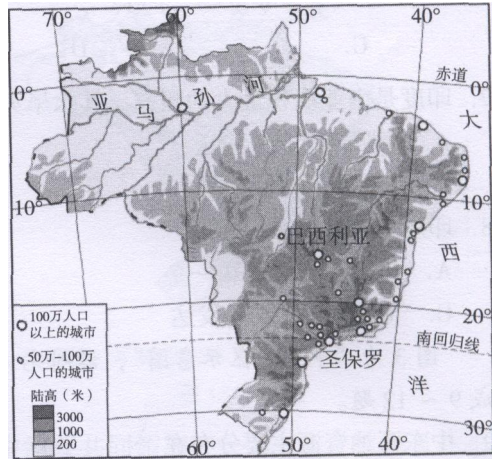
13. 下列代表团在澳大利亚的见闻，你认为可信的是
A. 在商店用英语谈妥价格，买了一件羽绒服御寒

- B. 当地居民主要是头发卷曲的黑人
- C. 超市里有很多从日本进口的羊毛衫和咖啡
- D. 在郊外看到憨态可掬的考拉和袋鼠

14. 下列不属于澳大利亚称号的是
- A. “世界活化石博物馆”
 - B. “骑在羊背上的国家”
 - C. “坐在矿车上的国家”
 - D. 民族“大熔炉”的缩影


读图4“巴西城市分布图”，完成15~18题。

15. 据图推断，巴西人口集中分布在
- A. 北部平原
 - B. 亚马孙河沿岸
 - C. 高原中部
 - D. 东部沿海地区
16. 1960年巴西将首都迁至巴西高原中部的巴西利亚，在此建都是因为
- A. 地势低平，面积广阔
 - B. 海拔高，气候凉爽
 - C. 位于中纬度，温度适宜
 - D. 距海近，水汽充足，降水丰富



17. 下列有关巴西的描述正确的是
- A. 北部平原地区工业集中，经济发达
 - B. 气候条件有利于苹果、梨等水果的种植
 - C. 亚马孙河干流水量大，水能资源远大于我国长江
 - D. 主要由巴西高原和亚马孙平原两部分构成，地势南高北低

18. 下图中属于巴西文化特色的是



- ①棒球
 - ②足球
 - ③赏樱花
 - ④桑巴舞
- A. ①② B. ②③ C. ①④ D. ②④

读图5“美国农业带分布图”及图6“美国某地农业生产景观图”，完成19~21题。

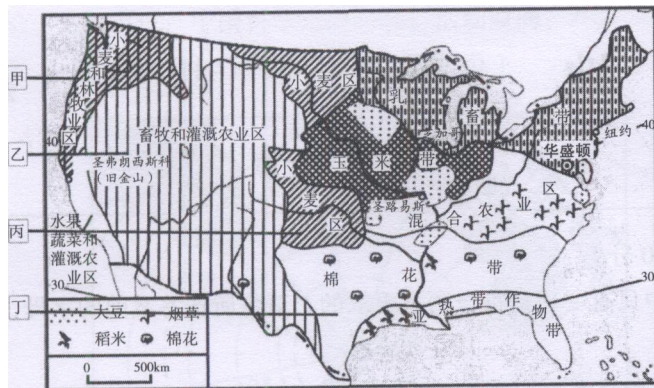


图5



图6

19. 图5、图6中反映出美国农业的生产特征是

①专业化程度高 ②产品自给自足 ③劳动力投入多 ④机械化水平高

A. ①② B. ②③ C. ①④ D. ②④

20. 图6的生产景观最有可能出现在图5中的D. 丁地区

A. 甲地区 B. 乙地区 C. 丙地区

21. 美国发展现代化农业的有利自然条件是

①地形平坦开阔, 平原面积大 ②农产品品质高, 深受市场欢迎

③农业科技水平高 ④土壤肥沃 ⑤气候温和多样

A. ①②③ B. ②③④ C. ①④⑤ D. ③④⑤

图7为俄罗斯矿产资源和工业分布图。读图, 完成22、23题。

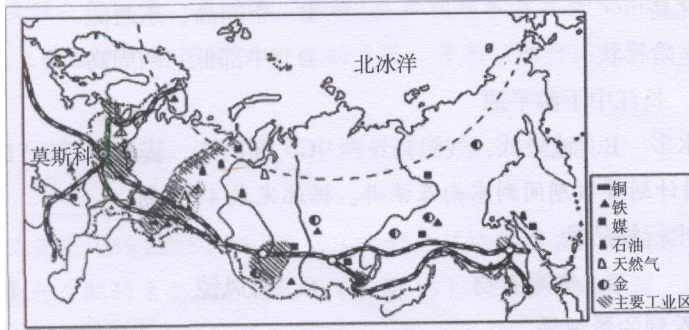


图7

22. 俄罗斯的首都莫斯科是一座历史名城, 也是一座国际化的大都市。它位于

A. 东欧平原 B. 西西伯利亚平原 C. 中西伯利亚高原 D. 西西伯利亚山地

23. 以莫斯科为中心的工业区是俄罗斯工业最发达的地区。俄罗斯亚洲部分的煤、铁、有色金属等矿产资源运往莫斯科工业区主要依靠

A. 管道运输 B. 航空运输 C. 铁路运输 D. 公路运输

图8为“南、北极地区气温比较图”。读图, 完成24、25题。

24. 极地地区突出的自然环境特征是

A. 纬度位置低 B. 气候寒冷
C. 没有动物分布 D. 没有人类活动

25. 与北极地区相比, 南极地区

A. 更加寒冷
B. 更有利于人类居住生活
C. 在最热的月份, 冰雪更容易融化
D. 更适合发展海洋运输

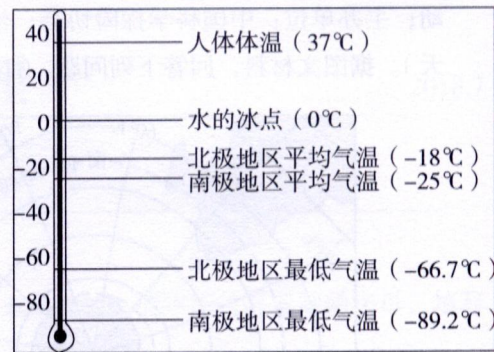


图8

二、综合题 (共50分)

26. 图9为日本山脉、河流分布示意图。阅读图文材料, 回答下列问题。(14分)

日本有一座无人小岛(图10), 2013年因一次剧烈的火山喷发, 自海平面上升了约25米, 一年后面积已接近230万平方米。随着火山持续活动, 该岛屿至今仍在自动“长高、长大”。



图9

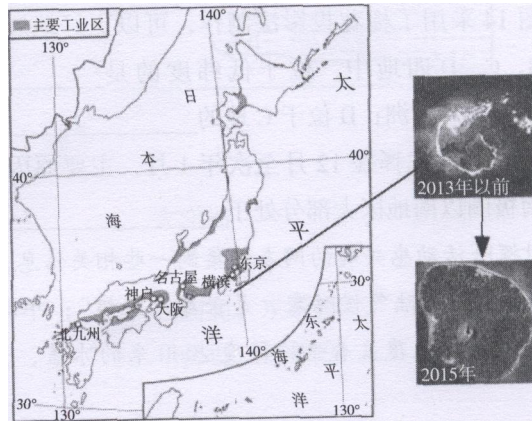


图10

- (1) 日本以____地形为主，日本的太平洋沿岸地区年降水量多达 3000 毫米，而濒临日本海沿岸的地区年降水量较少。影响两地降水差异的主要因素是____。(选择填空)
- A. 纬度位置 B. 冬季风 C. 海陆位置 D. 地形
- (2) 受地形和气候的影响，推断日本河流具有_____ 的特点。(两项选择)
- A. 流速平稳 B. 河流多长河 C. 河流短小 D. 水量大
- (3) 小岛不断“长高、长大”，体现了日本多火山、地震，原因是日本地处__。(选择填空)
- A. 板块交界地带 B. 板块的内部 C. 亚欧大陆东侧 D. 大洋的边缘
- (4) 日本工业区主要分布在____洋沿岸和____海沿岸。每当发生大地震，往往经济损失巨大，而人员伤亡小，主要原因是 ____。(多项选择)
- A. 工业区和大城市集中分布于群岛的内部，一旦受灾损失巨大
B. 原料和产品严重依赖沿岸港口贸易，受灾后连带性损失巨大
C. 国民防灾减灾意识强，防震训练有素，有效保障了人员安全
D. 城市防震设施先进，建筑材料轻薄，大大减少了人员的伤亡
- (5) 日本民族中占绝对优势的是 _____ 民族，下列可以体现日本文化东西方兼容特点的是____。(多项选择)
- A. 既穿和服，又着西装 B. 既善料理，又喜汉堡
C. 既有传统建筑，又有西式洋房 D. 既赏樱花，又品清酒
27. 读图 11 “欧洲西部气候分布图及汉堡、罗马气温曲线降水量柱状图”，回答问题。(12 分)

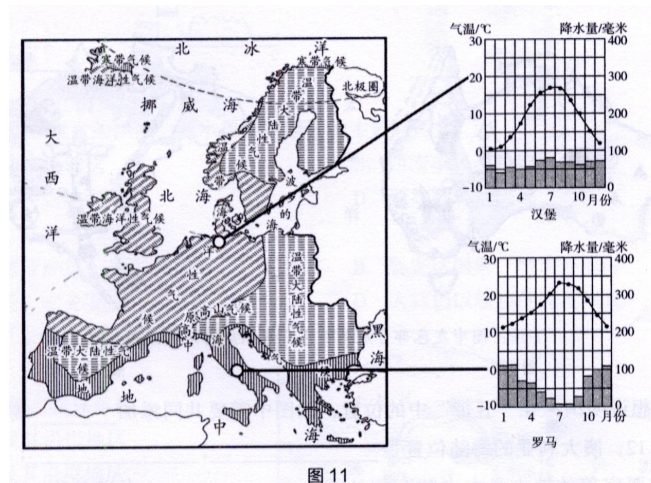
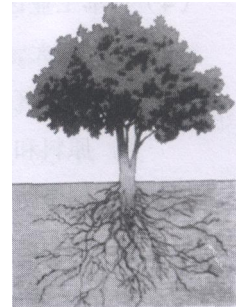
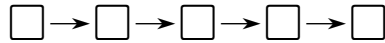


图 11

- (1) 在欧洲西部最典型的气候类型是____，汉堡的气候特征是_____。
- (2) 欧洲人最喜爱的食品是乳制品和牛羊肉，他们的餐桌上常见牛排、奶油、奶酪等食品，这种饮食结构与当地的地理环境密切相关。请将字母 A~E 填入下面框图中恰当的位置，以表示正确的事物间因果关系：
- A. 欧洲人爱吃牛羊肉 B. 温带海洋性气候广布；以平原为主的地形
C. 多汁牧草，草场广布 D. 畜牧业发达
E. 地处中纬度西岸的地理位置



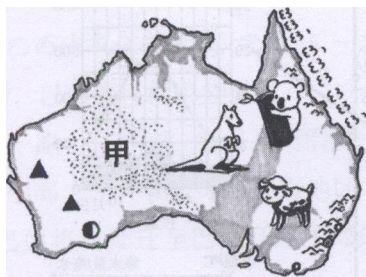
- (3) 罗马所属的气候类型是 ____。该气候类型分布区域盛产油橄榄。油橄榄的根系非常发达（如右图所示），其原因是____（选择填空）

- A. 全年干燥，根系发达可以吸收更多的水分
B. 分干湿两季，根系发达可以在于季吸收更多的水分
C. 夏季高温多雨，冬季温暖湿润，根系发达可以吸收更多的水分
D. 夏季高温少雨，根系发达可以吸收更多的水分

据此推断，橄榄树叶上有一层蜡质层，是为了____（增大 / 减小）蒸发量。

- (4) 欧洲西部是世界上____（发展中 / 发达）国家最为集中的地区。

28. 图 12 和图 13 是某校同学在地理探究学习中绘制的澳大利亚和巴西的“卡通地图”。读图，回答下列问题。（10 分）



印度洋



太平洋

（注：图中灰色部分原为绿色，表示地形。常规图例略）

图 12

图 13

- (1) 如果想说明国家在“五带”中的位置，两图中需要共同添加____线（纬线名称）。读图 12，澳大利亚的海陆位置是_____，_____；与之相比，图 13 需要完善的地方是在大陆东侧补充_____（大洋名称），在大陆西侧补充_____（大洋名称）。
- (2) 从地理位置和地形特征综合分析，澳大利亚和巴西两个国家中，独占一个大陆的国家是_____；以森林和草原为主的国家是_____；沙漠广布的国家是_____。

- (3) 图中的甲、乙两地都是人口分布的稀疏区，请分别叙述其原因：
甲地人口分布稀疏的原因是 _____ ；
乙地人口分布稀疏的原因是_____ 。

29. 某网站刊登一条会员活动信息：“南极圈、南乔治亚岛、福克兰群岛—最完美的南极”探险活动；主办单位：中国科学探险协会；活动时间：2017 年 12 月 21 日- 2018 年 1 月

17日(28天)。据图文材料,回答下列问题。(14分)

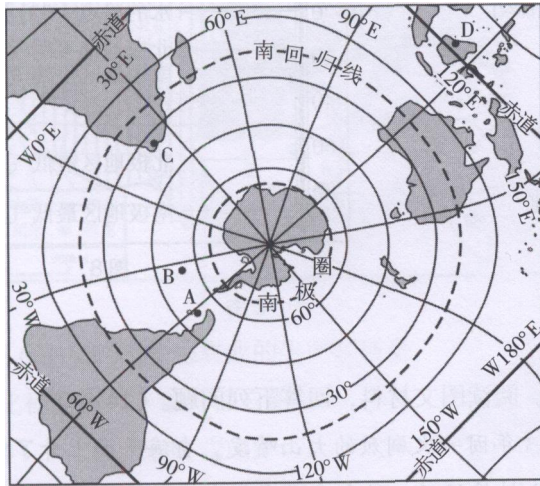


图 14




图 15

(1)图 14 采用了梅花投影法制作,可以更好地展现南极地区与其他大陆的关系。图中 A、B、C、D 四地中,位于低纬度的是____。A 位于 ____ (东/西)半球; C 位于____洲; D 位于 C 地的 _____方向。

(2)探险活动选择在 12 月至次年 1 月,主要原因是此时段南极地区的气温比较_____,南极圈以南地区大部分处于_____ (昼夜状况)。

某位对探险活动感兴趣的网友搜集到一些相关信息,据材料回答第(3)、(4)小题。

材料 1: 南极大陆气候酷寒,是世界“寒极”;年均降水量只有 55mm,是世界淡水储量最小的大陆;南极大陆上覆盖着平均厚度 2000 米的冰盖,素有“冰雪高原”之称,海拔高度仅次于亚洲。

(3)材料 1 中有错误信息。请找到其中两处错误原文: 错误①_____;
错误 ②_____。

材料 2: 南乔治亚岛(55.220 S, 31.880 W)大部分被冰雪覆盖,却被称为“南极野生动物的天堂”,尤其是阿德利企鹅的主要栖息地之一(如图 15)。但过去 30 年间,由于海冰融化,食物减少,阿德利企鹅数量减少了 65%。

(4)据材料 2 分析,南乔治亚岛位于图中 A、B、C、D 四地中的____地。导致南极企鹅数量减少的主要环境问题是_____。

(5)如果你有幸参加这次南极探险旅游活动,你认为旅途中需要携带的物品及应注意的问题有哪些?(请从旅行安全和环境保护两方面考虑,每方面至少答出一条注意事项。)

2017-2018 学年七年级第二学期期末调研 地理试卷参考答案

2018.7

一、单项选择题（每小题 2 分，共 50 分）

| | | | | | | | | | | |
|----|----|----|----|----|----|----|----|----|----|----|
| 题号 | 1 | 2 | 3 | 4 | 5 | 6 | 7 | 8 | 9 | 10 |
| 答案 | B | B | B | A | D | C | B | D | B | D |
| 题号 | 11 | 12 | 13 | 14 | 15 | 16 | 17 | 18 | 19 | 20 |
| 答案 | C | B | D | D | D | B | D | D | C | C |
| 题号 | 21 | 22 | 23 | 24 | 25 | | | | | |
| 答案 | C | A | C | B | A | | | | | |

二、综合题（共 50 分）

26.（14 分）

- (1) 山地； D (2) CD (3) A
(4) 太平洋； 濑户内； BCD (5) 大和 ABC

27.（12 分）

- (1) 温带海洋性气候； 温和多雨，气温和降水的年变化比较小（气温、降水特点各 1 分，总计 2 分，言之成理即可）
(2) E→B→C→D→A；
(3) 地中海气候； D； 减少。
(4) 发达

28.（10 分）

- (1) 南回归线； 东临太平洋； 西临印度洋； 大西洋； 太平洋
(2) 澳大利亚； 巴西； 澳大利亚
(3) 略（合理即可，2 分）

29.（14 分）

- (1) D； 西； 非； 东北
(2) 高； 极昼（或昼长夜短）
(3) 错误①：是世界淡水储量最小的大陆； 错误②：海拔高度仅次于亚洲。
(4) B； 全球变暖
(5) 略（合理即可，4 分）