

北京市海淀区 2017-2018 学年八年级历史上学期期末考试试题

第一部分选择题（共 48 分）

在下列各题的四个选项中，只有一项是符合题意的。本部分共 24 小题，每小题 2 分。

1. 历史当事人留下来的资料是一手史料。若运用一手史料研究林则徐，应选择



A. 林则徐奏折 B. 林则徐雕像 C. 林则徐纪念邮票 D. 连环画《林则徐》

2. 近代历史上割占中国领土最多的国家是

- A. 英国 B. 法国 C. 美国 D. 俄国

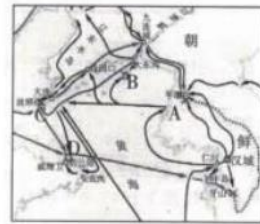
3. 中国近代史上积极践行“师夷长技”的洋务派代表是

- A. 林则徐 B. 曾国藩 C. 谭嗣同 D. 孙中山

4. 在兴办军事工业和近代海军的同时，洋务派逐渐认识到“必先求富而后能强”，运输困难也是急需解决的问题。为此，洋务派兴办了

- A. 安庆内军械所 B. 江南制造总局 C. 轮船招商局 D. 继昌隆缫丝厂

5. 右为中日甲午战争形势示意图。导致北洋舰队全军覆没的战役发生于图中的



6. 1894 年退休的日本文部大臣井上毅致信内阁首相伊藤博文，“占有台湾，

可能扼黄海、朝鲜、日本海之航权，而开辟东洋之门户焉……台湾而为战获物，以此结局，天下后世必不以此役为不廉之捷矣。”日本“占有台湾”发生于

- A. 鸦片战争期间 B. 第二次鸦片战争期间 C. 甲午战争后 D. 维新变法后

7. 图片资料包含着丰富的历史信息。下列图片能够揭示第二次鸦片战争罪行的是



- A. 虎门销烟浮雕 B. 金田起义浮雕 C. 被焚毁的圆明园 D. 旅顺大屠杀

8. 干支纪年是古代的纪年方法，在近代仍用于纪年记事，如 1898 年戊戌变法。按照此纪年法，戊

戊之后纪年当为“己亥（1899年）、庚子、辛丑、壬寅”。清李希圣所著《庚子国变记》记叙庚子年发生的大事。《庚子国变记》记载的是

- A. 鸦片战争 B. 第二次鸦片战争  
C. 甲午战争 D. 八国联军侵华战争

9. 晚清时期，列强逼迫中国政府签订了许多不平等条约。下列条约与其具体内容对应准确的是 A. 《天津条约》一割香港岛给英国

- B. 《北京条约》一允许列强在通商口岸开设工厂  
C. 《马关条约》一赔偿白银本息 9.8 亿两给俄英等 11 国  
D. 《辛丑条约》一允许外国驻兵北京到山海关铁路沿线

10. 右图为中国同盟会会员证。中国同盟会会员所信奉的政治主张是



- A. 自强、求富  
B. 变法维新  
C. 三民主义  
D. 民主、科学

11. “它结束了长达两千余年的王朝时代，中国不再隶属于任何天子或任何王朝，而归属于全体民众。”引文中的“它”指

- A. 戊戌变法 B. 辛亥革命 C. 五四运动 D. 国民革命

12. 某同学以“实业救国”“大生集团”“清末状元”为关键词进行检索，他要研究的问题是 A. 张謇与民族工业 B. 荣德生与纺织业

- C. 侯德榜与永利化工 D. 范旭东与近代化工

13. 1912年3月2日，中华民国成立不久，国民政府就废除了“大人”“老爷”等清官场的称呼，规定政府职员一律改称职务，而民间普遍改称呼为“先生”或“君”。这说明

- A. 当时社会等级森严不可逾越 B. 国民政府提倡人人平等互相尊重  
C. 服饰革新改变了社会的风气 D. 传统婚姻礼仪繁琐需要简化革新


14. 某同学为研究新文化运动寻找到相关人物老照片，其中胡适可以填写



- A. “文学革命”的倡导者 B. 社会主义理论的宣传者  
C. 君主立宪政体的鼓吹者 D. 专制主义思想的支持者
15. 1919 年左右，“许多中国知识分子对西方国家失去了信任，并且发觉很难将西方同时看成为导师和压迫者”。此时，先进的知识分子开始转向
- A. 救亡图存，宣传维新变法 B. 推崇民主，批判传统文化  
C. 以俄为师，宣传马克思主义 D. 武装暴动，开辟农村革命根据地
16. 孙中山晚年致力于谋求国共合作，开展国民革命。能够印证此观点的史实是
- A. 创建兴中会 B. 成立中国同盟会 C. 发起护国战争 D. 召开国民党一大

17. 历史歌曲能够反映时代发展的潮流。右图所示歌曲出现于

- A. 五四运动时期 B. 北伐战争时期 C. 红军长征时期 D. 解放战争时期



18. 1931 年 9 月 20 日，中国共产党联合日本共产党发表《中国、日本共产党为日本强占东三省宣言》，中国共产党率先举起武装抗日的旗帜。此宣言发表的背景是

- A. 九一八事变 B. 一二·九运动 C. 西安事变 D. 卢沟桥事变

19. 他认为音乐与其他艺术一样，是在替大众呐喊，他谱写了《毕业歌》《卖报歌》《铁路下的歌女》等反映社会大众苦难生活的歌曲，他谱写的《义勇军进行曲》后来成为中华人民共和国国歌。他是

- A. 聂耳 B. 冼星海 C. 徐悲鸿 D. 茅盾

20. 史论结合是历史学习的基本方法。下表选项中史实与推论对应正确的是

选项	史实	推论
A	井冈山革命根据地的创立	确立了以毛泽东为核心的党中央的正确领导
B	中共中央在遵义召开政治局扩大会议	标志着中国共产党政治上走向成熟
C	红军一、二、四方面军在甘肃会宁会师	意味着国共两党第二次合作初步形成
D	北平学生开展一二·九运动	标志着中国人民抗日战争的起点

21. 2017 年 12 月 13 日为中国近代史上某重大事件 80 周年纪念日。这一天，一则微信漫画刷爆朋友圈（见右图）。大家纷纷转发是为了勿忘



A. 九一八事变 B. 西安事变 C. 卢沟桥事变 D. 南京大屠杀

22. 下列四幅图反映的是人民解放战争时期的重大事件其中能够成为解放战争由战略防御到战略进攻转折点的是



23. 右图是某同学的笔记该笔记归纳的是解放战争

政治	团结一切可以团结的力
经济	解放区土改
军事	战略正确，英勇作战
民心	争取民主，人心所向

- A. 爆发的时代背景
- B. 取得胜利原因
- C. 主要历史进程
- D. 取得胜利影响

24. 根据下表的具体内容，表格中划线处应填写

- A. 教育近代化五程 B. 新闻出版业 C. 社会习俗的演变 D. 海外留学教育

主题：晚清时期的			
1. 洋务运动中新式学堂与海外留学	2. 戊戌变法时期京师	3. 清末新政时期政府颁布《奏定学	4. 清末新政时期政府正式宣布废除

第二部分非选择题（共 52 分）

本部分共三道大题，请考生务必将答案写在答题卡相应位置，在试卷上答题无效。

一、南京是一座历史文化名城，某班学生开展了“南京近代历史寻踪”的考察活动，请你参与活动并回答问题。（本题 21分）



【静海寺访古】

考察时间：2017 年 10 月 15 日

考察对象：南京静海寺纪念馆

考察内容：静海寺里的近代史

南京静海寺纪念馆

考察地址：南京市鼓楼区狮子山西南角

考察记录：1842 年 8 月 10 日，英国全权公使亨利·璞鼎查和海军司令巴加率 70 余艘舰船，侵入我南京下关仪凤门外的草鞋峡一带。8 月 12 日，中英双方代表选定静海寺为谈判地点，双方共在寺内谈判三日，议约四次。8 月 29 日，依据前面的谈判内容，者英、牛鉴等登上停在下关江面的英军“康华丽”号军舰，在《南京条约》上签字。



1、依据考察记录，可以了解哪些历史信息（多选，只填写序号即可。错选、全选均不得分。）（4分）

A 甲《南京条约》的谈判地点 B. 《南京条约》的签订时间 C. 《南京条约》的影响 D. 《南京条约》的内容 E. 《南京条约》谈判经过 F. 《南京条约》谈判代表

【太平天国博物馆考察】

考察时间：2017年10月16日

考察对象：太平天国历史陈列博物馆

考察内容：中国近代农民起义

考察地址：南京秦淮区瞻园路



太平天国历史陈列

考察记录：太平天国历史博物馆是全国收藏太平天国文物最多、史料最丰富的文博单位。博物馆所在地瞻园，曾为太平天国时期曾为东王府。该馆馆藏文物 1657 件，包括太平天国颁行的原刻本官书及天王洪秀全批准颁行官书的“旨准”木印等传世珍品；重要复制文物有天王和幼天王玉玺以及巨幅太平天国“望楼”壁画等 427 件；清方原始档案、函札资料 2000 余卷宗。太平天国历史陈列是该馆基本陈列，分序幕、历史背景、金田起义、建都天京、制度政策、坚持斗争、抗击侵略、保卫天京和前仆后继 9 个部分，介绍太平天国历史的全过程。

2. 依据考察记录及所学知识，对以下表述做出判断：表述正确的在括号内划“甲，’；表述错误的在括号内划“x”。（5分）

- ①该馆是收藏太平天国文物和史料最多的博物馆。（）
- ②该馆所在地瞻园是天京变乱发生地之一：（）
- ③该馆文物及陈列都是原始文物。（）
- ④该馆收藏的清方原始档案、函札为了解太平天国提供了另一视角。（）
- ⑤该馆详细介绍了太平天国的兴衰历程。（）

【金陵机器制造局寻踪】

考察时间：2016年10月16日

考察片象：金陵机器制造局旧址

考察内容：中国近代经济

考察地址：南京中华门外政学路1号

考察记录：1865年李鸿章由江苏巡抚升任代理两江总督，将在苏州创办的洋炮局迁至南京，成立金陵及其制造局。《续纂江宁府志》记载，



金陵机器制造局旧址

金陵机器制造局的房屋都仿照外国式样建造，机器也从国外采购，初创时设机器厂、翻砂厂、熟铁厂和木作厂，制造开花炸弹、洋枪、抬枪、铜帽等军用产品，解决淮军的武器使用，制造局还雇了洋匠做师傅来督造。金陵机器制造局初创不久，设备工艺就十分先进。

3. 依据材料并结合所学，分析金陵机器制造局生产特点。(8分)

4. 参观南京总统府时，同学们对孙中山和蒋介石的办公室陈设很感兴趣。请你运用历史知识，帮助他们完成历史遗迹和文物介绍(4分)

孙中山办公室内景	蒋介石办公室的台历及印章
	
简介 1: 1911年____起义胜利后，独立各省代表齐聚南京，公推孙中山为临时大总统。1912年1月至3月，孙中山在此办公。它见证了____的成立。	简介 2: 日历显示日期为1949年4月23日。1949年4月21日，人民解放军发起____战役，百万雄师过大江，23日攻占南京总统府。这标志着国民党政权的____。

二、节日蕴含着丰富的文化。阅读材料，回答问题(本题14分)

材料一 今天是五四运动的二十周年纪念日的……“五四”至今以后二十年，今年才在全国定为青年节……五四运动所反对的是卖国政府，是勾结帝国主义出卖民族利益的政府，是压迫人民的政府……五四运动正是做了反对卖国政府的工作，所以它是革命的运动。全中国的青年，应该这样去认识五四运动。

——毛泽东《青年运动的方向》

1、依据材料判断，五四青年节设置于哪一年?(2分)结合具体事实说明五四运动是怎样反对卖国政府的?(3分)五四青年有哪些精神值得我们学习?(3分)

材料二 7月1日是中国共产党建党纪念日。一大的真正召开时间确实1921年7月23日。认定中共一大召开的时间为7月23日这一史实是改革开放以后的事情。当时，历史研究人员通过一大代表及家属的回忆录初步确定会议召开时间为7月下旬，又从共产国际在苏联关于一大的档案中查阅一大代表陈潭秋回忆及共产国际代表的报告都明确记载一大会议召开时间是7月23日。研究人员发现在上海开会的最后一天，一大代表陈公博下榻的旅馆曾发生命案，经查阅《申报》等报纸认定此命案发生时间为7月31日凌晨，而且当事人一直确认会议在上海开了八天后转移到嘉兴南湖游船上。综合以上信息，研究人员最后认定会议日期为1921年7月23日。

——摘编自徐燕《党的生日是如何查证的》

2、依据材料分析，历史研究人员是借助哪些途径认定党的生日的?(4分)党的诞生有什么历史意义?(2分)

三、抗日战争是中国近代史的重大历史事件。(本题 17 分)

材料一 某班同学搜集抗日战争的历史资料,请同学们和他们一起研究,回答问题。

序号	历史资料
①	1931 年,东北军爱国将领及东北人民组织义勇军、自卫军和救国军等,奋起抵抗日军侵略。
②	1936 年 12 月,蒋介石接受中共提出和平解决西安事变的方针
③	1937 年 8 月,中共接受南京国民政府军事委员会发布改编命令,将所辖西北红军改编为八路军,将南方八省的红军游击队改编为新四军。
④	1938 年 4 月,国民政府军队在李宗仁指挥下取得台儿庄战役胜利
⑤	1939 年 7 月,德国内科专家汉斯米勒来华,任延安和平医院门诊部主任,后任八路军卫生部流动手术队队长兼 129 师医务顾问。
⑥	1939 年 11 月,八路军在河北涞源黄土岭战斗中击毙日军中将。
⑦	1940 年 5 月至 6 月,国民党第 33 集团军总司令张自忠将军率部在湖北枣阳、宜昌抗击武汉日军的进攻,壮烈殉国。
⑧	1943 年 9 月至 12 月,八路军晋察冀军区部队粉碎了日伪军队晋察冀抗日根据地的扫荡,战绩辉煌
⑨	1942 年至 1945 年,从印度等地飞跃珠穆朗玛峰、川藏地区的驼峰航线开通,国际上大量物资通过驼峰航线运往中国。因天气恶劣、地形复杂,许多中、美飞行员牺牲于驼峰航线飞行中。

1、阅读材料一,任选下表中四个主题中的两个主题,将能够体现该主题历史资料的序号填写到表格中相应位置。(4 分)运用所学知识,为“B. 抗日战争与正面战场”和“C. 抗日战争与敌后抗战”这两个主题分别补充一件具体事例。(2 分)

主题	体现该主题的历史资料的序号
A、抗日战争与国共合作	

B、抗日战争与正面战场	
C、抗日战争与敌后抗战	
D、抗日战争与国际援助	

主题 B 补充的具体事例：\_\_\_\_\_

主题 C 补充的具体事例：\_\_\_\_\_

材料二 菲律宾华侨青年王维真，1938 年回国，1939 年 6 月到延安。

下位王唯真的父亲写给他信，原文如下：

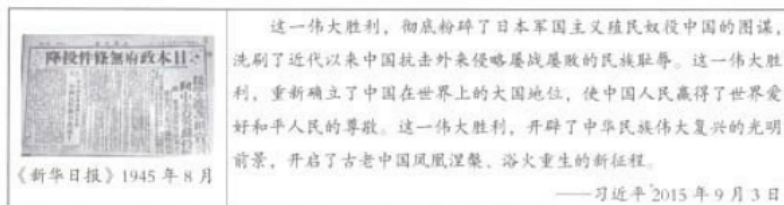


这是个大时代，你要踏上民族解放战争的最前线，我当然要助你完成志愿，绝不能因吾舐犊之爱而淹没了我们的民族意识。别了，真儿！但愿你虚心学习，勿忘我平时所教训你的：“有恒七分，达观三分”，锻炼你的体魄，充实你的学问，造就一个强健而有智慧的现代青年，来为新中国而努力奋斗！

中华民国二十八年六月四日写于香港旅次 王增宁

2、家属中提到的“民族解放战争”是哪场战争？（1分）结合时代背景谈谈这封家书表达了怎样的思想情感？（4分）

材料三



3、材料三中的历史图片反映了哪一历史事件？（2分）依据材料结合所学谈谈“这一伟大胜利”的历史意义。（4分）