

2022 北京石景山初二（上）期末

历史



第一部分 选择题（共 30 分）

本大题共 20 道小题，每小题 1.5 分，共计 30 分。每题只有一个正确选项。

1. 观察下图，与 18 世纪相比，19 世纪英国与清朝贸易关系出现的变化是



- A. 白银大量流入印度
- B. 英国向中国大量走私鸦片
- C. 白银大量流入中国
- D. 英国向印度大量走私鸦片

2. 1839 年 6 月 23 日， 下令将缴获的 200 多万斤鸦片在虎门海滩当中销毁。 应填写

- A. 林则徐
- B. 关天培
- C. 陈化成
- D. 邓世昌

3. 右侧目录内容反映的历史事件是

- A. 鸦片战争
- B. 太平天国运动
- C. 义和团运动
- D. 一二·九运动

第五章 天国的悲喜剧

一、拜上帝会

二、洪秀全的思想

4. 从 19 世纪 70 年代起，洋务派提出“求富”的主张，下列选项符合这一主张的是

- A. 创办军事工业
- B. 筹建新式海军
- C. 创办民用工业
- D. 收复新疆地区

5. 某同学搜集了以下研究材料，据此

可以判断他的研究主题是

- A. 列强瓜分中国的狂潮
- B. 民族资本主义的发展
- C. 近代社会生活的变化
- D. 中华民族的空前觉醒

英国强租威海卫

法国强租广州湾

沙俄强租旅顺和大连

美国提出“门户开放”政策

6. 甲午中日战争的失败，使先进的中国人认识到，单凭引进外国器物已不足以挽救民族危亡，于是他们开始尝试制度的变革。材料中的“变革”指的是

- A. 洋务运动
- B. 戊戌变法
- C. 辛亥革命
- D. 新文化运动

7. 以下示意图从某个角度反映了中国近代民族危机的不断加深，其中①应为



- A. 割香港岛给英国
- B. 允许日本在通商口岸开设工厂
- C. 划东交民巷为使馆界
- D. 向各国赔偿白银4.5亿两

8. 《自作孽不可活》是民国四年的一幅漫画，其反映的历史事件是

- A. 宋教仁遇刺
- B. 二次革命
- C. 袁世凯复辟帝制
- D. 国民党右派叛变革命



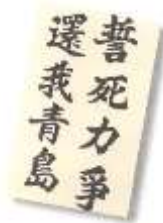
9. 下面的资料为新潮社社团杂志的征稿要求，其反映的历史现象会出现在

- A. 洋务运动时期
- B. 戊戌变法时期
- C. 辛亥革命时期
- D. 新文化运动时期

须与本志有精神之同情
其古典主义之骈文与散文概不登载
句读须用西文式
小说、诗、剧等艺术品尤为欢迎
但均以白话新体为限

10. 右侧资料反映的历史事件是

- A. 五四运动
- B. 秋收起义
- C. 井冈山会师
- D. 会宁会师



11. 1921年7月23日，是中国历史上具有深远影响的一天。这一天，无产阶级的先锋队中国共产党诞生了，中国革命的面貌焕然一新。上述材料描述的历史事件是

- A. 中共一大的召开
- B. 中共二大的召开
- C. 中共三大的召开
- D. 中共七大的召开

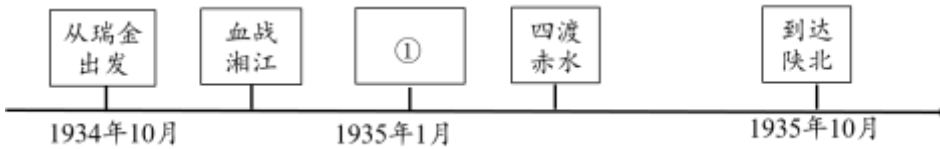
12. 某同学搜集到一则材料：“1926年8月27日，叶挺独立团翻越高山，抄小路绕到吴佩孚守军的背后，迅速突破阵地，与其他部队一起攻克了汀泗桥。随后，独立团攻克咸宁，并于8月30日攻克贺胜桥。”据此推断他的学习内容是

- A. 北伐的胜利进军
- B. 南京国民政府的成立
- C. 张学良东北易帜
- D. 工农红军的英勇作战

13. “工农武装割据”是毛泽东提出的关于中国革命新道路理论的一个科学概念。这一理论的最早实践是

- A. 南昌起义
- B. 井冈山农村革命根据地的创建
- C. 古田会议
- D. 中华苏维埃临时中央政府的成立

14. 以下是一位同学绘制的中央红军长征时间轴，其中①处应填



- A. 遵义会议 B. 巧渡金沙江
C. 飞夺泸定桥 D. 突破腊子口

15. 右侧报纸内容反映的历史事件

- A. 粉碎了国民党消灭红军的企图
B. 揭露了日本企图吞并华北的阴谋
C. 标志着抗日民族统一战线初步形成
D. 粉碎了日军“不可战胜”的神话



16. 毛泽东在 1945 年 10 月 17 日的一次谈话中说：“这一次我们去的好，击破了国民党说共产党不要和平，不要团结的谣言。我们去了，可是他们毫无准备，一切提案都要我们提出。”毛泽东谈论的历史事件是

- A. 国民党一大的召开 B. 国共合作宣言的发表
C. 重庆谈判的举行 D. 政治协商会议的召开

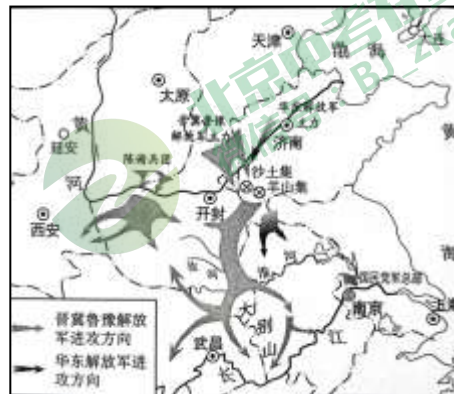
17. 关于从 1947 年开始的解放区土地改革，下列选项表述正确的是

- ①实行减租减息的土地政策 ②实行耕者有其田的土地政策
③颁布《中国土地法大纲》 ④激发了农民革命和生产的积极性

- A. ①②③ B. ①②④ C. ①③④ D. ②③④

18. 历史地图是学习历史的重要资料。右图反映的历史事件

- A. 粉碎了国民党对山东的重点进攻
B. 揭开了人民解放军战略进攻的序幕
C. 基本消灭了国民党军的主力
D. 结束了国民党在大陆的统治



19. 右图是某同学整理的知识卡片，据此判断，该同学研究的历史人物是

- A. 张謇
B. 荣宗敬
C. 卢作孚
D. 侯德榜

- 清末状元
- 主张实业救国
- 创办大生纱厂
- 兴办文化和公益事业



北京中考在线
微信号：BJ_zkao

20. 下表反映了中国近代工厂的变化，促使其变化的原因是

	工厂数	资本（千元）	工人数
1913年前中国近代工厂	698	330824	270717
1921年前中国近代工厂	1871	500620	557662

- A. 甲午中日战争后民族危机的不断加剧 B. 北洋军阀的割据混战
C. 列强忙于一战，放松对中国的经济侵略 D. 国民党官僚资本的扩张



第二部分 材料解析题（共 40 分）

21. (11 分) 不平等条约的签订与废除见证了近代中国的沉沦与崛起。

材料一

 <p>图一</p> <p>1842年8月,在英国军舰“皋华丽”号上,清政府被迫同英国签约画押</p>	 <p>图二</p> <p>1901年9月,清政府被迫同英美等11国签订了不平等条约</p>
--	--

(1) 结合所学，指出材料一中两个条约的名称。(2分) 并分别说出其影响。(2分)

材料二

义和团运动期间，一位团民私自替清政府拟了一份对外“合约”。部分内容如下：

- 一、各国前所索赔款，一概作废。
- 三、各国兵船已在中国口者，不准驶出。
- 八、日本将台湾交还中国。
- 十、俄罗斯将大连湾交还中国。
- 十三、中国海关仍归华人办理。

(2) 结合所学，写出与材料二“合约”中第八项相关的条约名称。(1分) 指出义和团团民希望清政府通过这份“合约”能收回的主权。(2分)

材料三

中国共产党反帝废约斗争历程

历史阶段	斗争情况	特点
建党初期	中共三大提出：“取消帝国主义的列强与中国所订一切不平等条约。”	把废约纳入党的革命纲领
国共合作时期	中共联合国民党结成统一战线，推动国民党采取废约反帝方针，进行反帝反封建的国民革命，在实际斗争中，中共充分利用各种时机发	②

	动群众，掀起一次又一次的反帝废约浪潮，推动国民政府成功收回了汉口、九江英租界	
①	大革命失败后，中共在遭受“围剿”的艰难处境中，一方面在国统区发动群众进行反帝废约斗争，另一方面在苏区彻底清除条约特权和帝国主义的势力	困境中仍在坚持废约反帝斗争
抗日战争时期	为争取其他国家对抗日救国的支援，党的废约方针由原来废除所有不平等条约改为废除中日间的条约，抗战时期废约的基本实现，中共起了不可磨灭的作用	③
抗战胜利后	独立领导反对各种形式的不平等条约斗争，彻底清扫了残留的条约特权	独立领导废约斗争



——摘编自李育民《中国共产党反帝废约斗争的历史考察》

(3) 补全表格中的空白处。(3分)

(4) 回望不平等条约签订与废除的历程，谈谈你的感受。(1分)

22. (10分) 辛亥革命实现了近代中国的第一次历史性巨变。

材料一

忆吾幼年，从学村塾……又数年即回祖国，就学于广州之博济医院……以医亦救人苦难术。然继思医术救人，所济有限，其他慈善亦然。若夫最大权力者，无如政治。政治之势力，可为大善，亦能为大恶，吾国人民之艰苦，皆不良之政治为之。若欲救国救人，非除去此恶劣政府不可，而革命思潮遂时时涌现心中。

——孙中山《在广州岭南学堂的演说》

(1) 依据材料一，指出孙中山救国思想的变化。(1分) 结合所学，分析其变化的时代背景。(1分)

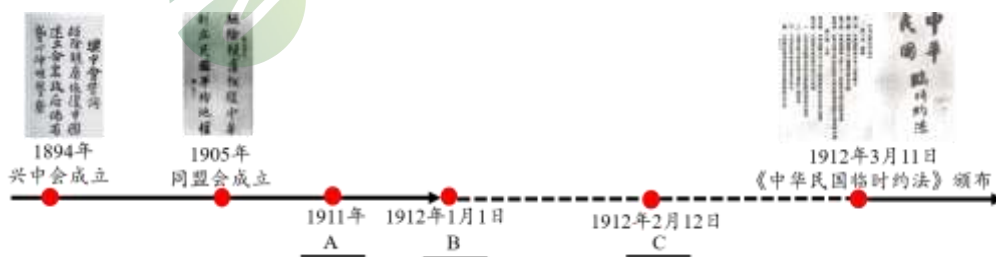
材料二

我们革命的目的是为众生谋幸福，因不愿少数满洲人专制，故要民族革命；不愿君主一人专制，故要政治革命；不愿少数富人专制，故要社会革命。这三样有一样做不到，也不是我们的本意。达到了这三样目的之后，我们中国当成为至完美的国家。

——孙中山在东京《民报》创刊周年纪念会上的演说

(2) 依据材料二，概括孙中山对“至完美的国家”的构想。(3分)

材料三 辛亥革命大事示意图(部分)



(3) 把以下事件补充在材料三的空缺处。(3分。填序号)



①清宣统帝下诏退位

②湖北军政府成立

③中华民国临时大总统就职

材料四

孙中山先生和辛亥革命先驱为中华民族建立的历史功绩彪炳千秋！

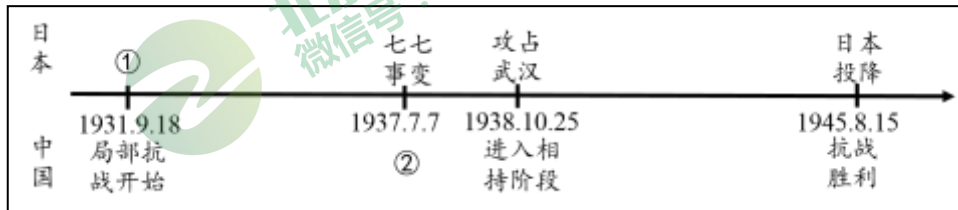
辛亥革命永远是中华民族伟大复兴征程一座巍然屹立的里程碑！

——习近平《纪念辛亥革命 110 周年上的讲话》

(4) 依据上述材料和所学，谈谈你对材料四的理解。(2分)

23. (9分) 抗日战争是一场伟大的民族解放战争。

材料一



(1) 结合所学，补全材料一中的示意图。(2分)

材料二

	<p>左侧漫画为发表于 1937 年 11 月 5 日的《救亡漫画》，画面上一个穿着和服的日本武士仰面朝天躺在地上，一把标着“全面抗战”的大刀插入他的胸口</p>
--	---

(2) 依据材料二，指出这幅漫画的寓意。(2分)

材料三

共产党所领导的军队和根据地，拖住了侵华日军的一半以上。设想，没有敌后战场，没有共产党领导的根据地，侵华日军全部压在国民党政府军队上，国民党政府能够坚持两年以上吗？……正面战场虽然败仗居多，牺牲惨重，但毕竟阻滞了日军迅速灭亡中国的图谋……反过来也一样，只有敌后战场，没有正面战场，中国的抗战局面会更艰苦，付出的牺牲会更大。抗战坚持到胜利的把握也是不大的。

——张海鹏《正确看待抗战两个领导中心，中共是中流砥柱》

(3) 依据材料三，指出敌后战场和正面战场在抗日战争中的作用和关系。(3分)



材料四

- ◇在世界反法西斯战争中持续作战时间：美国 3 年 9 个月；苏联 4 年 2 个月；英国 6 年，中国 14 年
- ◇世界反法西斯战争军民总共伤亡 9000 余万人，其中美国伤亡 100 余万人；英国伤亡 120 余万人；苏联牺牲 2700 余万人；中国伤亡 3500 余万人
- ◇世界反法西斯战争战区总面积 2200 万平方千米，中国占 600 余万平方千米
- ◇世界反法西斯战争参战总人口约 20 亿，其中中国占 4.5 亿
- ◇1941 年秋，日、德、意三国法西斯军队共 1110 万人，中国牵制日军 240 万人

(4) 依据材料四，说明中国抗战为世界反法西斯战争作出的贡献。(2 分)

24. (10 分) 北京的历史遗迹承载着中国近代历史的记忆。

材料一

历史遗址		
遗址说明	圆明园遗址	宛平城的弹坑遗址 1937 年 7 月，日军发动卢沟桥事变，炮轰宛平城。此处为日军攻打宛平城留下的弹坑

(1) 补全材料一的遗址说明。(2 分)



材料二

			
京师同文馆旧址	丰泰照相馆遗址	京报馆旧址	中国铁道博物馆正阳门馆
1862 年正式成立，课程初设英、法、俄文，后增添算学、天文等。1902 年并入京师大学堂	1905 年，北京丰泰照相馆把谭鑫培主演的《定军山》若干片段拍摄成电影，这是中国第一部无声电影	1918 年，邵飘萍创办《京报》，这是民国时期著名的进步报纸，与上海的《申报》齐名	中国铁道博物馆正阳门馆是由“京奉铁路正阳门东车站”改建而成。该车站 1906 年建成，由英国人修建，建筑为欧式风格

(2) 依据材料二，概括中国近代社会的变化。(3 分) 结合所学，分析出现这些变化的主要原因。(1 分)

材料三 北京红色地标(部分)

- ①五里桥谈判纪念碑：1949 年 1 月 15 日—16 日，中共代表与国民党傅作义的代表在五里桥进行了谈判，最终达成北平和平解放初步协议。
- ②北大红楼：马克思主义学说研究会、北京共产主义小组在这里诞生。

③长辛店二七纪念馆：1923年2月4日，长辛店3000多名工人参加京汉铁路工人大罢工，长达1200公里的京汉铁路完全陷入瘫痪。2月7日，罢工遭到了帝国主义和北洋军阀的血腥镇压，在“二七惨案”中，长辛店牺牲了8位工人。

④香山双清别墅：1949年4月21日，毛泽东和朱德在这里联合发布向全国进军的命令，吹响了“打过长江去，解放全中国”的伟大号角。

(3) 将材料三中的红色地标与下面的主题分别对应。(3分。写序号，多选、错选不得分)

马克思主义在中国传播：_____

工人运动蓬勃发展：_____

人民解放战争走向胜利：_____

(4) 依据上述材料和所学，概括中国近代历史发展的主题。(1分)

