

2017 北京市 101 中学初二（下）期中 历史



一、选择题

1、电影《建国大业》中有一个情节，建国前夕，毛泽东、周恩来联名写信给留居上海的宋庆龄：“中山先生遗志迄今始告实现。至祈先生命驾北来，参加此一人民历史伟大的事业，并对于如何建设新中国给予指导。”此信邀请宋庆龄参加的会议应该是（ ）

- A、第一届中国人民政治协商会议
- B、万隆会议
- C、第一届全国人民代表大会
- D、中国共产党第七次全国代表大会

2、下图反映了中国近代史上两次历史性的巨变，对两次巨变共同点的认识正确的是（ ）



大总统誓词



新中国成立

- A、推翻了两千多年的封建制度
- B、结束了封建君主专制政体
- C、成为中国民主政治发展的新起点
- D、改写了半殖民地半封建的历史

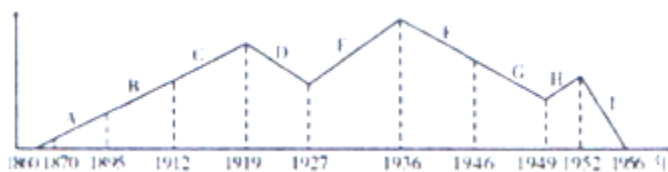
3、彭德怀曾说：西方侵略者几百年只要在东方一个海岸上架起几尊大炮就可以霸占一个国家的时代是一去不复返了。有力证明这一观点的历史事件是（ ）

- A、抗日战争的胜利
- B、解放战争的胜利
- C、抗美援朝战争的胜利
- D、新民主主义革命的胜利

4、“中国和印度曾经达成一项协议。在这一协议中，它们规定了指导两国关系的某些原则……”这个由周总理首先提出的“某些原则”是指（ ）

- A、一边倒
- B、和平共处五项原则
- C、不结盟原则
- D、“求同存异”方针

5、下图为反映中国民族资本主义发展进程的数据表。I 阶段发展趋势表明了（ ）



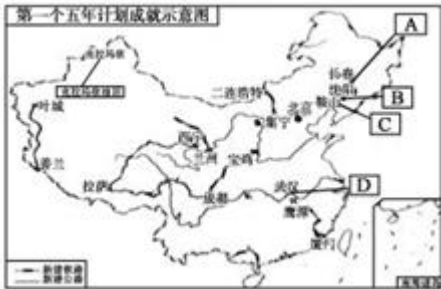
- A、辛亥革命促进民族工业发展
- B、民族工业主要集中在轻工业部门发展
- C、一战期间民族工业进入“黄金时代”

D、对资本主义工商业的社会主义改造基本完成

6、中国“一五”计划国家财政预算支出中，工业建设占58.2%，交通、邮政和通讯占19.2%，农业、林业和水利占7.6%，文化、教育和卫生事业占7.2%。以此推知，“一五”计划的核心目标是（ ）

- A、建立计划经济体制
- B、发展经济改善民生
- C、建立工业化的基础
- D、平衡发展国民经济

7、据图，指出下列选项中，图中字母所对应成就正确的是（ ）



- A、长春第一机床厂
- B、沈阳汽车制造厂
- C、鞍山大型油田
- D、武汉长江大桥

8、1964年的某一天，《人民日报》以“看西北荒漠，万里人罕见。蘑菇云突起，举世皆惊！”为题报道了一则新闻。该新闻报道的内容是（ ）

- A、“嫦娥一号”发射成功
- B、“神舟一号”发射成功
- C、第一颗原子弹爆炸成功
- D、中近程导弹飞行试验成功

9、与下列漫画所反映的历史事件相符的是（ ）



- A、大生产运动
- B、对农业的社会主义改造
- C、“大跃进”运动
- D、人民公社化运动

10、小敏同学准备作一个题为《我眼中的“文化大革命”》的发言，结合所学习历史知识以下内容不适合出现在发言提纲中的是（ ）

- A、民主法制遭受践踏
- B、国民经济破坏严重
- C、文化教育历经浩劫
- D、外交事业停滞不前

11、前国家主席刘少奇在遭到红卫兵强行批斗时抗议道：“我个人也是一个公民，为什么不让我讲话？宪法保障每一个公民的人身权利不受侵犯，破坏宪法的人是要受到法律严厉制裁的。”这样的事发生在（ ）

- A、新中国成立初期
- B、文化大革命时期
- C、第一个五年计划时期
- D、三大改造时期

12、从人民海军和空军的建立、“两弹一星”的成功研制、战略导弹部队的组建等内容中，提炼出一个学习主题，其名称应是（ ）

- A、中国的工业化历程
- B、近代的科学技术和文化
- C、新中国的国防建设
- D、现代的社会生活

13、下列选项中，前后联系正确的一组是（ ）

- A、西藏和平解放——祖国大陆获得了统一
- B、抗美援朝——中国第一次取得反抗外国侵略的胜利
- C、1972年《中美联合公报》签署——中美正式建立外交关系
- D、新中国成立——确立社会主义制度

14、20世纪70年代，美国驻联合国大使不得不承认：“这是联合国历史上的转折点，反西方集团在美国威望动摇时第一次击败了美国。”这里的“转折点”是指（ ）

- A、万隆会议的圆满成功
- B、中国恢复在联合国的合法席位
- C、抗美援朝的胜利
- D、中美关系开始正常化

15、今年（2017年）是我国伟大的无产阶级革命家、政治家、外交家周恩来诞辰119周年。假如你们班举办一次“周恩来外交风云”的图片展，你会选用下列哪些图片（ ）



①参加西安谈判的中共代表



②赴重庆谈判前的合影



③周恩来在万隆会议上的发言



④周恩来在机场欢迎尼克松总统

- A、①②
- B、②③
- C、③④
- D、②④

16、1980年著名作曲家施光南深入安徽、四川农村体验生活，满怀激情地谱写经典歌曲《在希望的田野上》。他选择赴上述农村体验生活的最主要理由是（ ）

- A、当地山川峻美，风景秀丽宜人
- B、少数民族众多，民俗文化丰富
- C、同属革命老区，富有红色传统
- D、率先包产到户，农民生活改善

17、2015年米兰世博会中国企业联合馆主题为“中国种子”，旨在向全世界宣传杂交水稻，下列最适合担任该馆形象大使的是（ ）

- A、邓稼先
- B、王进喜
- C、焦裕禄
- D、袁隆平

18、在一次答记者问时，原国家总理温家宝引用了“一心中国梦，万古下泉诗”，“度尽劫波兄弟在，相逢一笑泯恩仇”这几句诗。该提问可能涉及的是（ ）

- A、中美关系问题
- B、台湾问题
- C、西藏问题
- D、钓鱼岛问题

19、“忘记过去就意味着背叛。”习近平主席执政以来，新设置了一些新节日。这些节日与历史事件对应错误的是（ ）

- A、国家宪法日——1982年宪法颁布实施
- B、国家公祭日——1937年南京大屠杀
- C、烈士纪念日——1949年新政协会议决定建立人民英雄纪念碑
- D、抗战胜利纪念日——1945年8月15日日本宣布无条件投降

20、某班研究性学习小组列举出如下大事，请你为它选择一个最为准确、全面的主题（ ）

①十一届三中全会果断地停止“以阶级斗争为纲”，将党和国家的工作重心转移到经济建设上来，改革开放大业由此展开。

②中共中央平反各种冤假错案，落实知识分子和干部政策，并加紧全面立法工作。

③邓小平指出，我们的文艺属于人民，要为人民服务，为社会主义服务；中共中央清算了文艺领域的极“左”路线。文艺领域再次呈现繁荣景象。

④邓小平在教育战线全面拨乱反正，并提出教育应优先发展的思想。国民教育迅速复兴。

- A、社会主义经济建设的伟大成就
- B、现代中国文化事业的春天
- C、社会主义民主法制建设的完善
- D、中国特色社会主义道路的开辟

21、下列各项史实与结论之间逻辑关系正确的是（ ）

	史实	结论
A.	民族区域自治制度的确立	奠定了新中国各项政治建设的基础
B.	1949年中国人民政治协商会议在北京召开	发布主张和平统一的《告台湾同胞书》
C.	1954年中国召开第一届全国人民代表大会	颁布了体现社会主义性质的宪法
D.	对香港行使主权	帝国主义在中国的殖民统治完全终结

- A、A
- B、B
- C、C
- D、D

22、邓小平在1984年讲话中说：“深圳治安比过去好了，跑到香港去的人开始回来了，原因之一就是就业多，收入增加了，物质条件也好多了。”这段话能够用于说明（ ）

- A、“一国两制”构想的实行
- B、改革开放取得显著成效
- C、城市经济体制改革的启动
- D、对外开放进入一个新阶段

23、票证是某一历史时期经济发展的见证与缩影。图(a)的取消以及后来图(b)的出现，在一定程度上反映了我国新时期（ ）



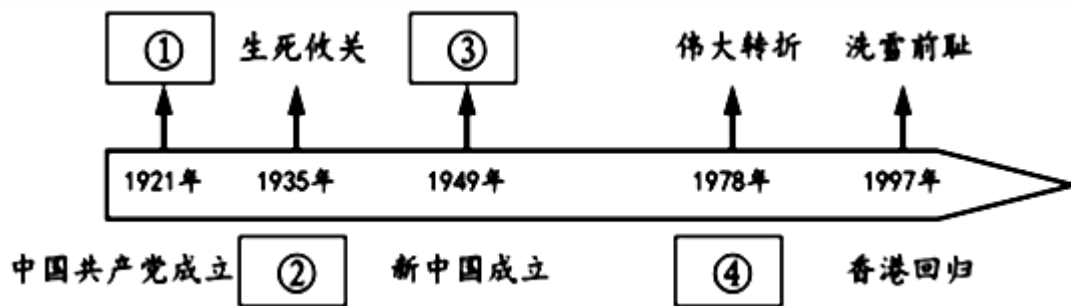
图(a) 粮票



图(b) 股票

- A、经济体制改革由农村向城市发展
- B、分配方式由国家分配向按劳分配转变
- C、经济形态由农业国变成了工业国
- D、经济体制由计划经济向市场经济转型

24、某同学在学习中国共产党90多年的奋斗历程时，自制了一把历史年代尺，其中④处应该填写的是（ ）



- A、开天辟地
- B、当家作主
- C、遵义会议
- D、十一届三中全会

二、综合题

25、中国人民革命的胜利和中华人民共和国的成立，揭开了中国历史的新篇章。领导和组织这场革命取得胜利的中国共产党，担负起领导全国人民建设新生活的重任。阅读以下材料，结合所学，回答问题

材料一：



翻身农民齐声高呼：感谢领袖毛泽东，感谢救星共产党。

材料二：（1953年）问题是从工业化引起的。工业的发展，城镇和工矿区的发展，种植工业原料作物的农业地区和农户的增加，急剧扩大了对商品粮食的需求量。解决粮食紧张的根本出路在于增加粮食生产，而粮食增产，当时认为靠小农经济潜力太小，靠在农业中实行大规模的机械化是工业发展以后的远景，在最近几年内必须依靠合作化并在合作化基础上适当进行技术改革。

在向社会主义过渡的进程中，党创造了一系列适合中国特点的过渡形式。在农业方面，创造了以初级农业生产社为主要的多种互助合作形式，使农民的个体私有制逐步转变为社会主义集体所有制。

材料三：安徽省凤阳县小岗村 1976 年与 1979 年收入对比表

时间	粮食产量	人均口粮	人均分配收入
1976年	35000斤	230斤	32元
1979年	132300斤	800斤	200多元

(1) 观察材料一中两幅图片，概括新中国成立后党领导土地改革运动的意义？

(2) 结合所学，分析材料二中国共产党引导农民组织起来走合作化道路的原因？“农民的个体私有制”在哪一年转变为“社会主义集体所有制”？

(3) 材料三表格中小岗村的统计数字说明了什么？分析小岗村变化的原因

26、某班同学以“和平共处，合作共赢的中美新型大国关系”为主题，分组开展研究性学习活动，请你参与，并完成下列问题。

第一小组研究主题：中美关系历史回眸。

材料一：1949年12月美国政府宣布“运用一切努力防止中国共产党人从非苏联的来源获得直接用于军事目的的物质与装备”。1950年12月美国政府要求“所有希望向中国大陆、香港和澳门出口任何商品的个人和公司必须申请出口许可证”。1951年10月美国国会通过了《巴特尔法》，规定违反禁运条例向中国等社会主义国家出口的国家，美国将停止向其提供援助。

——《中美关系史 1949——1972》

材料二：1969年1月，共和党人尼克松就任美国总统。当时正值美国面临着二战结束以来最为严峻的形势。越南战争的沉重负担，国内政治、经济以及社会危机的加深，使美国在同苏联争霸中，日益处于不利的地位……1971年6月，尼克松又在堪萨斯的一次讲话中提出今天世界上有“五个力量中心”（美国、苏联、西欧、中国和日本）的看法。为了适应这种新的形势，并改善美国在同苏联争霸中的不利处境，尼克松决定要在中国“为自己找个可以依靠的有利地位”。

——摘编自方连庆《战后国际关系史》

材料三：1972年2月尼克松访华，跨出了改善中美关系的第一步。2月28日，中美双方在上海发表了《联合公报》，这是中美关系的一个重要转折点。标志着中美两国关系进入了一个新时期，这对世界形势的发展产生了深远的影响。此后，双方的贸易、科技和文化往来逐渐增多。与此同时，为进一步促进两国关系的正常化，中美双方政府官员也在不断进行接触。

——摘编自谢益显《中国外交史》

第二小组研究主题：中美关系现实研究。

材料四：习近平总书记2012年1月16日在尼克松总统访华和上海公报发表40周年纪念活动上致辞说，推动中美关系……发展，既是双方的共同责任，也是国际社会共同期待。……总之，这是一个中美相互激励的时代……太平洋之大，世界之广，足以包容崛起的中国与美国。

——阮宗泽《习近平访美：深化共识，同舟共济》

(1) 依据材料一，概括美国对华政策的具体做法（不得摘抄原文），并结合所学知识分析其原因。当时中国采取了怎样的应对方针？

(2) 依据材料二、材料三和所学知识，指出与建国初期相比，中美关系发生了怎样的变化？从美国方面分析发生变化的主要原因。怎样理解《联合公报》的发表是中美关系的一个重要转折点？

(3) 综合上述材料，放眼未来，请你说说中美两国应构建怎样的双边关系。

27、八年级1班的同学们准备举办一次以台湾问题为主题的论坛。大家收集了大量相关资料，请你加入论坛，阅读并参与讨论，回答以下问题。

材料一：230年（三国吴黄龙二年），吴主孙权遣将军卫温等率军万人至夷州（今台湾），前后历时一年。

1335—1340年，元政府在澎湖设巡检司，隶属福建泉州安县管辖。

1625年，荷兰殖民者建筑热兰遮城（今赤嵌城）从此开始在台湾近38年的殖民统治。

1662年，荷兰人投降，郑成功收复台湾。

1684年，清政府决定设立台湾府，并明谕隶属福建省管辖。

1888年，台湾首任巡抚刘铭传正式上任，台湾省正式建立。

1895年，李鸿章与伊藤博文签订《马关条约》，将台湾、澎湖列岛割让给日本。

1943年，中美英三国签署《开罗宣言》严正宣言：“日本所窃取于中国之领土，例如满洲、台湾、澎湖群岛等，归还中国。”

1945年8月15日，日本宣布无条件投降，将台湾、澎湖交还中国。

1945年10月25日，国民党政府在台北举行台湾省日军受降仪式。

1949年12月7日，国民党宣布退守台湾，国民党“政府”迁至台北，海峡两岸从此再度隔绝。

材料二：1984年2月22日，邓小平在会见美国乔治城大学战略与国际问题研究中心代表团时指出：“我们提出的大陆与台湾统一的方式是合情合理的。统一后，台湾仍搞它的资本主义，大陆搞社会主义，但是是一个统一的中国。”

材料三：据报道，吕秀莲在当选台湾政权副总统那一天，即对外表示，台湾和大陆“在血缘方面，在历史上是远亲，在地理上是近邻”，“台湾，中国，一边一国”。不久，吕秀莲接受香港一家无线电视台的专访，不仅重谈其“远亲近邻”老调，更顽固声称“台湾是主权独立国家”，海峡两岸是“两个华人国家。”

材料四：据《中国外交》记载，1971年10月，第26届联合国大会通过2758号决议，驱逐了台湾当局的代表，恢复了中华人民共和国在联合国的席位和一切合法权利。截至目前为止，世界上220多个国家和地区已有160多个与中华人民共和国建立了外交关系。这些国家都是以中华人民共和国政府是中国唯一合法政府、台湾是中国领土的一部分为建交先决条件的，而且它们都承认一个中国原则，承诺在一个中国的框架内处理与台湾的关系。

(1) 根据以上材料和所学知识，概括指出在中国近代史上台湾与祖国大陆的两次大分离和一次回归的经历，并说说这两次分离最大的不同点是什么？

(2) 依据材料二，概括指出邓小平为解决台湾问题提出的构想。这一构想首先在哪一地区被成功实践？

- (3) 依据材料二与材料三，指出邓、吕双方的根本分歧是什么？你认为当前严重阻碍台湾和祖国大陆实现和平统一的因素有什么？
- (4) 依据材料四和所学知识，你认为当前解决台湾问题完成祖国统一大业有哪些有利因素？
- (5) 请你为这个论坛写一个最贴切的主题名称。

历史试题答案



一、选择题

1、【答案】A

【考点】新中国成立

【解析】【分析】根据题干“建国前夕”“对于如何建设新中国给予指导”等信息，结合所学知识可知，为了筹建新中国，1949年9月，第一届中国人民政治协商会议在北平隆重举行，因此邀请宋庆龄参加这次大会，为筹备新中国给予指导。B项是1955年召开的；C项是1954年；D项是1945年，时间都不符合题干。故选A。

【点评】本题难度一般，考查的是第一届中国人民政治协商会议。

2、【答案】C

【考点】辛亥革命，新中国成立

【解析】【分析】本题主要考查学生准确解读图片信息的能力，左图信息为孙中山当选中华民国临时大总统的誓词，右图为开国大典，结合所学知识，对比辛亥革命和新中国的成立可知二者都开启了中国民主政治新发展，C项符合题意，D项只是新中国成立的历史影响不是二者的共同点，AB两项仅是辛亥革命的积极影响也不是二者的共同点。故选C项。

【点评】创设新情境，挖掘新史料重新认识和解读历史是当下高考命题方式的主流方向和趋势，而图片和图表信息的解读即是其中重要的一个方面。在解读图片和图表信息时必须要注意以下几个方面，其一准确识别图中的信息，其二注意图中材料的来源或出处，最后就是要仔细观察图中是否有时间线索，只要有时间提示就为解题提供了较多的历史背景知识，因此一定要对此多加留意。

3、【答案】C

【考点】抗美援朝

【解析】【分析】此题考查抗美援朝战争的相关知识点。材料“它雄辩地证明：西方……”出自彭德怀同志《关于中国人民志愿军抗美援朝工作的报告》，这是抗美援朝战争胜利后，彭德怀同志就抗美援朝战争的胜利发表的感慨。故答案选C。

【点评】此题难度一般，考查抗美援朝战争的相关知识点。

4、【答案】B

【考点】独立自主的和平外交

【解析】【分析】依据材料中提到的“周恩来和印度”，联系所学知识可知，1953年底周恩来于在访问印度时提出和平共处五项原则，是中华人民共和国提出的国家外交纲领性政策，后来渐渐发展成为指导中国与多国关系的处理原则。故选B。

【点评】本题你大爷吧，考查的是和平共处五项原则的知识。

5、【答案】D

【考点】三大改造

【解析】【分析】此题考查三大改造相关的知识点。阅读题文所给提示信息：结合图表可知，“I”是指1952至1956年，正处于三大改造时期，国家对于资本主义工商业通过“赎买”的方式进行改造，故直线下滑。因此选项D正确，故选D。

【点评】此题难度一般，考查三大改造相关的知识点。

6、【答案】C

【考点】工业化起步

【解析】【分析】通过对材料中各种经济所占的比重分析，工业建设占比最高，结合所学知识可知，一五计划时期，我国优先发展的是重工业，其目标是建立工业化体系，故选C。

【点评】本题难度一般，考查的是一五计划的知识。

7、【答案】D

【考点】工业化起步

【解析】【分析】本题考查对一五计划成就的识记能力。根据所学知识分析，一五计划的成就包括长春第一汽车制造厂，所以A项错误；沈阳第一机床厂，所以B项错误；鞍山钢铁公司和大庆石油，所以C项错误；武汉长江大桥，只有D项正确。

【点评】本题难度一般，考查对一五计划成就的识记能力。

8、【答案】C

【考点】两弹一星

【解析】【分析】本题主要考查新中国的核科技成果。1964年10月16日，我国第一颗原子弹爆炸成功，加强了我国的国防力量，也打破了帝国主义的核垄断，对维护世界和平具有重要意义。题文中的“看西北荒漠，万里人罕见。蘑菇云突起，举世皆惊！”是描述的我国第一颗原子弹爆炸成功的情景，故答案选C。

【点评】本题难度一般，考查新中国的核科技成果。

9、【答案】C

【考点】探索社会主义道路

【解析】【分析】结合历史知识，分析漫画所反映的历史事件。因为图一是人站在玉米秆上采摘玉米，玉米秆上能站人；图二是梯子靠在棉花树上采摘棉花，棉花主干能靠梯子；图三水稻产量放卫星，从中获取相关信息，显然是“浮夸风”。只有选项C符合题意，故选C。

【点评】本题有一定难度，考查的是“大跃进”的知识。

10、【答案】D

【考点】文革十年

【解析】【分析】本题主要考查学生运用所学知识解决问题的能力，考查学生对文化大革命的认识，根据所学知识，文革是一场内乱，文革中，社会主义民主和法制遭到破坏，大批工人，农民离开岗位闹革命，国民经济遭到严重破坏，废除了高考制度，造成我国知识分子的断层，文化教育遭到浩劫，同时在外交上，我国70年代则获得了很大成就，70年代的三大外交成就，中国重返联合国，中美关系的解冻和中日邦交的正常化，因此D项表述错误。所以答案选D。

【点评】本题难度适中，考查学生对文化大革命的认识。

11、【答案】B

【考点】文革十年

【解析】【分析】本题主要考查学生正确解读材料和运用所学知识解决问题的能力。依据材料中的人物“刘少奇”和关键词“红卫兵”，以及材料中“我个人也是一个公民，为什么不让我讲话？”所表达出的对民主法治的践踏，结合所学知识可知，这是发生在文化大革命时期的事件。文化大革命时期我国的民主和法制遭到了严重的践踏，所以本题选B。

【点评】本题难度适中，考查学生正确解读材料和运用所学知识解决问题的能力。

12、【答案】C

【考点】钢铁长城

【解析】【分析】本题考查学生综合概括能力，属理解层面的要求，难度不大。根据所学知识可知：人民海军和空军的建立、“两弹一星”的成功研制、战略导弹部队的组建等内容都和国防建设有关，故本题应选C项新中国的国防建设。

【点评】本题难度一般，考查的是我国国防建设成就的知识。

13、【答案】A

【考点】新中国成立，抗美援朝，外交事业的发展

【解析】【分析】结合所学可知，1951年，西藏和平的解放，标志着祖国大陆获得了统一，各族人民实现了民族大团结。中国第一次取得反抗外国侵略的胜利是抗日战争的胜利；中美正式建立外交关系的标志是1979年《中美建交公报》的签署；三大改造的完成标志着确立社会主义制度，所以BCD三项不符合题意，西藏和平解放标志着祖国大陆获得了统一，因此A项正确。

【点评】本题难度一般，考查的是运用所学知识解决问题的能力。

14、【答案】B

【考点】外交事业的发展

【解析】【分析】本题主要考查学生运用所学知识解决问题的能力，本题考查了中国重返联合国对联合国历史的影响。中国重返联合国是与广大第三世界国家的支持分不开的，即材料中“反西方集团……击败美国。所以答案选B。

【点评】本题难度一般，考查了中国重返联合国对联合国历史的影响。

15、【答案】C

【考点】独立自主的和平外交，外交事业的发展

【解析】【分析】依据题干“周恩来的外交风云”，观察图片信息联系所学知识分析，西安事变和重庆谈判是国共

之间的事不属于外交领域，故排除。万隆会议和接见尼克松都属于周恩来的外交事件，故选 C。

【点评】本题难度一般，考查的是周恩来的外交贡献的知识。

16、【答案】D

【考点】十一届三中全会

【解析】【分析】本题主要考查学生运用所学知识解决问题的能力，本题考查的是改革开放的相关知识，1980 年左右发生在农村的重大事件是在农村实行家庭联产承包责任制，所以他创作了经典歌曲《在希望的田野上》。所以答案选 D。

【点评】本题难度一般，考查的是改革开放的相关知识。

17、【答案】D

【考点】杂交水稻

【解析】【分析】本题主要考查袁隆平的主要科技贡献。袁隆平从 20 世纪 60 年起进行水稻良种的培育，经多次杂交试验和筛选，于 1973 年在世界上首次育成籼型杂交水稻。这种水稻，比普通水稻增产 20%以上，被称为“东方魔稻”。袁隆平也被国际农学界誉为“杂交水稻之父”。故选 D。

【点评】本题难度一般，考查袁隆平的主要科技贡献。

18、【答案】B

【考点】海峡两岸交往

【解析】【分析】由诗中的“一中国梦，万古下泉诗”，“度尽劫波兄弟在，相逢一笑泯恩仇”的意思来看符合国共两党的关系，前两句认为国共两党都是梦想中国富强，不惜流血牺牲，后两句是国共双方既有合作抗敌，又有自相残杀，最后要为中华民族复兴而再度合作，故选项 B 较为符合题干要求。ACD 项无法体现“度尽劫波兄弟在”等材料信息。故选 B。

【点评】台湾问题是中国的内政，两岸同属于一个中国，两岸是兄弟关系，“一中国梦”。在一国两制方针的指导下，成功的收回了对香港、澳门的主权，也对台湾问题产生重要的影响，海峡两岸的关系在迅速的发展。以九二共识为基础，加强两岸的交流与合作，对于推动中华民族的伟大复兴，具有重要意义。

19、【答案】D

【考点】宁为战死鬼，不作亡国奴，血肉筑长城，新中国成立

【解析】【分析】依据所学知识分析，1982 年我国颁布了第四部《中华人民共和国宪法》；1949 年新政协会议决定建立人民英雄纪念碑来纪念烈士；国家公祭日是为了纪念 1937 年南京大屠杀；所以 ABC 叙述都正确。D 项抗日战争胜利的标志是 1945 年 9 月 2 日日本签署了无条件投降书，故 D 不正确。

【点评】本题难度一般，考查的是我国节日与历史事件关系的知识。

20、【答案】D

【考点】十一届三中全会，邓小平理论

【解析】【分析】本题考查学生的理解能力。材料涉及的是十一届三中全会的内容，内容涉及了工作重心的转折、纠正了错误、对文化教育事业提出了要求，十一届三中全会后我们进入社会主义建设新时期，探索出来中国特色社会主义道路，ABC 三项都不能全面概括其内容，故选 D。

【点评】本题难度一般，考查学生的理解能力。

21、【答案】C

【考点】新中国成立，工业化起步，民族团结，香港和澳门回归

【解析】【分析】本题考查学生对历史知识的识记和理解的能力。根据所学知识分析，新中国政治建设的基础是人民代表大会制度；1949 年中国人民政治协商会议在北京召开，颁布的是《共同纲领》；香港回归后，澳门还没有回归，帝国主义在中国的殖民统治完全终结是在澳门回归以后。只有 C 项叙述正确。

【点评】本题有一定难度，考查学生对历史知识的识记和理解的能力。

22、【答案】B

【考点】改革开放

【解析】【分析】依据所学知识可知，我国在深圳实行的是对外开放，深圳是第一个对外开放的城市，这体现了改革开放取得显著成效。A 项指的是港澳台，不是深圳；C 项指的是对国有企业的改革；D 项对外开放进入一个新阶段是在 1992 年以后，与材料中的时间不符合。故选 B。

【点评】本题难度一般，看成是我国在改革开放后所取得成就的知识。

23、【答案】D

【考点】衣食住行的变迁

【解析】【分析】本题主要考查学生准确解读图片信息的能力，粮票是我国计划经济时代的特殊产物，而股票是市场经济的产物，粮票的消失和股票的出现说明我国经济体制正发生变化，即经济体制由计划经济向市场经济转型。ABC 三项说法正确但材料无法体现，故选 D 项

【点评】创设新情境，挖掘新史料重新认识和解读历史是当下高考命题方式的主流方向和趋势，而图片和图表信息的解读即是其中重要的一个方面。在解读图片和图表信息时必须要注意以下几个方面，其一准确识别图中的信息，其二注意图中材料的来源或出处，最后就是要仔细观察图中是否有时间线索，只要有时间提示就为解题提供了较多的历史背景知识，因此一定要对此多加留意。

24、**【答案】**D

【考点】十一届三中全会

【解析】【分析】此题考查的是十一届三中全会的相关史实。分析图表中④处的关键时间 1978 年，结合所学知识可知 1978 年我党召开的十一届三中全会，成为党历史上伟大的转折。故此题选择 D。

【点评】此题难度不大，考查的是十一届三中全会的相关史实。

二、综合题

25、**【答案】**(1) 恢复经济或调动农民生产积极性解放了农村生产力；废除封建土地制度或消灭了地主阶级；巩固了政权。

(2) 原因：提高农业产量或提高农业生产力，解决农业发展同工业发展不相适应的矛盾；1956 年。

(3) 农业生产发展迅速或粮食产量提高，农民收入增加。实行家庭联产承包责任制（分田到户或包产到户或大包干）

【考点】土地改革，三大改造，家庭联产承包责任制

【解析】【分析】(1) 本题考查学生对土地改革的历史意义的识记。依据所学知识回答即可：土地改革的完成，彻底摧毁了我国存在两千年的封建土地制度，地主阶级也被消灭；广大农民翻了身，得到了土地，成为土地的主人。这使人民政权更加巩固，也大大解放了农村生产力，农业生产获得迅速恢复和发展，为国家的工业化建设准备了条件。(2) 土地改革以后，农民分到了土地，农业生产有了恢复和发展。但是，我国的农业仍然是一家一户的分散经营。当时贫苦农民缺乏生产工具、资金，一家一户难以解决水利问题，难以抵御自然灾害，不能合理地使用耕地，也不能使用先进的机械化农具。这就影响生产的发展，农产品满足不了国家工业化建设的需要，因此国家对农业进行社会主义改造。到 1956 年三大改造基本完成。(3) 通过表格中数字的变化可以分析出，小岗村粮食产量和人均收入都有大幅度的提高，联系所学知识可知这是在 1978 年小岗村率先实行了家庭联产承包责任制的结果。

【点评】本题考查了新中国成立后对农村改革的有关问题，考查学生的识记能力。

26、**【答案】**(1) 做法：对中国进行封锁、禁运。原因：美国推行霸权主义；社会制度的对立。方针：中国采取了“一边倒”的方针。

(2) 变化：由敌对到谋求改善关系。原因：越南战争的沉重负担；国内危机加深；美苏争霸中处于不利地位；世界向多极化趋势发展；中国成为世界五个力量中心之一。

理解：中美两国结束长期敌对状态；两国关系开始走向正常化；美国承认台湾是中国的一部分；两国官方与民间往来逐渐增多。

(3) 关系：结束对抗，加强互信，合作共赢。

【考点】抗美援朝，外交事业的发展

【解析】【分析】(1) 本题考查学生对材料的理解和分析的能力。根据材料内容“所有希望向中国大陆、香港和澳门出口任何商品的个人和公司必须申请出口许可证”可以总结出封锁的措施；根据“运用一切努力防止中国共产党人从非苏联的来源获得直接用于军事目的的物资与装备”和“规定违反禁运条例向中国等社会主义国家出口的国家，美国将停止向其提供援助。”联系所学可以总结出禁运的措施。美国对中国采取敌对措施的原因是二战后美苏争霸，美国企图称霸世界。针对美国的敌对，中国处于自身安全，采取了“一边倒”的政策，走向了苏联社会主义阵营。(2) 从材料二中的美国总统尼克松决定要在中国“为自己找个可以依靠的有利地位”。以及材料三中的尼克松访华，联系所学知识可以总结出中美关系由建国初期的敌对，到七十年时期开始改善，逐渐走向正常化。美国之所以改善与中国的外交关系，可以从材料中总结出越南战争的沉重负担；国内危机加深；美苏争霸中处于不利地位；世界向多极化趋势发展；中国成为世界五个力量中心之一等内容。(3) 本题属于开放性试题，言之有理即可。从习近平的讲话可以归纳出中美之间应该加强互信合作共赢等等。

【点评】新中国成立以来的中美关系，经历了以下三个发展阶段：(1) 中美敌对阶段：从新中国成立到 60 年代，

美国对中国实行政治孤立、经济封锁、军事包围政策，企图颠覆新中国，中美处于敌对状态长达 20 多年。表现：1950 年朝鲜内战爆发后，美国派第七舰队进入台湾海峡，公然干涉中国内政。阻挠中国恢复在联合国的合法席位(2)中美关系改善阶段：20 世纪 70 年代，由于中国国际地位的提高和国际形势的变化(中美关系得以改善的主要原因)，美国主动改变对华政策。表现：①1972 年，尼克松总统访华，双方在上海发表《中美联合公报》，中美关系开始走向正常化；② 1978 年，《中美建交公报》发表；③1979 年 1 月，中美两国正式建交，中美关系实现正常化。(3)曲折发展阶段：20 世纪 80 年代以来，由于改革开放，中国日渐强大，美国为遏制中国的进一步发展，不断利用台湾问题、人权问题等干涉中国内政，中美关系摩擦不断。表现：①1999 年科索沃战争期间，以美国为首的北约悍然轰炸中国驻南联盟大使馆；②支持台独活动，阻挠中国统一；③美对台军售；④奥巴马会见达赖等。发展中美关系有利于两国人民，也有利于世界和平与发展或者发展中美关系符合世界历史发展趋势。

27、【答案】(1) 两次分离和一次回归：1895 年甲午中日战争中国战败，签订《马关条约》割台湾给日本；1949 年解放战争国民党兵败占据台湾。1945 年抗日战争中国胜利，台湾回到祖国怀抱。不同点：第一次是帝国主义侵华战争侵占，第二次是解放战争国内矛盾所致。

(2) “一国两制”。香港。

(3) 根本分歧：是否承认台湾是中国的一部分(是否承认一个中国)。主要是台独势力；国际反华势力。

(4) “一个中国”的原则得到联合国和世界绝大多数国家的承认。(此项必答) 改革开放，国力增强；“一国两制”方针充分考虑到各方的利益；香港、澳门问题的顺利解决，为解决台湾问题提供了范例；祖国统一是海峡两岸人民的共同愿望，是民心所向，大势所趋。

(5) 如“台湾的昨天、今天和明天”、“海峡情”等言之有理即可。

【考点】甲午中日战争，战略大决战，海峡两岸交往

【解析】【分析】(1) 从材料内容中可以归纳出中国近代史上，台湾与祖国大陆的第一次分离是指 1895 年中日签订的《马关条约》中割台湾，澎湖列岛给日本；第一次回归是在 1945 年抗战胜利后台湾重新回归祖国；第二次在离是指 1949 年人民解放战争，国民党军队败退台湾，造成了与祖国大陆的分离。两次分离不同表现在，第一次是帝国主义侵华战争侵占，第二次是解放战争国内矛盾所致。(2) 依据材料中的内容“统一后，台湾仍搞它的资本主义，大陆搞社会主义，但是一个统一的中国。”联系所学可知，针对台湾邓小平的构想是“一国两制”政策。一国两制的方针是在为解决台湾问题而提出的，但是在香港问题上最先使一国两制的方针得到贯彻执行。97 回归后，香港在一国两制方针的指导下，实行港人治港、高度自治的方针，保持了香港的高度的繁荣，同时为香港的发展提供了强大的后盾支持。(3) 根据材料三的内容可知吕秀莲否认台湾是中国的一部分，不承认一个中国的立场。当前严重阻碍台湾和祖国大陆实现和平统一的因素主要是台独势力和国际反华势力的存在。(4) 根据材料内容可以概括出：中国重返联合国得到世界多数国家一个中国的认可；依据所学知识可以总结出：实行改革开放后，综合国力的国力增强；“一国两制”方针充分考虑到各方的利益；香港、澳门问题的顺利解决，为解决台湾问题提供了范例；祖国统一是海峡两岸人民的共同愿望，是民心所向，大势所趋等等，言之有理即可。(5) 本题属于开放性试题，主题贴近台湾与大陆的统一的正能量即可。

【点评】关于祖国统一的问题，最主要考核考查最多的是台湾问题，除此之外还应注意总结历史上的新疆、西藏、港澳回归等问题的链接。

