

2019.01

分。考试时间60分钟。

答无效。
黑色字迹签字笔作答。

此的骨器，100多种野兽化
很多石头、骨头和朴树籽

于河姆渡遗址，能够直接



④陶制炊具

③④

南针，平定蚩尤乱。世界文

黄帝

现的先后顺序排列中，正确

夏

东周

5. 右图是北京房山琉璃河出土的克罍 (léi)。此罍上的铭文记载了西周初年周成王册封燕侯，授民、授疆土的史实。该文物可用于研究

- A. 分封制
- B. 世袭制
- C. 禅让制
- D. 刺史制



6. 某同学游学回来，要向为大家介绍目前世界上发现的最大、最重的青铜器，他应该选择下列图片中的



A



B



C



D

7. 战国时期，为秦国强大、统一六国奠定了基础的是

- A. 管仲改革
- B. 吴起变法
- C. 商鞅变法
- D. 孝文帝改革

8. 小明同学参观岷江下游的一座古代水利工程，他看到都江堰鱼嘴把江水分为内江和外江，内江的水流入宝瓶口。这座水利工程的主要作用是

- A. 沟通了长江和珠江水系
- B. 促进南北方经济文化交流
- C. 疏导洪水，灌溉成都平原
- D. 将南方的粮食运到北方


9. 春秋战国时期，社会急剧变化，学派林立。下列关于这些学派的搭配正确的是

- A. 老子——《诗经》
- B. 孔子——《论语》
- C. 墨子——《春秋》
- D. 韩非子——《道德经》

10. 绘制时间轴是梳理历史知识的一种有效手段，下列时间轴梳理的历史知识是

公元前230年

公元前221年



- A. 秦灭六国完成统一
- B. 秦巩固边疆
- C. 秦建立中央集权制
- D. 秦推行变法

B

11. 连环画以连续的图画叙述故事、刻画人物。下列连环画中反映“伐无道，诛暴秦”这一口号的历史事件是



A. 约法三章



B. 陈胜、吴广起义



C. 四面楚歌



D. 指鹿为马

12. 右图出自一本书的章节目录。依据内容判断，该书介绍的历史人物是

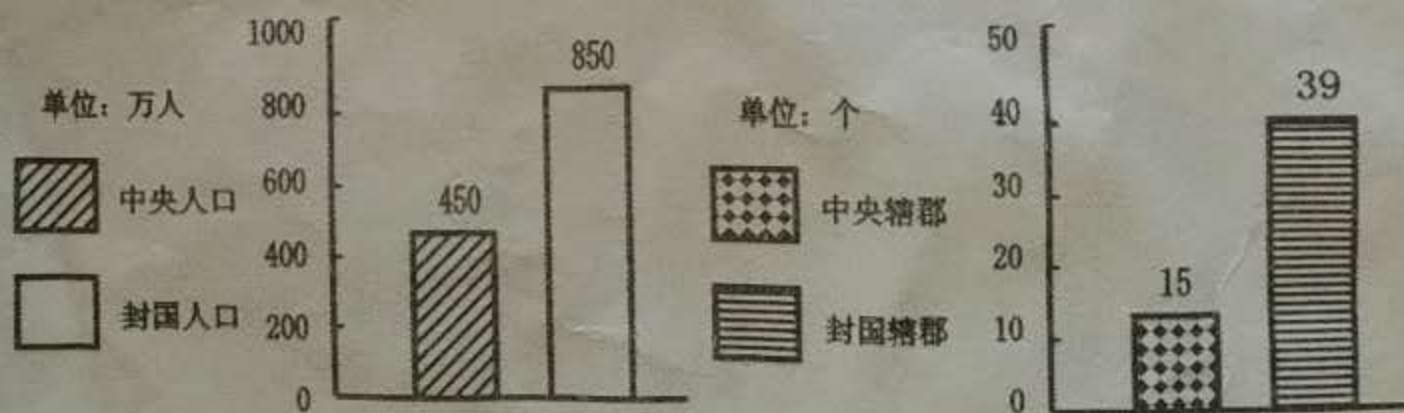
- A. 汉高祖
- B. 汉文帝
- C. 汉景帝
- D. 汉武帝

第一章 斩蛇起义，推翻秦朝
 第二章 消灭项羽，建立汉朝
 第三章 确立典章，设立制度

13. 我国汉代由国家设立的最高学府是

- A. 郡学
- B. 官学
- C. 太学
- D. 私塾

14. 下列“西汉初期中央和封国力量对比图表”，反映的社会问题是



- A. 诸侯国势力强大威胁着中央王朝
- B. 王国数量大大增加
- C. 刺史制加强了中央对地方的控制
- D. 西汉王朝四分五裂

15. 下列“光武中兴”和“文景之治”统治措施中，相同之处包括


- ①减轻赋税
- ②合并郡县
- ③提倡节俭
- ④减轻刑罚

- A. ①③
- B. ①④
- C. ②③
- D. ②④

反映“伐无道，诛暴秦”



吴广起义



鹿为马

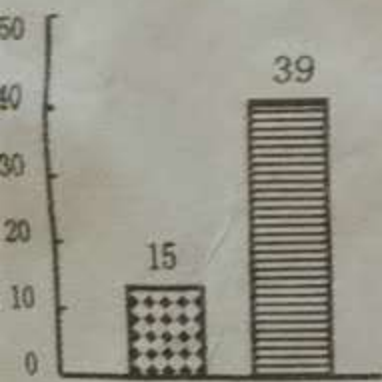
指鹿为马

历史人物是

新蛇起义，推翻秦朝
有天项羽，建立汉朝
前立典章，设立制度

D. 私塾

问题是



数量大大增加

王朝四分五裂

处包括

④减轻刑罚

D. ②④

16. 东汉中期以后，政治统治的突出特点是

- A. 皇帝专权
- C. 宦官专权

B. 外戚专权

D. 外戚、宦官交替专权

17. 西汉时期开辟的横跨欧亚大陆的“丝绸之路”，给世界留下了“和平合作、开放包容、互学互鉴、互利共赢”的精神遗产。这条“丝绸之路”从东向西的走向是

- A. 今西安——河西走廊——今新疆——西亚——欧洲
- B. 今西安——今新疆——河西走廊——西亚——欧洲
- C. 今西安——今新疆——西亚——河西走廊——欧洲
- D. 今西安——河西走廊——今新疆——欧洲——西亚

18. “通过丝绸之路，中国产品远抵西亚和欧洲，西域乃至印度的文明成果，也源源不断地涌进中国。”这说明丝绸之路的开辟

- A. 推动了西汉进行政治改革
- C. 便利了丝绸输入中国内地

B. 促进了中外经济文化交流

D. 加速了中国北方政权分裂

19. 同时生活在东汉末年的两位医学家是

- ①扁鹊
- ②华佗
- ③张仲景

④秦越人

A. ②③

B. ①②

C. ③④

D. ①④

20. 美国人麦克·哈特在《影响人类历史进程的100名人排行榜》中，将蔡伦排在第七位。蔡伦上榜并排在第七位的理由是

A. 发明印刷术

B. 发明火药

C. 制成罗盘针

D. 改进造纸术

21. 我国第一部纪传体通史，被鲁迅先生誉为“史家之绝唱，无韵之离骚”。该书是

A. 《论语》

B. 《离骚》

C. 《史记》

D. 《春秋》

22. 佛教起源于印度，后来发展成为世界性宗教，主要分布于东亚、东南亚地区，佛教传播到中国的时间是

A. 西汉初年

B. 西汉末年

C. 东汉初年

D. 东汉末年

23. 《三国志·吴主传》记载：“黄龙（孙权年号）二年春正月……遣将军卫温、诸葛直将甲士万人浮海求夷洲。”“夷洲”指的是今天的

A. 海南岛

B. 台湾岛

C. 库页岛

D. 西沙群岛

24. 有人说三国鼎立是在分裂中孕育统一，其依据是

A. 局部统一，为新王朝建立创造条件

B. 战乱频繁，严重破坏了社会经济

C. 政权割据，形成了国家分裂的局面

D. 破坏民族关系，不利于民族团结

25. 西晋王朝存在时间非常短暂。导致西晋王朝成为一个短命王朝的原因有
 ①统治集团极其腐朽 ②北方人大量迁往江南地区
 ③皇族之间连年混战 ④内迁少数民族反抗西晋压迫

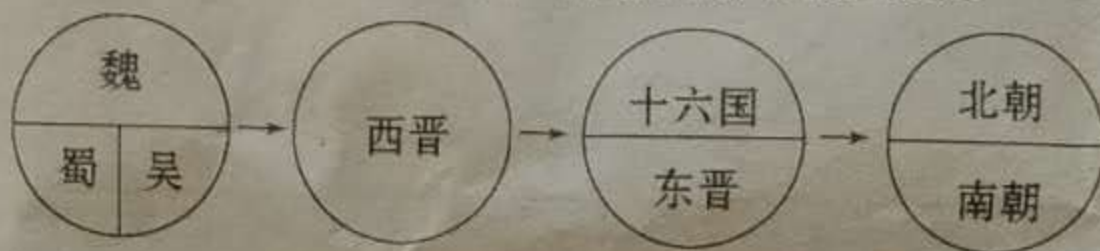
A. ①②③ B. ②③④ C. ①③④ D. ①②④

26. 《宋书》记载：“江南之为国盛矣……地广野丰，民勤本业，一岁或稔，则数郡忘饥。”江南地区得到开发的表现包括

①修建水利工程，荒地变良田 ②种植水稻用绿肥
 ③牛耕和粪肥得到推广 ④稻麦兼作

A. ①② B. ③④ C. ①②③ D. ①②③④

27. 某同学在进行单元复习时设计了下图，据此判断该单元的主题是



A. 中华文明的起源 B. 国家的产生
 C. 政权分立与民族交融 D. 繁荣与开放的社会

28. 北魏贾思勰所著的《齐民要术》系统反映了中国古代农学成就，下列说法正确的是

①是我国现存最早、最完整的农书
 ②总结了我国南方劳动人民的生产经验
 ③介绍了农作物、蔬菜和果树的栽培方法
 ④记载了畜牧捕鱼、食品酿造和加工技术

A. ①②③ B. ②③④ C. ①②④ D. ①③④

29. 1967年，国际天文学家联合会为纪念祖冲之，将月球上的一座环形山命名为“祖冲之环形山”，祖冲之的突出贡献是

A. 最早提出圆周率的计算方法
 B. 第一个推算圆周率值到小数点后第七位
 C. 最早写成数学论文集
 D. 最早计算圆周率

30. 右图是“书圣”王羲之的代表作（摹本局部），有“天下第一行书”之称。该作品是

- A. 《水经注》
- B. 《洛神赋图》
- C. 《兰亭集序》
- D. 《张猛龙碑》



二、非选择题（共 40 分）

31. 春秋战国时期是中国社会的大变革时期。阅读材料，回答问题。（8 分）

材料一



战国形势图

平王之时，周室衰微，诸侯强并弱，齐、楚、秦、晋始大，政由方伯。

——《史记·周本纪》

材料二 古书记载，春秋时期，人们已经用铁制农具耕种土地。在湖南、河南、江苏等地的春秋墓葬中，发掘出一批铁制农具。此外，至迟在春秋末年，人们已使用牛来耕地。

——人教版《历史》教材

(1) 依据材料一和材料二，概括春秋战国时期出现的社会状况。（3 分）

材料三



图一

图二

图三

(2) 材料三中三幅图片分别反映了春秋战国时期哪家的思想学说？(3分)

(3) 今天生活中有许多地方都体现了诸子百家的思想，请举一例说明。(2分)

32. 秦汉时期是我国统一多民族国家建立和巩固时期。阅读材料，结合所学知识完成下列问题。(19分)

材料一

- ①创立了专制主义中央集权制度：在中央设立皇帝制度和三公九卿制，在地方推行 A；
- ②接受董仲舒“罢黜百家，独尊儒术”的建议，把儒家学说立为正统思想；
- ③统一文字为小篆；
- ④派卫青、霍去病北击匈奴，使其无力与西汉对抗；
- ⑤统一货币为圆形方孔半两钱，统一度量衡；
- ⑥北筑长城、抗击匈奴和开发南疆；
- ⑦采纳主父偃的建议，颁行“B”，解决王国问题；
- ⑧将地方的铸币权和盐铁经营权收归中央，统一铸造五铢钱。

(1) 某同学要为秦始皇和汉武帝设计一份档案，并且事先收集整理秦始皇、汉武帝的统治措施(见材料一)，但是粗心的他把两位君主的统治措施搞乱了，还漏掉了 A、B 两处的

信息，请帮他填写完整，并将相应措施的序号，按照类别分别填写在下表中。(10分)

补充完整	A:	B:
人物名称	秦始皇	汉武帝
主要活动	政治	
	经济	
	思想文化	
	军事	

(2) 结合上表内容，选择其中一位帝王，对其进行概括评价。(2分)

材料二



(3) 观察秦朝地图，写出秦朝疆域四至。(4分)

(4) 比较两幅地图，指出西汉疆域变化最大的是哪一区域？结合所学，说明产生这种变化的原因。(3分)

密封线内不要答题

33. 阅读材料，回答问题。(13分)

材料一



西晋内迁少数民族分布图

洛阳……在今河南洛阳
长安……在今陕西西安

(1) 材料一反映了魏晋时期黄河流域的什么现象？(2分)

材料二



少数民族身着汉族服装



汉族官僚中流行胡床、胡凳



汉族妇女蒸馍与烙饼



少数民族墓葬壁画《采桑图》

(2) 依据材料二，指出这一现象促使当时的黄河流域出现了怎样的发展趋势？(2分)

材料三 自十六国以至北朝各代，统治者均沿袭中原地区的统治方式，实行君主专制制度……汉族才智之士多受到重用。如石勒之于张宾，苻坚之于王猛，宇文泰之于苏绰，都信任到言听计从的地步。

——白寿彝《中国通史》第五卷

(3) 依据材料二、材料三并结合所学，归纳这一趋势在魏晋南北朝时期有哪些表现？(5分)

材料四 经过十六国南北朝将近三百年的时间，这时他们已经完全融合在作为统一国家中主体部族的汉部族里了。这一民族大交融固然经历了长期的痛苦历程，但是由于汉族接受了新的成分，因此在经济上、文化上不但没有衰落，而且比以前更加兴盛起来。中国历史上空前强大的隋唐封建国家，就是在这种民族大交融的基础上形成发展起来的。

——王仲荦《魏晋南北朝史》

(4) 依据材料四并结合所学，谈谈这一趋势对于中华民族的发展有怎样的影响。(4分)



微信扫一扫，快速关注