

2018 北京理工分校初二（下）期中



地 理

班级_____ 姓名_____ 学号_____

一、单项选择题：（共 50 分，每小题 1 分）

- 关于北方地区气候特点的正确叙述是（ ）
A、四季如春 B、全年高温多雨
C、冬季寒冷干燥，夏季高温多雨 D、终年干燥少雨
- 我国南方民居屋顶坡度大且窗户小，北方民居屋顶坡度小且窗户大。其主要影响因素是（ ）
A、气候 B、地形
C、植被 D、河流
- 制约华北地区农业发展的主要因素是（ ）
A、植被 B、地形 C、气候 D、土地类型
- 北方地区与南方地区气候的共同特点是（ ）
A、雨热同期 B、冬季寒冷干燥
C、年降水量都在 800 毫米以上 D、1 月平均气温都在 0°C 以上
- 北方地区濒临的海洋有（ ）
① 渤海 ② 黄海 ③ 东海 ④ 南海
A、①② B、①③ C、②③ D、①④
- 位于北京，并被列入《世界遗产名录》的旅游景点是（ ）
A、沈阳故宫 B、明十三陵 C、峨眉山 D、八大处
- 窑洞是我国特有的民居，分布在（ ）
A、青藏高原 B、内蒙古高原 C、黄土高原 D、云贵高原
- 下列服饰特点能适应湿热地区的是（ ）
A、长袖、宽腰、大襟，多以毛皮为原料 B、宽大、厚重
C、质地轻、薄、软，透气性好 D、立领、圆肩、纽襟
- 北方人主食偏爱（ ）
A、米食 B、面食 C、杂粮 D、肉类
- 在我国，常用“山环水绕，沃野千里”来形容山河分布大势的地区是（ ）
A、华北地区 B、东北地区 C、南方地区 D、西北地区
- 下列语句描述北方地区的是（ ）
A、枯藤老树昏鸦，小桥流水人家
B、早穿棉袄午穿纱，围着火炉吃西瓜
C、千里冰封，万里雪飘

D、天苍苍，野茫茫，风吹草低见牛羊

12、中国年降水量在 800 毫米以上的地区是（ ）

A、北方地区 B、南方地区 C、西北地区 D、青藏地区

13、我国平均海拔最高的地区是（ ）

A、南方地区 B、北方地区 C、西北地区 D、青藏地区

14、我国南方地区与北方地区的自然地理分界线是（ ）

A、南岭—珠江 B、秦岭—黄河 C、南岭—长江 D、秦岭—淮河

15、关于我国南北方地域差异的描述正确的是（ ）

①南马北船 ②南甜北咸 ③南稻北麦 ④南干北湿

A、①② B①③、 C、②③ D、③④

16、下列关于我国秦岭—淮河一线以北地区的描述，正确的是（ ）

A、冬季气温多在 0℃ 以上 B、年降水量多在 800 毫米以下

C、河湖众多 D、河流冬季不结冰

17、我国秦岭—淮河一线是（ ）

A、热带与亚热带分界线 B、暖温带与中温带分界线

C、湿润与半湿润地区分界线 D、半湿润与半干旱地区分界线

18、我国四大地理区域中水资源最丰富的区域是（ ）

A、北方地区 B、南方地区 C、西北地区 D、青藏地区

19、澳门面积不断扩大的主要原因是（ ）

A、填海造陆 B、地壳运动 C、泥沙淤积 D、海水减少

20、我国夏季气温最低的是青藏地区，原因是（ ）

A、地势高 B、纬度高 C、离冬季风的源地近 D、有雪山

21、南方地区主要经济作物是（ ）

A、水稻 B、花生 C、甜菜 D、油菜

22、我国北方地区的森林主要分布在（ ）

A、东北平原 B、黄土高原
C、秦岭、太行山 D、大、小兴安岭和长白山

23、过去的“北大荒”，如今的“北大仓”，这里的主要农作物有（ ）

A、大豆、春小麦、玉米 B、玉米、花生、水稻
C、棉花、甘蔗、甜菜 D、冬小麦、油菜、甘蔗

24、读图 1 中甲乙两图所示的民居分别主要分布在（ ）

A、黄土高原 东北平原 B、黄土高原 华北平原
C、东北平原 黄土高原 D、华北平原 黄土高原



图 1

- 25、造成黄土高原水土流失的人为原因是（ ）
- A、降水集中在7.8月 B、地表破碎 C、土质疏松 D、长期毁林开荒
- 26、关于北京市的地形，叙述正确的是（ ）
- A、北部和西部是起伏不大的丘陵 B、西南部是连绵的山地
- C、平原和山地的过渡地带是较为平坦的盆地 D、东南部是广阔的平原
- 27、下列地形区都位于南方地区的一组是（ ）
- A、华北平原 云贵高原 B、黄土高原 东南丘陵
- C、长江中下游平原 东北平原 D、四川盆地 东南丘陵
- 28、南方地区农作物一年两熟至三熟的主要原因是（ ）
- A、农作物耕作历史悠久，劳动力充足 B、本区平原面积广大
- C、本区的土壤肥沃 D、农作物生长期长，水热条件好
- 29、台湾岛森林树种十分丰富，其原因是（ ）
- A、地处热带，水热条件好 B、台湾岛呈狭长形，南北纬度跨度大
- C、地处低纬度地区，且受地形影响垂直差异明显 D、地形平坦，土壤肥沃
- 30、香港将80%的工业转移到祖国内地，其原因是内地（ ）

- ①工业基础好 ②劳动力丰富且价格低廉
- ③自然资源丰富 ④资金雄厚

- A、①② B、②③ C、①④ D、③④

31. 北京城市的中轴线形成于明清时期，南起永定门，北至钟鼓楼，直线距离长约8公里，是世界上现存最长的城市中轴线。中轴线上汇聚了北京旧城的许多重要建筑。读图2北京中轴线示意图，识别位于南北中轴线上的建筑有（ ）



图2

- A. 德胜门箭楼 B. 东便门城楼
- C. 故宫博物院 D. 颐和园

32. 2016年3月3日到3月16日期间，在人民大会堂召开了十二届全国人大和全国政协第四次会议。这一事实说明了北京是全国的（ ）

- A. 经济中心 B. 政治中心
- C. 文化中心 D. 交通中心

黄土高原是世界最大的黄土堆积区，也是世界上水土流失最严重的地区之一。地表破碎，沟壑纵横，形成多种黄土地貌，据此回答33~34题。

33. 图3示意的黄土高原的各类地貌中，农业较发达、人口较集中的是（ ）



A

B

图3

C

D

34. 黄土高原古老的文明和独特的地理环境，形成了许多独特的民风民俗，即“黄土风情”。下列不属于“黄土风情”的是()

- A. 安塞腰鼓 B. 傣族竹楼 C. 信天游 D. 窑洞

35. 2016 年春晚，为了体现“东西南北中，全民大联欢”这一主题，央视特别设置了东（福建泉州）、西（陕西西安）、南（广东广州）、北（内蒙古呼伦贝尔）四大分会场，我国四大地理区域中设置分会场最多的区域是()

- A. 北方地区 B. 南方地区 C. 西北地区 D. 青藏地区

36. 关于南方地区的叙述，正确的是()

- A. 多水田，以种植水稻、油菜为主 B. 冬季严寒，夏季凉爽
C. 年降水量在 800mm 以下 D. 冬季河流常年结冰

读图 4，回答 37-38 题。

37. 香港和澳门有许多相似的地理特征，包括()

- ①地处我国南方地区 ②与广东省相邻
③实行“一国两制” ④以博彩旅游业为经济支柱

- A. ①③④ B. ①②③
C. ②③④ D. ①②④



图 4

38. 下列是某学校八年级学生关于“香港”专题黑板报的内容，其中表述错误的是()

- A. 香港位于珠江口东侧，深圳以南
B. 香港人多地少，通过填海造陆扩展土地
C. 由香港岛、九龙和氹仔岛三部分及周围岛屿组成
D. 香港是世界著名的自由贸易港

读图 5，回答 39-41 题。

39. 台湾岛东、西两侧濒临的海域分别是()

- A. 大西洋、琼州海峡
B. 太平洋、琼州海峡
C. 大西洋、台湾海峡
D. 太平洋、台湾海峡



图 5

40. 下列关于台湾省的美称与其自然条件的关系组合正确的是()

- A. 东方甜岛——高温多雨的热带、亚热带季风气候适合甘蔗的生长
B. 葡萄之乡——夏季日照充足、昼夜温差大，利于葡萄生长及糖分积累
C. 日光城——地势高，空气稀薄，是我国年平均日照时间最长地区之一
D. 海上米仓——临近黄河，引黄河水灌溉形成

41. 2016 年 2 月 6 日台湾省南部发生 6.7 级强震，造成人员伤亡与财产损失，下列对此次地震发生原因分析正确的是()

- A. 人为破坏生态环境所致 B. 位于太平洋板块与亚欧板块交界处
C. 地处阿尔卑斯—喜马拉雅火山地震带上 D. 地球运动所致

读图 6 “东北地区图”，完成 42-44 题

42、图中序号与所代表地形组合正确的是 ()

- A、①---小兴安岭 B、②---大兴安岭
C、③---东北平原 D、④---太行山脉

43、东北地区的传统民居墙体较南方地区的厚，其自然原因是 ()

- A、纬度高，气候寒冷
B、刮西北风，降水较少
C、地广人稀，气温日较差大
D、植被茂密，土壤肥沃

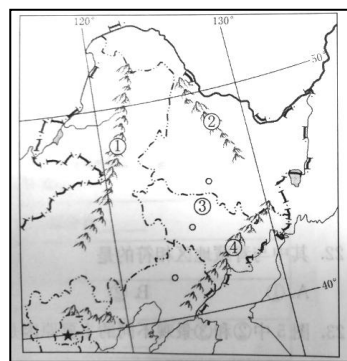


图 6

44、制约东北老工业基地发展的主要问题 ()

- A、生态破坏 B、资源枯竭
C、淡水短缺 D、城市聚集

45、东北三省农业机械化程度高的原因是 ()

- A、山区面积大 B、重工业发达
C、平原地势平坦，土壤肥沃 D、农业开发早

46、东北三省成为我国重要的商品粮基地的条件是 ()

- ①土壤肥沃 ②地形平坦 ③地广人稀 ④气候寒冷 ⑤农业技术水平高
A、①②③④ B、②③④⑤ C、①②③⑤ D、①②④⑤

47、香港最大的进出口贸易伙伴是 ()

- A、英国 B、美国 C、祖国内地 D、澳门

48、下列关于台湾省地理特征的叙述，正确的是 ()

- A、地形以平原为主 B、以热带气候为主
C、东临东海，南临南海 D、隔台湾海峡与福建省相望

49、下列关于澳门的叙述正确的是 ()

- A、位于珠江口东侧，北与珠海接壤
B、面积约 16 平方千米，人口 400 万
C、博彩旅游业是支柱产业
D、重要的转口贸易港口

50、关于北京自然环境的叙述，正确的是 ()

- A、北京市处在华北平原西北角，北面、西面多山
B、经纬度位置大致位于 116° E，40° S
C、由于北京处于半干旱地带，少有河流流经
D、气候冬冷夏热，是典型的温带大陆性气候

第二部分 综合题 (50 分)

51. 阅读图文资料，回答问题。(12 分)

上海迪士尼度假区于 2016 年 6 月 16 日正式开门迎客，并举办为期数日的盛大开幕庆典。在北京生活的刘洋同学决定暑假去上海旅游。

(1) 下面关于上海的描述中，你认为符合事实的是_____。(双选)

- A. 是我国最大的港口和金融中心
- B. 是我国政治、文化中心
- C. 水陆交通便利，能源资源丰富
- D. 经济发达，对周边地区有强大的辐射带动作用

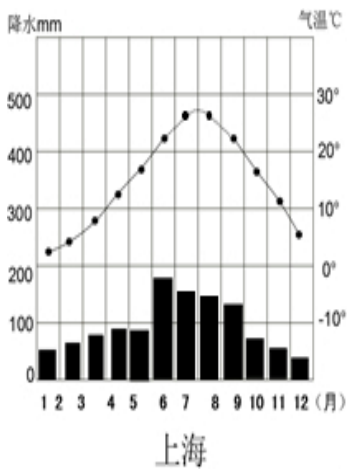


图 7

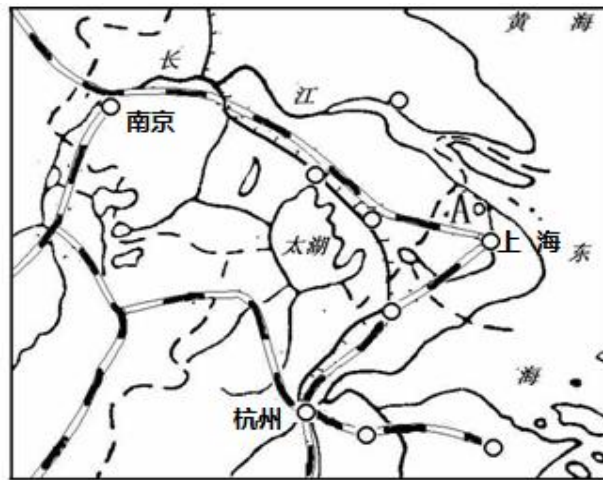


图 8

(2) 上海的气候类型为亚热带季风气候，如图 7 所示：上海最冷月平均气温为_____摄氏度，全年有_____个月降水超过 100mm，气候特点是夏季_____，冬季_____。根据上海夏季气候特点，你认为刘洋出行前应该准备好哪些物品？_____、_____。(至少两种)

(3) 上海所在的长江三角洲地区的人们利用便捷的交通工具往返于不同城市之间，就像生活在同一城市，我们将其称之为“_____效应”，便利快捷的交通给旅游提供了方便。刘洋打算顺便到上海周边地区游玩，请你帮刘洋提供上海周边地区的一些著名景点（写出三个）_____、_____、_____。

52、读图9，“中国四大地理区域图”，回答下列问题。(20分)

(1) 写出图中字母所代表的四大地理区域的名称：A_____地区、B_____地区、C_____地区、D_____地区。

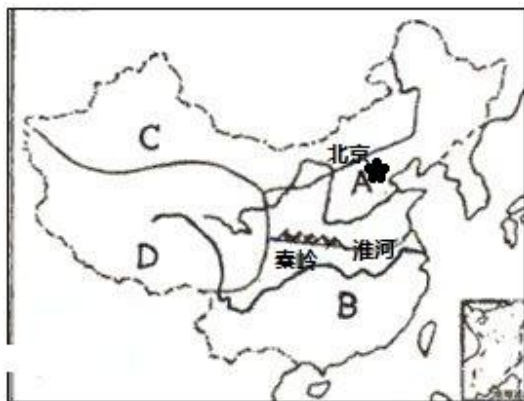


图9

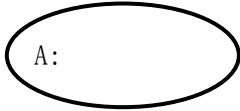
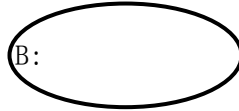
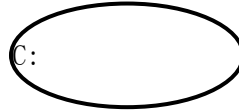
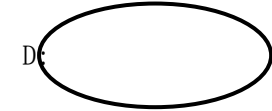
(2) 区域A与B的界线是_____和_____一线，该界线同时也是_____毫米年等降水量线和1月平均气温_____℃等温线通过的地方，可见区域 A和 B划分的主要依据是_____和_____。

(3) 区域 D与其他区域的分界线，大致和我国地势第_____级与第_____级阶梯之间的界线吻合。

(4) 将下列区域特征的序号填入代表相应区域的中。(双选)

①沙漠广布 ②河网密布 ③冬季河流不结冰 ④气候干旱、多时令河

⑤雪山连绵 ⑥夏季凉爽 ⑦7、8月为雨季 ⑧平原广阔，小麦产量大

A:  B:  C:  D: 

53、读图 10 和图 11 “黄土高原景观图”和“黄土高原水土流失示意图”回答下列问题。(8 分)

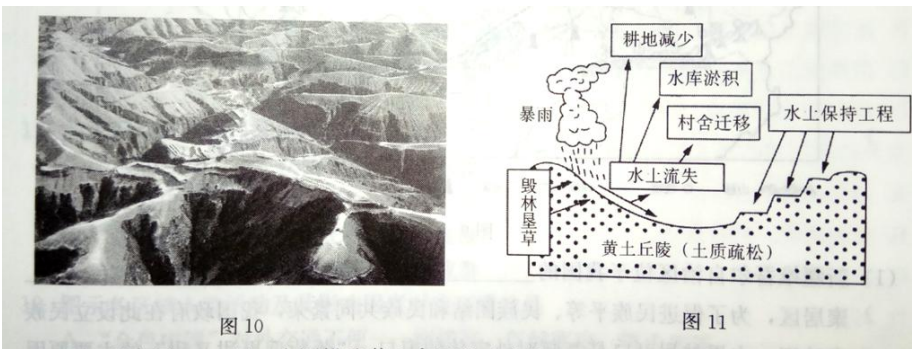


图 10

图 11

(1)、黄土高原的范围：东起_____ (山脉)，西至乌鞘岭，南抵_____ (山脉)，北连内蒙古高原，是世界上面积最大的黄土堆积区。

(2)、观察图 10，用一个词描述黄土高原的地表特征：_____

(3)、据图 11 可知，造成该区域水土流失的主要原因是_____，_____，_____等。

(4)、你认为治理黄土高原水土流失可以采取哪些有效措施？(至少两条)

54、读图 12：“南方地区”的相关图文资料，回答下列问题(10 分)

(1) 在图中适当位置填注代表以下地理事物的字母

A、横断山脉 B、秦岭 C、云贵高原 D、台湾山脉 F、四川盆地

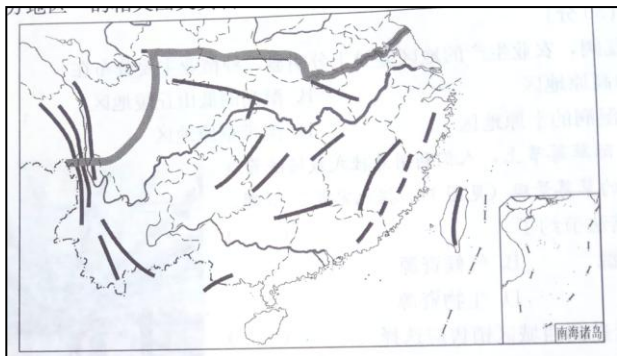
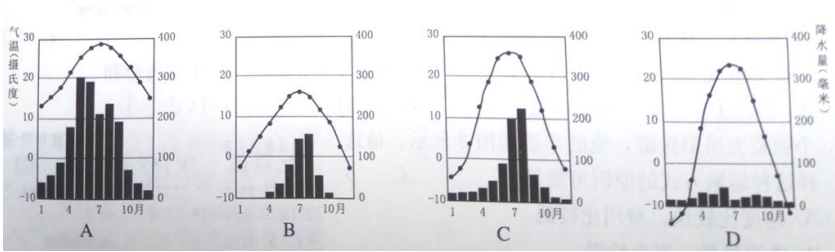


图 12

(2)、下列四幅图中，能表示南方大部分地区气候特点的是 ()



(3)、长江中下游平原自古就是“鱼米之乡”。除了气候适宜外，其发展农业的优越自然条件还有哪些？（请从地形、土壤、水源等任选两方面分析）

(4)、东南沿海地区是我国对外开放最早的地区，主要得益于这里优越的_____和便利的_____条件。

