



九年级历史

2024.01

考生须知

1. 本试卷共 8 页, 共两部分。满分 70 分。考试时间 70 分钟。
2. 在试卷和答题卡上认真填写学校名称、姓名和考号。
3. 试题答案一律填涂或书写在答题卡上, 在试卷上作答无效。
4. 在答题卡上, 选择题用 2B 铅笔作答, 其他试题用黑色字迹签字笔作答。
5. 考试结束, 将本试卷和答题卡一并交回。

第一部分

本部分共 20 小题, 每小题 1.5 分, 共 30 分。在每小题列出的四个选项中, 选出最符合题目要求的一项。

1. 北京人生存的地区有大片森林和水域, 动物出没, 水草丰美。他们采用打制方法, 制作不同类型的工具, 如尖状器、刮削器等。这些工具可用于
 - A. 采集狩猎
 - B. 刀耕火种
 - C. 家畜饲养
 - D. 精耕细作
2. 考古发现证实, 中国农业起源分为: 以长江中下游地区为核心、以种植水稻为代表的稻作农业起源; 沿黄河流域分布、以种植粟和黍为代表的北方旱作农业起源。下列能为北方旱作农业起源提供证据的是
 - A. 元谋人遗址
 - B. 山顶洞人遗址
 - C. 河姆渡遗址
 - D. 半坡遗址
3. 《史记》记载: 黄帝“与炎帝战于阪泉之野……黄帝乃征师诸侯, 与蚩尤战于涿鹿之野, 遂禽杀蚩尤。而诸侯咸尊轩辕为天子, 代神农氏, 是为黄帝。”上述记载提供的历史信息是
 - A. 炎帝和黄帝的发明创造
 - B. 部落间的攻伐与部落联盟的形成
 - C. 中国早期国家的产生
 - D. 炎帝部落与蚩尤部落的具体位置
4. 二里头遗址被学者认为是我国最早的朝代都城所在地, 这里有宫殿建筑群、大型墓葬群、平民生活区。有的墓葬随葬品很多, 有的墓葬一无所有。该遗址反映出
 - A. 夏朝存在阶级分化和等级界限
 - B. 商朝社会贫富分化严重
 - C. 西周是当时世界上最大的王朝
 - D. 战国时期社会矛盾激化



5. 下图是汉字“妆”的演变历程。据此判断

甲骨文	金文	小篆	隶书	楷书
				妆

- A. 汉字的发展一脉相承
B. 汉字不具备象形特征
C. 汉字造字方法固定单一
D. 甲骨文反映商周历史
6. 西周时期,“封建亲戚,以藩屏周”的主要目的是
- A. 加强思想控制
B. 强化诸侯权力
C. 巩固西周统治
D. 增加财政收入
7. 商鞅变法使秦国国力大增,提高了军队战斗力,为秦国统一全国奠定了基础。其主要内容包括
- ①推行行省制 ②确立县制 ③奖励军功 ④鼓励耕织
- A. ①②③ B. ①②④ C. ①③④ D. ②③④
8. 西汉初年经济凋敝,民不聊生,国力衰微。针对这一局面,统治者
- A. 实行严刑峻法
B. 采取休养生息政策
C. 推行汉化措施
D. 实行重文轻武政策
9. 右图邮票以某历史人物第一次出使西域为背景,描绘了他摆脱匈奴长年囚禁后仍心系使命、继续前行的场景。该历史人物是



- A. 张骞
B. 张仲景
C. 王羲之
D. 贾思勰
10. 以下是一位同学绘制的知识结构示意图。其中①处应为
- A. 夏商周的更替
B. 动荡的春秋时期
C. 汉武帝巩固大一统
D. 东汉的兴衰



11. 《时代》周刊曾经评选了有史以来的最佳发明家,中国的蔡伦榜上有名。他能入选是因为其发明
- A. 丰富了传统医学的理论
B. 促进了文化传播
C. 推动了航海技术的发展
D. 影响了作战方式
12. 魏晋南北朝时期,刘徽提出了计算圆周率的科学方法,祖冲之在此基础上计算出圆周率的数值在 3.1415926 与 3.1415927 之间。这体现了
- A. 数学在传承中不断发展
B. 中国古代科技吸收外来成就
C. 数学成就达到最高地位
D. 数学理论在社会上广为传播



13. 对右侧示意图理解正确的是

- A. 加强对边疆地区管辖
- B. 削弱了地方豪强势力
- C. 导致民族政权的并立
- D. 促进江南地区的开发



14. 隋朝时,中国古代选官制度出现重大变革,加强了皇帝在选官和用人上的权力,扩大了官吏选拔的范围,促进了社会阶层的流动。这一制度是

- A. 禅让制
- B. 世袭制
- C. 三省六部制
- D. 科举制

15. 唐朝时,世界上有 70 多个国家或地区与中国有往来。大食派使臣与唐朝通好,先后 40 多次,新罗派使节和大批留学生到唐朝学习中国文化。上述现象反映了

- A. 政治制度创新
- B. 经济迅速发展
- C. 文学艺术繁荣
- D. 中外友好往来

16. 下图为学生制作的思维导图,图中①处应为



- A. 西欧庄园
- B. 城市法庭
- C. 租地农场
- D. 自治城市

17. 有学者指出:“文艺复兴”关心的是今世而不是来世;它关注的是非宗教的古典文化而不是基督教神学。”该学者意在说明文艺复兴

- A. 兴起的背景
- B. 倡导的思想
- C. 运动的性质
- D. 深远的影响

18. 1542 年出版的《植物志》收录了原产于美洲的玉米植株图(如右图),

“它现在生长在德国的庭院中,几乎到处都是。”这主要是因为

- A. 启蒙运动推动绘画艺术繁荣
- B. 新航路的开辟促进物种交流
- C. 三角贸易利于资本原始积累
- D. 工人运动在德国迅速地扩展



19. “光荣革命是英国历史的转折点,从表面上看似乎一切都没有变化,只是换了国王,但实质上新国王是议会创造出来的,没有议会就没有国王的王位……既然创造了国王,主权当然在议会了。”这可用于研究英国

- A. 开始了海外殖民扩张
- B. 确立了君主专制制度
- C. 逐渐形成君主立宪制
- D. 确立了民主共和制度

20. 德国的特里尔市充满了马克思的印迹;很多红绿灯都闪烁着他的卡通像;不少公交车上也印有他的头像;售卖与他有关的纪念品店铺随处可见。出现上述现象是由于马克思

- A. 建立第一个社会主义国家
- B. 创立了科学社会主义理论
- C. 推翻了德国资产阶级统治
- D. 建立第一个无产阶级政权



第二部分

本部分共4题,共40分。

21. (10分)典籍中的历史

古代将中华典籍的文化形态分为经、史、子、集四大类别,现代研究则按照“一文、史、哲”三个大类。其中,哲学典籍主要包括“十三经”及其他有关诸子论说的典籍等,史学典籍包括“二十四史”及《资治通鉴》《史通》《文史通义》等,文学典籍包括楚辞、文选、唐诗、宋词、元曲、四大名著等。此外,还有其他关于医学、农学、科学、军事等内容的典籍。

——摘编自任兵辑,李阳《回归经典》

(1)依据材料一,概括典籍的特点。(2分)

材料二 东汉造纸术改进以后,撰写编篡书籍越来越方便。郦道元生于南北朝对峙、战乱频仍的时代,深知地理形势对于战争胜负的重要作用,因此,《水经注》中记载了许多军事地理内容。

郦道元认为,前代地理文献对于山川地理记载短疏漏缺,且历史变迁和地貌地形变化,导致史志舆图记载与实际出入很大。为此,他以非凡的毅力,尽其所能进行实地考察勘验。郦道元限于当时南北分立而不能足履南方,因此,记述南方地理时,经常认真地核验各种文献,校考相关记载。

——摘编自鲍运航《郦道元撰著〈水经注〉动因探析》

(2)依据材料二,从个人和社会的角度分析《水经注》成书的因素。(4分)

材料三

典籍	内容(节选)
①《周易》	积善之家,必有余庆;积不善之家,必有余殃
②《逸周书》	春三月,山林不登斧,以成草木之长;夏三月,川泽不入网罟(渔网),以成鱼鳖之长
③《论语》	学而不思则罔,思而不学则殆
④《孝经》	天地之性,人为贵。人之行,莫大于孝
⑤《孟子》	不违农时,谷不可胜食也;数罟不入洿池(水塘),鱼鳖不可胜食也
⑥《左传》	国之兴也,视民如伤,是其福也;其亡也,以民为土芥,是其祸也
⑦《管子治要》	昔夏殷周……三代之君,与天下共其民,故天下同其悦也;秦王独制其民,故倾危莫救也
⑧《船山遗书》	学非有碍于思,而学愈博则思愈远;思正有功于学,而思之困则学必勤

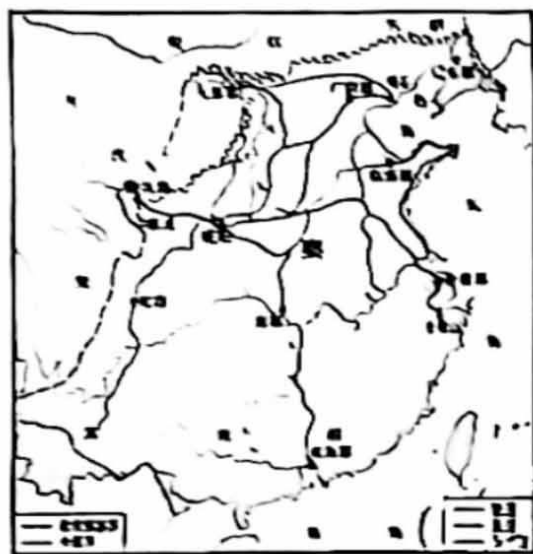
(3)从材料三中选择两项内容,参照示例,对其体现的共同观点进行阐释。(4分,示例组合除外)

示例:①④体现了中国传统文化重视“孝”、“善”等美德,为古代社会的道德规范提出了要求,对于个人修养提升与社会文明建设有重要意义。



22. (10分) 交通是国家发展的基础工程。

材料一



秦朝道路示意图

始皇二十六年,秦既统一中国,《史记》记其统一后的大政,以“车同轨”和“一法度衡石丈尺”“及书同文字”同列……“车同轨”在字面上,虽只是要各处车辙的度数相等,要各轮间的距离划一;实际上,也就告诉我们,这时的车辆已可畅行中国各处,这时的交通情形已需要车辙和车轮度数的划一;如果车辙和车轮的度数不能划一,一辆车子便不能畅行各处,便不能适应这个新时代的需要。

——摘编自白寿彝《中国交通史》

- (1) 依据材料一并结合所学,写出“这个新时代”的特征。(1分) 运用材料一中的两项史实,说明秦朝交通如何适应“这个新时代的需要”。(3分)

材料二



—运河 —陆上丝绸之路 —海上丝绸之路

(隋)炀帝于大业六年……从洛阳开凿南通余杭、北抵涿郡的南北大运河,全程2700公里,将黄河流域和长江流域两大文明连接为一个整体。

唐王朝建都长安,当时的长安是一座世界性的大都会,有百万人口。比之前期,大唐王朝更需要大运河为其漕运服务。




——摘自翁淮南

《大运河:千年流动的文化血脉》

- (2) 依据材料二,写出地图中①处的地名,(1分)并分析大运河的作用。(3分)



材料三

 ①八思巴文虎符圆牌	 ②《真腊风土记》书影	 ③出使波斯国石刻(拓片)
<p>元朝在全国设立了四通八达的驿站,使者往来于各个驿站之间需要相关凭证,虎符圆牌起到凭证作用</p>	<p>描述了元朝使者从泉州、温州港出发,前往真腊(今柬埔寨)出访的见闻</p>	<p>记载了泉州籍海外贸易商人受波斯国之托向元朝呈送贡品的情况。此人又被委派为中国使者出使波斯</p>

(3)元代中外交通发达。运用材料三中的史料论证这一观点。(2分)

23. (10分) 技术变革与社会发展

材料一

出土地点	铁农具数	耕垦农具数	耕垦农具所占百分比
燕汉旗老虎山	35	20	57.1%
长治分水岭	21	18	85.7%
兴隆寿王坟	52	47	90.3%
辉县固围村	58	54	93.1%
长沙、衡阳61座墓	17	16	94.1%

(1)依据材料一,写出战国时期出现的社会现象。(1分)结合所学,分析这一现象对当时社会产生的影响。(2分)



材料二 在翻土整地方面,唐朝时期最突出的就是犁的结构的一次重大改进。江东犁由11个部件构成,犁铧已缩短,并由直犁改为曲犁,犁重减轻,单牛牵引即可,因而操作灵活,易于转弯,增添了犁评,可调节入土的深浅。在灌溉提水方面,发明了风车、水轮等效率更高的水车。

唐开元四年,宰相姚崇根据蝗虫夜间赴火的常识,指出“夜中设火,火边掘坑,且焚且掩(掩埋),除之可尽”的除蝗办法……南方一些先进的农业生产区,如江浙一带,为了达到深耕,秋收后、秋冬、春二月等季节再三耕、炒、耙,以使土细如面;而为求熟得,同时重视中耕除草。

——摘自齐涛《中国古代经济史》

(2)依据材料二,概括唐朝时期农业技术革新的表现。(3分)

材料三 1771年阿克莱特在克罗姆福德建立第一个水力纺纱厂,建厂时雇佣300多人,厂房为一个四层建筑,到1816年,达到727人。

阿克莱特在短短二十年间投资兴建了十多个纺纱工厂,1790年,在诺丁汉工厂中引进第一个博尔顿—瓦特蒸汽机……为了规范经营管理,他奔波在各个厂区间,阿克莱特在其工厂中施行日夜两班轮流换班的做工制度,每班工作12小时,期间休息一小时以使用餐。

——摘编自张博琚《阿克莱特的工厂制投资及其影响》

(3)依据材料三,概括阿克莱特工厂的主要特征。(3分)结合所学,分析其意义。(1分)

24. (10分) 革命·时代·浪潮

材料一 19世纪政治思想家托克维尔曾在英国考察了9个月,写下了名著《论美国的民主》。

为摆脱英国羁绊的十三块殖民地,有强大的理由彼此联合起来。但自缔结和约后,国家好像一下子解体了。每个殖民地都成了一个独立的共和国……与联邦政府软弱无力,眼看着船舶上悬挂的国旗被欧洲大国掠夺而毫无办法,而且当时也没有力量支付独立战争时期所举债务的利息……但是,看到政府的车轮已经停止转动后,立法者足足用了两年时间去寻找医治办法,经过两年的空白期,新的联邦政府于1789年开始工作

(1)依据材料一,概括美国独立后面临的问题。(2分)结合所学,写出美国寻找到的“医治办法”。(2分)

材料二 艺术作品是时代的反映



		
<p>《猪的一家被带回猪圈》</p>	<p>《英雄交响曲》</p>	<p>《1808年5月3日》</p>
<p>该漫画旨在讽刺出逃失败后路易十六一家被送回王宫的情景。路易十六由原来的“伟大父王”形象，被画成了人头猪身。“猪回到猪圈”，意味着王权名存实亡</p>	<p>1804年贝多芬创作，扉页上写着“献给波拿巴”。当听说拿破仑称帝时，他愤怒地撕碎乐词。1806年《英雄交响曲》最终出版时，扉页上改为“为纪念一位伟人而创作的英雄交响曲”</p>	<p>该画描绘法军入侵西班牙，杀害西班牙民众的场景。入侵引发当地民众的反抗，但也传播了大革命的成果。1812年西班牙借鉴法国1791年宪法，颁布了君主立宪制宪法</p>

(2) 依据材料二，说出三个艺术作品共同反映的重大历史事件。(1分) 结合所学，分析其影响。(2分)

材料三 16—18世纪的200年间，欧美地区的科学革命、思想革命、政治革命和产业革命接踵而至，在英、美、法等国首先塑造了现代社会的原型。此后，就开始了工业文明即资本主义向全球的扩展，随之带来了社会生产力的巨大发展。与此同时，以西欧国家为中心的殖民体系作为工业文明扩展的载体而建立起来，到19世纪后期，随着殖民地的“全球化”而形成了世界历史的第一种结构形态——欧洲列强支配的资本主义世界体系。

——摘自王斯德《世界通史》

(3) 综合上述材料并结合所学，谈谈对资本主义发展的认识。(3分)



丰台区 2023~2024 学年度第一学期期末练习

九年级历史参考答案及评分标准

2024. 01

第一部分 (每题 1.5 分, 共 30 分)

题号	1	2	3	4	5	6	7	8	9	10
答案	A	D	B	A	A	C	D	B	A	C
题号	11	12	13	14	15	16	17	18	19	20
答案	B	A	A	D	D	C	B	B	C	B

第二部分 (共40分)

21. (10分)

(1) 特点: 类别多样, 内容丰富, 注重实用性, 具有连续性。(2分)

(2) 个人: 毅力非凡, 严肃审慎的态度; 注重实地考察, 注重搜集、运用各种文献。

社会: 造纸术的改进; 南北朝政局动荡; 前人著作提供研究基础, 同时也需要完善。

(4分)

(3) 阐释: ③④提出了“学思并重”等学习方法, 为学习者提供了方法的指导, 对于提高个人学习能力有重要意义。(4分)

22. (10分)

(1) 特征: 统一多民族国家的建立。(1分)

说明: 全国的交通以都城咸阳为中心; 修筑的各种类型道路, 构成了全国性道路网; 秦始皇下令统一车辆和道路的宽窄。这些举措加强了各地联系, 以适应统一的需要。(3分)

(2) 地名: 涿郡。(1分)

作用: 加强南北交通, 加强南北地区政治、经济和文化的交流; 为长安提供交通运输服务; 把陆上丝绸之路与海上丝绸之路联系起来。(3分)

(3) 史料①描述了使者往来于各个驿站之间, 虎符圆牌起到凭证作用, 佐证了元朝驿站的发展, 说明元朝的交通发达。

史料②描述了元朝使者从海上出访真腊, 佐证了元朝海上交通范围, 说明元朝交通发达。

史料③记载了泉州海外贸易商人往来于波斯与元朝, 佐证了元朝海上交通范围, 说明元朝交通发达。(2分)

23. (10分)

(1) 现象: 铁农具广泛应用。(1分)

影响: 促进生产力的发展(或促进了农业的深耕细作或冶铁业有所发展); 井田制遭到破坏, 土地私有化程度加深; 分封制破坏, 诸侯兼并。(2分)

(2) 表现: 农具的改进; 采用除蝗虫办法; 耕作技术的进步。(3分)

(3) 特征: 工人集中在一定规模的工厂里工作, 使用机器进行生产, 有严格的管理制度。(3分)

背景: 工业革命或开展技术革新(1分)

24. (10分)

(1) 问题: 没有一个强有力的中央政府; 面临内政外交的困境。(2分)

办法: 颁布 1787 年宪法; 确立联邦制原则; 三权分立原则。(2分)

(2) 事件: 法国大革命(1分)

影响: 法国大革命摧毁了法国的君主统治, 传播了资产阶级自由民主思想, 具有世界性影响。(2分)

(3) 资本主义的发展, 打击了封建专制制度, 促进了政治上民主化; 经济上, 开展工业革命, 使生产力获得迅猛发展; 但资本主义的发展是建立在剥削的基础上, 具有明显的局限性。(3分)