



本试卷包括二道大题，共 10 页，100 分。答题用黑色字迹签字笔作答。考生需将答案填写在答题卡相应题号下。考试结束后只收答题卡，不收试卷。认真填写答题卡上的学校、班级、姓名、准考证号。

一、单项选择题

本大题共 25 小题，每小题 2 分，共 50 分。在每小题列出的四个选项中，选出最符合题目要求的一项。

2019 年 7 月 6 日在阿塞拜疆巴库举行的第 43 届联合国教科文组织世界遗产委员会会议上，中国浙江“良渚古城遗址”获准列入《世界遗产名录》。至此，中国世界遗产总数已达 55 处，位居世界第一。读图 1 和材料 1 回答 1-4 题。

材料 1：世界遗产委员会则给良渚古城遗址的评价是：代表中国 5000 多年前伟大史前稻作文明的成就；是杰出的城市文明代表；填补了世界遗产名录东亚地区新石器时代城市考古遗址的空缺。

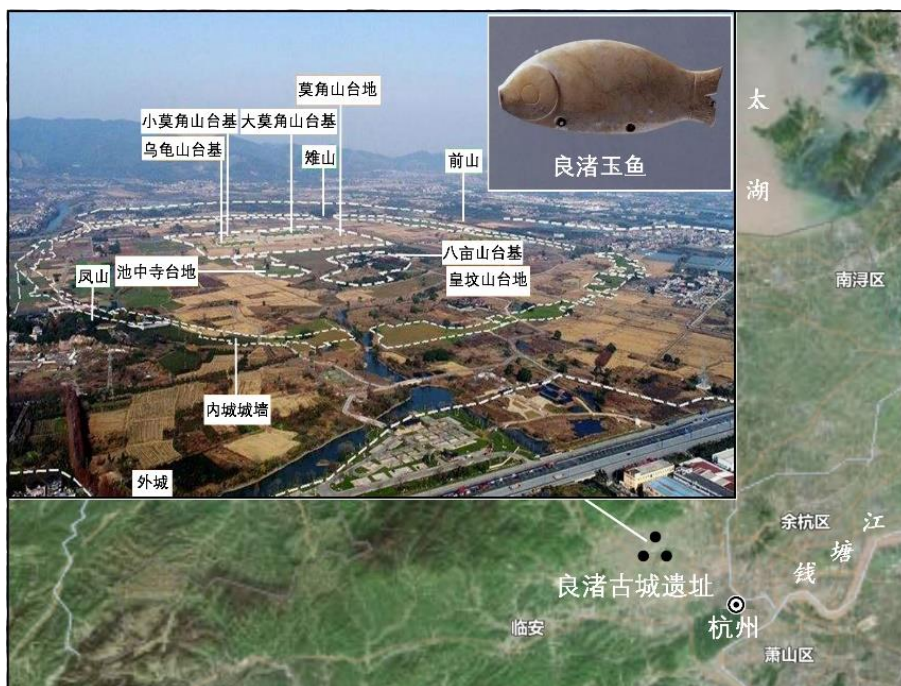


图 1 良渚古城遗址

1. 中国世界遗产总数（包括自然遗产、文化遗产，自然与文化双重遗产、文化景观）位居世界第一，这说明中国

- | | |
|--------------|--------------|
| ①是历史悠久的文明古国 | ②自然和人文景观独具特色 |
| ③经济发展快，旅游意愿强 | ④重视遗产的传承与保护 |
| A. ①②③ | B. ②③④ |
| C. ①③④ | D. ①②④ |

2. 良渚古城遗址所在的浙江省

- | | |
|----------|----------|
| ①行政中心为福州 | ②有著名的钱塘江 |
|----------|----------|



③夏季高温多雨，冬季温和少雨 ④低山丘陵分布广

A. ①②③ B. ②③④ C. ①③④ D. ①②④

3. 良渚古城遗址出土的最具代表性的文物之一是

A. 玉器 B. 青铜器 C. 铁器 D. 瓷器

4. 下列关于良渚古城历史与文化价值的叙述，不正确的是

- A. 中国先民早在 5000 年前就掌握了水稻种植技术
- B. 是世界古代城市文明的杰出代表
- C. 填补了世界遗产名录东亚地区新石器时代城市考古遗址的空缺
- D. 证明世界各地的文明史均源于中国

读图 2 回答 5-7 题。

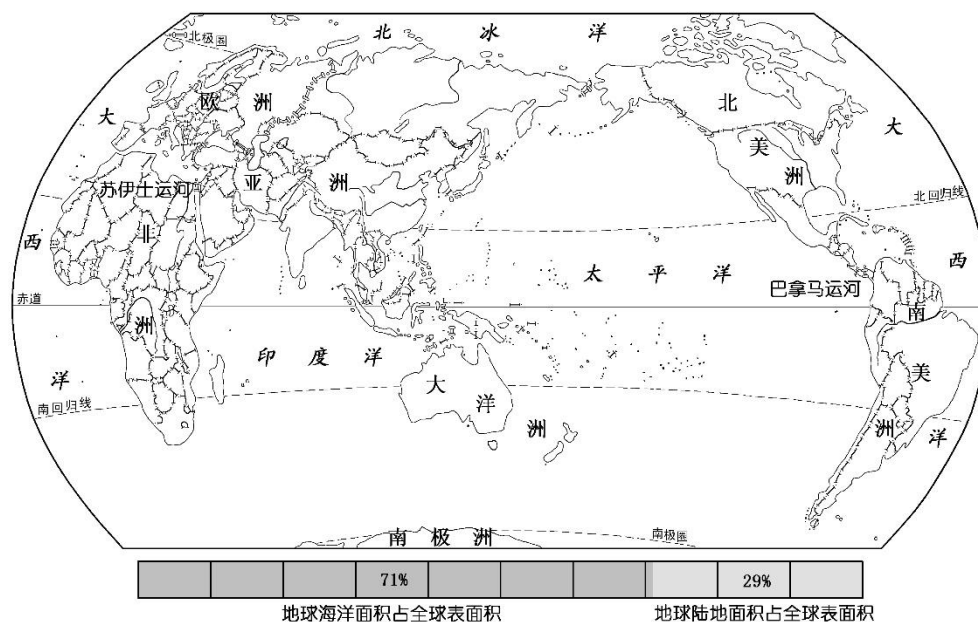


图 2 世界海陆分布

5. 关于世界海陆分布的叙述，正确的是

- A. 地球表面海洋相连，陆地也相连
- B. 海洋面积与陆地面积比为 71：29
- C. 七大洲中，南极洲跨纬度最多
- D. 北半球陆地面积比南半球陆地面积小

6. 关于七大洲的叙述，正确的是

- A. 亚洲面积最大，南极洲面积最小
- B. 巴拿马运河是南、北美洲的分界线
- C. 南极洲被四大洋包围
- D. 亚洲、欧洲、北美洲全部位于北半球

7. 关于四大洋的叙述，正确的是



- A. 大西洋跨经度最多
- B. 太平洋面积最大
- C. 印度洋全部位于南半球
- D. 北冰洋纬度最低

2019 年是亚太经济合作组织（APEC）成立 30 周年。图 3 为该组织成员示意图，读图回答 8-9 题。



图 3

8. APEC 成员

- A. 遍布六大洲
- B. 均为发达国家
- C. 分布在太平洋沿岸
- D. 包括中、美、俄、英、法等国

9. 图中 APEC 成员所在大洲

- A. ①人口众多，所以各平原都成为重要人口聚居地
- B. ②岛屿众多，多珊瑚岛，受全球变暖影响，很多岛屿面临被淹没的危险
- C. ③纬度跨度大，地势中部低四周高，东西沿海地区气候呈狭长分布
- D. ④位于南半球，多为发展中国家或地区，使用英语人数众多

脑洞大开，跟着大咖一起 K 地理，据下面三幅图回答 10-12 题。

10. 读图 4 可得出的结论是

- A. 太平洋面积大于七大洲之和
- B. 所有大陆简单拼合在一起
- C. 反映了大洲与大洋的位置关系
- D. 图中找不到太平洋轮廓

11. 加拿大有一半以上人口生活在图 5 中的黑色部分，说明加拿大人口

- A. 都定居在城市
- B. 数量极少
- C. 分布极不均匀
- D. 白色部分无人定居

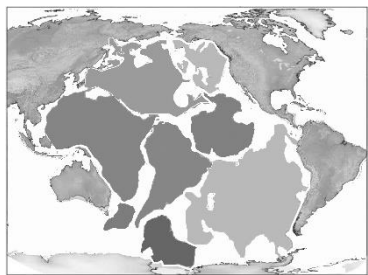


图 4

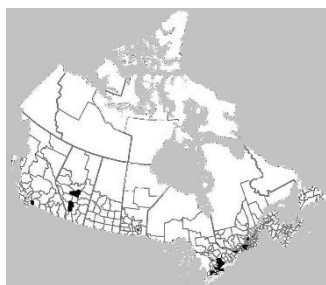


图 5

12. 读图 6 可得出的结论是

- A. 陆地浅颜色部分是降水较多、植被较好的地区
- B. 陆地浅颜色部分是主要农业种植区
- C. 甲乙两点间的直线是沿纬线航班线
- D. 在不跨越任何大洋的前提下，甲乙两点是人类可以走的最长直线距离



图 6

读图 7 回答 13-14 题。

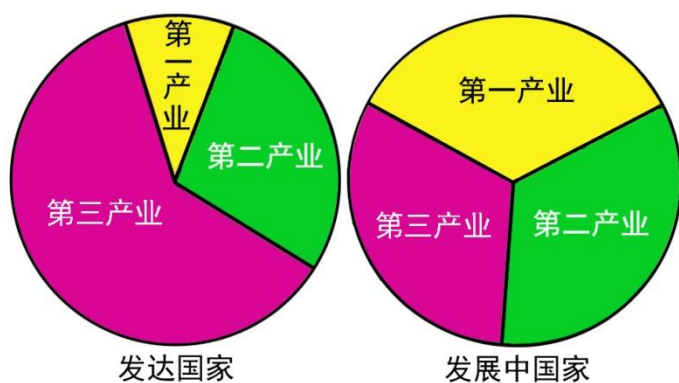


图 7 发达国家和发展中国家产业结构

13. 下列关于发达国家和发展中国家产业结构的叙述，正确的是

- A. 发达国家第三产业发达，占比达 60%以上
- B. 发展中国家第三产业发达，占比达 50%以上



- C. 发达国家第一产业落后，农业现代化水平低
- D. 发展中国家三次产业占比均衡，说明产业结构合理

14. 下列国家中第三产业发达的是

- A. 中国
- B. 美国
- C. 巴西
- D. 印度

15. 下列关于气候对生产、生活影响的叙述，正确的是

- A. 北京冬季寒冷，居民喜欢吃火锅
- B. 冬季的广州是欣赏雾凇的绝佳地点
- C. 长江中下游地区适合香蕉等多种水果的生长
- D. 青藏高原地区的居民一年到头都穿皮袄

“一带一路”是指“丝绸之路经济带”和“21 世纪海上丝绸之路”。第二届“一带一路”峰会于 2019 年 4 月 25 日至 27 日在北京举行，来自 150 多个国家和 90 多个国际组织领导人及嘉宾出席论坛，习主席做主旨演讲，提出了共建“一带一路”“要秉持共商共建共享原则”，指出互联互通是关键。据图 8 回答 16-19 题。

16. 关于陆上丝绸之路起点、经过地区、终点的叙述，正确的是

- A. 广州-科伦坡-鹿特丹
- B. 西安-阿拉木图-杜伊斯堡
- C. 西安-乌鲁木齐-霍尔果斯
- D. 广州-河内-雅加达

17. 作为早期收获项目，中国援建斯里兰卡的汉班托塔港已经建成并投入使用，这个项目属于互联互通中的

- A. 政策沟通
- B. 设施联通
- C. 资金融通
- D. 民心相通

18. 斯里兰卡是“21 世纪海上丝绸之路”沿线的重要国家，发展经济的最大优势是

- A. 自然资源丰富
- B. 位于热带，气候适宜
- C. 工业基础好，科技力量强
- D. 港口多，交通便利

19. 中国提出共建“一带一路”构想，目的之一是

- A. 让沿线国家都接受中国领导
- B. 无偿援助沿线所有国家
- C. 维护世界和平
- D. 为发展中国家营造更多发展机遇和空间

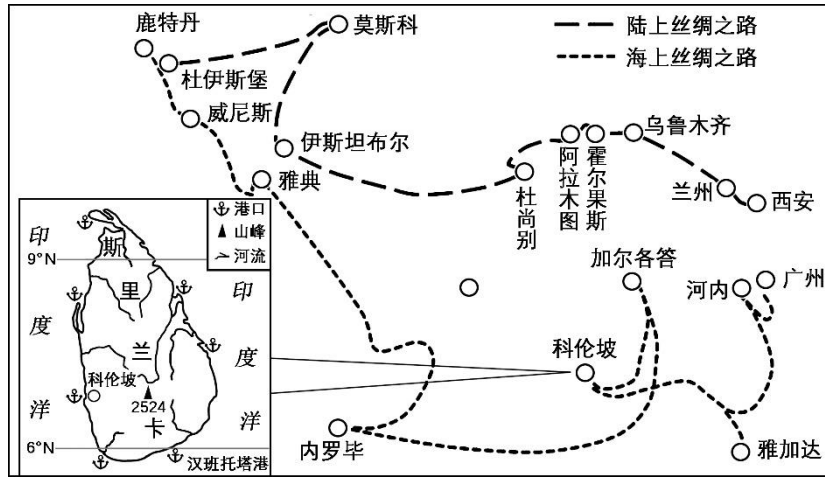


图8 “一带一路”示意图

20. 图9中的四种发现不属于“沧海桑田”的是



图9

21. 下列有关国际合作的叙述，正确的是

- A. 发达国家没有必要与发展中国家进行合作
- B. 发展中国家没必要学习发达国家的先进技术，应自力更生发展生产
- C. 发达国家可以向发展中国家倾销商品
- D. 任何国家要想存在与发展都必须与其他国家进行合作

读图10回答22-23题。

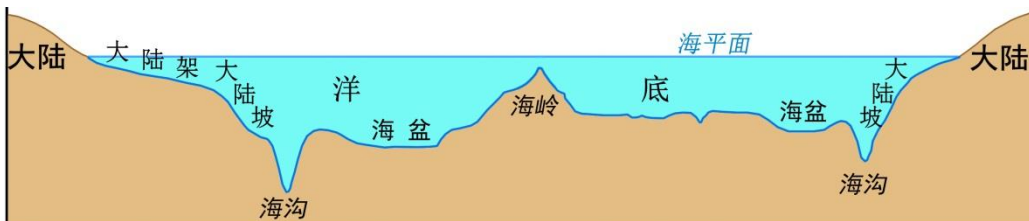


图10 海底地形剖面示意

22. 距离大陆较远，在洋底相对凸出的海底地形是

- A. 大陆架
- B. 海沟
- C. 海岭
- D. 海盆



23. 下列关于海底地形分布或特征的叙述, 正确的是

- A. 大陆架深度一般不超过 200 米
- B. 海盆面积很大, 海底起伏也很大
- C. 海岭就是露出海面的山脉
- D. 海沟是环大洋分布的

读图 11 回答 24-25 问题。

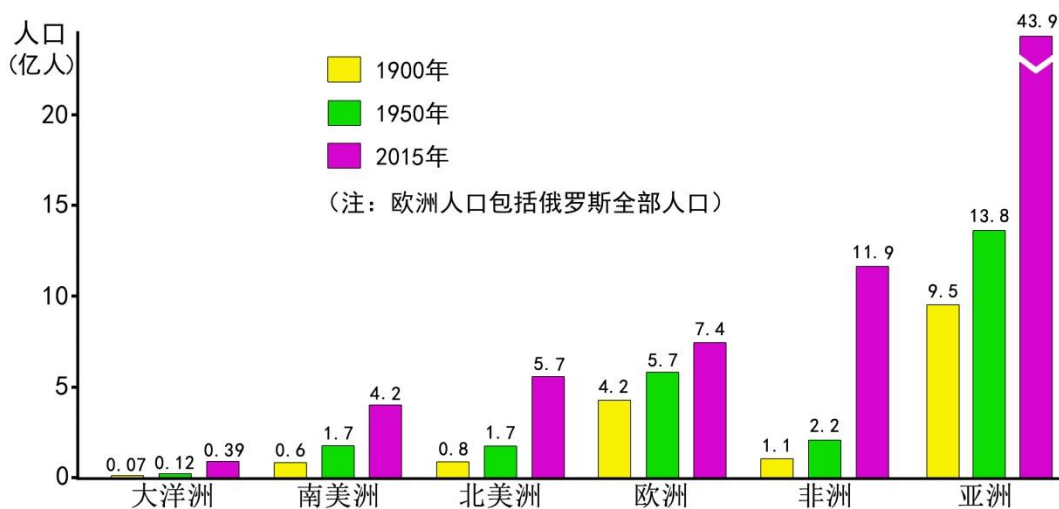


图 11 世界各洲人口的增长

24. 2015 年与 1900 年相比, 亚洲人口总数大约增长了

- A. 3.6 倍
- B. 2.2 倍
- C. 1 倍以下
- D. 5 倍以上

25. 1900 年至 2015 年人口增长率最高的是

- A. 亚洲
- B. 非洲
- C. 大洋洲
- D. 北美洲

二、综合题 (本大题共 4 道小题, 共 50 分)

26. (13 分) 读图 12、图 13, 回答下列问题。

(1) 将图 12 中的字母与图 13 中的动物序号连起来。(9 分)

- A——
- B——
- C——
- D——
- E——
- F——
- G——
- H——
- I——

(2) 分析北极熊分布与自然环境的联系。(4 分)

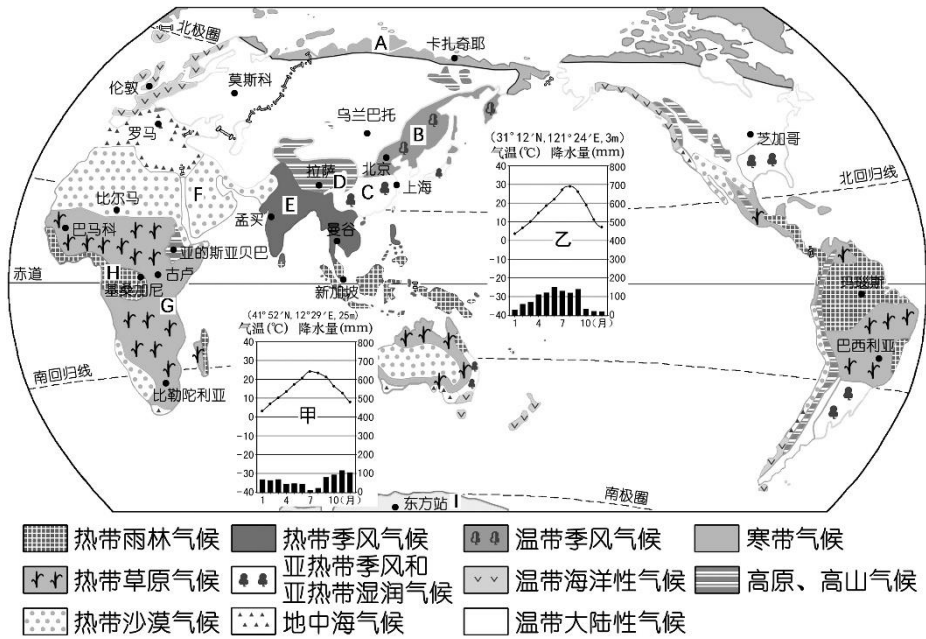


图 12 世界气候类型分布



图 13 自然界中的野生动物

27. (13 分) 读图 14 回答下列问题。

- (1) 甲是_____山脉, 乙是_____山脉。(2 分)
- (2) 欧洲东部以_____(地形类型)为主, 非洲东南部以_____(地形类型)为主。(2 分)
- (3) 世界上最高的大高原是_____, 面积最大的高原是_____。(2 分)
- (4) 南、北美洲西部沿海是_____山系, 非洲中部是_____盆地。(2 分)
- (5) 判断正误, 在正确的说法后画“√”; 在错误的说法后画“×”。(5 分)

a. 亚洲地形复杂多样。

- b. 非洲北部地形以高原为主。
- c. 北美洲地势特征为东西两边高，中部低。
- d. 欧洲地形以高原为主。
- e. 大洋洲都是平原

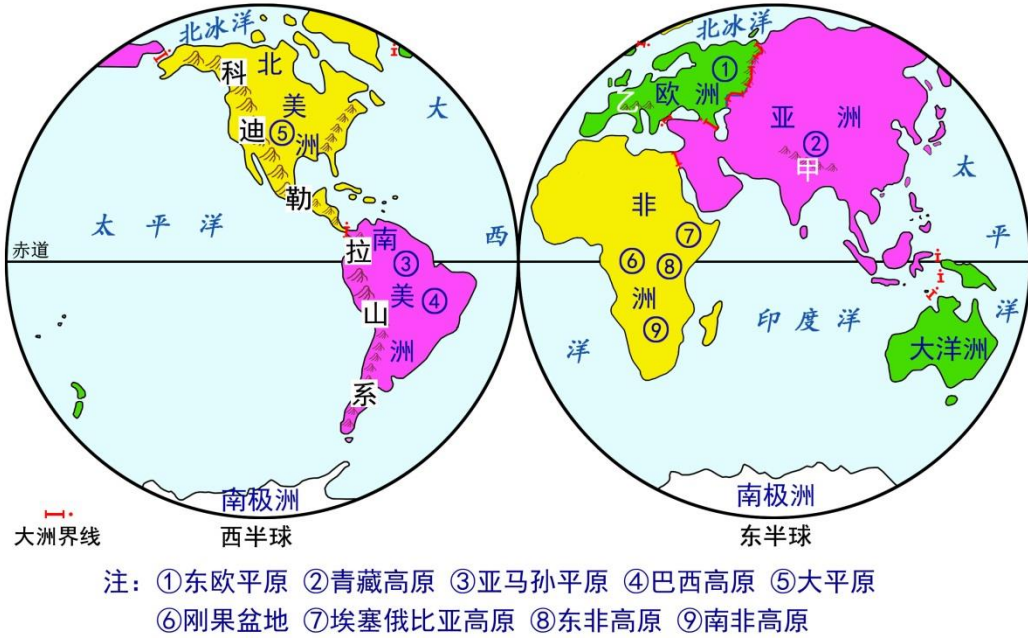


图 14 世界主要地形区分布

28. (12分) 读图 15 回答下列问题。

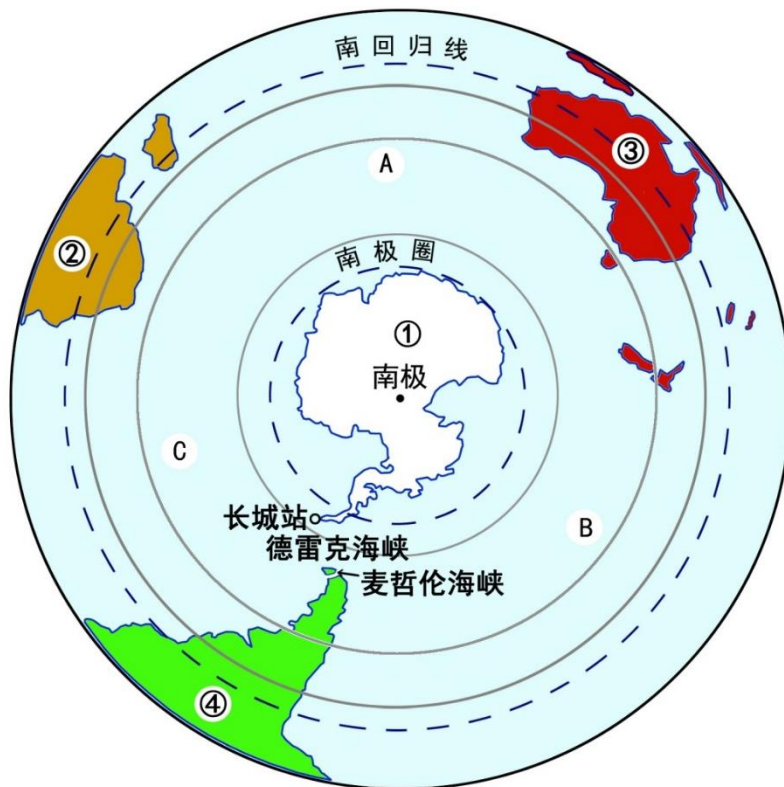


图 15 南半球图



(1) ①是_____洲, ②是_____洲, ③是_____洲。(3分)

(2) A是_____洋, B是_____洋, C是_____洋。(3分)

(3) 判断下列说法是否正确, 在正确的说法后打“√”, 错误的说法后打“×”。(4分)

- a. 从南极上方看, 地球自转方向是逆时针。
- b. 麦哲伦海峡是大西洋通往太平洋的重要海上航道。
- c. 图中陆地部分7月份气温都低于 0°C 。
- d. 南极大陆附近不是地震多发区。

(4) 结合中国队去南极长城站考察, 描述一下德雷克海峡的位置及自然环境特点。(2分)

29. (12分) 读图16, 回答下列问题。

(1) 聚落分为城市和乡村两大类。A图是_____, B图是_____。(2分)

(2) 比较城市聚落和乡村聚落的景观差异。(8分)

	城市	乡村
房屋类型特点		
道路类型特点		
生产设施特点		
服务设施特点		

(3) 谈谈自家居住地的环境特点及改善居住地环境的设想。(2分)



A



B

图16 城市与乡村景观

2020 北京顺义初二（上）期末地理



参考答案

I. 评分标准

本试卷包括二道大题，满分为 100 分。每题具体分值参见试卷。

II. 参考答案

一、单项选择题（本大题共 25 道小题，每小题 2 分，共 50 分）

题号	1	2	3	4	5	6	7	8	9	10	11	12	13
答案	D	B	A	D	B	B	B	C	B	A	C	D	A
题号	14	15	16	17	18	19	20	21	22	23	24	25	
答案	B	A	B	B	D	D	D	D	C	A	A	B	

二、综合题（本大题共 4 道小题，共 50 分）

26. (13 分) (1) A——③ B——⑦ C——①
D——⑨ E——⑤ F——⑧
G——② H——⑥ I——④

(2) 自然界中的各种野生动物都与当地自然环境密不可分，北极熊脂肪厚，适合在严寒条件下生存，因此，多分布在北冰洋沿岸地区。

27. (13 分) (1) 喜马拉雅 阿尔卑斯 (2) 平原 高原 (3) 青藏高原 巴西高原

(4) 科迪勒拉 刚果 (5) a. √ b. × c. √ d. × e. ×

28. (12 分) (1) ①南极 ②非 ③大洋 (2) A 印度 B 太平 C 大西

(3) a. × b. √ c. × d. √

(4) 德雷克海峡位于南纬 60 度附近，介于南美洲和南极半岛（或南极洲）之间，是太平洋通往大西洋的重要水道，由于该海峡纬度较高，又靠近南极冰川，使得该海峡气温低，多冰山，多大风、大浪，海况恶劣。

29. (12 分) (1) 城市 乡村

(2) 见下表

	城市	乡村
房屋类型特点	楼房为主，高而密。	平房为主，低而稀。
道路类型特点	道路等级高，密度大。	道路等级低，密度小。
生产设施特点	工厂、写字楼、银行等	农机、水利等
服务设施特点	商店、医院、学校多。	商店、医院、学校少。

(3) 略