

密云区2018-2019学年度第一学期期末考试



九年级历史试卷

试 卷 说 明	1. 本试卷共计 90 分。全卷答题时间为 90 分钟。 2. 本试卷共分为两部分，共 10 页。 3. 答题卡上第一部分必须使用 2B 铅笔 作答，将选中项涂满涂黑，黑度以盖住框内字母为准，修改时用橡皮擦除干净。第二部分必须用黑色字迹的钢笔或签字笔按照题号顺序在各题目的答题区域内作答。 4. 认真审题，规范书写，保持卷面清晰、整洁。
------------------	--

第一部分（选择题 共 45 分）

本部分共 30 个小题，每小题 1.5 分，共 45 分。各题均有四个选项，其中只有一个是符合题意的，请按要求用 2B 铅笔将其填涂在答题卡上的相应位置，错选或多选均不得分。

- 在古代印度种姓制度中，从事农业、牧业、商业的人属于
A. 婆罗门 B. 刹帝利 C. 吠舍 D. 首陀罗
- “中古西欧城市是作为经济中心出现的，……城市里的市民阶级不断发展壮大，成为近代资产阶级的前身。”由此看来，中古西欧城市兴起的重要意义在于
A. 彻底瓦解了西欧的封建制度
B. 城市自治得以普遍实现
C. 基督教会和等级制度日趋完善
D. 为西欧的资本主义产生和发展奠定了基础
- 右图为但丁画像。当你作为博物馆的解说员介绍文艺复兴时期的但丁时，从下列作品中应选择的是
A. 《最后的晚餐》 B. 《神曲》
C. 《哈姆雷特》 D. 《天方夜谭》
- 美国许多航空母舰的名字都与独立战争中的事件有关，这些事件往往具有重要意义或影响。其中与“萨拉托加”号航母命名有关的是
A. 独立战争的导火线 B. 独立战争的开始
C. 独立战争的转折点 D. 独立战争的胜利
- 托马斯·杰斐逊在谈到华盛顿时说：“一个伟人的节制和美德，可能使这场革命免于像其他众多的革命那样，使盼望建立的自由被扼杀而告终。”这主要是赞美华盛顿
A. 战胜英国殖民统治 B. 就任大陆军总司令
C. 拒绝成为独裁君主 D. 废除黑人奴隶制度



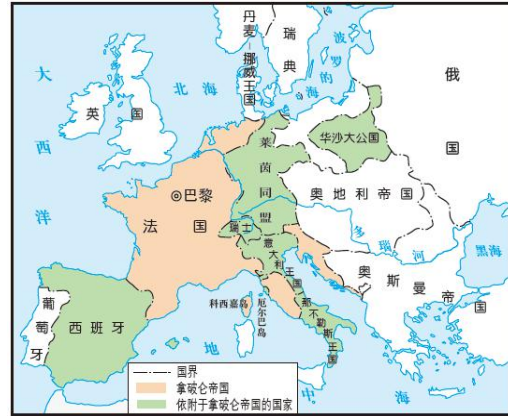


6. 美国耶鲁大学法学教授布鲁斯·阿克曼认为，“在 1787 年宪法中，关于成立国家政府的一个基本观点是：如果我们不联合起来，就会被欧洲列强所摧毁。我们需要一个中央政府。”为此 1787 年宪法

- A. 确立了自由平等原则
- B. 确立了共和制
- C. 确立了三权分立原则
- D. 确立了联邦制

7. 学习世界近代史时，某同学发现 1804—1814 年间欧洲国界发生了巨大变化。导致这种变化的主要原因是

- A. 英国资产阶级革命
- B. 法国大革命
- C. 拿破仑对外战争
- D. 美国独立战争



8. 有关英国工业革命的论述，不正确的是

- A. 首先从交通运输业开始
- B. 极大地提高了社会生产力水平
- C. 是机器生产代替手工生产的转变
- D. 促进了现代工厂制度的建立

9. 19 世纪中期，俄国资本主义发展的主要障碍是

- A. 国家的分裂
- B. 封建农奴制
- C. 南方奴隶制
- D. 幕府的黑暗统治

10. 右表是一位历史老师导学案中出现的键信息。

根据其内容判断，这一重大历史事件是

- A. 美国独立战争
- B. 法国大革命
- C. 美国南北战争
- D. 明治维新

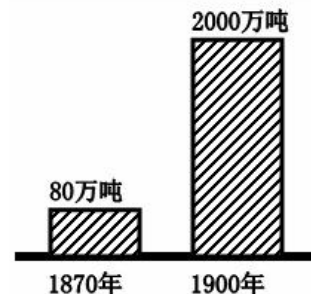
时间：1861——1865 年
人物：林肯
重要文献：《解放黑人奴隶宣言》

11. 模仿和创新相结合是日本民族的一大特色，主要体现为“汉化”和“欧化”。其“欧化”的主要措施是

- A. 废除贵族世袭制
- B. 推翻幕府统治
- C. 实行“科技立国”
- D. 文明开化

12. 右图为“1870 年~1900 年世界石油产量变化图”。导致石油量变化的主要原因是

- A. 蒸汽机的发明与使用
- B. 交通工具的推陈出新
- C. 内燃机的发明与推广
- D. 电器设备的推广应用

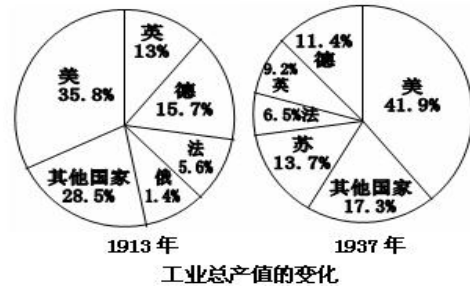


13. 如果将“印度民族起义”，“拉丁美洲独立运动”“太平天国运动”归为一个学习主题，这个主题应该是

- A. 改革和革命
- B. 资产阶级革命
- C. 殖民地半殖民地人民的解放斗争
- D. 新民主主义革命



20. 运用数据进行分析是历史学习的一种重要方法，从右图数据变化中能获得的正确信息是



- A. 苏联工业发展慢于德国
- B. 苏联工业产值跃居欧洲第一
- C. 苏联工业产值跃居世界第一
- D. 苏联农业得到迅速发展

21. 德国纳粹党上台后，对外侵略扩张。相关史实有

- ①入侵埃塞俄比亚 ②入侵意大利 ③吞并奥地利 ④吞并捷克斯洛伐克
- A. ①② B. ③④ C. ②③ D. ①④

22. 1943年，美军在太平洋战场开始战略反攻时，日本还有64%的陆军、45%的航空兵被牵制在中国战场。日军虽然在太平洋战场难以同美军对抗，但又无法从中国战场抽调兵力予以增援。以上材料说明

- A. 中国人民终于赢得了抗日战争的完全胜利
- B. 中国的抗日战场是世界反法西斯战争的重要战场
- C. 抗日民族统一战线是抗战胜利的重要保障
- D. 抗日战争扭转了近代反抗侵略的屡败局面

23. 历史地图是展现前人活动与地理空间结合的重要资料。对右图反映的历史事件理解正确的是



- A. 1940年，德国突袭法国，法国兵败国降
- B. 1940年，敦刻尔克大撤退，英法为反攻保存力量
- C. 1940年，不列颠之战，英军痛击德军
- D. 1944年，诺曼底登陆，盟军开辟欧洲第二战场

24. 右列图片反映了同一个主题，概括最恰当的是

- A. 欧洲一体化
- B. 冷战政策
- C. 经济全球化趋势加强
- D. 世界政治的多极化趋势



25. 1949年4月，英国加入北大西洋公约组织；随着欧洲经济高速发展，1973年，英国加入欧洲共同体；1993年，欧共体首脑会议宣布包括英国在内的欧洲12国成立欧洲联盟；随着世界经济和英国自身的发展，2016年，英国决定退出欧盟。从英国决策的变化可知，影响一个国家外交政策变化的决定因素是

- A. 国家利益 B. 意识形态 C. 民族矛盾 D. 外国影响

26. 下图所示，第二次世界大战后，美国、西欧、日本经济实力对比发生重大变化，对此变化，下列表述正确的是

- ①美国经济地位受到西欧、日本的挑战
- ②美国不再是世界上一流的经济强国
- ③欧洲联合促进了欧洲经济的发展
- ④日本经济高速发展，成为资本主义经济大国



- A. ①②③ B. ①③④ C. ①②④ D. ②③④

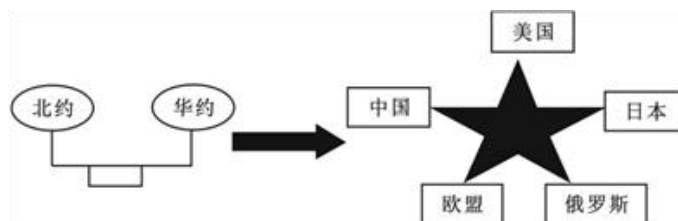
27. 20 世纪 80 年代后期至 90 年代初期，中国和苏联两国改革后果不同源于

- A. 社会制度的差异
- B. 经济实力的差异
- C. 指导思想的差异
- D. 经济与政治改革方式的差异

28. 下边是围绕“巴拿马人民斗争的胜利”制作的学习卡片，其中错误的是

巴拿马人民斗争的胜利
时间：1999 年
对手：美国
成果：收回巴拿马运河全部主权
意义：标志着帝国主义在非洲的殖民体系最终崩溃

- A. 时间 B. 对手 C. 成果 D. 意义
29. 请根据下面图示判断，世界政治格局变化的趋势是



- A. 由凡尔赛—华盛顿体系向两极格局演变
- B. 从“一超多强”向多极化演变
- C. 由两极格局向多极化演变
- D. 由两极格局向“一超多强”演变

30. 右图是华为公司的企业标识。华为技术有限公司是一家生产销售通信设备的民营通信科技公司，于 1987 年正式注册成立，2018 年 7 月 19 日美国《财富》杂志发布了最新一期的世界 500 强名单，华为排名第 72 位。华为公司的发展主要得益于



- A. 核能等新能源技术
- B. 航空航天技术
- C. 生物工程技术
- D. 计算机和网络技术



微信扫一扫，快速关注



微信扫一扫，快速关注

第二部分（材料分析题，共 45 分）

31. （16 分）在人类发展史上，创造了许多优秀文明成果。阅读材料，回答有关问题。

材料一：两幅图片



①金字塔建筑群



② 雅典卫城建筑群遗址

(1) 以上图片中的建筑属于大河流域文明成就的是_____，属于西方古典文明成就的是_____。（2分。填写序号即可）

(2) 任选其一，从历史的角度简要介绍其价值。（2分）

所选序号：_____

历史价值：

材料二：第 7 条 自由民从自由民之子或自由民之奴隶处买得或为之保管银或金，或奴隶，或女奴，或牛，或羊，或驴，或不不论何物，而无证人及契约者，是为窃贼，应处死。

第 10 条 倘买者不能领到出售与彼（他，指买者）之卖者及买时作证之证人，而仅失物之主提出知其失物之证人，则买者为窃贼，应处死；失物之主应收回其所失之物。

第 196 条 倘自由民损毁任何自由民之子之眼，则应毁其眼。

第 199 条 倘自由民损毁自由民之奴隶之眼，或折断自由民之奴隶之骨，则应赔偿其买价之一半。

第 200 条 倘自由民击落与之同等之自由民之齿，则应击落其齿。

——选自《汉谟拉比法典》

(3) 《汉谟拉比法典》建立在两个著名的原则基础上，即“同态复仇”和“让买方小心提防”，结合材料二加以说明。（2分）

材料三：

文献	内容
《权利法案》	<p>第 1 条 凡未经议会同意，以国王权威停止法律或停止法律实施之僭越权力，为非法权力。</p> <p>第 4 条 凡未经议会准许，借口国王特权，为国王而征收，或供国王使用而征收金钱，超出议会准许之时限或方式者，皆为非法权力。</p> <p>第 6 条 除经议会同意外，平时在本国内征募或维持常备军，皆属违法。</p> <p>第 8 条 议会议员之选举应是自由的。</p> <p>第 9 条 议会内之演说自由、辩论或议事之自由，不应在议会以外之任何法院或任何地方，受到弹劾或讯问。</p>
《人权	第 1 条 在权利方面，人生来是而且始终是自由的。



微信扫一扫，快速关注

宣言》	<p>第2条 ……权利是自由、财产、安全与反抗压迫。</p> <p>第3条 整个主权的本原主要是寄托于国民。任何团体或任何个人皆不得行使国民所未明白授予的权力。</p> <p>第4条 自由是指有权从事一切无害于他人的行为。</p> <p>第6条 法律是公共意志的体现。每一个公民皆有权亲自或由其代表去参与法律的制定。法律对于所有的人，无论是施行保护或是惩罚都是一样的。在法律的眼里一律平等的公民皆能按照他们的能力平等地担任一切公共官职、职位与职务，除他们的德行和才能以外不得有任何其他差别。</p> <p>第17条 私人财产神圣不可侵犯。</p>
-----	---

(4) 从材料三来看，两部文献中对于国家主权的认识有何明显不同？《权利法案》与《人权宣言》分别对英、法资本主义发展有何重大意义？（6分）

材料四： 马克思是全世界无产阶级和劳动人民的革命导师，是马克思主义的主要创始人……为了改变人民受剥削、受压迫的命运，马克思义无反顾投身轰轰烈烈的工人运动，始终站在革命斗争最前沿。他领导创建了世界上第一个无产阶级政党——共产主义者同盟，领导了世界上第一个国际工人组织——国际工人协会，热情支持世界上第一次工人阶级夺取政权的革命——巴黎公社革命，满腔热情、百折不挠推动各国工人运动发展。

——习近平在纪念马克思诞辰200周年大会上的讲话

(5) 马克思主义诞生的标志是什么？依据材料四归纳“马克思义无反顾投身轰轰烈烈的工人运动”的史实。（4分）

32. （15分）经济全球化深刻改变着世界，也改变着人类生活。某班同学组织了相关实践活动，按研究主题分为4个小组。请你一起参加活动。

材料一：


	<p>1500年以前，黄种人、白种人、黑种人基本固定生活在彼此隔离的地区，新航路开辟后，大量黑人被贩卖到非洲以外，特别是美洲，白人大批移居北美东海岸和美……西班牙人是果园爱好者，除了给美洲带来橄榄树和欧洲葡萄树外，还带来了种类繁多水果。作为回报，美洲印第安人贡献出非常丰富的粮食作物，特别是玉米和马铃薯，此外还有木薯、番茄等……动植物的交换并不限于欧亚大陆和南北美洲之间，整个世界曾卷入这种交换。</p> <p>——《全球通史》</p>
--	--

(1) 第一组同学的研究主题是“新航路的开辟”，材料一是他们搜集到的有关资料。请你帮助他们指出麦哲伦的航行路线（写出序号即可），并归纳新航路开辟的重要影响。（5分）


材料二：



微信扫一扫，快速关注



①改良蒸汽机



② 火车机车

(2) 第二组同学的活动主题是“工业革命的成果”。材料二是他们选取的两项成果。请你任选其一进行介绍。(2分)

所选成果序号：_____

成果介绍：

材料三：1929年--1933年资本主义世界经济部分情况统计

	工业生产下降	对外贸易缩减	失业人数
美国	47%	75.7%	约1700万
德国	40.6%	70%	800万人以上
日本	32.9%	75.9%	300万人左右
资本主义世界	1/3以上	2/3	3000万人以上

材料四：1930年5月，美国国会通过对890种进口商品提高征税的法案。到1931年底，有25个国家采取报复措施，到1932年4月更增加到76国以上。1932年，英国在渥太华举行英联邦会议，决定在英帝国内部建立关税优惠制；法国则采取限额输入的办法，保护本国的商品市场。这就形成激烈的关税战、市场战、货币战。

——吴于廑、齐世荣主编《世界史·现代史编》上卷

材料五：我们美国正在打一场伟大而成功的战争。这不仅是一种反对匮乏、贫穷与经济不景气的战争，而且是一种争取民主政治和生存的战争。我们正为挽救一种伟大而珍贵的政府形式而战；既是为我们自己，也是为全世界。

——富兰克林·罗斯福

(3) 第三组同学的研究主题是“20世纪30年代的资本主义世界经济”。材料三、材料四、材料五是他们收集的相关材料。请你依据材料回答问题：

① 分别概括材料三、材料四所反映的情况，并指出二者之间的联系。(3分)

② 材料五中罗斯福所说的“伟大而成功的战争”对资本主义世界产生了什么影响？(2分)

材料六：我们应该坚定维护自由贸易和基于规则的多边贸易体制。中方赞成对世界贸易



组织进行必要改革，关键是要维护开放、包容、非歧视等世界贸易组织核心价值和基本原则，保障发展中国家发展利益和政策空间。要坚持各方广泛协商，循序推进，不搞“一言堂”。

——习近平在二十国集团领导人峰会上的发言 2018. 11. 30

(4) 第四组同学的研究主题是“中国与全球化”。依据材料六，指出中国在世界贸易组织改革问题上的基本立场。(3分)

33. (14分) “前事不忘,后事之师”,反思历史,反省战争,对于维护世界和平与安全具有深远意义。阅读材料,回答有关问题。

材料一:

由于帝国主义国家之间政治经济发展的不平衡,后起的帝国主义国家要求重新分割世界,与老牌帝国主义国家展开了激烈的争夺。争夺霸权的结果,形成了两大敌对的帝国主义侵略集团,第一次世界大战一触即发。

——张瑞德《第一次世界大战》



三国同盟和三国协约

(1) 依据材料一,简要指出第一次世界大战爆发的原因。(3分)

材料二:当地时间 2018 年 11 月 11 日上午 11 时,纪念一战结束 100 周年官方仪式在巴黎凯旋门正式开始。纪念仪式上,八名出生于 21 世纪的青少年阅读了几封信件和便条。它们的共同点是,都写于一战士兵停止流血的日子——1918 年 11 月 11 日。

100 年前,23 岁中国劳工顾杏卿在诺曼底鲁昂的仓库工作。100 年后,一名少女用中文朗读了他当时写下的句子:“迨行至街市间,已人山人海,男女老幼,军士人民,各色人种混在一起,互相握手,时而唱歌,时而欢呼。在万人欢呼歌唱之中,竟有哭泣者,此实喜极而涕之表现。其情不自禁之快乐,自非言语所可形容此种狂欢之状也。”

法国女子丹尼斯·布鲁勒在信中向未婚夫倾诉:“永远,我永远也无法向你表达停战第一天的心情与狂喜。我的人生发生了剧变,我想,不会再有士兵倒下,那无边无际的前线终于安静了下来。只剩寂静一片。我潸然泪下,因为这一切终于结束了。”

——摘编自观察者网《欧洲举行一战结束 100 周年纪念活动》2018.11.11

(2) 材料中两封信件内容反映出当时人们对于一战结束怀着怎样的心情?在纪念一战结束 100 周年官方仪式上,为什么安排这项朗读活动?谈谈你的理解。(3分)

材料三: 第二次世界大战大事年表



- ①1931年，日本发动“九一八事变”，侵占了中国东北，中国开始了局部抗战。
- ②1939年，德军以“闪击战”突袭波兰，英、法被迫对德宣战，第二次世界大战全面爆发。
- ③1941年，苏德战争、太平洋战争爆发。
- ④1942年，世界反法西斯同盟形成。
- ⑤1943年，意大利投降。
- ⑥1945年，德国、日本签署无条件投降书。

(3) 请用材料三中的史实证明下列观点。(4分。填写序号即可)

A. 第二次世界大战有一个从局部战争逐渐发展到全球战争的过程：_____

B. 反法西斯同盟的建立，加速了反法西斯战争胜利的进程：_____

材料四：第二次世界大战进行当中，美、英、苏等一些主要反法西斯国家，在同德、意、日法西斯作战的同时，也在思考这样一个问题：怎样才能避免世界大战再次爆发。1945年2月，美、英、苏三国首脑在雅尔塔会议上正式作出了战后成立联合国的决议。经过反复协商，1945年6月26日，50多个国家正式签署《联合国宪章》，后提交给五大国在内的各国立法机构批准。1945年10月24日，《联合国宪章》正式生效，联合国正式成立。

——摘编自《今日中国》2005.9《联合国风雨六十年》

(4) 据上述文字材料和所学知识，分析联合国成立的主要背景。(2分)

材料五：

“冷战”时期的批评家曾经指责一些军事联盟如北约组织和华约组织推动了高昂的军备竞赛，并使地区冲突一直有转变成超级大国之间核对抗的危险。“冷战”结束后，赞扬这些军事联盟具有控制冲突升级的能力却成为时尚。

——(美)杰里·本特利等《新全球史》

苏联曾经是有用的敌人。美国相信，不仅要和苏联的军事力量竞赛，还要和苏联的成就竞赛……没有苏联的空间计划，美国人就不可能登上月球……

——《美国新闻与世界报道》1991.9.9

(5) 根据材料5，联系所学知识概括学术界是怎样评价美苏冷战的？(2分)