



丰台区 2020 年初三统一练习 (二)

历史

2020.06

考生须知	1. 本试卷共 12 页, 共两部分, 34 道题, 满分 90 分。考试时间 90 分钟。 2. 在试卷和答题卡上认真填写学校名称、姓名和考场号。 3. 试题答案一律填涂或书写在答题卡上, 在试卷上作答无效。 4. 在答题卡上, 选择题用 2B 铅笔作答, 其它试题用黑色字迹签字笔作答。 5. 考试结束, 将本试卷和答题卡一并交回。
------	--------------------------------------------------------------------------------------------------------------------------------------------------------------------------------------

第一部分 选择题 (共 45 分)

本部分共 30 小题, 每小题 1.5 分, 共 45 分。在每小题列出的四个选项中, 选出最符合题目要求的一项。

1. 目前, 世界上最早的栽培稻、粟和黍均发现于中国。

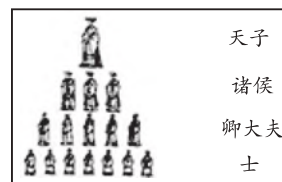
右图遗址中发现了大量人工栽培稻遗迹的是

- A. 北京人遗址
- B. 半坡遗址
- C. 大汶口遗址
- D. 河姆渡遗址



2. 右图显示的是西周实行的

- A. 禅让制
- B. 分封制
- C. 郡县制
- D. 行省制



3. 商鞅指出“国之所兴者, 农战也。”下列措施符合这一思想的是

- A. 废除贵族的世袭特权
- B. 严明法度, 禁止私斗
- C. 统一货币文字度量衡
- D. 鼓励耕织, 奖励军功

4. 要出一期以“汉武帝巩固大一统王朝”为主题的壁报, 可选用的资料有



①五铢钱



②汉代讲经图



③霍去病墓



④曲辕犁

A. ①②③

B. ②③④

C. ①③④

D. ①②④



5. 有学者说：“这种制度提供了布衣（平民）可以做宰相，可以为公卿，可以参政的机会……我国的这一制度对西方近代文官考试制度的形成产生了较大影响。”这一制度创立于

- A. 秦朝
B. 汉朝
C. 隋朝
D. 唐朝

6. 右图为国家博物馆“大唐风华展”的一件展品，其可用于研究

- ①社会风气
②手工技艺
③农业发展
④对外交往
- A. ①②
B. ②③
C. ①③
D. ③④



三彩女子骑马俑

7. 下面朝代更替示意图填写正确的是

- A. ①唐朝 ②南宋 ③明朝
B. ①西晋 ②南宋 ③明朝
C. ①明朝 ②契丹 ③唐朝
D. ①唐朝 ②蒙古 ③明朝



8. 下列史实与推论对应正确的是

选项	史实	推论
A.	设置宣政院	标志着西域正式归属中央政权
B.	玄奘西行	为中日文化交流作出了卓越的贡献
C.	郑和下西洋	为人类的航海事业作出了伟大贡献
D.	颁布“禁海令”	完全抵御了外国侵略

9. 清代史学家赵翼在《檐曝杂记》中说：“（军机大臣）只供传述缮撰，而不能稍有赞画于其间也。”由此可见，军机处的设置

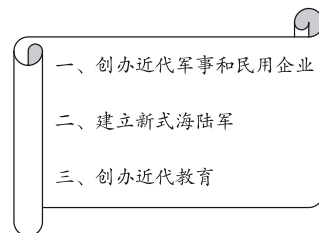
- A. 促进中外交往
B. 加强君主专制
C. 促进经济发展
D. 扩大地方权力

10. 某读书会正在就一部清代小说进行交流分享，内容涉及：男女主人公的爱情悲剧产生原因；封建社会末期的社会现实和尖锐矛盾。这部小说是

- A. 《西游记》
B. 《三国志》
C. 《窦娥冤》
D. 《红楼梦》

11. 右图是某同学笔记上记录的内容，他学习的知识是

- A. 洋务运动
B. 百日维新
C. 五四运动
D. 一二·九运动







12. 下图是黄海海域沉船考古中发现的部分文物，这些文物见证了



致远舰独有的方形舷窗



带有“致远”二字的瓷盘




刻有致远舰大副姓名的单筒望远镜

- A. 太平天国运动
B. 甲午中日战争
C. 义和团运动
D. 八国联军侵华
13. “南湖船上一灯悬，照亮九州暗夜天。血雨腥风心不易，铁马冰河志犹坚。”诗句中“南湖船上一灯悬”指的是
- A. 中华民国的创建
B. 中国共产党诞生
C. 开辟井冈山道路
D. 工农红军的长征

14. 右图漫画《革命歌声》反映了

- A. 北伐战争
B. 南昌起义
C. 秋收起义
D. 西安事变



15. 1947年，刘伯承、邓小平率军直接威胁到南京、武汉，揭开人民解放军战略进攻序幕的是
- A. 转战陕北歼强敌
B. 千里挺进大别山
C. 三大战役促胜利
D. 百万雄师过大江

16. 1950年的凤阳花鼓这样唱道：“说凤阳，道凤阳，凤阳本是好地方。自从土地还家后，幸福生活万年长。”“土地还家”指的是

- A. 开国大典
B. 解放西藏
C. 土地改革
D. 抗美援朝

17. 1953—1957年，我国在第一个五年计划期间，创造了许多历史上的第一。下列史事反映出“一五计划”的特点是

1953年，中国第一座大型露天煤矿——辽宁阜新海州露天煤矿建成投产。
1956年，中国第一辆解放牌汽车在长春第一汽车制造厂生产出来。
1956年，中国第一架喷气式歼击机在沈阳试制成功。
1956年，中国第一个制造机床的工厂——沈阳第一机床厂建成投产。

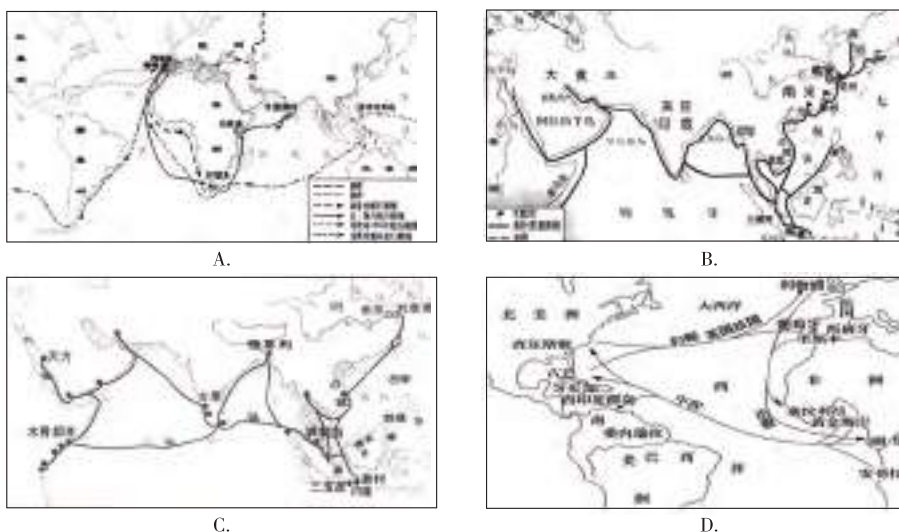
- A. 优先发展农业
B. 优先发展重工业
C. 地区分布均衡
D. 技术世界领先
18. “英雄者，国之干，族之魂。”右图中的人物，出生于甘肃玉门，身上体现出来的“铁人精神”激励了一代代的石油工人。他是

- A. 雷锋
B. 焦裕禄
C. 王进喜
D. 邓稼先





19. “海峡浅浅，明月弯弯。一封家书，一张船票，一生的想念。相隔倍觉离乱苦，近乡更知故土甜。”这是给当选为“感动中国十大人物”之一的台湾老兵高秉涵的颁奖词，他曾把上百位老兵的骨灰带回大陆，使他们魂归故里。他当选的主要原因是
- A. 促成了香港回归
B. 解决了台湾问题
C. 促成了澳门回归
D. 彰显了血脉亲情
20. 系列片《中国外交官纪实》中记录了新中国 20 世纪 70 年代的外交官们经历的外交事件，下列事件可能出现在片中的有
- ①中美建交 ②中日建交 ③中苏建交 ④中国重返联合国
- A. ①②③ B. ②③④ C. ①②④ D. ①③④
21. 识读历史地图是学习历史的重要方法。下图反映“三角贸易”的是



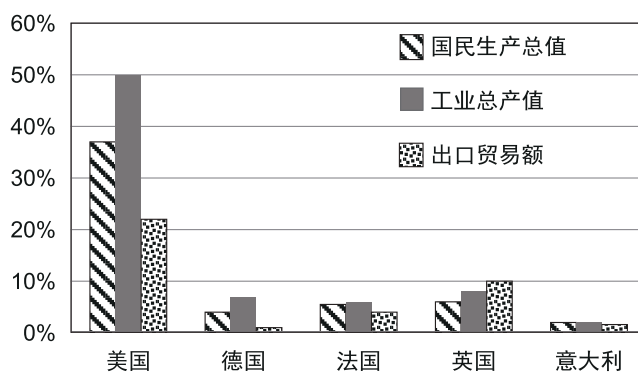
22. 17—18 世纪英法美三国分别颁布了《权利法案》《人权宣言》《独立宣言》，三者的共同之处是
- A. 维护资产阶级利益
B. 反对对外殖民扩张
C. 宣告民族独立解放
D. 充分限制专制王权
23. 有人说：“一个苹果让牛顿吸引了世界，一壶沸水让瓦特转动了世界，一个元素让爱迪生点燃了世界。”其中牛顿吸引世界和瓦特转动世界分别指
- A. 进化论的观点和蒸汽机的发明
B. 进化论的观点和蒸汽机的改良
C. 万有引力定律和蒸汽机的发明
D. 万有引力定律和蒸汽机的改良
24. 下面表格的学习主题是

人物	事迹	评价
玻利瓦尔、圣马丁	领导拉丁美洲独立运动	南美“解放者”
章西女王	领导印度民族大起义	印度民族英雄
林则徐	虎门销烟	中国民族英雄

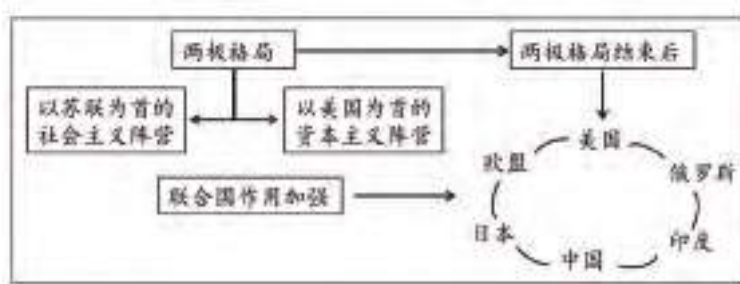
- A. 组成民主联合的战线
B. 反对侵略者输入鸦片
C. 反对出现的贸易逆差
D. 反抗殖民侵略的斗争



25. 第二次工业革命带来的生活方式有
①驾驶汽车 ②搭乘飞机 ③网络遨游 ④电话联络
A. ①②③ B. ②③④ C. ①②④ D. ①③④
26. 1917年俄国十月革命是人类历史上第一次获得胜利的
A. 反帝爱国运动 B. 社会主义革命
C. 民族解放运动 D. 资产阶级革命
27. 毛泽东在《论反对日本帝国主义的策略》中说：“1922年……签订了一个公约，又使中国回复到几个帝国主义国家共同支配的局面。”文中“一个公约”是指
A. 《凡尔赛条约》 B. 《九国公约》
C. 《北大西洋公约》 D. 《华沙条约》
28. 《二战秘史》中写道：“关于反法西斯战争，传统的观点……认为邪恶轴心国家的政权被推翻是各方共同努力的结果。”能反映这一观点的是
A. 《阿拉木图宣言》 B. 《慕尼黑协定》
C. 《联合国宣言》 D. 《联合国宪章》
29. 下面是《1950年西方主要国家经济实力世界占比图》，对其解读正确的是



- A. 美国成为资本主义世界的霸主 B. 主要资本主义国家经济均衡发展
C. 西欧的资本主义国家走向联合 D. 主要资本主义国家工业快速发展
30. 下图体现冷战结束后的世界呈现出



- A. 多极化趋势 B. 区域化趋势
C. 单极化趋势 D. 两极化趋势



第二部分 材料分析题（共 45 分）

31. (11 分) 报刊是历史的记忆，记录了时代的变迁。

材料一 中国古代的报纸起始于唐朝，宋朝时有了较大的发展，“邸报”是最流行的称呼。宋朝“年报”大部分是手抄的，其中的小部分可能使用雕版印刷。“小报”则是一种流行于南宋的非官方报纸，它的出版受到当时政府的查禁。明政府允许民间自设报房，它们所发行的报纸通称“京报”。明朝末年，普遍使用活字印刷。

——摘编自胥亚《中国古代报纸发展论要》




(1) 依据材料一，概括中国古代报纸的发展变化。(2 分)

材料二 早在 15、16 世纪，威尼斯就出现了现代报纸的雏形——手抄小报。威尼斯是东西方交通枢纽和贸易中心。15 世纪时，资本主义生产方式开始在这里萌芽，这里的手工业主、商人、航海界人士十分关心商品的销路、各地的物价、往来的船只，于是专门有人打听这些消息抄写后出售。这种报纸形态的出现，使信息内容更加接近平民，可以沿街兜售，传播面向整个社会，促进了人们文化程度的提高，新思想、新信息的传播范围不断扩大，影响与推动着欧洲资产阶级革命和近代社会的转型。

——摘编自蒲国鑫《浅谈 15、16 世纪欧洲手抄小报的传播》

(2) 依据材料二，指出威尼斯手抄小报兴起的条件及影响。(4 分)

材料三

报刊封面	报刊部分内容简介	相关历史事件
 《时务报》	梁启超在《时务报》上发表《变法通议》，强调“法者，天下之公器也；变者，天下之公理也”，“变亦变，不变亦变”。	①_____
 《民报》	孙中山在《民报》发刊词中，将同盟会的政治纲领阐发为“民族”“民权”“民生”三大主义，合称“三民主义”。	②_____
 《青年杂志》	陈独秀在上海创办《青年杂志》，并在创刊号上发表《敬告青年》一文，呼吁“青年之于社会，犹新鲜活泼细胞之在人身。”“国人而欲脱蒙昧时代，羞为浅化之民也，则急起直追，当以科学与人权并重。”	③_____

(3) 依据表格并结合所学，分别写出与以上三个报刊相关的历史事件。(3 分)



材料四 先进的知识分子利用报刊的舆论功能，将自己的观念和主张迅速、广泛地传递给社会各个阶层，推动社会变革。各类报刊大量引入西方近代自然科学和社会科学知识，将西方的声、光、化、电等自然科学知识和一些社会政治制度、法律制度移植进来，开拓了国人的视野，中国人固有的思想、信仰和价值观念发生转变，促进了中国近代的思想解放。

——摘编自刘兴豪《报刊舆论与中国近代化进程》

(4) 依据材料四，归纳近代报刊在历史发展中的作用。(2分)


32. (11分) 民族团结和国家统一是国家繁荣富强的必要前提和重要保证。

材料一 华夏民族大一统的国家伟业到了汉武帝时代，完成了从地理空间到精神空间的整合与凝聚，正是这个伟大而充满凝聚力的民族共同体，承载着中华文明古往今来的生生不息，2000多年来的中国历尽沧桑，也曾战乱分裂，但是不管危机多么深重，由秦汉帝国开创的这一民族共同体总是能够重新走上统一、安定的大道，重现蓬勃生机。

——翦伯赞《中国史十五讲》

(1) 汉武帝为实现“从地理空间到精神空间的整合与凝聚”，在政治和思想方面分别采取了什么措施？(2分)

材料二

 <p>唐蕃会盟碑</p>	<p>从唐朝开始，统治者一改以往“贵中华，贱夷狄”的民族偏见，以较为公平的态度对待少数民族，从而收到了“中华既安，四夷自服”的统治效果。唐朝立国之初，中原地区战乱未平，四周还有众多的少数民族，因此唐朝采取了遣使招抚、恩威兼施、和亲柔化等多样的措施，以安抚和稳压周边的少数民族。</p> <p>——摘编自马敏、钱小芳《唐朝的民族政策的特点》</p>
--------------------------------------------------------------------------------------------------	-------------------------------------------------------------------------------------------------------------------------------------------------------------------------------

(2) 依据材料二，概括唐朝民族政策的特点。(2分) 结合所学，列举唐蕃和亲的史实。(1分)

材料三 我相信我们的政府不能永远忍受一半奴役一半自由的状况。我不期望联邦解散，我不期望房子崩溃，但我的确期望它停止分裂。它或者将全部变成一种东西，或者全部变成另一种东西。

——林肯《家庭纠纷》

(3) 材料三反映出林肯的什么主张？(1分) 结合所学，说说林肯对美国的贡献。(2分)






材料四 新中国成立 70 年来，我国民族工作坚持从实际出发，在实践中不断创新
发展……民族地区各项事业不断实现新跨越，中华民族大团结不断得到新发展，
谱写了中华民族历史上最为辉煌灿烂的篇章，也为世界解决民族问题贡献了中国
智慧和中国特色方案。实践证明，党的民族理论和方针政策是正确的，中国特色解决
民族问题的道路是正确的。


——摘编自《人民日报》2019 年 7 月 26 日 01 版

- (4) 材料四“中国特色解决民族问题的道路”指我国哪项基本政治制度？(1 分)
结合所学，分析这项制度的作用。(2 分)

33. (12 分) 中国经济·全球产业链

材料一 中国古代经济发展相关资料

		
①半两钱	②纸币“会子”铜版拓片	③《清明上河图》中的“瓦子”



④丝绸之路路线图

- (1) 依据材料一，任选一个历史时期，写出对应材料的序号。(2 分)

时期	序号	时期	序号
秦汉		宋元	



材料二 通往印度航线的开辟及美洲的发现，掀起了欧洲人海外掠夺及海外殖民的狂潮……西班牙人占领的菲律宾群岛较为贫瘠，为维持其殖民统治，西班牙人一度鼓励中国商人前来贸易。而明后期的开海贸易政策也使中国商人出海贸易激增。中国商船运来的货物种类繁多，西班牙人依靠中国商船运来的货物不但解决了在菲岛的生存需求，且他们还将中国商船运来的丝绸、瓷器等物品转贩到其美洲殖民地，中国丝绸、瓷器由此传遍世界。

——摘编自夏秀瑞、孙玉琴《中国对外贸易史》

(2) 依据材料二并结合所学，说出明朝与西班牙开展对外贸易的背景，并概括其影响。(3分)

材料三 上海经济发展历程

清朝中期	上海的贸易结构以国内贸易为主，主要是商品的南北转销。乾隆二十二年清廷采取 ① 政策，将对西洋的贸易限定于广州一口，上海对外贸易主要是对日本和东南亚。
清代晚期	上海在 ② (条约) 中被开放为通商口岸后，上海的国际化贸易格局取代了单一的国内贸易，逐渐占主导地位。
新中国成立后	经过五年计划的发展，到70年代末，上海成为全国最大的工业基地和经济中心。在工业强大的同时，上海作为金融贸易中心的地位却失去了，上海的第三产业大为逊色了。
改革开放后	1990年建立的上海 ③ 开发区，成为令世人瞩目的国际经济、金融和贸易中心之一，并极大地推动了长江三角洲和整个长江流域的经济发展。

(3) 将上表中的①②③补充完整。(3分)

材料四 中国与世界贸易组织 (WTO)

2001年	中国加入WTO
2005年	中国农产品关税降至WTO承诺的终点
2006年	WTO举行的多边贸易谈判暂时中止
2007年	中国对世界经济增长贡献率高居世界首位
2009年	中国就美国限制中国轮胎进口的特殊保障措施启动了WTO争端解决程序
2010年	在WTO推动下，正式启动中国与东盟自由贸易协定
2011年	中国联想集团收购日本NEC笔记本业务；中国海尔公司收购三洋白电



(4) 依据材料四，概括世界贸易组织的主要职能。(2分) 说明中国加入世界贸易组织的意义。(1分)

材料五 英国口罩生产商 COMPELS 负责人戈贝尔斯表示，口罩是一个劳动密集型以及资本密集型产业，欧洲国家在这方面并不具备竞争优势……北京联讯动力咨询公司总经理林雪萍对记者表示，无论在平时还是危急时刻，化解口罩紧缺问题最可行的办法是依靠全球化合作。中国企业积极复工复产，将助力扩大全球口罩的生产、出口及援助，同时保障其他国家生产商的原料供应，为全球抗击疫情提供足够的医疗物资保障。

——摘编自《人民日报》2020年5月6日16版

(5) 依据材料五，谈谈如何发挥中国在全球产业链中的作用。(1分)

34. (11分) 永定河被誉为北京的母亲河。某历史兴趣小组开展永定河北京段考察活动。

[博物馆参观]

(1) 填写任务单：

 <p>东胡林遗址出土石磨盘、石磨杵 永定河文化博物馆藏品</p>	<p>东胡林遗址位于门头沟区斋堂镇东胡林村西侧，距今约1万年左右，是新石器时代早期人类遗址。出土有人类化石、石制品、骨制装饰品、夹砂红陶碎片、火塘及粟类植物种子等。</p>
<p>①依据东胡林遗址考古发现可判断，东胡林人所处的历史阶段早于_____ (填序号)。(1分) A. 元谋人 B. 北京人 C. 半坡人</p> <p>②东胡林遗址考古发现反映出东胡林人能_____ (1分)</p>	



[实地考察]

走进永定河休闲森林公园，从公园景观中了解散落在民间的传说。

园中景观	民间传说
 <p data-bbox="454 750 630 784">《河档与档河》</p>	<p data-bbox="778 421 1310 840">传说明朝时，大太监刘瑾被封为千岁仍不满足，妄想扒开永定河堤岸水淹北京城，夺取皇位。据说挖河的地方就在现在的北辛安一带。但在挖河时出现了两个顽童，将刚挖起的沙石推倒堵住河口。刘瑾大怒，下令放箭射杀顽童，顽童化为刻有“河档”和“档河”的两块石碑。顽童的出现使刘瑾淹城毒计破产，被砍头。原来，这两个顽童是玉帝派来的护河仙童，专门来阻止挖河。</p>
 <p data-bbox="470 1232 614 1265">《老汉种树》</p>	<p data-bbox="778 873 1310 1344">传说在侯庄子村西有个王老汉与老伴卖酒为生。在一个风雨交加的夜晚，二老盛情款待了三位酒客，谁知酒后三人竟化成王八、乌龟、泥鳅。原来它们是永定河神，因世道混乱，要水淹京城警示天下。河神告诫王老汉用柳条把自己家周围遍插，可保平安。善良的二老一夜未眠，割柳条围住了永定河两岸的人家，但却没来得及圈自家院子，结果二老被大水卷走。从此，百姓养成了沿河岸栽柳的习惯，一为纪念两位老人，二为护堤。</p>

(2) 传说能映射出历史的影子，说出以上两则永定河的传说反映的历史信息。(2分)

[感战争烽火]





- (3) 上图反映永定河见证了哪一历史事件？（1分）指出这场战争中国取得最后胜利的原因。（2分）

[看新闻报道]

北京将启动永定河山峡段综合治理与生态修复工程

门头沟区是北京市的生态涵养区。记者7日从北京市门头沟区两会上了解到，2020年将启动永定河山峡段综合治理与生态修复工程，进一步打造京西生态廊道。

据介绍，永定河北京段总长170公里，划分为官厅段、山峡段、平原北段和平原南段，其中在门头沟区域内102公里。本次山峡段综合治理与生态修复工程将按照“以流域为整体、区域为单元、山区保护、平原修复”的原则恢复生态平衡，再现河道清水长流等景观，初步形成永定河绿色生态河流廊道。

……

永定河是北京的母亲河，也是京津冀区域重要的水源涵养区与生态屏障。20世纪60年代以来，由于天气干旱、上游用水等原因，永定河北京段水量剧烈减少，造成河道断流、生态环境一度遭到破坏。

——摘编自新华社北京2020年1月7日电

- (4) 依据报道并结合所学，说说永定河山峡段综合治理与生态修复工程体现的建设理念。（2分）

[活动拓展]

永定河孕育了浓郁深厚的文化底蕴和丰富独特的人文资源，形成了九大文化特色。其主要内容有：以灵山、百花山、妙峰山等为代表的富蕴人文历史的流域名山文化；以潭柘寺、戒台寺为代表的以北方佛教宗派中心寺院著称的流域宗教文化；以上游的许家窑人遗址、涿鹿、幽州，中游的东胡林人遗址、沿河城、举人村、爨底下、三家店、琉璃渠等为代表的可以贯穿中华文明发展史的流域古人类、古都、古城、古村落文化；以永定河的起源、变迁、治理、开发为内容的流域水文化；以京西商旅古道、进香古道、军事古道等为见证的流域古道交通文化。

——《南海子文化系列丛书之兴甜绿海》

- (5) 为宣传保护永定河特色文化，历史兴趣小组策划“给永定河特色文化代言——设计网络宣传标语”。选择一项永定河特色文化为其设计宣传标语。（2分）



丰台区 2020 年初三统一练习（二）

历史答案

2020. 06

第一部分 选择题

本部分共 30 小题，每小题 1.5 分，共 45 分。

1	2	3	4	5	6	7	8	9	10
D	B	D	A	C	A	A	C	B	D
11	12	13	14	15	16	17	18	19	20
A	B	B	A	B	C	B	C	D	C
21	22	23	24	25	26	27	28	29	30
D	A	D	D	C	B	B	C	A	A

第二部分 材料分析题

本部分 4 道题，共 45 分。

31. （11 分）

- (1) 民间办报由政府查禁到允许；（1 分）由手抄到印刷。（1 分）
- (2) 条件：地理位置优越（或东西方交通枢纽）；资本主义萌芽出现；特定人群的需要。（每点 1 分，任意两点即得 2 分）
- 影响：促进了人们文化程度的提高；新思想、新信息的传播范围扩大；影响与推动着欧洲资产阶级革命和近代社会的转型。（每点 1 分，任意两点即得 2 分）
- (3) 戊戌变法（或维新变法）；（1 分）辛亥革命；（1 分）新文化运动。（1 分）
- (4) 推动社会变革；传播了西方文明；促进中国近代的思想解放。（每点 1 分，任意两点即得 2 分）

32. （11 分）

- (1) 政治：颁布“推恩令”；（1 分）思想：罢黜百家，独尊儒术。（1 分）
- (2) 特点：较为公平的对待少数民族；（1 分）采取多样的措施。（1 分）
- 史实：文成公主入藏（或金城公主入藏）。（1 分）
- (3) 主张：反对分裂（或维护统一）。（1 分）
- 贡献：维护国家的统一；（1 分）废除奴隶制，扫清资本主义发展的障碍。（1 分）
- (4) 民族区域自治制度。（1 分）



作用：维护民族团结；巩固祖国统一；促进少数民族地区发展；为实现民族共同繁荣奠定基础。（每点1分，答出任意两点即得2分）

33. （12分）

（1）秦汉时期：①④；宋元时期：②③。（共2分，任选一个时期，一个序号对应正确即得1分）

（2）背景：新航路的开辟；殖民掠夺；明朝贸易政策的变化。（每点1分，答出任意两点即得2分）

影响：促进明朝对外贸易的发展；解决了菲律宾岛的生存需求；促进世界市场形成；将中国商品传播到世界。（答出任意一点即得1分）

（3）①闭关锁国 ②《南京条约》 ③浦东 （每点1分，共3分）

（4）职能：制定和规范多边贸易协定；组织贸易谈判；解决贸易争端等。（每点1分，答出任意两点即得2分）

意义：促进世界经济的增长；促进中国经济发展；为我国参与经济全球化开辟新途径。（答出任意一点即得1分）

（5）发挥自身优势；加强全球化合作。（答出任意一点即得1分）

34. （11分）

（1）① C （1分） ②使用磨制石器；用火；制作陶器；制作骨器或骨制装饰品；种植粟等农作物。（答出任意一点即得1分）

（2）刘瑾被处死；沿河岸栽柳的习惯；永定河与北京城关系密切；体现人们对永定河的治理；反映出的永定河周边人民为制服水患与大自然不懈抗争的历史等。（每点1分，答出其中任意两点或言之有理即可得2分）

（3）事件：七七事变（或卢沟桥事变）。（1分）

原因：全民族抗战；中国共产党的中流砥柱作用；世界爱好和平与正义的国家和人民的支持。（每点1分，答出两点，或意思相近，即可得2分）

（4）创新、协调、绿色、开放、共享的新发展理念；改善生态环境；人与自然和谐共生。（每点1分，言之有理即可得2分。）

（5）评分规则：设计符合宣传标语的特点——文字简练、意义鲜明、达到宣传鼓动目的；言之有理即可得2分。

答案示例：重走京西古道 体验交通古韵