



## 2020 北京延庆初三（上）期中

### 历史

考 生 须 知	1. 本试卷共 12 页，共两部分，24 道题。满分 80 分。考试时间 90 分钟。 2. 在试卷和答题纸上准确填写姓名、班级和学校。 3. 试题答案一律书写在答题纸上，在试卷上作答无效。 4. 在答题纸上，试题用黑色字迹签字笔作答。 5. 考试结束，将本试卷和答题纸一并交回。
------------------	--

#### 第一部分 选择题（共 30 分）

本部分共 20 小题，每小题 1.5 分，共 30 分。在每小题列出的四个选项中，选出最符合题目要求的一项。

1. 将中国的四大发明及印度的 0~9 数字等东方科学成就传播到欧洲，在不同文明之间架起了文化交流桥梁的是

- A. 西班牙人      B. 葡萄牙人      C. 阿拉伯人      D. 土耳其人

2. 中世纪晚期，西欧社会处于转型时期，原来的封君封臣制度和庄园制度发生了很大变化，随之而来的是资本主义生产方式的出现，它们是

- A. 工厂和乡镇企业      B. 租地农场和工厂      C. 乡镇企业和手工工场      D. 租地农场和手工工场

3. 当你作为博物馆的解说员介绍文艺复兴时期的但丁时，从下列作品中应选择的是



- A. 《最后的晚餐》      B. 《神曲》      C. 《哈姆雷特》      D. 《天方夜谭》

4. 为欧洲资本主义社会的产生和发展奠定了思想文化基础的是

- A. 资本主义萌芽      B. 文艺复兴运动      C. 新航路的开辟      D. 启蒙运动

5. “新航路开辟后，使世界上原本互相隔绝的地区沟通起来，世界开始联成一个整体，为资本主义发展开辟了广阔的空间。”该材料体现的是新航路开辟的

- A. 历史背景      B. 必备条件      C. 主要过程      D. 重要影响

6. “三角贸易是人类历史上悲惨的一页，下列对“三角贸易”理解不正确的是

- A. 奴隶贸易的利润变成资本，促进了资本主义经济的发展  
B. 三角贸易首先从美洲出发



- C.充分暴露了资本原始积累的野蛮性
- D.是造成近代以来非洲贫困与落后的重要原因之一

7.以下时间轴中①对应的史实是



- A.颁布《权利法案》
- B.颁布《民法典》
- C.颁布《独立宣言》
- D.颁布《宅地法》

8.右图是某学校九（1）班同学的课本剧演出单。据此可知，该剧的主人公是

第一幕……雾月政变  
第二幕……登上皇帝宝座  
第三幕……帝国的铁蹄  
第四幕……滑铁卢的惨败

- A.克伦威尔
- B.华盛顿
- C.拿破仑
- D.林肯

9.描述“第一次工业革命时代特征”最合适、贴切的主题名称是

- A.铁器时代
- B.蒸汽时代
- C.电气时代
- D.信息时代

10.下表是欧洲城市人口统计表。可用于研究

项目	伦敦	巴黎	柏林	维也纳
1846年	250万人	100万人	37.8万人	40多万人
1880年	390万人	190万人	100万人	70万人

- A.城市规模扩大
- B.大众教育普及
- C.贫富差距加剧
- D.环境污染治理

11.某校为举办展览，搜集了下列图片。图中人物的共同之处是



章西女王



玻利瓦尔



华盛顿

- A.反抗了殖民压迫
- B.创立了新的国家
- C.解放了黑人奴隶
- D.结束了封建统治

12.某法令规定：农奴获得人身自由，可以自由转换职业；在获得解放的同时，可以获得一份土地，但必须出钱赎买。该法令的颁布者是

- A.亚历山大二世                      B.彼得一世                      C.赫鲁晓夫                      D.戈尔巴乔夫



13.右表是一位历史老师导学案中出现的键信息。根据其内容判断，这一重大历史事件是

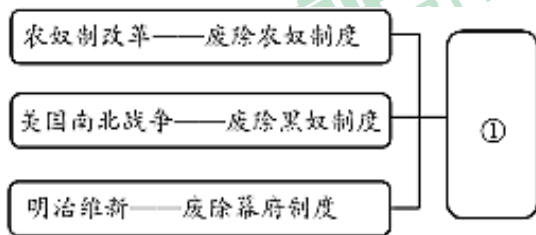
- A.英国资产阶级革命  
B.法国大革命  
C.美国南北战争  
D.明治维新

时间：1861——1865年
人物：林肯
重要文献：《解放黑人奴隶宣言》

14.模仿和创新相结合是日本民族的一大特色，主要体现为“汉化”和“欧化”。其“欧化”的主要措施是


- A.废除贵族世袭制                      B.推翻幕府统治                      C.实行“科技立国”                      D.文明开化

15.右侧示意图①处应填写的内容是



- A.资本主义力量进一步增强                      B.亚洲的民族解放运动高涨  
C.工业革命的浪潮席卷全球                      D.世界经济全球化速度加快

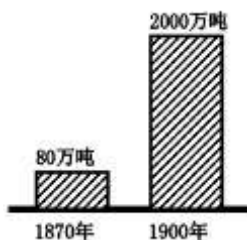
16.18世纪上半期至20世纪初的一百多年间，新机器与新技术革命层出不穷。下列成果诞生在第二次工业革命时期的有



①珍妮纺纱机                      ②蒸汽机车                      ③早期汽车                      ④早期飞机

- A.①②                      B.①③                      C.②③                      D.③④

17.右图为“1870年~1900年世界石油产量变化图”。导致石油量变化的主要原因是



- A.蒸汽机的发明与使用                      B.交通工具的推陈出新



C.内燃机的发明与推广

D.电器设备的推广应用

18.以下材料反映的主题是

● 19 世纪末 20 世纪初，妇女考试获得选举权
● 1979 年联合国大会通过了《消除对妇女一切形式歧视公约》
● 1995 年在北京召开第四届世界妇女大会
● 2020 年 1 月 22 日，特丽娜·萨克拉普卢成为希腊历史上首位女总统

A.现代社会生活的变化

B.大众教育的发展

C.妇女地位的提高

D.人口的迅速增长

19.在世界音乐史上，许多流芳千古的作品都被打上了深深的历史烙印。下列作品中，以法国大革命为创作背景的是

A.《命运交响曲》

B.《英雄交响曲》

C.《国际歌》

D.《告别进行曲》

20.“生物母体生出的众多后代……其中优秀的物种在生存竞争中取胜了，其它被淘汰了，这就是优胜劣汰。”这句话出自

A.《自然哲学的数学原理》

B.《人间喜剧》

C.《英雄交响曲》

D.《物种起源》

## 第二部分 材料分析题（共 50 分）

21.（14 分）在人类发展史上，创造了许多优秀文明成果。

材料一：两幅图片



①金字塔建筑群



②雅典卫城建筑群遗址

(1) 以上图片中的建筑属于大河流域文明成就的是\_\_\_\_，属于西方古典文明成就的是\_\_\_\_。（2 分。填写序号即可）

(2) 任选其一，从历史的角度简要介绍其价值。（2 分）

所选序号：



历史价值:

材料二: 第 7 条 自由民从自由民之子或自由民之奴隶处买得或为之保管银或金,或奴隶,或女奴,或牛,或羊,或驴,或不不论何物,而无证人及契约者,是为窃贼,应处死。

第 10 条 倘买者不能领到出售与彼(他,指买者)之卖者及买时作证之证人,而仅失物之主提出知其失物之证人,则买者为窃贼,应处死;失物之主应收回其所失之物。

第 196 条 倘自由民损毁任何自由民之子之眼,则应毁其眼。

第 200 条 倘自由民击落与之同等之自由民之齿,则应击落其齿。

——选自《汉谟拉比法典》

(3) 《汉谟拉比法典》建立在两个著名的原则基础上,即“同态复仇”和“让买方小心提防”,结合材料说明哪条体现了这两个原则。(条款任选其一即可)(2分)

材料三:

文献	内容
《权利法案》	<p>第 1 条 凡未经议会同意,以国王权威停止法律或停止法律实施之僭越权力,为非法权力。</p> <p>第 4 条 凡未经议会准许,借口国王特权,为国王而征收,或供国王使用而征收金钱,超出议会准许之时限或方式者,皆为非法权力。</p> <p>第 9 条 议会内之演说自由、辩论或议事之自由,不应在议会以外之任何法院或任何地方,受到弹劾或讯问。</p>
《人权宣言》	<p>第 1 条 在权利方面,人生来是而且始终是自由的。</p> <p>第 2 条 .....权利是自由、财产、安全与反抗压迫。</p> <p>第 3 条 整个主权的本原主要是寄托于国民。任何团体或个人皆不得行使国民所未明白授予的权力。</p> <p>第 4 条 自由是指有权从事一切无害于他人的行为。</p>

(4) 从材料三来看,两部文献中对于国家主权的认识有何明显不同?《权利法案》与《人权宣言》分别对英、法资本主义发展有何重大意义?(4分)

材料四: 马克思是全世界无产阶级和劳动人民的革命导师,是马克思主义的主要创始人.....为了改变人民受剥削、受压迫的命运,马克思义无反顾投身轰轰烈烈的工人运动,始终站在革命斗争最前沿。他领导创建了世界上第一个无产阶级政党——共产主义者同盟,领导了世界上第一个国际工人组织——国际工人协会,热情支持世界上第一次工人阶级夺取政权的革命——巴黎公社革命,满腔热情、百折不挠推动各国工人运动发展。

——习近平在纪念马克思诞辰 200 周年大会上的讲话

(5) 马克思主义诞生的标志是什么？依据材料四，归纳概括“马克思义无反顾投身轰轰烈烈的工人运动”的史实。（4分）



22. (13分) 美国的首都华盛顿同北京城一样，有一条蕴含历史的中轴线。

注：游学行进路线——自东向西（国会大厦——→华盛顿纪念碑——→林肯纪念堂）



第一站·国会大厦

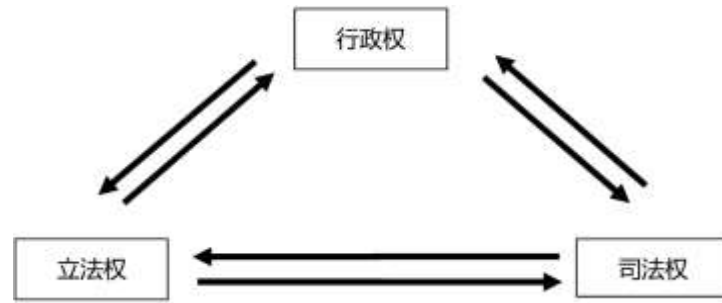
材料一 国会大厦中，悬挂着四幅美国历史油画：

	
<p>A. 《签订独立宣言》</p>	<p>B. 《登陆的哥伦布》</p>
	
<p>C. 《康沃利斯勋爵在约克镇投降》</p>	<p>D. 《朝圣者登船（英属北美殖民地的开辟）》</p>

(1) 依据时间顺序对图中事件进行排序，并将字母依次填写到下面表格中。（4分）

--	--	--	--

材料二



(2) 依据材料二并结合所学，说出美国国会承担着“三权分立”制度中的职能。(1分)

第二站·华盛顿纪念碑

材料三 华盛顿纪念碑内部中空，内壁上嵌有各个国家、团体及名人所赠的石碑 193 块。其中，第十层内壁上，是中国赠送的汉字碑文：

华盛顿……起事勇于胜广，割据雄于曹刘……开疆万里，乃不僭位号，不传子孙，而创为推举之法，几于天下为公……其治国崇让善俗，不尚武功，亦迥与诸国异。……米利坚合众国以为国，幅员万里，不设王侯之号，不循世袭之规！

(3) 将材料三碑文所反映历史事件 A：莱克星顿枪声，B：1787 年美国宪法（填写序号即可）并写出各自的作用填写在下面表格中相应的位置（4 分）

碑文原文	相应事件及作用
起事勇于胜广（陈胜、吴广起义）	
割据雄于曹刘（曹操、刘备）	发表《独立宣言》，正式宣告与英国断绝一切隶属关系和政治联系。
乃不僭位号，不传子孙，而创为推举之法 ……不设王侯之号，不循世袭之规！	

第三站·林肯纪念堂

材料四 纪念堂中的石壁上，记载着林肯生前的经典语录。其中一幅是他第二次就职总统时发表的演说：

双方都声称反对战争，可是有一方宁愿打仗而不愿让国家生存，另一方则宁可接受战争……于是战争就来临了。我国八分之一的人口是黑奴，他们并非不是广泛分布于全国各地，而是集中在美国南部——这些黑奴带来了一种特殊而强大的利益，所有人都知道这种利益迟早会成为战争的起因。

——林肯《1865 年·第二次就职总统演说》（南北战争第 5 年）

(4) 说出材料四中这场“战争”的名称。依据材料四，概括这场战争的原因。（2 分）

(5) 结合所学，说出材料四中林肯“接受战争”的主要目的。（1 分）

(6) 依据材料四并结合所学，说出这场战争对美国产生的影响。（1 分）



23. (13分) 史料是历史研究的基础

【史料功能】

材料一 公元前 1400 年至公元前 1200 年，是古希腊迈锡尼文明的鼎盛时期。公元前 1200 年左右，代表迈锡尼文明的希腊各小国在此时相继遭到毁灭。从此，希腊史进入一个文化衰退时期。考古发现证明了这个时期的衰退。但也有一些早期文明的成就延续下来，如公元前 9 到公元前 8 世纪的几何装饰陶器就深受迈锡尼风格影响。公元前 8 世纪时，文字在古代希腊才又重新出现。除了考古发现，了解这一时期的主要资料是《荷马史诗》，相传是由盲诗人荷马根据民间口口相传的短歌综合编写而成，是宝贵文学遗产。

——摘编自马克尧《世界文明史》(上)

(1) 依据材料一，对以下表述做出判断：

直接从材料得出的，在括号内划“√”；违背材料所表达意思的，在括号内划“×”；材料没有涉及，在括号内划“○”。(4分)

- ①考古发现证明了公元前 1200 年左右，希腊历史开始进入一个文化衰退时期。 ( )
- ②希腊早期的迈锡尼文明对后来的希腊社会没有任何影响。 ( )
- ③《荷马史诗》为近代欧洲文艺复兴的发生提供了思想源泉。 ( )
- ④《荷马史诗》是文学作品，也具有史料价值。 ( )

【史料鉴别】

材料二 就性质而言，史料有原始史料(当时留下的事物、文件、记录、日记、当事人的回忆录、调查记录、群众传说)；撰述史料(根据原始史料撰写的历史著作，如《春秋》、《史记》等)；依据载体的不同，史料可以分为实物史料、文字史料、口述史料、声像史料、数字化史料等类型。

——李剑鸣《历史学家的修养和技艺》

(2) 阅读下列史料，并依据材料二，进行判断。



图 1 罗马万神庙



图 2 巴比伦空中花园(想象图)



图 3 《汉谟拉比法典》石柱



图 4 《全球通史》



图 5 第一次世界大战后的欧洲(照片)



图 6 丘吉尔《第二次世界大战回忆录》

上述史料中，属于原始史料的是\_\_\_\_\_ (1分)





上述史料中，属于撰述史料的是\_\_\_\_\_（1分）

【史料运用】

材料三 口述史料，不仅可以作为文献史料的补充，还具有不可替代的特殊价值，例如，口述史提倡创立平民化的历史，让不掌握话语霸权的人们，包括社会底层的百姓、少数裔族群和妇女都有发出自己声音的可能性，使这些人的经历、行为和记忆有了进入历史记录的机会，并因此构成历史的一部分。此外，口述史具有特有的“个人性”，重视从个人的角度来体现对历史事件的记忆和认识。但是，口述中往往会有太多或有意，或无意的记忆失误，也会有有意的、无意的谎言。因此，使用史料过程中，需要将口述材料与文献记载互相参考。

——摘编自定宜庄《口述史料的独特价值与史料的整理鉴别》

（3）某校研学小组搜集到丘吉尔《第二次世界大战回忆录》。依据材料三并结合所学，指出作为第二次世界大战史研究资料，有哪些局限性？应如何弥补？（3分）

【史料解读】

某历史研学小组搜集到下列反映 19 世纪中后期英国历史的图片。

材料四



图 7 1851 年英国世博会

图 8 工厂里的童工

图 9 英军屠杀印度起义领袖

（4）该小组针对材料四中的图片，归纳提炼的主题是“19 世纪英国的辉煌与罪恶”。这个主题与图片所反映的内容相符合吗？（1分）请说明理由。（3分）

24.（10分）110 年的沧桑巨变，京张铁路见证了中华民族的百年荣辱，连接着历史与未来。某历史小组开展了京张铁路沿线的考察活动。

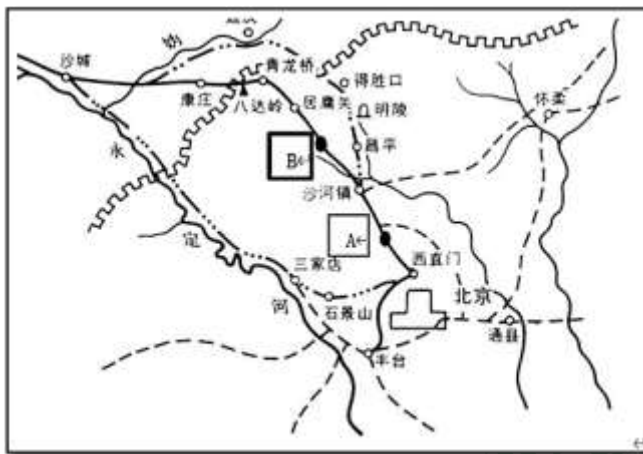
【规划路线】出行前，组员们结合文献进行了路线的研究，并找出了拟重点考察的地点。

材料一 京张铁路告成后……（八月）十九日行正式开车礼，由西直门外开车，头站到清河镇，稍息。二站到沙河镇，亦稍息。九点四十五分到南口，其地在居庸关之南，为关沟进口处，茶会即设于此……午后先由徐尚书演说京张路之组织及其关系。

——摘编自《东方杂志》第六卷第十期《记京张铁路行开车礼事》

注：徐尚书即宣统元年（1909 年）邮传部尚书徐世昌

（1）根据材料一，将 A 和 B 两处地名对应填入下图。（2分）



京张铁路局部图

【遗址考察】穿过居庸关继续前行，一座大墓坐北朝南矗立在青龙桥火车站旁。墓东侧有一座4米高的石碑。组员摘录文字如下：

材料二 君之游美国也，年甫十二，时清同治十二年（1873年），为我国派学生出洋之始，至光绪七年毕业始归……其充教员则为福州船政局……任汉粤川铁路督办，而以京张路工为尤著……四年而全路告成，开车之日，王公士庶及东西人士观者数万，咸啧啧叹为前古所未有。时予方任邮传部尚书，亲睹其盛事，实君生平莫大之荣誉也。

——摘编自徐世昌撰《故交通部技监汉粤川铁路督办詹君之碑》碑文

(2) 结合所学，说出詹天佑出洋学习的背景。（1分）指出材料一和材料二两则史料的关系。（1分）

材料三



青龙桥火车站的铁路讲解图

“人（之）”字型铁路的优点是减免坡度之陡，缩短隧道长度，缺点是影响运输效率。但是在当时资金匮乏、全世界都等着看中国工程师笑话的时候，詹天佑还是迫不得已地使用了“人（之）”字线。他的根本目的，是要减少开挖八达岭隧道的工程量和工程难度。

——摘编自《筑轨京张》北京晚报官网 2012年6月5日

(3) 依据材料三，指出“人（之）”字型铁路的优点。（2分）

【学以致用】实地考察结束后，组员们又开始研究京张铁路的现状。

材料四 2018年，京张铁路入选首批《中国工业遗产保护名录》

国家工业遗产认定标准

标准 1	中国历史或行业历史上有标志性意义，见证了本行业在世界或中国的发端、对中国历史或世界历史有重要影响、与中国社会变革或重要历史事件及人物密切相关。
标准 2	工业生产技术重大变革具有代表性，反映某行业、地域或某个历史时期的技术创新、技术突破，对后续科技发展产生重要影响。



标准 3	具备丰富的工业文化内涵，对当时社会经济和文化发展有较强的影响力，反映了同时期社会风貌，在社会公众中拥有广泛认同。
标准 4	其规划、设计、工程代表特定历史时期或地域的风貌特色，对工业美学产生重要影响。

注：摘编自工业和信息化部《国家工业遗产管理暂行办法》


(4) 从以上所有材料中选取恰当内容，说明京张铁路符合国家工业遗产认定标准的一项理由（2分）

示例：

选择标准 3

理由：京张铁路见证了中国近代工业的兴起。京张铁路的成功修建有力回击了西方的蔑视，提升了民族自信心。

材料五

<p>作为 2022 年冬奥会的交通保障线，京张高铁代表了当前高铁建设最高水平及建设标准和方向。这是第一条采用中国自主研发的北斗卫星导航系统、设计时速为每小时 350 公里的智能化高速铁路，也是世界上第一条最高设计时速每小时 350 公里的穿越高寒、大风沙地区的高铁。</p> <p style="text-align: right;">——《今日中国》2018 年 3 月 18 日</p>	 <p>京张高铁清河站的站牌沿用 1906 年“清河车站”的老字体</p>
--	---

(5) 依据材料五并结合所学，以“百年之约”为题，写一段研究报告的结语，作为对京张铁路的致敬。（2分）