



丰台区 2019-2020 学年度第一学期期末练习

初二地理 2020.01

考生须知	1. 本试卷共 12 页，共两道大题，28 道小题，满分 70 分。考试时间 60 分钟。 2. 在试卷和答题卡上认真填写学校名称、姓名和考试号。 3. 试题答案一律填涂或书写在答题卡上，在试卷上作答无效。 4. 在答题卡上，选择题和作图题用 2B 铅笔作答，其它试题用黑色字迹签字笔作答。 5. 考试结束，将本试卷和答题卡一并交回。
------	---

第一部分 选择题（共 25 分）

本部分共 25 小题，每小题 1 分，共 25 分。在每小题列出的四个选项中，选出最符合题目要求的一项。

2019 年 4 月 23 日，在中国人民解放军海军成立 70 周年之际，习近平主席提出海洋命运共同体理念。习主席指出，海洋孕育了生命、联通了世界、促进了发展。我们人类居住的这个蓝色星球，不是被海洋分割成了各个孤岛，而是被海洋连结成了命运共同体，各国人民安危与共。读图 1，完成第 1~3 题。

1. 据图可知

- A. 地球的形状是圆形
- B. 南极洲被冰雪覆盖
- C. 北半球的海陆分布状况
- D. 海洋面积大于陆地面积



图 1

2. 甲位于的大洲

- A. 地势西高东低
- B. 纬度位置最高
- C. 主体位于西半球、北半球
- D. 东南北三面被三大洋环绕 图 1

3. 从地理视角看“海洋命运共同体”

- A. 海水相连，占地球表面积的 80%
- B. 海洋资源丰富，是人类资源的宝库
- C. 各国都有漫长的海岸线，便于沟通
- D. 海洋生态环境不受人类活动的影响

4. 学完海陆变迁后，小明查阅收集了很多文献。下列文献能够说明海陆变迁的是

古来黄河流，而今作耕地。
——萨都刺《过古黄河堤》

①

高山有螺蚌壳……螺蚌即水中之物。下者却变而为高，柔者变而为刚。
——《朱子语类》卷九十四

②

天公恶作剧，翻手变炎凉。海运三山动，江高数尺纒。
——陆文圭《和心渊雷雨地震诗》

③

昔燕齐辽旷，分置营州，今城面海滨，海水北侵，城垂沦者半。
——郦道元《水经注》

④

- A. ①②
- B. ①③
- C. ②④
- D. ③④



某校地理学习小组发现北纬 30 度贯穿了四大文明古国，沿途的自然人文风光和一条壮美的河流是地球生命的律动。图 2 为世界年平均气温分布图、图 3 为世界年降水量分布图。读图，完成第 5~10 题。

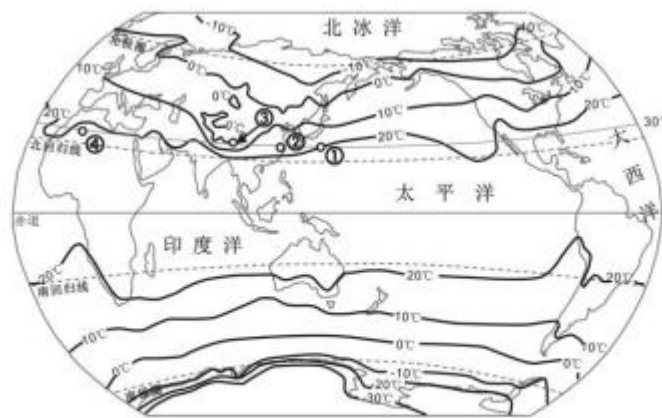


图 2

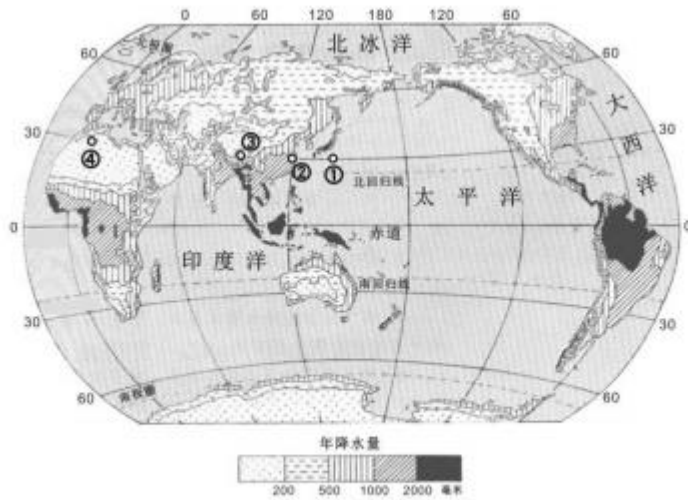


图 3

5. 图 2 中，①②③④四地年平均气温
 - A. ①地低于 20°C
 - B. ①地低于②地
 - C. ④地大约 15°C
 - D. ②地高于③地
6. 图 2 中，①②两地气温差异的主要影响因素是
 - A. 海陆位置
 - B. 纬度位置
 - C. 地形地势
 - D. 人类活动
7. 由图 3 可判读出②地年降水量
 - A. 200~500mm
 - B. 500~1000mm
 - C. 1000~2000mm
 - D. 2000mm 以上
8. 与①②③④四地相对应的景观是



甲 冰雪海岛



乙 荒凉沙漠



丙 高寒牧场



丁 稀树草原

- A. ①—甲
 - B. ②—乙
 - C. ③—丙
 - D. ④—丁
9. 与④地相比，②地人口稠密的主要自然原因是
 - A. 地势较高
 - B. 全年高温
 - C. 降水丰沛
 - D. 交通发达



10. 地理小组对全球气温和降水状况的描述，正确的是

- A. 同纬度地区海洋气温均高于陆地气温
- B. 南极洲沿海地区等温线稀疏，温差大
- C. 非洲中部地区降水少，南部和北部降水多
- D. 亚欧大陆中纬度沿海地区降水多于内陆地区

通常用人口自然增长率来分析某国家或地区人口增长速度（人口自然增长率=人口出生率-人口死亡率）。人口增长过快或过慢都会对环境及社会、经济产生影响。读图，完成第 11~15 题。

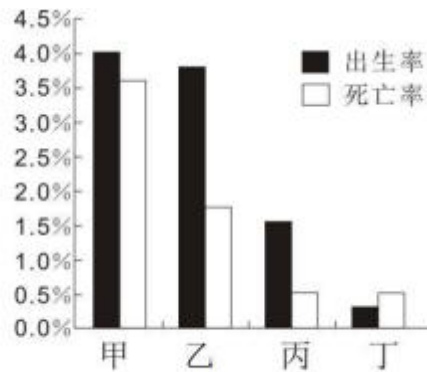


图 4

11. 图 4 为甲、乙、丙、丁四个国家的人口统计图，其中人口增长速度最快的是

- A. 甲国
- B. 乙国
- C. 丙国
- D. 丁国

12. 丁国最可能位于

- A. 欧洲
- B. 亚洲
- C. 南美洲
- D. 非洲

13. 图 5 为人口总数多、人口自然增长率过高产生的资源和环境问题示意图。图中数字含义正确的是

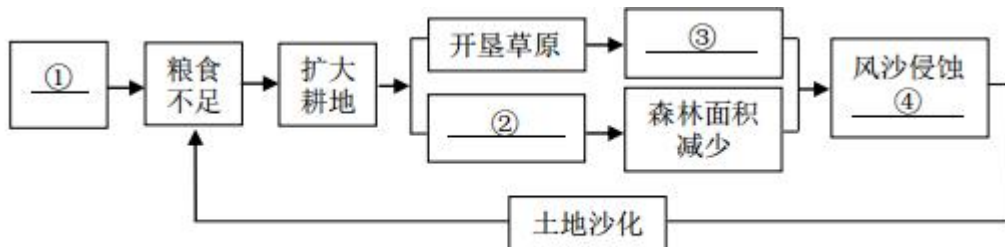


图 5

- A. ①—砍伐森林
- B. ②—草场退化
- C. ③—人口快速增长
- D. ④—水土流失

各国根据本国人口发展的状况，制定了相应的人口政策。图 6 为我国计划生育政策相关内容。

主要内容	提倡晚婚、晚育，少生、优生，控制人口数量，提高人口素质。
计划生育政策变化	1980 年，中央召开五次人口座谈会后确定“提倡一对夫妇生育一个孩子”。
	1982 年 9 月，计划生育被确定为我国基本国策。
	2013 年 1 月，中共十八届三中全会决定启动实施“一方是独生子女的夫妇可生育两个孩子”政策。
	2015 年 10 月，中共十八届五中全会决定：坚持计划生育的基本国策，完善人口发展战略，全面实施一对夫妇可生育两个孩子政策。



图 6

14. 我国于 2015 年 10 月提出“全面实施一对夫妇可生育两个孩子政策”的原因是
- A. 经济发达可养活更多人口 B. 人口老龄化日趋严重
- C. 我国人口数量的急剧下降 D. 劳动力出现严重短缺

15. 一个国家人口政策的制定与调整说明

- ①人口政策只能解决人口增长问题 ②人口政策要适应社会发展需求
- ③人口发展应与资源、环境相协调 ④人口增长应与经济发展相适应

- A. ①②③ B. ①②④ C. ①③④ D. ②③④

图 7 为清代宫廷画家徐扬于乾隆二十四年（公元 1759 年）创作的《姑苏繁华图》（局部），反映了当时苏州（今江苏苏州）“商贾辐辏[fú còu]，百货骈阗[pián tián]（商人云集、货物琳琅满目的意思）”的市井风貌。读图，完成第 16、17 题。

16. 图中所示的聚落类型及判断理由是

- A. 乡村，这里有河流
- B. 乡村，这里以农业生产为主
- C. 城市，这里以商业活动为主
- D. 城市，这里的房屋数量较多

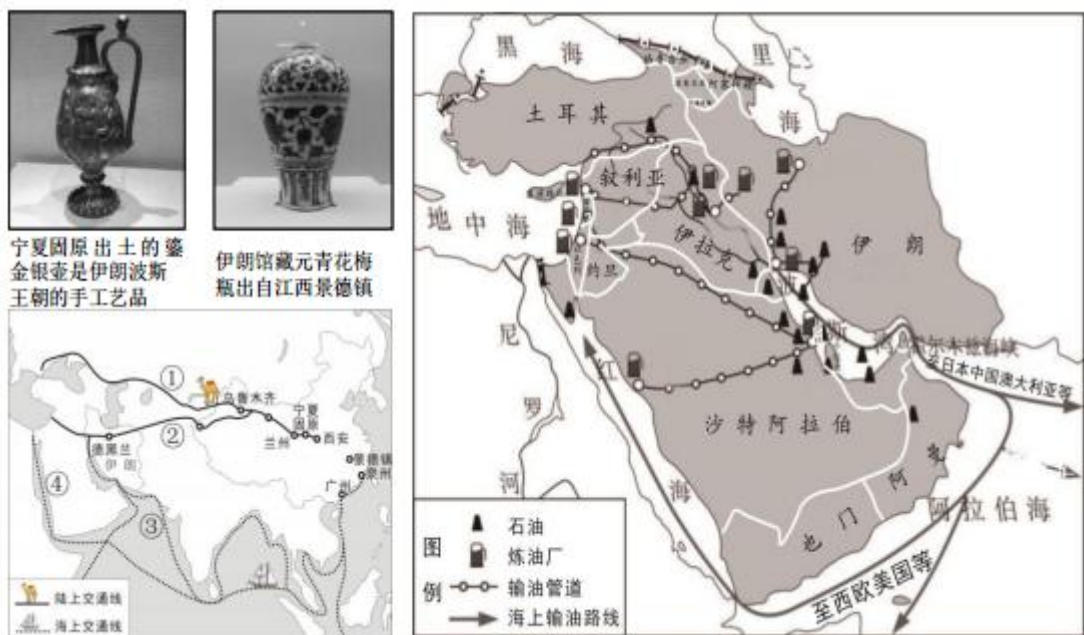


图 7

17. 由图中景观可推断当时该地

- A. 水运发达
- B. 地势崎岖
- C. 水流湍急
- D. 全年少雨

2019 年 5 月 13 日，被称为穿越时空的“大美亚细亚——亚洲文明展”在国家博物馆开幕。其中的一些展品体现古代中国与亚洲各国通过丝绸之路建立的经贸文化联系。目前，在“一带一路”背景下的中国与西亚国家贸易合作更密切。图 8 为古代丝绸之路示意图和西亚石油资源输出图。读图，完成 18~21 题。



18. 鎏金银壶和元青花梅瓶，分别经过的古代商贸路线可能是图中的



- A. ①② B. ①④ C. ②③ D. ③④

19. 小明跟朋友聊起了在展馆看到的伊朗代表，他的描述中最不可信的是

- A. 穿白色长衫 B. 属于黑色人种
C. 说着波斯语 D. 信仰伊斯兰教

20. 西亚对世界经济发展影响最大的资源是石油，主要分布在

- A. 波斯湾及其沿岸 B. 黑海及其沿岸
C. 地中海及其沿岸 D. 红海及其沿岸

21. 西亚修建了通往地中海的输油管道，再从地中海沿岸装船运输，这样缩短了石油运往

- A. 中国的航程 B. 澳大利亚的航程
C. 日本的航程 D. 西欧的航程

2018年9月26日中国第九次北极科学考察队顺利返回上海基地码头，131名科考队员历时69天，乘风破浪，踏雪寻冰，勇闯无人之区探索自然真谛，对北极中心区域开展综合调查。图9为中国第九次北极科考路线示意图。读图，完成第22~25题。

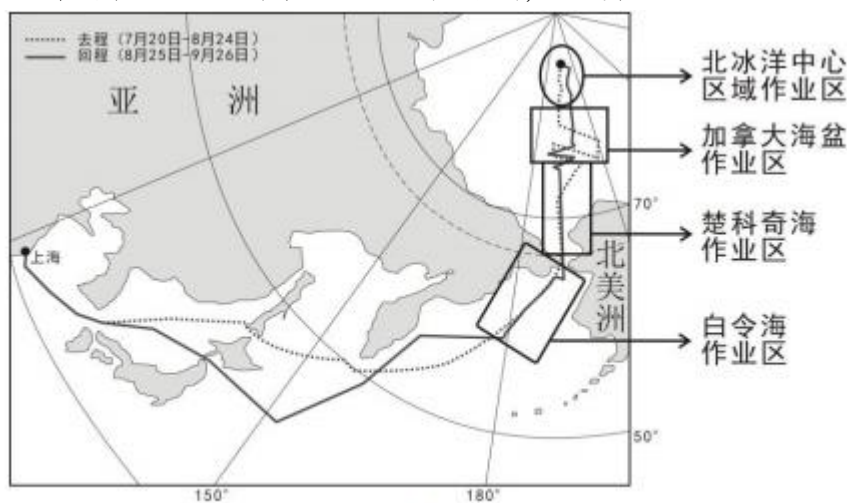


图9

22. 北极地区突出的自然环境特征是

- A. 纬度位置低 B. 气候寒冷 C. 没有动物分布 D. 没有人类活动

23. 科考队完成在楚科奇海作业区的工作，前往北冰洋中心区域，行驶方向是

- A. 正北 B. 西北 C. 正南 D. 西南

24. 科考队员进入北极地区，沿途可能

- A. 邂逅成群的企鹅 B. 欣赏午夜不落的太阳
C. 遇到强台风登陆 D. 看到裸露的北极大陆

25. 海冰观测是本次科考重点内容之一。如果海冰加速消融，会带来的不利影响有

- ①扩大宜居土地 ②灾害性天气增多 ③威胁北极的生态 ④增加淡水资源

- A. ①② B. ①③ C. ③④ D. ②③

第二部分 综合题（共45分）

26. (15分) 进博寻踪

2019年11月5日至10日，第二届中国国际进口博览会在上海举办。葡萄酒为法国、意大利等国家的进博会展品之一。读图文资料，回答下列问题。

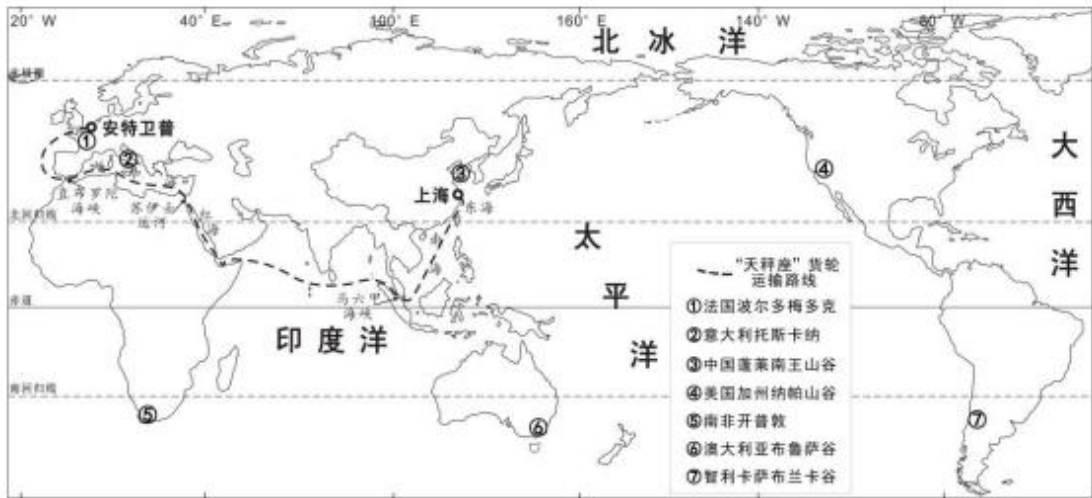


图 10

法国波尔多梅多克、意大利托斯卡纳、美国加州纳帕山谷、智利卡萨布兰卡谷、澳大利亚布鲁萨谷、南非开普敦、中国烟台的蓬莱南王山谷并称为世界七大葡萄酒海岸。

(1) 世界七大葡萄酒产区 (多项选择)。(3 分)

- A. 热带比温带地区多
- B. 主要分布于中纬度
- C. 东半球比西半球多
- D. 主要位于沿海地区

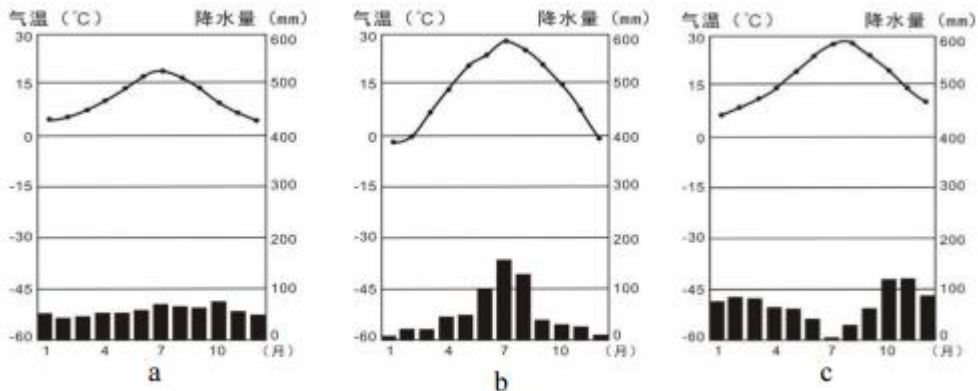


图 11

(2) 图 11 为①、②、③三个产区的气温曲线和降水量柱状图，其中 c 为_____产区 (填数字序号)、属于_____ (气候类型)；三个产区降水的显著差异表现在_____ (年降水量/降水季节分配)。(3 分)

葡萄喜光，不耐寒，适宜生长的温度为 12℃~30℃，年降水量 600-800 毫米左右，春季需水量多、夏季需水量少。

(3) 图 10 中，②产区所在地区盛产葡萄，古代人们用葡萄酿造葡萄酒。分析该地区利于葡萄生长的气候条件：_____；_____；_____。(3 分)

2019 年 10 月 22 日上午，从比利时安特卫普港出发，装载着 2000 多公斤法国红酒的中远海运“天秤座”货轮抵达上海海洋山港。

(4) 图 10 中所示“天秤座”货轮从安特卫普港出发经_____洋，穿过直布罗陀海峡，过_____海、_____运河和_____海，进入印度洋，通过_____海峡，经过我国南海、_____海到达上海海洋山港。(6 分)

27. (17 分) 美洲探秘



北美洲和南美洲，以巴拿马运河为界，总称亚美利加洲，简称美洲。地理课上同学们组成若干地理小组，开展对美洲的研究。图 12 为美洲地形图、图 13 为美洲气候类型图。读图，回答下列问题。

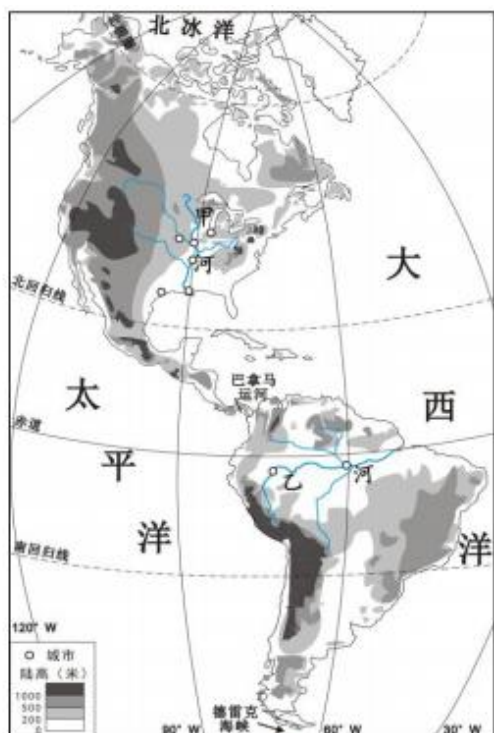


图 12



图 13

地理位置特点

(1) 第一组同学分析了两大洲位置特点：从纬度位置看，北美洲地跨寒、温、热三带，大部分地区位于五带中的_____带，而南美洲_____带范围广；从海陆位置看，两大洲均东临大西洋，西临太平洋，但北美洲北临北冰洋，南美洲南隔德雷克海峡与_____洲相望。(3 分)

自然环境特点

图 14 为第二组同学绘制的南北美洲地形简图。

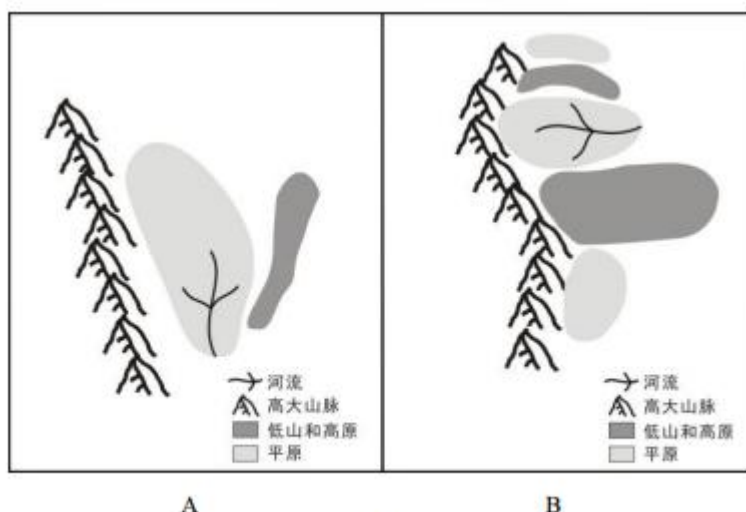
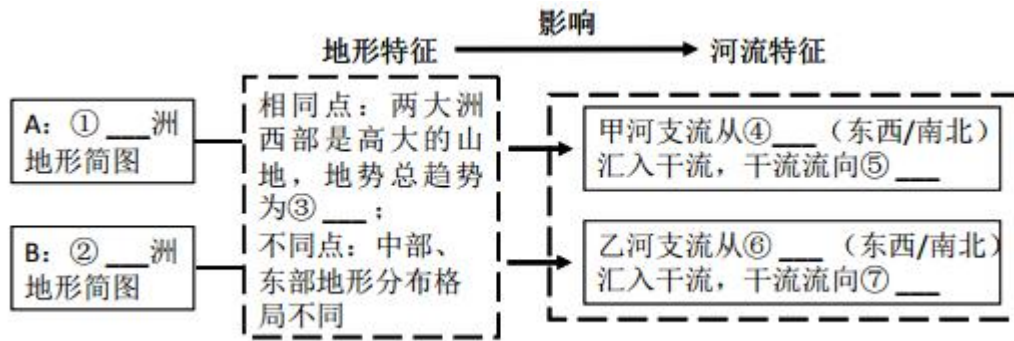


图 14

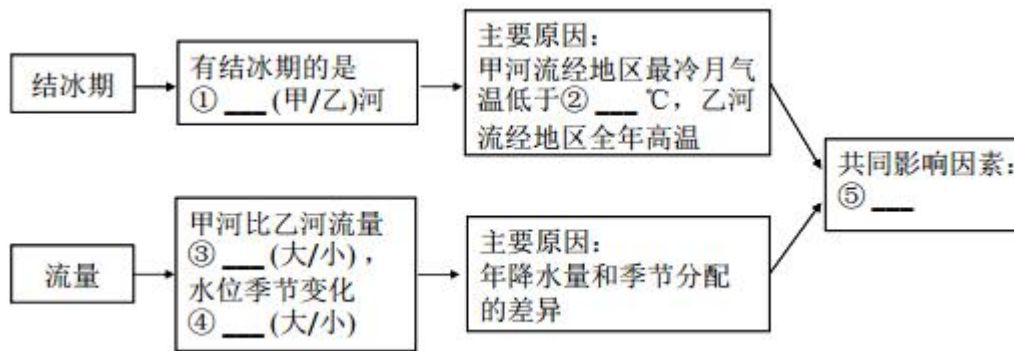
(2) 第二组同学通过绘制两大洲地形简图，探究两大洲地形特征及其对河流的影响。结合



图 12，将框图中的内容填写完整。(7 分)



(3) 第三组同学开展河流水文特征与地理环境关系的调查，分析河流结冰期和流量的差异及其主要影响因素。结合图 12、图 13，将框图中的内容填写完整。(5 分)



自然环境与人类活动关系

第四组同学探究了甲、乙两条河流的航运能力和航运价值。下面是该小组的探究结论。

(4) 从甲、乙两条河流中任选其一，判断该河流航运价值的高低，并说明原因。(2 分)

航运能力 从甲、乙两河流经地区地形对河流流速的影响及降水对河流流量大小的影响来看，甲、乙两河航运能力均很强。	航运价值 从甲、乙两河流经地区人口、城市及经济发达状况来看，甲、乙两河航运价值高低不同。
--	--

28. (13 分) 世园揽胜

暑假小丽和小红参观了北京世园会中各具特色的国际馆。其中日本和尼泊尔展馆给她们留下了深刻印象。通过查找资料并结合所学的地理知识，她们对两个国家有了更深的认识。图 15 是尼泊尔和日本图。读图文资料，回答下列问题。

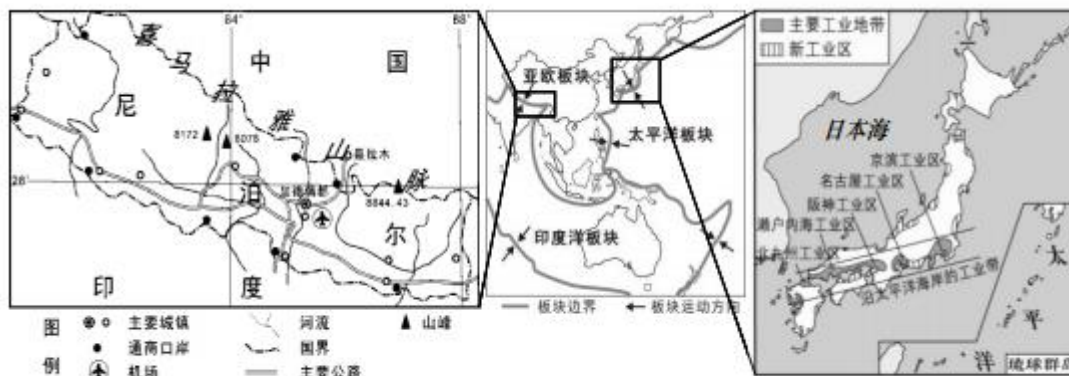


图 15

资料:日本主要工业原料和燃料依赖国外输入的比重及主要工业产品出口量占其总产量的比重(2010年)

主要工业原料和燃料	石油	天然气	煤炭	铁矿石
国外输入比重(%)	99.7	96.5	96	100
主要工业产品	汽车	钢铁	摩托车	数码相机
出口量占总产量比重(%)	53.1	73.1	83.5	48.7

(1) 从她们参观时拍摄的照片可以看出两国 (选择填空)。(1分)



尼泊尔展馆的荷塘



日本展馆起源于寺庙供佛的花道艺术

- A. 人种相同 B. 语言相同 C. 都信奉佛教 D. 传统服饰相同

小红看到一则新闻:尼泊尔农民面临农作物“废料”——稻谷壳和玉米杆等需要处理的难题。而与尼泊尔接壤的我国西藏日喀则地区却面临牲畜饲料不够的问题。中国在尼泊尔投资建设现代化的加工厂,将这些“废料”加工成饲料,并进口。

(2) 新闻中的中国与尼泊尔的经济合作属于国际交往中的 _____(南北对话/南南合作), 出口由农作物“废料”加工成的饲料有利于尼泊尔 _____(多项选择)。(4分)

- A. 变废为宝, 资源有效利用 B. 增加当地农民的收入
C. 解决本国饲料短缺的问题 D. 引进先进的生产技术

(3) 小丽品尝了两国的传统美食尼泊尔豆汤饭和日本寿司, 从饮食习惯可以看出两国种植业中粮食作物以 _____ 为主; 但两国海陆位置不同, 尼泊尔是 _____ 国, 日本是 _____ 国, 因此日本有发达的 _____ 业(农业部门)。(4分)



豆汤饭（米饭配咖喱牛羊肉等）



寿司（米饭配新鲜海产、蔬菜等）

（4）小丽和小红在交流搜集到的有关日本和尼泊尔的资料，其中有一些错误的表述，从中挑出四处。（4分）

日本位于太平洋东北部，多优良的海港，海洋运输发达。

尼泊尔位于喜马拉雅山北麓，称为“山地之国”，对外联系以公路和航空为主。

日本经济对外依赖性强，因为自然资源缺乏，原料和燃料需要大量进口，但市场狭小，工业产品大量出口，所以工业主要分布在日本海沿岸。

因为尼泊尔南部与孟加拉国接壤，所以通商口岸主要分布在南部，且南部地形较平坦，便于通商口岸建设；城镇较多，商贸需求量大。

日本处于板块张裂处，多火山、地震。

尼泊尔也在地震带上，2015年4月发生里氏8.1级地震，将世界文化遗产“九层神庙”震塌，震成了六层。为了恢复与保护“九层神庙”，尼泊尔政府采用了推倒重建的方法。

示例 错误：日本位于太平洋东北部

错误 1：_____ 错误 2：_____ 错误 3：_____ 错误 4：_____