



考生须知	1. 本试卷共 10 页，共两部分，34 道小题。满分 90 分。考试时间 90 分钟。 2. 在试卷和答题卡上准确填写姓名、班级和学校。 3. 试题答案一律书写在答题卡上，在试卷上作答无效。 4. 在答题卡上，试题用黑色字迹签字笔作答。 5. 考试结束，将答题卡交回。
------	---

第一部分 选择题（共 45 分）

本部分共 30 小题，每小题 1.5 分，共 45 分。在每小题列出的四个选项中，选出最符合题目要求的一项。

- 我国是世界上最早种植水稻的国家，能够为此结论提供考古证据的远古人类遗址在
 - 云南省元谋县
 - 北京市周口店
 - 浙江省河姆渡
 - 陕西省半坡
- 《史记》记载，禹年老时推荐伯益为继承人。禹的儿子启却举兵杀死伯益，继承了父亲的位置，开始了“家天下”的历史。与材料所述事件相关的王朝是
 - 夏朝
 - 商朝
 - 西周
 - 东周
- 下图是中国古代先秦时期某代世系图示，它反映的政治制度始于


```

          文王 — 武王 — 成王……
          (天子)
          |
          |—— 周公 — 鲁公伯禽 — 桓公 — 庄公……
          (诸侯)
          |
          |—— 叔牙 — 公孙兹……
          (卿大夫)
          |
          |—— 叔仲彭生
          (士)
        
```

 - 商朝
 - 西周
 - 春秋
 - 战国
- 古诗有记：“江水初荡漪（yù），蜀人几为鱼。向无尔石犀，安得有邑居。始知李太守（李冰），伯禹亦不如。”诗中“李太守”的主要贡献是
 - 奖励耕战
 - 修筑都江堰
 - 修建灵渠
 - 开通大运河
- 老子认为：有无相生，难易相成，长短相形，高下相倾，音声相和，前后相随。这些主张蕴含的思想是
 - 辩证法
 - 兼爱非攻
 - 以德治国
 - 以法治国
- 北魏孝文帝改革后，汉语成为北方主要的通用语言；在民族心理上，以往的“胡、汉”观念逐渐淡薄。此现象可以推断孝文帝改革的历史作用是
 - 实现了国家统一
 - 提升了洛阳的地位
 - 促进了民族交融
 - 加剧了民族分化
- 根据下列提示信息，你联想到的古代制度是



提示一：十年寒窗
提示二：连中三元
提示三：金榜题名

- A. 察举制 B. 三省六部制 C. 科举制 D. 行省制

8. 阅读书籍需要关注目录，利于把握内容的主旨。依据右图目录呈现的内容，最适合的主题应该是

◎汉藏一家亲的历史画卷
 阎立本《步辇图》
◎丝绸之路上的胡人胡乐
 三彩骆驼载乐俑
◎雕版印刷的杰作
 《金刚经》经卷

- A. 争霸与争鸣的春秋战国
B. 大一统的两汉时代
C. 繁荣开放的大唐盛世
D. 盛世与危机的清王朝

9. 历史老师请同学们把下列卡片上的内容，按时间先后顺序进行排列，完全正确的一项是



- A. ①③④② B. ②③④① C. ②①④③ D. ③②①④

10. 下表所列名词中，“军机处、京剧”对应的历史时期应该是

时期	词汇
北宋	重文轻武、交子
明朝	八股取士、厂卫制度
	军机处、京剧

- A. 隋朝 B. 唐朝 C. 元朝 D. 清朝

11. 中国近代史上，清政府与列强签订了系列不平等条约（如下图所示），《辛丑条约》带来的影响是



- A. 中国民族资本主义工业产生
B. 辽东半岛、台湾岛及其附属岛屿、澎湖列岛被割让
C. 列强掀起瓜分中国的狂潮
D. 中国完全沦为半殖民地半封建社会

12. 选取关键信息是识记历史事件的重要方法。下列信息与太平天国运动无关的是

- A. 金田起义 B. 洪秀全 C. 扶清灭洋 D. 《天朝田亩制度》

13. 近代伴随民族危机的日益加深，中华民族走上救亡图存的探索之路。下列史实反映在制度层面向西方学习的有



①洋务运动 ②戊戌变法 ③辛亥革命 ④新文化运动

A. ①② B. ①④ C. ②③ D. ③④

14. 结合所学，判断与下表所示信息有关的历史人物应该是

时间	() 的活动
1915 年	创办《青年杂志》
1917 年	出任北京大学文科学长
1919 年	起草《北京市民宣言》
1920 年	建立了中国第一个共产党早期组织
1921 年	当选为中国共产党中央局书记

A. 蔡元培 B. 胡适 C. 鲁迅 D. 陈独秀

15. 有人认为：五四运动的历史意义，在于它带着辛亥革命还不曾有的姿态。这里所说“不曾有的姿态”主要是指

A. 毫不妥协的反帝反封建精神 B. 农民阶级成为运动的先锋
C. 推翻了两千多年的封建帝制 D. 反对一切外来的西方文化

16. 1927 年 10 月，毛泽东率领秋收起义的部队到达井冈山地区，创建了中国第一个农村革命根据地。其重大意义是

A. 开辟了从城市转入农村的革命道路 B. 制定了中国共产党的第一个纲领
C. 标志新民主主义革命的开端 D. 确立了毛泽东在中央的领导地位

17. “战士双脚走天下，四渡赤水出奇兵，乌江天险重飞渡……”，此歌曲描述的史实发生在

A. 北伐战争时期 B. 红军长征时期
C. 抗日战争时期 D. 人民解放战争时期

18. 下表信息描述的是抗日战争时期，八路军对日军发动的一场大规模进攻，它振奋了全国军民抗战胜利的信心，此战役是

开始时间	战斗次数	破坏交通线	收复县城
1940 年下半年	1800 余次	2000 多千米	四五十个

A. 淞沪会战 B. 台儿庄战役 C. 平型关大捷 D. 百团大战

19. 下图呈现了建国 70 年来的部分重大事件，对④解读正确的一项是



A. 开辟了中国历史新纪元 B. 确立了社会主义基本制度
C. 制定了改革开放的国策 D. 进入了中国特色社会主义新时代

20. 国家统计局发布的《改革开放 40 年经济社会发展成就报告》中提到：1978 年至 2017 年，我国就业人员从 40152

万人增加到 77640 万人，年均增加 961 万人。2017 年，全国居民人均可支配收入达到 25974 元，扣除价格因素，比 1978 年实际增长 22.8 倍。2017 年，城镇居民、农村居民人均住房建筑面积分别比 1978 年增加 30.2、38.6 平方米。所列数据直接反映的变化是

- A. 生活水平提高
- B. 思维方式改变
- C. 传统观念更新
- D. 通信技术发展


21. 中世纪晚期，西欧社会出现了资本主义生产方式，它们是

- ① 庄园经济
- ② 机器工厂
- ③ 租地农场
- ④ 手工工场

- A. ①②
- B. ②③
- C. ②④
- D. ③④

22. 右图所示为文艺复兴时期诞生的伟大作品，它们蕴含的核心思想是

- A. 禁欲主义
- B. 人文主义
- C. 理性主义
- D. 浪漫主义



《蒙娜丽莎》《哈姆雷特》

23. 有学者认为：没有地理大发现，就没有工业革命，也就没有资本主义的发展，更没有随之而来的世界历史向整体发展的根本转折。“地理大发现”所指的事件是

- A. 新航路开辟
- B. 三角贸易
- C. 英国资产阶级革命
- D. 法国大革命

24. “出任大陆军总司令，领导美国取得独立，主持制定 1787 年美国宪法，当选美国第一任总统，在美国民众心中享有崇高威望”的历史人物是

- A. 华盛顿
- B. 林肯
- C. 罗斯福
- D. 杜鲁门

25. 十八世纪末，出现在法国，提出“在权利方面，人们生来是而且始终是自由平等的，在法律面前，所有公民都平等”的法律文献是

- A. 《权利法案》
- B. 《人权宣言》
- C. 《独立宣言》
- D. 《解放黑人奴隶宣言》

26. 下面图示梳理了国际社会主义运动整体发展趋势，其中③处对应的历史事件应该是



- A. 英国宪章运动
- B. 《共产党宣言》发表
- C. 巴黎公社
- D. 俄国十月革命

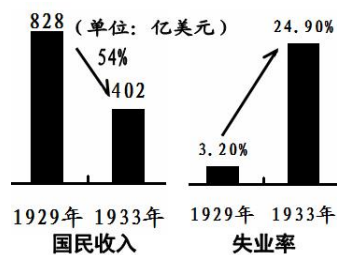
27. 今天拉丁美洲的玻利维亚共和国，因近代拉丁美洲独立运动著名领导人的名字而得名，这个人物是

- A. 圣马丁
- B. 玻利瓦尔
- C. 甘地
- D. 凯末尔



28. 为应对 1929-1933 年经济大危机影响下的严峻形势（如右图所示），美国采取国家干预手段扭转经济形势，颁布的系列措施称之为

- A. 新经济政策
- B. 罗斯福新政
- C. 杜鲁门主义
- D. 马歇尔计划



29. 下列有关日本明治维新的表述，属于历史评价的一项是

- A. 开始于 1868 年
- B. 由明治政府推行
- C. 是日本历史的重大转折点
- D. 实行废藩置县

30. 以下是 20 世纪世界格局变迁示意图，受①所示的世界格局影响，发生的事件是



- A. 雅尔塔会议
- B. 德国分裂
- C. 北约轰炸南联盟
- D. 伊拉克战争

第二部分 非选择题（共 45 分）

31. (13 分) 统一多民族国家的发展与中华民族的整体认同，在时代变迁中演进。

材料一 到公元前 210 年秦始皇去世时，秦朝已经拥有北起河套、阴山山脉和辽河下游流域，南至今越南东北部和广东大陆，西起陇山、川西高原和云贵高原，东至朝鲜半岛北部的辽阔疆域。而且秦朝在全国普遍实行郡县制，中央政府通过郡的行政长官郡守管辖所属各县的县令(或县长)。公元前 221 年在全国设立了 36 个郡，以后随着疆域的扩大和局部的调整，到秦朝末年全国约有 50 个郡，下辖近千个县。能在这样大的范围里建立起一个统一国家，在中国历史上还是首次。秦朝开拓的疆域构成了此后历代中原王朝疆域的主体，成为中国统一的地理基础。

——整理自葛剑雄《疆域与人口》

(1) 依据材料一，概括秦朝开拓疆域的历史意义。(不得抄原文，2分)

材料二

汉代以后，中央政府在边疆地区设立的官职和管辖机构名称

①西域都护 ②澎湖巡检司 ③伊犁将军 ④宣政院 ⑤驻藏大臣

(2) 依据材料二并结合所学，说明以下观点。(5 分。填序号，每空多选、少选、错选均不得分)

对西域（今新疆地区）的管辖从西汉开始，清朝空前加强_____

元、清两代将西藏作为特殊行政区域进行有效管辖_____

元代中央政府对台湾地区首设行政机构管辖_____



材料三 九一八事变后,尤其是华北事变和七七事变后,日益加重的民族危机促进了中国近代民族主义的高涨。……1935年《义勇军进行曲》问世,“中华民族到了最危险的时候”的悲愤歌声传遍长城内外,大江南北,极大的激发了各族人民对中华民族整体的认同感和爱国热情。国共两党对中华民族的认同和宣传,尤其是抗日民族统一战线的建立和全民族抗战局面的形成,对于增强各族人民对中华民族的整体认同感起了非常重要的作用……人们常说,抗日战争的胜利是中华民族复兴的枢纽……。

——摘编自郑大华《中国近代民族主义与中华民族自我意识的觉醒》

(3) 依据材料三,概括中国抗日战争取得胜利的原因。(1分)结合所学,说明你对“抗日战争的胜利是中华民族复兴的枢纽”的理解。(2分)

材料四 20世纪80年代初,大陆的统一观已经有了创新性的发展,不完全要求绝对的“政治上的服从”和制度上的一致,首创了一个国家中允许存在不同社会制度的理论。这一理论在香港和澳门获得了成功的实践。

——据许士铃《国家统一是中华民族历史形成的国家观》

(4) 阅读材料四并结合所学,说出推动“大陆统一观创新性发展”的关键人物,(1分)说明他创新的制度与其基本内涵。(2分)

32. (11分) 中华民族是英雄辈出的民族,铭记历史,致敬英雄。

材料一

以身许国,何事不敢为?——[南宋]岳飞

人生自古谁无死,留取丹心照汗青——[南宋]文天祥

封侯非我愿,但愿海波平——[明]戚继光

台湾者,中国之土地也,久为贵国所踞,今余既来索,则地当归我,珍瑶不急之物,悉听而归。——[清]郑成功

(1) 依据材料一并结合所学,选择其中两位,说出与之有关的史事。(2分)

材料二 人民英雄纪念碑是近代中华民族英雄的丰碑





三年以来，在人民解放战争和人民革命中牺牲的人民英雄们永垂不朽！
三十年以来，在人民解放战争和人民革命中牺牲的人民英雄们永垂不朽！
由此上溯到一千八百四十年，从那时起，为了反对内外敌人，争取民族独立和人民自由幸福，在历次斗争中牺牲的人民英雄们永垂不朽！

——人民英雄纪念碑碑文

纪念碑底座浮雕镌刻 170 多个人物形象，选取 100 多年中有重大意义的史事，其中两件如下：



图 1 南昌起义（1927）



图 2 胜利渡长江（1945）

(2) 根据材料二的碑文内容，概述人民英雄们的共同奋斗目标。(1分) 结合所学，说明图 1 和图 2 所示事件入选人民英雄纪念碑浮雕的理由。(2分)

材料三 新中国 70 年，中华民族的优秀儿女前赴后继，树立了中华民族复兴的丰碑

志愿军战士黄继光、邱少云、毛岸英……
两弹元勋邓稼先、铁人王进喜、好干部焦裕禄、好战士雷锋……
共和国勋章：于敏、申纪兰、张富清、袁隆平、屠呦呦……
国家荣誉：于漪（人民教育家）、王蒙（人民艺术家）、王继才（人民楷模）、张超（人民英雄）……

(3) 根据材料三所示并结合所学，介绍任意一位英雄人物的事迹或成就。(2分) 谈一谈英雄人物共有的精神品质。(2分)

材料四

“天地英雄气，千秋尚凛然。”一个有希望的民族不能没有英雄，一个有前途的国家不能没有先锋。包括抗战英雄在内的一切民族英雄，都是中华民族的脊梁，他们的事迹和精神都是激励我们前行的强大力量。

——摘自习近平在《颁发“中国人民抗日战争胜利 70 周年”纪念章仪式上的讲话》

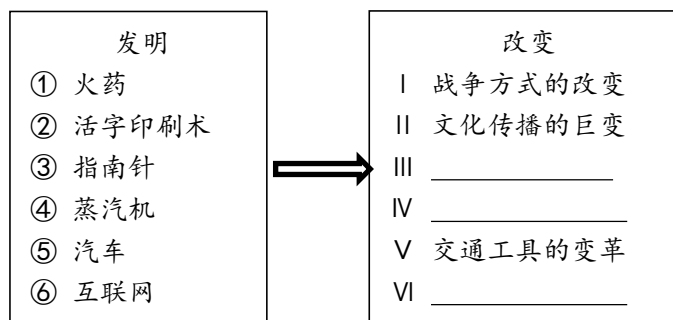
2015 年 12 月，中共中央印发《关于建立健全党和国家功勋荣誉表彰制度的意见》
2015 年 12 月，全国人民代表大会颁布《中华人民共和国国家勋章和国家荣誉称号法》
2017 年 7 月，中共中央、国务院印发《国家功勋荣誉表彰条例》
2018 年 4 月，全国人民代表大会颁布《中华人民共和国英雄烈士保护法》

(4) 阅读材料四并结合自身理解，说说青少年崇尚、学习、捍卫英雄烈士的现实意义。(2分)



33. (11分) 科技发明是人类社会发展与进步的推动力。

材料一 古往今来的科技发明推动世界改变



(1) 材料一左侧的“发明”与右侧的“改变”是相对应的。请结合所学，把右侧空格补充完整。(3分)

材料二

时期	科技发明(件)	中国	世界其它国家
1-1500年	157	98	59
1501-1840年	472	19	453

——统计自罗伯特·坦普尔《中国——发明和发现的国度》

材料三 当18世纪来临的时候……英国正在孕育人类历史上一种崭新的生产方式……，在生产中大规模使用机器，极大地提高了手工工场的效率，并最终促成了现代工厂的诞生。1840年前后，英国工业革命完成。“英国制造”从此在更大的世界市场里长驱直入，英国变成了“世界工厂”。工业革命创造的巨大生产力，使社会面貌发生了翻天覆地的变化。资本主义最终战胜了封建主义，世界形成了西方先进、东方落后的局面。

——摘自《大国崛起》解说词

(2) 依据材料二，归纳中国科技成就在世界的地位发生了怎样的变化？(1分) 阅读材料三并结合所学，分析完成工业革命的英国，对世界、对东方的中国分别产生了怎样的影响？(2分)

材料四

在 19 世纪后期，落后于英国和法国技术的美国技术，突然获得了大发展，并以电灯、打字机、电话以及三样革命性进展——电、汽车和飞机，改变了世界。

——沃尔·特拉斐尔《美国世纪》

美国专利制度起源于宪法第 1 条第 8 款规定，国会拥有“通过保证作者和发明者有限时间对他们各自著作和发现享有专有权利，来促进科学和有用艺术之进步”的权利。…… 1820-1835 年和 1850-1860 年是美国专利增长较快的时期，也是美国经济快速增长的时期。1867 年是一个爆发点，然后是 19 世纪 80 年代和 20 世纪初的两个快速增长时期，同样也是制造业快速发展的时期，成为世界第一大工业强国。

——摘自马克垚《世界文明史》

(3) 阅读材料四并联系所学，写出美国在电的应用方面成就最为突出的科学家。(1 分) 概括美国第二次技术革命的政治条件及其产生的作用。(2 分)

材料五

大数据打造战“疫”大脑：据统计，疫情发生以来 3 家电信央企累计开通 5G 基站 13 万个，全力保障战“疫”通信需要。医疗服务机器人、医疗急救车、无人物流车和无人防疫车等 5G 智能设备，奔赴湖北、浙江、上海等地医院，服务了全国 3900 多家医疗机构，支撑了 3 万多次远程医疗会诊。2 月 29 日，在工业和信息化部指导下，中国信通院联合 3 家电信央企推出了“通信大数据行程卡”服务，为全国 16 亿手机用户免费提供本人 14 天内到访地服务。目前，该服务已成为复工复产必备“神器”。



北上广鄂四地专家为雷神山医院危重症患者远程会诊。

——摘自 2020 年 5 月 6 日中国经济网《“黑科技”大显身手 为抗击疫情输送“科技弹药”》

(4) 阅读材料五并结合自身感受，分析科技力量对防控疫情的作用。(2 分)

34. (10 分) 对于战争的反思不仅是记忆，而应是教育与警示。

材料一 英国历史学著作《极端的年代：1914—1991》，把 1914—1991 年划分为三个阶段：从 1914—1945 年是大灾难的时期；持续到 70 年代初，是经济发展的黄金时期；随后是解体分散、彷徨不定、危机重重的年代。



1918 年德国签订投降书



1945 年 9 月 2 日，日本签署投降书



(1) 阅读材料一并联系所学，结合两幅图片提示信息，分别说明“1914—1945 年是 20 世纪的大灾难时期”史实依据。(4 分)

材料二

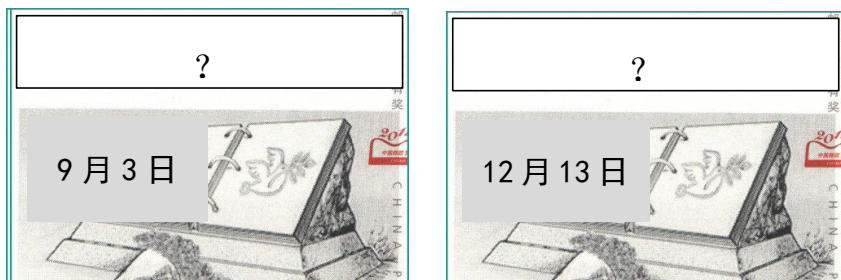
世界文化遗产——波兰奥斯维辛集中营

1945年1月27日苏联红军解放波兰。
1947年7月2日，波兰国会立法将奥斯维辛集中营旧址开辟为殉难者纪念馆。
1979年，联合国教科文组织将其列入世界文化遗产名录，警示世界“要和平，不要战争”。
2005年第60届联大全体会议一致通过，决定将每年的1月27日定为“国际大屠杀纪念日”。2007年，联合国教科文组织把集中营命名为“奥斯维辛—比克瑙德国纳粹集中和灭绝营（1940-1945年）”。

——整理自网络和胡德坤主编《世界文化遗产》

(2) 综合材料二所述，说出奥斯维辛集中营作为世界文化遗产的理由。(2分)

材料三 2014年2月27日，十二届全国人大常委会第七次会议经表决通过，确定了两个国家纪念日。



(3) 请依据材料三提示信息并联系所学，分别说出这两个纪念日的名称。(2分) 结合自身理解，谈谈两个纪念日从国家层面设立的意义。(2分)





参考答案

一、选择题 (45 分)

题号	1	2	3	4	5	6	7	8	9	10
答案	C	A	B	B	A	C	C	C	D	D
题号	11	12	13	14	15	16	17	18	19	20
答案	D	C	C	D	A	A	B	D	D	A
题号	21	22	23	24	25	26	27	28	29	30
答案	D	B	A	A	B	D	B	B	C	B

二、非选择题 (45 分)

31. (13 分) (1) (2 分) 奠定了历代王朝疆域的基本格局; 为统一多民族国家形成奠定基础。(2 分)

(2) (5 分) ①③ (2 分) ④⑤ (2 分) ② (1 分)

(3) (3 分) 原因: 民族危机的日益加重, 中华民族整体认同感的增强或中国人民团结一心抵抗侵略的爱国精神等或抗日民族统一战线建立、全民族抗战局面形成等 (1 分)

理解: 抗日战争是中国人民反抗帝国主义侵略的第一次完全胜利; 捍卫了民族尊严, 提升了中华民族的自尊心和自信心。(2 分)

(4) (3 分) 邓小平, (1 分) 一国两制 (1 分) 内涵: 在维护祖国统一和中华民族的根本利益的前提下, 国家的主体坚持社会主义制度, 在台湾、香港、澳门保持原有的资本主义制度和生活方式长期不变。或坚持一个中国的原则下, 实现祖国的和平统一。(意思合理即可, 2 分)

32. (11 分) (1) (2 分) (任意两位, 一人一事, 1 分) 答案略

(2) (3 分) (2) 目标: 战胜内外敌人, 实现民族独立, 人民自由幸福。(1 分) 南昌起义: 打响了武装反抗国民党统治的第一枪, 是中国共产党独立领导武装斗争、创建人民军队的开始。(一点即可, 1 分) 渡江战役: 人民解放军占领南京, 结束了国民党在大陆的统治。(一点即可, 1 分)

(3) (4 分) (人物事迹 2 分, 品质 2 分) 品质任意一角度, 英雄是时代的先锋, 无私忘我, 不辞艰难, 为人民利益而英勇奋斗。

(4) (2 分) 意义: 立法来保护英雄烈士, 维护正义, 告慰先烈, 铭记历史, 获得前进动力。发扬光荣传统、传承红色基因, 不忘初心、继续前进等。(表述合理即可)

33. (11 分) (1) (3 分) (1) III 航海技术的进步 IV 能源动力革命 VI 信息社会的出现

(2) (3 分) (2) 中国科技发明在近代落后于其它国家。(1 分) 对世界的影响: 英国成为世界工厂, 对亚非拉地区进行殖民侵略, 建立起日不落帝国。(1 分) 对中国影响: 发动侵略中国的鸦片战争, 使中国开始沦为半殖民地半封建社会。(1 分)

(3) (3 分) (3) 爱迪生 (1 分) 条件: 美国南北战争, 维护国家统一或法律对发明创造的保护与促进 (任意一个角度即可, 1 分) 作用: 促进美国资本主义经济飞速发展, 成为世界工业强国等。(1 分)

(4) (2分) 大数据的统计与汇总与及时公布, 对人们了解疫情、稳定社会, 政府决策提供有力支撑; 远程医疗汇集更多力量, 利于救助病人; 健康码对于防控疫情精准有效。等等 (任意两个角度, 合理即可)

34. (10分) (1) (4分) (1) 1914-1918年爆发第一次世界大战, 带了巨大的灾难。1929-1933年爆发的经济危机, 法西斯势力突起, 第二次世界大战在爆发, 空前的巨大灾难。(每项2分, 共4分)

(2) (2分) (2) 奥斯威辛集中营昭示法西斯反人类的罪行, 是人类历史上的耻辱, 有助于推动世界反思历史; 让全人类为和平而保持永恒的警觉; 有助于消除人类社会存在的残杀甚至种族清洗和纳粹主义的现象。(应有反思警示的合理表述, 2分)

(3) (4分) 9月3日是抗日战争胜利纪念日, 12月13日设立为南京大屠杀死难者国家公祭日。(2分) 以国之名向胜利致敬, 告慰在日本侵华战争中惨遭杀戮的千万同胞和为国捐躯的抗战英烈, 铭记这一改变中国命运的历史性转折, 捍卫战后国际秩序、守护世界和平的决心。或铭记历史、缅怀先烈、珍视和平、警示未来, 倍加珍惜和维护来之不易的发展成就与和平环境, 大力弘扬伟大的抗战精神。牢记侵略战争给中国人民和世界人民造成的深重灾难, 表明中国人民反对侵略战争, 捍卫人类尊严、维护世界和平的坚定立场。也让一代代中国人不忘记为国牺牲的先辈, 不忘中华民族曾经的苦难, 为中华民族复兴而努力。(2分)



北京中考在线
微信号: BJ_zkao



北京中考在线
微信号: BJ_zkao



北京中考在线
微信号: BJ_zkao

