

2020 北京延庆初二（上）期末

地 理

考 生 须 知	<ol style="list-style-type: none">1. 本试卷共 12 页。共 45 道题，满分 100 分。考试时间 90 分钟。2. 在试卷和答题卡上准确填写学校名称、姓名和准考证号。3. 试题答案一律填涂或书写在答题卡上，在试卷上作答无效。4. 在答题卡上，选择题、画图题用 2B 铅笔作答，其他试题用黑色字迹签字笔作答。5. 考试结束，将本试卷、答题卡一并交回。
------------------	--

一、单项选择题（共 40 小题，每小题 1 分，共 40 分）请将试题答案填写在答题纸上。

读图 1 世界海陆分布图，完成 1-5 题

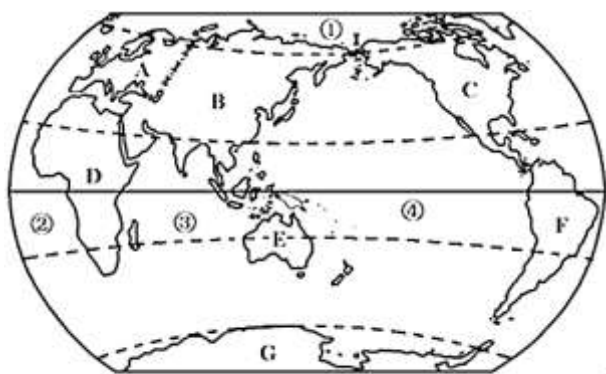


图 1

1. 读图 1，可知世界海陆分布的特点，正确的是

- A. 各大洲之间的分界线均为自然界线
- B. 海陆所占比例约 7: 3
- C. 海洋被各大洲分割成均匀的四部分
- D. 陆地主要集中在南半球

2. 下列有关大洲、大洋的叙述，正确的是

- A. 亚洲是跨经度最多的大洲
- B. 大洋洲全部位于南半球
- C. 南极洲是世界最小的大洲
- D. 太平洋是世界最大的大洋

3. 下列数字序号与大洋对应关系正确的是

- A. ①北冰洋
- B. ②太平洋
- C. ③大西洋
- D. ④印度洋

4. 世界七大洲中，纬度最高的大洲是

- A. A B. C C. F D. G

5.既濒临太平洋又濒临大西洋的大洲有

- A. 欧洲、北美洲、南美洲 B. 北美洲、南美洲、南极洲
 C. 非洲、北美洲、南美洲 D. 北美洲、南美洲、大洋洲

读图 2“大陆漂移示意图”，完成 6-8 题

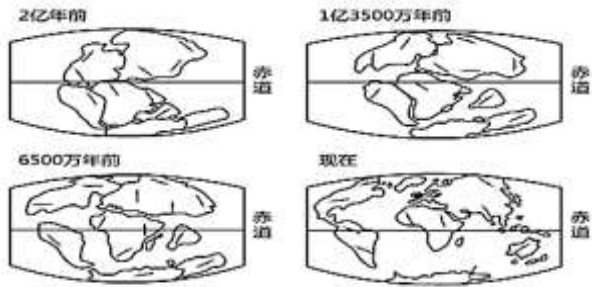


图 2

6.读图 2 中可知，地球上的陆地连在一起的时间是

- A. 2 亿年前 B. 1 亿 3500 万年前 C. 6500 万年前 D. 现在

7.观察图 2，依据大陆漂移学说分析现在的大西洋

- A. 没有变化 B. 即将消失 C. 不断扩张 D. 不断缩小

8.下列现象中，你认为能够作为海陆变迁依据的是

- A. 青藏高原上有许多动植物分布 B. 喜马拉雅山脉发现古海洋生物化石
 C. 北方地区有丰富的煤炭资源 D. 大西洋面积不断增大

读图 3 世界板块图和东非裂谷带图，完成 9-13 题。

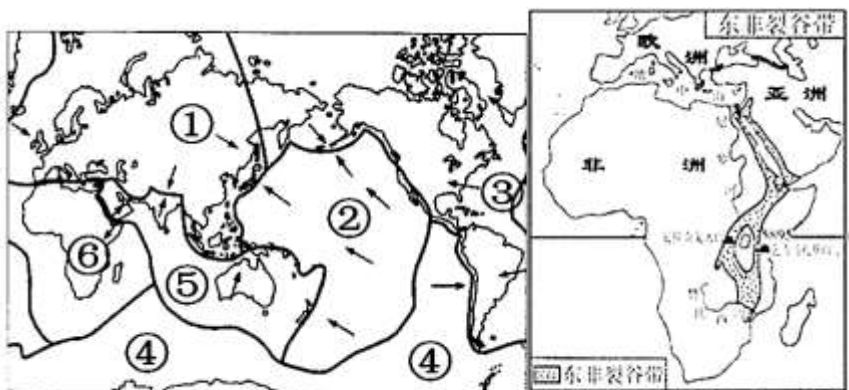


图 3

9.板块构造学说认为

- A. 地球的岩石圈由五大板块构成 B. 地球的岩石圈由板块拼合而成
- C. 板块处于静止状态 D. 板块内部活跃，交界地带稳定

10. 读图 3 数字序号和板块名称搭配关系错误的是

- A. ①—亚欧板块 B. ②—太平洋板块 C. ⑤—印度洋板块 D. ⑥—大西洋板块

11. 下列板块中，几乎全部位于海洋的是

- A. 南极洲板块 B. 印度洋板块 C. 太平洋板块 D. 非洲板块

12. 读东非大裂谷带图，分析成因正确的是

- A. 非洲板块和印度洋板块张裂作用形成 B. 非洲板块和亚欧板块张裂作用形成
- C. 非洲板块和印度洋板块碰撞作用形成 D. 非洲板块和亚欧板块碰撞作用形成

13. 读东非大裂谷带图，描述东非大裂谷正确的是

- A. 不断扩大 B. 不断缩小 C. 很快将消失 D. 不会变化

读图 4“世界年平均气温分布图”，完成 14-17 题

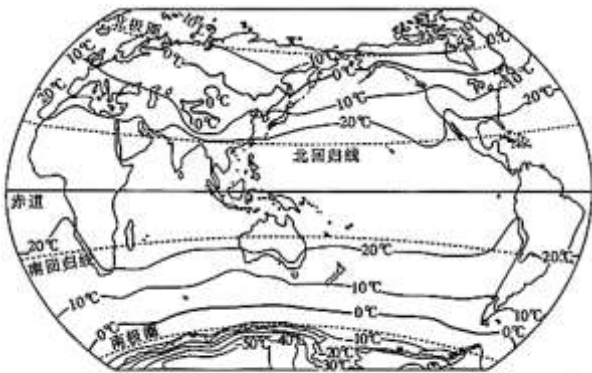


图 4

14. 关于气候的两大要素包括

- A. 风和雨 B. 干和湿 C. 冷和热 D. 气温和降水

15. 从全球范围看，年平均气温分布规律是

- A. 同纬度海洋气温低于陆地气温
- B. 从低纬度向高纬度递减
- C. 从高海拔向低海拔递减
- D. 从内陆向沿海递减

16.一年之中气温变化幅度最小的地区是

- A. 寒带地区 B. 温带地区 C. 热带地区 D. 高山高原地区

17.形成世界年平均气温分布规律的主要影响因素是

- A. 纬度位置 B. 海陆分布 C. 地形地势 D. 人类活动

18.世界最寒冷的地方是

- A. 亚洲 B. 北美洲 C. 南美洲 D. 南极洲

读图 5 世界年降水量分布图，完成 19-20 题



图 5

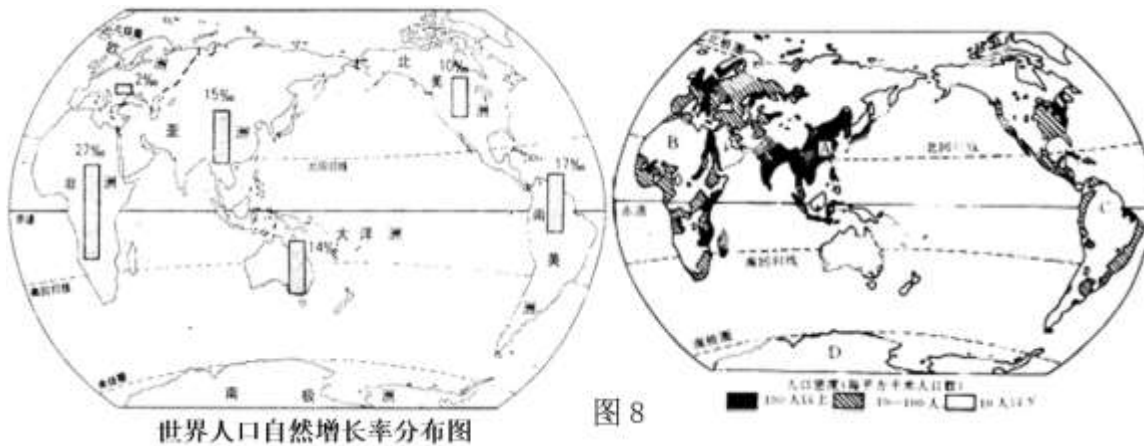
19.下列关于世界年降水分布规律错误的是

- A. 赤道地区降水多
B. 两极地区降水少
C. 中纬度地区大陆内部降水多
D. 回归线附近大陆东岸降水多于西岸

20.读图 5，B 处年降水量是

- A. 2000 毫米以上 B. 500-1000 毫米 C. 200-500 毫米 D. 200 毫米以下

当地时间 2019 年 11 月 12 日晚，国家主席习近平乘专机抵达巴西的首都巴西利亚，出席金砖国家领导人第十一次会晤。读图 6、图 7，完成（21-26）



27.读图 8，世界上人口最多的大洲的是

- A. 亚洲 B. 非洲 C. 北美洲 D. 南美洲

28.读图 8，世界上人口增长最快的大洲是

- A. 亚洲 B. 非洲 C. 欧洲 D. 大洋洲

29.读图 8，图中 B 处人口稀少的原因是

- A. 地势高峻 B. 土地肥沃 C. 气候湿热 D. 气候干旱

30.读图 8 可知，人口稠密地区主要分布在

- A. 炎热干燥的沙漠地区 B. 气候湿热的雨林地区
C. 中低纬度沿海平原地区 D. 地势高峻的高原地区

31.下列关于世界人口的叙述，正确的是

- A. 人口增长过快是世界各国普遍存在问题 B. 亚洲是世界人口自然增长率最高大洲
C. 热带雨林水热条件十分优越人口稠密 D. 人口的增长要与社会、经济发展相适应

32.关于世界人种、语言、宗教的说法，正确的是

- A. 亚洲西部的居民以黄色人种为主 B. 世界三大宗教都发源于西亚
C. 非洲北部的居民以白色人种为主 D. 英语是世界上使用人数最多的语言

33.区别人种的主要依据是

- A. 经济发展水平 B. 宗教信仰 C. 体质、体貌特征 D. 语言文化

读图 9 漫画“苦难的母亲”，完成 34-35 题



图 9

34. 漫画反映的问题是

- A. 世界人口分布不均衡 B. 世界人口增长过快
C. 环境污染严重 D. 社会抚养老人负担重

35. 漫画反映的问题主要出现在下列哪些大洲

①亚洲 ②欧洲 ③非洲 ④北美洲 ⑤南美洲 ⑥大洋洲

- A. ①②③ B. ④⑤⑥ C. ①③⑤ D. ②④⑥

上图①—④为不同国家和地区的传统民居建筑。读图，回答第 36-37 题。



①豫西—天井窑院



②东南亚—“水屋”



③北非—碉堡式建筑



④北欧—木屋

36. 图示传统民居特点形成与当地环境特征对应正确的是

- A. ①下沉式窑院 - 黄土土质黏重 B. ②房屋高架 - 风暴海啸多发
C. ③墙厚窗小 - 炎热干燥光照强 D. ④顶尖坡陡 - 森林资源丰富

37. 图示传统民居建筑体现

- A. 地区之间文化交流与扩散 B. 人类对环境的利用和适应
C. 地域文化内向含蓄的特点 D. 地域文化的创新与发展

38. 读图 10 关于亚洲地理位置描述正确的是



图 10

- A. 亚洲位于亚欧大陆西部
- B. 亚洲东临大西洋
- C. 亚洲大部分位于东半球、北半球
- D. 亚洲大部分位于热带地区

2019年12月4日，剑桥大学与瑞士联邦森林、雪和景观研究所最近的一项研究表明，气候变暖可导致树木生长加速，但这并不一定意味着碳储量会增加，全球变暖实际上正在减少森林中储存的碳量。据此完成39-40题。

39. 下列关于全球气候变暖成因的说法，错误的是

- A. 燃烧矿物燃料放出大量二氧化碳
- B. 使用太阳能、风能等新能源可以减少二氧化碳的排放量
- C. 植物被破坏导致吸收的二氧化碳减少
- D. 水污染导致二氧化碳猛增

40. 全球气候变暖产生的主要危害是

- A. 紫外线辐射增强，进而危及人类健康
- B. 地震、火山发生的频率上升
- C. 海洋污染加剧
- D. 冰川融化，海平面上升，沿海低地被淹

二、综合题（共五大题，60分）

41. 我们在电视上经常听到一句广告词：“中国名山 世界好水”，一处水源供全球是国际矿泉水行业通用的模式，该处水源必须是世界三大黄金水源（阿尔卑斯山、大高加索山和长白山）之一。读“中国某品牌矿泉水出口全球示意图”回答问题（11分）

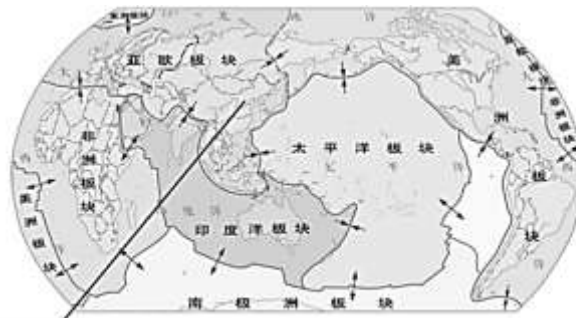


图 11



图 12



图 13

(1) 该品牌矿泉水出口到达的①____洲，在途中经过的大洲是____洲，在运输矿泉水的途中发现荷兰全国 1/4 的陆地低于海平面，但是国土面积却不断扩大，说明____（人类活动、地壳运动、海平面升降）也可以引起海陆的变化。a、b 代表山脉，代表安第斯山脉的是____（填字母）。

(2) 该品牌矿泉水出口到达的②大洲，在途中经过的大洋为____，②大洲的主要人种是____，其官方语言为____。

(3) 图 11 中可见阿尔卑斯山是其中世界三大黄金水源之一，大约 1.5 亿年前，阿尔卑斯山曾经是古地中海的一部分，它是由于 板块 和 板块，____（碰撞或张裂）而形成的。

(4) 2019 年 12 月 5 日 8 时 02 分在河北唐山市丰南区（北纬 39.31 度，东经 118.04 度）发生 4.5 级地震，河北唐山市位于_____火山地震带上。

42. 某同学对地理课程的学习非常感兴趣，利用寒假进行了环球旅行，下面是小华的旅行见闻。请回答以下问题。（12 分）

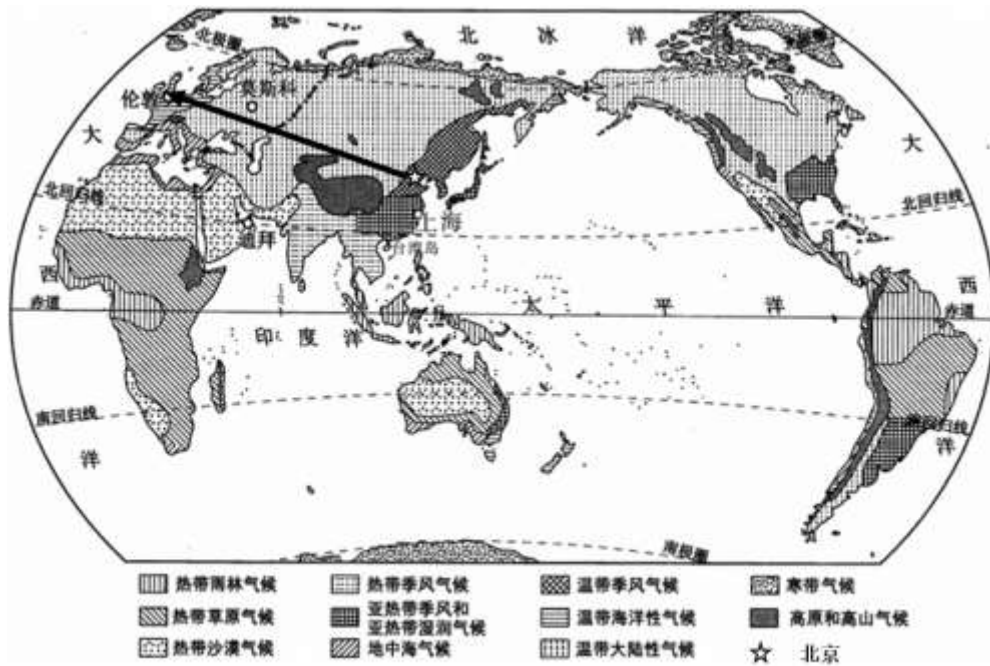
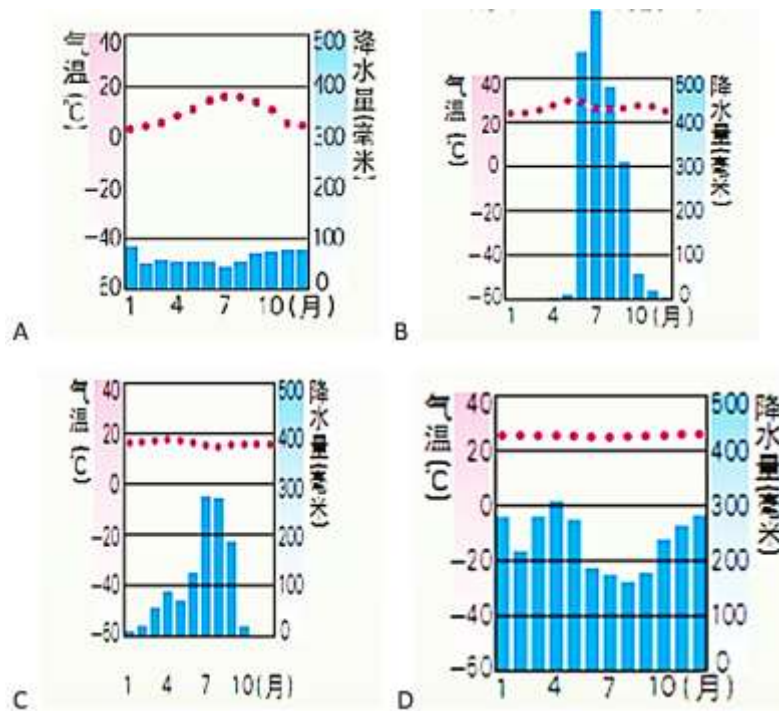


图 14 世界气候类型分布

- (1) 小华从北京出发到伦敦旅行依次经过的气候类是_____、_____、_____。
- (2) 小华到达伦敦请选出与伦敦气候相匹配的气候类型是 ()



(3) 伦敦的这种气候类型适合_____生长 (多汁牧草/水稻), 当地人们利用该气候大力发展____ (畜牧业/种植业)。而且本地与北京的气候不同, 多雨雾, 因此到此地旅游不要忘了带_____。

(4) 小华在旅游期间发现欧洲传统民居自大西洋沿岸向东墙壁厚度有明显的变化,如图 15 所示, 图中传统民居所在地点所属的温度带是____, 传统民居墙壁厚度的变化反映了其气温自西向东____,造成传统民居墙壁厚度差异的主要因素是_____。

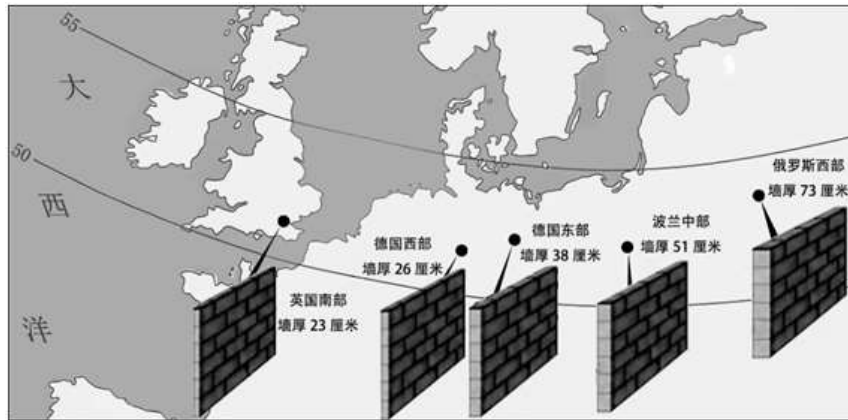
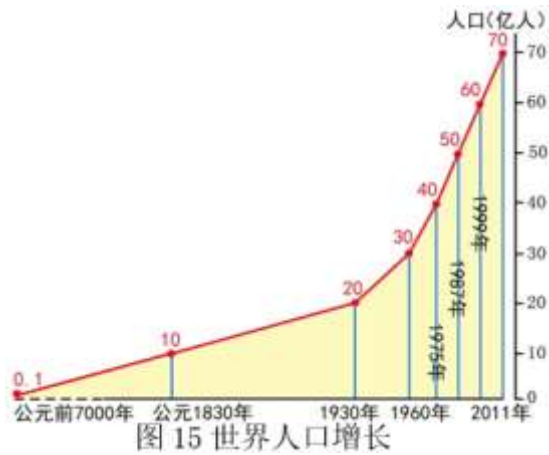


图 15

(5) 小华通过参观活动，了解到当地的主要宗教是____，建筑名称是____。

43.读地图和文字材料，完成下列各题。(13分)

材料一：



材料二：国际上普遍认为：人口老龄化是指一个国家或地区 65 岁及以上老年人口占总人口比重达到或超过 7%，图 16 为中国与世界 65 岁及以上老年人口比重统计与预测图。据此回答下列问题。

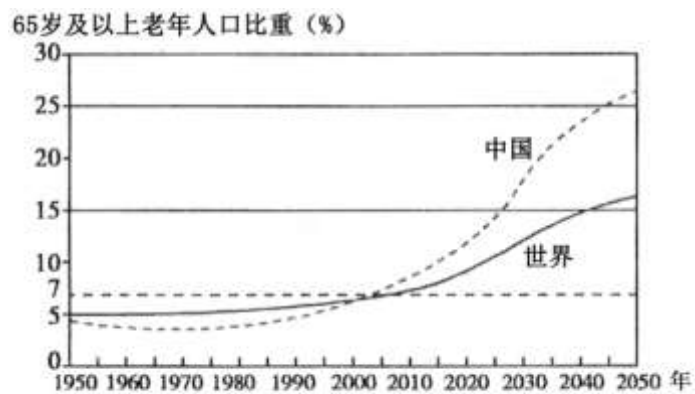


图 16

材料三：

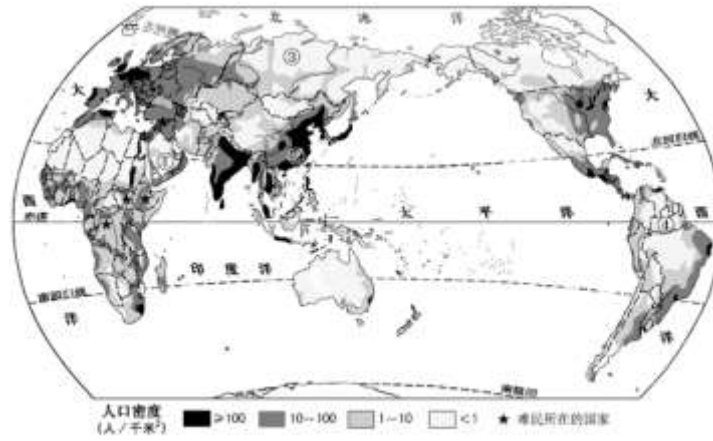


图 17

(1) 阅读材料一可知世界人口的增长趋势是____，公元 1830--1930 年比 1930--1987 年的人口增长速度____。

(2) 世界人口数量过多，增长过快带来的问题主要有____、____、____等。

(3) 阅读材料二，我国 65 岁及以上老年人口比重从（ ）年超过世界平均值。

- A. 1995 年 B. 2003 年 C. 2008 年 D. 2025 年

(4) 人口老龄化面临的主要社会问题有_____（至少答出两点）。

(5) 图中的①②③④四地中，属于人口稠密的地区是____（填序号），其影响人口稠密分布的自然原因是____、____等。

(6) 在下列两张照片所示景观右侧的横线上，分别填出与图 17 中①②③④四个地点相对应的序号。



44. 2019 12 月 20 日国家主席习近平与巴西总统互致贺电，祝贺中巴地球资源 04A 星发射成功。读图和资料完成下题（12 分）



图 18 世界年降水量分布图

(1) 2019年12月20日国家主席习近平致电巴西，此时太阳直射点在____(半球)，巴西(A地)的昼夜长短情况是____，这一天我们延庆最接近的节气是_____。

(2) 读图18可知赤道附近降水量____，两极地区降水量____，巴西A地降水量比北京的降水量____，A地所属气候类型是____，特征为_____。

(3) 国家主席习近平在贺电中指出，31年前中国和巴西启动了地球资源卫星合作项目，开创了发展中国家航天领域合作的成功先例，成为了高新技术领域____(南南合作/南北对话)合作的典范，造福两国和两国人民，这充分说明了____重要性。

(4) 巴西官方语言是____(英语/葡萄牙语)，准备的衣服是____(长袖或短袖)。

45.姜峰和李华两位同学搜集了亚洲大陆部分高原、平原及河流分布图(图19)资料，开展合作探究。回答下列问题。(12分)

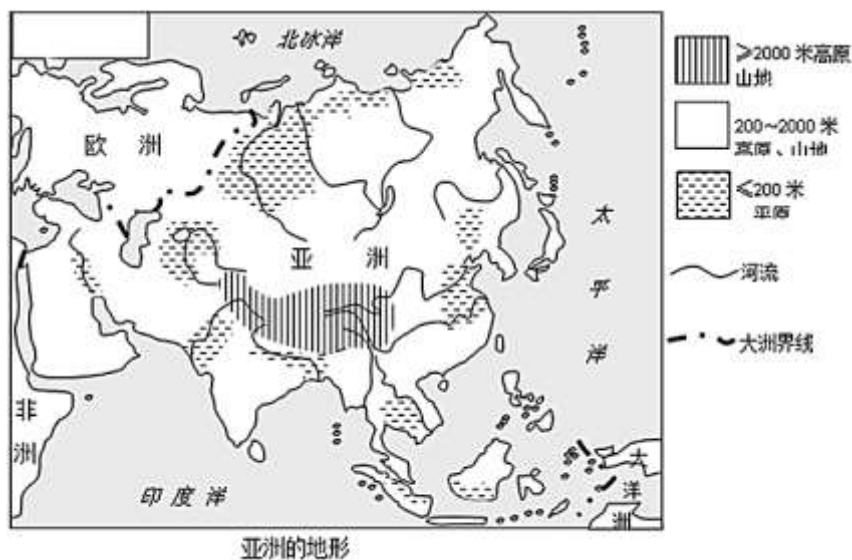


图19

(1) 读图亚洲东临____，北临____，南临_____。

(2) 在图中填出代表以下地理事物的字母

阿拉伯半岛(A)、里海(B)、青藏高原(C)

(3) 读图可知亚洲的地形以__和__为主，观察地形分布特点，归纳出亚洲地势特征是_____。

(4) 受亚洲地势的影响，亚洲河流总体的流向为()

A. 自西向东流 B. 自中部向四周流 C. 自北向南流 D. 从南北两侧向中部流

(5) 亚洲是世界上大河最多的洲，亚洲第一大河是____，亚洲流经国家最多的河流是_____。

2020 北京延庆初二（上）期末地理

参考答案

一、单项选择（共 40 小题，每小题 1 分，共 40 分）

1	2	3	4	5	6	7	8	9	10
B	D	A	D	B	A	C	B	B	D
11	12	13	14	15	16	17	18	19	20
C	A	A	D	B	C	A	D	C	D
21	22	23	24	25	26	27	28	29	30
D	B	B	C	D	B	A	B	D	C
31	32	33	34	35	36	37	38	39	40
D	C	C	B	C	C	B	C	D	D

二、综合题（共五大道题，60 分）

41.（11 分）

- （1）欧洲 亚洲 人类活动 a
- （2）太平洋 白色人种 英语
- （3）亚欧板块 非洲板块（顺序可调换） 碰撞
- （4）环太平洋

42.（12 分）

温带季风气候 温带大陆性气候 温带海洋性气候

- （2）A
- （3）多针牧草 畜牧业 雨伞或雨具
- （4）北温带 逐渐降低 海陆位置
- （5）基督教 教堂

43.（13 分）

- （1）增长 慢
- （2）就业困难 环境恶化 住房紧张 交通拥堵、资源短缺等等
- （3）B

(4) 劳动力不足 兵源紧张 社会负担重等

(5) ② 地形平坦 水源充足 气候适宜等

(6) ① ②

44. (12分)

(1) 南半球 昼长夜短 冬至日

(2) 2000mm 以上 200mm 以下 多 热带雨林气候 全年高温多雨

(3) 南南合作 国际合作

(4) 葡萄牙语 短袖

45. (12分)

(1) 太平洋 北冰洋 印度洋

(2) 略

(3) 高原 山地 中间高四周低

(4) B

(5) 长江 湄公河