

北师大附属实验中学 2019-2020 学年度第二学期

初三年级历史自主检测



班级_____ 姓名_____ 学号_____

试卷说明:

1. 本次考试时间 60 分钟，满分 100 分；
2. 本试卷共 12 页，计 2 道大题，33 道小题，答题纸共 2 页；
3. 请将选择题答案填在问卷星中，非选择题写在答题卡并上传到小小签到。
4. 答题时不得使用任何涂改工具。

命题人：初三历史备课组

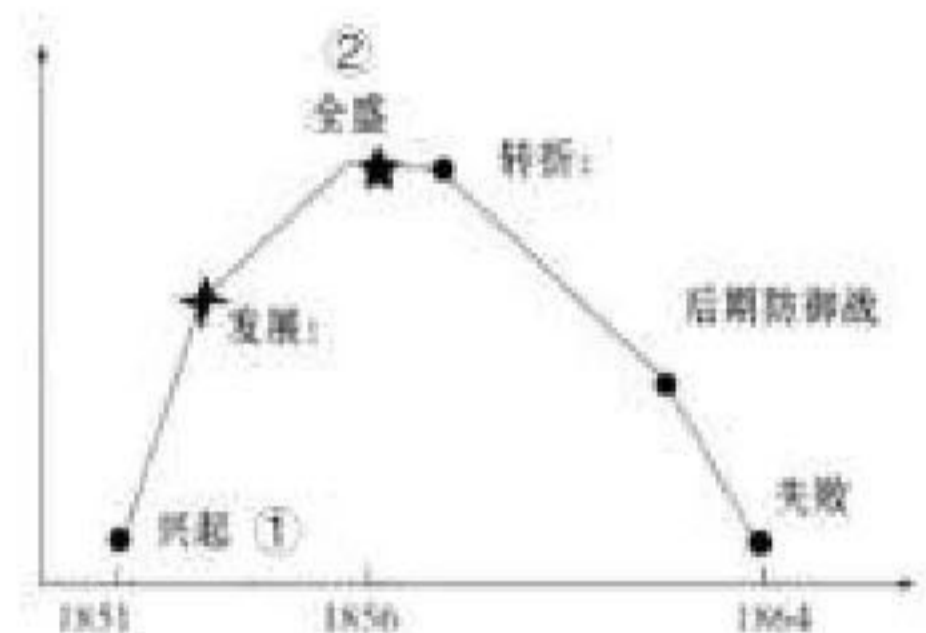
一、单项选择题（本题共 30 小题，在每小题给出的四个选项中，只有一项最符合题意。每小题 2 分，共 60 分）

1. 历史当事人留下来的资料是一手资料，若运用一手资料研究林则徐，应该选择



- A. 虎门海滩雕塑 B. 林则徐奏折 C. 林则徐纪念邮票 D. 人民英雄纪念碑

2. 如图是太平天国运动发展过程中的大事件，其中①②两处分别指的是

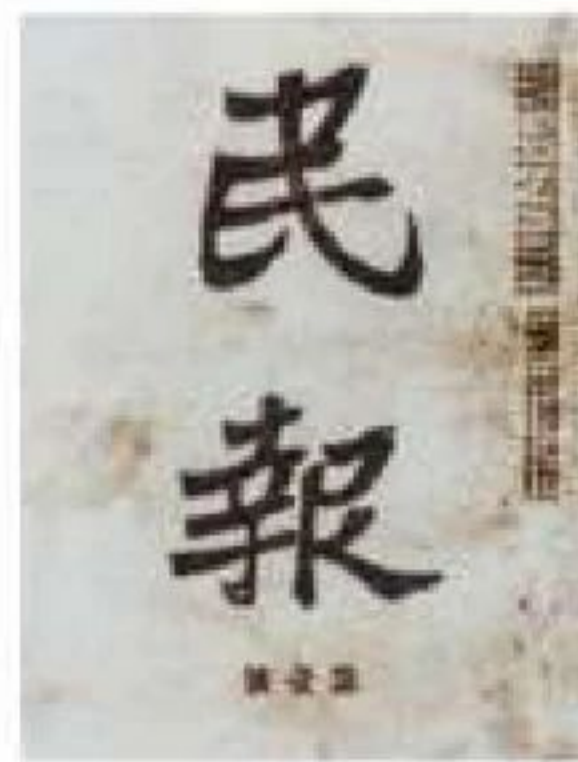

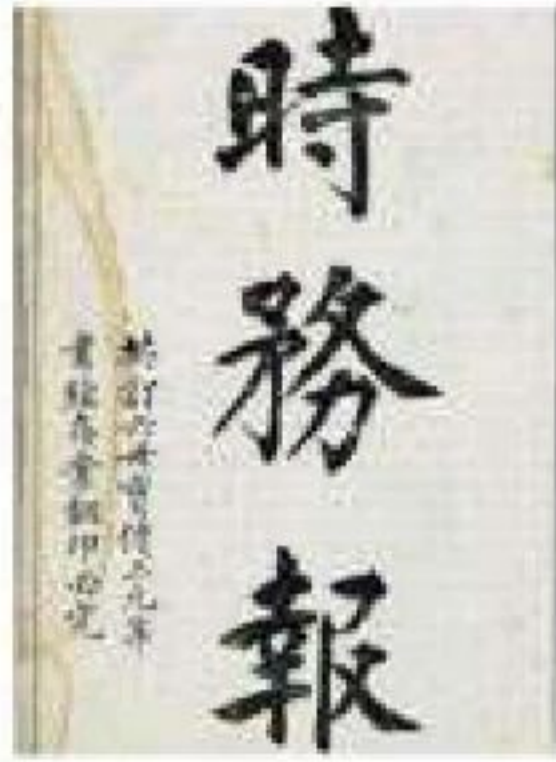


- A. 颁布《天朝田亩制度》、北伐西征
 B. 金田起义、北伐西征
 C. 永安建制、定都天京
 D. 颁布《资政新篇》、抗击洋枪队

3. 口号是一个时代的鲜明印记，下列口号按其出现先后排序正确的是

- ① “民主”“科学” ② “打倒列强、除军阀”
 ③ “自强”“求富” ④ “外争主权、内惩国贼”
 A. ①②③④ B. ②③①④ C. ③①④② D. ③②①④

4. 近代许多报刊在传播新思想、新知识方面发挥了重要作用，下列报刊创办于戊戌变法时期的有



① 《时务报》

② 《申报》

③ 《民报》

④ 《国闻报》

A. ①②

B. ①③

C. ②④

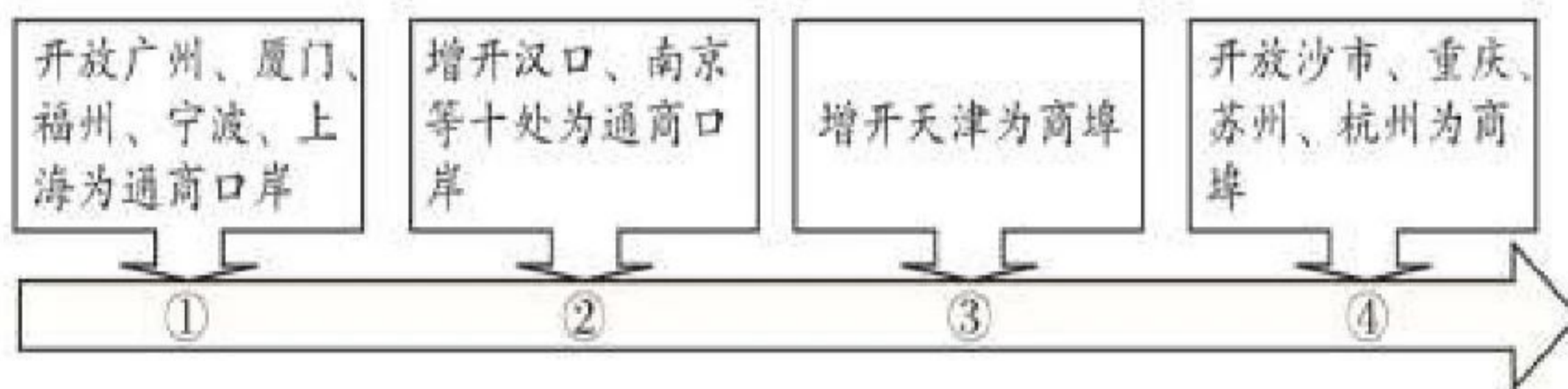
D. ①④

5. 同学们在研究性学习中查阅了如下资料：《邓世昌黄海海战》《唐景嵩与乙未反割台斗争》《义和团扶清灭洋》等，同学们探究的主题是

- A. 近代中国求民主的历程
- C. 近代中国求发展的历程

- B. 近代中国反侵略的历程
- D. 近代中国反封建的历程

6. 下面示意图从某个角度反映了中国近代民族危机的不断加深，与①至④处属于同时期发生的历史事件对应正确的是



A. ①签订了《北京条约》

B. ②割香港岛给英国

C. ③允许日本在华开设工厂

D. ④签订了《马关条约》

7. 武昌起义爆发时，孙中山远在海外并未直接参与领导武昌起义。我们都称孙中山是革命的领导者，这是因为革命火种早就被孙中山种下。以下属于孙中山播种的“火种”的是

- A. 创办黄埔军校
- C. 提出三民主义

- B. 建立中华民国
- D. 颁布《中华民国临时约法》

8. 1917 年蔡元培出任北京大学校长之后，着力营造“兼容并包”和“思想自由”的学术研究氛围，聘请了陈独秀等一大批具有新思想的学者到北京大学任教。这有利于北京大学

- A. 培养更多的科举考试人才
- C. 成为我国第一所高等学府

- B. 成为新文化运动的重要阵地
- D. 为国民革命军的建立培养人才

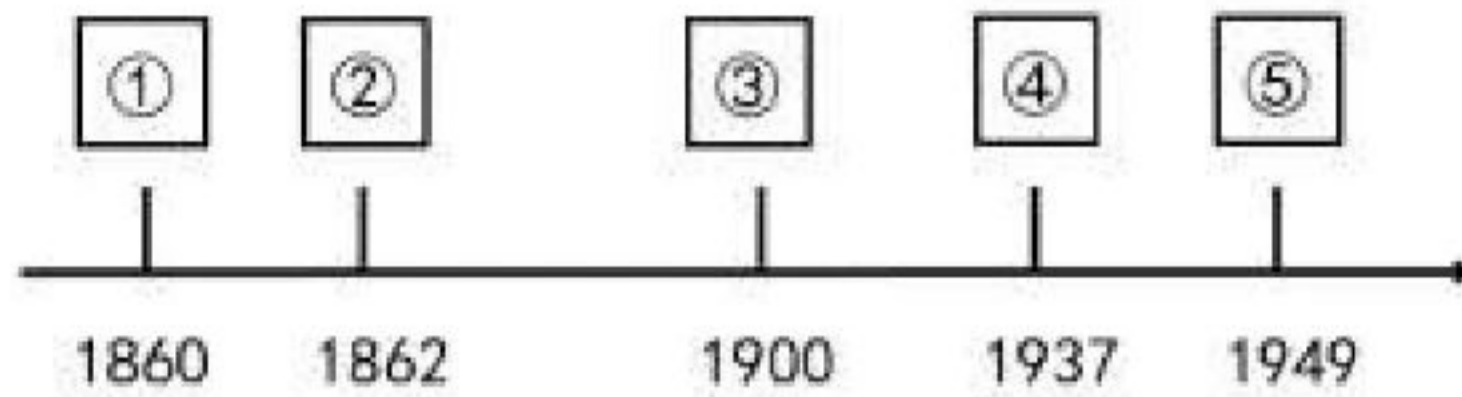
9. 下图是《新申报》民国八年五月五日的号外，它报道了当时发生的一个重大历史事件，该事件是



- A. 辛亥革命
- B. 五四运动
- C. 一二·九运动
- D. 华北事变



10. 北京作为中国的政治文化中心，见证了中国近代历史的风云变化。下面年代尺中，对发生在北京地区的重大事件描述准确的是



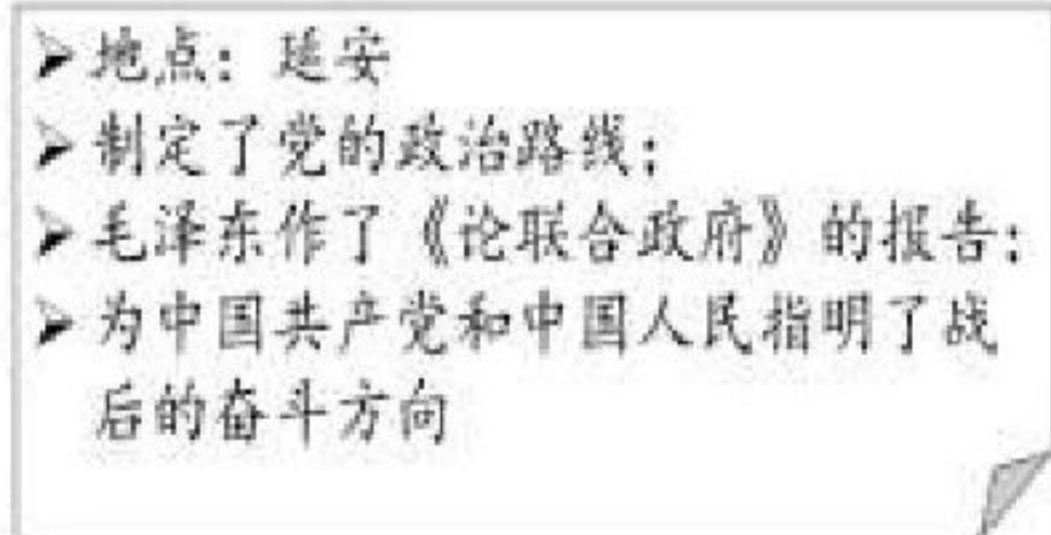
- ①第二次鸦片战争期间，英法联军火烧圆明园摧残文明
- ②地主阶级创办京师大学堂，成为中国近代教育的开端
- ③八国联军占领北京，义和团在中外反动势力下被镇压
- ④卢沟桥“七七事变”，标志抗日民族统一战线正式建立
- ⑤北平和平解放，平津战役胜利，使华北全境基本解放

- A. ①②③
- B. ①③④
- C. ①③⑤
- D. ②③⑤

11. 七七事变后，日本大举进攻，企图速战速决。中国军队在正面战场先后组织了一系列战役，以下内容属于符合此说法的是

- A. 谢晋元——淞沪会战
- B. 张自忠——台儿庄战役
- C. 佟麟阁——平型关大捷
- D. 李宗仁——百团大战

12. 下图是某同学在学习时制作的历史卡片，他探究的是



- A. 中共一大
- B. 中共二大
- C. 遵义会议
- D. 中共七大

13. “国民党在九江、南京等地部署了重兵防守，据统计在布防于江西省湖口至上海 800 余公里地段上的兵力约 45 万人。即便如此，中共中央军委决定以百万大军发起这场战役，夺取国民党的政治经济中心。”材料中的“这场战役”是指

- A. 辽沈战役
- B. 淮海战役
- C. 平津战役
- D. 渡江战役

14. 右图为 1958 年中国邮电部发行的纪念邮票，它们的发行是为了庆祝



- A. 西藏地区和平解放
- B. 第一个五年计划胜利超额完成
- C. 《中华人民共和国宪法》颁布
- D. 《中华人民共和国土地改革法》颁布



15. 下列选项中史实和结论之间逻辑关系正确的是

	史 实	结 论
A	新中国成立	社会主义制度在我国确立起来
B	农业合作化运动的开展	大大提高了我国的国际地位
C	抗美援朝胜利	中朝两国在实力上超过了美国
D	中国恢复对香港、澳门行使主权	“一国两制”伟大构想的成功实践

16. 学习历史需要将概念用层次化的方式组织起来，与“中国近代化——洋务运动——江南制造总局”的层次结构一致的是

- A. 新民主主义革命——国民大革命——南昌起义
- B. 抗日战争——全民族抗战——九一八事变
- C. 社会主义制度建立——一五计划——三大改造
- D. 中国特色社会主义——农村改革——家庭联产承包责任制

17. 2017 年 4 月 1 日，中共中央、国务院决定设立雄安新区。这是以习近平同志为核心的党中央作出的一项重大的历史性战略选择。1980 年前后国家也作出了一项重要决策是

- A. 设立深圳、珠海、汕头、厦门四个经济特区
- B. 开放十四个沿海港口城市
- C. 设立长江三角洲开放区
- D. 将海南岛建成经济特区

18. 以下是新中国成立后为纪念重大历史瞬间而发行的报纸，对其反映的史实按时间先后顺序排列正确的是



- ① 第一颗原子弹
- ② 中美建交
- ③ 人造地球卫星
- ④ 中国恢复联合国合法席位

- A. ①③②④
- B. ①③④②
- C. ③①④②
- D. ③①②④

19. 某考古队从非洲出发，自西向东考察亚非四大文明古国，他们要依次经过

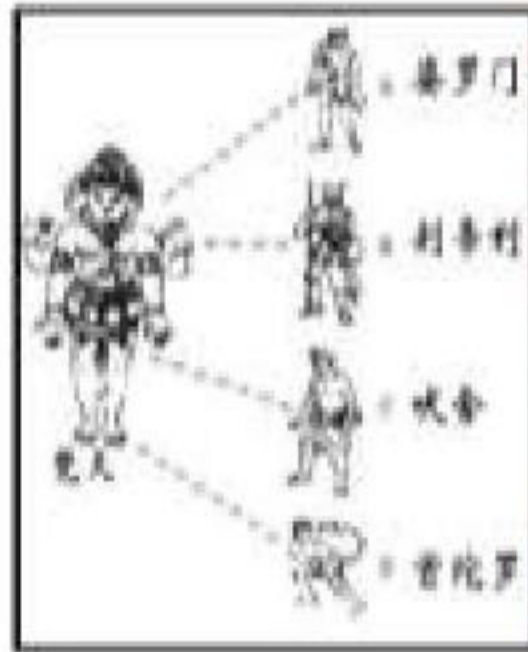
- ① 尼罗河流域
- ② 印度河流域
- ③ 黄河流域
- ④ 两河流域

- A. ①③④②
- B. ①④②③
- C. ①②④③
- D. ②③④①


20. 古代印度是人类文明的发源地之一，对亚洲诸国包括中国产生过深远的影响。如图与古代印度文明有关的是



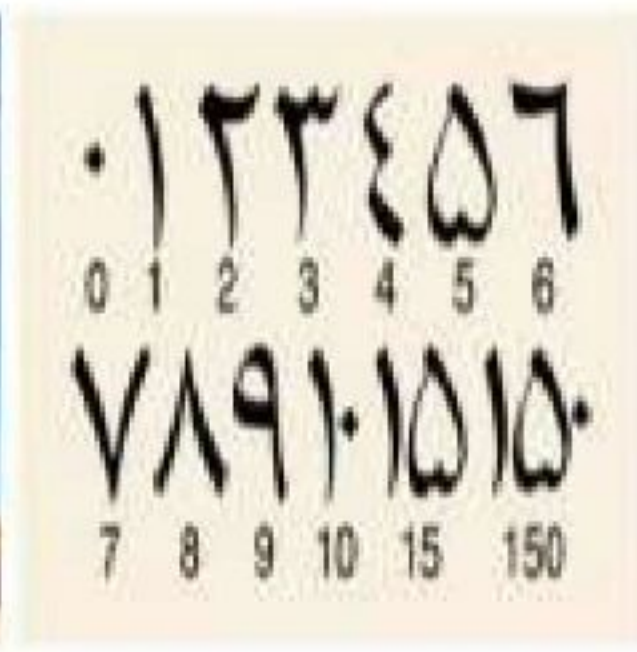
① 汉谟拉比法典石柱局部



② 种姓等级图



③ 金字塔



④ 阿拉伯数字

- A. ①② B. ②③ C. ②④ D. ③④

21. 古希腊和春秋战国时期的古代中国文明高度发展，交相辉映。能佐证这一说法的文明成果分别是

- A. 《十二铜表法》、都江堰 B. 雅典民主政治、《论语》
C. 帕特农神庙、《史记》 D. 《查士丁尼法典》、《伤寒杂病论》

22. 同学们在进行自主学习时查阅了以下内容，他们学习的主题是

- A. 古希腊罗马文化
B. 拜占庭帝国的兴衰
C. 中世纪的欧洲
D. 跨入近代社会

封君与封臣 领主与农奴
城市的兴起 早期的大学

23. 依据知识卡片所列内容，判断卡片中的“他”

指的是

- A. 伯利克里
B. 亚历山大
C. 屋大维
D. 查理曼

- 8世纪，成为法兰克王国国王；
- 实行鼓励基督教发展的政策；
- 800年，在罗马由教皇为其加冕
- 他去世后其帝国形成今天德意志、法兰西和意大利国家的雏形

24. “6世纪时，中国文明大规模传入日本，那些游历‘天朝’的日本人，作为热情的皈依者，回国后所起的作用重大。”“回国后所起的作用重大”针对的是

- A. 鉴真东渡 B. 大化改新 C. 玄奘西行 D. 明治维新

25. 14、15世纪时，资本主义经济的生产方式在欧洲出现，下列生产方式属于资本主义经济生产方式的是①庄园经济 ②租地农场 ③重农抑商 ④手工工场

- A. ①② B. ②③ C. ②④ D. ①③

26. 14——16世纪的欧洲是“人和世界被发现”的时代。在“人被发现”的时代出现了许多著名的文艺作品。下列作品与作者搭配正确的是

- A. 《罗密欧与朱丽叶》——莎士比亚 B. 《神曲》——达·芬奇
C. 《最后的晚餐》——但丁 D. 《蒙娜丽莎》——彼特拉克





27. 如下内容为新航路开辟提供了



15世纪初托勒密书中的世界地图



15-16世纪葡萄牙宽身帆船

- A. 经济前提 B. 物质条件 C. 政治支持 D. 精神动力

28. 今天菲律宾的马克塔岛，有一块关于航海家麦哲伦的双面碑。碑文正面记载“当地人在这里打退了西班牙入侵者，杀死了他们的首领——麦哲伦”；碑文背面记载“麦哲伦的船队于 1522 年返抵西班牙，第一次环球航海就这样完成了”。据材料可知麦哲伦

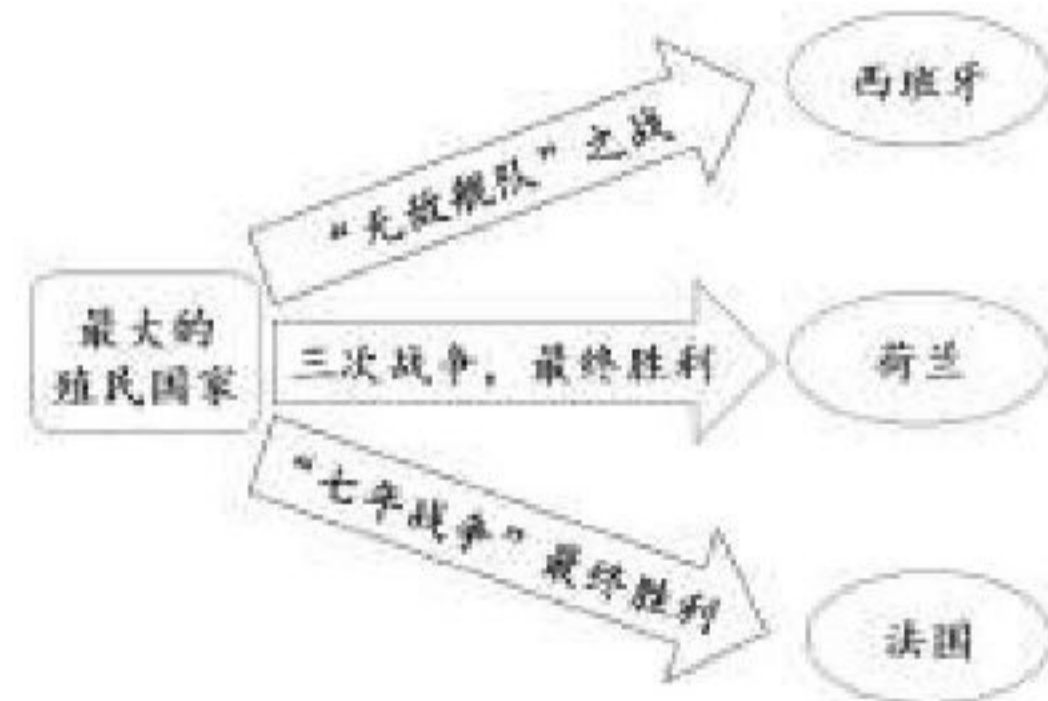
- ①是第一个真正到达东方印度的航海家 ②船队的航行证明了地圆学说
 ③被杀是因为菲律宾人认为他是殖民入侵者 ④航海得到西班牙王室的支持
- A. ①②③ B. ①②④ C. ①③④ D. ②③④

29. 如图所示，数字代表“三角贸易”经过的四个洲。其中一个环节的活动被马克思称之为“丢掉了最后一点羞耻心和良心的罪恶”。这个环节的路线是



- A. ①②——③
 B. ③——④
 C. ④——②①
 D. ③——①

30. 右图所给的知识结构图反映的主题应为



- A. 葡萄牙与西班牙的殖民争夺
 B. 西班牙、荷兰和法国的争斗
 C. “日不落帝国”的建立过程
 D. 殖民扩张带来资本原始积累

二、材料题（3 小题，共 40 分）

31. 中外文明的交流。（13 分）

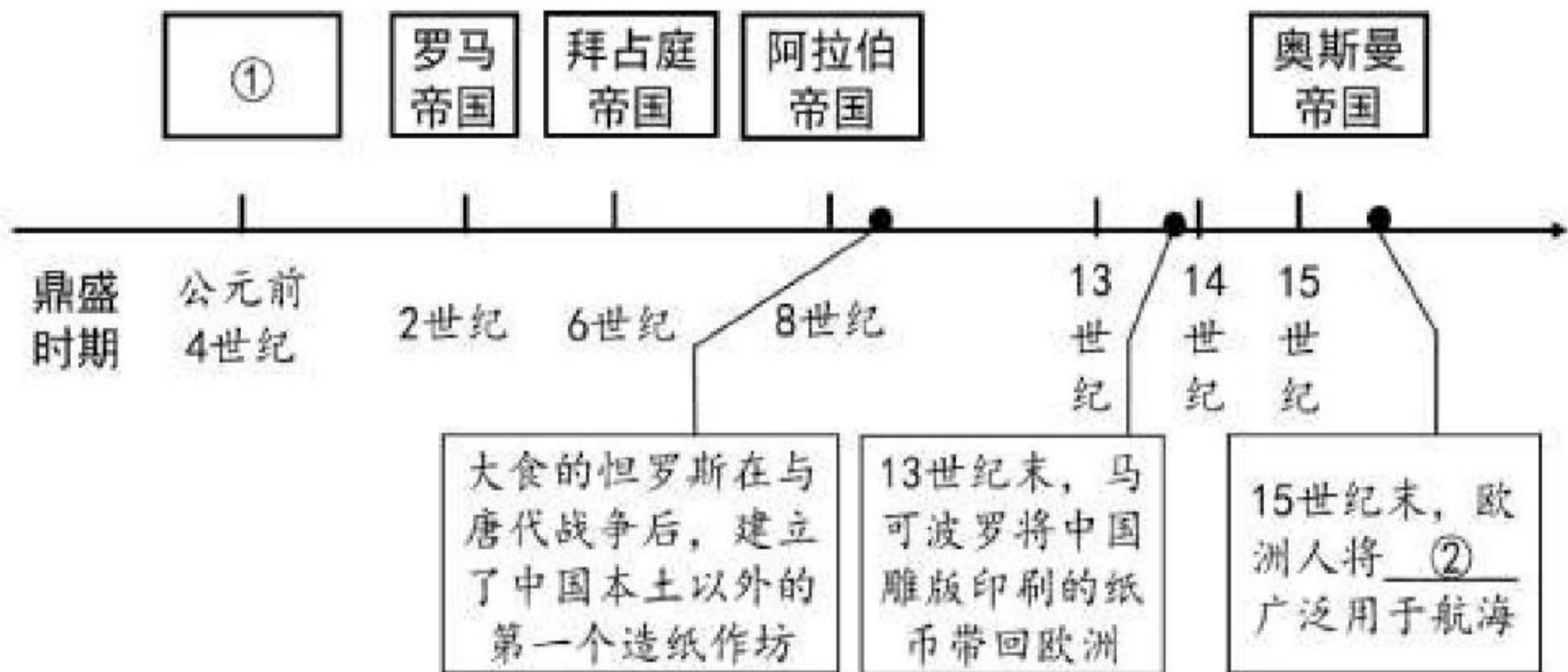
材料一 百家争鸣与文艺复兴

百家争鸣与文艺复兴都处在社会的变革时期。……百家争鸣后，随着秦统一六国，中国建立了封建君主专制制度。而在西欧，文艺复兴之后建立的是资本主义制度，这种制度决然不同于封建主义的任何一种形态。百家争鸣、文艺复兴都给各自的国家、民族奠定了深厚而牢固的文化基础，从而带来了长久的不可逆转的发展趋势。在内容和性质上，它们都是一场文化运动，都在复兴一定的古典文化。无论是百家争鸣还是文艺复兴都对人性进行了一番思考，肯定了人的价值，都希望在未来社会中塑造新的人。

——李静、萧洪恩《百家争鸣与文艺复兴的历史比较》

(1) 阅读材料一，比较百家争鸣和文艺复兴的相同点。（3 分）

材料二 文明交流的载体



(2) 上图为“古代横跨欧亚非的帝国及中国文化外传示意图”，依据图示结合所学，补充图中①②处空白。（2 分）

材料三 张骞与哥伦布

“张骞发现西域，对于当时中国人的刺激，就正像后来 1492 年哥伦布发现美洲对于欧洲人的刺激是一样的，他是一个冒险家，又是一个天才的外交家，同时又是一员战将。他们都开辟了“改变世界的路线”。

——翦伯赞

(3) 依据材料三，仿照示例，介绍哥伦布开辟“改变世界的路线”。（3 分）

示例：张骞通西域

介绍：公元前 2 世纪末，张骞在汉武帝支持下两次出使西域，历尽艰险开辟了通往



西域的道路。张骞通西域促进了汉朝与西域各国之间的相互了解和往来，东西方经济文化交流日趋频繁，为丝绸之路的形成奠定基础。

材料四 番薯的“旅行”

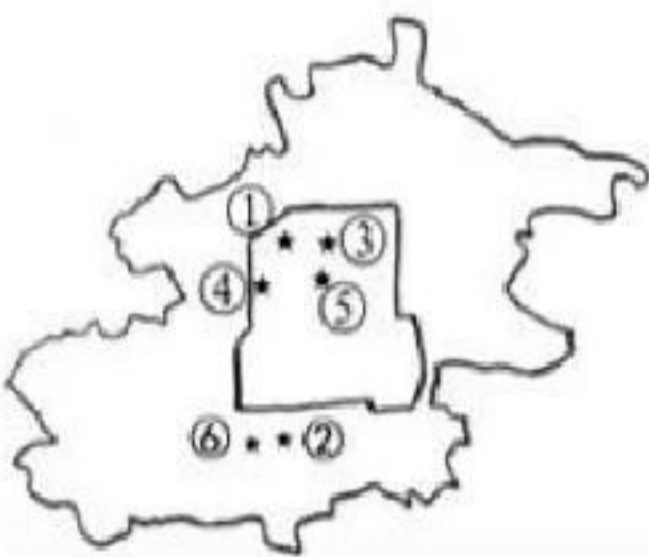
“番薯一直是印第安人的主要食物品种，西班牙人远航出海时，正是番薯丰收的季节……西班牙占领菲律宾后，往返于中国与菲律宾群岛之间的船舶日益增多。明清时期的闽、广因其特殊的地理位置、众多的海外移民、对外贸易的优势政策，使得它们在外来作物的引进与传播方面具有得天独厚的优势。……番薯的传入和推广迅速取代了芋、山药等的粮食功用，使它们退居蔬菜行列。同玉米相比，番薯对土壤条件的要求更低，适应能力更强，玉米、番薯这两种作物在扩大耕种面积的同时，也促进了粮食总产量的提高，缓解了长期以来人口与土地的矛盾，供养了更多的人。番薯因其高产，除供给百姓食用之外，尚且有盈余出售，使它成为可用来交易的商品，促进了明清时期粮食商品化的发展。

——郑南《美洲原产作物的传入及其对中国社会影响问题的研究》

(4) 阅读材料四，指出番薯“旅行”的时代背景。(2分) 结合所学，分析番薯的传入给我国明清社会带来了哪些影响？(3分)

32. 中华民族复兴是中国人民近代以来最伟大的使命。(13分)

材料一 北京地区名人故居及名人主要成就 (摘编)

 <p>北京部分名人故居示意图</p>	名人主要成就	
	序号 故居	成就
	① 恭王府	1862年，恭亲王组织开办清末最早的洋务学堂——京师同文馆
	② 康有为故居	公车上书；1897年上书光绪帝，呼吁变法救国
	③ 张之洞故居	1890年，开办汉阳铁厂
	④ 鲁迅故居	著有白话文小说《狂人日记》，无情批判吃人的封建礼教
	⑤ 胡适故居	《文学改良刍议》，1917年发表于《新青年》杂志
	⑥ 谭嗣同故居	宣传维新思想；1898年领导变法失败后被杀

(1) 这些名人在探索近代民族复兴历程中成就斐然，贡献突出。阅读材料一，结合所学，完成下表。(4分)

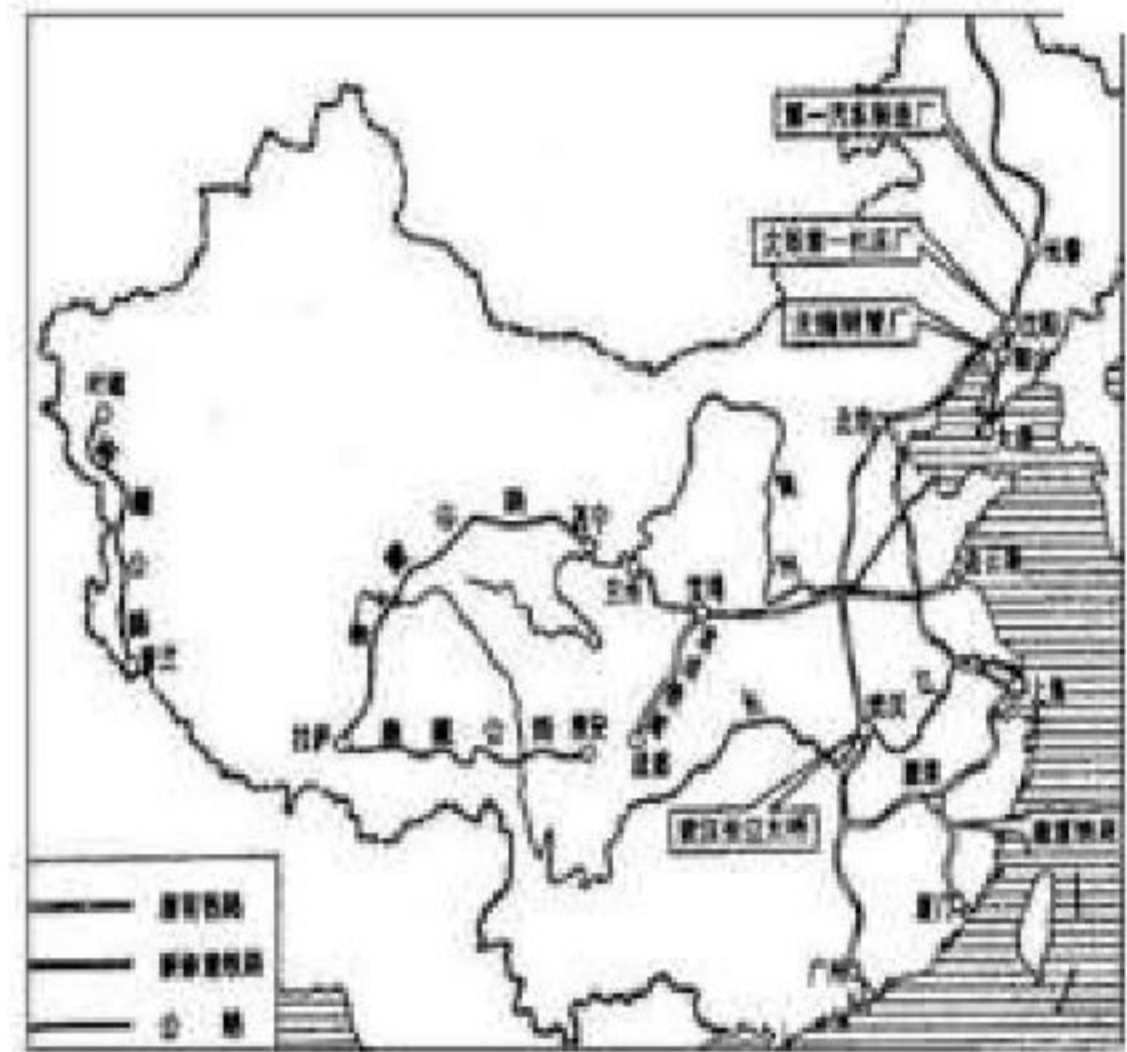
内容	主题	内容	主题	内容	主题
④	新文化运动				
⑤					





材料二 工业化的重要历程

洋务运动期间，李鸿章、张之洞等人先后创办轮船招商局、汉阳铁厂、湖北织布局等近代民用企业。它们从创办之初就长期使用官款，发展迅速。如轮船招商局1873年至1893年获利白银600多万两，但大都归入李鸿章等人的私囊。1895年中日战争失败后，洋务运动在政治上破产，轮船招商局等企业随之陷入窘境。之后清政府放宽民间办厂限制，张謇、荣氏兄弟等人纷纷在南通、上海、南京、天津等地创办面粉厂、纺织厂、纱厂、油料厂等企业，走上“实业救国”道路。



一五计划主要成就分布示意图

——整编自《中国近代经济史》

(2) 依据材料二及所学，指出中国近代工业化存在哪些问题？(3分)运用所学知识，举例说明新中国是如何解决这些问题的？(2分)

材料三 中国近现代的对外开放

上海位于东南沿海地区，海运非常便捷；同时它还是内河航运的中心点。1842年中英《南京条约》签订，上海成为五个通商口岸之一。上海开埠后，对外贸易迅速发展，长江流域和沿海附近地区的货物出口大多集中到上海，海外进入中国内地倾销的商品也要经过上海。自此以后，上海从一个海边的县城跃升成为远东最大的都会城市……

1990年党中央、国务院负责同志姚依林到上海视察工作时指出，开发浦东对于上海和全国都是一件具有重要战略意义的大事，不仅可以充分发挥上海的综合优势，振兴上海经济，而且对内地具有强大的辐射力，可以促进和带动长江两岸经济的发展，同时也是进一步对外开放的一个战略措施。4月，上海浦东开发区建立。之后，对外开放的地域向纵深推进，相继开放了重庆、武汉等内地沿江城市。

——整编自《中国经济发展史》《建设有中国特色社会主义理论汇典》

(3) 依据材料三，分析1990年中央为什么将开发浦东作为进一步开放战略的重要步骤？(4分)

33.中国共产党领导的新民主主义革命与社会主义建设道路,是在探索中走向成功的,是不断与时俱进的。(14分)

材料一 中国共产党在新民主主义革命战斗中相继打出的旗帜



①南昌起义使用的军旗



②中国工农革命军军旗



③国民革命军陆军军旗
国民革命军第十八集团军一一五师



④中国人民解放军军旗 (1949.6)



(1) 依据所学, 写出促使每个时期旗帜发生变化的重大历史事件的名称。(3分)

材料二 中国共产党领导的抗日战争大事记(部分)

①西安事变发生后, 中国共产党派周恩来来到西安参加谈判, 与各方协商, 促使西安事变和平解决。七七事变后, 中国共产党立即发表了《中共中央为公布国共合作宣言》, 推进国共合作。

②1937年9月, 淞沪会战期间, 八路军115师取得了平型关大捷。华北、华东、华中大片国土沦入敌手之时, 八路军、新四军建立晋察冀、晋绥、晋冀豫、山东、苏南等抗日根据地, 开展群众性的地道战、地雷战等战法的游击战争。

③中国共产党强调“民主是抗日的保证”, 在各抗日根据地开展民主选举, 建立抗日民主政权, 并将没收地主的土地政策, 改为地主减租减息、农民交租交息。

④1940年下半年, 八路军总部在彭德怀的指挥下, 对日军发动了“百团大战”, 战果辉煌。1941年初, 中国共产党针对国民党的反共行为进行斗争, 坚持抗战。

⑤1945年4月, 中国共产党在延安召开了第七次全国代表大会, 确立抗战胜利后, 建立新民主主义中国。

(2) 毛泽东在《论联合政府》中讲到：“抗日战争的经验，给了我们和中国人民这样一种信心：没有中国共产党的努力，没有中国共产党人做中国人民的中流砥柱，中国的独立和解放是不可能的……”请结合材料二及所学，论述毛泽东的观点。(3分)



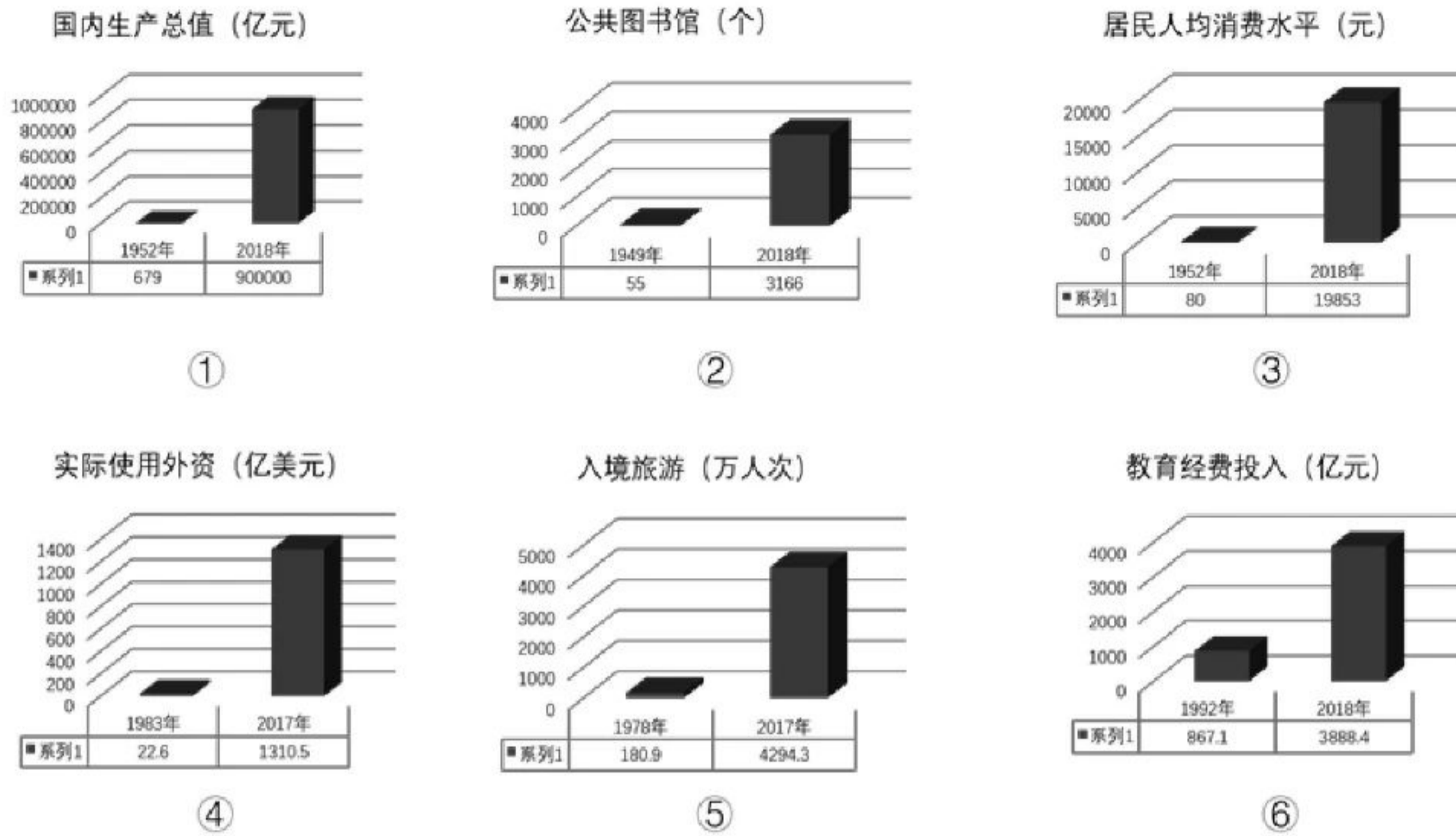
材料三 毛泽东与邓小平的思考与实践

	思考	实践
毛泽东	<p>1945年在中共七大上提出：在新民主主义政治条件获得后，就应该逐步地建立重工业和轻工业，把中国建设成为工业国。</p> <p>1953年党在过渡时期总路线的实质，就是要使生产资料的社会主义所有制成为我国国家和社会的唯一的经济基础。</p>	<p>中国政府编制了发展国民经济的第一个五年计划，并于1953年开始执行。</p> <p>1953年，中国开启了农业、手工业和①_____的社会主义改造。</p>
邓小平	<p>1977年11月在广州接见地方干部时，让他们搞活广东经济；1978年2月，经留四川时，他说，贫穷不是社会主义。</p> <p>1992年邓小平参观了深圳世贸中心大厦后，在回程的大巴上谈到：计划不等与社会主义，市场也不等于资本主义。贫穷不是社会主义，要走共同富裕的社会主义道路。</p>	<p>1978年12月，在中共十一届三中全会上做出了②_____的决策；</p> <p>1992年10月，中共十四大确立了建立社会主义市场经济的目标。</p>

(3) 依据材料三，分别说出毛泽东和邓小平思考的焦点。(2分) 将表格中的①②补充完整。(2分)



材料四 “数”说新中国辉煌 70 年



(4) 依据材料四，概括建国以来中国发生的变化。(注意：分类归纳概括，2分) 任选一个变化，运用所学知识解释变化的原因。(2分)