

# 2023 北京大兴初一（下）期末

## 历史



2023.06

考	1.本试卷共 10 页,共两部分,29 道小题,满分 100 分。考试时间 90 分钟。
生	2.在试卷和答题卡上准确填写学校、班级、姓名和考号。
须	3.试题答案一律填涂或书写在答题卡上,在试卷上作答无效。
知	4.在答题卡上,选择题用 2B 铅笔作答,其他试题用黑色字迹签字笔作答。

### 第一部分选择题（共 50 分）

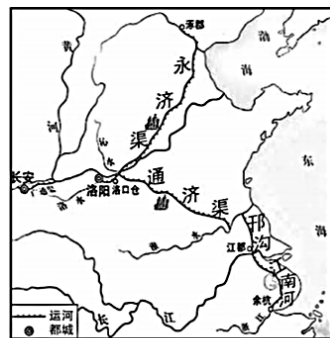
本部分共 25 小题,每小题 2 分,共 50 分。在每小题列出的四个选项中选出最符合题目要求的一项。

1.李商隐《咏史》中感慨道:“历览前贤国与家,成由勤俭破由奢。”以下能完整体现此观点的组合是

- ①隋文帝            ②隋炀帝            ③魏征            ④武则天  
A.①②            B.①③            C.①④            D.③④

2.某商人欲利用右图中的大运河,将货物从余杭运送到洛阳,需要依次经过

- A.江南河—通济渠—永济渠  
B.邗沟—永济渠—通济渠  
C.邗沟—江南河—通济渠  
D.江南河—邗沟—通济渠



隋朝大运河示意图

3.下面是某同学的课堂笔记（部分）。他学习的内容是

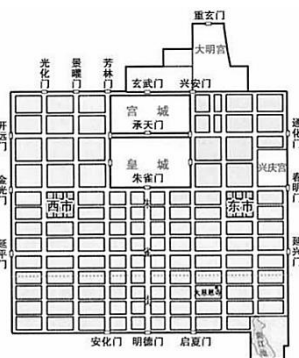
- ①经济的繁荣:农业发展(曲辕犁和筒车)……商业繁荣和长安的兴盛  
②民族交往与交融:“天可汗”……  
③开放的社会风气:……  
④多彩的文学艺术:诗歌的鼎盛时代、书法绘画等艺术的繁荣

- A.隋朝的统一与灭亡            B.盛唐气象  
C.唐朝的中外文化交流            D.安史之乱与唐朝衰亡

4.历史地图是学习历史的重要资源。从右图中能获得的信息有

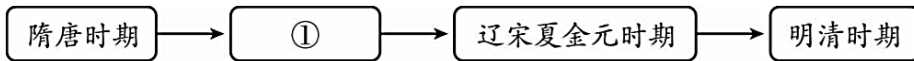
- ①长安城规模宏大,布局井然有序  
②世界各地的商人、使者云集长安。  
③皇城、宫城位于城市正中偏北部  
④城市中商业区与居民区被街道隔开

- A.①②③            B.①②④  
C.②③④            D.①③④



唐朝长安城平面图

5.绘制时间轴是梳理历史进程的重要方式。下面时间轴①处应是



- A. 史前时期  
B. 秦汉时期  
C. 三国两晋南北朝时期  
D. 五代十国时期

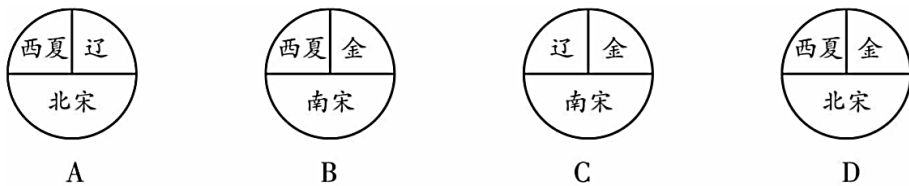
6. 思想家、政论家叶适在评论宋朝制度时说道：“国家因唐、五季之极弊，收敛藩镇，权归于上，一兵之籍，一财之源，一地之守，皆人主自为之。”下列可以用来佐证这一观点的是

- A. 辽与北宋的和战  
B. 改革和发展科举制度  
C. 陆续在地方设置转运使  
D. 在地方设置节度使

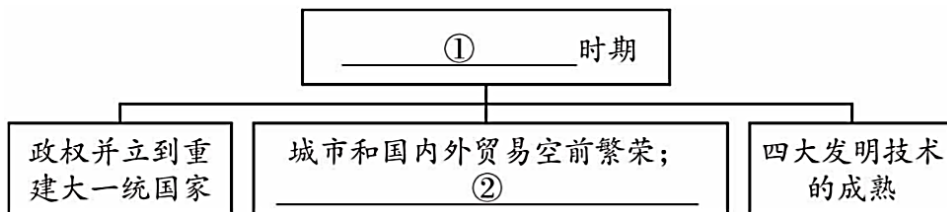
7. 《宋史·职官志》记载,宋初“始置诸州通判, ”“凡兵民、钱谷、户口、赋役、狱讼听断之事,可否裁决,与守臣（指知州、知府等地方长官）通签书施行”。由此可知

- A. 通判的作用是分散地方长官的权力并监督地方长官  
B. 通判的权力涉及地方一切行政和司法事务，难以控制  
C. 通判的设置是为了削弱相权，加强皇权  
D. 通判的作用是抑制武将专权，将地方财权收归中央

8. 贺岁电影《满江红》讲述了小人物张大、刘喜、丁三旺和瑶琴不怕牺牲、舍身取义，换来岳飞诗词《满江红》的流传百世。该故事取材的历史时期是



9. 下列图示中①和②处填写内容最为恰当的是



- A. 三国两晋南北朝时期; 实行休养生息政策  
B. 隋唐时期; 郑和下西洋  
C. 辽宋夏金元时期; 经济重心南移完成  
D. 明清时期; 文学艺术硕果累累

10. 北宋都城开封的夜市十分兴盛，不仅有商业夜市,还有文化娱乐夜市。造成这一现象的根本原因是

- A. 国家统一  
B. 商品经济发展  
C. 科技文化繁荣  
D. 中外交通发展

11. 英国李约瑟博士曾说：“每当人们在中国文献中查找任何一个具体的科技史料时，往往会发现它的主要焦点就在宋代。”能印证这一说法的史实有

- ① 造纸术的发明  
② 活字印刷术的发明  
③ 指南针用于航海  
④ 火药广泛运用到军事领域



A.①②③

B.①②④

C.①③④

D.②③④

12.他继承汗位后,接受汉族儒臣提出的“行汉法”“行仁政”“不弑杀”的建议,施行“治国安民”的方略,并于1279年完成了全国的统一。“他”是

A.成吉思汗

B.忽必烈

C.努尔哈赤

D.皇太极

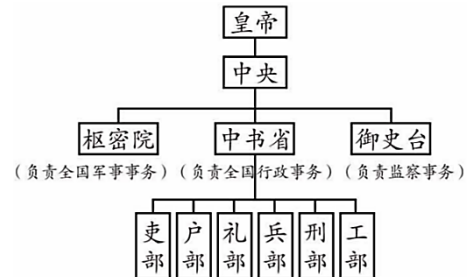
13.右侧中枢机构示意图(部分)所属的朝代是

A.唐朝

B.元朝

C.明朝

D.清朝



14.邓小平同志说:“西藏是中国领土的一部分,中国对西藏的主权不容否定。”下列史实能够证明西藏正式成为“中国领土的一部分”的是

A.唐朝时文成公主入藏

B.元朝设宣政院掌管藏族地区军政事务

C.清朝时期设置驻藏大臣

D.清朝时期创立金瓶掣签制度

15.1333年,元朝开科取士,在所取进士百人中,有蒙古、回回、畏兀尔等民族50名,其中有58%的人的母亲为汉人,已婚者中有近70%的人娶汉人为妻。这说明元朝

A.民族交融趋势加强

B.奉行民族歧视政策

C.科举考试更加公平

D.已经完全实现汉化

16.以下内容可以共同说明

- ①引进了原产于美洲的玉米、甘薯、马铃薯、花生和向日葵等
- ②景德镇是全国的制瓷中心,所产青花瓷器,畅销海内外
- ③北京和南京是全国性的商贸城市,还出现了数十座较大的商业城市

A.明朝的建立

B.朱元璋强化皇权

C.明朝科举考试的变化

D.明朝经济的发展



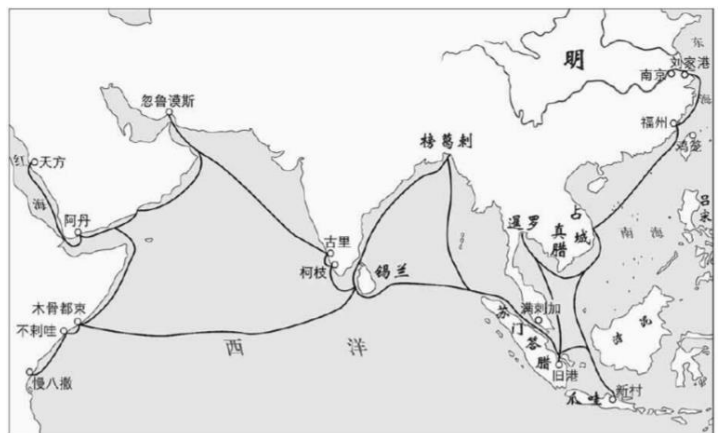
17.据右侧《郑和下西洋路线图》可知

A.郑和船队采用了当时世界上最先进的远洋航海技术

B.郑和所率的船队,满载着各类物品和大量的金银货币

C.郑和下西洋的主要目的是提高明朝的地位和威望

D.郑和的船队最远到达非洲东海岸和红海沿岸



18.下列与诗句“封侯非我意,但愿海波平”相关的是

A.王安石变法

B.文天祥抗元

C.戚继光抗倭                      D.郑成功收复台湾

19.明末流行这样的歌谣：“杀牛羊，备酒浆，开了城门迎闯王，闯王来时不纳粮。”与此歌谣相关的历史事件是

- A.安史之乱                      B.葡萄牙攫取澳门居住权  
C.李自成起义                      D.雅克萨之战

20.下表是台湾地区的大事年表（部分）。由此可知

时期	事件
三国	孙权派卫温到达夷洲（今台湾）
隋朝	隋炀帝派人三赴流求（今台湾）
元朝	设置了澎湖巡检司，管辖澎湖和琉球（今台湾）
清朝	1684 年设置台湾府；1885 年台湾正式建省



- A.台湾是中国领土不可分割的一部分                      B.中国古代边疆管理以军事方式为主  
C.中国古代地方管理制度的演变过程                      D.中外经济文化交流十分频繁

21.历史史实是指客观发生的历史事实，历史解释是对历史史实的分析与评判。下列属于历史解释的是

- A.清朝时期,承德避暑山庄有助于加强中央与边疆少数民族的联系  
B.1771 年，土尔扈特部在首领渥巴锡带领下东归  
C.雅克萨之战后，中俄双方签订了《尼布楚条约》  
D.乾隆年间，清军平定了回部贵族大小和卓的叛乱

22.明清时期，出现了一批描写市民生活的文人士子,他们更多地使用通俗生动的日常语言，塑造了众多商人、手工业者和市井小民的形象。明清小说呈现这一特点的原因是

- A.君主专制的不断削弱                      B.市民阶层壮大的需要  
C.商品经济的逐渐衰落                      D.科学技术的不断提高

23.下列人物与作品对应关系正确的是

- A.李时珍——《水浒传》                      B.吴承恩——《本草纲目》  
C.徐光启——《农政全书》                      D.罗贯中——《西游记》

24.全面总结我国古代的农业和手工业生产技术,被誉为“中国 17 世纪工艺百科全书”的著作是

- A.《天工开物》                      B.《农政全书》                      C.《农书》                      D.《梦溪笔谈》

25.下面是某同学在研究我国古代戏曲艺术发展时搜集到的部分资料。从昆曲兴盛到逐渐走向衰落的过程中，可知

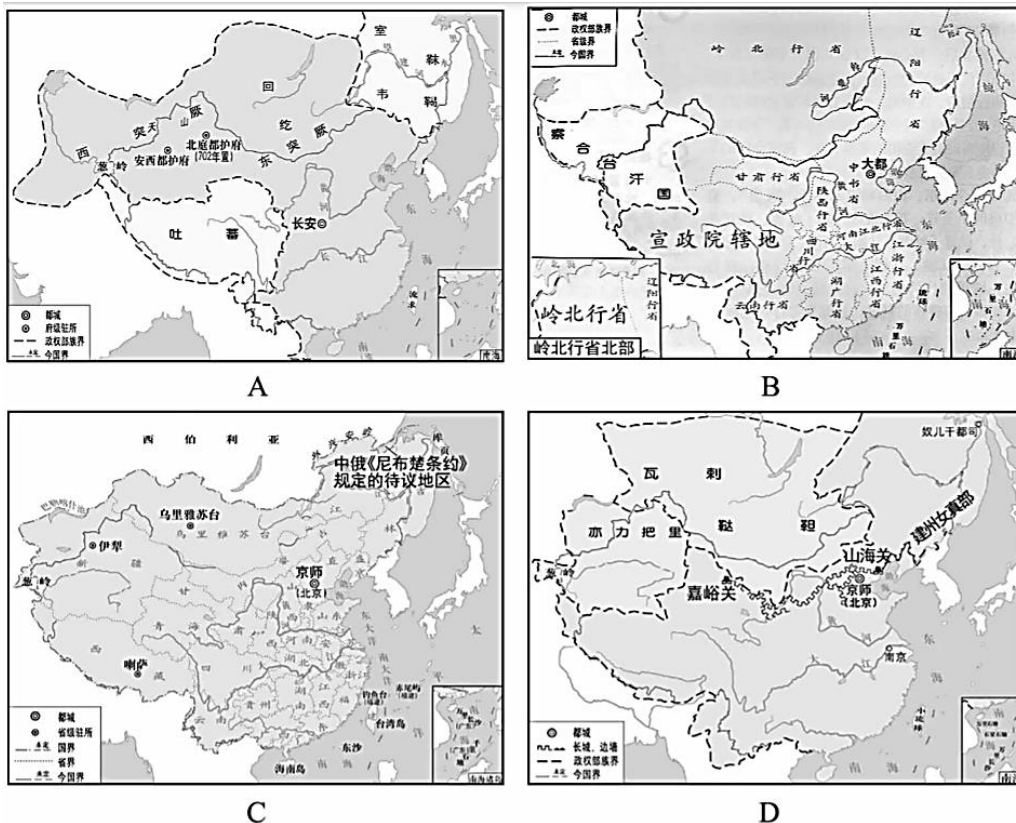
①昆曲，原是流行于苏州昆山一带的昆山腔。明朝万历年间，经过改良，表演艺术日趋成熟，成为一个全国性的剧种  
②清朝中期以后，昆曲逐步陷入因循守旧的境地，上演的剧目也多是逃避现实或歌功颂德的庸俗作品，为宫廷和贵族所观赏。由于脱离广大民众和现实生活，昆曲逐渐走向衰落

- A.皇室好恶决定艺术兴衰                      B.昆曲的艺术水平不可超越  
C.时代变迁决定艺术兴衰                      D.受到大众喜爱的艺术具有持久的生命力

## 第二部分非选择题（共 50 分）

26.（15 分）国家治理

材料一



（1）依据材料一并结合所学,将以上四幅地图按照朝代顺序进行排序。（2 分。写字母）仿照示例,说明理由。（2 分）

排序:A→\_\_\_\_\_→D→\_\_\_\_\_

示例:地图 A 中都城是长安,且设置安西都护府和北庭都护府管辖西域天山南北地区,判断该朝代是唐朝;地图 D 中的长城东起鸭绿江,西至嘉峪关,判断该朝代是明朝。唐朝在明朝之前,所以 A 在 D 之前。

材料二 在宋以前有三公坐而论道的说法……到宋朝便不然了。从太祖以后,大臣上朝在皇帝面前无坐处,一坐群站……在明代,不但不许坐,站着都不行,得跪着说话了。

——摘编自吴晗《朱元璋传》

（2）结合所学,概括材料二所反映的我国古代政治制度发展的趋势。（1 分）列举明清时期体现该趋势的措施。（2 分）

材料三

我国古代科举制发展简表

朝代	措施	发展阶段
隋唐时期	创立进士科增加科举考试科目创立殿试制度	①
宋朝	增加科举取士名额提高进士地位	发展时期

明清时期	②	僵化时期
------	---	------

(3) 依据材料三并结合所学,将表格内容填写完整,(2分) 全面评价科举制。(2分)




材料四 元统一全国疆域后,在全国设置 11 个“行中书省”。从各行省所辖区域看,元代打破过去以山川河流为分界的自然经济地理区划,不使某一大省区完全掌握整一形胜之地以据险而成割据。行中书省和以前各王朝地方最高一级行政区划性质有所不同,既是中央派出机构,代表中央,又是地方最高一级行政机构,代表地方,直接领有路、府、州、县。使中央权力下移了一个层次,地方机构上升一级,大大靠近中央。

——摘编自许正文《论我国省制的沿革与发展》

(4) 依据材料四,概括元代地方行政区划与以前各王朝的不同。(2分) 结合所学,写出行省制的影响。(2分)

27. (13分) 民族交融



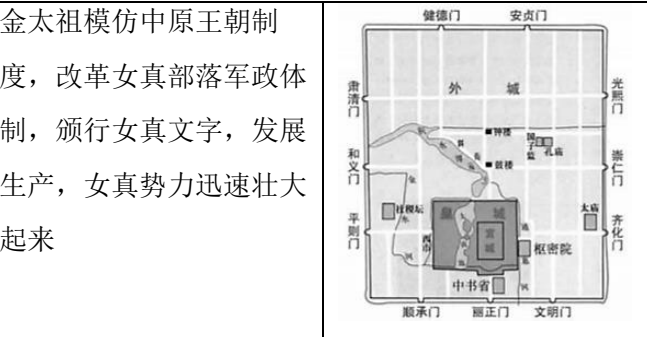
材料一

		
①唐朝阎立本《步辇图》(局部)	②唐蕃会盟碑碑文(局部)	③唐为防御吐蕃攻袭设置的关隘之一——制胜关遗址

(1) 请将以上唐蕃交往的史料进行分类。(3分。填序号)

实物史料: \_\_\_\_\_ 文献史料: \_\_\_\_\_ 图像史料: \_\_\_\_\_

材料二

		金太祖模仿中原王朝制度,改革女真部落军政体制,颁行女真文字,发展生产,女真势力迅速壮大起来	
契丹货币	西夏文契约	金学习中原王朝	元大都平面图

(2) 依据材料二并结合所学,概括少数民族向汉族学习的基本情况,(2分) 写出其产生的积极影响。(2分)

材料三 明朝以北京为国家级战略中心,……以长城作为巨大的工事和屏障,组成了由点及面的一个防御网络。……长城的军事防御功能因此更为显著。……清朝通过制度修建“外八庙”,即宗教的、结盟的制度安排解决了边患问题。至此,在明朝发挥重要战略军事功能的长城反而在清朝被废弃,渐而转为一种象征

意义。……综上所述，长城不但具有防御作用和文化传播功能，甚而促进了中原王朝与北方各族在封建文明基础上的凝聚与融合，在统一多民族国家的形成和发展过程中起到了不容忽视的作用。

——摘编自孙玲《明清北方民族关系与长城功能的演变》等

(3) 依据材料三，写出明清时期长城功能的变化及变化的历史意义。(4分)

材料四 满蒙两族同处北方寒冷地带，活动地域邻近，文化习俗颇多相通，彼此之间有一种天然的亲近感。因此清朝统治者不但对蒙古贵族封爵授职，拟于宗室，而且还特别强调“满蒙一体”观念，与蒙古贵族建立起了密切的联姻关系。喇嘛教格鲁派（俗称黄教）在明朝后期传入蒙古后，迅速蔓延，影响遍及全蒙古社会。清朝统治者因势利导，也在蒙古大力尊崇黄教。

——摘编自袁行霈、严文明等《中华文明史》

(4) 依据材料四，写出满蒙民族交往的方式。(2分)

## 28. (13分) 对外交往

材料一



(1) 观察地图，写出图中 A、B 两条路线所对应的唐朝中外交往的史实。(2分)

材料二 宋代海上丝绸之路是当时世界上最重要的商路。宋代进出口贸易规模大、物品种类多，王公贵族与寻常百姓都成为舶来品的消费者。宋代海员已经熟练地掌握洋流季风的规律，利用它来出海或返航；依靠指南针，辅助以牵星术辨别方向与船只位置。两宋时期，朝廷十分重视海外贸易，设立市舶司。有学者估计南宋初年外贸收入约占财政总收入的 15%。

——摘编自高红清《国际化的宋代与海上丝绸之路》

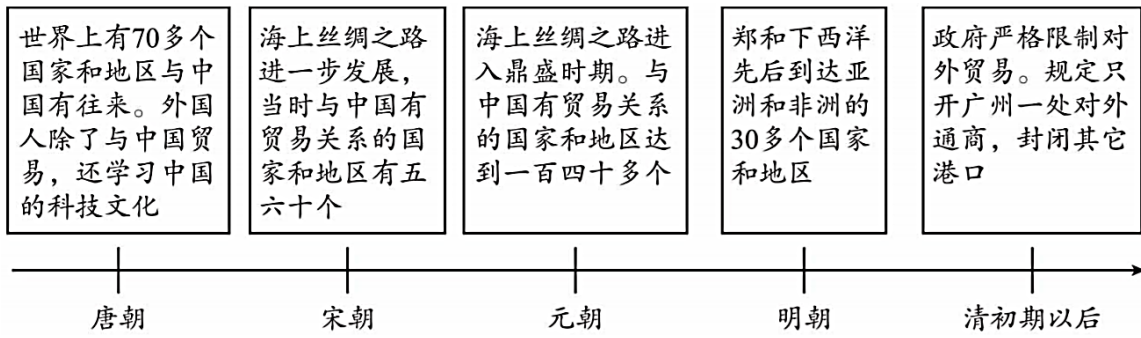
(2) 依据材料二，概括宋代海外贸易的特点。(4分)

材料三 明朝中期起，高产作物玉米、番薯、马铃薯自海外传入中国，其产量较一般粮食作物要高，不与五谷争地，在旱地、山地等处皆可种植，因此得到广泛的传播。此外它们的传入与推广对提高粮食产量起到了革命性的作用，在一定程度上缓解了人口增长对土地造成的压力。

——摘编自任德山《中国大历史》

(3) 依据材料三，写出明清时期玉米、番薯、马铃薯等作物传入中国后得到广泛传播的原因及影响。(4分)

材料四



(4) 依据材料四并结合所学,写出清初期以后实行的对外政策。(1分) 归纳中国古代对外政策的变化趋势。(2分)

29. (9分) 北京城的历史发展

材料一

北京历史沿革简表(部分)

时期	名称	地位
周	蓟	燕国都城
秦	蓟	广阳郡郡治
西汉	.....	.....
		广阳郡郡治(前80—前72)
唐	蓟或幽州	幽州州治
	蓟或范阳	范阳郡郡治
	.....	.....
金	燕京	忻津府府治
	中都	都城
元	燕京	燕京路路治
	中都	都城
	①	国都
明	北平	北平府府治
	北京	②
清	北京	京师或国都

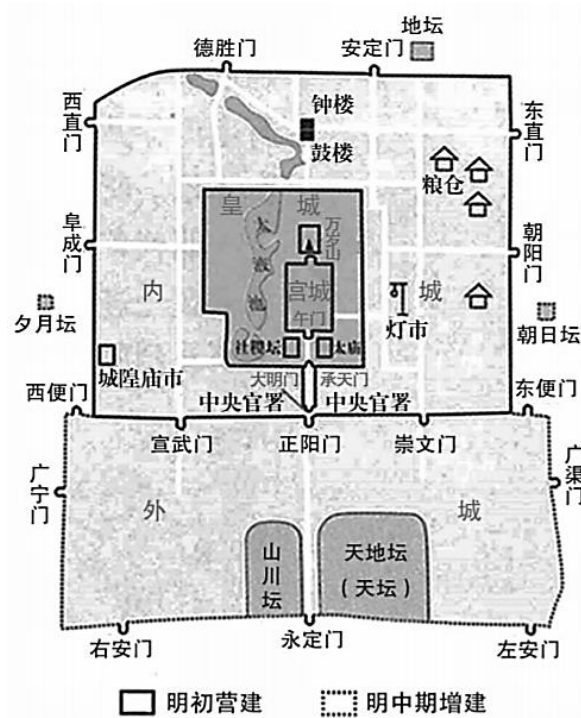
(1) 依据材料一并结合所学,将①②补充完整,(2分) 概括北京城政治地位的变化。(2分)

材料二

明朝北京城平面图







(2) 依据材料二，写出明朝北京城在布局方面的特点。(2分)

材料三 京剧是中国的“国粹”之一，被誉为“国剧”。1790年，乾隆皇帝80岁寿辰时，四大徽班先后到北京献艺。徽班的唱词通俗易懂，唱调高亢爽朗，赢得观众喜爱，一时誉满京城。后来，徽调不断吸收昆曲、秦腔、京调、汉调等地方戏的优点，加以创造和改进，在道光年间逐渐形成为一个新的剧种“皮黄戏”。皮黄戏博采其他剧种的优点，又带有北京的地方特色，以后就被称为“京戏”或“京剧”。京剧深受广大群众的喜爱，又得到皇室的扶持，经过表演艺术家的不断创新，日臻完善，成为最主要的剧种，流传四方。

——摘编自统编版《中国历史》七年级下册

(3) 依据材料三，概括京剧的特点。(2分)

材料四 2014年，习近平总书记在北京玉河、南锣鼓巷视察时指出，北京是世界著名古都，丰富的历史文化遗产是一张金名片，传承保护好这份宝贵的历史文化遗产是首都的职责。

(4) 结合材料四，为保护北京历史文化遗产建言献策。(1分)



# 参考答案



## 第一部分选择题（共50分）

1	2	3	4	5	6	7	8	9	10
A	D	B	D	D	C	A	B	C	B
11	12	13	14	15	16	17	18	19	20
D	B	B	B	A	D	D	C	C	A
21	22	23	24	25					
A	B	C	A	D					

## 第二部分非选择题（共50分）

26. (1) A→B→D→C (2分)

理由：地图B中都城是大都，实行行省制度，设置了宣政院管理西藏地区，所以判断该朝代为元朝；地图C的朝代签订了《尼布楚条约》，从疆域范围上来看，基本奠定了当今中国疆域的版图，所以判断该朝代为清朝。元朝在明朝之前，清朝在明朝之后，所以顺序是B、C(A、B、D、C)。(2分，每个朝代写出一个判断依据即给1分，共2分。没有依据只排序给1分)

(2) 趋势：君主专制的不断加强（或皇权不断加强）。(1分)

措施：明朝：废除丞相制度；(1分) 清朝雍正时期设置军机处（或康熙帝设置南书房）。(1分)

(3) ①创立时期②八股取士

评价：积极影响——①加强了中央在选官和用人上的权力，有利于加强中央集权；

②扩大了官吏选拔的范围，使有才学的人能够由此参政，促进了社会阶层的流动；

③推动教育的发展，促进文化素质的提高；

消极影响——明清时期，科举制度进入到了僵化时期，禁锢了人们的思想，阻碍了社会的发展。（积极影响任1点1分，消极影响任1点1分，共2分。如只写积极或只写消极，最多给1分。）

(4) 不同：所辖区域打破过去以山川河流为分界的自然经济地理区划；行政区划性质不同，既是中央派出机构，又是地方最高一级行政机构。（任1点1分，共2分）

影响：对当时：有利于加强中央对地方的控制，提高行政效率；有利于边疆地区经济、文化的发展及民族间的交往交流交融；有利于统一多民族国家的巩固和发展。

对后世：是我国省制的开端，对后世的行政区划影响深远。（任1点1分，共2分）

27. (1) 实物史料：③文献史料：②图像史料：①（每空1分，共3分）

(2) 情况：少数民族在货币、文字、政治制度、都城布局等都向汉族进行了学习与借鉴。（任1方面1分，共2分）

积极影响：推进了少数民族在政治、经济、文化等方面的发展；促进了民族交融。（任1点1分，共2分）

(3) 变化：军事防御功能到象征功能。（体现出变化，对应词写出1个即给1分，2分）

意义：促进了中原王朝与北方各族的凝聚与融合；推动了统一多民族国家的发展等。（任1点1分，共2分）

(4) 方式：封爵授职，联姻，尊崇宗教（任1点1分，共2分）

28. (1) 路线A：玄奘西行（1分）路线B：鉴真东渡（1分）

(2) 特点：以海路为主，技术水平高；在当时世界上占有重要地位；贸易规模大；物品种类多；消费群体广；政府重视，设置专门的管理机构；外贸税收成为财政的主要来源。（任1点1分，共4分）

(3) 原因：产量高，对土壤和地形的要求低。（2分）

影响：丰富了我国农业品种；提高粮食产量；在一定程度上缓人地矛盾。（任1点1分，共2分）

(4) 政策：闭关锁国政策（1分）

变化：从主动走向被动，从开放走向封闭。（体现出变化，对应词写出1个即给1分，共2分）

29. (1) ①大都②京师（或国都）（每空1分，共2分）

变化：从地方性政治中心逐渐变为全国的政治中心（或北京城的政治地位逐渐提升）。（2分）

(2) 特点：规模宏大；规划严整；中轴对称；宫城位于城市中心；呈现凸字型的轮廓等。（任1点1分，共2分）

(3) 特点：兼容并蓄、博采众长；带有北京的地方特色；不断创新；深受大众喜爱；受到官方扶持等。（任1点1分，共2分）

(4) 言之成理即可。（1分）

