



考生须知：

- 1. 本试卷共 8 页, 共 31 个小题, 满分 90 分;
- 2. 考试时间 90 分钟。请用黑色字迹的签字笔在答题卡上作答;
- 3. 考试完成后请将试卷、答题卡一并交回。

一、单项选择题, 请把正确选项的字母填涂在答题卡上(每小题 1.5 分, 共 39 分)

1. 世界上平均海拔最高的大洲是

- A. 亚洲 B. 非洲 C. 南美洲 D. 南极洲

读图 1, 回答 2-3 题

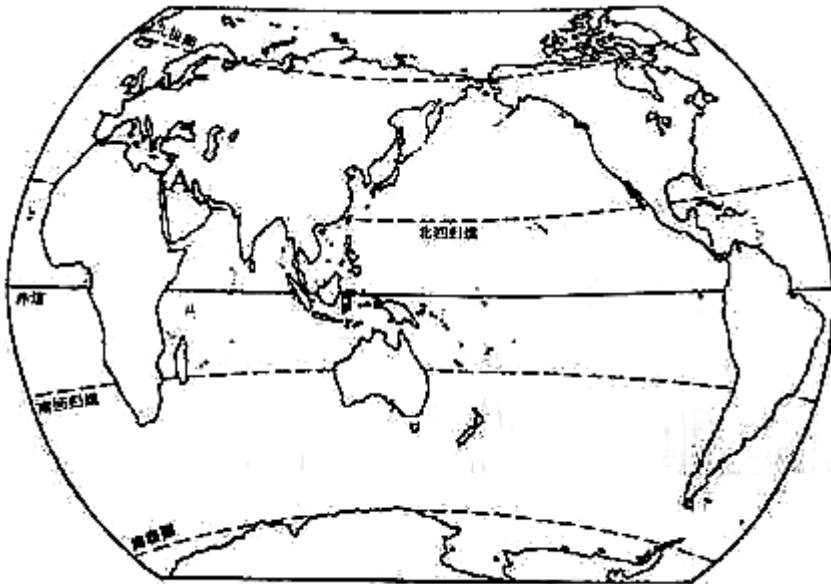


图 1

2. 一个大洲的自述：“我在各大洲中排行第二, 与大哥仅一河之隔, 地形以高原为主, 在我的胸膛流淌着世界第一长河。”这个大洲是

- A. 亚洲 B. 欧洲 C. 非洲 D. 北美洲

3. 地图上有一地区一段时期以来战事不断, 有人说它是为“油”而战, 有人说它是为“水”而战, 还有人说它是为“宗教”而战, 它位于图 1 中某处, 这个地区是

- A. 中东 B. 东南亚 C. 欧洲西部 D. 南极地区

4. 图 2 中左右两张图所表示的自然景观分别是




图 2

- A. 热带雨林、热带季雨林 B. 极地苔原、极地冰原
C. 亚热带常绿阔叶林、温带落叶阔叶林 D. 亚寒带针叶林、温带落叶阔叶林

2019年中国将举办第二届“一带一路”国际合作高峰论坛,会议将进一步推进国际合作,有力带动周边国家和世界经济发展。读图3,回答6-7题:

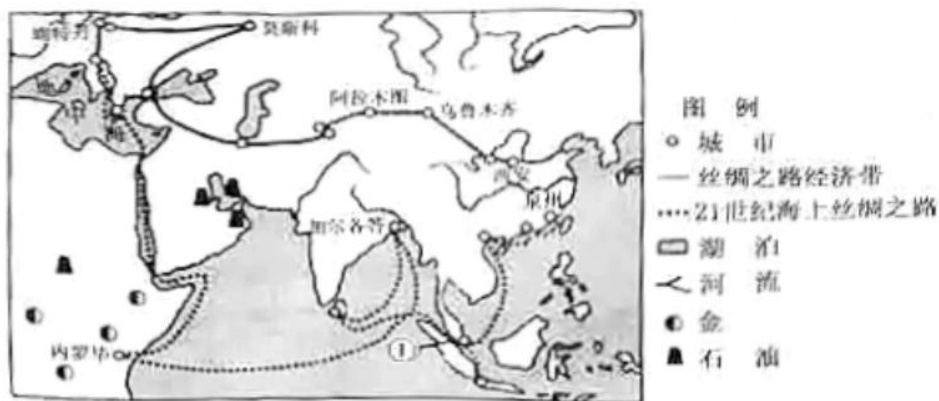


图 3

5. 在“21世纪海上丝绸之路”经过的地区中,①所在的海洋通道是
A. 马六甲海峡 B. 土耳其海峡 C. 霍尔木兹海峡 D. 巴拿马运河
6. 对内罗毕所在撒哈拉以南非洲地理特征的描述,正确的是
A. 东临印度洋,西临太平洋 B. 人口增长快,是黑色人种的故乡
C. 地形以平原为主,气候湿润 D. 矿产资源丰富,经济发达
7. 中东是“一带一路”上联系中国与欧洲的重要通道,下列关于中东的叙述,正确的是
①是基督教、伊斯兰教、佛教的发源地 ②苏伊士运河沟通了地中海和黑海
③气候干旱,河流稀少,水资源匮乏 ④波斯湾沿岸油井林立,油轮进出繁忙
A. ①② B. ①③ C. ②③ D. ③④

请在图4中找到呼玛、赤塔、华沙、鹿特丹四个城市。这四个城市纬度差异很小,但气候差异很大。某地最热月份气温(本图中为7月气温)与最冷月份气温(本图中为1月气温)之差为该地气温年较差。仔细思考,回答8-10题:

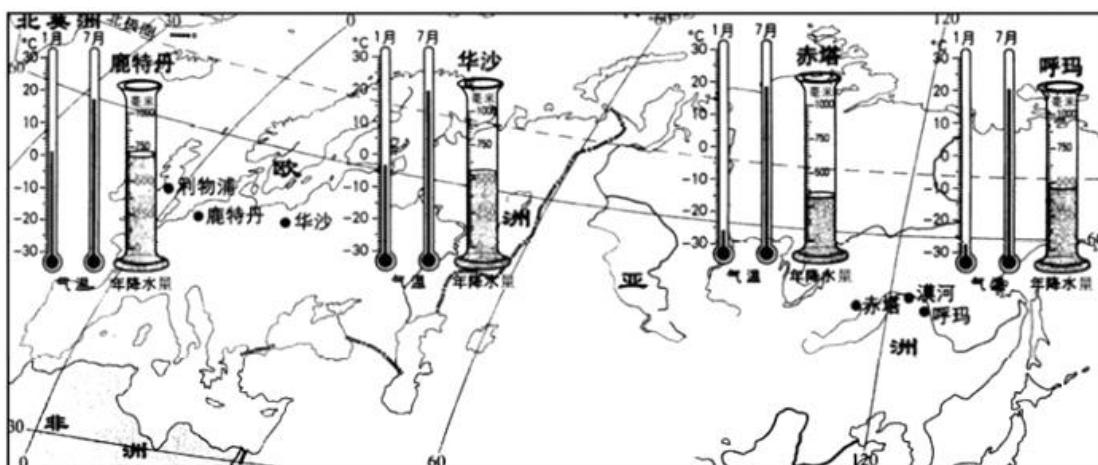


图 4

8. 鹿特丹气温年较差大约为

- A. 1°C B. 13°C C. 16°C D. 20°C

9. 关于四地气候变化的叙述, 正确的是

- A. 从东向西气温年较差逐渐减小, 年降水量逐渐增多
 B. 从东向西气温年较差逐渐减小, 年降水量先减少后增多
 C. 从东向西气温年较差逐渐增大, 年降水量先减少后增多
 D. 从东向西气温年较差逐渐增大, 年降水量先增多后减少

10. 根据图中所示信息判断下面关于四个城市气候特征的描述, 正确的是

- A. 呼玛——四季如春, 降水稀少
 B. 赤塔——终年寒冷干燥
 C. 华沙——终年高温多雨
 D. 鹿特丹——冬季温和夏季凉爽, 降水较多

图 5 是欧洲西部略图, 读图回答 11-12 题



图 5

11. 对欧洲西部地理位置特征的描述, 正确的是

- ①主要位于北温带 ②有北回归线穿过 ③西临太平洋 ④位于亚欧大陆西部
 A. ①③ B. ②④ C. ①④ D. ②③

12. 对欧洲西部地形特征的描述, 正确的是

- A. 以高原为主 B. 地势南北高、中部低
 C. 平均海拔高 D. 中部以山地为主

13. 歌曲《亚洲雄风》的歌词“我们亚洲, 河像热血流”是说亚洲河流众多, 奔流不息。下列关于亚洲河流的叙述正确的是

- A. 大河都发源于中部高原、山地, 呈放射状流入太平洋和印度洋
 B. 中南半岛河流自西向东流, 说明地势西高东低
 C. 鄂毕河、叶尼塞河自南向北流, 注入北冰洋
 D. 印度河主要流经印度, 注入孟加拉湾

14. 亚洲的主体部分在

A. 东半球、北半球 B. 东半球、南半球 C. 西半球、北半球 D. 西半球、南半球

15. 西亚地区处在印度洋和大西洋的重要国际航线上,沟通这两大洋的咽喉是

A. 苏伊士运河、直布罗陀海峡

B. 苏伊士运河、马六甲海峡

C. 巴拿马运河、土耳其海峡

D. 巴拿马运河、白令海峡

16. 关于欧洲西部的叙述,正确的是

A. 本区大多数国家是经济落后的国家,如丹麦、冰岛等

B. 本区共有 30 多个国家,国家面积都很大,居民以白色人种为主

C. 本区由于人口自然增长率低,所以是世界上人口最稀疏的地区之一

D. 本区旅游业发达,南部海滨沙滩风景优美,北部峡湾曲折幽深、中部山地可供登山

17. 当北京寒冷干燥时,意大利首都罗写的季节是

A. 寒冷干燥的冬季

B. 炎热干燥的夏季

C. 温和多雨的冬季

D. 炎热多雨的夏季

18. 中国东南部与阿拉伯半岛纬度大致相当,但并未出现沙漠,其主要原因是

A. 地势高,气温高

B. 位于季风气候区,雨热同期

C. 地势低,平原分布广

D. 气温低,蒸发量小

19. 关于西亚的叙述,正确的是

A. 濒临黑海,地中海、红海、阿拉伯海、里海

B. 两河流域是指阿姆河和尔河流域

C. 死海盐度高达 32%,是世界盐度最高的海

D. 国家都属于阿拉伯国家

20. 非洲各河流中,水量和水能最丰富的河流是

A. 刚果河

B. 尼罗河

C. 赞比西河

D. 尼日尔河

读图 6, 回答 21-22 题

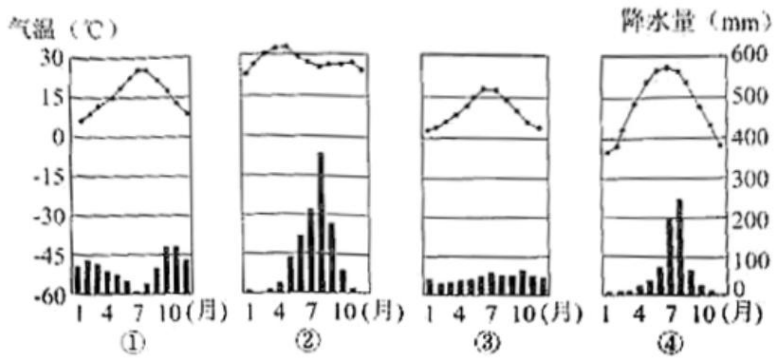


图 6

21. 如图表示的气候类型中, 位于热带的是

- A. ① B. ② C. ③ D. ④

22. 下列叙述, 正确的是

- A. ①气候冬季寒冷干燥 B. ②气候雨热同期
C. ③气候全年高温多雨 D. ④气候夏季高温多雨

23. 以色列占领戈兰高地主要为控制

- A. 石油资源 B. 交通要道 C. 宗教圣地 D. 水资源

24. 西亚国家与我国陆上领土接壤的是

- A. 阿富汗 B. 缅甸 C. 伊朗 D. 哈萨克斯坦

25. 在东南亚各国中, 面积最大、人口最多的国家是

- A. 缅甸 B. 泰国 C. 菲律宾 D. 印度尼西亚

26. 撒哈拉以南非洲分布面积最广的气候类型是

- A. 热带草原气候 B. 热带雨林气候
C. 热带沙漠气候 D. 热带季风气候

二、非选择题 (51 分)

27. (8 分) 读下面“亚洲部分地区示意图”, 回答下列问题:

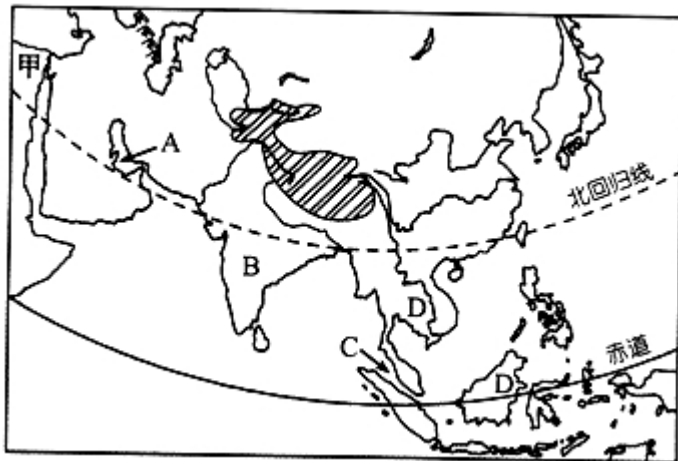


图 7

- (1) 亚洲与甲大洲的分界线是_____；
- (2) 图 7 中 A 海湾及其沿岸地区分布有丰富的_____矿产资源；
- (3) B 为_____半岛, 2018 年 4 月 27 日北南双方首脑会谈引发世界广泛关注；
- (4) 船只在 C 处沿箭头方向通过海峡时的方位表述是_____；
- (5) 下列物产中, D 地区产量位居世界前列的是_____；
- A. 咖啡、棕油 B. 可可、甘蔗
- C. 天然橡胶、椰子 D. 大豆、香蕉
- (6) 图 7 中阴影地区属于人口_____ (稠密/稀疏) 区, 原因是_____。

28. (6 分) 读“南极地区和北极地区图”, 回答下列问题

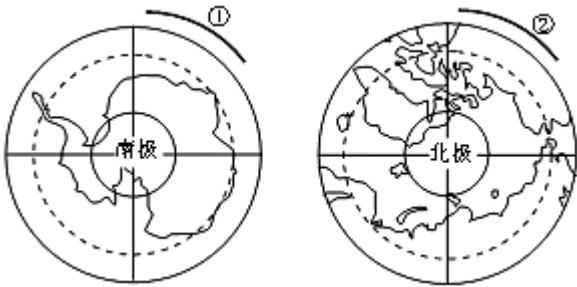


图 8

- (1) 在“南极地区和北极地区图的弧线①和弧线②上画上箭头表示地球自转的方向；
- (2) 南极地区的气候特点是_____, 同样是极地地区, 南极地区比北极地区的年平均气温低很多, 其原因是_____；

①南极地区的纬度位置比北极地区高②南极地区的地势比北极地区高③南极终年被冰雪覆盖, 对阳光反射强, 吸收的热量少④南极地区没有定居人口

- A. ①② B. ②③ C. ①③ D. ③④

- (3) 下列属于南极地区代表动物的是_____；



图 9

- (4) 我国“雪龙号”考察船把南极科考站的生活垃圾转运回国的原因是_____。

29. (14 分) 阅读下列材料, 回答问题:

材料一 我国某地理科考队对非洲大陆地形、气候、热带草原区的农牧业生产和环境等方面进行了科学考察。

材料二 非洲沿赤道地形剖面图和东非裂谷带图



图 10




图 11 非洲沿赤道地形剖面图

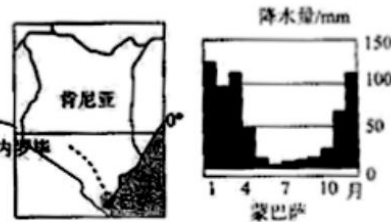


图 12

材料三 由中国倡导的“一带一路”是指丝绸之路经济带和 21 世纪海上丝绸之路,此倡议提出以来,大批合作项目稳步推进。2017 年 5 月 31 日,中国和肯尼亚合作的“蒙内铁路”(蒙巴萨—内罗毕)正式通车。

(1) 读非洲沿赤道地形剖面图,填出序号代表的地理事物名称。

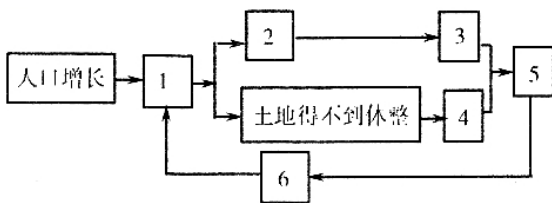
①_____洋; ②_____高原; ③_____盆地; ④_____洋。

(2) 考察队员发现东非裂谷带底部有狭长而深陷的谷地和湖泊,附近火山、地震活动频繁,该裂谷的成因是_____。

(3) 考察队员站在乞力马扎罗山麓地带,测得海拔高度是 500 米,气温是 20℃,该山顶部的的气温应该是_____℃。

(4) 蒙内铁路开通时,蒙巴萨属于_____ (湿季/干季),我国和肯尼亚的互助合作称为_____。

(5) 考察队员发现热带草原农业区人口增长快,土地荒漠化严重,请把下图中的数字与内容序号合理搭配,并填在题目下方:



- A. 土壤肥力下降 B. 恶性循环 C. 开垦草原
D. 要求增加粮食产量 E. 土地沙化严重 F. 粮食产量下降

1: _____ 2: _____ 3: _____ 4: _____ 5: _____ 6: _____ (只填字母)。

30. (12 分) 粮食生产地区不平衡和国家间分配不均,是产生粮食问题的根源。读图 13, 完成下列问题:

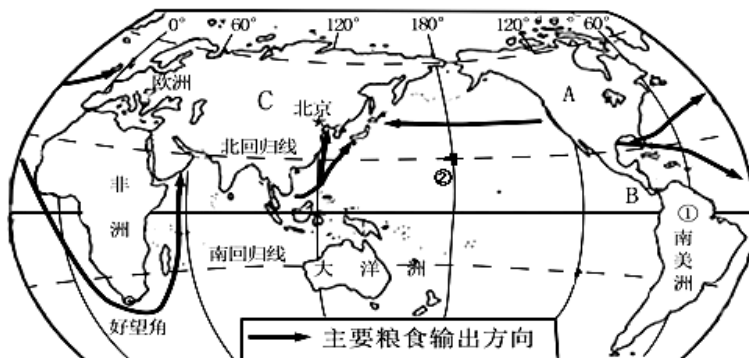


图 13

(1) 图 13 中粮食输出的大洲 A 为_____洲, 它与南美洲的分界线 B 是_____运河, A 洲粮食出口往西横穿_____洋到达 C;

(2) ①是世界最大平原: _____平原, 位于_____ (东/西) 半球;

②点的经纬度是: (_____, _____);

(3) 通州的玲玲同学过暑假时, 好望角的季节是_____季, 晚餐时, 玲玲通过互联网与远在华盛顿的表姐视频聊天, 表姐对她说“早上好”, 造成两地时间差异的主要原因是_____;

(4) 以下有关世界各地农业生产的叙述, 正确的有_____ (单项选择).

A. 我国南北自然条件差异明显, 造成了“南方面食, 北方米饭”的不同饮食习惯

B. 非洲气候温暖湿润, 大部分地区农牧业发达, 粮食大量出口

C. 欧洲西部草场广布, 当地居民餐桌上常见牛肉、羊肉、奶酪等

31. (11 分) 读下列材料, 回答问题:

材料一 东南亚各国是中国的近邻, 该地区由中南半岛和马来群岛组成, 是世界上最重要的热带作物产区。

材料二 东南亚地区图和马来群岛火山爆发图

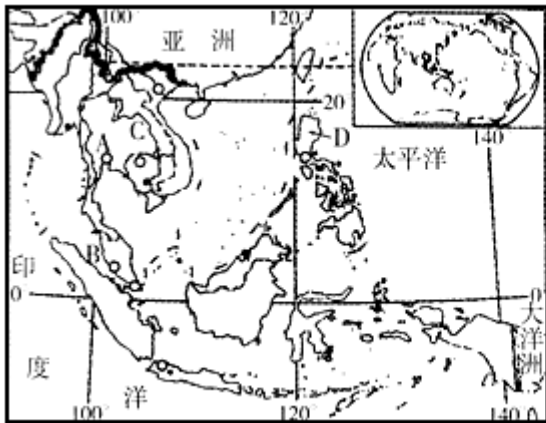


图 14 东南亚地区图



图 15 马来群岛火山爆发图

(1) 写出图 14 中字母代表的地理事物名称:

A. _____ (城市) B. _____ (纬度) C. _____ (河流) D. _____ (国家)

(2) 该地区有世界上最大的天然橡胶生产国_____, 从气候和劳动力两方面分析其生产天然橡胶的有利条件:_____。

(3) 马来群岛火山活动频繁, 小明和小芳分别搜集火山活动对当地居民生产、生活的有利和不利的影 响, 请你帮他们写出来。

有利影响:_____。

不利影响:_____。

