



昌平区 2018—2019 学年第一学期初三年级期末质量抽测

道德与法治试卷

2019. 1

考 生 须 知	<p>1. 本试卷共 7 页，共两部分，25 道题，满分 90 分。考试时间 90 分钟。</p> <p>2. 请在试卷上准确填写学校名称、姓名和考试编号。</p> <p>3. 试题答案一律填涂或书写在答题卡上，在试卷上作答无效。</p> <p>4. 在答题卡上，选择题用 2B 铅笔作答，其他试题用黑色字迹签字笔作答。</p> <p>5. 考试结束后，请交回答案卡和试卷。</p>
------------------	---

第一部分 选择题（共 40 分）

本部分共 20 道小题，每小题 2 分，共 40 分。在每小题列出的四个选项中，选出最符合题目要求的一项。

1. 2018 年 11 月 5 日至 10 日，_____在国家会展中心（上海）举行，中国国家主席习近平出席开幕式并举行相关活动。该会是迄今为止世界上第一个以进口为主题的国家级展会。

- A. 中非合作论坛
- B. 中国国际进口博览会
- C. 亚太经合组织领导人非正式会议
- D. 二十国集团领导人峰会（G20 峰会）

2. 经党中央批准、国务院批复自 2018 年起，将每年农历秋分日设立为“_____”。这是第一个在国家层面专门为农民设立的节日。设立此节日将极大调动起亿万农民的积极性、主动性、创造性，提升亿万农民的荣誉感、幸福感、获得感。

- A. 中国医师节
- B. 中国老年节
- C. 全国土地日
- D. 中国农民丰收节

3. 下列选项中最符合右侧漫画主题的是

- A. 学会交流，化解矛盾
- B. 调适逆反，和谐成长
- C. 家庭美德，共创共享
- D. 父母恩情，难以回报



4. 千百年来，中华民族精神围绕其核心，历久弥新，不断丰富发展。下列选项中反映出中华民族精神核心的是

- A. 艰难困苦，玉汝于成
- B. 志存高远，脚踏实地
- C. 天行健，君子以自强不息
- D. 苟利国家生死以，岂因祸福避趋之

5. 重庆 22 路公交车坠江事件发生后，马上有网络传言称造成该事故的原因是小轿车司机的违规行驶。后来警方解密黑匣子，公布事件真相：坐过站的乘客与司机互相殴打，导致车辆



失控。这则事件给我们的警示是

- ①热爱并珍惜自己和他人的生命
- ②关心自己的需求即可，无需考虑他人
- ③与他人交往中要控制情绪，学会宽容
- ④理性看待网络言论，规范自己的网络行为

- A. ①②③ B. ①②④ C. ①③④ D. ②③④

6. “排行我老大，国家之根本，子法由我生，效力我最高。”该谜语的谜底是

- A. 《中华人民共和国刑法》
- B. 《中华人民共和国宪法》
- C. 《中华人民共和国立法法》
- D. 《中华人民共和国民法总则》

7. 某班同学对社会生活中的事件进行讨论，下列判断正确的是

	事件	判断
①	高考落榜的张某冒名顶替王某进入某职业院校就读	张某侵犯了王某的姓名权和受教育权
②	青年李某报名参军后，因怕苦怕累，拒绝服兵役	李某没有履行依法服兵役的义务
③	某教师将自己的退休金捐给贫困山区的儿童	该教师在行使财产权
④	公安机关将犯罪嫌疑人的照片印在通缉令上	这种行为侵犯了公民的人格尊严权

- A. ①②③ B. ①②④ C. ①③④ D. ②③④

8. 2018年11月28日，中国“藏医药浴法”被正式列入联合国教科文组织人类非物质文化遗产代表作名录。该遗产项目将《四部医典》为代表的传统藏医理论与当代健康医疗实践相结合，促进了不同民族关于生命健康和尊重自然的对话与交流。这说明

- ①我们应该回归传统，固守传统
- ②中华优秀传统文化是世界上最优秀的文化
- ③中华优秀传统文化散发着独特魅力
- ④中华文化在世界上的影响力在不断增强

- A. ①② B. ①③ C. ②④ D. ③④

9. 国务院总理李克强2018年11月9日主持召开国务院常务会议，会议指出，要加大对民营企业、小微企业的支持力度，切实做到对国有企业、民营企业等各类所有制企业一视同仁。由此可见

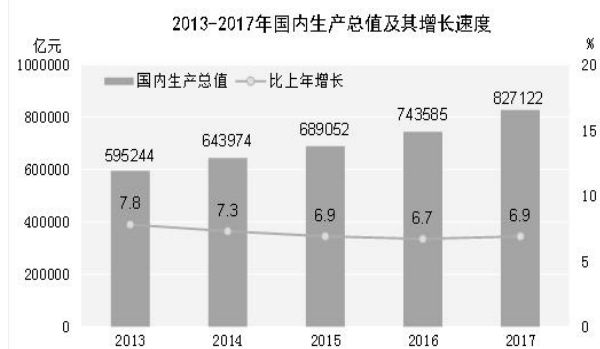
- ①各类所有制企业只需遵循市场规律即可，无需政府的调控
- ②公有制企业与非公有制企业都是国民经济的主导力量
- ③非公有制经济是社会主义市场经济的重要组成部分
- ④国家毫不动摇地鼓励、支持和引导非公有制经济的发展

- A. ①② B. ①③ C. ②④ D. ③④

10. 观察右图，你能解读出哪些信息

- ①我国经济总量在不断增长
- ②我国经济呈高速增长的态势
- ③我国经济增速整体呈下降趋势
- ④我国经济持续平稳快速发展

- A. ①②③





- B. ①②④
- C. ①③④
- D. ②③④

11. 今天，老百姓的生活可以用“住房宽敞心头亮，交通发达道路畅，轿车进家成时尚，通信便捷新式样，休闲娱乐促健康”来描述，与改革开放前相比发生了翻天覆地的变化。从这些变化中，你能看出

- ①人民生活水平和质量提高
 - ②居民收入提高，消费观念变化
 - ③人民的生活已达到全面小康水平
 - ④我国已经不再处于社会主义初级阶段
- A. ①② B. ①③ C. ②④ D. ③④

12. 在我国，公民参与政治生活的方式和渠道是多种多样的。下列图片属于公民参与民主决策的是

 <p>A. 公民参与公共交通价格调整听证会</p>	 <p>B. 中学生举行入团宣誓仪式</p>
 <p>C. 中学生参加时事辩论赛</p>	 <p>D. 中学生参加首都少年先锋岗活动</p>

13. 党的十九大报告指出，发展是解决我国一切问题的基础与关键，发展必须是科学发展，必须坚定不移贯彻_____的新发展理念。

- A. 创新、科学、共享、和谐、开放
- B. 创新、科学、绿色、和谐、共享
- C. 创新、协调、绿色、开放、共享
- D. 协调、科学、绿色、开放、和谐

14. 中国特色社会主义最本质的特征是

- A. 改革开放
- B. 依法治国
- C. 人民当家做主
- D. 中国共产党领导



15. 几十年来，我国人口政策经历了一个不断调整和完善的过程，如下表：

时间	政策调整完善
20 世纪 50 年代	“人多好办事”
20 世纪 70 年代	“一个不少，两个正好，三个多了”
20 世纪 80 年代	“鼓励只生育一个孩子”、“国家推行计划生育”写入宪法
2013 年	实施“单独二孩”政策
2016 年	实施“一对夫妇可生育两个孩子”政策

由上表可见：

- A. 社会发展过程中，人口老龄化问题始终存在
- B. 我国实行计划生育的目的是为了减少人口数量
- C. 随着计划生育政策的调整，人口素质有所提高
- D. 人口政策调整旨在优化人口结构，使人口发展与经济社会发展相适应

16. 为贯彻落实党中央关于实施更加积极、更加开放、更加有效的人才政策的决策部署，2018 年 1 月 1 日《外国人才签证制度实施办法》正式发布。这说明

- A. 中国已成为世界上对人才最有吸引力的国家
- B. 中国实施人才强国战略，吸引人才提升竞争力
- C. 人才强国战略的基础在于引进海外高端人才
- D. 有了人才就一定能实现中华民族的伟大复兴

17. 教育公平是社会公平的基石，是人生公平的起点。以下选项体现教育公平的是

- ①外来务工人员随迁子女就地参加入学考试
- ②不同地区在师资水平和硬件设施上都存在着一定差距
- ③政府增加对薄弱学校的教育投入，缩小学校间的差距
- ④我国对农村义务教育阶段贫困学生实施“两免一补”资助政策

- A. ①②③
- B. ①②④
- C. ①③④
- D. ②③④

18. 资源利用由“资源--产品--废物”的线性模式向“资源--产品--废物--再生资源”的循环模式转变，这种做法

- A. 比较可取，符合新发展理念
- B. 不够便捷，会制约经济发展
- C. 没有必要，因为资源是无限的
- D. 程序复杂，定会减少经济效益和社会效益

19. 右侧漫画体现了我国正在实行

- A. 乡村振兴战略
- B. 区域协调发展战略
- C. 科教兴国战略
- D. 军民融合发展战略



20. “工匠精神”是工匠对自己的产品精雕细琢、精益求精的精神理念。弘扬“工匠精神”符合社会主义核心价值观中公民个人层面的价值准则是（ ）

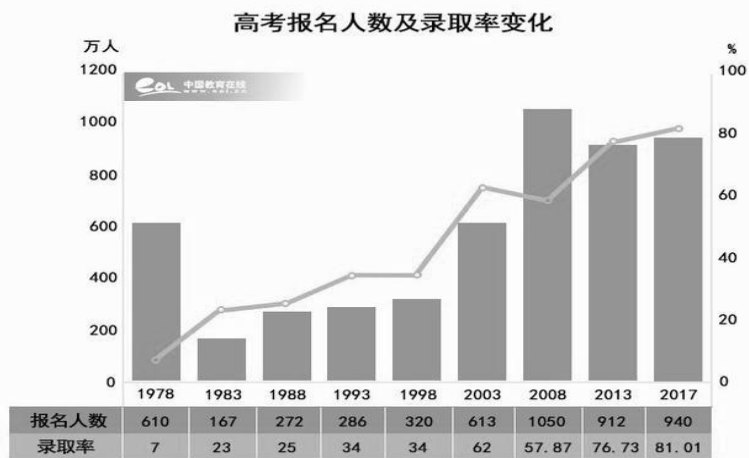
- A. 爱国
- B. 诚信
- C. 友善
- D. 敬业



第二部分 非选择题（共 50 分）

21.（6分）

材料一 1978年至2017年，高考录取率从7%上升到81.01%。中国高等教育规模迅速扩大，有需求、有愿望想要上大学的学生，只要努力学习，基本都可以满足“上大学”的愿望，由此改变自己的命运。与此同时，“中国天眼”、“量子科学”、“嫦娥飞天”等重大项目的背后都有中国高校的身影，都与高校创造的科研成果密不可分。



材料二 《义务教育法》第四条规定：凡具有中华人民共和国国籍的适龄儿童、少年，不分性别、民族、种族、家庭财产状况、宗教信仰等，依法享有平等接受义务教育的权利，并履行接受义务教育的义务。

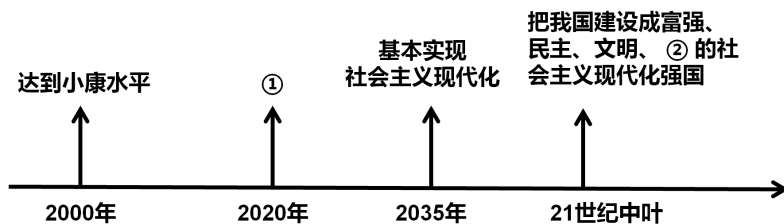
最近，初三学生小明经常旷课，他总说：“学不学是我自己的事，与别人无关！”请你结合材料，依据教育的相关知识，谈谈应该如何规劝小明。

22.（9分）

一分钟，119人穿过太和门游览故宫；一分钟，64人在颐和园泛舟漫步；一分钟，13人到“鸟巢”重温激情时刻；一分钟，北京电影节开票票房200万元；一分钟，新增城市绿地面积13.2平方米；一分钟，新开工保障性住房13.95万平方米；一分钟，北京1号线地铁可前进1250米；一分钟，中关村科技园区创收1009万元；一分钟，金融业实现营收479.45万元；一分钟，实际利用外资4.63万美元；一分钟，触摸千年风韵；一分钟，续写薪新约定；一分钟，品古风与今韵唱和；一分钟，观诗画与蓝图共展……这是微视频《北京一分钟》中的内容，该视频一经推出就受到广大网友的好评与热议，有网友说：“《北京一分钟》不仅展示出了大国首都的独特风姿，更彰显了我国在多个领域取得了巨大成就！”

（1）阅读上述材料，结合所学知识，分析我国取得重大成就的原因是什么。（5分）

（2）“一分钟，观诗画与蓝图共展”，请你根据所学知识，将蓝图缺失的内容补充完整。（4分）





① (2分) _____

② (2分) _____

23. (11分)

北京某校初三社会大课堂兴趣小组组织开展以“坚持国策战略，建设美丽宜居之都”为主题的宣传活动，他们拍摄的短片《北京的水资源》有以下几个镜头：

【镜头一】自2017年入冬以来，北京地区无持续有效降水。据北京南郊观象台记录，2017年10月23日至2018年2月28日，连续“无有效降水”已近130天，打破了南郊观象台的历史记录。

【镜头二】“海绵城市”指城市能够像海绵一样，在适应环境变化和应对自然灾害方面具有良好的“弹性”，下雨时吸水、蓄水、渗水、净水，需要时将蓄存的水“释放”并加以利用，提升城市生态系统功能和城市洪涝灾害的发生。

通州区和延庆区作为首都海绵城市先行示范区，致力于实现“小雨不积水，大雨不内涝、水体不黑臭，热岛有缓解”。到2020年，北京市建成区的20%面积实现70%雨水就地消纳。到2030年，城市建成区80%面积实现70%雨水就地消纳。



(1) 建设“海绵城市”体现了我国在实行什么国策和战略？(4分)

(2) 结合镜头一和镜头二，运用所学知识谈谈为什么要建设“海绵城市”。(5分)

(3) 为建设“美丽宜居之都”，大家纷纷积极主动行动起来，如果你再去补充拍摄一些镜头，你会拍摄什么？(2分)

24. (10分)

2018年，昌平区持续开展“疏解整治促提升”专项行动，其中十三陵镇针对镇里的乱堆乱放、私搭乱建、擅自摆摊经营、河道污染等问题进行整治与解决。以仙人洞村为例，他们改善村容村貌，提升村内景观，拆除了违章建筑，打通了村内消防通道，并在村内修建了停车场。

与此同时，昌平区政府就便民服务不够便利、缺少绿色休闲空间、文化活动场所不够充足、腾退空间如何更好规划等众多问题，向广大市民征求意见和建议，以便进一步落实“疏解整治促提升”工作，不断提升居民幸福感。

(1) 结合材料，依据所学，请你谈谈昌平区政府为什么要向广大市民征求意见和建议。(6分)

(2) 你心头的难题，政府关心；你心中的疑问，政府想听。作为新时代的小公民，请你提出一条惠民利民的建议，并说明你会通过哪种途径向政府反映这一建议？(4分)



微信扫一扫，快速关注

25. (14分)

某校初三年级以“创新中国，你我同行”为主题开展探究活动。请你参与。

【时事分享】小强在“关注创新中国”的环节，为大家分享了一则新闻：

2018年10月24日，全长55公里的港珠澳大桥正式通车，它被英国《卫报》誉为“新世界七大奇迹”之一，还有人称它是交通工程界的“珠穆朗玛峰”。

港珠澳大桥建设难度极大，新材料、新工艺、新设备、新技术层出不穷，仅专利就达400项之多。它的科技创新体现在四个方面：深埋沉管隧道设计施工技术、外海人工岛设计施工技术、海上装配化桥梁建设技术、全生命周期的耐久性设计施工技术。

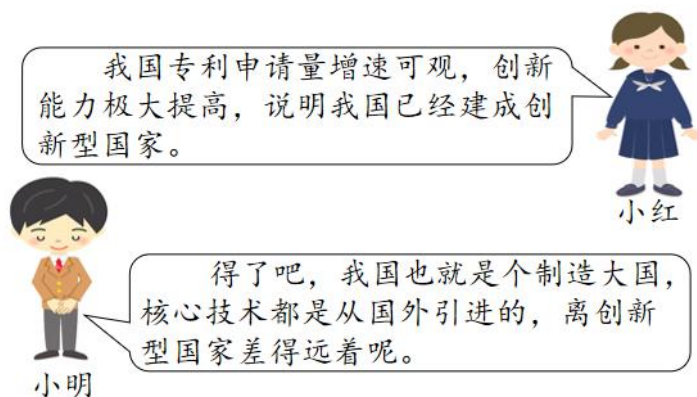
港珠澳大桥将从香港到珠海的公路交通从三、四小时缩短到几十分钟，使粤港澳三地之间的往来更加方便。

(1) 根据上述材料，同学们对港珠澳大桥建成通车的意义展开了热烈地讨论，如果你也参与讨论，请发表你的看法。(4分)

【观点评析】

2018年《政府工作报告》指出：“五年来，我国创新驱动发展成果丰硕。全社会研发投入年均增长11%，规模居世界第二位。科技进步贡献率由52.2%提高到57.5%。载人航天、深海探测、量子通信、大飞机等重大创新成果不断涌现。”

课堂上，同学们围绕我国的创新现状发表了各自不同的观点。



(2) 请你任选一人观点，进行评析。(6分)

【创新有我】创新是一个民族进步的灵魂，是一个国家兴旺发达的不竭动力。建设创新型国家离不开我们每个人的努力。

(3) 为建设创新型国家，作为中学生的我们应该做些什么？(4分)