



历史试卷

2019.5

学校 _____ 班级 _____ 姓名 _____ 教育 ID 号 _____

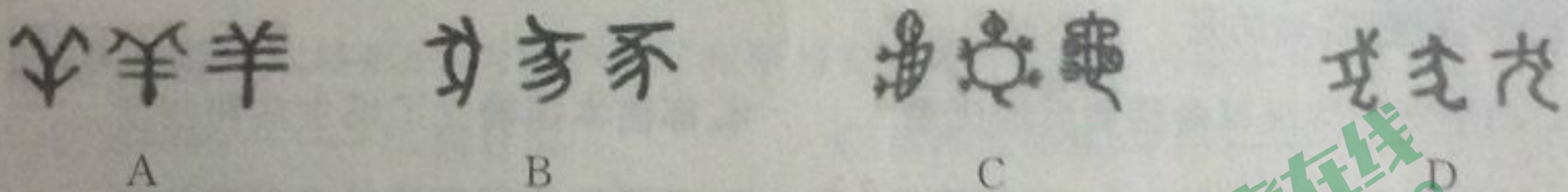
考生须知	1. 本试卷共 12 页,34 道小题,满分 90 分,考试时间为 90 分钟。 2. 在试卷和答题卡上准确填写学校、班级、姓名和教育 ID 号。 3. 试题答案一律填涂或书写在答题卡上,在试卷上作答无效。 4. 在答题卡上,选择题、作图题用 2B 铅笔作答,其他试题用黑色字迹签字笔作答。 5. 考试结束,将本试卷、答题卡一并交回。
------	---

一、选择题(共 30 小题,每小题 1.5 分,共 45 分。在下列各题的四个选项中,只有一项符合题意)

1. 对于久远的历史,考古发现为我们的研究提供了可靠的依据。考古工作者从北京人遗址发掘了大量人工打制的石器和烧骨、灰烬,最厚的灰烬达 6 米之多。据此你能得出的结论是,北京人

- ①会制造、使用工具 ✓ ②能控制并长时间使用火 ✓ ③能饲养牲畜 ④会制作陶器
- A. ①② B. ③④ C. ①③ D. ②④

2. 2019 年是中国农历的乙亥年(猪年),根据下列文字的字形演变,判断“猪”字是



3. 《史记·秦始皇本纪》中记载:“一法度衡石丈尺,车同轨,书同文。”材料中包含秦巩固统一的措施为

- ①统一度量衡 ②统一服饰 ③统一车轨 ④统一文字
- A. ①②③ B. ①②④ C. ①③④ D. ②③④

4. 汉初,诸侯王势力日益膨胀,直到汉武帝时这个问题才得以解决,这主要是当时实施了

- A. 分封制 B. 郡县制 C. “削藩” D. “推恩令”

5. 下图“五禽戏”是我国国家级非物质文化遗产中的瑰宝,它以其丰富的内涵、多样的形式,成为我国民间流传时间最长、范围最广的健身方法之一。它的创制者是



“五禽戏”中的动作(想象画)

- A. 扁鹊 B. 张仲景 C. 华佗 D. 李时珍

6. 中国北方黄河流域是农业文明发源最早的地域之一。一位同学想了解魏晋南北朝时期这一地区农、林、牧、渔业以及食品加工等多方面的技术和经验,他可以阅读

- A. 《齐民要术》 B. 《梦溪笔谈》 C. 《天工开物》 D. 《农政全书》

7. 史书记载:“秦始皇平六国,隋炀帝富有四海,既骄且逸,一朝而败,吾亦何得自骄也?言念于此,不觉惕焉震惧。”为此“吾”在政治、经济等方面推行一系列措施,最终出现

- A. 文景之治 B. 光武中兴 C. 贞观之治 D. 康乾盛世

8. 下列关于宋朝重文轻武表述正确的是

- ①中央机构的要职由文人出任 ✓ ②派文人担任地方的知州 ✓
③武将只有调动军队的权力 ✓ ④扩大科举考试录取的名额 ✓
- A. ①②③ B. ①②④ C. ①③④ D. ②③④

9. 瓷器是中国古代劳动人民一个重要的创造。一位同学在博物馆看到了一组不同时期的瓷器展品(下图),他对其中两宋时期的一件瓷器产生了浓厚兴趣。对这件瓷器描述恰当的是



青瓷双流鸡首壶



青瓷双螭耳尊



白瓷长颈瓶



哥窑鱼耳瓷炉

A. 鸡首造型精美生动

B. 邢窑白瓷“类雪似银”

C. 越窑青瓷“如冰如玉”

D. 哥窑瓷炉布满冰裂纹

10. 黑板上老师写出:举世闻名、连绵不断、雄伟壮观、气势磅礴、固若金汤。根据这些词语判断学习的内容为

- A. 大运河沟通了南北交通
C. 卢沟桥见证了抗日烽火

- B. 明长城是世界建筑的杰作
D. 国子监是中国古代最高学府

11. 连环画是一种古老的中国传统艺术,也是我们了解历史的读物之一。以下连环画所反映的史实,按时序排列正确的是



①揭竿起义



②黄袍加身



③黄巾起义



④闯王李自成

A. ①②③④

B. ②①③④

C. ①③②④

D. ②①④③

12. 下图《同光十三绝》绘画描绘的是清朝同治、光绪年间的13位戏曲名家。作为史料,该图片可以帮助我们研究

- A. 京剧
B. 越剧
C. 粤剧
D. 黄梅戏



13. 在某博物馆《中国近代历史陈列》展中,其中一块展板的内容包括金田起义、建都天京、

《天朝田亩制度》、抗击侵略、保卫天京等,通过这块展板你可以了解

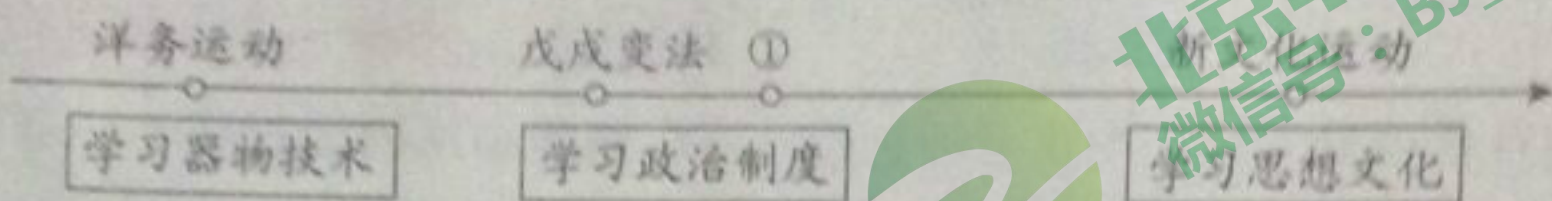
- A. 鸦片战争
- B. 太平天国运动
- C. 洋务运动
- D. 义和团运动

14. 李克强总理在 2019 年政府工作报告中指出“长三角区域一体化发展上升为国家战略”。

历史上,长三角地区也曾是民族工业发展的重要地区。19 世纪末建于这一地区的民族工业大生纱厂的创办者是

- A. 李鸿章
- B. 曾国藩
- C. 左宗棠
- D. 张謇

15. 某同学在梳理《中国近代化探索的历程》时,制作了如下示意图,其中①处应填



- A. 虎门销烟
- B. 戊戌政变
- C. 义和团运动
- D. 辛亥革命

16. 在雄安一带的白洋淀上,活跃着一支抗日武装,他们利用有利地形,端岗楼,截击敌人军火船,切断敌人水上交通线,有力地配合主力部队打击敌人。他们的行动丰富了中国共产党抗战时期

理论的实践。横线上应该填

- A. 游击战争
- B. 现代战争
- C. 速决战
- D. 持久战

17. 下列一组木刻版画是版画家邹雅先生的作品,其内容反映的时期为



《参军》



《欢迎南下刘邓大军》



《烧旧约换新契》

- A. 国共合作
- B. 抗日战争
- C. 解放战争
- D. 建国初期

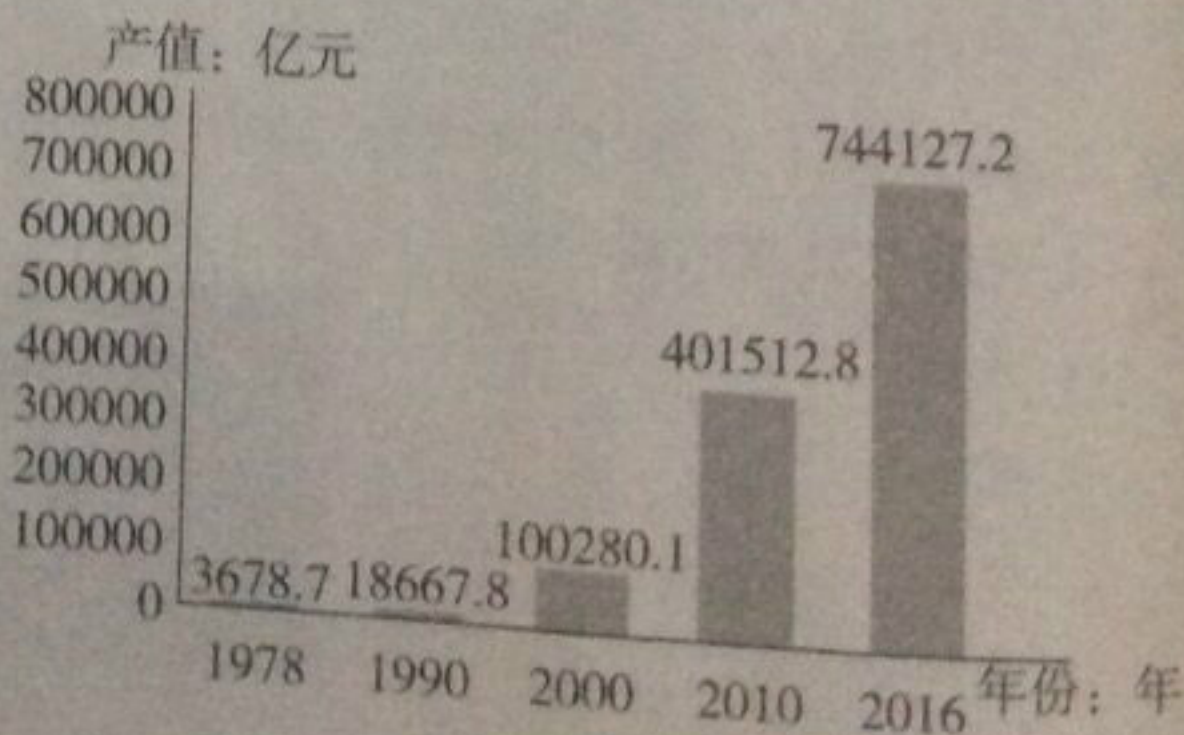
18. 在参观《复兴之路》展览时,同学们发现了这样两张历史资料:《1954 年老舍当选为北京市人民代表大会代表的代表证》《1991 年 11 月全国政协对政协委员刘崇智提出的关于深入开展反腐败斗争的提案的表彰证书》。这两份资料反映的共同主题为

- A. 民主政治
- B. 艰苦奋斗
- C. 反腐倡廉
- D. 重视教育

19. 从右图数据可以看出 1978—2016 年中国

国内生产总值持续高速增长,这主要得益于

- A. 三大改造的完成
- B. “文化大革命”结束
- C. 改革开放政策的实施
- D. 香港、澳门的回归



20. 邓小平理论、“三个代表”重要思想、科学发展观以及习近平新时代中国特色社会主义思想等中国特色社会主义理论体系的形成,是在

- A. 国民经济恢复时期
- B. 社会主义过渡时期
- C. 社会主义建设探索时期
- D. 改革开放新时期

21. 下图反映的历史事件



- A. 沟通了古代中国与欧洲等国的联系
- B. 成为沟通东西方的“金桥”
- C. 扩大中国与亚非地区经济、文化交流
- D. 开始把世界联成一个整体

22. 对文献的研究可以帮助我们了解真实的历史。下列关于《权利法案》《独立宣言》《人权宣言》的表述,准确的是

- A. 都是资产阶级革命胜利后的成果
- B. 都使本国确立了民主共和制度
- C. 都体现了资产阶级自由、平等思想
- D. 都帮助本国摆脱外来殖民统治

23. 下表为 1923 年编制的《新学制历史教科书》上册第二编插图目录,从目录反映出编者

目录		数量
第二编	《古人类图》《头盖骨轮廓比量》《猿骨架的比较》《德国最古人类的下颌骨》《人种系统图》《现今非洲的黑人》……	10

- A. 受达尔文进化论影响
- B. 相信上帝创造人类
- C. 受“生物不变论”影响
- D. 相信女娲造人

24. 萨拉热窝一市民在接受记者采访时说“萨拉热窝和拉丁桥(下图)总是与战争联系在一起,这令人遗憾。希望这里今后能传达出更多和平信息”。这里的“战争”指

- A. 拉丁美洲独立战争
- B. 第一次世界大战
- C. 第二次世界大战
- D. 海湾战争



25. 1919年, 几名德国人正在柏林郊外拆除坦克(图中坦克实际上是缴获英国的, 在战争中为德国所用)。德国人之所以这样做, 是因为

- A. 第一次世界大战结束
- B. 《凡尔赛条约》的要求
- C. 《九国公约》的规定
- D. 国际联盟的决定



26. 某电视系列片中有这样一段镜头: 1921年8月, 一位名字叫阿曼德·哈默的美国青年来到了莫斯科; 10月, 在列宁的支持下, 苏俄第一份给外国人的特许权合同正式签署, 哈默获得了一所石棉矿的特许经营权, 开始了他真正的商人生涯。美国青年哈默能够在苏俄投资经商得益于

- A. 十月革命
- B. 战时共产主义政策
- C. 新经济政策
- D. 农业集体化运动

27. 下图是 1933年3月美国《底特律新闻》刊登的漫画《飞奔的蜗牛》, 漫画上这位精力充沛、全力驱使国会行动起来美国总统是

- A. 林肯
- B. 胡佛
- C. 罗斯福
- D. 里根



28. 第二次世界大战结束后, 为维护国际和平与安全而建立的国际组织是

- A. 国际联盟
- B. 联合国
- C. 世界贸易组织
- D. 亚太经合组织

29. 从二战结束到 20 世纪 80 年代末, 美苏两个超级大国之间的冷战贯穿了整个时代。美苏冷战开始的标志是

- A. 杜鲁门主义的提出
- B. 马歇尔计划的实施
- C. 北大西洋公约组织的成立
- D. 华沙条约组织的成立

30. 2017 年美国《生物科学》杂志发表了《世界科学家对人类的警告: 第二次通知》一文。文章称, 25 年来, 全球人均可用淡水量减少了 26%, 哺乳动物、爬行动物、两栖动物、鸟类和鱼类的数量减少了 29%, 林地损失近 3 亿英亩, 海洋死亡区的数量增加 75%……这表明人类在发展中面临着

- A. 贫富分化问题
- B. 毒品泛滥问题
- C. 恐怖主义问题
- D. 环境恶化问题

二、材料解析题(共 4 小题, 31 题 11 分, 32 题 11 分, 33 题 11 分, 34 题 12 分, 共 45 分)

31. (11 分)蹴鞠是中华文明史中一个灵动的文化元素, 因与世界第一运动——足球的渊源, 今天又被赋予了新的文化内涵。

材料一 蹴鞠的发展

“蹴鞠”就是用脚踢球的意思。蹴鞠最早的说法叫“蹋(tà)鞠”, 起源于春秋战国时期的齐国故都临淄。其时, 临淄百姓生活富足, 其民“无不吹竽、鼓瑟、弹琴、……、蹋鞠”。

“蹴鞠”的叫法，最早出现在《史记·扁鹊仓公列传》。汉代将蹴鞠作为“治国习武”之道，不仅在宫廷贵族中普遍流行，而且在军队中广泛用于军事训练。①随着经济发展，社会繁荣开放，唐宋时期蹴鞠获得极大的发展。②唐代，鞠的外形渐显现代足球雏形；宋代，统治者中就有不少蹴鞠迷，宫廷还专门设立蹴鞠礼仪队伍，民间出现了全国具有行会性质的专门蹴鞠组织——“齐云社”，蹴鞠运动走向繁荣。……时至晚清，中国内忧外患，蹴鞠全面走向了沉寂。



图1 汉唐以来先后出现了四片、六片、八片和十二片鞠

图2 宋太祖蹴鞠图

(1) 依据材料一，对以下表述做出判断：直接从材料得出的，在括号内划“√”；违背材料所表达意思的，在括号内划“×”；材料没有涉及的，在括号内划“○”。(4分)

- ①春秋战国时期，蹴鞠就已在齐都临淄出现。 ()
- ②蹴鞠在汉朝只是用于军事训练。 ()
- ③经济发展，社会繁荣开放推动蹴鞠在唐宋时期走向繁荣。 ()
- ④明清时期，出现了“冰上蹴鞠”的运动形式。 ()

材料二 蹴鞠的外传

蹴鞠外传的西线路线主要通过陆上丝绸之路，经过西域，传播到中亚、中欧各国，汉代的班超曾作出了巨大贡献。《马可·波罗行纪》曾描述：“中人蹴鞠于西地，蹴之以为乐。”蹴鞠在唐宋时期向东传播到高丽和日本。特别是唐代，日本的遣唐使来到大唐，中国的僧人东渡日本，频繁的文化交流为蹴鞠传播创造了有利条件。蹴鞠向南线的传播

主要通过海上丝绸之路传播到东南亚一带。特别是在明初规模庞大的对外交流过程中，蹴鞠文化进一步流行东南亚。

(2) 依据材料二，结合所学，完成表格内容。(3分)

历史阶段	蹴鞠外传的主要途径	相关史实
汉唐	陆上丝绸之路、 ① _____	班超派甘英出使大秦、遣唐使、 与②相关的史实是 _____
宋		高丽和北宋往来密切
元		马可·波罗来华
明初		与③相关的史实是 _____

材料三 现代足球的传入

现代足球的诞生地是英国。鸦片战争后，现代足球传入香港、上海、广州等地，然后传播至内地。最初体育赛事主办权多由洋人垄断，直至20世纪二三十年代才有华人球队参加。19世纪末20世纪初，上海和北京的一些教会学校及其它新式学堂开始举行现代足球活动，之后现代足球逐渐在中国大地开展了起来。1910年，成立全国性的体育团体——中华全国体育协进会，是中国人自主创办足球等体育赛事的开始。

(3) 依据材料三，结合所学，概括现代足球传入中国的背景。(2分)

材料四 蹴鞠的今天

2006年，蹴鞠被国务院正式公布为国家非物质文化遗产。2015年，出访英国期间，习近平主席将临淄的四片仿古鞠作为国礼赠送给英格兰国家足球博物馆。

(4) 请你为蹴鞠这一国家非物质文化遗产的推广提一条建议。(2分)



32. (11分) 货币见证历史

材料一



图1 战国时期各诸侯国货币



图2 秦半两钱



图3 宋朝发行的纸币拓片

(1) 观察材料一古钱币图片，选取一个角度，如形状、材质等，谈谈中国古代钱币的变化及其原因。(3分)

(2) 一个国家的货币就是一张世界名片。上了“名片”的人物大都不是一般的人物。观察下列货币上的人物，从 A、C 中任意选取一个，参照示例，完成任务。(3 分)

序号	国家	货币	人物入选货币的理由
A	美国 10 美元 图案为华盛顿		
B	英国 5 英镑 图案是丘吉尔		丘吉尔曾是英国首相，领导英国在第二次世界大战中顽强抵抗，最终赢得战争胜利。
C	印度 5 卢比 图案是甘地		


材料二 下表为中国人民银行 20 世纪 50 年代发行的第二套人民币

正面图案	货币	正面图案	货币
A 飞机		B 延安宝塔山	
C 汽车		D 井冈山龙源口石桥	
E 各民族大团结		F 工农像	

(3) 请从表格 A—D 中任意选取 2 枚纸币，参照示例，说说它们(主景图案内容)反映的共同主题。(2 分)

示例：E、F：人民大团结。

材料三 欧元的诞生承担着增进欧盟成员国之间交流与合作、刺激规模经济、强化欧洲政治经济稳定性的巨大任务，它理论上可以增进欧洲政治一体化，让这片历史上充满战乱的大陆紧密结合起来。



(注:欧元图案主要组成部分是盟旗和代表欧洲各时期建筑风格的门、窗、桥梁)

(4)请结合欧元纸币图案设计,对材料三中的观点加以说明。(3分)

33. (11分)青年,责任与担当

【爱国与责任——纪念五四运动100周年】

材料 现在日本在万国和会上要求并吞青岛,管理山东的一切权利,就要成功了!他们的外交大胜利了!我们的外交大失败了!……务望全国工商各界,一律起来设法开国民大会,外争主权,内除国贼。中国存亡,就在此一举了!今与全国同胞立两个信条道:

中国的土地可以征服而不可以断送!中国的人民可以杀戮而不可以低头!
国亡了!同胞起来呀!

——《北京学界全体宣言》

(1)依据材料,推断该宣言发表的背景?(2分)

(2)五四运动是一次彻底地反对帝国主义和封建主义的爱国运动,请你用材料中的一句话证明此观点。(1分)

【理想与信念——抗战家书：袁国平致侄书摘录】

振鹏贤侄如见：

……你应告诉家里，中国抗战前途很好，最后定可战胜日本，只不过要经过一个长期的艰苦奋斗。因目前敌之主要进攻方向是西北和西南，故长沙危而复安，宝庆更无问题。

……前方并不危险，请祖母大人放心，因为日本鬼子并不那样可怕，只要会打仗，敌人的飞机大炮都是有办法对付的，一年多我们在大江南北，共打了贰佰廿多次的仗，都是胜利的，有了这一年打鬼子的经验，我们以后更有自信了。

此刻我身无分文，无法帮助家里，因为我们都是以殉道者的精神为革命，为国家民族服务的。请家里不要想将来的生活怎么办，因为中国正在大的变动之中，中国抗战成功，不愁无饭吃；抗战不幸失败，则大家都当亡国奴。

工作太忙了，不然我也想回家看一看，还是抗战成功再与你们欢聚吧！

此祝

努力学习！

醉涵字

一九三八年十二月

【注：该家书作者袁国平，时任新四军政治部主任，1941年牺牲时年仅35岁。】

(3) 1938年是中国抗战比较艰难的时期，作者在家书中对抗战表达了一种怎样的决心？体现了什么精神？(3分)

【奉献与担当——归国科学家】

1999年国家授予为研制“两弹一星”作出突出贡献的23位科学家“两弹一星”功勋奖章(部分科学家资料)

姓名	国外学习、工作经历	回国时间(年龄)	回国后的研究成果
邓稼先	1950年获美国普渡大学物理学博士学位	1950年(26岁)	领导许多学者和技术人员，成功设计了中国原子弹和氢弹等
程开甲	1948年英国爱丁堡大学获博士学位后任英国皇家化学工业研究所研究员	1950年(32岁)	我国核武器事业的开拓者之一，中国核试验科学技术体系的创建者之一等
朱光亚	1946年赴美国密执安大学从事实验核物理研究工作，获物理学博士学位	1950年(26岁)	负责并组织领导中国原子弹、氢弹的研究、设计、制造与试验工作等

(4) 阅读表格材料，说说这些科学家有哪些共同点？(2分)

(5) 依据材料并结合所学，说出这些科学家所取得的科技成就对我国发展的意义。(2分)

【创新与使命——青年的责任】

习近平总书记在中国政法大学考察时讲到：中国的未来属于青年，中华民族的未来也属于青年。青年一代的理想信念、精神状态、综合素质，是一个国家发展活力的重要体现，也是一个国家核心竞争力的重要因素。

(6)综合以上所有材料，请你谈谈，作为新时代的青年人能为中华民族的伟大复兴作出哪些努力？(1分)

34. (12分)历史上出现过很多“地标性建筑”，每一座建筑都是一段历史，一份记忆，一种情怀……某校借助图书馆资源，开展“找寻地标性建筑”的实践探究活动，请你也参与到活动中来吧。

【第一组：故宫寻据】



资料整理：


材料一 故宫是中国明清两代的皇宫，是世界上现存规模最大最完整的古代木结构建筑群。

1987年，北京故宫被联合国教科文组织列入世界文化遗产名录。评委会评价：“紫禁城是中国五个多世纪以来的最高权力中心，它以园林景观和容纳了家具及工艺品的9000个房间的庞大建筑群，成为明清时代中国文明无价的历史见证。”

(1)依据材料一，结合你对故宫的了解，请为评委会的评价找出1—2个证据。(2分)

【第二组：卢浮宫探秘】

始建于1204年的巴黎卢浮宫是法国最大的王宫建筑之一，现为卢浮宫博物馆。该宫以收藏丰富的古典绘画和雕刻而闻名于世。



资料整理：

材料二 卢浮宫馆藏文物名录(部分)

名称	年代	作者
《蒙娜丽莎》	1503—1506年	达·芬奇
《花园中的圣母》	1507—1508年	拉斐尔
《垂死的奴隶》	1513—1515年	米开朗琪罗

(2)作为地标性博物馆建筑，卢浮宫收藏了不同历史时期的艺术作品。材料二中列出的藏品反映了哪个历史时期的艺术创作水平？这一时期的出现对当时社会发展有着怎样的意义？(3分)

【第三组：水晶宫探因】



资料整理：

材料三 建于英国伦敦的水晶宫是一个以钢铁为骨架、玻璃为主要建材的建筑，是第一届万国工业博览会中最成功的作品和展品。1851年第一届万国工业博览会展出了英国自18世纪中期以来的经济成就和先进的工业品，在众多来自世界各地的展览品中影响世界变革的包括高效的农业机械、印刷机械、自动链式精纺机、大功率蒸汽机、轨道蒸汽牵引机、高速汽轮船、气压机、起重机、机床以及先进的炼钢法、隧道和桥梁模型等。

(3) 结合所学说说水晶宫建成及万国工业博览会举办的背景？材料三所列展品体现了哪些时代特征？(2分)

【第四组：克里姆林宫寻迹】



资料整理：

材料四 位于莫斯科的克里姆林宫是一组建筑群，从13世纪起，它就与俄罗斯的所有重大政治事件有关，见证了俄罗斯从一个莫斯科公国发展至今的全部历史。

①17世纪末，曾被驱赶出克里姆林宫的彼得一世以胜利者的姿态重新回来，成为统治者后的彼得一世进行了一系列改革。

②1917年十月革命后，它成为前苏联政府的所在地。

③第二次世界大战期间，斯大林曾在此检阅了数十万直接开赴前线的红军队伍。

(4) 将下列结论与材料四中的史实进行正确搭配。(填序号即可，3分)

A: 创建人类历史上第一个社会主义国家。

B: 凝聚民心、激励士气，最终取得胜利。

C: 开启俄国现代化进程。

(5) 结合对这些地标性建筑的认识，请你为以上任意一个地标性建筑设计一个 logo，并对设计图案进行简要说明。设计要求：形式不限，说明与主题相对应。(2分)