



2023 北京十二中初一（上）期中

历史

2023. 11

（满分 80 分，时间 70 分钟）

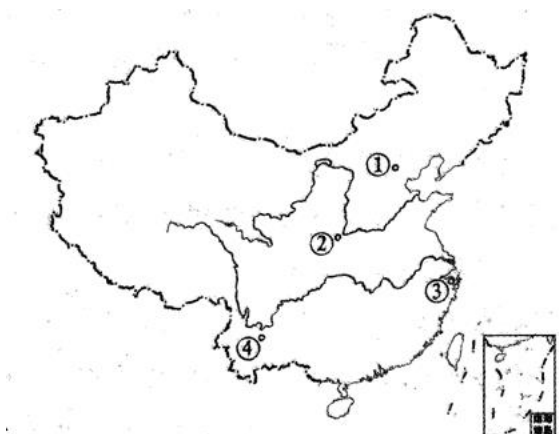
第一部分

本部分共 20 小题，每小题 2 分，共 40 分。在每小题列出的四个选项中，选出最符合题目要求的一项。

1. “1929 年，我国青年考古工作者裴文中在周口店的山洞里，发掘出一个完整的远古人类头盖骨化石。他兴奋地断定，这是远古人类的遗骨。”材料中的“远古人类”是（ ）

- A. 元谋人
- B. 北京人
- C. 半坡原始居民
- D. 河姆渡原始居民

2. 小李是一名导游，有一个旅游团要参观我国元谋人遗址，应该带他们去下图中（ ）



- A. ①
- B. ②
- C. ③
- D. ④

3. 下侧图 1 建筑应位于图 2 中的位置是（ ）



图1 原始居民建筑复原图



图2 原始农耕时代遗址分布图(局部)

- A. ①
- B. ②
- C. ③
- D. ④

4. 传说炎帝教人们制作陶器等。考古学家在西安半坡、河南仰韶等遗址发现大量彩陶，如尖底瓶、陶罐等。这些发现说明了（ ）

- A. 陶器是炎帝发明的
- B. 传说是完全不可信的
- C. 传说就是历史事实
- D. 传说中蕴藏着一些可靠的历史信息

5. 袁隆平培育杂交水稻，贡献巨大，被人们称为“当代神农”。那么，假如一人被称作“当代大禹”，此人的身份应该是（ ）



- A. 水利专家 B. 农业专家 C. 医学专家 D. 造车专家

6. 《中国国宝大会第二季》中介绍一件国宝：“它是迄今世界上出土的最重的青铜器，除了巨大的形制，还通过其精巧的工艺，呈现出雄伟庄严之感”。这件国宝是（ ）

- A. 三星堆青铜面具 B. 四羊方尊
C. 司母戊鼎 D. 利簋

7. 下列选项中，史实与结论不相符的是（ ）

| | 史实 | 结论 |
|---|------|-------------------|
| A | 禅让制 | 保证权力世袭 |
| B | 甲骨文 | 中国已发现最早、体系较为完整的文字 |
| C | 诸侯争霸 | 促进民族交融 |
| D | 都江堰 | 至今造福社会 |

- A. A B. B C. C D. D

8. 妇好是商王的王后，一年夏天，北方边境发生战争，妇好自告奋勇，要求率兵前往，商王犹豫不决，占卜后才决定派妇好带兵，结果大胜。这个故事很可能记载在（ ）

- A. 龟甲或兽骨上 B. 丝帛或麻布上 C. 竹简或木牍上 D. 树皮或宣纸上

9. 下面表格所述内容反映的学习主题应是（ ）

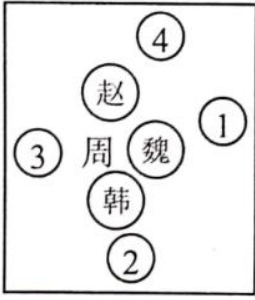
| 观点 | 史实 |
|--------|-----------------|
| 政局动荡不安 | 诸侯国之间兼并战争不断 |
| 农业继续发展 | 铁制工具和牛耕的使用进一步推广 |
| 变法卓有成效 | 商鞅变法推行奖励耕战等措施 |

- A. 中国境内文明的起源 B. 战国时期的社会变化 C. 政权分立与民族交融 D. 繁荣与开放的时代

10. 楚王问鼎、卧薪尝胆、合纵连横、远交近攻、围魏救赵，这些成语和典故反映了我国春秋战国时期（ ）

- A. 和平稳定 B. 战争频繁 C. 经济发展 D. 文化繁荣

11. 下图是学习战国七雄时，小明同学制作的七国位置示意图，其中秦国的位置是（ ）



- A. ① B. ② C. ③ D. ④

12. 史料是认识历史的主要依据。以下关于春秋时期的资料中，属于可信史料的是（ ）

- ①《史记·周本纪》 ②出土文物“春秋护头胄”
③小说《春秋霸图》 ④影视作品《春秋风云录》

- A. ①② B. ②③ C. ③④ D. ②④

13. 周礼规定，天子殉葬用九鼎，诸侯用七鼎。但在太原金胜村 251 号春秋晋墓，墓主上大夫赵卿的随葬品也使用了七鼎，另外还有编钟、编磬等礼器。这说明我国春秋时期（ ）

- A. 王室衰微礼崩乐坏 B. 商品贸易逐渐活跃
C. 晋国成为中原霸主 D. 兼并战争连绵不断

14. 下列关于春秋时期诸侯争霸战争的评价正确的有（ ）

- ①争霸战争给社会带来种种灾难
②在争霸过程中，有些诸侯国被消灭，出现了一些疆域较大的国家，有利于国家走向统一
③在争霸过程中，许多国家都以改革加强了自身的力量
④华夏族和其他各族频繁接触，促进了民族融合。

- A. ①②③④ B. ②③④ C. ①③④ D. ①②④

15. 一位同学在分析“百家争鸣”影响时制作了下表。表中内容反映出“百家争鸣”（ ）

| 百家争鸣 | | 社会主义核心价值观 |
|------|----------------|---|
| 儒家 | 仁、义、礼、智、信；民为邦本 | 富强、民主、文明、和谐， 自由、平等、公正、法治， 爱国、敬业、诚信、友善 |
| 墨家 | “兼爱”，爱无差别等级 | |
| 法家 | “尚法”，依法治国 | |

- A. 推动了战国时期经济的繁荣 B. 不利于后世儒家思想发展
C. 对后世的思想文化影响深远 D. 脱离现实，禁锢人们的思想

16. “我无为而民自化，我好静而民自正，我无事而民自高，我无欲而民自朴”。主张“无为而治”思想的是

- A. 老子 B. 孔子 C. 墨子 D. 韩非

17. 下侧《秦朝驰道示意图》可用于研究秦朝（ ）



- A. 修建长城的原因
- B. 丝绸之路的开通
- C. 统一六国的过程
- D. 巩固统一的措施

18. 有学者认为，自秦始皇以后，中国人明白了自己的国家应该是什么样子，虽有曲折，历史大势终归是要回到统一国家的正轨上来。他意在说明（ ）

- A. 秦统一的背景
- B. 商鞅变法的背景
- C. 秦灭六国的过程
- D. 秦朝统一的意义

19. 在中国象棋的棋盘中间，有一段空隙，上面写有“楚河”“汉界”字样，这是象征历史上的“楚汉之争”。这场战争的对阵双方是（ ）

- A. 商纣和周武王
- B. 夏桀和商汤
- C. 秦二世和陈胜
- D. 项羽和刘邦

20. 下图为某学生社团排演的历史剧《揭竿而起》的海报插图，图中人物背景中的旗帜上写有“张楚”二字，该剧反映的历史事件是（ ）



- A. 炎黄大战蚩尤
- B. 秦灭六国
- C. 陈胜、吴广起义
- D. 楚汉之争

第二部分

本部分共 3 题，共 40 分。

21. 七年级某班开展了课外学史活动。

方式一：歌谣学史

夏建国属第一，中华从此奴隶制。王位传给儿子 A_____（人名），从此家天下变公天下。夏桀本是亡国君，商 B_____（人名）灭夏建商朝。商纣暴虐施炮烙，引来 C_____（帝王之号）正义师。商周决战在 D_____（地名），纣死商亡西周立。

（1）请在空格处填写相应的内容，将歌谣补充完整。



方式二：图片学史



图一



图二

(2) 上面两幅图片是我国进入原始农耕时期的两大遗址的代表性房屋，请指出它们分别属于哪一遗址。你认为造成上述房屋结构不同的原因是什么？

方法三：专著学史

我们如果不自满于神话与传说，那只有求助于考古学之地下发掘的证据，现在虽因材料缺乏、考订困难，还没有明确论断，可与古代的记载互证……我们今后研究古史……而只有从事于考古学而努力于地下发掘之一条大道。

——摘自周予同《开明本国史教本》

(3) 依据材料，指出作者认为应以什么证据去填补神话与传说的空白。

方法四：博物馆学史

某班同学曾利用假期时间去过下列博物馆打卡。

- ①北京周口店遗址博物馆 ②河南洛阳二里头博物馆 ③山东曲阜孔子博物馆
- ④河南安阳殷墟博物馆 ⑤云南元谋人博物馆 ⑥山东省邹城市博物馆孟子馆

(4) 该同学想用三个主题将上述六个博物馆的游记分类整理，请你帮他在每一主题的后面填出合适的博物馆序号。(写序号)

中国的远古人类遗存：_____、_____。夏商西周的文明：_____、_____。

春秋战国的灿烂文化：_____、_____。

22. 中国古代曾创造出许多制度，制度的创新也影响着社会的发展。

材料一 封建亲戚，以藩屏周。

(1) 依据材料一，说说西周时期开始实行什么制度？

材料二 西周分封示意图





(2) 依据材料二，说明西周实行分封制诸侯的对象有哪类人？

材料三“周文武所封子弟同姓甚众，然后属疏远，相攻击如仇讎 chóu (仇怨，仇敌)，诸侯更相诛伐，周天子弗能禁止”。

——《史记》

(3) 依据材料三及所学知识，“周天子弗能禁止”的主要原因是什么？

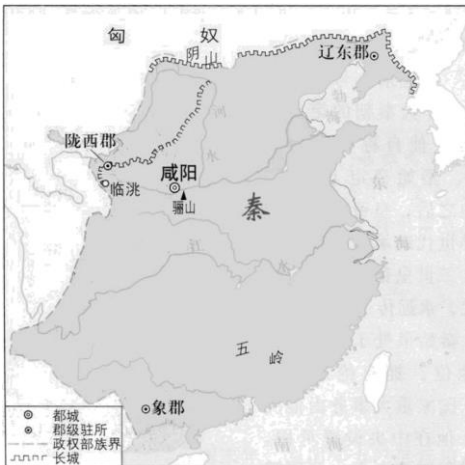
材料四商鞅变法中，“僇力本业耕织致粟帛多者，复其身；事末利及怠而贫者，举以为收孥”。(意思是尽力从事男耕女织的生产事业，生产粮食布帛多的，免除其本身的徭役；凡从事工商业和因不事生产而贫困破产的人，连同妻子、儿女没入官府为奴隶)。规定斩敌甲士首级一颗赏爵一级，田一顷，宅九亩，服劳役的“庶子”一人。爵位越高，相应的政治、经济特权越大。

材料五(新法)行之十年，秦民大悦，道不拾遗，山无盗贼，家给人足。民勇于公战，怯于私斗，乡邑大治……居五年，秦人富强。

(4) 依据材料四，概括商鞅变法的措施？依据材料四、五并结合所学，归纳商鞅变法的影响。

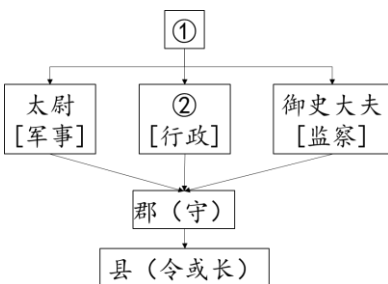
23. 秦朝是我国历史上第一个统一的多民族的封建国家。

材料一秦朝疆域图



(1) 依据材料一中的地图，写出你能够得到的历史信息。

材料二秦朝的政治建制示意图



(2) 依据材料二，把①和②处的内容写在对应横线上。并指出秦朝创立的政治制度的名称。

①: _____ ②: _____ 名称: _____

材料三



图一



图二



图三

- (3) 依据材料三，分别写出三幅图片反映的秦始皇采取的统治措施。并指出这些措施的共同作用。
- (4) 结合所学，概括从春秋战国到秦朝建立体现的历史趋势。



参考答案

第一部分

本部分共 20 小题，每小题 2 分，共 40 分。在每小题列出的四个选项中，选出最符合题目要求的一项。

1. 【答案】B

【解析】

【详解】结合所学知识，北京人遗址位于北京西南周口店龙骨山上，遗址堆积层厚 40 多米。此处遗址最先于 1921 年被发现，后来人类学家根据在遗址中发现的 3 颗牙齿化石，将活动在这里的古人类命名为“北京直立人”或“北京人”。1929 年，中国的青年学者裴文中发现第一个北京人头盖骨化石。所以材料中的“远古人类”是北京人，B 项正确；元谋人发现于云南省元谋县，排除 A 项；半坡原始居民发现于陕西西安半坡村，排除 C 项；河姆渡原始居民发现于浙江余姚，排除 D 项。故选 B 项。

2. 【答案】D

【解析】

【详解】根据所学可知，距今约 170 万年前的元谋人，是我国境内已知最早人类，根据图示，④是云南省元谋县，D 项正确；①是北京人和山顶洞人遗址，排除 A 项；②是半坡人遗址，排除 B 项；③是河姆渡人遗址，排除 C 项。故选 D 项。

3. 【答案】A

【解析】

【详解】根据材料图片信息和所学可知，图 1 是河姆渡居民的干栏式建筑，河姆渡遗址位于浙江省余姚县，处于长江流域，所以位于图 2 中①的位置，A 项正确；河姆渡遗址位于浙江省余姚县，处于长江流域，图 2 中的②、③、④均不属于长江流域，均不符合题意，排除 BCD 项。故选 A 项。

4. 【答案】D

【解析】

【详解】据题干“传说炎帝教人们制作陶器等。考古学家在西安半坡、河南仰韶等遗址发现大量彩陶，如尖底瓶、陶罐等。”可知，神话传说和考古发掘相互印证，说明传说中蕴藏着一些可靠的历史信息，D 项正确；题干信息不能说明陶器是炎帝发明的，排除 A 项；“传说是完全不可信的、传说就是历史事实”说法过于绝对，排除 BC 项。故选 D 项。

5. 【答案】A

【解析】

【详解】根据所学知识，大禹是传说时代的治水英雄，故一人被称作“当代大禹”，此人的身份应是水利专家，A 项正确；农业专家、医学专家、造车专家都与大禹不符，排除 BCD 项。故选 A 项。

6. 【答案】C

【解析】

【详解】根据材料“它是迄今世界上出土的最重的青铜器”，结合所学知识，商代青铜器司母戊鼎，重大



832.84 千克，是迄今世界上出土的最重的青铜器，C 项正确；三星堆青铜面具不是迄今世界上出土的最重的青铜器，排除 A 项；四羊方尊中国现存商代青铜方尊中最大的一件，排除 B 项；利簋是已发现的最早的西周青铜器之一，排除 D 项。故选 C 项。

7. 【答案】A

【解析】

【分析】

【详解】根据所学知识，禅让制是将部落首领位置传给贤德之人，不是为了保证权力世袭，A 项错误，符合题意；据所学知识，甲骨文是中国已发现最早、体系较为完整的文字，排除 B 项；诸侯争霸过程中，有的诸侯国被灭掉，一些强大的诸侯国的疆域不断扩展，与此同时，中原“诸华”“诸夏”在同周边的戎、狄、蛮、夷等族长期交往和斗争中，出现了大规模的民族交融，C 排除 C 项；都江堰是一座综合性的水利枢纽，使堤防、分水、泄洪、排沙、控洪等功效合成为一个系统，发挥出防洪、灌溉、水运等多方面的作用，至今造福社会，排除 D 项。故选 A 项。

8. 【答案】A

【解析】

【详解】根据材料关键信息“商王的王后”、“战争”、“占卜”等，结合所学可知，甲骨文是商周时期刻写在龟甲和兽骨上的文字，记载的内容涉及祭祀、战争、农牧业、官制、天文历法等。可见，A 项正确；秦汉时期，公文往来、私人书信及典籍等都用竹简、丝帛书写，可见，竹简、丝帛作为书写材料出现的时间晚于甲骨文，排除 B 项和 C 项；隋唐时期，宣纸比较盛行，主要用于书法、绘画，排除 D。故选 A 项。

9. 【答案】B

【解析】

【详解】依据题干表格和所学知识可知，反映的是战国时期的社会变化，一方面社会大动荡，诸侯之间兼并战争不断，另一方面社会大变革，铁农具和牛耕的使用推广标志生产力水平的提高，这推动了各国相继开展变法，有利于社会转型，B 项正确；“中国境内文明的起源”对应的是远古时代，排除 A 项；“政权分立与民族交融”对应的是魏晋南北朝时期，排除 C 项；“繁荣与开放的时代”对应的是隋唐时期，排除 D 项。故选 B 项。

10. 【答案】B

【解析】

【详解】根据所学解读题干材料可知，楚庄王问鼎中原是在参与春秋争霸战争，越王勾践卧薪尝胆是为了后面讨伐吴国复仇，何种连横、远交近攻是为战国兼并战争服务的外交策略，围魏救赵中齐国为救赵国向魏国发起进攻，这些成语都与战争有关，由此可知春秋张时期战争频繁，B 项正确，排除 A 项；春秋战国时期，因为铁器牛耕的使用，经济得到发展，因为百家争鸣，所以文化繁荣，但材料未反映这些内容，排除 CD 两项。故选 B 项。

11. 【答案】C

【解析】

【详解】根据所学可知，战国七雄中，秦国位于最西边，C 项正确；根据所学可知，①处是齐国，排除 A



项；②是楚国，排除 B 项；④是燕国，排除 D 项。故选 C 项。

12. 【答案】A

【解析】

【详解】根据所学知识可知，《史记》，二十四史之一，是中国历史上第一部纪传体通史，作品中撰写了上至上古传说中的黄帝时代，下至汉武帝太初四年间共 3000 多年的历史，其记载较接近历史史实，属于可信史料，①正确；出土文物能够直观反映当时历史，属于可信史料，②正确；小说属于文学创作，不属于可信史料，③错误；影视作品只能一定程度上反映历史，属于艺术创作作品，不属于可信史料，④错误；综上所述，①②正确，A 项正确；排除 B、C、D 项。故选 A 项。

13. 【答案】A

【解析】

【详解】根据题干中的“周礼规定，天子殉葬用九鼎，诸侯用七鼎”“春秋晋墓，墓主上大夫赵卿的随葬品也使用了七鼎”可以看出，春秋时期，地位低于诸侯的上大夫也使用了七鼎，这说明王室衰微礼崩乐坏，A 项正确；BCD 与题意无关，排除 BCD 项。故选 A 项。

14. 【答案】A

【解析】

【详解】依据课本所学可知，春秋时期有众多的诸侯国，其中比较强大的有十几个。由于政治、经济发展不平衡，各诸侯国为了自身的利益，相互之间展开激烈的争斗。春秋时期诸侯争霸战争，有的诸侯国被灭掉，给社会带来种种灾难；在争霸过程有些诸侯国被消灭，出现了一些疆域较大的国家，有利于国家走向统一；在争霸过程中，许多国家都以改革加强了自身的力量；华夏族和其他各族频繁接触，促进了民族融合。①②③④符合题意，A 项正确；BCD 表述不全，排除 BCD 三项。故选 A 项。

15. 【答案】C

【解析】

【详解】从表格信息可知，社会主义核心价值观的很多内容，如“文明”“和谐”“法治”等内容与春秋战国时期各家思想主张有相似之处，体现了春秋战国时期百家争鸣思想对后世思想文化的影响深远，C 项正确；表格信息未反映百家争鸣与经济的关系，排除 A 项；仅从表格信息无法判读百家争鸣不利于后世儒家思想发展，排除 B 项；百家争鸣是顺应了历史发展的潮流，解放了人们的思想，排除 D 项。故选 C 项。

16. 【答案】A

【解析】

【详解】老子是道家学派创始人，主张“无为而治”，A 项正确；孔子提倡“仁”“礼”的思想主张，排除 B 项；墨子主张“兼爱”“非攻”等，排除 C 项；韩非主张依法治国等思想，排除 D 项。故选 A 项。

17. 【答案】D

【解析】

【详解】结合所学知识，为了适应国家统一的需要，秦始皇大力推行一系列巩固统一的措施，其中包括修筑贯穿全国的道路，也就是驰道，所以《秦朝驰道示意图》可用于研究秦朝巩固统一的措施，D 项正确；修建驰道是为了加强各地交通往来，修筑长城是为了防备匈奴，排除 A 项；丝绸之路的开通是在汉代，排



除 B 项；驰道修建于统一六国完成之后，排除 C 项。故选 D 项。

18. 【答案】D

【解析】

【详解】根据题干“虽有曲折，历史大势终归是要回到统一国家的正轨上来”和所学知识可知，该学者认为国家统一是历史发展趋势，意在说明秦朝统一全国的意义，D 项正确；秦朝统一的背景是战国时期的连年战争，影响了经济发展和社会稳定，各诸侯国的人民希望结束战乱，过上安定的生活，秦国经过商鞅变法，实力超过东方六国，具备了统一六国的条件，秦王嬴政即位后，为灭亡六国进行了充分的准备，排除 A 项；商鞅变法的背景是战国时期，排除 B 项；秦灭六国的过程与材料无关，排除 C 项。故选 D 项。

19. 【答案】D

【解析】

【详解】根据题干“楚河”“汉界”“楚汉之争”所学知识可知，公元前 203 年，刘邦出兵攻打楚国，项羽粮缺兵乏，被迫提出了“中分天下，割鸿沟以西为汉，以东为楚”的要求，从此就有了楚河汉界的说法。“楚河”“汉界”字样，这是象征历史上的项羽和刘邦为争夺帝位进行的“楚汉之争”，D 项正确；商封和周武王为牧野之战，排除 A 项；夏桀和商汤是商汤灭夏的战争，汤建立商朝，时间上不符合，排除 B 项；秦二世和陈胜在材料中没有涉及，排除 C 项。故选 D 项。

20. 【答案】C

【解析】

【详解】根据材料“张楚”，结合所学知识可知，秦二世元年(前 209 年)秋，秦朝廷征发闾左贫民屯戍渔阳，陈胜、吴广等 900 余名戍卒被征发前往渔阳戍边，途中在蕲县大泽乡(今宿州)为大雨所阻，不能如期到达目的地，情急之下，陈胜、吴广领导戍卒杀死押解戍卒的军官，发动兵变。起义军推举陈胜为将军，吴广为都尉。连克大泽乡和蕲县，并在陈县(今河南淮阳)建立张楚政权，各地纷纷响应。陈胜吴广起义沉重打击了秦朝，揭开了秦末农民起义的序幕，是中国历史上第一次大规模的平民起义。C 项正确；炎黄大战蚩尤是传说距今约 4600 余年前黄帝联合炎帝部族与东夷集团九黎族首领蚩尤在涿鹿(今河北省涿鹿县)进行的一次艰苦激烈的大战，排除 A 项；秦灭六国，建立秦朝，排除 B 项；楚汉之争是汉元年(公元前 206 年)八月至汉五年十二月(公元前 202 年 1 月)，西楚霸王项羽、汉王刘邦两大集团为争夺政权而进行的一场大规模战争，排除 D 项。故选 C 项。

第二部分

本部分共 3 题，共 40 分。

21. 【答案】(1) 内容：A：启；B：汤；C：周武王；D：牧野

(2) 遗址：半坡遗址，河姆渡遗址。

原因：自然地理环境不同。

(3) 证据：考古发掘

(4) ①. ① ②. ⑤ ③. ② ④. ④ ⑤. ③ ⑥. ⑥

【解析】

【小问 1 详解】



内容：根据方式一“歌谣学史”和所学知识可知，禹最初想传位于伯益，但是禹的儿子启凭借强大的势力，在禹死后继承了他的位置。从此，世袭制代替禅让制。商的首领汤联络周围部族，起兵攻伐夏王桀，桀大败，夏王朝灭亡。约公元前 1600 年，汤建立商朝，都城建在亳。公元前 1046 年，武王联合各地势力，组成庞大的政治联盟，与商军在牧野决战，商军倒戈，周军占领商都，商朝灭亡。所以，歌谣补充完整为 A：启；B：汤；C：周武王；D：牧野。

【小问 2 详解】

遗址：根据材料二“图片学史”和所学知识可知，河姆渡人的房屋主要是干栏式建筑，以木桩插于地下，上面用木板等拼接成屋。半坡人的房屋主要是半地穴式圆形房屋，多用木头作柱子，屋内有灶坑。所以，图一属于半坡遗址；图二属于河姆渡遗址。

原因：根据所学知识可知，图一为半坡居民住的半地穴是房屋，属于半坡遗址；图二为河姆渡居民居住的干栏式建筑，属于河姆渡遗址。半坡居民位于北方黄河流域，气候干燥、风沙大；河姆渡居民位于南方长江流域气候湿润，雨水充沛，潮湿。所以，造成上述房屋结构不同的原因是南北自然地理环境的不同。

【小问 3 详解】

证据：根据材料三“那只有求助于考古学之地下发掘的证据”可知，作者认为应以考古发掘去填补神话与传说的空白。

【小问 4 详解】

①：根据材料和所学知识可知，北京周口店遗址博物馆与远古人类北京人和山顶洞人所在的位置，云南元谋人博物馆是我国目前已确认的最早的古人类元谋人所在地，所以，属于远古人类遗址的是①⑤；二里头遗址是相对于夏朝后期的一座都城遗址，河南安阳殷墟博物馆与商朝后期的都城殷有关，所以，属于夏商西周的文明的是②④；孔子是春秋后期的思想家、教育家、儒家学派创始人，孟子是战国时期儒家学派代表人物，所以，属于春秋战国的灿烂文化的是③⑥。所以，①：①，②：⑤，③：②，④：④，⑤：③，⑥：⑥。

22. 【答案】(1) 制度：分封制。

(2) 对象：宗亲、功臣、夏商王室后代。(答出 2 点)

(3) 主要原因：春秋时期，王室衰微，周天子地位下降。

(4) 措施：鼓励耕织、奖励军功。

影响：通过商鞅变法使秦国的国力大增，提高了军队的战斗力，为秦统一全国奠定了基础。(任意两点)

【解析】

【小问 1 详解】

制度：根据材料一“封建亲戚，以藩屏周”和所学知识可知，周王根据血缘关系远近和功劳大小，将宗亲和功臣等分封到各地，授予他们管理土地和人民的权力，建立诸侯国，以保证周王朝对地方的控制，同时稳定政局，扩大统治范围。所以，西周时期开始实行分封制。

【小问 2 详解】

对象：根据材料二“周王室贵族召公封国燕、功臣姜尚封国齐、殷商贵族微子启封国宋”可知，西周实行分封制诸侯的对象有宗亲、功臣、夏商王室后代。(答出 2 点)



【小问 3 详解】

主要原因：根据材料三“周文武所封子弟同姓甚众，然后属疏远，相攻击如仇讎”和所学知识可知，周王室地位下降，大的诸侯势力崛起。他们竞相称霸，操控政治局面，实际上取代了周天子的地位。所以，“周天子弗能禁止”的主要原因是春秋时期，王室衰微，周天子地位下降。

【小问 4 详解】

措施：根据材料四“僇力本业耕织致粟帛多者，复其身；事末利及怠而贫者，举以为收孥”“规定斩敌甲士首级一颗赏爵一级，田一顷，宅九亩”可知，概括商鞅变法的措施为鼓励耕织、奖励军功。

影响：根据材料四、五“秦民大悦，道不拾遗，山无盗贼，家给人足。民勇于公战，怯于私斗，乡邑大治……居五年，秦人富强”和所学知识可知，商鞅推行一系列改革措施，使秦国的国力大为增强，提高了军队的战斗力，一跃成为最强盛的诸侯国，为以后秦国统一全国奠定了基础。所以，商鞅变法的影响为通过商鞅变法使秦国的国力大增，提高了军队的战斗力，为秦统一全国奠定了基础。（任意两点）

23. 【答案】（1）历史信息：秦朝都城是咸阳；秦朝实行郡县制；秦朝修筑长城，东到辽东，西到临洮；秦朝东到东海，南到南海，西到陇西，北抵长城一带。（写出任意 3 点即可）

（2）内容：①：皇帝 ②：丞相。

名称：专制主义中央集权制度（前两空错别字不得分）

（3）措施：统一文字；统一货币；统一度量衡。

共同作用：巩固统一。（4）历史趋势：由分裂到统一（或走向统一）

【解析】

【小问 1 详解】

历史信息：根据材料一“秦朝疆域图”“咸阳、象郡、长城、临洮、南海、东海”可知，能够得到的历史信息有秦朝都城是咸阳；秦朝实行郡县制；秦朝修筑长城，东到辽东，西到临洮；秦朝东到东海，南到南海，西到陇西，北抵长城一带。（写出任意 3 点即可）

【小问 2 详解】

内容、名称：根据材料二“秦朝的政治建制示意图”“太尉、军事、行政、御史大夫、监察、郡、县”和所学知识可知，皇帝之下，设有中央政权机构，由丞相、太尉、御史大夫统领，分别掌管行政、军事和监察事务，最后的决断权由皇帝掌控。为加强对全国的统治，秦朝创立了大一统的中央集权制度。所以，①为皇帝；②为丞相。秦朝创立的政治制度的名称为专制主义中央集权制度。（前两空错别字不得分）

【小问 3 详解】

措施：根据材料三图一“统一文字”图二“统一货币”图三“铜权、铜量”可知，三幅图片反映的秦始皇采取的统治措施分别为图一：统一文字，图二：统一货币，图三：统一度量衡。

共同作用：根据所学知识可知，文字的统一，使政令能够在全国各地顺利推行，也使不同地域的人民能够顺畅沟通，有利于文化的交流与发展。以秦国的圆形方孔半两钱作为统一货币，在全国流通。这就改变了以往币制混乱的状况，有利于国家对经济的管理，促进各地经济的交流。度量衡的统一，便利了经济的发展。所以，这些措施的共同作用为巩固统一。

【小问 4 详解】



历史趋势：根据所学知识可知，春秋战国时期，诸侯争霸以及兼并战争不断，秦的统一，结束了春秋战国以来长期争战混乱的局面，建立起我国历史上第一个统一的多民族的封建国家。所以，概括从春秋战国到秦朝建立体现的历史趋势为由分裂到统一。（或走向统一）