



2023 北京丰台初三一模

历史

2023 .04

本部分共 20 小题，每小题 1.5 分，共 30 分。在每小题列出的四个选项中，选出最符合题目要求的一项。

1. 有学者认为，到公元前 5000 年，具有农业、制陶、村落和纺织的新石器文化在中国大河流域的许多地方出现。以下内容能实证这一说法的是

- A. 北京人遗址中的灰烬层
- B. 河姆渡遗址出土的稻谷
- C. 传说炎帝教民开垦耕种
- D. 殷墟遗址出土的甲骨文

2. 右图是西周宜侯矢（cè）簋，底部铭文记载了周康王册封虞侯矢，将其迁徙至宜地（今江苏丹徒一带）为宜侯，并进行赏赐。该文物的出土



- ①见证了商周两代的更替
- ②反映出周王室地位下降
- ③可研究青铜工艺的发展
- ④有助于了解西周分封制

- A. ①②
- B. ②③
- C. ②④
- D. ③④

3. 汉代海昏侯刘贺墓中出土的一组衣镜，绘有孔子形象并记有孔子传记，反映出孔子在 当具有很高的社会地位。促成这一现象形成的措施是

- A. 奖励耕战
- B. 实施推恩令
- C. 尊崇儒术
- D. 重文轻武

4. 西汉司马迁笔下的江南“地广人稀……无积聚而多贫”；到东晋南朝之际，江南“地广野丰，民勤本业，一岁或稔，则数郡忘饥”。推动这一变化的因素有

- A. 农民起义的兴起
- B. 北方人的南迁
- C. 大运河的修建
- D. 市民阶层壮大



5. 宋代时，随着临安城的发展，在它周围数十里内，形成了功能各异的市镇（见右图）。当时民谚云：“南柴北米，东菜西水。”这体现出宋代

- A. 城市布局的对称
- B. 中外交通的发达
- C. 政治制度的完善
- D. 商品经济的繁荣

6. 关于中国古代的一项科技发明，书中记载“若止印三二本，未为简易；若印数十百千本，则极为神速。”这项发明促进了

- A. 造纸工艺的出现
- B. 军事的变革
- C. 航海技术的发展
- D. 文化的传播

7. 下表反映了汉、唐、元三朝丝绸之路的发展情况。对此理解正确的是

汉朝	设置西域都护，对西域地区进行有效管辖，保证丝绸之路的畅通
唐朝	设立互市监，管理丝绸之路沿线的经济贸易活动
元朝	在陆上丝绸之路沿途要道设立众多驿站，在沿海重要港口设市舶司，管理贸易

- A. 三朝均积极推动丝绸之路发展
- B. 各朝都重视提高丝织技术
- C. 唐朝是丝绸之路最繁盛的时期
- D. 南方经济完全超过了北方



8.元朝统治者根据各地区的情况，采取因地制宜的方式进行有效治理。下列文物能够印证元朝对西藏实施行政管辖的是



A. 唐蕃会盟碑



B. 宣政院印

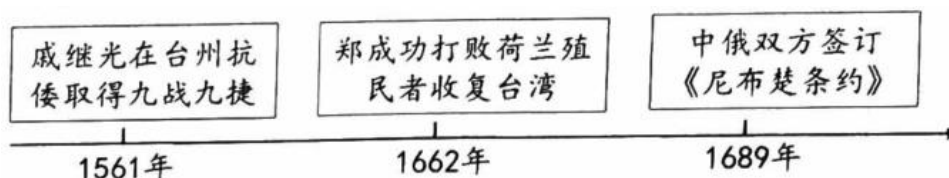


C. 驻藏大臣令牌



D. 达赖喇嘛金印

9. 以下史实的共同作用是



- A. 维护了国家权益
- B. 加强了对西北地区的管辖
- C. 促进了南北交流
- D. 实现了清朝对全国的统治

10. 随着近代一系列不平等条约的签订，中国被纳入到欧美资本主义的世界条约体系中，使中国社会性质发生了质的变化。导致变化开始的条约是

- A. 《南京条约》
- B. 《北京条约》
- C. 《马关条约》
- D. 《辛丑条约》

11.右图是某班同学排演的历史剧《追梦之路》中的三幕。它们分别对应的历史事件是

- A. 虎门销烟、鸦片战争、太平天国运动
- B. 火烧圆明园、洋务运动、义和团运动
- C. 太平天国运动、洋务运动、维新变法
- D. 维新变法、义和团运动、张謇办实业

第一幕 农民阶级的“天国”之梦
 第二幕 地主阶级的“富国强兵”之梦
 第三幕 资产阶级的“变法改良”之梦

12.谢觉哉在日记中写道：“1921年6月29日，叔衡往上海，偕行者润之（毛泽东的字），赴全国○○○○○之招。”出于保密，五个圈代表“共产主义者”据此推测毛泽东是去参加

- A. 中国共产党第一次全国代表大会
- B. 古田会议
- C. 中国共产党第七次全国代表大会
- D. 重庆谈判

13.下表是1957年我国经济发展的部分统计数据。这反映出我国

类别	工业总产值	钢产量	原煤产量	发电量
1957年	704亿元	535万吨	1.31亿吨	193亿千瓦时
比1952年增长	128.6%	296%	98.5%	164%

- A. 开始改变工业落后的面貌
- B. 开始进入社会主义初级阶段
- C. 实行了民族区域自治制度
- D. 确立社会主义市场经济体制

14.观察下表，可以看出和平共处五项原则的提出

联合国的宗旨	中国的和平共处五项原则
维护世界和平与安全，发展国际间的友好关系，加强国际合作	互相尊重主权和领土完整，互不侵犯，互不干涉内政，平等互利，和平共处



- A. 标志着中国特色大国外交的全面推进 B. 意味着中国恢复在联合国的合法席位
C. 体现了联合国倡导的和平、合作主张 D. 解决了人口、资源等人类面临的问题

15. 一位学者认为“这个时代的艺术家以古希腊罗马艺术为榜样，将现实世界的价值放在首要位置，重新认识与神的存在相对的自然和人的存在，并试着用自己的眼睛自觉地来看周遭的一切。”该时代的核心思潮是

- A. 神权至上 B. 反对专制 C. 主权在民 D 人文主义

16. 右图是一本书的部分目录，这本书是

- A. 《本草纲目》 B. 《农政全书》
C 《物种起源》 D. 《自然哲学的数学原理》

第 1 章 家养状态下的变异
第 2 章 自然状态下的变异
第 3 章 生存的斗争
第 4 章 自然选择即适者生存

17. 1898 年、1900 年德国两次通过扩充海军的法案，这使英国深感不安。英国决定建 吨位更大、装备更先进的新型战舰——“无畏”号。德国获悉后，紧接着通过了第三个海军法案，决定建造自己的无畏舰。以上材料可用于研究

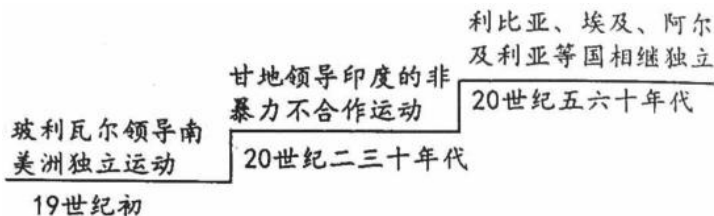
- A.马克思主义诞生的原因 B 第一次世界大战的背景
C.第二次世界大战的进程 D. 世界经济全球化的加强

18. 1933 年，美国新闻报道：“罗斯福签署了国会的数个法案，使他获得了控制工业、协调铁路以及启动耗资 33 亿美元的市政工程计划的权力，随后即拉开了积极实施诸如此类重大措施的序幕。”这表明罗斯福新政

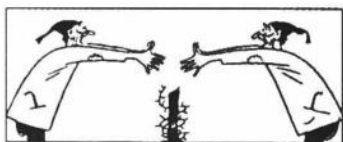
- A. 彻底解决了经济危机 B. 加强国家对经济的干预
C. 集中力量发展重工业 D. 以指令性计划管理经济

19. 右侧示意图的主题是

- A. 国际共产主义运动兴起
B. 世界多极化趋势的发展
C. 资本主义制度在全球的扩展
D. 亚非拉民族解放运动的发展



20.下面是创作于 1949 年的一组漫画，作者预见了两德民众的逐渐疏离。这组漫画创作 的历史背景是



1945 年：“兄弟！”



1955 年：“我亲爱的表兄弟！”



1965 年：“我们在外国有个很远的亲戚！”




- A. 《凡尔赛条约》签订 B. 法西斯专政建立 C. 美苏冷战愈演愈烈 D. 欧洲联盟的成立

第二部分 本部分共 4 题，共 40 分。

21. (10 分) 音乐与时代同行。

材料一 以下是与中国古代音乐相关的文物。



 	
<p>①战国铜壶：壶身第二层刻有宴乐武舞、弋射等画面，描绘了战后庆功宴饮的情景，体现出当时社会、文化发展的状况</p>	<p>②贾湖骨笛：距今 9000- 7800 年，是中国目前出土年代最早的乐器实物，能够演奏富含变化音的乐曲</p>
<p>③唐三彩骑驼乐舞俑：骆驼载着五位汉、胡男子，一人跳舞，四人演奏，充满了异域情调</p>	

(1) 从材料一中找出能说明以下主题文物。(3分。写序号，多选、错选不得分)

史前文明源远流长：

社会大变革的时代：

开放包容的社会风气：

材料二《马赛曲》创作于 1792 年，原名是《莱茵军团战歌》，后来随着革命形势的发展传遍整个巴黎，1795 年被确立为法国国歌。歌词节选如下：

前进，祖国儿女，快奋起，光荣一天等着你！……发抖吧，暴君，卖国奸人，无耻的狗党孤群！……全车都是上阵的人，少年前仆后继，准备杀敌效命！武装起来，公民们！把队伍组织好！奋起！法兰西后继有人，随时奋进！

(2) 依据材料二并结合所学，指出与《马赛曲》诞生相关的重大历史事件，(1分) 并分析这一历史事件的影响。(2分)

材料三中国近现代部分经典歌曲

序号	歌曲	简介
①	《卢沟桥歌》	1937 年 7 月创作，歌颂中国军队在卢沟桥浴血奋战的事迹
②	《井冈山之歌》	唱出了毛泽东创建农村革命根据地、与起义队伍会师、开展武装斗争等历史事件
③	《到敌人后方去》	表现了中国共产党领导八路军建立敌后根据地，开展游击战争的场面
④	《中国人民志愿军战歌》	表达出中国人民志愿军抗美援朝、保家卫国的坚强决心和必胜信念
⑤	《遵义会议放光辉》	歌颂了遵义会议的深远意义，体现全党全军对以毛泽东为代表的正确路线的热烈拥戴
⑥	《浏阳河》	1951 年创作，传达了土地革命后农民获得丰收的喜悦之情

(3) 从以下两个主题中任选一个，仿照示例，选取两首相关的歌曲，分别说明歌曲与主题的关系。(4分)

主题 1：全民族抗战；主题 2：人民民主政权的巩固

示例：



主题	序号	关系说明
革命道路探索	②	反映的井冈山革命根据地的建立，开辟了农村包围城市，武装夺取政权的革命道路
	⑤	反映的遵义会议，确立了以毛泽东为代表的马克思主义正确路线的领导地位，中国革命由此走上了胜利发展的道路

22. (13分) 国家治理与社会发展

材料一

①分天下以为三十六郡……车同轨。书同文字。——《史记·秦始皇本纪》

②汉兴，扫除烦（繁）苛，与民休息。——《汉书·景帝纪》

③隋帝嗣兴（继位），又变前法，置进士等科。——《旧唐书·薛登传》

(1) 依据材料一并结合所学，任选两项文献，指出相关治国措施并分析作用。(4分)

材料二马克思主义勾勒了未来社会维护人民利益、实现共同富裕、致力于人的自由全面发展和人类解放的宏观制度构想。十月革命胜利后，列宁进行了建设社会主义的探索。1920年底，农民不堪忍受粮食无偿征集，工业产值也大幅下降。1921年，苏维埃政府用征收粮食税代替余粮收集制；允许使用雇佣劳动力和出租土地，农民可以自由买卖纳税后的剩余产品……这一系列措施取得成效的同时，也对经济落后的国家如何建设社会主义提供了经验。

——摘编自徐蓝《世界近现代史》等

(2) 依据材料二，分析列宁进行社会主义探索的意义。(2分)

材料三新中国成立以来，中国共产党带领全国各族人民，围绕不同时期的主要任务努力奋斗。

时期	主要任务	史实
社会主义革命和建设时期	实现从新民主主义到社会主义的转变，进行社会主义革命，推进社会主义建设，为实现中华民族伟大复兴奠定根本政治前提和制度基础	A
改革开放和社会主义现代化建设新时期	继续探索中国建设社会主义的正确道路，解放和发展社会生产力，使人民摆脱贫困、尽快富裕起来，为实现中华民族伟大复兴提供体制保障和物质条件	B
中国特色社会主义新时代	实现第一个百年奋斗目标，开启实现第二个百年奋斗目标新征程，朝着实现中华民族伟大复兴的宏伟目标继续前进	C

(3) 将下列史实填入 A、B、C 处相应位置。(3分。写序号) 任选一项史实，说明它是如何促进主要任务实现的。(2分)

①实行家庭联产承包责任制 ②打赢脱贫攻坚战 ③确立人民代表大会制度

材料四建设什么样的社会主义现代化强国、怎样建设社会主义现代化强国是当今中国的重大时代课题之一。党的二十大报告指出，以中国式现代化全面推进中华民族伟大复兴。中国式现代化，深深根植于中华优秀



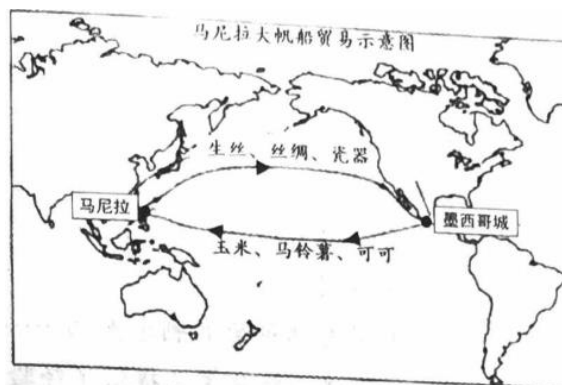
传统文化，体现科学社会主义的先进本质，借鉴吸收一切人类优秀文明成果，代表人类文明进步的发展方向，展现了不同于西方现代化模式的新图景，是一种全新的人类文明形态。

——摘编自韩震《中国式现代化打破“现代化=西方化”迷思》等

(4) 依据材料四，谈谈你对中国式现代化的认识。(2分)

23. (7分) 世界联系日益紧密。

材料一 16世纪60年代，西方殖民者在亚洲菲律宾建立了马尼拉据点，开启了马尼拉大帆船贸易。西欧商人或通过马尼拉直接进行美洲金银与东方产品的交换，或通过马尼拉运回中国的丝绸瓷器。美洲的主要农作物，如玉米、马铃薯、可可等，相继传入中国。中国的瓷器和丝织品，在墨西哥进口总额中最高时占到1/2以上，大量在墨西哥铸造的西班牙银元流入中国。



——摘编自韩琦《马尼拉大帆船贸易对明王朝的影响》等

(1) 依据材料一并结合所学，指出马尼拉大帆船贸易出现的背景，(1分)并概括贸易的影响。(2分)

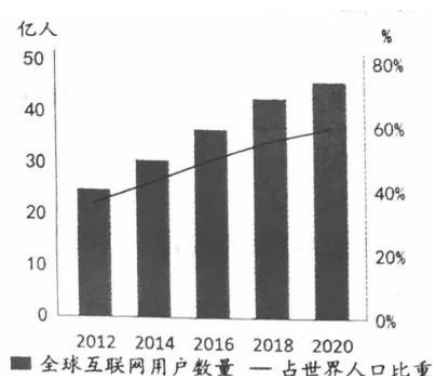
材料二自远古起，人类一直以坐马车、骑马或乘帆船所需旅行的小时数来表示不同地方之间的距离。但现在，人类穿着一步跨七里格的魔靴跨过了地球。人类能够凭借汽船和铁路越过海洋和大陆，能够用电报与世界各地的同胞通讯。

——摘编自斯塔夫里阿诺斯《全球通史》

(2) 依据材料二判断，文中的“现在”应该是指____。(1分。写序号)说明判断的依据。(1分)

①15世纪早期②19世纪后期

材料三 2012-2020年全球互联网用户数量及占世界人口比重



(依据前瞻产业研究院数据整理)

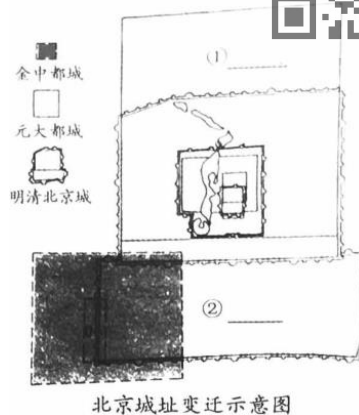
当前，网络霸权主义对世界和平与发展构成新的威胁。中国秉持共商共建共享的全球治理观，推动构建网络空间命运共同体，致力于把网络空间建设成为造福全人类的发展共同体、安全共同体、责任共同体、利益共同体。



(3) 依据材料三，说出全球互联网发展的趋势。(1分)谈谈你对构建网络空间命运共同体的认识。(4分)

24. (10分) 寻迹古都历史，感受京城变迁。

材料一金中都城墙遗址是北京建城历史上最为久远的皇都城垣，也是古都变迁的重要证据。公元1153年，金中都在辽南京城的基础上，参考北宋汴京的规划和建筑式样扩建而成。城中东西南北门各有施仁、彰义、端礼、崇智之名，寓有崇尚仁、义、礼、智之意。元朝于中都东北郊另建新城，命名大都。金中都北墙东段与元大都南墙两段重合。明朝营建北京城时，将金中都的东部包入北京外城以内。



——摘编自杨旸《金中都城墙遗址周边文化景观及其价值研究》等

(1) 依据材料一，将元大都城、明清北京城填入①②处相应位置。(2分)概括金中都城的建筑特点。(2分)

材料二 1914年中央公园（今北京中山公园）向公众开放。此前的皇家园林，成为寻常百姓公共的休闲空间。除了设有观赏游玩的景点，中央公园还建了影剧院、纪念品商店、照相馆、餐厅和北京第一个公共讲习体育场所。之后教育部又在中央公园里建成面向全体市民的“中央图书阅览室”。此外，纪念碑、纪念亭也是近代北京公园的重要空间布置。北洋政府在一战结束后，将原来建在东单的克林德碑移到中央公园内，并改为“公理战胜纪念坊”，“以便众览，亦雪国耻之意也”。

——摘编自王炜《近代北京公园开放与公共空间的拓展》

(2) 依据材料二并结合所学指出中央公园开放的背景，(2分)并分析其意义。

(2分)


材料三



①1919年北京学生走上街头游行示威



②1949年人民解放军在北平举行入城式



③1949年10月1日人民群众在天安门广场欢庆

(3) 如果你是“讲述照片里的北京故事”活动的一名宣讲员，从材料三中任选一张照片写一个简介。(2分。要求：史论结合，条理清晰)



参考答案

第一部分 (每题 1.5 分, 共 30 分)

题号	1	2	3	4	5	6	7	8	9	10
答案	B	D	C	B	D	D	A	B	A	A
题号	11	12	13	14	15	16	17	18	19	20
答案	C	A	A	C	D	C	B	B	D	C

第二部分 (共 40 分)

21. (共 10 分)

(1) ②①③ (3 分, 1 点 1 分)

(2) 历史事件: 法国大革命 (1 分)

影响: 法国大革命摧毁了法国的君主统治, 传播了资产阶级自由民主思想, 具有世界性影响。(2 分, 1 点 1 分)

(3) 答案参考示例: (4 分, 1 点 1 分)

主题	序号	关系说明
全民族抗战	①	反映的七七事变, 标志着中国全民族抗战的开始
	③	反映的敌后战场的抗战, 牵制和抗击了大量日军, 在全民族抗战中发挥重要作用
主题	序号	关系说明
人民民主政权的巩固	④	反映的抗美援朝战争, 捍卫了新中国安全, 大大提高了我国的国际地位, 巩固了人民民主政权
	⑥	反映的土地改革, 摧毁封建土地制度, 农民成为土地的主人, 解放了农村生产力, 巩固了人民民主政权

22. (共 13 分)

(1) ①措施: 秦朝建立郡县制、统一车轨与文字; 作用: 加强中央集权, 便利交通与文化交流等。

②措施: 西汉前期采取轻徭薄赋、休养生息的政策; 作用: 促进经济恢复发展, 形成文景之治局面。

③措施: 隋朝确立科举制; 作用: 加强皇帝选官用人权力, 促进社会阶层流动, 推动教育发展。(4 分, 1 点 1 分)

(2) 意义: 结合国情, 发展了马克思主义; 稳定和恢复了国民经济, 巩固了苏维埃政权; 为落后国家建设社会主义提供借鉴经验。(2 分, 1 点 1 分)

(3) A③; B①; C② (3 分, 1 点 1 分)

答题参考示例: (2 分, 1 点 1 分)

①实行家庭联产承包责任制, 农民有了生产自主权, 解放农村生产力, 农业生产和农民收入有很大提高, 不断满足农民物质生活需求。

②打赢脱贫攻坚战, 所有深度贫困地区的最后堡垒被攻克, 消除绝对贫困, 提升脱贫地区人民生活水平, 有助于第一个百年奋斗目标全面建成小康社会的实现。

③确立人民代表大会制度, 是我国的根本政治制度, 为社会主义民主政治建设奠定基础。

(4) 认识: 中国式现代化道路是强国建设必由之路; 从历史和优秀传统文化中汲取智慧: 始终坚持把马克思主义基本原理同中国具体实际相结合; 坚持党的领导等正确认识。(2 分, 1 点 1 分)

23. (共 7 分)

(1) 背景: 新航路的开辟; 殖民扩张活动。(1 分)

影响: 建立了亚洲和美洲直接的贸易关系; 促进了物种的传播; 促进了中国经济的发展; 促进世界市场的形成与发展等。(2 分, 1 点 1 分)

(2) ② (1 分)

依据: 汽船、铁路和电报是两次工业革命的重要成果, 由此推断时间为 19 世纪后期。(1 分)



(3) 趋势：互联网发展越来越普及。(1分)

认识：构建网络空间命运共同体是信息时代的必然选择；构建网络空间命运共同体，能够有效应对人类面前的共同挑战；网络空间命运共同体主张体现了中国智慧。(1点1分)

24. (共10分)

(1) ①元大都城；②明清北京城(2分，1点1分)

特点：历史悠远；继承前代；体现民族交融。(2分，1点1分)

(2) 背景：辛亥革命、中华民国建立，结束了君主专制制度；思想观念的改变。(2分，1点1分)

意义：由皇家禁地到公共园林，中央公园见证了北京城市公共空间成长的历程；丰富了普通市民的社会文化生活；公园成为教育大众、培养民族主义精神的政治空间；推动北京近代化的进程。(2分，1点1分)

(3) 答案参考示例：(2分，1点1分)

记录了五四运动开展的情况，五四运动是一场彻底的反帝反封建的伟大爱国革命运动。

记录了庆祝北平和平解放的情景，北平和平解放标志平津战役的结束。

记录了开国大典的盛况，开国大典标志新中国的成立，开辟了中国历史的新纪元。