



顺义区 2019 届初三第一次统一练习

地理试卷

学校_____ 班级_____ 姓名_____ 准考证号_____

考 生 须 知	1. 本试卷共 12 页，共两部分，44 道小题。满分 90 分。考试时间 90 分钟。 2. 在试卷和答题卡上准确填写学校名称、班级、姓名和教育 ID。 3. 试题答案一律书写在答题卡上，在试卷上作答无效。 4. 在答题卡上，选择题用 2B 铅笔作答，其他试题用黑色字迹签字笔作答。 5. 考试结束，将答题卡交回。
----------------------------	--

第一部分 选择题

本部分共 40 小题，每小题 1 分，共 40 分。在每小题列出的四个选项中，选出最符合题目要求的一项。

图 1 为 2019 年上半年的某个节气当天，在某地拍摄的日出日落照片，据图回答 1-4 题。



图 1

- 当天太阳直射点位于
 - 南回归线
 - 北回归线
 - 赤道
 - 北纬 30°
- 该地位于
 - 北半球中纬度
 - 南半球中纬度
 - 东半球低纬度
 - 西半球中纬度
- 下列关于该地当天天气或空气质量的叙述，正确的是
 - 最高气温 4°C
 - 天气晴
 - 微风
 - 空气质量为良
- 下列古诗词与该节气相关的是
 - “立春除夕，并为一日，此事今年创见。”——宋代：郭应祥
 - “清明时节雨纷纷，路上行人欲断魂。”——唐代：杜牧
 - “夏早日初长，南风草木香。”——唐代：白居易
 - “雨霁风光，春分天气。”——宋代：欧阳修

图 2 是拥有数百年历史的明清古村落——李庄，据图回答 5-7 题。

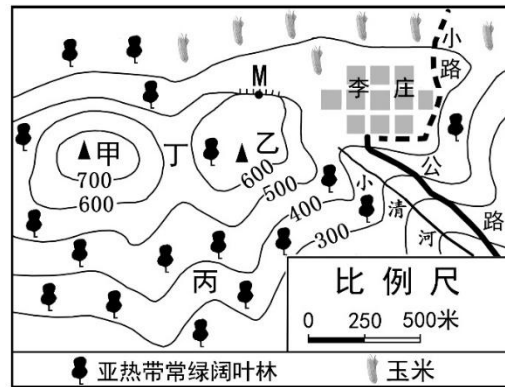


图 2

5. 下列关于该区域地形的叙述，正确的是
- 甲地是山谷
 - 丙地是山脊
 - 地形以平原为主
 - 丁地是鞍部
6. 李庄
- 东西长 500 米
 - 地处温带季风气候区
 - 附近小清河冬季结冰
 - 附近乙山峰海拔超过 700 米
7. 进入新时代，李庄坚定走生产发展、生活富裕、生态良好的文明发展之路，下列符合绿色可持续发展理念的是
- 将古建筑全部翻建为别墅洋房
 - 大力开采附近山石建材
 - 开发冬季冰雪旅游项目
 - 种植有机茶叶、果树，吸引游客
- 每年 3 月，从中国东南沿海到西伯利亚，从幼发拉底河到伏尔加河，从尼罗河到摩尔曼斯克（俄罗斯北冰洋沿岸），大雁都要吹起联合的号角。据此回答 8-10 题。
8. 大雁 3 月飞行路线说法错误的是
- 自低纬向高纬
 - 自西亚到北亚
 - 自非洲到欧洲
 - 自亚洲北部到东南亚
9. 在飞行中，它不可能见到的景观是
- 世界最大的咸水湖
 - 非洲动物的大迁徙
 - 北极极光
 - 我国北方忙碌的种树人
10. 在本次飞行中，它可能经过的纬线是
- 赤道、南回归线
 - 本初子午线、北回归线
 - 北极圈、北回归线
 - 北极点、赤道
- 中美洲（北美洲大陆位于墨西哥以南的部分通常被称为中美洲）的巴拿马共和国于 2017 年 6 月 13 日同中华人民共和国建立外交关系，读图 3 回答 11-13 题。
11. 下列中美洲国家和首都不相关联的是
- 巴拿马首都为巴拿马城
 - 尼加拉瓜首都为马那瓜
 - 哥斯达黎加首都为圣何塞
 - 洪都拉斯首都为洪都拉斯

12. 关于中美洲位置的叙述，正确的是
- A. 位于西半球低纬度地区
 B. 北与美国相接，南到南美洲
 C. 巴拿马运河是太平洋与大西洋之间的唯一海运通道
 D. 本初子午线穿过中美洲
13. 中美洲向中国出口的水果最多的是
- A. 苹果和梨 B. 桃和杏 C. 柑橘和葡萄 D. 香蕉和芒果



图3 中美洲地区

2019年1月19日，福建龙岩的永福樱花园10万株樱花在1800多亩的茶园里开放，场面壮观。樱花园负责人称，北京的樱花4月才开，而这里每年1月中旬到3月上旬都是赏樱期。请回答14-16题

14. 樱花是
- A. 中国的国花 B. 韩国的国花 C. 蒙古的国花 D. 日本的国花
15. 福建的赏樱期在每年1月中旬到3月上旬，而北京的樱花4月才开，影响其主要的自然因素是
- A. 海陆位置 B. 纬度位置 C. 地形 D. 夏季风
16. 福建龙岩樱花园在茶园里开放，我国南方茶园多的原因是
- ①地形以低山丘陵为主 ②气候温暖湿润，适宜茶树生长
 ③酸性大的黑土适宜茶树生长 ④茶园经济效益高，有利于创收
- A. ①②③ B. ②③④ C. ①③④ D. ①②④

“由四川过湖南去，靠东有一条官路。这官路将近湘西边境到了一个地方名为‘茶峒’的小山城时，有一小溪，溪边有座白色小塔，塔下住了一户单独的人家。这人家只有一个老人，一个女孩子，一只黄狗。小溪流下去，绕山岨流，约三里便汇入茶峒的大河。人若过溪越小山走去，则只一里路就到了茶峒城边。溪流如弓背，山路如弓弦，故远近有了小小差异。”（引自沈从文《边城》）据此，回答17-18题。

17. 茶峒所在地区
- A. 水运发达，一年中有春、夏两次汛期
 B. 属亚热带季风气候，夏季高温多雨，冬季温和少雨
 C. 山高林密，主要是热带雨林
 D. 小溪沿岸地势低平，农业发达

18. 茶峒地区的居民可能会遇到的自然灾害有
- A. 台风 洪水
 - B. 海啸 龙卷风
 - C. 沙尘暴 寒潮
 - D. 泥石流 山体滑坡
- 自然环境对野生动植物的栖息繁衍与生长起着决定性作用，读图 4 回答 19 题。

19. 图中四种动植物栖息繁衍与生长的自然环境相似点是
- A. 平原、丘陵地区
 - B. 干旱、半干旱地区
 - C. 高原、盆地地区
 - D. 河流、湖泊密布地区



图 4

20. “苗寨黔山黄果树茅台赤水；川肴蜀绣锦官城花径草堂。”对联中“苗寨黔山”所属地形区和气候类型是
- A. 黄土高原、温带大陆性气候
 - B. 四川盆地、亚热带季风气候
 - C. 云贵高原、亚热带季风气候
 - D. 青藏高原、高原和高山气候

2018 年 11 月 2 日，中国第 35 次南极科学考察队乘坐“雪龙号”向南极再次出征。本次考察以完成国家重大基建工程为目的，将重点开展泰山站二期工程收尾、罗斯海新站建设相关工作等。读图 5 和图 6 回答 21-23 题。

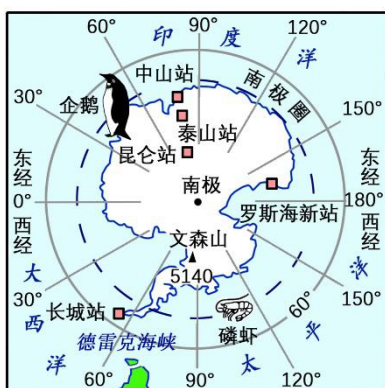


图 5

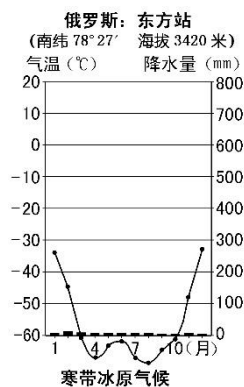


图 6

21. 我国五个南极考察站的共性是
- ①位于高纬度地区
 - ②有极昼极夜现象
 - ③酷寒干燥的气候
 - ④均位于西半球
- A. ①③
 - B. ①④
 - C. ②③
 - D. ③④
22. 下列关于南极地区的叙述，正确的是
- A. 海拔最高的地方是东方站
 - B. 高等动植物资源异常丰富
 - C. 固体淡水资源十分丰富
 - D. 其环境变化对北半球没有影响

23. 目前，南极地区对人类最突出的作用是
- A. 拥有巨大的经济价值 B. 是南半球陆海空交通枢纽
- C. 是多数游客的旅游目的地 D. 拥有巨大的科研价值
- 贵州省自古有“天无三日晴，地无三尺平”的说法，结合所学知识回答 24-25 题。
24. 关于贵州省“天无三日晴”说法正确的是
- A. 绝对没有连续三个晴天 B. 冬季天天下雪
- C. 经常出现阴雨连绵天气 D. 夏季天天下雨
25. “地无三尺平”说明贵州省
- A. 一小块平地也没有 B. 大部分地区地表崎岖不平
- C. 到处都是高大山脉 D. 地形以丘陵为主
26. 下列地理现象中由地球公转产生的是
- A. 赤道上每 24 小时出现一次昼夜更替
- B. 近年来全球气候变暖趋势明显
- C. 近年来南极上空出现大面积臭氧层空洞
- D. 位于中纬度地区的北京市四季分明
- 读图 7 回答 27~29 题
27. 世界年平均气温分布的一般规律是
- A. 从两极向赤道逐渐降低 B. 从平原向高原逐渐升高
- C. 从陆地向海洋逐渐降低 D. 从低纬向高纬逐渐降低
28. 关于世界年平均气温分布特点的叙述，正确的是
- A. 亚洲大陆和北美大陆气温最低
- B. 世界七块大陆中，非洲大陆 20℃ 以上气温面积最大
- C. 澳大利亚大陆年平均气温都在 20℃ 以上
- D. 每条等温线走向都是与纬线平行
29. 关于甲地和乙地气温特点的叙述，正确的是
- A. 甲地和乙地纬度位置相近，年平均气温相差不大
- B. 甲地与乙地年平均气温相差不到 10℃
- C. 如果乙地年平均气温比甲地高 24℃，则甲地比乙地高近 4000 米
- D. 甲乙两地气温不同，主要原因是两地的海陆位置不同

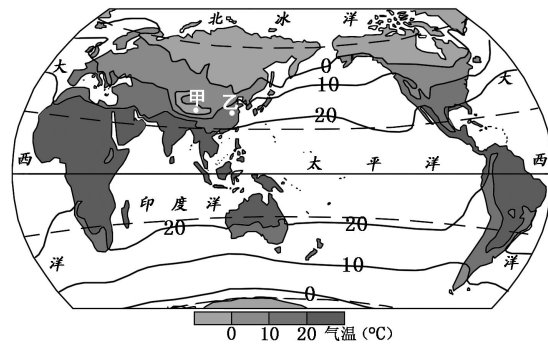


图 7 世界年平均气温的分布

30. 与纸质地图相比，电子地图的优势为

- A. 地图信息不用更新
- B. 自驾车导航最好用
- C. 能查到所有地理信息
- D. 每家每户都有标注

贝壳堤（见图 8）在天津市东部的津南、大港、塘沽等地，是距今五千余年至五百余年前的古海洋遗迹，是海生贝壳及其碎片在潮汐、风浪的作用下，和细砂、粉砂、泥炭、淤泥质黏土薄层组成的堤状地貌堆积体，与海岸大致平行或交角很小。据此回答 31 题。

31. 天津市贝壳堤的形成过程证明

- A. 海洋和陆地是在不断地变迁
- B. 此处曾经发生大地震
- C. 河流泥沙长期在海岸堆积
- D. 现在的海平面比贝壳堤形成时上升了



图 8 天津贝壳堤




图 9 珠穆朗玛峰南坡

32. 珠穆朗玛峰以其地球之巅的美誉，成为世界各国登山家心目中的“圣殿”，图 9 是珠穆朗玛峰南坡登山路线图，登山大本营甲地与峰顶丁地的相对高度是

- A. 2650 米
- B. 3544 米
- C. 2444 米
- D. 1344 米

图 10 为北京市东西方向地形剖面图，读图回答 33-34 题。

33. 从该剖面图可以判定北京市

- A. 地形多种多样
- B. 地势西高东低，大致呈阶梯状
- C. 西部多山地，东部是平原
- D. 地势北高南低

34. 下列关于地形对北京市农业生产和人民生活影响的叙述，正确的是

- A. 东西部农业生产均以种植业为主
- B. 东西部农业生产均以林业为主
- C. 东部地势低洼，交通不便
- D. 西部人口稀疏，聚落规模小

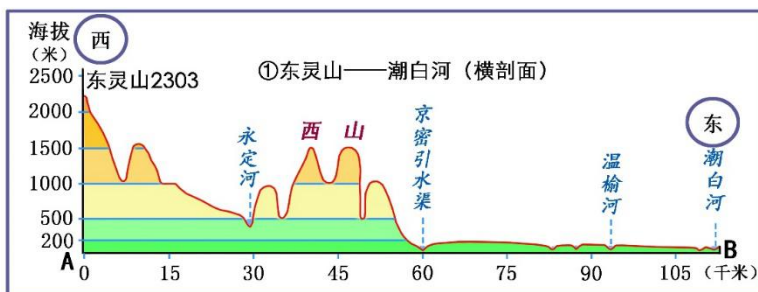


图 10

35. 北京的贝贝通过给在美国纽约的小姨打电话,发现当北京是晚上时,纽约是早上,当北京是正午时,纽约是子夜。产生这一现象的主要原因是

- A. 地球绕地轴自转
- B. 地球绕太阳公转
- C. 月球绕地球转动
- D. 太阳围绕其轴转动

2017年11月21日,印尼巴厘岛火山爆发,巴厘岛国际机场自11月27日起关闭,导致1万余名中国游客滞留。11月29日,中国政府包机将滞留中国游客全部接回,上演了真实版的“战狼”,据此回答36题。

36. 采用航空运输方式解决撤侨难题,主要考虑

- A. 安全快速
- B. 节省费用
- C. 适应性强
- D. 无其他方式可选

2018年世界环境日主题为“塑战速决”,呼吁世界,齐心协力对抗一次性塑料污染问题。2018年世界环境日中国主题为“美丽中国,我是行动者”。旨在推动社会各界和公众积极参与生态文明建设,携手行动,共建天蓝、地绿、水清的美丽中国。据此回答37-38题。

37. 下列行动符合2018年世界环境日主题宗旨的为

- A. 不生产塑料儿童玩具
- B. 关闭塑料生产工厂
- C. 全面禁止塑料袋生产
- D. 积极参加捡拾白色垃圾的清洁行动

38. 下列行动符合2018年世界环境日中国主题宗旨的为

- A. 上课认真听讲,积极回答问题
- B. 不损坏公共财物
- C. 清明节开展文明祭扫活动
- D. 每个周末都到公园劝阻不文明行为

长江中下游平原素有“鱼米之乡”的美称。读图11回答39-40题。

39. 关于长江中下游地区河湖状况的叙述,正确的是

- A. 多数湖泊位于长江以北
- B. 长江下游支流众多
- C. 长江中游支流众多
- D. 长江流量世界第一

40. 形成鱼米之乡的有利自然条件是

- ① 人民勤劳、精耕细作
 - ② 河湖密布、水源充足
 - ③ 科技兴农、优质高效
 - ④ 平原广阔、土地肥沃
- A. ①②
 - B. ③④
 - C. ①③
 - D. ②④



图11

第二部分 非选择题

41. (14分) 读图12和图13, 回答下列问题。

- (1) 南美洲位于_____半球, 西临_____洋; 赤道和_____ (重要纬线) 分别穿过南美洲的北部和中南部。(3分)
- (2) 南美洲南、北两端分别有_____海峡、_____运河沟通太平洋与大西洋。(2分)
- (3) 简要概括南美洲地形地势特征。(3分)
- (4) 简述巴西利亚和玛瑙斯的气候类型及特征, 分析其形成原因。(4分)
- (5) 亚马孙河航运业是否发达? 简要说明理由。(2分)

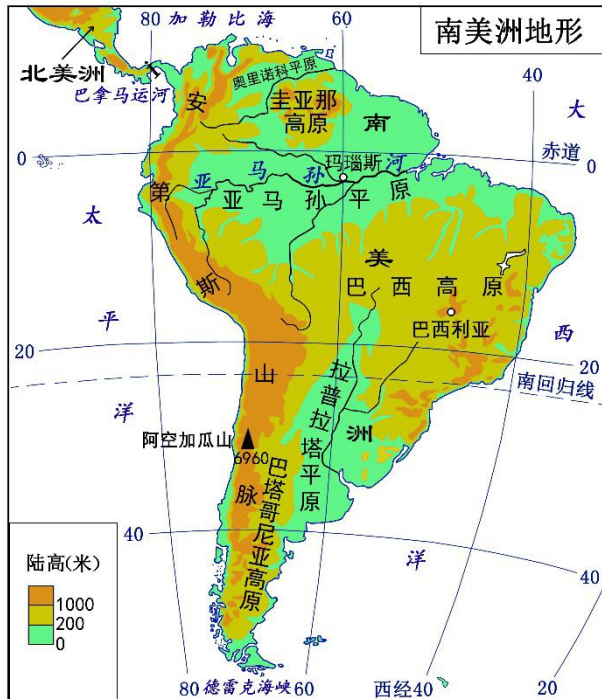


图 12

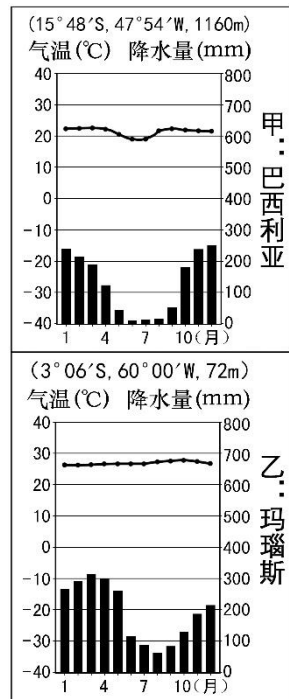


图 13

42. (13分) 读图14、图15, 阅读材料1和材料2, 回答下列问题。

材料1: 2018年10月24日上午9时, 港珠澳大桥正式通车; 驾车从香港到珠海或澳门仅需30分钟。大桥全长55公里, 由桥梁、海底隧道以及连接隧道和桥梁的人工岛共同构成, 即“桥—岛—隧”。

材料2: 2019年2月18日, 中共中央、国务院印发《粤港澳大湾区发展规划纲要》。粤港澳大湾区由香港、澳门两个特别行政区和广东省的广州、深圳、珠海、佛山、惠州、东莞、中山、江门、肇庆组成, 要建成充满活力的世界级城市群、国际科技创新中心、“一带一路”建设的重要支撑、内地与港澳深度合作示范区, 还要打造成宜居宜业宜游的优质生活圈, 成为高质量发展的典范。以香港、澳门、广州、深圳四大中心城市作为区域发展的核心引擎。

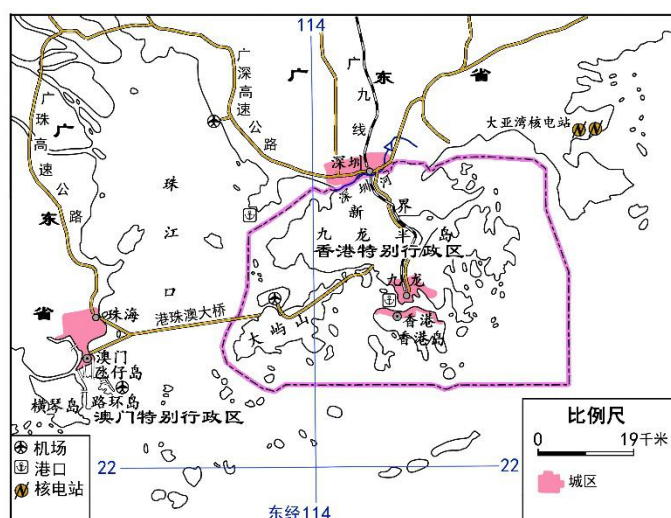


图14

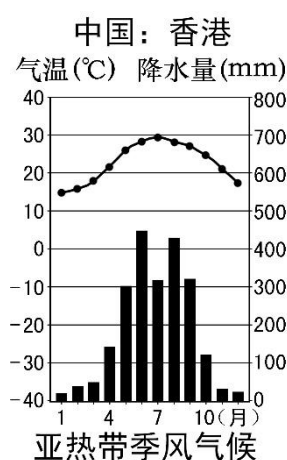


图15

(1) 港珠澳大桥连接了珠江口西侧的_____特别行政区、珠海经济特区和东侧的_____特别行政区。(2分)

(2) 图示区域的气候类型是_____，该气候类型的特征是_____。(2分)

(3) 港珠澳大桥在设计时主要考虑抵御的自然灾害有_____ (最少两项, 2分)

(4) 港珠澳大桥并非全程都在海面上, 在中部有相当长一段是海底隧道, 这主要是为了_____ (选择填空, 填具体内容, 1分)。

- A. 方便大型轮船通行
- B. 缩短通行距离
- C. 避开台风的威胁
- D. 使旅客有多种风景体验

(5) 从交通方面分析香港发展经济的优势。(4分)

(6) 简述港珠澳大桥建成通车对建设粤港澳大湾区的重要意义。(2分)

43. (11分)“爆竹声中一岁除，春风送暖入屠苏。”2019年春晚主会场设在北京，此外还设长春、井冈山、珠海分会场。读图16和材料3、材料4、材料5，回答下列问题。

材料3：珠海位于珠江口西侧，是我国最早设立的经济特区之一。每两年举办一次的珠海航展，是世界五大最具国际影响力的航展之一。空调等家电业在全国占有重要地位。

材料4：吉林省长春市被称为“汽车城”，是东北老工业基地的重要城市，该工业基地矿产丰富，同时又是我国重要的商品粮基地，进入新时代，振兴东北老工业基地已经纳入国家战略。

材料5：井冈山被誉为“中国革命的摇篮”，这里地处湖南、江西交界的罗霄山脉中段，森林覆盖率达81.2%，至今仍保留众多人迹罕至的原始森林。

(1) 长春位于东北老工业基地工业城市集聚区的_____经济区，临近省区_____等矿产资源丰富。(2分)

(2) 由黑龙江、松花江、乌苏里江冲积形成的三江平原，_____土分布广泛，是著名的商品粮基地，盛产春小麦、玉米、_____等农作物。(2分)

(3) 判断下列说法是否正确，在正确说法后打“√”，在错误说法后打“×”。(4分)

- ①北京是中国历史文化名城，拥有北京故宫、天坛等世界文化遗产。
- ②按照城市职能定位，北京应建成国际金融中心。
- ③珠海航空航天展览在国际上享有盛名。
- ④珠海汽车制造业在全国占有重要地位。

(4) 秋收起义后，毛泽东创建了井冈山革命根据地，请从地形、交通、气候等方面分析井冈山作为根据地的有利条件。(3分)

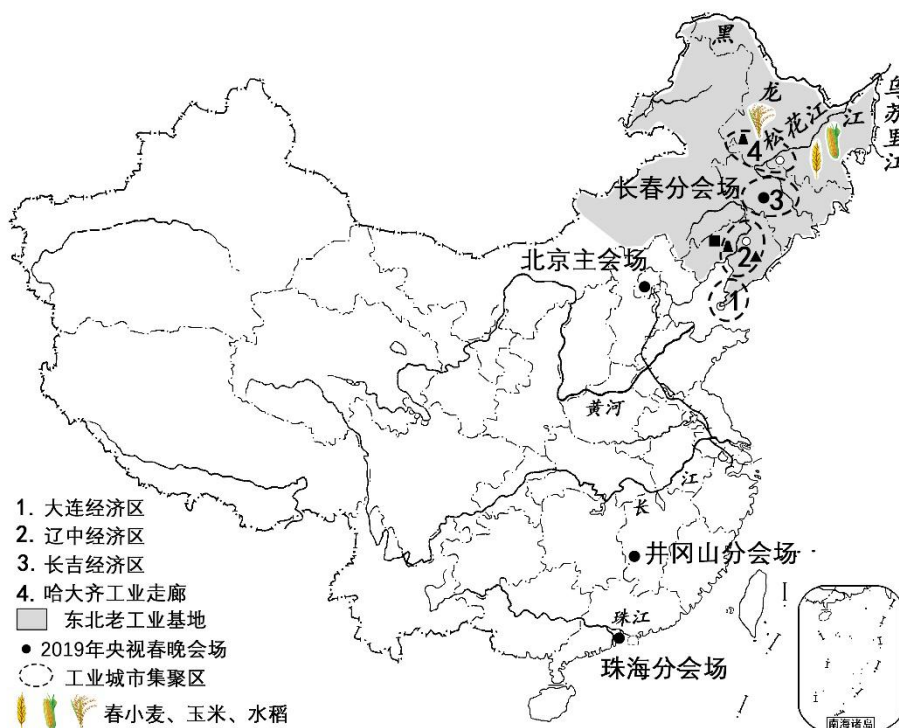
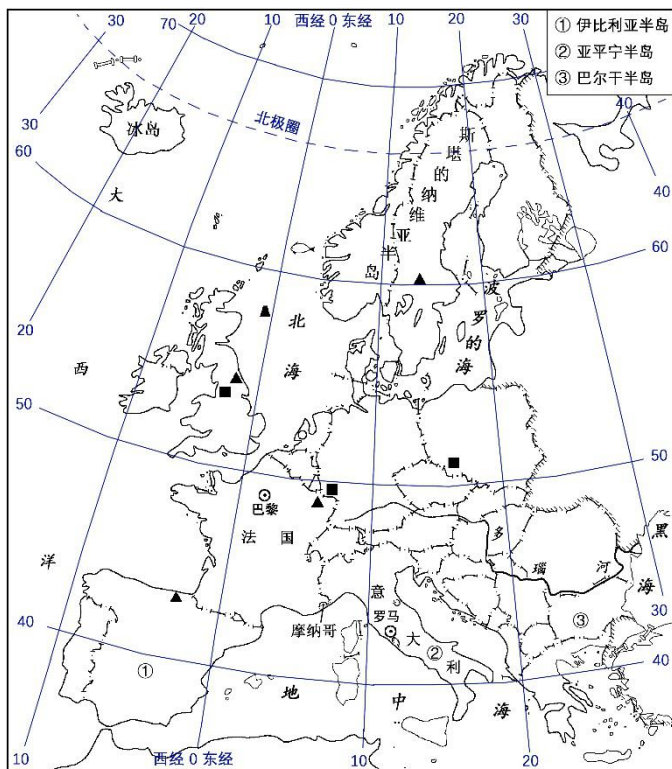


图16

44. (12分) 2019年3月21日至26日习近平主席出访欧洲意大利、摩纳哥、法国，续写了中欧友好交流新篇章。读图17、图18、图19和材料6、材料7回答下列问题。



材料6: 我是李明同学，2018年暑期赴意大利开展研学旅行，下飞机后感觉当地干热，乘坐旅游巴士沿高速路穿梭于各景点之间，看到大片森林，有些树叶子小而卷曲，带刺；拍摄了许多名胜古迹照片，独特的景观极具震撼力；品尝了正宗的意大利面、披萨，喝了当地特产红葡萄酒，旅行非常爽。

图17 欧洲西部



图 18

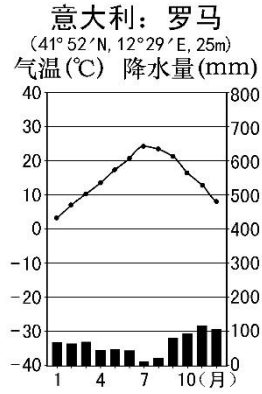
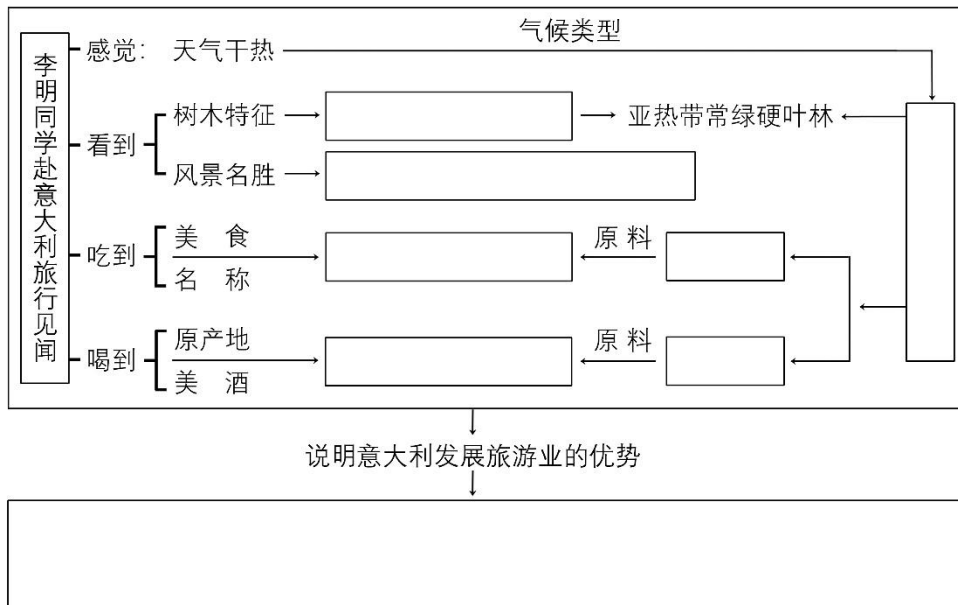


图 19

材料 7：葡萄生长初期气温 12℃-15℃为宜，水分要充足，后期果实膨大期 20℃-30℃为宜，水分不宜过多。冬小麦是一种喜温喜光的粮食作物，适宜种植在肥沃的土壤上，日均温在 16-18℃，日光照时间在 8-12 小时为宜，生长期需水较多，收获期以晴朗干燥天气为好。

- (1) 意大利、摩纳哥、法国都临_____海，其中_____（国）领土主要在亚平宁半岛上。（2分）
- (2) 欧洲西部地区分布着众多的_____（发达或发展中）国家，是_____人种的主要分布区。（2分）
- (3) 结合所学知识，将下面框图填写完整。（8分）



顺义区初三地理一模参考答案 (2019.4)

第一部分 选择题 (共 40 分)

题号	1	2	3	4	5	6	7	8	9	10
答案	C	A	B	D	D	A	D	D	B	C
题号	11	12	13	14	15	16	17	18	19	20
答案	D	A	D	D	B	D	B	D	B	C
题号	21	22	23	24	25	26	27	28	29	30
答案	A	C	D	C	B	D	D	B	C	B
题号	31	32	33	34	35	36	37	38	39	40
答案	A	B	C	D	A	A	D	C	C	D

第二部分 非选择题 (共 50 分)

41. (14分)

(1) 西 太平 南回归线 (3分)

(2) 德雷克 巴拿马 (2分)

(3) 南美洲地势西高东低，西部以山地为主，有高大的安第斯山脉，东部为平原与高原相间分布，有世界著名的亚马孙平原和巴西高原。(3分)

(4) 巴西利亚属于热带草原气候，终年高温，有明显的干季和湿季。玛瑙斯属于热带雨林气候，终年高温多雨。巴西利亚与玛瑙斯气候不同，主要是因为这两地纬度位置不同；另外，地形不同，也影响这两地的气候。(4分)

(5) 亚马孙河航运业不发达，因为亚马孙河流域人口稀少，经济不发达，运输需求不旺盛。(2分)

42. (13分)

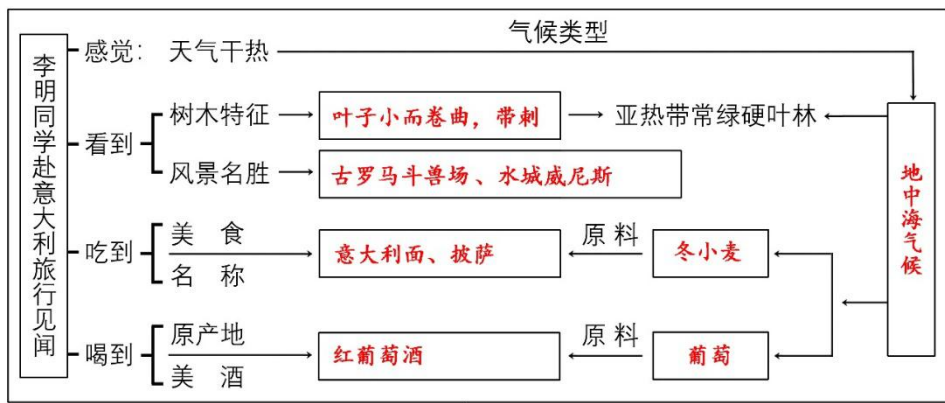
- (1) 澳门 香港 (2分)
- (2) 亚热带季风气候 夏季高温多雨，冬季温和少雨 (2分)
- (3) 台风、地震、海啸、暴雨等 (答出2项以上即可，2分)
- (4) 方便大型轮船通行 (1分)
- (5) 香港交通发达，既有铁路、高速公路通往祖国内地，也有机场(航空)、港口(海运)通往世界许多地区，对于促进经济发展极为有利。(4分)
- (6) 港珠澳大桥通车极大的改善了珠江口东西两侧的交通，将使得粤港澳大湾区内部联系更加紧密，进一步促进大湾区的深度融合与发展。(2分)

43. (11分)

- (1) 长吉 煤、铁、石油 (2分)
- (2) 黑 水稻 (2分)
- (3) ① √ ② × ③ √ ④ × (4分)
- (4) 井冈山革命根据地处于江西省南部的低山丘陵地区，交通不便，可以最大限度阻止敌人进攻；亚热带季风气候有利于根据地人民的生产、生活。(3分)

44. (12分)

- (1) 地中 意大利 (2分)
- (2) 发达 白色 (2分)
- (3) (8分)



说明意大利发展旅游业的优势

拥有众多的风景名胜，可口的美食、美酒，适宜的气候与特色植物，这些都为意大利发展旅游业提供了有利条件。(也可加上：交通发达，基础设施完善。)