

丰台区 2018 年初三第一次统一练习

地理试卷

2018. 05

考生须知	1. 本试卷共 12 页，共两道大题，45 道小题，满分 90 分。考试时间 90 分钟。 2. 在试卷和答题卡上认真填写学校名称、姓名和考号。 3. 试题答案一律填涂或书写在答题卡上，在试卷上作答无效。 4. 在答题卡上，选择题、作图题用 2B 铅笔作答，其他试题用黑色字迹签字笔作答。 5. 考试结束，将本试卷、答题卡一并交回。
------	--

一、单项选择题（下列各小题均有四个选项，其中只有一个选项符合题意。共 40 分，每小题 1 分）

李木子与组内三位同学做了用灯泡（表示太阳）和地球仪（表示地球）演示地球公转运动的实验，图 1 为演示实验的瞬间照片。读图，回答第 1~3 题。

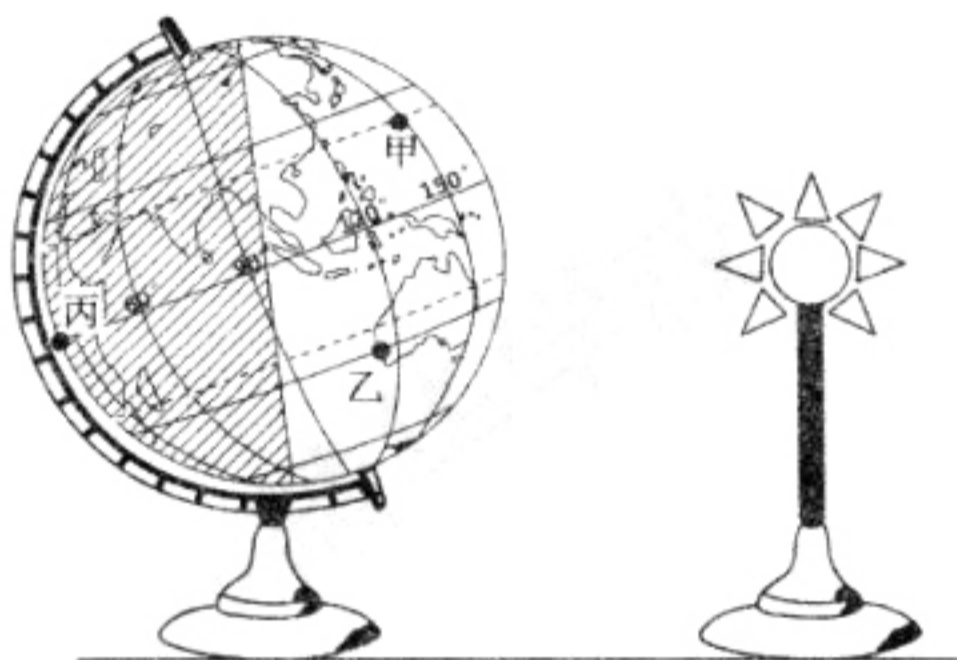


图 1

1. 下列李木子的说法中正确的是

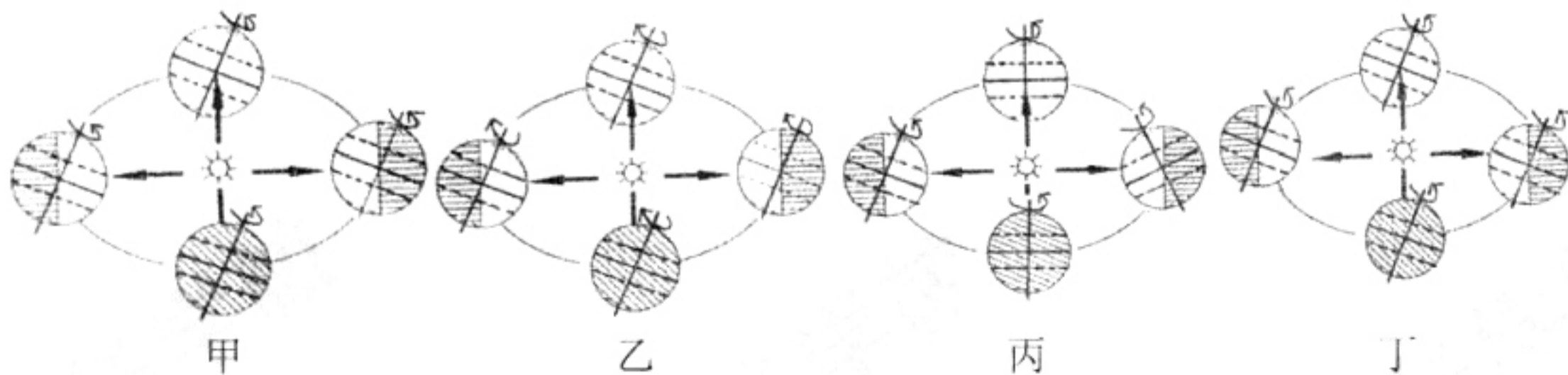
- ①地轴与桌面夹角为 $66^{\circ}34'$
- ②纬线分南北纬，故可指示南北方向
- ③实际地球上并不存在地轴和经纬线
- ④位于低纬度地区的甲所在纬线长度最大
- ⑤图中标有数字的线都属于东经
- ⑥最先从视线中消失的是甲乙丙三点中的丙

- A. ①②③ B. ④⑤⑥ C. ①③⑤ D. ②④⑥

2. 据图 1 可知，此时北半球的季节是

- A. 春季 B. 夏季 C. 秋季 D. 冬季

3. 以下四幅图是李木子组四位同学在观看演示实验后绘制的地球运动示意图，其中正确的是



- A. 甲 B. 乙 C. 丙 D. 丁



张一同学用绘制简笔画(如图2所示)的方法来记忆大洲大洋的名称、位置。据此,完成第4、5题。

4. 张一同学少画了七大洲四大洋中的
- A. 非洲 B. 印度洋
C. 大洋洲 D. 大西洋
5. 以下对大洲大洋的位置描述正确的是
- A. 亚洲地处北半球、东半球
B. 非洲与欧洲的经度位置相似
C. 南极洲被太平洋、大西洋包围
D. 南美洲地处低纬度,是热带大陆

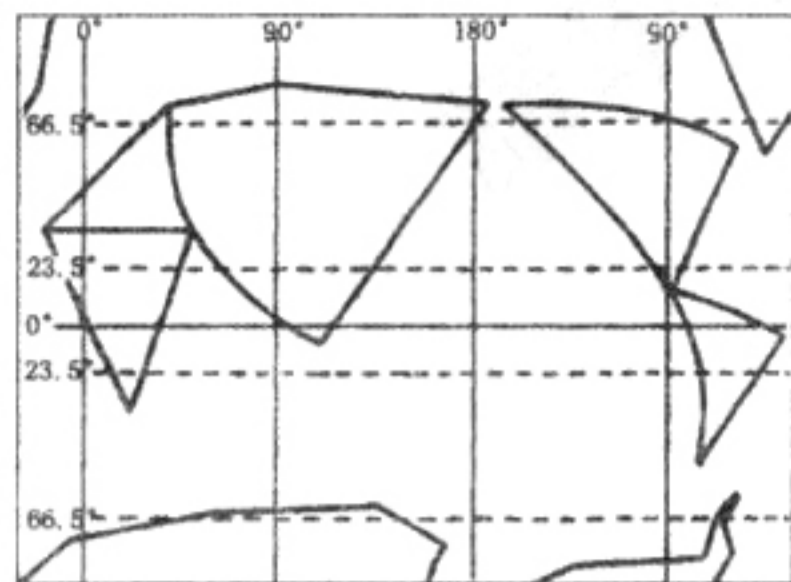


图2

某日上午,家住北京的小明从手机屏幕上看到的天气预报内容如图3所示。据此,完成第6~9题。

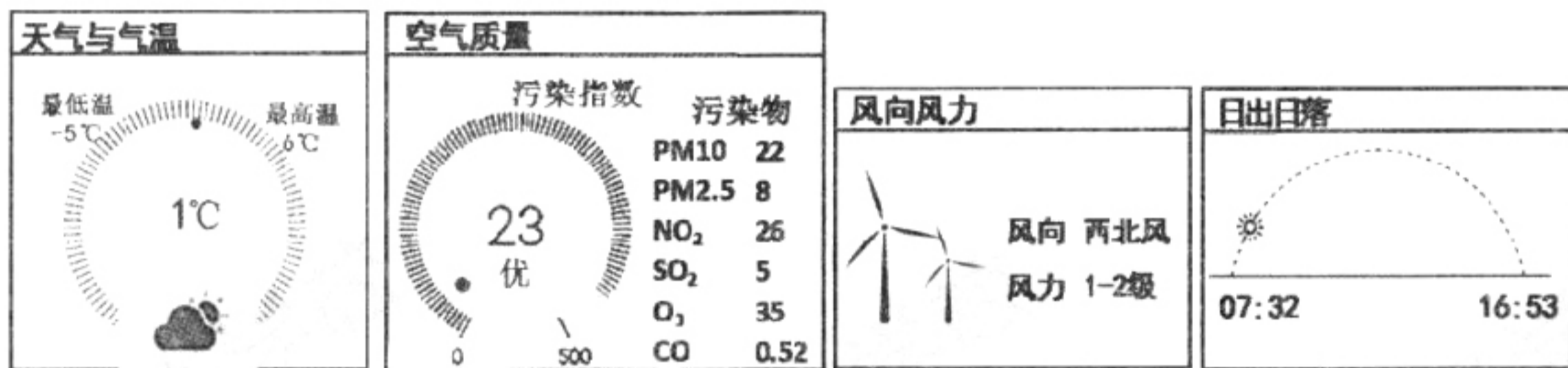


图3

6. 可以用来描述当日天气特征的是
- A. 万里无云 B. 寒气袭人
C. 四面“霾”伏 D. 狂风大作
7. 该日,大气首要污染物是
- A. PM10 B. PM2.5
C. NO₂ D. O₃
8. 未来六七个小时内气象条件基本不变的情况下,空气质量将可能
- A. 好转 B. 转差
C. 不变 D. 无法判断
9. 该日所属季节最可能是
- A. 春季 B. 夏季
C. 秋季 D. 冬季
10. 以下关于人口的说法,正确的是
- A. 一个国家或地区的人口发展要与经济、社会发展相适应
B. 一个国家或地区只要人口多,资源和环境压力就会很大
C. 发达国家人口增长缓慢或零增长,因此没有环境问题
D. 发展中国家只要控制人口数量增长,就可解决环境问题



路桥是指横贯大陆的铁路运输通道。一些学者认为，世界经济格局正在从“海岸经济”进入“路桥经济”阶段。读“亚欧大陆桥示意图”（图4），完成第11、12题。

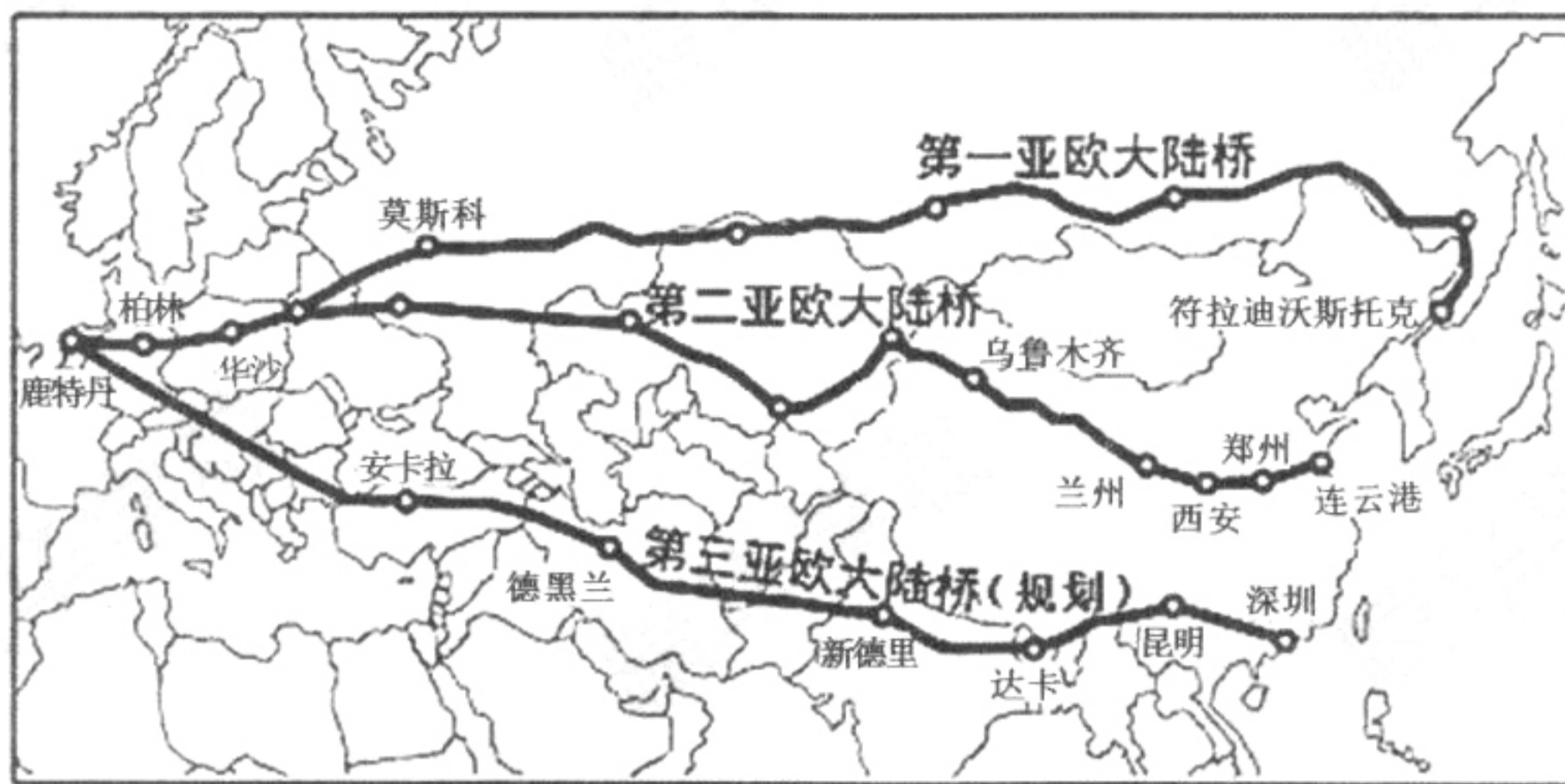
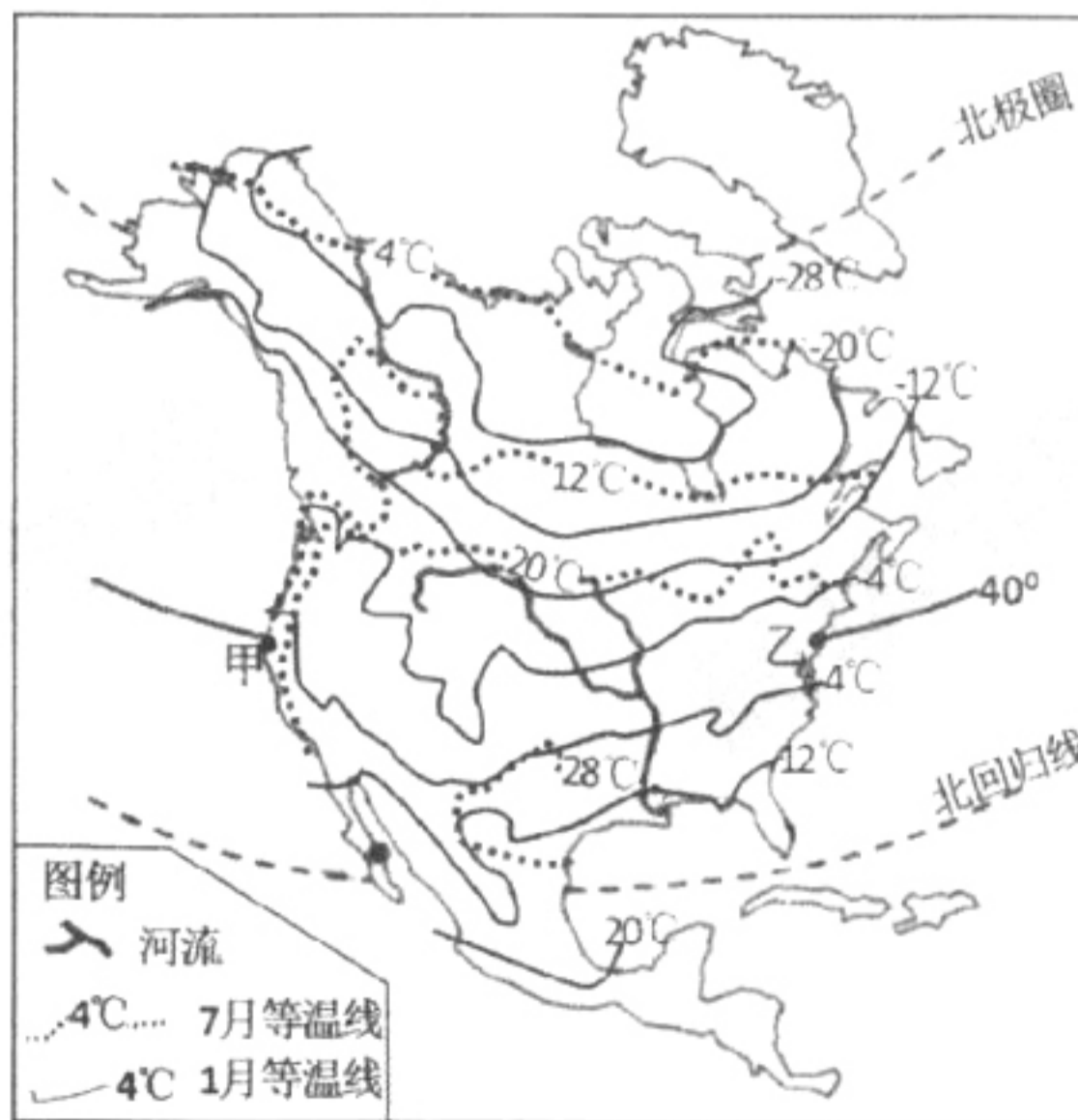


图4

11. 三条亚欧大陆桥
- A. 均经过中亚地区
 - B. 东起点均在中国
 - C. 连接亚欧所有国家
 - D. 多经过临海国家
12. 亚欧大陆桥上多货运列车而少客运列车，其原因是铁路运输
- ①运输量大
 - ②对旅客而言，不如航空运输省时、舒适
 - ③适宜运输大宗笨重货物
 - ④旅客出行成本低
- A. ①④ B. ②③ C. ①②③ D. ②③④

读图5，回答第13、14题。

13. 甲、乙两地
- A. 甲地冬季气温为6℃
 - B. 甲地冬季均温高于乙地
 - C. 夏季气温大致相同
 - D. 甲地夏季均温高于乙地
14. 北美洲
- A. 中东部地区等温线大致与纬线平行
 - B. 冬夏季的气温均自高纬向低纬递减
 - C. 南北温差：冬季小于夏季
 - D. 同纬度沿海地区温度高于内陆地区



北美洲1月、7月平均气温分布示意图

图5



近日,某网络平台发布了《2017 丝绸之路旅游大数据报告》,其中,部分国家景点数量及热度指数排名如表 1 所示。据此,回答第 15~18 题。

15. 从表 1 中可以看出

- A. 热门旅游地集中在经济发达的地区
- B. 泰国、马来西亚、俄罗斯旅游资源丰富
- C. 旅游景点数量和国家面积大小成正比
- D. 旅游热度排名前 10 位的均是亚洲国家

表 1

国家	景点数量	景点热度排名
泰国	936	1
马来西亚	560	2
越南	300	3
印度尼西亚	283	4
菲律宾	295	5
新加坡	229	6
柬埔寨	159	7
俄罗斯	1097	8
斯里兰卡	158	9
马尔代夫	123	10

16. 大数据报告中游客对东南亚旅游的主流印象可能有

- ①热带海岛风光旖旎
- ②特色水上集市
- ③肚皮舞彰显异域风情
- ④橡胶种植园广布
- ⑤奔跑的斑马、羚羊
- ⑥古代城堡和教堂

- A. ①②④
- B. ①③⑥
- C. ②④⑤
- D. ③⑤⑥

17. 近年来我国赴俄人数增长迅速,俄罗斯已成为中国旅行者的“新宠儿”,其原因有

- ①较近的地理位置
- ②面积辽阔,地广人稀
- ③独特的自然风光
- ④便利的签证条件
- ⑤高度发达的经济
- ⑥文化渊源相近

- A. ①③④
- B. ②③⑥
- C. ②④⑤
- D. ③⑤⑥

18. 某游客的日记写到:当地时间晚上 9 点多,天色依旧通亮宛如白昼。我们一行观看了芭蕾舞剧《胡桃夹子》。次日上午,我们来到堪称该国中心的红场,一系列华丽建筑和更多历史的脉搏都让人流连忘返……。由此可知,该游客前往的是

- A. 越南
- B. 俄罗斯
- C. 斯里兰卡
- D. 新加坡

读“大不列颠岛地形图”(图 6)和“大不列颠岛年降水量图”(图 7),回答第 19~21 题。

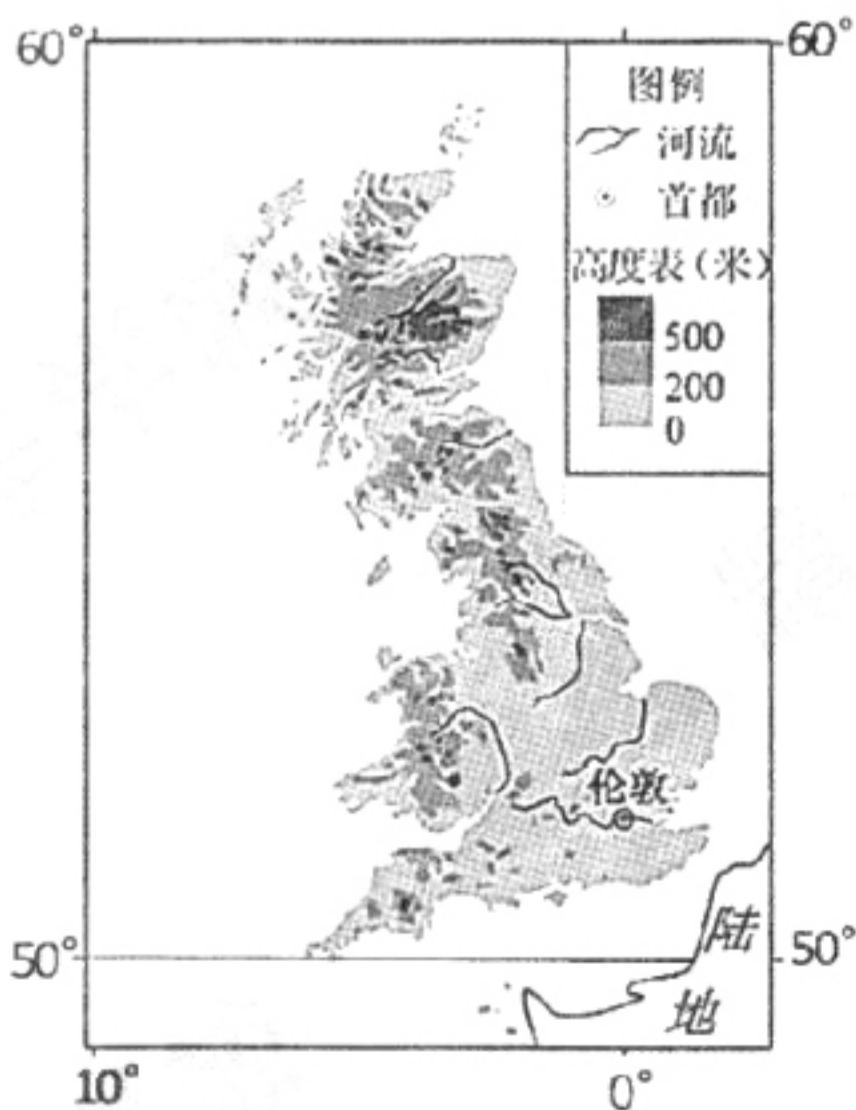


图 6

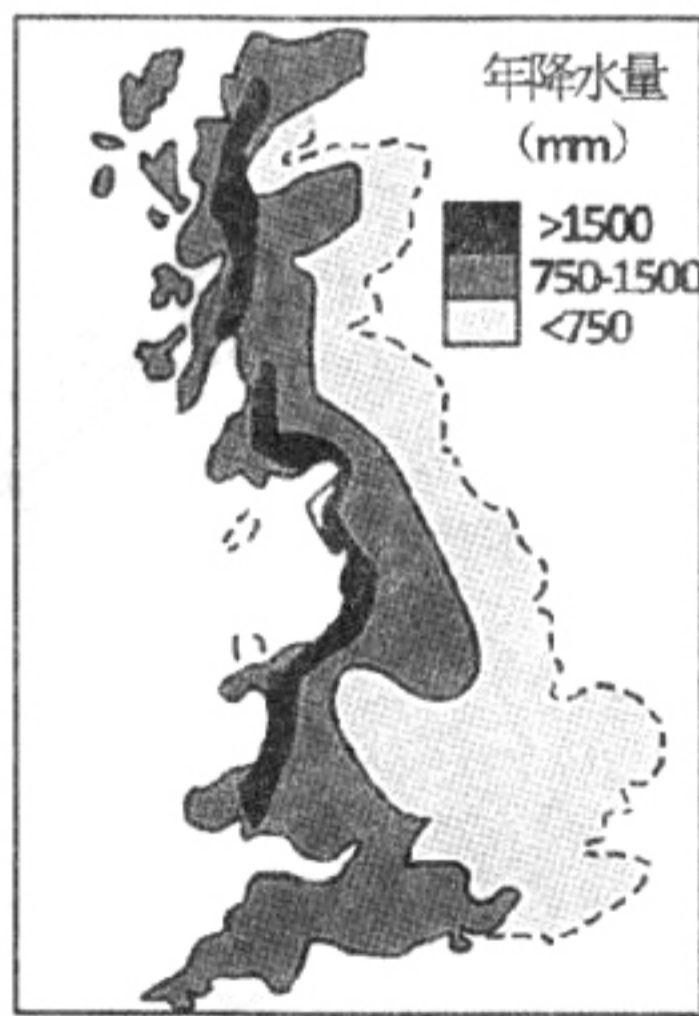


图 7



19. 大不列颠岛地处
- A. 北半球、西半球
 - B. 北寒带
 - C. 亚欧大陆以西
 - D. 北太平洋东部
20. 来自海洋的暖湿气流受地形阻挡，在岛上形成降水。由岛上降水量分布可以推知，风向应为
- A. 北风
 - B. 东南风
 - C. 南风
 - D. 西风
21. 该岛自然环境对当地生产生活的影响有
- A. 南部热量充足，适合种植喜热农作物
 - B. 北部山区多降水，适合种植茶树
 - C. 西部降水多，日照少，适宜发展畜牧业
 - D. 东南部地形平坦，适合发展林业
- 读“长江流域图”（图8），回答第22~24题。

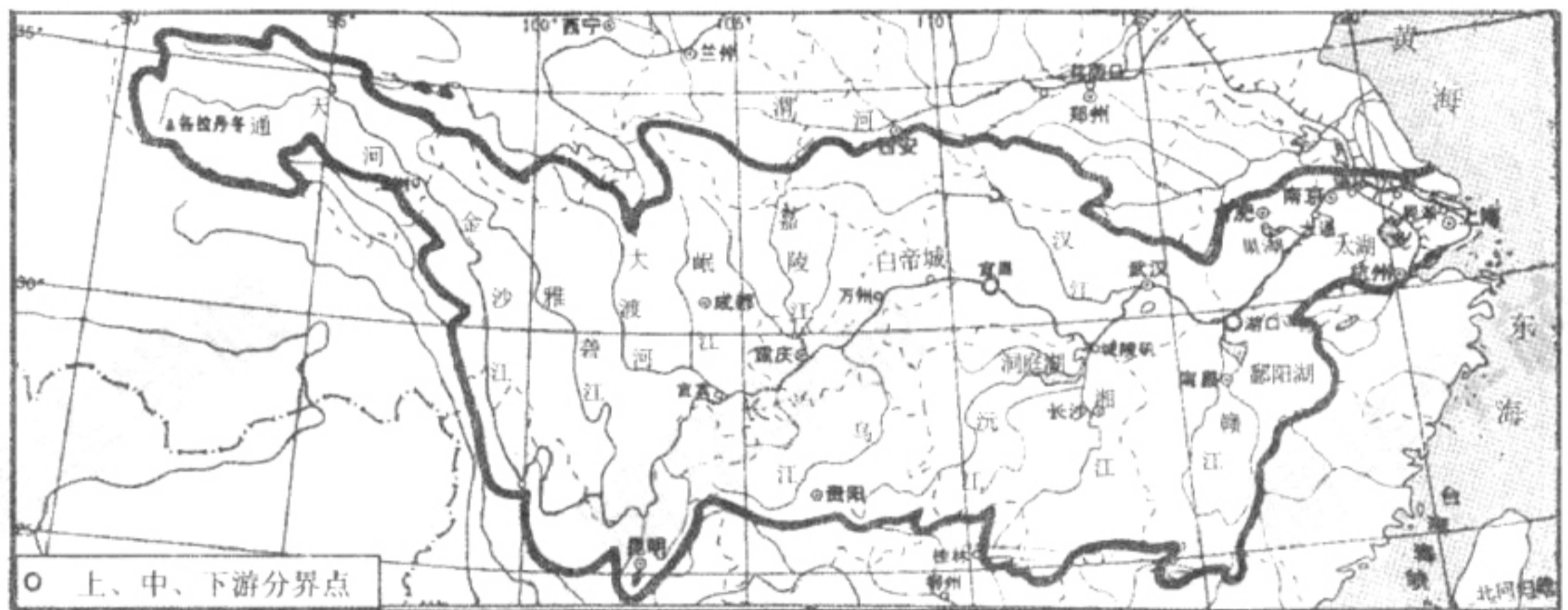


图 8

22. 长江支流众多，以下河流属于长江支流的是
- A. 通天河、岷江
 - B. 金沙江、乌江
 - C. 渭河、汉江
 - D. 雅砻江、赣江
23. 唐诗“朝辞白帝彩云间，千里江陵一日还。两岸猿声啼不住，轻舟已过万重山。”中船行之“快”主要是因为
- A. 行至下游，河面宽阔，利于船只行驶
 - B. 行至中游，河道曲折，径流量大
 - C. 行至上游，河道平直，船行不受干扰
 - D. 行至上游，顺流而下，水流湍急
24. 长江中下游地区容易形成洪涝灾害，主要是因为流域内
- ①降水集中，强度大
 - ②受损失人口多
 - ③中游河道弯曲
 - ④农业受灾面积广
 - ⑤支流众多，水系发达
 - ⑥财产损失大
- A. ①②③
 - B. ④⑤⑥
 - C. ①③⑤
 - D. ②④⑥

2013年底，我国启动“一方是独生子女的夫妇可生育两个孩子”的政策。2015年底，我国全面实施“一对夫妇可生育两个孩子”的政策，积极开展应对人口老龄化行动。图9为“北京市2012-2016年人口变化统计图”。结合图文资料，完成第25、26题。



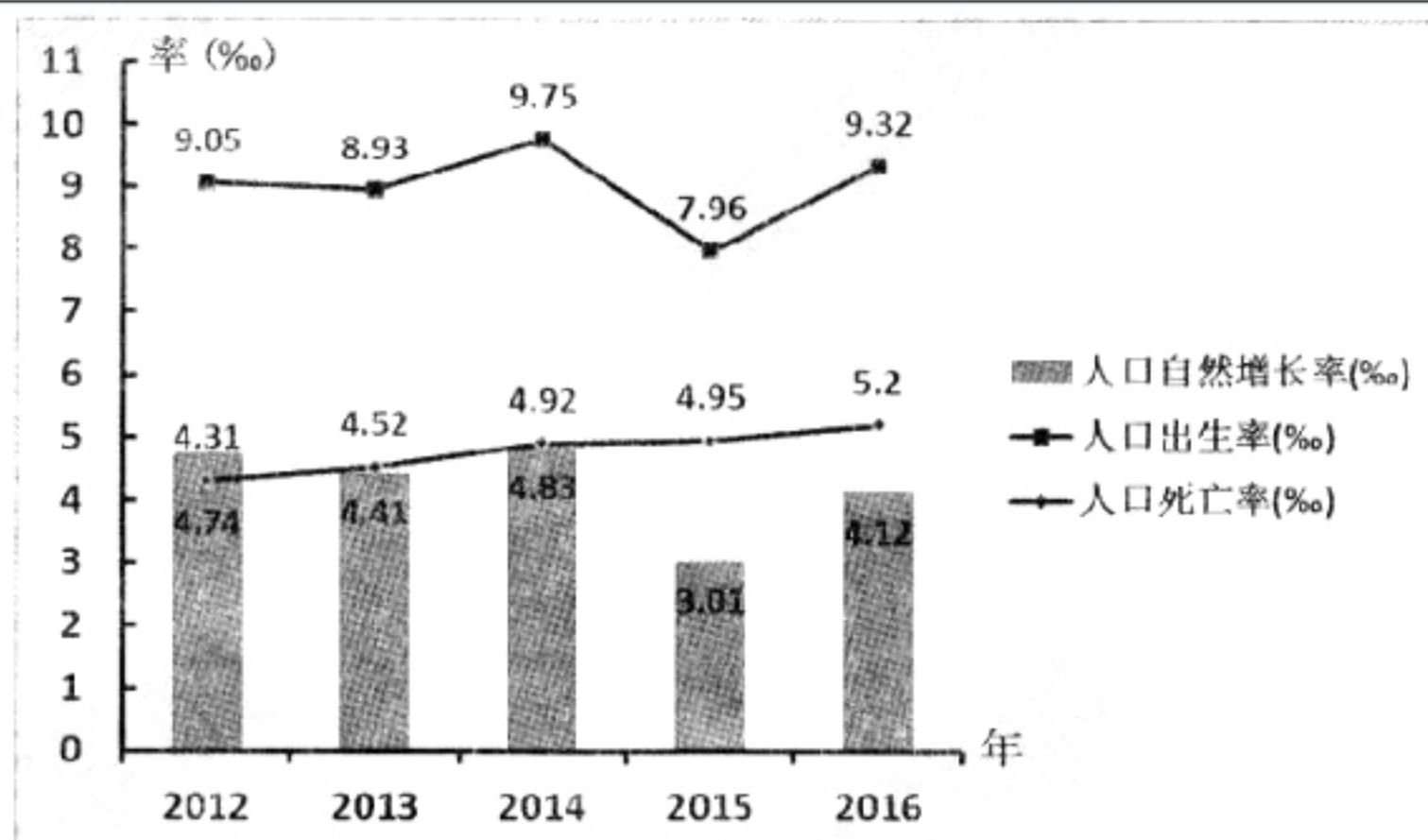


图9

25. 北京市

- A. 2015年人口出生率最低, 人口总数达最少
- B. 人口出生率与自然增长率的变化趋势相同
- C. 近五年内人口总数先增后减再增
- D. 出生率变化幅度小于死亡率

26. 北京市的人口变化

- A. 与我国人口政策密切相关
- B. 与当地自然环境变化密切相关
- C. 随当地医疗水平变化而变化
- D. 与北京市副中心建设密切相关

某地近年来兴起了稻鸭共作的耕作方式。农民将雏鸭放入水稻行间, 直至水稻收割前一个月左右将其收回。鸭子在稻田生活期间, 既可搅动泥水, 为水稻除草、松土、增氧, 又能起到控虫、供肥的作用。据此, 回答第27、28题。

27. 该地区最有可能是

- A. 三江平原
- B. 湟水谷地
- C. 吐鲁番盆地
- D. 鄱阳湖平原

28. 与传统水稻种植模式相比, 稻鸭共作模式

- ①降低化肥、农药使用量
 - ②降低土地资源的利用率
 - ③农产品多元化, 增加收入
 - ④提高农业的机械化水平
- A. ①② B. ③④ C. ①③ D. ②④

2017年7月, 全长2700多公里的京新高速公路(G7)全线贯通。结合图10, 完成第29~31题。

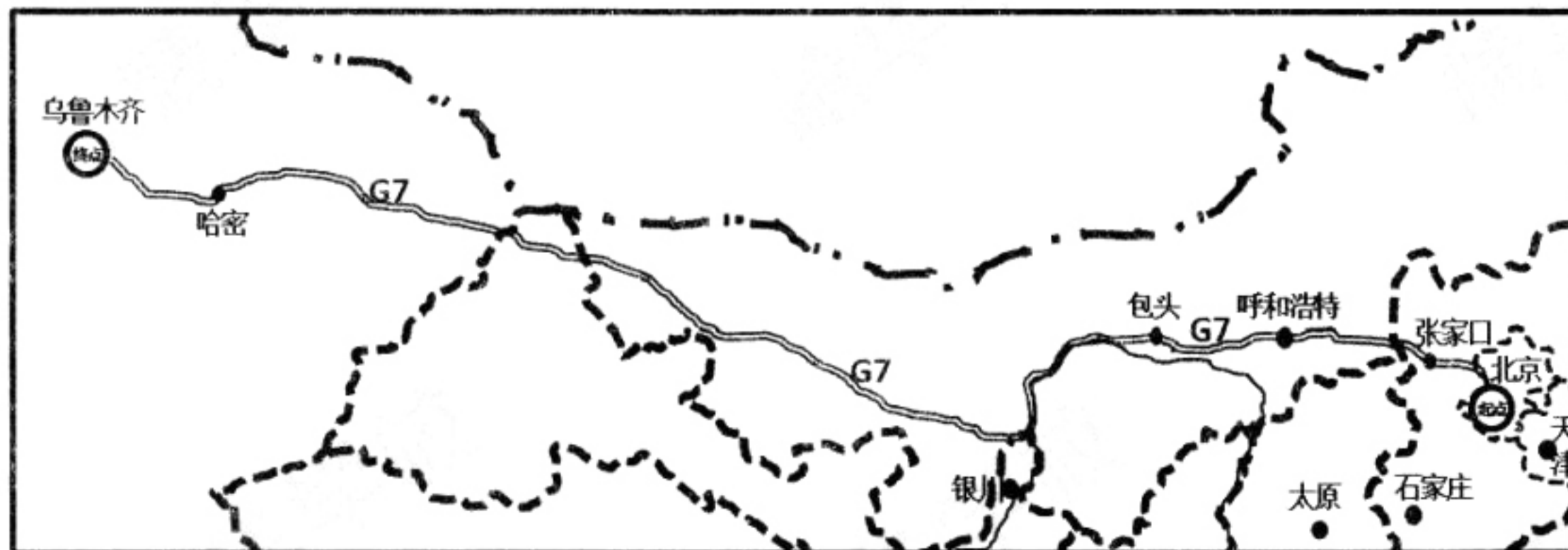


图10



29. 以下省级行政区中，京新高速经过的有
A. 冀、陇 B. 内蒙古、青 C. 新、辽 D. 津、晋
30. 京新高速穿越多种自然风光，有“最美高速公路”之称。同时，它也成了目前世界上穿越某种自然风光最长的高速公路。该自然风光是
A. 草原 B. 森林 C. 荒漠 D. 湖泊
31. 京新高速的贯通将
A. 使京新闻铁路客运运量大幅下降 B. 对京新闻航空运输产生巨大压力
C. 使甘、新一带的京籍自驾游增多 D. 不利于沿线地区经济社会的发展

读“我国部分省级行政区图”(图 11)，完成第 32、33 题。

32. 地跨我国南方、北方、青藏、西北四大区域的省级行政区是



图 11

- A. ① B. ②
C. ③ D. ④
33. A 城夏季气温低于 B 城，其主要影响因素是
A. 纬度位置
B. 经度位置
C. 海陆位置
D. 地形地势

读图 12“中国局部图”和图 13“贺兰山及附近景观示意图”，回答第 34、35 题。



图 12




图 13

34. 贺兰山
A. 位于甘、陕交界处 B. 是我国地势的阶梯分界线
C. 甲坡和缓，乙坡险峻 D. 大致东北—西南走向
35. 造成贺兰山东部平原与西部高原景观差异的主要原因是
A. 太阳辐射西多东少 B. 灌溉水源东多西少
C. 降水总量西多东少 D. 平均气温东高西低

我国幅员辽阔，民俗文化各具特色。读图 14，完成第 36、37 题。



甲



乙

图 14



36. 两图所示民俗文化主要分布在我国
- A. 甲—“火州”吐鲁番 乙—西南地区
B. 甲—云贵高原 乙—青藏地区
C. 甲—“水乡”江南 乙—西北地区
D. 甲—东南沿海 乙—青藏地区
37. 图中所示民俗文化特征受当地气候影响的说法中, 正确的是
- A. 甲: 降水丰沛, 河网密布
B. 乙: 地广人稀, 热情好客
C. 甲: 气温高, 气候炎热
D. 乙: 海拔高, 紫外线强烈

读图 15, 回答第 38~40 题。

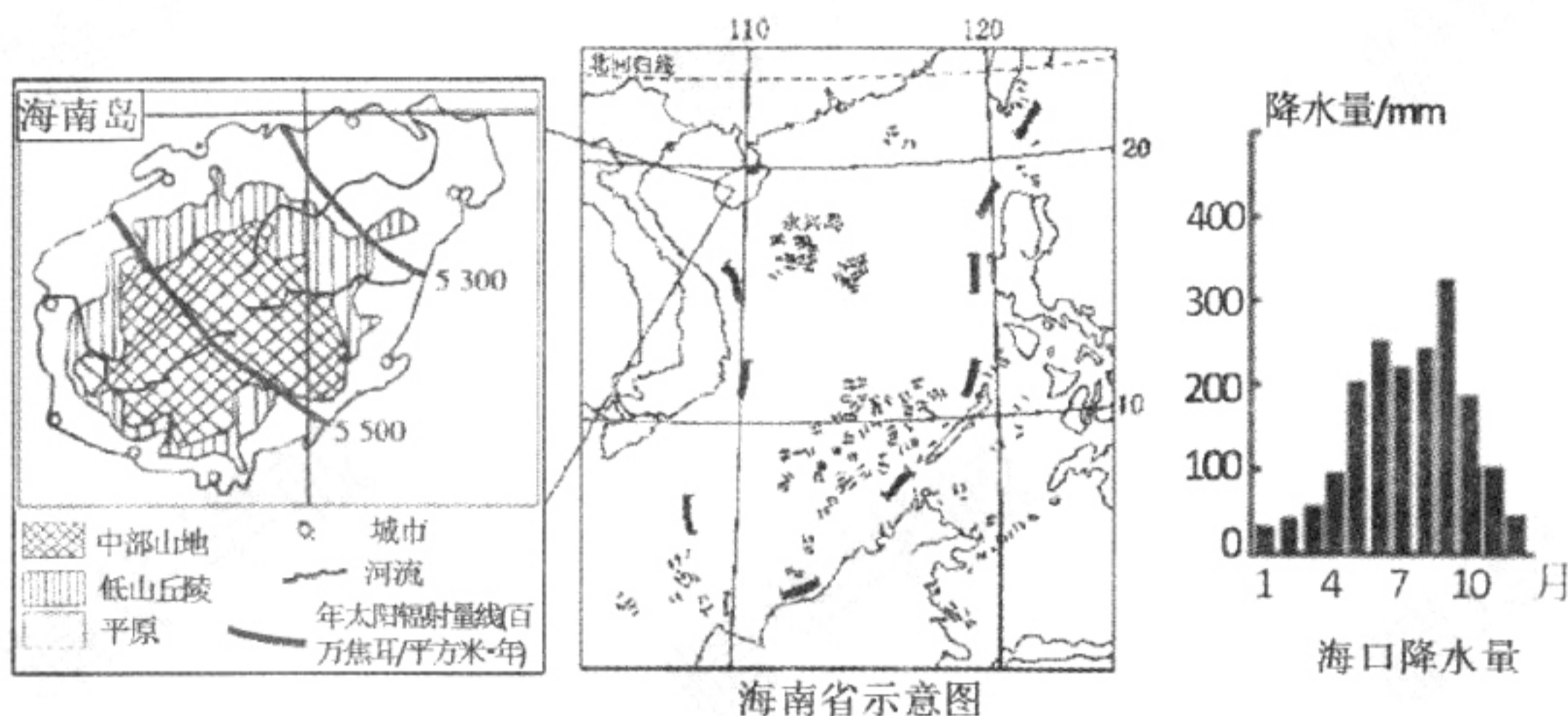


图 15

38. 关于海南省地理位置的描述与评价, 不正确的是
- A. 地处我国南部边陲, 四面环海, 背靠祖国大陆
B. 近港、澳, 遥望台湾, 内靠经济发达的长江三角洲, 外邻东南亚
C. 是我国与东南亚各国交往的十字路口, 地理位置十分优越
D. 既是我国大西南走向世界的前沿, 又是开发利用南海资源的基地
39. 海南岛的自然地理环境
- A. 地势中间高, 四周低, 呈阶梯状分布
B. 太阳辐射分布均匀, 光热资源丰富
C. 属于终年炎热多雨的亚热带季风气候
D. 河流相对短小, 流量季节变化小
40. 在积极打造国际旅游岛的过程中, 为保护好当地的海洋环境, 海南省可以
- ①扶持生态环保产业的发展
②提高公众的环境意识和参与意识
③加快沿海地区城市化的步伐
④加强海洋环境的管理和监测
⑤大力发展海上油气开发、港口和港湾工业
- A. ①②③ B. ②④⑤ C. ①②④ D. ③④⑤



二、综合题 (共 50 分)

41. 中国共产党第十九次全国代表大会在 2017 年 10 月 18~24 日在北京举行, 来自全国各阶层的代表齐聚人民大会堂, 共议国是。图 16 为天安门周边平面图。读图, 完成以下问题。(10 分)

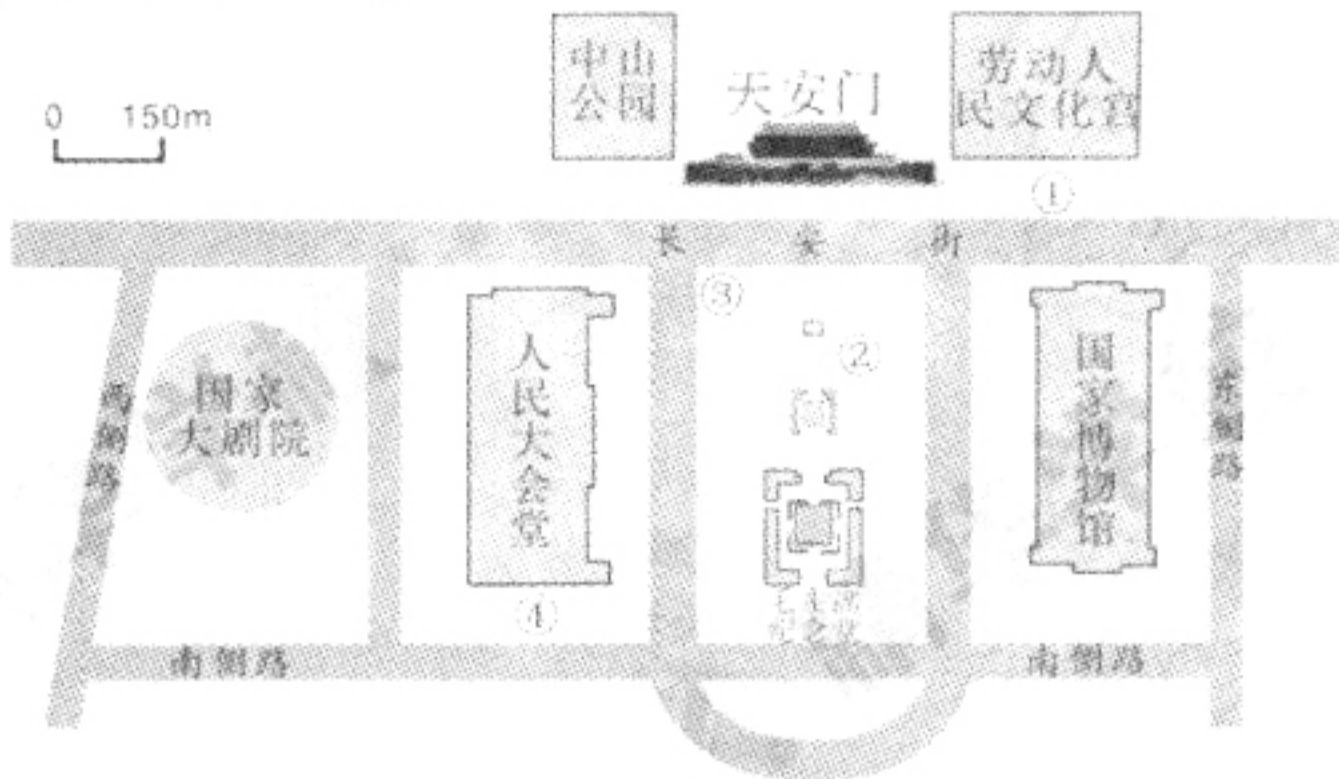


图 16

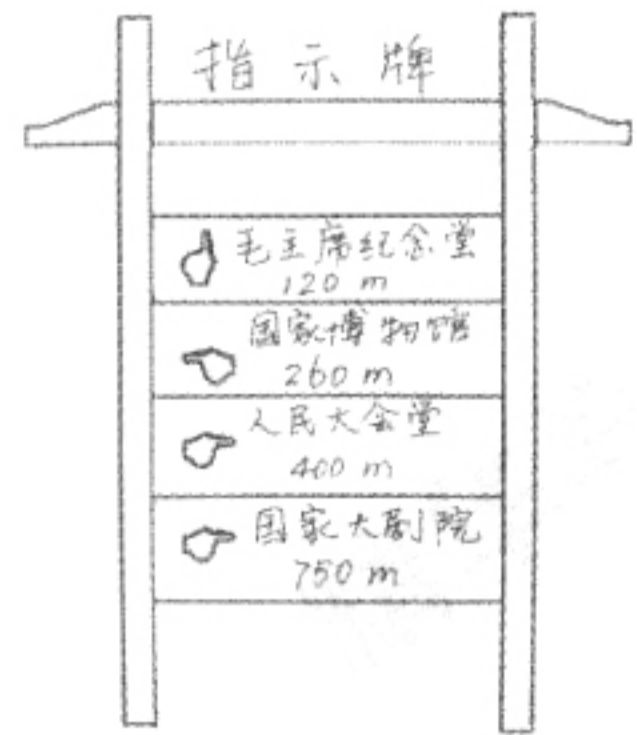
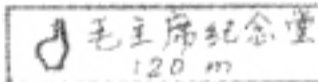
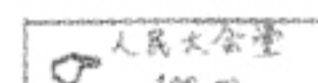


图 17

- 小明记得二十四节气歌中有“立秋处暑白露秋分寒露霜降”之句, 以及相邻两节气间大约间隔半个月。由此, 小明推算距十九大闭幕还有一个月时, 正值北半球的_____节气, 而会议闭幕之时, 接近北半球的_____节气。闭幕后的两个月内, 北京的昼夜长短变化情况是_____。
- 十九大闭幕后, 一位代表看到某学校实践活动小组同学正在手绘指示牌 (如图 17 所示), 便上前询问指示牌的含义。王同学解释道, 图 17 中所示为我前后左右的建筑离我现在位置的远近: 例如,  指毛主席纪念馆在我_____方_____米处;  指向_____行走_____米到达人民大会堂。由此可知, 王同学在图 16 中的位置是①②③④四地中的_____地, 面朝_____ (东/南/西/北) 方向。
- 该代表还询问了王同学此时北京最具季节性的旅游景点, 你认为王同学的推荐最可能是_____。

42. 阅读图 18, 完成以下问题。(13 分)

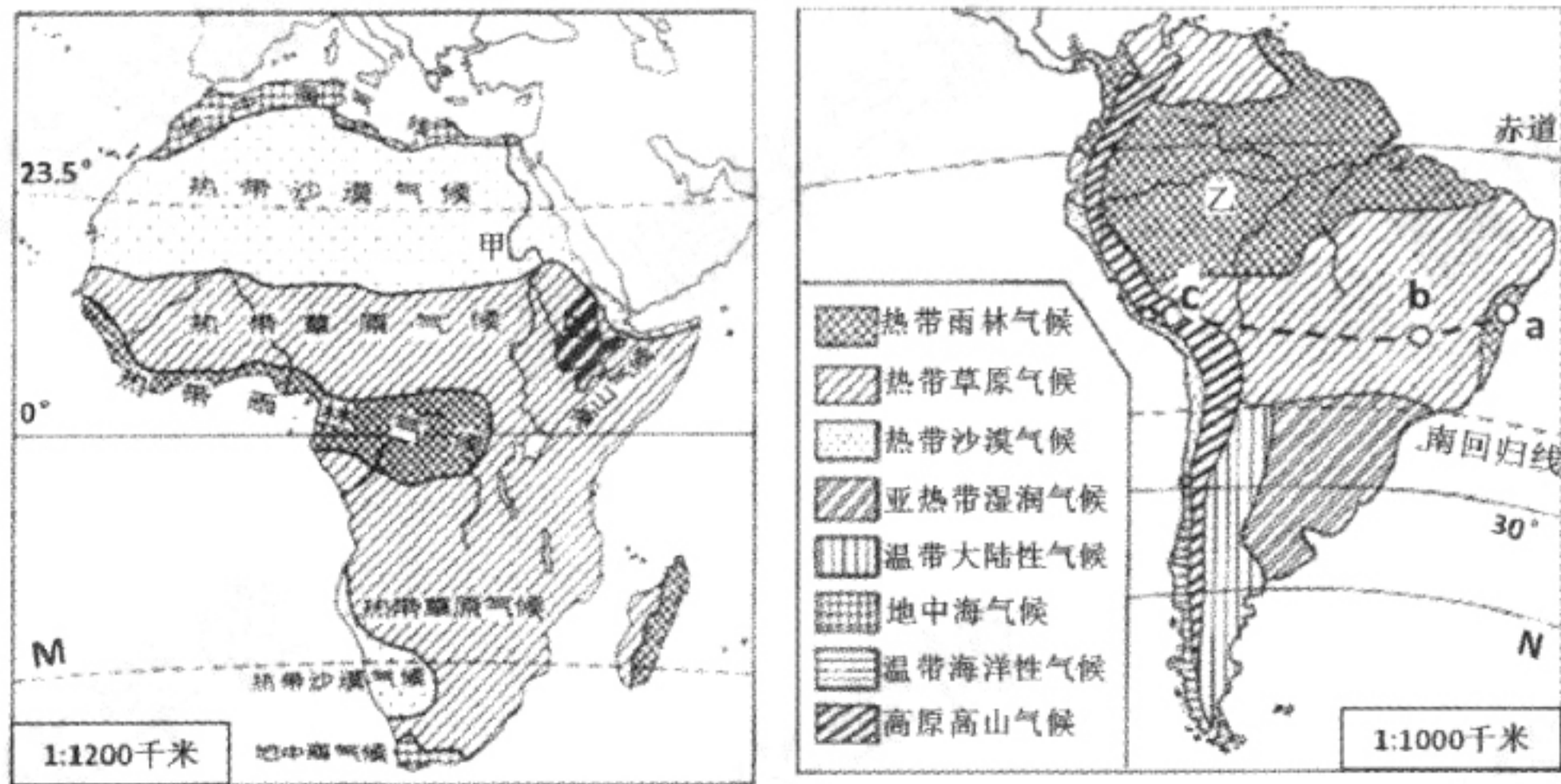
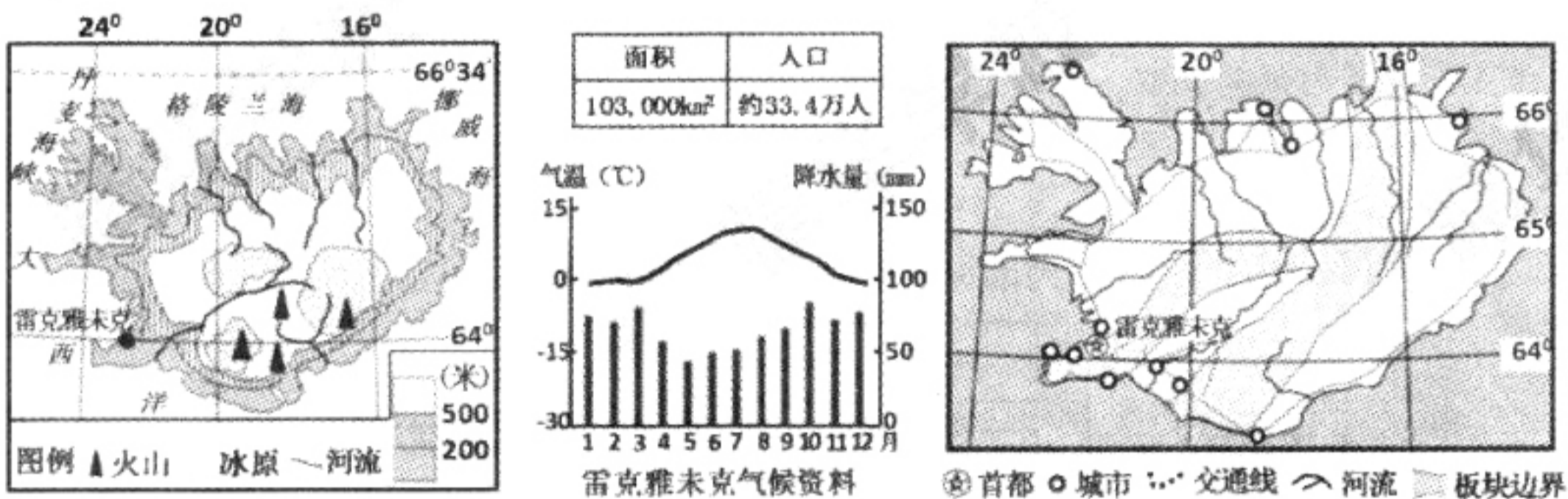


图 18



- (1) 图中 M、N 两纬线的纬度分别是_____、_____。
- (2) 非洲和南美洲气候的共同特征是均以_____带气候为主，都有面积广阔的_____气候和_____气候。两洲相比，以上两种气候按面积，非洲居世界第一位的是_____气候，而南美洲占世界第一位的是_____气候。
- (3) 与南美洲相比，非洲除了缺失亚热带湿润气候外，还缺失_____气候和_____气候，造成这种差异的主要原因是_____（选择填空）。
- A. 非洲纬度以赤道为中心呈对称分布
B. 非洲在同纬度地带没有陆地分布
C. 非洲地形类型单一，以高原为主
D. 南美洲西部安第斯山脉纵贯南北
- (4) 游客沿 a—b—c 路线旅行，可以欣赏到的自然景观依次是：_____、一片枯黄的草原、白雪覆盖的高山。
- (5) 历史上，某河（甲或乙）在每年 6~10 月定期泛滥，给下游沿岸地区带来肥沃的土壤。据图推断，该河是_____河，造成其定期泛滥的气候原因是_____。

43. 王阳运用以下地图（图 19）自主学习了欧洲国家—冰岛，并作了如下总结，但有多处错误。请你结合下列地图，找出其中的四处错误，将其抄写在下面横线上并加以改正。（8 分）



王阳总结：

冰岛地处北半球高纬度地区，是个西半球的国家，欧洲西北部、大西洋中的岛国。地势南高北低，致使河流呈放射状流向四周。由于冰岛地处板块边界，岛上多火山。因纬度较高，地处北极圈内，因此，这里冬季酷寒，夏季凉爽。但是，岛上降水较充沛且季节分配均匀，这一特征又影响到河流，使河流径流量较大且水量稳定。冰岛是个地狭人稠的国家，因受气候和地形影响，人口与城市集中分布于岛的东南部沿海地区，交通线呈环状分布。结合该国地理位置和气候可推知，该国农业以渔业和小麦种植业为主。

- 错误 1: _____, 改正: _____。
- 错误 2: _____, 改正: _____。
- 错误 3: _____, 改正: _____。
- 错误 4: _____, 改正: _____。



44. 阅读图文资料，完成下列问题。(9分)

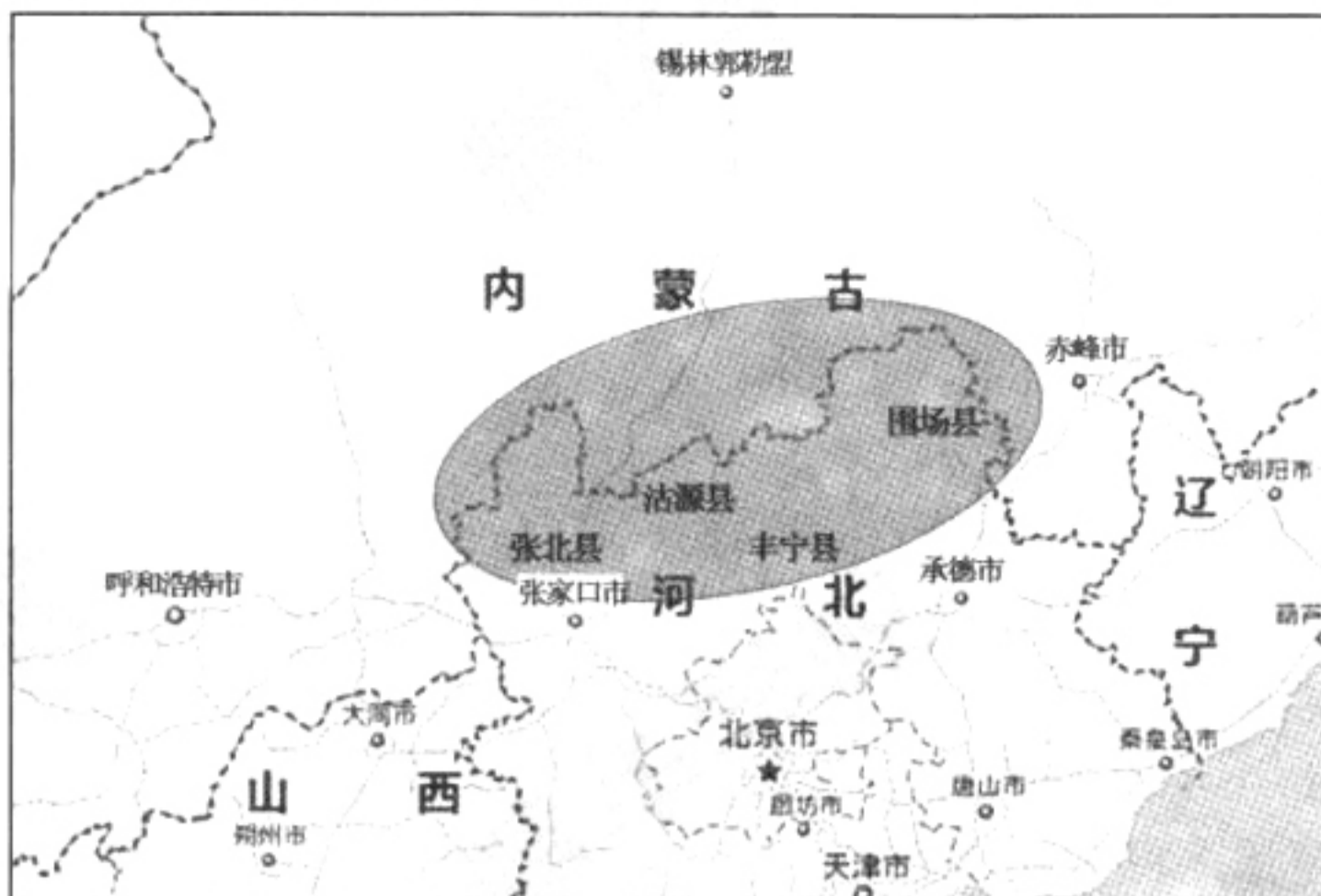
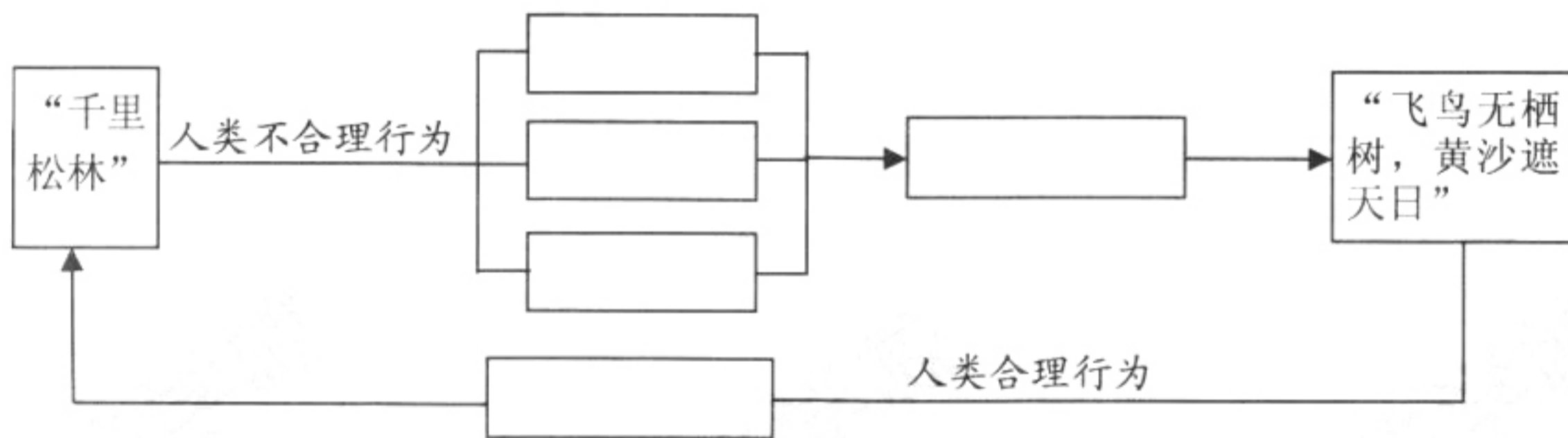


图 20

历史上的塞罕坝是一处水草丰沛、森林茂密、禽兽繁集的天然名苑。辽、金时期，这里被称作“千里松林”，曾是皇帝狩猎之所。自 1863 年起，清政府逐渐开围放垦，随之森林被破坏。后遭日本侵略者的掠夺采伐和连年山火，原始森林破坏殆尽，塞罕坝地区退化为高原荒丘。到解放初期，已是一派“飞鸟无栖树，黄沙遮天日”的荒凉景象。

1962 年起，在几代人的努力下，万顷林海在塞罕坝再现。1993 年塞罕坝国家森林公园建立。公园内风景秀丽，景观独具特色，被赞誉为“河的源头、云的故乡、花的世界、林的海洋、珍禽异兽的天堂”。

- (1) 塞罕坝地区地处_____地形区。
- (2) 依据资料，完成下列因果关系图，以正确表示塞罕坝自然环境的演变过程。



- (3) 资料中的赞誉说明塞罕坝万顷林海的再现对当地自然环境带来涵养水源、____、____等有利影响，而对地处其下风地带的京津等地的有利影响是_____。



45. 读“我国某省级行政区图”（图 21），完成下列问题。（10 分）



图 21

- (1) 以下世界遗产中，属于图中所示省级行政区的是_____（选择填空）。
A. 武夷山 B. 布达拉宫 C. 秦兵马俑 D. 桂林山水
- (2) 请在图中适当位置用“——”画出秦岭山脉。
- (3) 表 2 列举了秦岭—淮河作为我国重要界线的地理意义，请你将表格中空缺部分填写完整。

表 2

	1 月平均气温	年降水量	河流的封冻	耕地类型	主要粮食作物
以北地区	<0℃	①_____	有结冰期	③_____	小麦、玉米
秦岭——淮河					
以南地区	>0℃	>800 mm	②_____	以水田为主	④_____

某位教师在日记中写到：混沌的天空，着实分不清是阴霾还是污染。汽车驰骋在去往西安方向的高速路上，无垠的毛乌素沙地早已不再是脑海中的那个不毛之地，至少路两旁的绿化让过往的人们对它有了新的认识。此刻，汽车应该正好沿着长城前行，可放眼望去，却丝毫看不到长城的身影……临近傍晚时分，路上的运煤卡车逐渐多了起来，从旁边呼啸而过。这片荒芜的土地，人们因了煤而富裕，却也因它而陷入环境问题的苦痛之中。

- (4) 根据上述描写可知，该教师乘车行走在图中甲、乙两地中的_____地。当地丰富的矿产资源是_____。某班同学针对“是否继续开发利用当地该矿产资源？”的问题展开了激烈讨论。请表明你的观点_____，并说明理由_____。





丰台区 2018 年第一次统一练习

初三地理 参考答案

一、单项选择题（每小题 1 分，共计 40 分）

1	2	3	4	5	6	7	8	9	10
C	D	A	C	B	B	D	B	D	A
11	12	13	14	15	16	17	18	19	20
D	C	B	A	B	A	A	B	C	D
21	22	23	24	25	26	27	28	29	30
C	D	D	C	B	A	D	C	A	C
31	32	33	34	35	36	37	38	39	40
C	B	D	D	B	B	C	B	A	C

二、综合题（共计 50 分）

41. (10 分)

(1) (3 分) 秋分 霜降 昼变短夜变长

(2) (6 分) 前(南) 120 右(西) 400 ② 南

(3) (1 分) 香山红叶(合理即给分)

42. (13 分)

(1) (2 分) $23^{\circ}26' S/23.5^{\circ}S$ $40^{\circ}S$

(2) (5 分) 热 热带雨林 热带草原 热带草原 热带雨林

(3) (3 分) 温带大陆性 温带海洋性 B

(4) (1 分) 茂密的雨林

(5) (2 分) 甲 热带草原干湿季分明

43. (8 分)(找出并改正其中四处即得 8 分)

错误 1: 西半球 改正: 地跨东西半球

错误 2: 南高北低 改正: 中部高四周低

错误 3: 北极圈内 改正: 北极圈以南

错误 4: 冬季酷寒 改正: 冬季温和

错误 5: 地狭人稠 改正: 地广人稀

错误 6: 东南 改正: 西南/西

错误 7: 小麦种植业 改正: 畜牧业

44. (9 分)

(1) (1 分) 内蒙古高原

(2) (5 分) 从上往下从左往右依次为: 开围放垦 掠夺开采 连年山火 植被破坏 植树造林

(3) (3 分) 调节气候 美化环境 增加生物多样性 提高森林覆盖率 保持水土(答出其中两条即得 2 分) 防风固沙

45. (10 分)

(1) (1 分) C

(2) (1 分) 略

(3) (4 分) ① $<800mm$ ②无结冰期 ③以旱田为主 ④水稻

(4) (4 分) 甲 煤炭

是 增加就业机会, 提高收入, 改善当地人的生活质量, 促进当地经济发展。(合理即给分)

否 煤炭开采会造成生态破坏, 煤炭利用会产生环境污染等。(合理即给分)

