

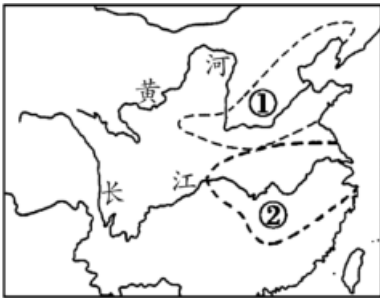
# 2023 北京大兴初三（上）期末

## 历史

2022.12

### 第一部分选择题（每小题 1.5 分，共 30 分）

1. 中国是世界上最早的农耕文明发祥地之一。下图中①②两处区域在新石器时代主要种植的粮食作物分别是（ ）



- A. 粟稻                      B. 粟小麦                      C. 小麦玉米                      D. 玉米粟

2. 下图为中国国家博物馆《古代中国》展览中的器物——“利簋”图片，器内底铸铭文记载了甲子日清晨武王伐纣这一重大历史事件。此记载与《尚书·牧誓》及《逸周书·世俘》的记录相符。由此可知



- A. 文献与文物都不可相信  
B. 文物与文献可互相参证  
C. 文献记录更具有真实性  
D. 文物与文献同时代出现

3. 某同学搜集了以下信息。据此可知，他探究的史实是（ ）


政治	确立县制，由国君直接派官吏治理
经济	鼓励耕织，生产粮食、布帛多的人可免除徭役
军事	奖励军功，对有军功者授予爵位并赏赐土地

- A. 商鞅变法                      B. 秦始皇巩固统一  
C. 北魏孝文帝改革                      D. 王安石变法

4. 将“仁”作为处理人与人关系 最高行为准则和道德规范，提出“仁者爱人”“己欲立而立人，己欲达而达人”的学派是（ ）

- A. 儒家                      B. 道家                      C. 法家                      D. 墨家

5. 下面图文材料说明 ( )

 <b>南朝青瓷刻花单柄壶</b>	<p>《晋书·食货志》记载东晋后期南方的情形是：“天下无事，时和年丰，百姓乐业，谷帛殷阜，几乎家给人足矣。”</p>
---	--

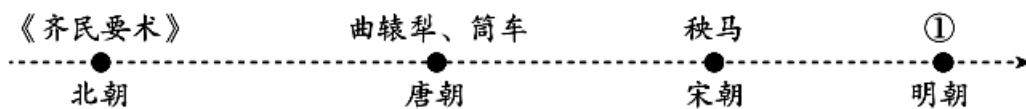
- A. 三国鼎立局面形成                      B. 文学艺术繁荣发展  
 C. 江南地区得到开发                      D. 南方经济超过北方

6. 某历史公众号准备推送一期专题—隋唐时期的繁荣和开放。下列各项可以放进专题资源包的是 ( )

- ①唐诗：杜甫《忆昔二首》 ②实物：唐戴帷帽女子骑马雕塑  
 ③图片：隋朝大运河示意图 ④视频：《国宝档案—清明上河图》

- A. ①②③                      B. ①②④                      C. ①③④                      D. ②③④

7. 下面示意图中①处应为 ( )



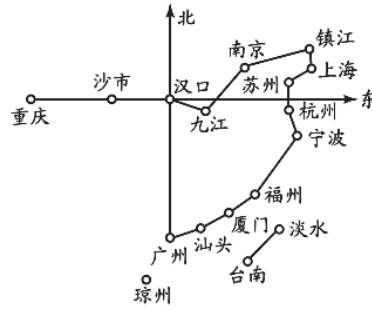
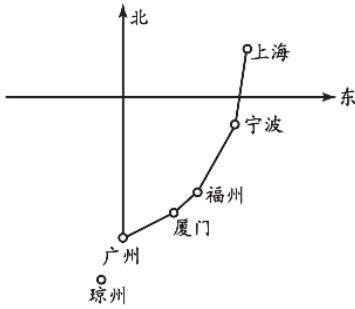
- A. 《资治通鉴》                      B. 《本草纲目》                      C. 《农政全书》                      D. 《红楼梦》

8. 中国古代历史对世界历史发展产生深远影响。以下各项对应正确的是 ( )

序号	史实	影响世界
A	丝绸之路	古代东西方往来的大动脉,对于中国同其他国家和地区的贸易与文化交流,起到了极大的促进作
B	鉴真东渡	用在印度传授佛经,还传播中国的医药、文学、书法、建筑、绘画等,为中印文化交流作出了卓越的贡献
C	指南针	经阿拉伯商人传到欧洲,对欧洲的火器制造和作战方式产生应用巨大影响,推动了欧洲社会的变革
D	郑和下西洋	增进了中国与欧洲国家和地区的直接了解和友好往来

- A. A                      B. B                      C. C                      D. D

9. 比较下面两幅中国近代开放商埠平面示意图，可以得出的正确结论是 ( )



- A. 宏大的农民战争抵挡住了外国侵略势力
- B. 西方侵略者不断割占清政府的大片领土
- C. 外国侵略势力从东南沿海深入到了腹地
- D. 清政府完全沦为了半殖民地半封建社会

10. 张之洞掌管湖北期间，重点发展汉阳当地工业，建设长江中游交通网；左宗棠掌管福建期间，大力发展当地沿海区域的航海及船舶工业，并建立了厦门这一近代化城市。据此可知，洋务运动（ ）

- A. 成立了总理衙门
- B. 巩固了清政府统治
- C. 创办了新式学堂
- D. 推动了中国近代化

11. 依据下面资料，可以得出（ ）

1895年，梁启超创办《万国公报》，创民间人士自己发表政论之始。1896年，梁启超担任《时务报》主编，他把八股文抛在一边，主张言文一致，文体解放。一年多的时间，发表近40篇文章，大受读者的欢迎。《时务报》在国内70县市及港澳、日本、新加坡等地开设了100多个分销处，发行量达1.2万份

- A. 维新运动实现了救亡图存目的
- B. 维新运动为中国工业近代化奠定基础
- C. 维新运动沉重打击了封建统治
- D. 维新运动在思想文化上产生广泛影响

12. 有学者认为，辛亥革命是20世纪中国第一个最具有重大历史意义的历史事件，这是自秦统一以来中国历史最伟大的一次历史性转折。以下史实能支持这一观点的是（ ）

①中华民国建立②宣统帝下诏退位③提倡白话文④颁布《中华民国临时约法》

- A. ①②③
- B. ①②④
- C. ①③④
- D. ②③④

13. 1920年马克思主义学说研究会、马克思主义研究会等团体纷纷成立，中国出现传播马克思主义的思潮。当时，为这股思潮传播作出贡献的人物有（ ）

- A. 林则徐魏源
- B. 康有为梁启超
- C. 陈天华邹容
- D. 陈独秀李大钊

14. 中国共产党在新民主主义革命时期，培育了一系列体现时代要求、彰显政党性质的伟大中国精神，如红船精神、长征精神等。其中“红船精神”源于（ ）

- A. 新文化运动
- B. 中共成立
- C. 国共合作
- D. 北伐战争

15. “以农村包围城市，最后夺取政权”是中国共产党走出的符合中国国情的革命道路。这条道路开始于（ ）

- A. 辛亥革命
- B. 中国共产党成立

C. 第一次国共合作

D. 井冈山革命根据地的创建

16. 下面是某同学整理的笔记（部分），其中①处应填写的是（ ）

新民主主义 革命时期中 共重要会议	中共三大	正式决定同国民党合作,建立革命统一战线
	古田会议	确立了“思想建党、政治建军”的建党建军原则
	①	确立了以毛泽东为主要代表的马克思主义正确路线在中共中央的领导地位
	瓦窑堡会议	确立了建立抗日民族统一战线的方针

A. 中共一大

B. 八七会议

C. 遵义会议

D. 中共七大

17. 下面漫画反映的历史史实是（ ）



A. 挺进大别山

B. 辽沈战役胜利

C. 渡江战役成功

D. 占领南京

18. 戈雷岛位于西非佛得角半岛西南，是非洲距美洲大陆最近 岛屿。因此，戈雷岛是连接非洲、美洲、欧洲航线上的枢纽，它是奴隶船的理想交接站。戈雷岛见证的历史是（ ）

A. 文艺复兴

B. 三角贸易

C. 法国大革命

D. 工业革命

19. 下面两则法律文件，共同维护了（ ）

“财产是神圣不可侵犯的权利。”

——《人权宣言》

“个人可以自由支配属其所有的财产。”“任何人财产都不得遭受剥夺。”

——《拿破仑法典》

A. 议会的国家最高权力

B. 封建王权专制统治

C. 资产阶级的革命成果

D. 拿破仑战争的成果

20. 1848年，在伦敦出版的一份宣言成为“所有国家千百万工人共同的纲领，全部社会主义文献中传播最广和最国际性的著作。”该宣言是（ ）

A. 《大宪章》

B. 《权利请愿书》

C. 《拿破仑法典》

D. 《共产党宣言》

## 第二部分材料分析题（共 40 分）

### 21. 统一多民族国家的形成与发展

材料一：①秦朝创立皇帝制度，确立了皇帝至高无上的统治地位。

②汉武帝实施“推恩令”，建立刺史制度，中央对地方的控制大大加强。

③唐朝设置安西都护府、北庭都护府，管辖天山南北地区。

④戚继光抗倭，巩固了东南海防，保障了沿海人民生命安全和祖国的海疆安全。

⑤郑成功收复台湾，打击了荷兰殖民侵略势力。

（1）将材料一中的史实与以下观点相对应。（写序号，多选、少选、错选不得分）

●建立与完善中央集权制度，有利于统一多民族国家的建立和巩固：\_\_\_\_\_

●中央政府对边疆进行管辖，维护了边疆稳定，巩固国家统一：\_\_\_\_\_

●反对外来侵略，维护领土完整、国家统一：\_\_\_\_\_

材料二：中国古代王朝形势图、疆域图



①



②



③



④

（2）将材料二中的地图按时间排序。（1分。写序号）结合所学，写出排序的理由。

材料三：1988年，费孝通在《中华民族的多元一体格局》一文中提出：中华民族是包括中国境内56个民族的民族实体，56个民族已结合成相互依存的、统一而不能分割的整体；形成多元一体格局有一个从分散的多元结合成一体的过程……1995年，白寿彝在《关于“统一的多民族国家”的几点体会》一文中提出：在统一的发展过程中间，“多”不是削弱了“一”，而是丰富了“一”，各民族都有他自己的特点，都有他们对历史上的贡献，都有可能对历史上作更多的贡献。

(3) 分别概括材料三中两位学者的观点。

22. 青年学生与国家、社会共命运

材料一：

时期	近代学校	开设课程
洋务运动期间	京师同文馆	英文、法文, 俄文、算学、天文学
	福州船政学堂	造船、轮机、航海理论、英文、法文、几何、数学、微积分、物理、机械等
甲午战后	北洋西学堂	法律、采矿冶金、土木工程, 机械等
百日维新时期	京师大学堂	准备设立天学、地学、道学、政学、文学、武学、农学、工学、商学、医学十科

(1) 依据材料一，分析近代学校创办的作用。

材料二：卡片 A：

1919年5月4日,北京3000多名学生汇集在天安门前举行示威游行,学生们提出“外争主权,内除国贼”“誓死力争,还我青岛”“取消二十一条”“拒绝在和约上签字”等口号,要求严惩亲日派卖国贼

卡片 B：

1935年12月9日,在中国共产党的领导下,北平数千名学生冒着严寒聚集在新华门前,向国民党请愿。他们高呼“打倒日本帝国主义”“反对华北自治”“停止内战,一致对外”等口号,并举行示威游行

(2) 分别说出材料二中卡片 A、B 相关史实。依据材料二并结合所学，比较二者的相同点。

材料三：全民族抗战爆发后，中国共产党坚持全面抗战路线，取得了一系列战果，鼓舞了全国军民的信心。一时间，中共中央所在地延安成为令人向往的圣地，“到延安去”成为不愿做亡国奴的人们的共同选择。广大知识青年从国统区、沦陷区、海外奔赴延安，投身革命事业。他们中有工人农民的子弟，也有地主资本家的儿女；有丁玲、洗星海等文学家、音乐家、戏剧家、电影明星、新闻记者、律师、医生、军官、教

师等，更多的是青年学生。他们接受了革命教育后，有的留在边区，绝大多数奔赴各抗日根据地。

——摘编自统编教材《中国历史》八年级上册

(3) 依据材料三，提炼一个观点，并运用相关史实加以说明。

材料四：青年强，则国家强。一百年前，一群新青年高举马克思主义思想火炬，在风雨如晦的中国苦苦探寻民族复兴的前途。一百年来，在中国共产党的旗帜下，一代代中国青年把青春奋斗融入党和人民事业，成为实现中华民族伟大复兴的先锋力量。

——摘自习近平庆祝中国共产党成立 100 周年大会讲话、二十大报告讲话

(4) 结合所学，谈谈对材料四内容的理解。

### 23. 近代欧洲的社会转型

材料一：艺术家身份的转变是西方艺术史发展的重大突破。古希腊时期，从事绘画和雕塑的艺术家通常被视为卑下的体力劳动者，因而遭到社会精英的鄙视。在中世纪，艺术家一般与鞋匠、面包师、理发师等手艺人伍，即便杰出的艺术家也只被视为技艺熟练的匠人。从 14 世纪开始，艺术家的价值和尊严得到确立，博学多识的“自由艺术家”与“诗意的艺术家”取代手艺人成为艺术家的典范，甚至还被视为天才。

——摘编自刘君《文艺复兴时期艺术家身份与形象建构》

(1) 依据材料一，概括艺术家身份的变化。结合所学，分析变化原因。

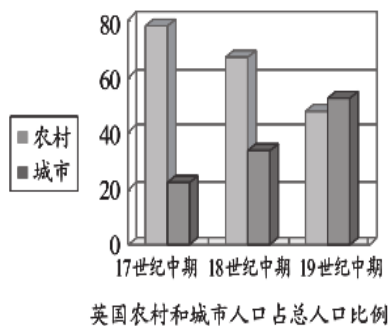
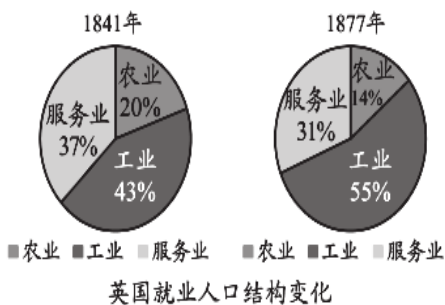
材料二：英美法资产阶级革命大事年表

	英国资产阶级革命	③	法国大革命
开始标志	1640 议会的重新召开	1775 来克星顿枪声	1789 巴黎人民攻克巴士底狱
领导人	克伦威尔	华盛顿	资产阶级
法律文献	①	《独立宣言》	《人权宣言》
政治体制	确立②	确立联邦共和制政体	确立议会共和制政体

(2) 将材料二①②③处内容填写完整。依据材料二并结合所学，概括英美法资产阶级革命历史意义。

材料三：英国从 1770 年到 1840 年，每个工人的生产率平均提高 20 倍，英国原棉消耗量从 1800 年的 5200 万磅，到 1840 年的 45590 万磅，生铁产量 1720 年为 25000 吨，1840 年增至 139400 吨。煤产量 1770 年为 260 万吨，1840 年增至 3000 万吨。




——摘自吴于廑、齐世荣《世界近代史》



(3) 依据材料三并结合所学，分析工业革命给英国带来的影响。

## 24. 历史上的交流

材料一：马可·波罗见证交流

①	②	③
 <p><b>元代急递铺令牌</b> 急递铺是元代驿站中的一种，主要传递紧急军情。《马可·波罗行纪》中记载：大汗有无数铺卒，日夜递送十日路程之文书消息。缘铺卒递送，日夜皆然，脱有必要时，百日路程之文书消息，十日夜可以递至，此诚伟举也。</p>	 <p><b>扬州马可·波罗纪念馆</b> 1282年，马可·波罗自大都沿着大运河南下前往扬州赴任。《马可·波罗行纪》中记载：每年有大批的谷米运集在瓜州（今扬州），其中绝大部分是运往汗八里城，供给皇帝的臣民。</p>	 <p><b>德化窑青白釉印花四系罐</b> 德化白瓷是泉州港口进行海外贸易的重要商品。《马可·波罗行纪》中记载：此处造碗及瓷器既多且美。</p>

(1) 从材料一中任选一项马可·波罗的见闻，说明元代的社会发展情况。（示例除外）

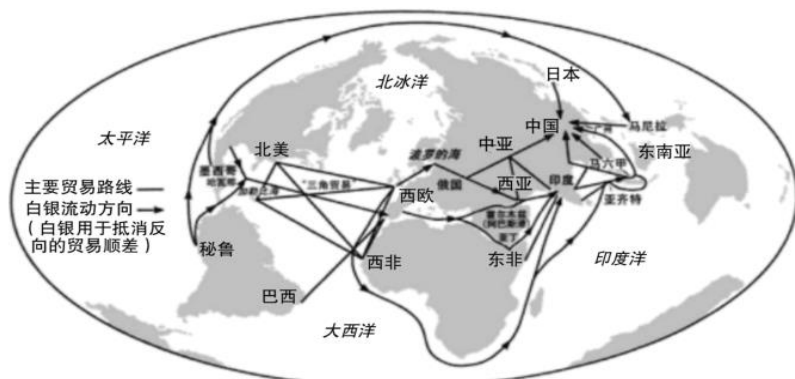
示例：②说明元代大运河是沟通南北的重要交通线，折射出元朝时大运河航运发达。

材料二：15世纪末期的欧洲，商品经济日益发展，货币的需要量大大增加，西欧的国王、贵族和商人到处追求黄金白银。《马可·波罗行纪》中描绘了东方遍地黄金的景象，无数探险者在其鼓励下去寻找传说中的东方财富。然而，1453年奥斯曼帝国的军队占领了地中海东部的广大地区，控制了东西方之间的通商要道，从此东方运到欧洲的商品数量急剧减少，价格猛涨。于是，欧洲航海家们开启了一场寻找新航路的探险。

——摘编自王斯德《世界通史》

(2) 依据材料二，分析寻找新航路的原因。结合所学，举出开辟新航路过程中一位航海家及其活动。

材料三：主要的环球贸易路线（1400-1800年）



——贡德·弗兰克《白银资本：重视经济全球化中的东方》

地理大发现后，新的商品开始在欧洲市场上出现。美洲的烟草、可可，中国的茶叶、瓷器，印度的蔗糖、香水，北亚和北美的毛皮，都成了国际贸易的重要商品。咖啡、大米、香料、布匹等的交易量也大增。由地



理大发现带来的舶来品还使一些新的工业行业得到了蓬勃发展。欧洲的各种商品，主要是手工业产品也大量倾销到东方沿海国家、东非、美洲，流入北亚。

——摘编自萧国亮《世界经济史》

(3) 依据材料三，概括 1400 年—1800 年世界贸易 特点。

## 参考答案

### 1. 【答案】A

#### 【解析】

【详解】根据题干和所学知识可知，①位于北方黄河流域，②位于南方长江中下游地区，北方先民种植的农作物是粟和黍，南方长江中下游的先民种植的农作物是稻，A项正确；小麦和玉米不是原产我国的农作物，排除BCD项。故选A项。

### 2. 【答案】B

#### 【解析】

【详解】“利簋”属于文物，《尚书·牧誓》及《逸周书·世俘》属于文献。分析题文信息：“利簋”底铸铭文记载了甲子日清晨武王伐纣这一重大历史事件。此记载与《尚书·牧誓》及《逸周书·世俘》的记录相符。从题文信息我们得出的结论是：文物与文献可互相参证。故B符合题意。A说法错误，故A不符合题意；文物与文献相比，文物更具有真实性。故C说法错误，不符合题意；“利簋”和《尚书·牧誓》及《逸周书·世俘》的出现时间不同，故D说法错误，不符合题意。故选B。

点睛：解答本题的关键是认识“利簋”属于文物，《尚书·牧誓》及《逸周书·世俘》属于文献。

### 3. 【答案】A

#### 【解析】

【详解】根据题干可知，确立县制、鼓励耕织和奖励军功是战国时期的秦国商鞅变法的措施，A项正确；秦始皇巩固统一包括统一文字、统一货币和度量衡、统一车轨等，排除B项；北魏孝文帝改革的措施是迁都洛阳以及一系列汉化措施，排除C项；王安石变法的主要措施是募役法、方田均税法、农田水利法、青苗法、保甲法等，排除D项。故选A项。

### 4. 【答案】A

#### 【解析】

【详解】依据所学知识，春秋时期孔子创立儒家学派。孔子的核心思想之一是“仁”，强调将“仁”作为处理人与人关系的最高行为准则和道德规范，提出“仁者爱人”“己欲立而立人，己欲达而达人”，A项正确；春秋时老子创立道家学派，提出朴素的辩证法、“无为而治”等，排除B项；战国时期法家韩非子提出以法治国、建立中央集权专制统治等，排除C项；战国时期墨家墨子提出“兼爱”“非攻”等，排除D项。故选A项。

### 5. 【答案】C

#### 【解析】

【详解】根据图文材料可知，南朝青瓷刻花单柄壶体现了江南地区的手工业发展水平，“天下无事，时和年丰，百姓乐业，谷帛殷阜，几乎家给人足矣。”体现了东晋后起南方农业生产发展进步。上述材料均是江南地区得到开发的表现，C项正确；三国鼎立局面的形成与材料中的南朝和东晋无关，排除A项；图文材料展现的是经济发展情况，与文学艺术发展无关，排除B项；东晋南朝时期南方经济发展总体上没有超过北方，南方经济超过北方体现的是经济重心南移，这一局面完成于南宋时期，排除D项。故选C项。

### 6. 【答案】A

**【解析】**

**【详解】**依据题干“隋唐时期的繁荣和开放”以及所学知识可知，“唐诗：杜甫《忆昔二首》”反映了唐玄宗前期开元盛世的局面，”实物：唐戴帷帽女子骑马雕塑“反映了唐朝的手工业发展状况以及社会风气的开放，”图片：隋朝大运河示意图“反映了隋朝大运河的开通有利于南北经济文化交，①②③正确；

《清明上河图》是北宋画家张择端的作品，反映了北宋都城东京的繁华景象，与隋唐时期不符，排除④。A项正确，排除BCD项。故选A项。

7. **【答案】**C

**【解析】**

**【详解】**示意图中①处对应的是明朝，而且依据示意图展示的“《齐民要术》”“曲辕犁、筒车”“秧马”等可知，该示意图与中国古代农业的发展状况有关，据此分析。明朝徐光启所著的《农政全书》是中国古代著名的农学著作，C项正确；《资治通鉴》是北宋司马光所著的史学著作，《本草纲目》是明朝李时珍所著的药理学著作，《红楼梦》是清代曹雪芹所著的小说，排除ABD项。故选C项。

8. **【答案】**A

**【解析】**

**【详解】**依据题干和所学知识，西汉张骞出使西域沟通了丝绸之路，成为古代东西方往来的大动脉，对于中国和世界其他国家地区的经济文化交流起到了极大的促进作用，A项正确；唐朝时期鉴真东渡日本，在日本大力传播中华文化，为中日文化交流做出了卓越贡献，而为中印文化交流做出卓越贡献的是玄奘，排除B项；火药经阿拉伯商人传到欧洲，对欧洲的火器制造和作战方式产生了极大的影响，排除C项；明朝郑和下西洋促进了中国与亚非国家和地区的友好往来，排除D项。故选A项。

9. **【答案】**C

**【解析】**

**【详解】**依据两幅示意图和所学知识可知，图左反映的是鸦片战争后中国清政府被迫开放广州、厦门、福州、宁波、上海五处通商口岸，五口通商主要集中在东南沿海地区，而图右反映的是甲午中日战争后清政府又被迫开放沙市、重庆、苏州、杭州等地为通商口岸，这些通商口岸已经深入到了中国内地长江中上游地区，由此可以得出正确的结论是外国侵略势力逐渐从东南沿海深入到了中国内地，C项正确；题干没有反映农民战争抵挡住了了外国侵略势力，而且近代历史上的太平天国、义和团农民运动都以失败告终，排除A项；题干反映的不是西方侵略者割占领土，而是清王朝开放通商口岸，排除B项；清政府完全沦为半殖民地半封建社会是在八国联军侵华战争以及《辛丑条约》签订之后，排除D项。故选C项。

10. **【答案】**D

**【解析】**

**【详解】**根据题干可知，“发展汉阳当地工业，建设长江中游交通网”“大力发展当地沿海区域的航海及船舶工业，并建立了厦门这一近代化城市”说明洋务运动推动了中国近代化进程，是中国近代化的开端，D项正确；题干没有提及总理衙门和创办新式学堂，排除AC项；巩固清政府统治是洋务运动的主观目的，但题干体现不出这一目的是否实现，且从实际结果看，洋务运动最终破产，没有达到富国强兵，维护清朝统治的目的，排除B项。故选D项。

11. 【答案】D

【解析】

【详解】依据“一年多的时间，发表近40篇文章，大受读者的欢迎”“《时务报》在国内70县市及港澳、日本、新加坡等地开设了100多个分销处，发行量达1.2万份”和所学知识可知，反映了梁启超作为维新派的代表人物，在维新变法运动过程中积极宣传维新思想，从而在思想文化上产生广泛影响，D项正确；维新变法运动最终以失败告终，并未能实现救亡图存的目标，排除A项；开启中国工业近代化的是洋务运动而非维新运动，排除B项；题干没有体现维新运动沉重打击了封建统治，而是反映梁启超积极宣传维新思想产生的思想启蒙作用，排除C项。故选D项。

12. 【答案】B

【解析】

【详解】依据题干和所学知识，1911年10月10日武昌起义爆发，揭开辛亥革命的序幕，1912年元旦，孙中山在南京宣告中华民国建立，1912年2月，宣统皇帝下诏退位，辛亥革命推翻了清王朝统治和2000多年的封建帝制，1912年3月，孙中山又颁布《中华民国临时约法》，以法律形式确立了资产阶级民主共和政体，①②④正确；1915年陈独秀等进步知识分子发动新文化运动，提倡民主科学、提倡新道德、提倡白话文等，③与辛亥革命不符。B项正确，排除ACD项。故选B项。

13. 【答案】D

【解析】

【详解】依据所学知识，1915年陈独秀等进步知识分子发起新文化运动，在新文化运动的过程中，李大钊率先举起社会主义的大旗，在中国积极宣传马克思主义和俄国十月革命，而陈独秀等知识分子也逐渐转变为马克思主义者，D项正确；林则徐、魏源在鸦片战争后提出“师夷长技以制夷”的思想主张，排除A项；康有为、梁启超在19世纪末发起维新变法运动，主张实行君主立宪、变法图强，排除B项；陈天华、邹容是20世纪初民主革命宣传家，积极宣传资产阶级民主革命思想，排除C项。故选D项。

14. 【答案】B

【解析】

【详解】依据所学知识，1921年7月，中共一大在上海召开，宣告中国共产党成立，而会议最后一天转移到浙江嘉兴南湖的游船上举行，这就是著名的“红船”，因此“红船精神”源于中共成立，B项正确；1915年，陈独秀等人发起新文化运动，此时中国共产党尚未成立，排除A项；1924年国共实现第一次合作，并于1926年进行北伐战争，但是与“红船精神”不符，排除CD项。故选B项。

15. 【答案】D

【解析】

【详解】依据所学知识，国民大革命失败、国共第一次合作破裂后，中国共产党发动多次武装起义来回击国民党的屠杀政策，1927年9月，毛泽东领导湘赣边界秋收起义，在起义受挫的情况下，果断提出向敌人力量薄弱的农村山区进军，从而创建了第一个农村革命根据地井冈山革命根据地，并根据井冈山根据地斗争的经验，提出了“以农村包围城市，最后夺取政权”的正确革命道路，D项正确，排除C项；辛亥革命是孙中山为首的资产阶级革命党人发动的推翻清王朝统治的民主革命，此时中国共产党尚未成立，排除A

项；1921年中国共产党成立，但此时还没有明确提出“农村包围城市”的革命道路，排除B项。故选D项。

16. 【答案】C

【解析】

【详解】依据笔记中①处对应“确立了以毛泽东为主要代表的马克思主义正确路线在中共中央的领导地位”并结合所学知识可知，与之相关的是遵义会议，1935年初中共中央于长征途中在贵州遵义召开了著名的遵义会议，集中全力纠正了党内“左倾”错误，肯定了毛泽东的正确路线方针，从而确立了以毛泽东为主要代表的马克思主义正确路线在中共中央的领导地位，会议在危机关头挽救了党，挽救了红军，挽救了中国革命，也成为党史上一个生死攸关的转折点，C项正确；1921年，中共一大在上海召开，宣告中国共产党成立，排除A项；1927年8月，八七会议在汉口召开，纠正了陈独秀的右倾机会主义错误，确立了开展土地革命和武装反抗国民党反动派的总方针，排除B项；1945年中共七大在延安召开，确立了毛泽东思想为党的指导思想，为夺取抗日战争的最后胜利和新民主主义革命的胜利指明了方向，排除D项。故选C项。

17. 【答案】B

【解析】

【详解】依据漫画上文字“全东北解放”可知对应是辽沈战役胜利，1948年9月-11月，人民解放军发起辽沈战役，解放东北全境，B项正确；1947年夏，刘伯承、邓小平率领晋冀鲁豫解放军主力千里挺进大别山，揭开解放战争战略反攻的序幕，排除A项；1949年4月，人民解放军百万雄师发起渡江战役，占领南京，推翻了国民党在大陆的统治，排除CD项。故选B项。

18. 【答案】B

【解析】

【详解】依据题干“戈雷岛是连接非洲、美洲、欧洲航线上的枢纽，它是奴隶船的理想交接站”和所学知识可知该岛见证的历史是“三角贸易”，新航路开辟后，欧洲殖民者为了获取暴利，进行了罪恶的黑奴贸易，他们从欧洲出发，来到非洲掳掠黑人贩卖到美洲充当奴隶，再返回欧洲，因此连接了非洲、美洲和欧洲的联系，被称为“三角贸易”，B项正确；文艺复兴是14世纪中叶意大利兴起的一场资产阶级思想文化运动，弘扬人文主义，解放了人们的思想，与题干不符，排除A项；1789年法国大革命爆发，这是一次著名的资产阶级革命，推翻了波旁王朝的封建专制统治，也震撼了欧洲大陆的封建统治秩序，与题干不符，排除C项；18世纪60年代英国率先开展工业革命，机器大生产取代工场手工业，这是资本主义生产力的一次跨时代的飞跃，与题干不符，排除D项。故选B项。

19. 【答案】C

【解析】

【详解】依据所学知识可知，两则法律文件分别是1789年法国大革命爆发后颁布的《人权宣言》以及1804年拿破仑执政时期颁布的《拿破仑法典》，前者宣告了人权、法治、自由、分权、平等和保护私有财产等基本原则，后者体现了自由平等和私有财产神圣不可侵犯等原则，成为资本主义社会的立法典范，因此两者共同维护了资产阶级的革命成果，C项正确；确立议会权力中心地位的是英国资产阶级革命后颁布的《权利法案》，排除A项；两则法律文件都是资产阶级革命时代的重要文献，否定封建王权专制统治，

排除 B 项；《人权宣言》是法国大革命的成果，而非拿破仑战争的成果，排除 D 项。故选 C 项。

20. 【答案】D

【解析】

【详解】依据题干关键时间点“1848 年”，结合所学知识，1848 年，马克思和恩格斯所著的《共产党宣言》在伦敦出版，标志马克思主义的诞生，并为国际工人运动和社会主义运动提供了科学理论的指导，D 项正确；1215 年，英国国王约翰被迫签订《大宪章》，确立了法律限制王权的原则，排除 A 项；1628 年，英国国会向英王查理一世提出《权利请愿书》，要求限制王权，排除 B 项；1804 年拿破仑颁布《拿破仑法典》，成为资本主义社会的立法规范，排除 C 项。故选 D 项。

## 第二部分材料分析题（共 40 分）

21. 【答案】(1) ①②；③；④⑤；

(2) ③②④①；咸阳是秦朝都城，西起临洮，东到辽东的是秦朝长城。西域都护府设立于西汉，长安是西汉都城。大都是元朝都城，宣政院是元朝加强对西藏管理的机构，岭北行省等是元朝推行行省制度的见证；清朝时称都城北京为京师，《尼布楚条约》是清朝康熙时签订的边界条约。

(3) 费孝通：中华民族是由多个民族构成的整体，形成了多元一体的格局。

白寿彝：中华民族是由各具特点的多个民族共同组成，各个民族为中华民族的形成和发展都作出了重要贡献。

【解析】

【小问 1 详解】

根据所学知识可知，“秦朝创立皇帝制度”是中央集权制度建立的表现，“推恩令”“刺史制度”是西汉加强中央集权的表现，属于完善中央集权制度。所以，①②属于建立与完善中央集权制度，有利于统一多民族国家的建立和巩固；“唐朝设置安西都护府、北庭都护府，管辖天山南北地区”指的是唐朝加强对西域地区的管辖，③属于“中央政府对边疆进行管辖，维护了边疆稳定，巩固国家统一”；④戚继光抗倭和⑤郑成功收复台湾属于明清时期反抗外来侵略、维护领土完整、国家统一的史实。

【小问 2 详解】

根据题图可知，清朝时称都城北京为京师，《尼布楚条约》是清朝康熙时签订的边界条约，所以，①是清朝版图；西域都护府设立于西汉，长安是西汉都城，所以，②是西汉版图；咸阳是秦朝都城，西起临洮，东到辽东的是秦朝长城，所以③是秦朝版图；大都是元朝都城，宣政院是元朝加强对西藏管理的机构，岭北行省等是元朝推行行省制度的见证，所以，④是元朝版图；所以按照时间顺序排列的朝代依次是③②④①。

【小问 3 详解】

根据材料可知，“中华民族是包括中国境内 56 个民族的民族实体，56 个民族已结合成相互依存的、统一而不能分割的整体；形成多元一体格局有一个从分散的多元结合成一体的过程”说明费孝通认为中华民族是由多个民族构成的不可分割的整体，且形成了多元一体的格局。“各民族都有他自己的特点，都有他们对历史上的贡献，都有可能对历史上作更多的贡献”说明白寿彝认为中华民族是由各具特点的多个民族共同组成，并且，各个民族都为中华民族的形成和发展作出了重要贡献。

22. 【答案】(1) 培养各类人才，推动中国近代化进程。

(2) A: 五四运动; B: 一二九运动; 相同点: 都是发生在国家主权和利益遭到严重侵犯的背景之下; 都是以爱国学生掀起的, 都是反帝反封建的爱国革命运动。

(3) 观点: 中国共产党在抗日战争中发挥了中流砥柱的作用; 论述: 自九一八事变以来, 中国共产党始终坚持抗战立场, 派杨靖宇等人在东北组织抗日游击战争; 华北事变后, 中国共产党发表“八一宣言”, 号召停止内战, 一致抗日, 并在瓦窑堡会议上确立了建立抗日民族统一战线的方针。西安事变后, 中国共产党从全民族利益出发, 主张和平解决, 联将抗日。全面抗战爆发后, 中国共产党发表声明, 表明抗战立场, 促成了以国共合作为主体的抗日民族统一战线的正式建立, 中国共产党坚持全面抗战路线, 取得了一系列战果, 鼓舞了全国军民的信心。

(4) 青年是国家和民族的希望, 我们要努力学习, 增强责任感和使命感, 不负党和人民的希望和重托; 树立远大理想, 汲取楷模和英雄的精神力量, 接续奋斗, 争做共产主义事业的接班人等。

#### 【解析】

##### 【小问 1 详解】

根据材料可知, 近代以来创办的各类新式学校, 学习西方科技文化, 培养了各类人才; 同时, 大部分学校是在近代化探索过程中创办的, 所以, 这些人才也成为推动中国近代化的重要力量。

##### 【小问 2 详解】

根据材料和所学知识可知, 从运动的背景分析, 五四运动是因为巴黎和会中国外交失败, 一二九运动是因为日本策动“华北自治运动”, 企图将华北从中国的版图上脱离出去。因此, 五四运动和一二九运动都是发生在国家主权和利益遭到严重侵犯的背景之下; 从运动的参与者来说, 都是爱国学生掀起; 从运动的口号可知, 二者都是反帝反封建的爱国革命运动。

##### 【小问 3 详解】

根据材料可知, 材料围绕中国共产党坚持全面抗战, 使延安成为革命圣地, 所以可以得出观点“中国共产党在抗日战争中发挥了中流砥柱的作用”, 论述部分应结合材料和所学知识, 从九一八事变、华北事变、西安事变、七七事变后中国共产党的主张和表现加以论证即可。

##### 【小问 4 详解】

根据材料可知, “青年强, 则国家强。”说明了青年是国家的未来和民族的希望。材料从新青年高举马克思主义思想探寻民族复兴的前途到在中国共产党领导下, 中国青年把青春奋斗融入党和人民事业, 成为实现中华民族伟大复兴的先锋力量。从中得到的认识是作为当代青年应要努力学习, 增强责任感和使命感, 不负党和人民的希望和重托; 要树立远大理想, 汲取楷模和英雄的精神力量, 接续奋斗, 争做共产主义事业的接班人等。

23. 【答案】(1) 从体力劳动者到手艺人、艺术家; 文艺复兴运动。

(2) ①《权利法案》; ②君主立宪制; ③美国独立战争; 扫除了资本主义发展的障碍, 促进了资本主义发展, 对其他国家产生重要影响。

(3) 大大提高了生产力, 使英国成为第一个工业国家, 确立了“世界工厂”的地位。推动了产业结构变化和

城市化进程，产生环境污染等问题。

### 【解析】

#### 【小问 1 详解】

第一小问，根据材料可知，“古希腊时期，从事绘画和雕塑的艺术家通常被视为卑下的体力劳动者”“在中世纪，艺术家一般与鞋匠、面包师、理发师等手艺人为伍，即便杰出的艺术家也只被视为技艺熟练的匠人。”取代手艺人成为艺术家的典范，甚至还被视为天才”说明了艺术家身份从古希腊时期的体力劳动者，到中世纪时称为手艺人或匠人，到 14 世纪开始才成为“自由艺术家”与“诗意的艺术家”或艺术家。

第二小问，根据所学知识可知，14 世纪开始的文艺复兴运动提倡发扬人的个性，强调以人为中心，突人的价值和地位。因此，艺术家身份的变化原因是文艺复兴运动。

#### 【小问 2 详解】

第一小问，根据所学知识可知，英国资产阶级革命后的 1689 年，英国议会颁布了《权利法案》，国王的权力受到限制，确立了议会在国家政治生活中的最高地位，奠定了英国君主立宪政体的理论和法律基础，君主立宪制在英国逐步确立；《独立宣言》是美国独立战争中颁布的重要文献。

第二小问，根据所学知识可知，从英美法资产阶级的原因来看，革命爆发的原因都是资本主义发展受到的阻碍，通过革命推翻封建专制统治或殖民统治，扫除了资本主义发展的障碍，促进了资本主义发展；从外部影响看，都对其他国家产生重要影响。从革命后确立的政治体制看，三国资产阶级革命都确立了新的资产阶级政体。

#### 【小问 3 详解】

根据材料和所学知识可知，从材料中英国每个工人的生产率、原棉消耗量、生铁产量、煤产量以及就业人口、农村和城市人口来看，工业革命带给英国的影响是大大提高了生产力，使英国成为第一个工业国家，确立了“世界工厂”的地位；推动了产业结构变化和城市化进程等。从消极影响看，也带来了环境污染等问题。

24. 【答案】(1) ①说明了急递铺是元朝驿站的重要方式，体现了元朝路上交通的发达；③说明了元朝德化窑烧制的瓷器精美，体现了元朝制瓷业的发达。

(2) 原因：商品经济日益发展，货币的需要量大大增加；《马可·波罗行纪》的刺激；奥斯曼帝国控制了东西方之间的通商要道；航海家及其活动：迪亚士发现好望角；达·伽马开辟通往印度的新航路；哥伦布发现美洲；麦哲伦船队完成环球航行。

(3) 贸易线路多；交往范围广；商品种类多，交易量大等。

### 【解析】

#### 【小问 1 详解】

根据题干可知，急递铺是元朝驿站的重要方式，用于传递紧急消息，速度极快，体现了元朝路上交通的发达；德化窑烧制的瓷器成为海外贸易的重要商品说明元朝德化窑烧制的瓷器精美受到其他国家和地区的欢迎，“此处造碗及瓷器既多且美”体现了元朝制瓷业的发达。

#### 【小问 2 详解】

第一小问，根据材料可知，“商品经济日益发展”说明新航路开辟的经济根源是随着商品经济日益发展，欧



洲人渴求开拓新的贸易市场；“货币的需要量大大增加，西欧的国王、贵族和商人到处追求黄金白银”“《马可·波罗行纪》中描绘了东方遍地黄金的景象，无数探险者在其鼓励下去寻找传说中的东方财富。”说明新航路开辟的社会根源和重要诱因是货币的需要量大大增加或《马可·波罗行纪》的刺激西欧国家对财富的渴望和黄金的追求；“1453年奥斯曼帝国的军队占领了地中海东部的广大地区，控制了东西方之间的通商要道，从此东方运到欧洲的商品数量急剧减少，价格猛涨。”说明了开辟新航路的原因是商业危机的出现，即奥斯曼帝国控制了东西方之间的通商要道。

第二小问，根据所学知识可知，新航路开辟过程中的航海家有迪亚士、达·伽马、哥伦布和麦哲伦。任选其中一位航海家并简述其航海活动即可，如迪亚士发现好望角，达·伽马开辟通往印度的新航路，哥伦布发现美洲，麦哲伦船队完成环球航行。

### 【小问3详解】

根据材料可知，地图中的主要贸易线路说明贸易线路多、交往范围广；“美洲的烟草、可可，中国的茶叶、瓷器，印度的蔗糖、香水，北亚和北美的毛皮，都成了国际贸易的重要商品。咖啡、大米、香料、布匹等的交易量也大增。”说明商品种类多，交易量大。