

延庆区 2021 年初三年级统一练习



历史试卷

考生须知	<ol style="list-style-type: none">1. 本试卷共 10 页，共两部分，24 道小题。满分 80 分。考试时间 70 分钟。2. 在试卷和答题纸上准确填写姓名、班级和学校。3. 试题答案一律书写在答题纸上，在试卷上作答无效。4. 在答题纸上，试题用黑色字迹签字笔作答。5. 考试结束，将本试卷和答题纸一并交回。
------	---

第一部分（选择题 共 30 分）

本部分共 20 小题，每小题 1.5 分，共 30 分。在每小题列出的四个选项中，选出最符合题目要求的一项。

1. 河姆渡原始居民所处的长江流域气候湿润，草木茂盛，虫兽较多，最适合他们居住的房屋样式是



- A. 洞穴 B. 干栏式房屋 C. 搭上草棚的水井 D. 半地穴式房屋

2. 右图所示的“古文字”是

古文字					
现代汉字	采	刃	焚	休	日

- A. 甲骨文 B. 小篆 C. 隶书 D. 草书

3. 对下列出土文物最合理的解释是中国汉代的



汉代连弧纹铭带镜(阿富汗)



东罗马金币(洛阳)

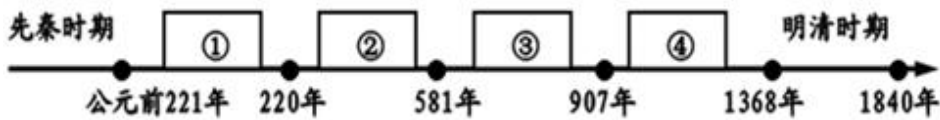
- A. 青铜铸造技艺高超 B. 特色商品风靡世界
C. 丝绸之路连贯东西 D. 冶金技术世界领先

4. “商鞅相孝公，为秦开帝业”“孝文卓尔不群，迁都……衣冠号令，华夏同风。”材料所述两次改革的共同作用是

- A. 促进经济快速发展 B. 为统一奠定了基础

C.加快了封建化的进程 D.促进了北方民族大交融

5.下图为中国古代时间轴图，其中阶段③的特征是



- A.统一多民族国家的建立与巩固
- B.早期国家与社会变革
- C.繁荣与开放的时代
- D.统一多民族国家的巩固与发展

6. 英国史学家汤因比说：“如果让我选择，我愿意生活在中国的宋朝。”学者余秋雨也说：

“我最向往的朝代是宋朝。”宋朝令史学家和学者向往的主要原因有

- ①灿烂的科学技术 ②发达的社会经济
 - ③丰富的文化生活 ④包容的开放意识
- A.①②③④ B.①②④
- C.②③④ D.①②③

7.“在中国古代历史上，清朝是统一多民族国家进一步巩固和发展的关键时期”。下列不能证明这个观点的是

- A.册封达赖和班禅 B.1885年台湾正式建省
- C.清朝在西藏设立驻藏大臣 D.实行闭关锁国政策

8. 1895—1898年，中国民间新增报刊约六十家，其中具有代表性的报刊（见下表）主要传播的思想主张是

创办人	报刊名称
梁启超	《时务报》
严复	《国闻报》
康有为	《强学报》

- A.自强、求富
- B.变法图强
- C.三民主义
- D.民主、科学

9. 每年我国都会举行纪念辛亥革命的庆典活动，许多城市也展开了对庆典落户权的争夺。其中，有人主张在武汉举行，也有不少人主张在南京举行。主张在南京举行的主要历史依据是

- A.中国同盟会成立 B.《民报》创办
- C.中华民国成立 D.武昌起义

10. 与下图有关的历史事件是





陈独秀

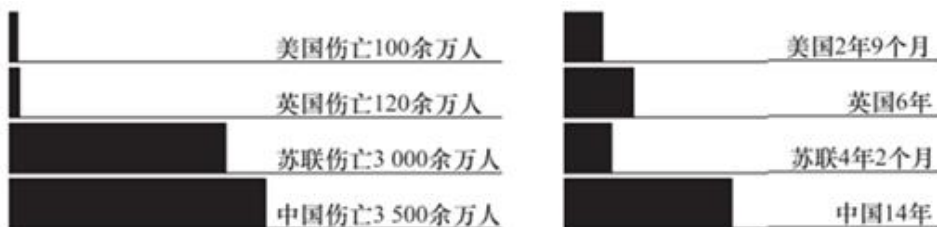
李大钊

《新青年》



- A. 戊戌变法
- B. 清末新政
- C. 辛亥革命
- D. 新文化运动

11. 如图反映了第二次世界大战中部分国家伤亡人数及持续作战时间，解读正确的是

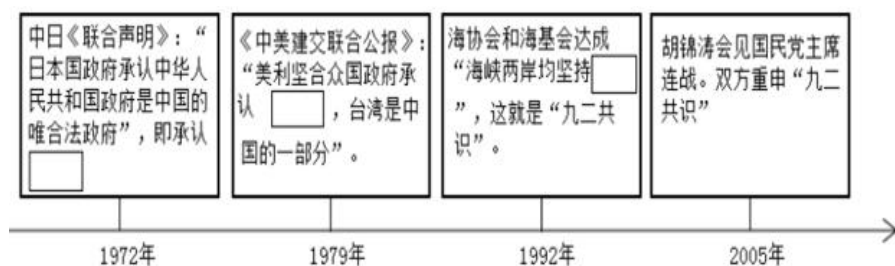


- A. 美国援助是中国抗战取胜的关键因素
- B. 英国是世界上最早参加反法西斯战争的国家
- C. 苏联在世界反法西斯战争中牺牲最大
- D. 中国为世界反法西斯战争的胜利作出了巨大贡献

12. 解放战争后期，毛泽东第一次成为美国《时代周刊》的封面人物。《时代周刊》如此描述：“对绝大多数中国百姓而言，意味着和平——战争也许会迅速结束；5亿困顿疲惫的中国民众在上周见证了毛的辉煌——他们进入了北平。”这说明当时

- A. 辽沈战役的胜利结束
- B. 中共中央转战陕北
- C. 平津战役的胜利结束
- D. 渡江战役胜利完成

13. 在时间轴的空白处应填入



- A. 多边外交的原则
- B. 和平共处五项原则
- C. 一国两制的原则
- D. 一个中国的原则

14. 下列图片信息反映了我国社会生活相应领域的变迁与成就，该领域是



图一 “复兴号”中国标准动车组



图二 港珠澳大桥



图三 我国生产的大型客机 C919



图四 2019年中国进入5G商用元年

- A.交通通信 B.生态环境
- C.文化教育 D.医疗卫生

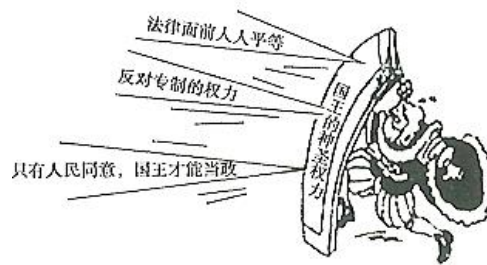
15.关于“世界是什么样的？”这一命题，15、16世纪的欧洲探险家们进行了一系列的探索，最后由_____船队进行全球航行后，证实了“地圆说”

- A.哥伦布 B.麦哲伦 C.迪亚士 D.达伽马

16.下侧漫画创作于英国资产阶级革命时期，了约束。这一约束的法律依据是

表明英国国王的权力受到


- A.《权利法案》
- B.1787年宪法
- C.《独立宣言》
- D.《民法典》



17.科技发明改变了人们的出行方式，改善了人们的生活。下列发明属于第一次工业革命成果的是



图一 汽车



图二 火车



图三 飞机



图四 电灯

- A.汽车 B.火车 C.飞机 D.电灯

18.在马克思的墓碑上，刻着两句话。一句是：“全世界无产者，联合起来！”另一句是“哲学家们只是用不同的方式解释世界，而问题在于改变世界。”马克思在《共产党宣言》中号召，“改变世界”的方式是



- A. 建立无产阶级政党，进行无产阶级革命
- B. 成立第一国际，开展国际工人运动
- C. 团结资产阶级，建立资产阶级共和国
- D. 采取非暴力手段，向资产阶级和平夺权

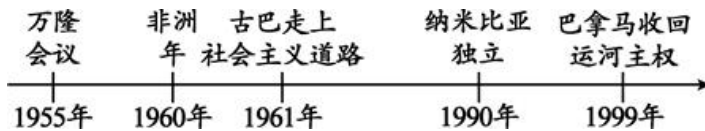
19. 通过对历史人物的研究能使我们更好地了解相关历史知识。下图中的几位历史人物，在本国历史进程中发挥的相同作用是



亚历山大二世 克伦威尔 华盛顿 林肯

- A. 都摆脱了殖民统治 B. 都打击了欧洲封建势力
- C. 都维护了国家统一 D. 都促进了资本主义发展

20. 以下示意图表现的主题是



- A. 亚非拉国家的新发展 B. 非洲摆脱了殖民主义的枷锁
- C. 世界各大洲联系紧密 D. 发展中国家经济的快速增长

第二部分（非选择题 共 50 分）

21. 习近平总书记说：“一个有希望的民族不能没有英雄，一个有前途的国家不能没有先锋。（14 分）

材料一 古时那些要想在天下弘扬光明正大品德的人，先要治理好自己的国家;要想治理好自己的国家，先要管理好自己的家庭和家族.....要想使自己的意念真诚，先要使自己获得知识，获得知识的途径在于认知研究万事万物。

-----《礼记·大学》

(1) 阅读材料，说出成为一个光明正大品德的人要素。（2 分）

材料二



颜真 郑和 戚继光 郑成功

(2) 依据图片结合所学，归纳对外交往的特点并写出以上人物的事迹。(5分)



材料三:



A(右图),童年时只断断续续地上过5年学。他极富想象力,什么事都爱刨根问底,但一向不愿死记硬背……他善于将最新的科学发现运用到自己的发明中。他是电气时代最伟大的发明家,一生拥有1000多项发明专利。

——人教部编版九上



B(右图),原名弗拉基米尔·伊里奇·乌里扬诺夫。1893年,他在彼得格勒(当时名为圣彼得堡)参加了秘密的马克思主义小组……1917年4月,流亡国外的他回到彼得格勒,受到成千上万工人、士兵的热烈欢迎。

——人教部编版九上

(3) 依据材料结合所学,写出人物的名称和他的贡献。(4分)

材料四 我担负革命工作昼夜奔忙,十余年来坚(艰)苦生活,无一文薪水,与士卒同甘苦,决非虚语……近来转战华北,常处在敌人后方,一月之内二十九日行军作战……我决不能再顾家庭,家庭亦不能再累我革命……为国为民族求生存,决心抛弃一切,一心杀敌。

——1937年11月朱德家书

(4) 根据材料结合所学,写出信中体现了朱德的优秀品质。(1分)

材料五 人人都想做英雄。关于英雄,据《现代汉语词典》的解释,一是指本领高强、勇武过人的人;二是指不怕困难,不顾自己,为人民利益而英勇斗争,令人钦佩的人;三是指具有英雄品质的人。中国的独立与解放离不开为此英勇献身的英雄,中国的建设尤其是科技发展也离不开英雄,一个有希望的民族不能没有英雄,一个有前途的国家不能没有先锋。习近平强调:“和平年代同样需要英雄情怀,实现我们的奋斗目标需要英雄,需要英雄精神。”

——据有关资料整理

(5) 阅读材料结合所学,参考示例,通过历史学习,写出你心目中的英雄。(2分)

示例 人物:岳飞。

理由:他率领岳家军取得郾城大捷;岳飞的抗金阻止了金军进一步南下,收复了大量失地,为南方创造了相对和平的环境,保护了人民生命和财产安全。

22. 文物·文明·文化 (13分)

材料一

.....位于四川成都平原西部的岷江上的都江堰，.....
是全世界至今为止，年代最久、唯一留存、以无坝引水的宏大水利工程。两千多年来，至今仍发挥巨大效益.....
—摘自第24届世界遗产委员会对都江堰的评价



(1) 依据材料，指出都江堰水利工程的特征。(2分)

材料二 贞观九年，太宗谓侍臣曰：“往昔初平京师，宫中珍玩无院不满。炀帝意犹不足，征求无已，兼东西征讨，穷兵黩武，百姓不堪，遂致亡灭。遂得徭役不兴，年谷丰稔，百姓安乐。夫治国犹如栽树，本根不摇，则枝叶茂荣。”

—(唐)吴兢《贞观政要·政体第二》

(2) 依据材料二，概括唐朝出现“贞观之治”局面的原因，并写出材料中对治国理政最具借鉴意义的一句话。(3分)

材料三 故宫博物院与凤凰卫视联合宣布，《清明上河图》高科技艺术互动展演即将完成，这件国宝级作品将从纸上立体起来，于2018年春夏与观众见面。

—中国青年报(2018年03月06日08版)



《清明上河图》局部

(3) 依据材料结合所，说出作品反映的朝代及其社会生活的变化(从饮食、服饰、交通、娱乐、商贸活动等方面思考)(3分)

材料四

据不完全统计，在全球 27 个国家的 218 个博物馆中，中国文物就有 163 万余件，然而，该数目充其量只是世界所有私人收藏的十分之一……在文物回归过程中，大体有 4 种途径，分别是政府行为、捐赠（持有者捐赠、买主捐赠）、回购和法律手段。



天龙山石窟回归的佛头

(4) 依据材料，概括西方国家拥有中国文物的特点并说出文物回归的途径。(4 分)

(5) 通过上述探究活动，指出中国传统文化焕发新的生命力的措施。(1 分)

23. 农业农村农民问题是关系国计民生的根本性问题。(12 分)

材料一 中国古代农业的发展可以从五个方面去了解，一是统治者重视农业；二是生产工具的改进；三是农作物的引进推广；四是水利工程的兴修；五是耕作技术的改进等

(1) 依据材料结合所学，任选其中的一个方面用史实加以说明。(2 分)

材料二 新经济政策的实质是什么？……其实从某种意义上说，新经济政策的魂在于给农民发展经济、谋求生计的应有的自由自主权利。……调动了生产者的积极性、迅速缓解了危机，巩固了工农联盟，促使国民经济稳步发展。

——新华出版社 2010 年版《苏联真相——对 101 个重要问题的思考》

(2) 依据材料结合所学，指出新经济政策的实质并说出作用。(3 分)

材料三 “大萧条”到来后，农民每收一英亩小麦，就要亏一元五角，用玉米棒子当燃料，比卖玉米买煤烧还合算。另一方面，一部分必须品的价格又不像农产品价格下跌那么大，农民因无力偿还债务，1929-1933 年间，有 100 多万户农民因被取消抵押品赎回权而失去了他们的财产。……通过《农业调整法》，对全国农业生产和销售进行调解，限制产量，稳定农产品价格。

(3) 依据材料结合所学，概括“大萧条”中美国的农业现状，指出罗斯福新政特点（3分）

材料四



《土地改革法》受到农民的欢迎

新中国成立前,中国的土地制度极不合理。占乡村人口不到 10%的地主和富农,占有 70%-80%的土地;而占乡村人口 90%的贫农、雇农和中农,却只占有约 20%—30%的土地,他们终年劳作,仍不得温饱。

(4) 依据材料结合所学，指出新中国成立前,中国的土地制度不合理的具体表现及采取的措施。（3分）

材料五 (1978年后)农民生产积极性大大提高,农业连年获得丰收。农民高兴的说交够国家的,留足集体的,剩下都是自己的。

(5) 依据材料指出“农民生产积极性大大提高，农业连年获得丰收”的原因（1分）

24. 革命实践铸就革命精神（11分）

材料一



嘉兴南湖红船

“红船精神”从嘉兴南湖开起，带领着这个年轻的政党改变城市、祖国，乃至整个世界的格局。红船精神……一直激励和鼓舞着我们党站在历史的高度，走在时代的前列。

——戚红蕾 2020 年《读懂“红船精神”的价值意蕴》

(1) 结合材料所学知识，说出所反映的历史事件并指出该事件的历史意义。（2分）

材料二 有人将井冈山革命“道路”的产生和发展壮大归纳为三大阶段，其三大阶段分别为：

	阶段特征	相关史事
第一阶段	“寻路阶段”—武装反抗攻城市	A_____（填序号）
第二阶段	“开路阶段”—革命摇篮井冈山	B_____（填序号）
第三阶段	“中路阶段”—武装割据燃星火	C_____（填序号）

- ①井冈山会师 ②南昌起义 ③毛泽东开辟井冈山革命根据地
 ④打土豪分田地 ⑤秋收起义 ⑥在根据地开展游击战争



(2) 将①②③④⑤⑥的史事，填写进材料二表格的相应位置。(3分)

材料三

(八七会议)后，毛泽东等人发动人民群众，进行了武装暴动，在遭受较大损失后，毛泽东指着地图说：我们要到这眉毛画得最浓的地方当山大王。

——摘编自叶永烈《历史选择了毛泽东》



古田会议会址

(3) 结合材料和所学知识，说出开创“农村包围城市、武装夺取政权”这条道路的核心人物。指出他在这条道路上建立的第一个农村革命根据地(2分)

材料四



遵义会议通过了《中共中央关于反对敌人第五次“围剿”的总结决议》，决议根据党和红军暂时所处的战争环境集中解决了最有决定意义的军事路线问题……决议上写了“党中央的政治路线无疑又是正确的”。

(4) 依据材料结合所学，说出这次会议对中国共产党自身的发展带来的影响(2分)

材料五



延安中共七大会议遗址

大会确立了正确指导思想……这次大会作为“团结的大会，胜利的大会”而载入史册。它为党领导人民去争取抗日战争的胜利和新民主主义革命在全国的胜利，奠定了政治上、思想上、组织上的基础。

——摘自《中国共产党历史》第一卷

(5) 依据材料，指出中共七大确立的“正确指导思想”及中共七大对中华民族的前途产生影响(2分)





参考答案

一、单项选择题

题号	1	2	3	4	5	6	7	8	9	10
答案	B	A	C	A	C	A	D	B	C	D
题号	11	12	13	14	15	16	17	18	19	20
答案	D	C	D	A	B	A	B	A	D	A

二、材料分析题

21. 习近平总书记说：“一个有希望的民族不能没有英雄，一个有前途的国家不能没有先锋。（14分）

（1）（2分）要素：①心怀祖国（治国）。②感恩家庭（齐家）。③拥有学识（平天下）。（任意两点即可）

（2）（1分）①特点：和平交往和抵御侵略（保卫祖国）（任意一点即可）

（4分）②事迹：鉴真东渡日本、郑和下西洋、戚继光抗倭（日本入侵者）和郑成功收复台湾

（3）（2分）①A：爱迪生；贡献：发明耐用的电灯泡

（2分）②B：列宁；贡献：领导十月革命

或者：（2分）人物：爱迪生和列宁

（2分）贡献：发明耐用的电灯泡和领导十月革命）

（4）（1分）品质：无私奉献、爱岗敬业、艰苦奋斗、杀敌报国等等（任意一点即可）

（5）（1分）人物：邱少云

（1分）理由：他是人民志愿军的战士，奔赴朝鲜战场英勇作战，遵守纪律，纹丝不动，为了赢得胜利，付出了生命的代价，为赢得胜利作出了牺牲，是人民的功臣。

（任意一位英雄人物即可）

22. 文物·文明·文化 （13分）

（1）（2分）特征：①年代最久（历史悠久）。②唯一留存（独立无二）。③无水引坝（自然天程）（任意两点即可）

（2）（2分）原因：①吸取隋朝灭亡的教训。②减免徭役和赋税。③发展科举制等（任意两点即可）

（1分）引文：治国犹如栽树，本根不摇，则枝叶茂荣。

（3）（1分）朝代：南宋（宋代）

（2分）变化：①商贸活动打破了时间和空间的界线。②出现了娱乐场所“瓦子”③海上贸易繁荣等等（任意两点即可）

(4) (2分) 特点: ①分布广泛。②数量庞大。③种类丰富等 (任意两点即可)

(2分) 途径: ①政府行为。②捐赠。③回购。④法律手段等。 (任意两点即可)

(5) 方法: 利用现代信息技术、与时尚元素相结合等 (任意一点即可)

23. 农业农村农民问题是关系国计民生的根本性问题。 (13分)

(1) (1分) 选择: 生产工具的改进。

(1分) 说明: 铁农具的使用、曲辕犁、筒车等 (任意一点即可)

(2) (1分) 实质: 农民拥有自由自主的权利。

(2分) 作用: ①调动生产者的积极性。②迅速缓解了危机。③巩固了工农联盟。

④促使国民经济稳步发展。 (任意两点即可)

(3) (2分) 现状: ①农民收入亏损。②农民生活陷入绝境。③农民无力偿还债务等 (任意两点即可)

(1分) 特点: 国家干预经济。 (或者实施《农业调整法》等) (任意一点即可)

(4) (2分) 表现: ①地主阶层占有大量土地。②农民阶层占有少量土地。③农民生活艰辛 (任意两点即可)

(1分) 措施: 土地改革 (颁布《中华人民共和国土地改革法》) (任意一点即可)

(5) (1分) 原因: 家庭联产承包责任制。 (包产到户、包干到户或者说国家的优惠政策等) (任意一点即可)

24. 革命实践铸就革命精神 (11分)

(1) (1分) 事件: 中共“一大”

(1分) 意义: 是中国历史上开天辟地的大事; 自从有了中国共产党, 中国革命焕然一新 (任意一点即可)

(2) (3分) A: ②⑤

B: ③①

C: ④⑥

(3) (1分) 人物: 毛泽东

(1分) 根据地: 井冈山革命根据地

(4) (2分) 影响: ①挽救了党, 挽救了红军, 挽救了中国革命, 是党历史上生死攸关的转折点。②标志着中国共产党由幼稚走向成熟。 (任意一点即可)

(5) (1分) 思想: 毛泽东思想

(1分) 影响: 它为党领导人民去争取抗日战争的胜利和新民主主义革命在全国的胜利, 奠定了政治上、思想上、组织上的基础

