



北京市一零一集团 2022-2023 第二学期期中练习

初一地理

2023.4

- 答题须知：1. 本试卷共 10 页，共两部分，共 29 题，满分 100 分。考试时间 70 分钟。
 2. 在答题卡和试卷上准确填写或填涂班级、姓名、学号、准考证号等信息。
 3. 试题答案一律填涂或书写在答题卡上，在试卷上作答无效。
 4. 在答题卡上，选择题用 2B 铅笔作答，其他试题用黑色字迹签字笔作答。

第一部分

本部分共 25 题，每题 2 分，共 50 分。在每题列出的四个选项中，选出最符合题目要求的一

题。

地球仪是地球的模型，是学习地理的重要工具。图 1 为地球仪示意图。读图，完成第 1~4 题。

由图可知

- A. 纬线可指示东西方向
- B. 纬线越长，纬度越高
- C. 经线是长度相等的圆
- D. 乙地比甲地的时间晚

甲地经纬度位置为

- A. (30° S, 45° E)
- B. (45° N, 30° E)
- C. (45° N, 30° W)
- D. (45° S, 30° W)

甲、乙两地都

- A. 位于北温带
- B. 有太阳直射现象
- C. 位于东半球
- D. 位于中纬度地区

利用地球仪演示地球自转时

- A. 以底座为轴，逆时针旋转整个地球仪
- B. 移动地球仪，沿椭圆轨迹做水平运动
- C. 从北极上空俯视时，顺时针转动地球仪
- D. 面对地球仪，自左向右匀速拨动地球仪

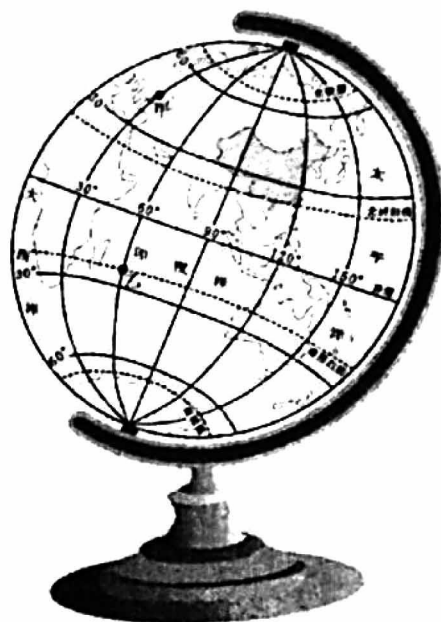


图 1

某校组织学生到学农基地开展实践活动。图 2 为学农基地平面图。读图，完成第 5~7 题。

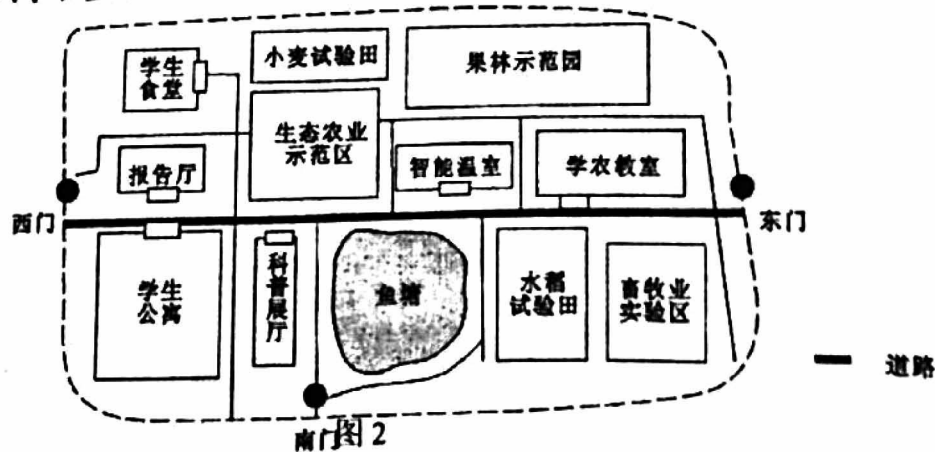


图 2



5. 设计从学校到学农基地的行程路线，需参考
- A. 北京市气候类型图 B. 北京市地形图
C. 北京市交通图 D. 北京市水系图
6. 据图判断，学生公寓位于学农教室的
- A. 东北 B. 西南
C. 西北 D. 东南
7. 学农教室和学生公寓的实地直线距离约为 500 米，则图 2 的比例尺约为
- A. 1:10 B. 1:100 C. 1:1000 D. 1:10000

2022 年 3 月 10 日印度尼西亚默拉皮火山喷发，对周边居民的生活造成很大影响。图 3 为世界火山、地震带局部示意图。读图，完成第 8、9 题。

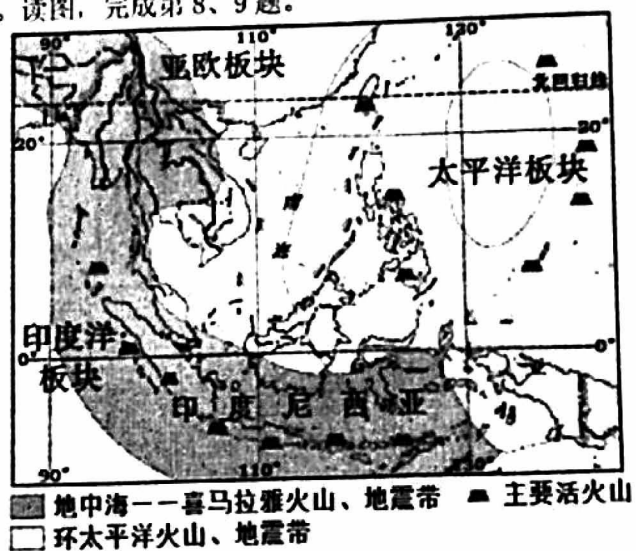


图 3

8. 印度尼西亚火山众多，原因是位于
- ①板块交界处 ②板块内部
③环太平洋火山、地震带 ④地中海-喜马拉雅火山、地震带
- A. ①②③ B. ①②④ C. ①③④ D. ②③④
9. 火山喷发给周边居民造成的影响有
- ①火山灰掩埋村庄 ②造成人员财产损失
③火山灰影响空气质量 ④造成严重的水土流失
- A. ①②③ B. ①②④ C. ①③④ D. ②③④



图4为世界年平均气温分布图。读图，完成第10~12题。

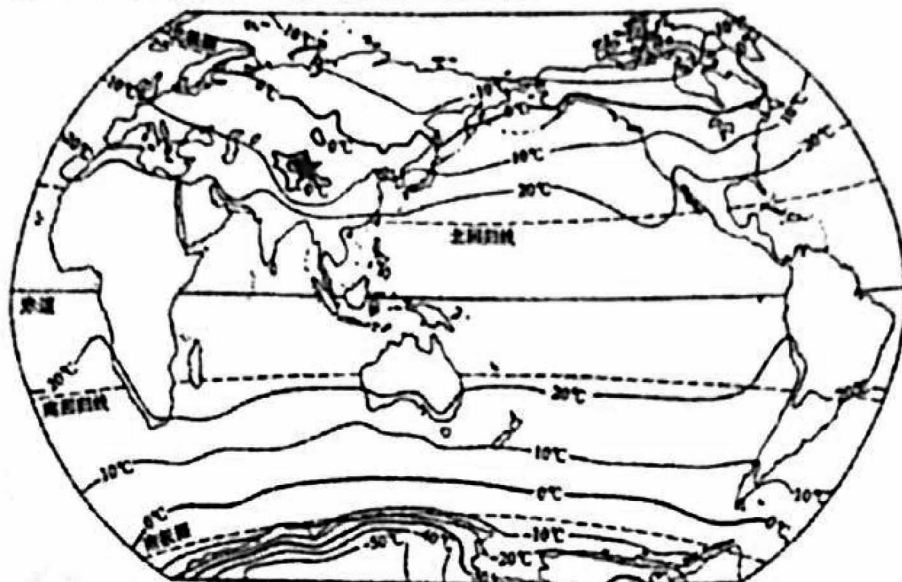


图4

10. 世界气温分布的基本规律是
- A. 南极大陆附近等温线密集、温差小
 - B. 同一纬度，陆地气温均高于海洋
 - C. 北半球中纬度地区的等温线更平直
 - D. 气温从低纬度向高纬度逐渐递减
11. 世界上最炎热的大洲是
- A. 亚洲
 - B. 南美洲
 - C. 非洲
 - D. 大洋洲
12. 图中★所示位置气温明显低于同纬度地区，主要影响因素是
- A. 纬度位置
 - B. 海陆位置
 - C. 河流因素
 - D. 地形因素

世界人口分布不均，但却有规律可循。图5为世界人口各纬度所占比重图。表1为世界人口垂直分布。读图、表，完成第13、14题。

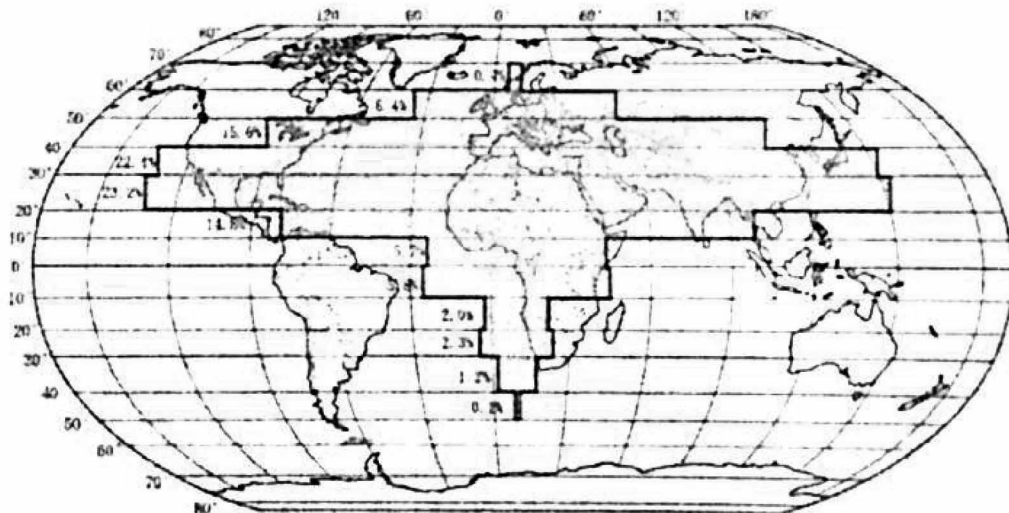


图5

表1

海拔(米)	0~200	200~500	500~1000	1000~1500	1500~2000	2000~2500
占世界人口比例(%)	56.5	24.0	11.6	4.4	2.3	1.2

13. 从表1中可知，世界人口分布最多的地形类型是
- A. 丘陵
 - B. 平原
 - C. 高原
 - D. 山地



14. 图 5 中显示

- A. 北半球的人口约占 95%
- B. $40^{\circ}S \sim 50^{\circ}S$ 地区人口数量最少
- C. 南半球几乎无人居住
- D. $20^{\circ}N \sim 30^{\circ}N$ 地区人口数量最多

亚洲各国山水相依、民心相通、命运与共。图 6 为亚洲部分地区图，读图，完成第 15、16 题。

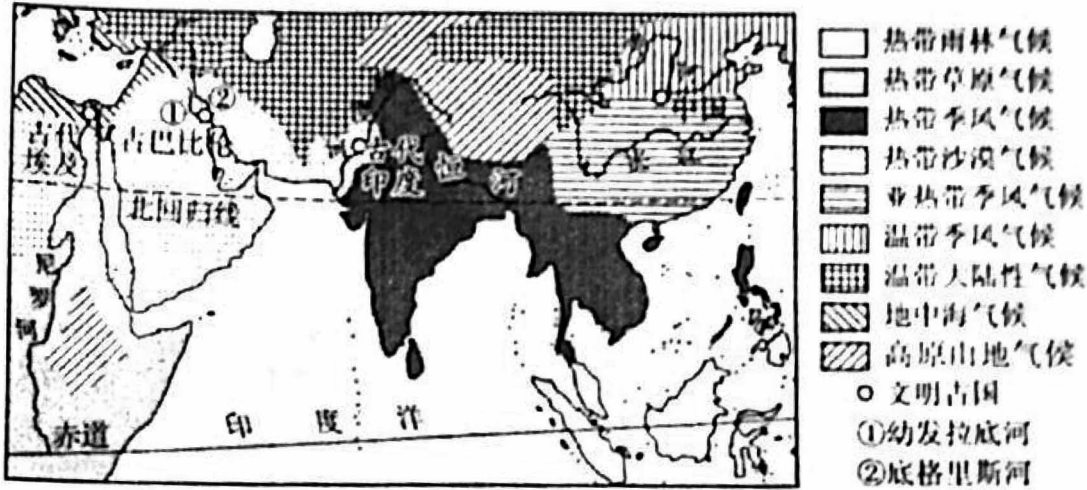


图 6

15. 多彩的亚洲文明

- A. 根植于复杂的自然环境
- B. 塑造了多样的亚洲地形
- C. 凝练出相同的地域文化
- D. 孕育出相近的民俗风情

6. 受气候影响

- A. 黄河无明显汛期
- B. 幼发拉底河流量大
- C. 尼罗河有结冰期
- D. 恒河水量季节变化大

印度一名大学生发明了聚集空气中水汽的仪器。这个发明可以缓解印度的缺水困境。图 7 为印度简图及相关图像资料。读图，完成第 17、18 题。

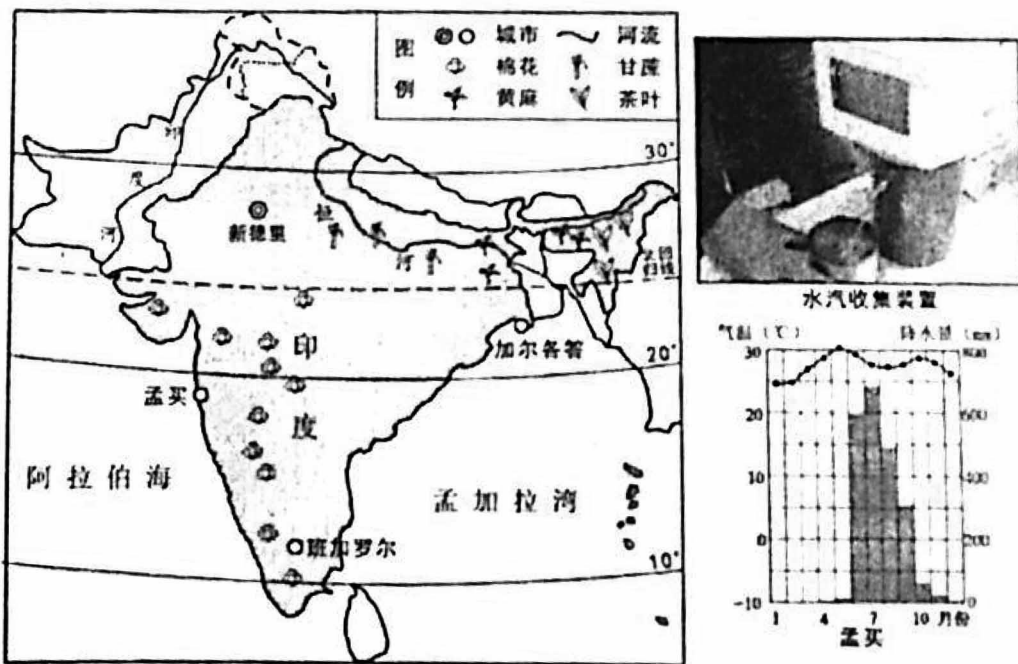


图 7



17. 印度产生缺水问题的主要自然原因是

- A. 人口众多
- B. 全年降水量少
- C. 降水季节变化大
- D. 水体污染严重

18. 印度

- A. 以热带季风气候为主
- B. 东临阿拉伯海，西濒孟加拉湾
- C. 恒河流域是棉花主产区
- D. 全年气候干热，多发旱灾

俄罗斯是世界上面积最大的国家，自然资源丰富，近年来，中国加大投资建设中俄天然气管道，开启两国能源合作新篇章。图8为俄罗斯主要交通、工业分布示意图。读图，完成第19~22题。



图8

19. 俄罗斯的工业区多分布在

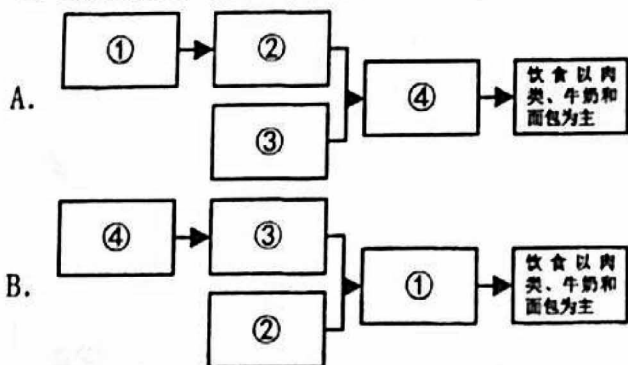
- A. 北极圈附近
- B. 沿海地区
- C. 矿产资源附近
- D. 东欧平原

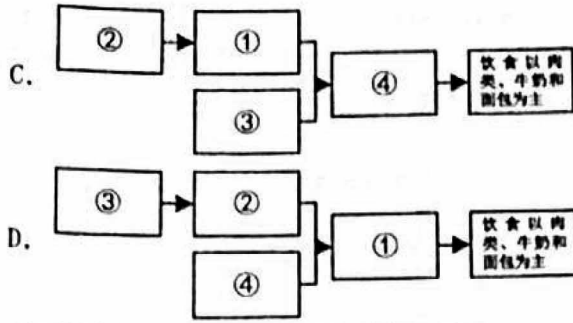
20. 关于俄罗斯工业区分布的叙述，正确的是

- A. 新西伯利亚工业区位于欧洲部分
- B. 乌拉尔工业区位于亚洲东部
- C. 圣彼得堡工业区位于太平洋沿岸
- D. 莫斯科工业区位于欧洲部分

21. 俄罗斯人民的饮食常见各种肉类、牛奶和面包，以下能正确反映当地饮食结构与自然环境关系的是

- ①深居内陆，距海洋远
- ②温带大陆性气候广布，干旱
- ③地形类型以平原、高原为主
- ④畜牧业发达、麦类作物种植广





22. 中俄天然气管道的修建对我国的影响是

- ① 缓解我国能源短缺的问题 ② 减少大气污染，改善生态环境
 ③ 完全替代我国天然气资源 ④ 促进我国经济发展
- A. ①②③ B. ①②④ C. ①③④ D. ②③④

2022年11月21日-12月18日，国际足联世界杯在卡塔尔首都多哈进行。图9为中东部分地区示意图和多哈气候资料。读图表，完成第23~25题。

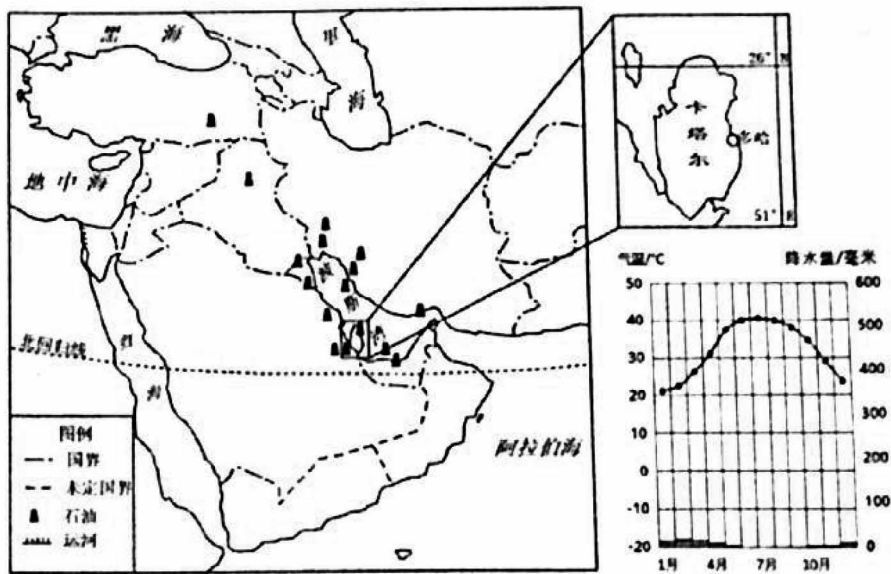


图9

23. 比赛期间，多哈

- A. 温和少雨 B. 高温多雨 C. 温和多雨 D. 炎热干燥

24. 卡塔尔

- A. 位于北半球、北温带 B. 位于属欧洲西部地区
 C. 居民多穿着皮毛衣物 D. 传统民居屋顶斜度大

25. 该地区石油集中分布于

- A. 波斯湾及其沿岸地区 B. 红海及其沿岸地区
 C. 地中海及其沿岸地区 D. 里海及其沿岸地区



第二部分 综合题

本部分共4题，共50分。

26. (13分) 亚洲是人类文明的重要发祥地，在漫长的历史积淀中，亚洲多姿多彩的文明文相辉映，为人类保存着最久远的文明记忆和波澜壮阔的文明图谱。图10为亚洲气候分布图。阅读图文资料，完成下列问题。

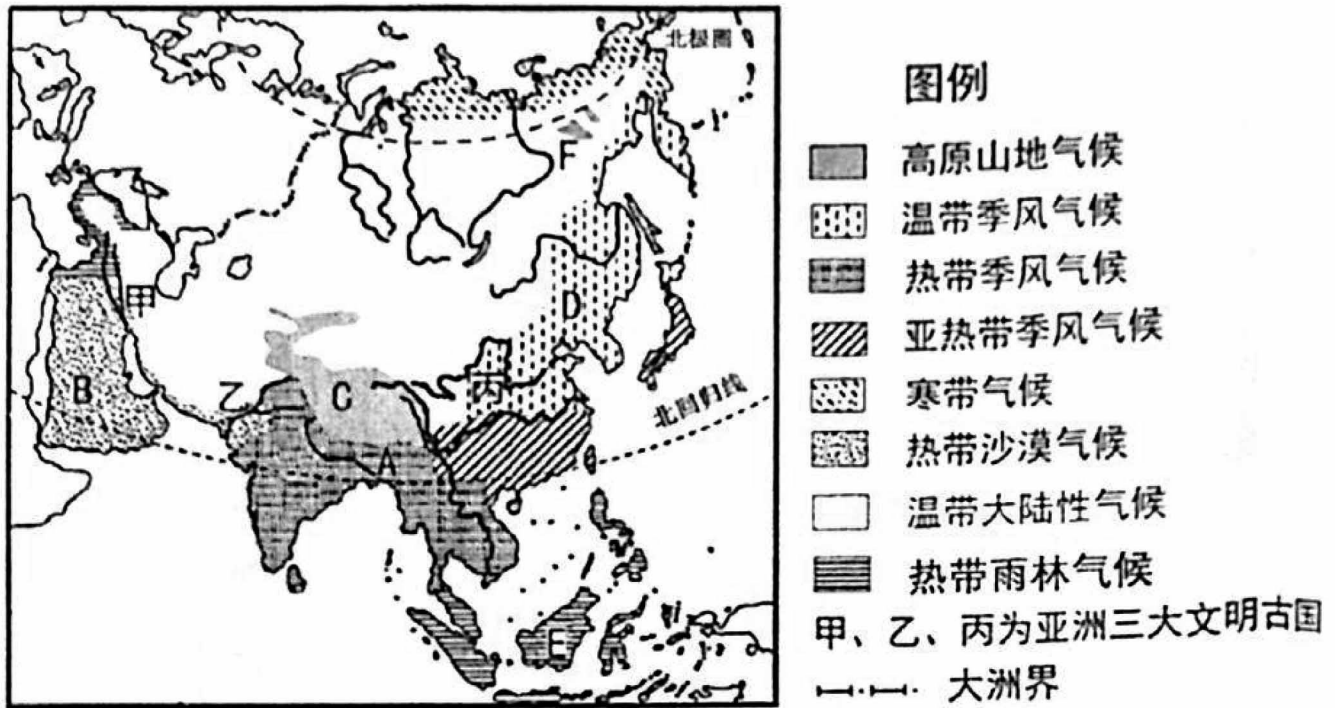




图 10

(1) 亚洲地域辽阔，自南向北地跨_____带、_____带和北寒带三个温度带。

(2) 受复杂多样的自然环境影响，不同地区的人们有着不同的生活方式。根据图10，完成下列表格中的内容。

	区域文化与民俗特色	自然环境突出特点	在图10中对应的地区(填字母)
	住长屋(高架屋) ①(粮食作物)种植广泛	气候②	E
	主要以捕鱼为生，交通工具以船为主。	地势平坦， ③密布。 气候全年高温， 旱雨两季分明。	④
	民居以⑤做材料，身着毛皮服装，交通工具为雪橇	地处⑥(低/中/高)纬度地区， 气候寒冷	F
	住帐篷，农业以⑦业为主	气候⑧	B



(3) 亚洲是人类文明重要的发祥地，在漫长的历史沉淀中孕育出三大文明古国。

文明古国大都沿_____分布，这为文明古国的发展提供了_____ (双项选择)。

- A. 丰富的水能资源 B. 充足的灌溉水源 C. 肥沃的土壤 D. 充足的热量

27. (13分) 日本是中国一衣带水的邻邦。图11为日本群岛地形和工业分布图。阅读图文资料，完成下列问题。

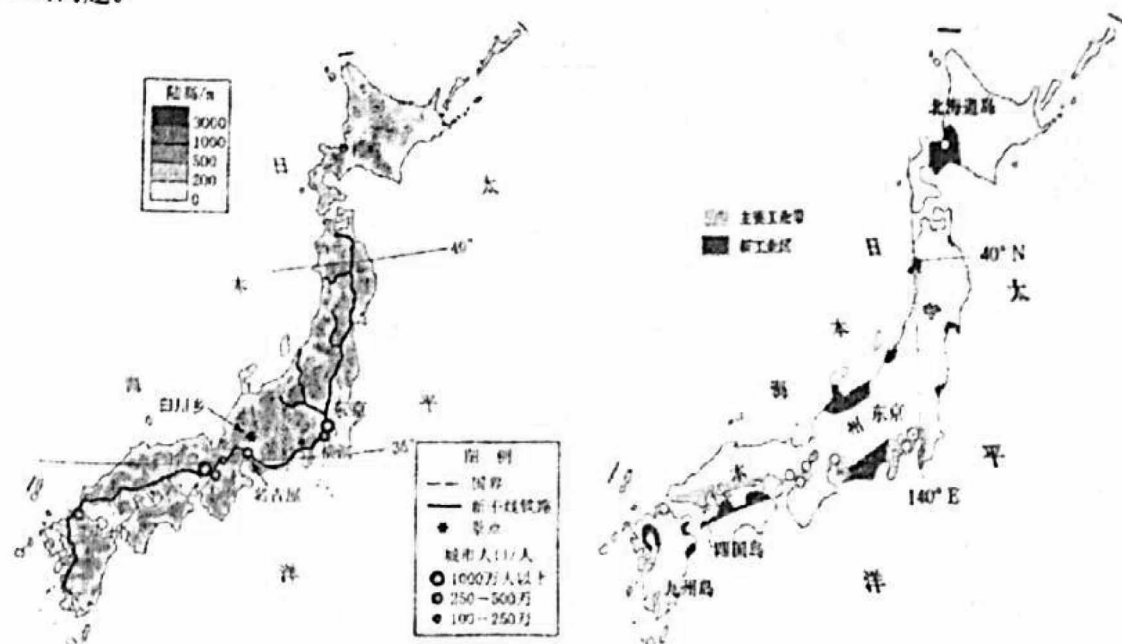


图11

山地岛国

(1) 日本是太平洋西北部的岛国，由北海道岛、_____、四国岛、九州岛四个大岛及附近的一些小岛组成。地形以山地、_____为主，平原面积狭小。东京等城市和新干线铁路多分布在海拔_____米以下，其分布受到了_____因素的影响。

地震之国

(2) 日本位于板块_____ (边缘/内部)，是一个多火山、多地震的国家。当该灾害发生时，人们应_____ (选择填空)

- A. 迅速乘电梯下楼 B. 跑到大树下躲避 C. 护住头部，躲在墙角处 D. 带上贵重物品逃生

“加工贸易型”的发达国家

(3) 日本工业主要集中分布在_____沿岸和濑户内海沿岸，请分析如此分布的原因 (至少答出两点)

“米食民”“鱼食民”的国家

(4) 日本的季风气候受_____ (海洋/大陆) 影响大，降水量充足，雨热同期，适合水稻生长；四面临海，_____资源丰富，因此由“米”和“鱼”巧妙组合而成的“寿司”及鱼生料理，成为日本饮食文化的符号。



28. (11分) 中缅山水相连, 两国人民友好交往跨越千年, 绵延不断。图12为缅甸地形图, 图13为乌本桥旱雨季景观图。阅读图文资料, 完成下列问题。

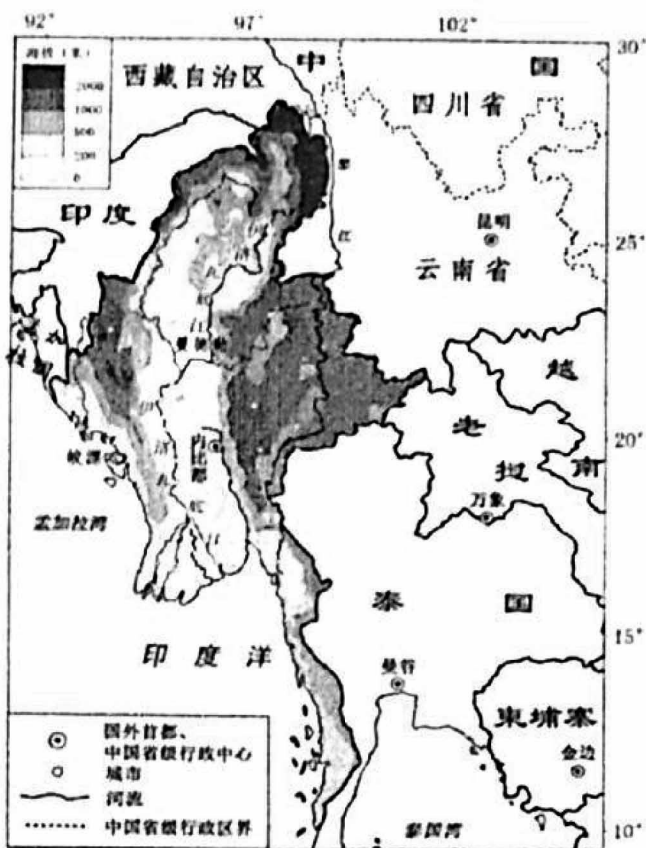


图12




图13

- (1) 缅甸位于中国_____方向, 其周边邻国还有孟加拉国、印度、泰国和_____。
- (2) 缅甸首都内比都的经纬度约为_____。缅甸的城市分布特点是_____。
- (3) 伊洛瓦底江, 被称为缅甸的母亲河, 自北向南注入_____洋。其水位季节变化_____(大/小), 由此可知该地区多发的自然灾害是_____。

曼德勒的乌本桥有一百多年的岁月了。每当旱季来临, 桥下绿草茵茵, 而雨季来临时, 水位猛涨, 水面接近桥面。

- (4) 乌本桥下水位高低的变化是受_____ (气候类型) 影响, 如果想要欣赏倒映在波光粼粼水面上的乌本桥, 游客应该选择的最佳游览时间是_____ (季节)。



鱼汤米线



吊脚楼



纱笼(筒裙)

图14

- (5) “一方水土养一方人”, 缅甸是一个具有悠久历史文化、鲜明地域特色的国家。图14为缅甸的特色饮食、民居和服饰的景观图。请从特色饮食、传统民居和传统服饰中任选一个方面, 分析其与当地自然环境的关系。



29. (13分) 加里宁格勒州是俄罗斯最西部的一个行政区。图15为加里宁格勒位置图, 图16为加里宁格勒经济结构饼状图, 表2为加里宁格勒气候资料, 阅读图文资料, 完成下列问题。



图15

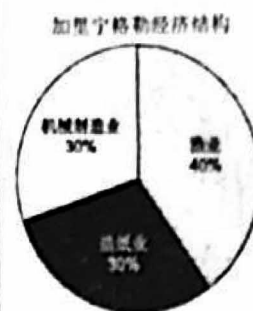


图16

(1) 加里宁格勒州与俄罗斯本土完全不相连, 是俄罗斯的一块“飞地”, 位于_____ (国家) 与_____ (国家) 之间。

表2

	1月	2月	3月	4月	5月	6月	7月	8月	9月	10月	11月	12月
平均气温(°C)	-3	-3	1	6	12	16	17	17	13	8	3	-1
降水量(mm)	57	40	43	37	53	71	80	90	89	79	91	73

(2) 加里宁格勒的森林资源丰富, 公路、铁路网密集, 拥有优良的海港, 是俄罗斯通往西方国家最便捷的交通枢纽。根据资料信息, 完成结构图。

