



北京市朝阳区 2023 ~ 2024 学年度第一学期期末检测

八年级历史试卷(选用)

2024. 1

(考试时间 60 分钟 满分 100 分)

学校 _____ 班级 _____ 姓名 _____ 考号 _____

考 生 须 知	1. 本试卷共 7 页。在试卷和答题卡上准确填写学校名称、班级、姓名和考号。 2. 试题答案一律填涂或书写在答题卡上,在试卷上作答无效。 3. 在答题卡上,选择题用 2B 铅笔作答,其他试题用黑色字迹签字笔作答。 4. 考试结束,将本试卷和答题卡一并交回。
------------------	---

第一部分 选择题(共 40 分)

本部分共 20 小题,每小题 2 分,共 40 分。在每小题列出的四个选项中,选出最符合题目要求的一项。

- 1839 年,在广州虎门的外国人说:我们已把销烟的过程反复查看过了,他们的细心和忠实的程度,远超出我们的意料,没有别的事能比这项工作更为忠实了。材料表明
 - 林则徐坚决进行禁烟斗争
 - 英国完全停止鸦片走私
 - 吸食鸦片已经被彻底禁止
 - 英国准备发动侵略战争
- 19 世纪中期,西方列强的侵略势力逐步从广州向北推进到北京;陆上国家则从西伯利亚向南推进到北京,这种钳形活动掐住了满清王朝。其中“陆上国家”是
 - 美国
 - 法国
 - 俄国
 - 日本
- 右侧是太平天国颁布的两个文件,但它们在实践中都难以施行。这表明太平天国
 - 是中国历史上规模最大的农民战争
 - 打击了清朝的统治和外国侵略势力
 - 无法制止和克服领导集团腐败
 - 无法提出切合实际的革命纲领
- 有学者指出:从生产力角度说,它制造了新的工具和机器;从生产关系角度说,军火有一部分投入市场,有发展为资本主义企业的可能性。其中的“它”是
 - 洋务运动
 - 戊戌变法
 - 辛亥革命
 - 新文化运动
- 1884 年,清政府在新疆地区建立行省,改称西域为“新疆”;1885 年,清政府在台湾建立行省。这些措施
 - 彻底解除了边疆地区的危机
 - 发展了近代军事工业
 - 维护了边疆稳定和国家统一
 - 废除了不平等的条约





6. 一位同学整理了下表内容,表格主题应是

平壤战役	黄海海战	旅顺战役	威海卫战役
左宝贵	邓世昌	徐邦道	丁汝昌

- A. 新式海军的建成
B. 反抗侵略的斗争
C. 民用企业的开办
D. 东南海防的加强

7. 以下是 19 世纪末我国第一次办报高潮中的报纸。当时这些报纸主要宣传的是

时间	1895 年	1896 年	1897 年	1898 年
报纸	《万国公报》	《时务报》	《国闻报》	《湘报》

- A. 师夷长技以制夷
B. 维新变法思想
C. 以武装起义推翻清政府
D. 民主与科学的思想

8. 八国联军统帅瓦德西出发前曾说:“关于瓜分中国一事”,现在“实为一个千载难得之实行瓜分时机”。但 1901 年时他说“中国群众……尚含有无限蓬勃生气”,“故瓜分一事,实为下策”。出现这种变化的原因是

- A. 中国人民的英勇抗争
B. 戊戌变法对制度的变革
C. 列强侵华兵力的不足
D. 清政府对义和团的利用

9. 右侧漫画《共和之假面具》刊登在 1912 年 7 月的《民权画报》上,画中一只猿猴正在戴上假面具。这幅漫画



- A. 表现了科举制度被彻底废除
B. 肯定了辛亥革命的历史功绩
C. 抨击了袁世凯的独裁统治
D. 运用了西洋写实主义技法

10. 20 世纪初,他们不再热衷于讨论君主立宪与民主共和孰是孰非,而是转而探究民主社会在中国为什么屡屡失败,于是他们的认识开始深入到思想文化层面。材料中“他们”的代表人物是

- A. 曾国藩、李鸿章
B. 康有为、梁启超
C. 孙中山、黄兴
D. 陈独秀、鲁迅



11. 1920年,北京、长沙、武昌等地成立了共产主义小组,北京共产主义小组成员有李大钊、张申府等;长沙共产主义小组成员有毛泽东、何叔衡等。这表明中国共产党的成立
- A. 得到社会各阶层的支持
B. 具有了组织基础
C. 掀起了工人运动的高潮
D. 提出了革命纲领

12. 下表中有一次战争的性质与其它三次战争不同。这次战争是

序号	时间	战争名称	作战双方	
①	1920年	直皖战争	直系军阀	皖系军阀
②	1922年	第一次直奉战争	直系军阀	奉系军阀
③	1924年	第二次直奉战争	直系军阀	奉系军阀
④	1926年	北伐战争	国民革命军	北洋军阀

- A. ①
B. ②
C. ③
D. ④

13. 右侧是一部历史著作中某章的目录。这章的标题应是

- A. 国民大革命的外败
B. 中国共产党建设人民军队
C. 工农红军放弃进攻大城市
D. 中央红军战略转移

- | |
|--|
| 1. 南昌起义
2. 秋收起义、三湾改编
3. 井冈山会师
4. 古田会议
5. 三大纪律、八项注意 |
|--|

14. 某班同学围绕红军长征开展历史、美术跨学科主题学习活动,以下可以作为绘画题材的是

- ①四渡赤水 ②飞夺泸定桥 ③平型关大捷 ④千里跃进大别山
- A. ①② B. ②③ C. ③④ D. ①④

15. 十四年抗战中,东北地区满族、朝鲜族等积极抗日;东北、华北等地的蒙古族和汉族人民成立蒙汉同盟军等;西藏宗教领袖通电声讨日本侵略罪行;维吾尔族、壮族、高山族等少数民族通过各种方式参加了抗日斗争。这反映出

- A. 国共两党实现了第二次合作 B. 正面战场与敌后战场协同作战
C. 中华民族团结一致浴血奋战 D. 全民族抗战取得了最后的胜利

16. 重庆谈判中,中共代表主动就联合政府等问题予以让步,同意撤出海南岛等8个解放区的军队。这表明

- A. 中国共产党尽一切可能争取和平
B. 国民党为发动内战尽量争取时间
C. 中国共产党的实力与国民党存在差距
D. 解放区军民粉碎了国民党军全面进攻

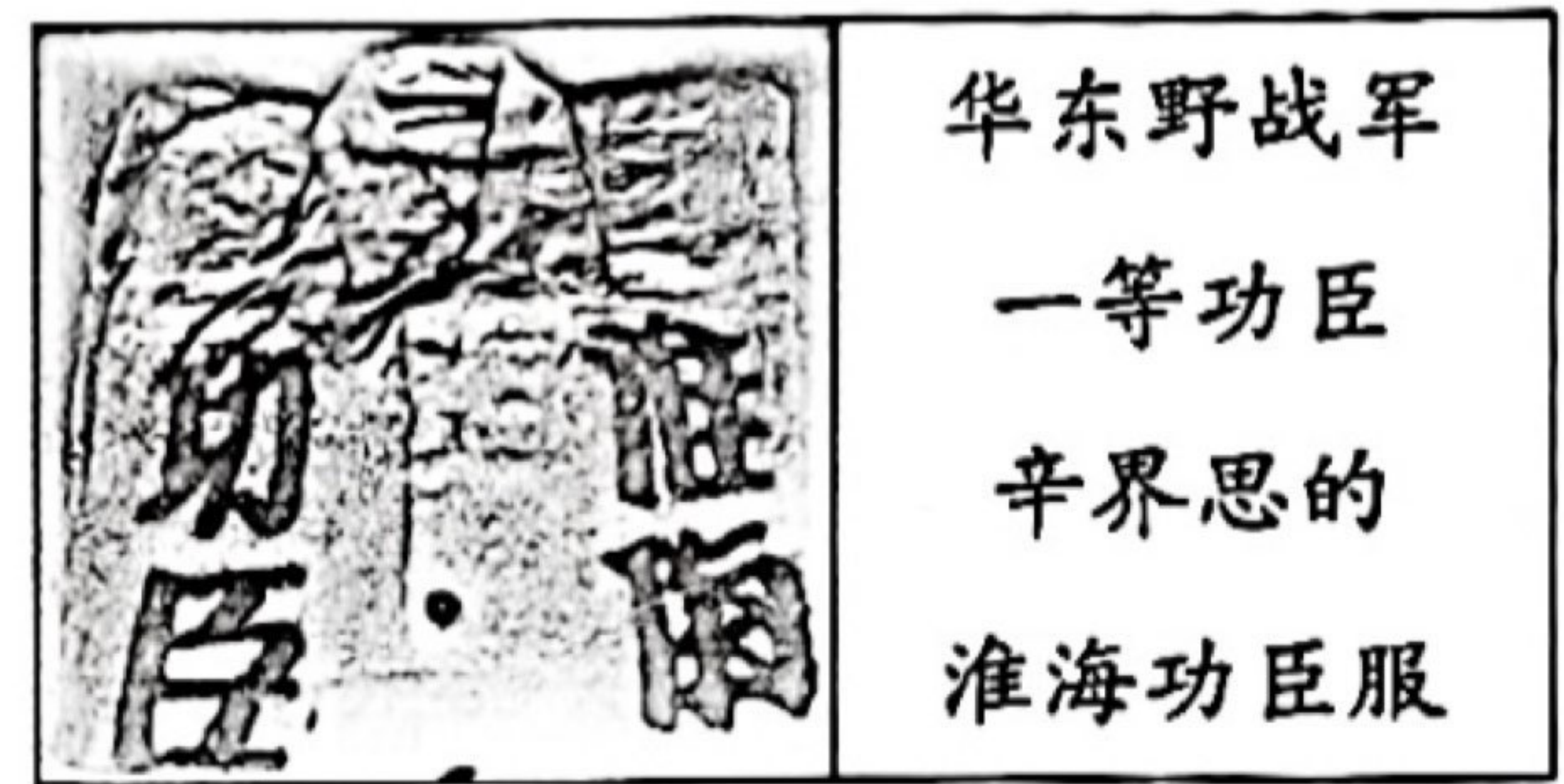


17. 1947年,中共中央指出:“就一般情况来说,占乡村人口不到百分之十的地主富农,占有约百分之七十至八十的土地,残酷地剥削农民。而占乡村人口百分之九十以上的雇农、贫农、中农及其他人民,却总共只有约百分之二十至三十的土地,终年劳动,不得温饱。”为此,中国共产党在解放区采取的政策是


- A. “平均地权”
- B. 打土豪,分田地
- C. 地主减租减息,农民交租交息
- D. 废除封建剥削的土地制度

18. 右侧这件革命文物见证了

- A. 红军三大主力在会宁地区胜利会师
- B. 东北全境获得解放
- C. 长江中下游以北广大地区得到解放
- D. 华北全境基本解放



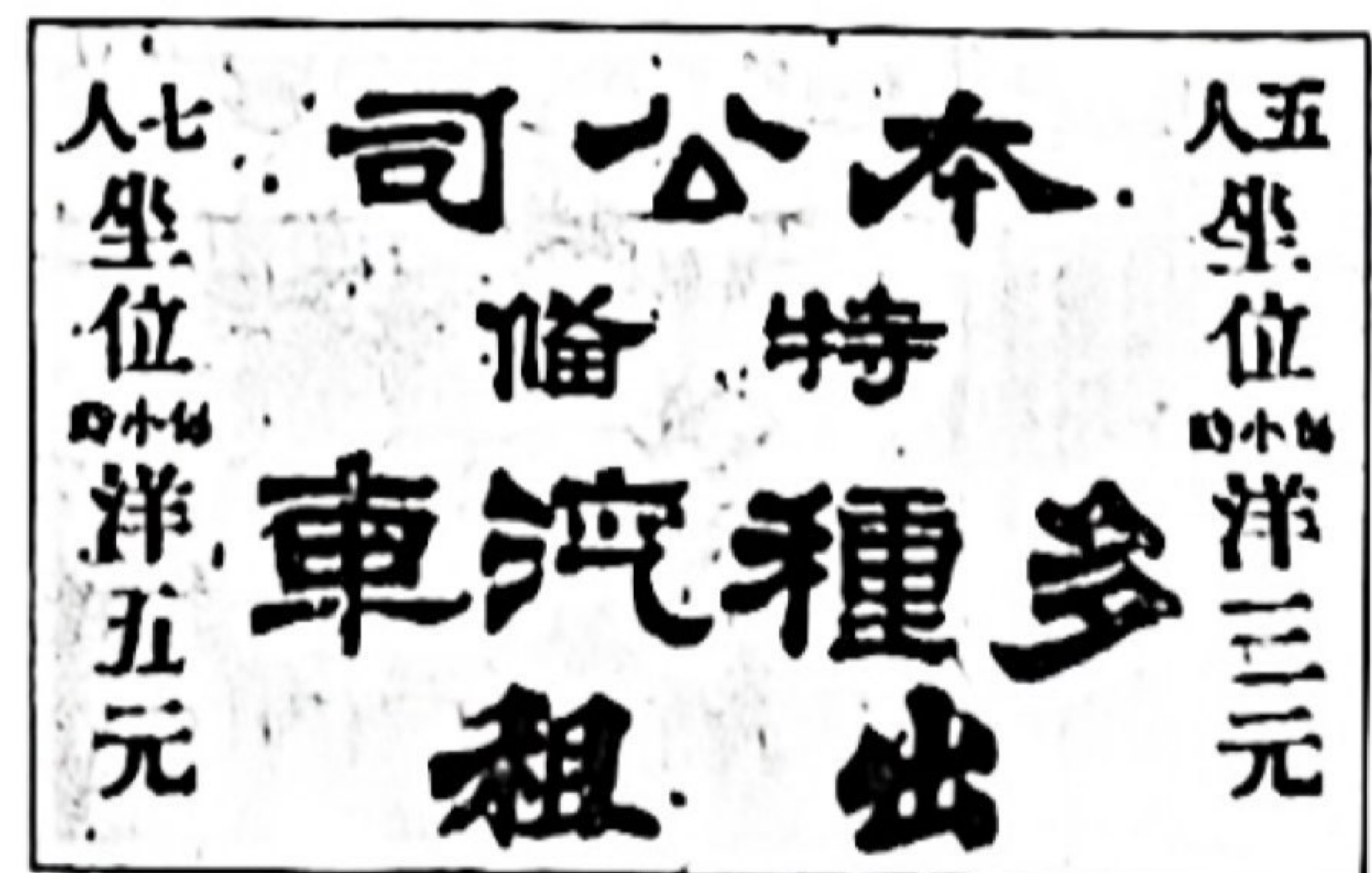
19. 以下是中国近代民族工业中轻、重工业比例示意图。由此可见



- A. 中国近代民族工业集中在沿海地区
- B. 洋务运动促进了中国民族资本主义发展
- C. 列强可以在所有通商口岸开设工厂
- D. 中国近代民族工业中的重工业极为薄弱

20. 1921年2月《申报》刊登了出租汽车广告(见右图)和汽车修理广告。这反映出当时

- A. 外国人在上海等地创办了外文报刊
- B. 交通运输的发展便利了人们的出行
- C. 我国内陆地区的社会生活变化缓慢
- D. 人们的风俗习惯开始发生深刻变化





第二部分 材料分析题 (共 60 分)

21. (20 分)近代中国人民为废除不平等条约进行了不懈抗争。

材料一 近代中国被迫与列强签订了众多不平等条约。条约是否平等取决于两个因素:条约的缔结形式和程序是否平等;条约的内容是否对等,是否损害了中国的主权。近代不平等条约损害了中国的主权,以下是近代中国不平等条约(部分)统计表

类别	政治	司法	租界	军事	边界	铁路	工程	矿业	电信	商贸	传教
数量	57	14	59	18	19	24	6	11	9	100	8

——摘编自侯中军《近代中国不平等条约及其评判标准的探讨》

(1)依据材料一,概括近代中国签订的不平等条约的特点。(4分)结合史实,说明《南京条约》的不平等性质。(4分)

材料二 右图内容是1919年6月法国路透社电文,“(巴黎)和会决议以山东德(国)人权利让给日本,已引起全国抗议之情形。中政府为舆情一致反对之故,被迫拒绝受纳和约中之山东条款。”6月24日,美国驻华公使说:“过去三个星期以来的运动,已经在中国产生了一种有组织的公众舆论,能对中国政府施加具体的压力,并实施具体的行动……这是一个极其重要的发展。”

——摘编自熊志勇等《中国近现代外交史》

(2)依据材料二,写出“全国抗议之情形”所指的历史事件。(2分)结合所学,谈谈对这一历史事件的认识。(4分)



材料三



<p>1912年1月,中华民国临时政府成立,向世界各国发布《对外宣言书》,其中对外政策有:凡革命以前所有满政府与各国缔结之条约,民国均认为有效,至于条约期满而止。</p> <p>——摘编自张海鹏《中国近代通史》</p>	<p>1943年是中国抗战史上不平凡的一年。国民政府与美、英签订新条约,取消了两国在华领事裁判权、使馆区及驻军、租界、特别法庭、军舰行驶权、英籍海关总税务司特权等。中国能够在国际上取得发言权,是全体中国军民浴血抗战的结果。</p> <p>——摘编自朱英《中国近代史十五讲》等</p>
---	---

(3)依据材料三,比较近代两个时期中国政府在处理不平等条约方面的变化。(4分)结合所学,分析变化原因。(2分)



22. (20分) 民主革命是近代不可阻挡的时代潮流。

材料一

	<p>漫画1 《湖北(武昌)新军之哗变》 载于1911年10月13日《神州日报》</p>		<p>漫画2 《二百六十年之古物》 载于1912年2月《民权画报》 注:1644年清军入关</p>
---	--	---	---

(1) 依据材料一并结合所学, 分别说出两幅漫画所反映的史实。(4分) 说明史实之间的联系。(2分)

材料二 革命需要具有必要的社会条件才能发生。只有当国家民族的命运已经处于万分危急的情况下, 别的办法都尝试过, 都走不通, 人们的忍耐程度已经超出它的极限, 这才会拿起武器来拼命, 一场全国规模的革命高潮才会出现。革命需要在人们面前提出一个与以往不同并被众人接受的新的理想和目标, 使人们燃起新的希望。革命需要新的社会力量站在民族解放运动的前头, 这种新的社会力量的出现和壮大, 只能是社会结构和民众心理发生深刻变动的产物。

——摘编自金冲及《二十世纪中国史纲》

(2) 依据材料二并结合史实, 说明清朝末期中国社会所具有的资产阶级民主革命的条件。(6分)

材料三 据统计, 1916年全国的报刊总数为286种, 1921年增加到1134种; 1911年至1913年, 全国新成立的政治性党会321个; 西方政治学说和思想, 如空想社会主义、马克思主义等得到传播。中国共产党的第一代, 如陈独秀、朱德等早年便参加辛亥革命。中共早期的几批党员中, 直接或间接参加过辛亥革命的约占1/3。1911年以前全国工人数量约50-60万, 1919年达到200万。以下是中国近代民族资本企业数量表

年份	1910	1911	1912	1913
数量(家)	986	787	1502	1378

——摘编自黄春华《试论辛亥革命对中国共产党成立的影响》

(3) 有史学家说: “革命并非起始于辛亥这一年, 有它的前因; 也并非结束于辛亥这一年, 有它的后果。”你是否同意这一观点, 综合材料二和材料三并结合所学进行说明。(8分)



23. (20分)抗日战争是中华民族走向复兴的枢纽。

材料一 侵华日寇,毁吾南京……同胞何辜,国难正殷……兄弟同心,共御外侮。捐躯洒血,浩气干云。尽扫狼烟,重振乾坤。

——南京大屠杀死难者国家公祭鼎铭文(节选)

(1)依据材料一并结合所学,列举“捐躯洒血,浩气干云”的英雄人物。(4分)写出其中一位英雄人物的事迹及体现的精神。(4分)

材料二 强弱对比虽然规定了日本能够在中国有一定时期和一定程度的横行,中国不可避免地要走一段艰难的路程,抗日战争是持久战而不是速决战。

长期和残酷的战争中,游击战争将表现其很大的威力,实在是非同小可的事业。并且正规军分散作游击战,集合起来又可作运动战,八路军就是这样做的。

战争的伟力之最深厚的根源,存在于民众之中。

——毛泽东《论持久战》(节选)1938年5月

材料三 在日本军国主义者野蛮侵略下,不管是国内居民还是海外华侨,已经凝聚成一个整体去抵抗侵略……许许多多的中国人真正认识到了中国共产党的全面抗战路线,并团结在它周围。

——金冲及《二十世纪中国史纲》

材料四 至抗战结束,人民抗日武装力量对日作战12.5万次,消灭日军52.7万人。以下是中国共产党的军队抗击侵华日军的比例

时间	1938年	1939年	1940年	1941年	1942年	1943年	1944年	1945年
比例	59%	62%	58%	75%	63%	58%	64%	69%

——摘编自石仲泉《关于抗战史几个热点问题的辨正》等

材料五 侵华日军中尉尾岛芳美的日记记录了1940年8月与华北地区八路军作战的情况,其中21日凌晨0:00、0:30、1:00、1:30均有战事记录,可见八路军进攻之频繁。21日11:35记载了铁路被破坏,日军不能出动。日记中还记录了八路军向石太线发动的大规模袭击,战斗重点放在铁路交通线和各交通站等处。

(2)写出材料五中八路军发动的战役名称。(2分)综合以上五则材料并结合所学,围绕中国共产党在全民族抗战中的作用,提出一个观点并结合史实进行说明。(10分,观点正确,史论结合,条理清楚。)