

2019 北京海淀初一（下）期末

历史



学校_____ 姓名_____ 班级_____ 成绩_____

- | | |
|------|--|
| 考生须知 | 1. 本试卷共 8 页，共二部分，27 道小题。满分 100 分。考试时间 60 分钟。 2. 在答题纸上认真填写学校名称、姓名和准考证号。 3. 试题答案一律填涂或书写在答题纸上，在试卷上作答无效。 4. 考试结束，请将本试卷和答题纸一并交回。 |
|------|--|

第一部分选择题(共 48 分)

本部分共 24 小题，每小题 2 分，共 48 分。在每小题列出的四个选项中选出最符合题目要求的一项。

1. “琼花缀玉扬州梦，稻米流脂汴情。百里龙舟经过处，千年漕运赖通行。”这是对安徽泗县的隋朝大运河遗址的抒怀。诗句体现出大运河的作用是

- A. 加速了当地造船业的发展
 B. 有利于沿岸的科技进步
 C. 促进了经济的交流与发展
 D. 加强对流域水质的保护

2. 白居易在《七德舞》中追述唐太宗的事迹：“太宗十八举义兵，白旄黄钺定两京。擒充戮窦(消灭王世充、窦建德等割据势力)四海清，二十有四功业成。二十有九即帝位，三十有五致太平。”以上诗句中涉及的史实包括

- ①唐朝统一全国
 ②唐明国力达到鼎盛
 ③贞观之治
 ④开元盛世

- A. ①②
 B. ①③
 C. ②④
 D. ③④

3. 传说文成公主入藏途经白纳沟时，让随行的百工匠人传授当地藏族人民耕耘播种，纺纱织毯等，使白纳沟各项工艺迅速发展。当地民谣说：“你有千能，我有百巧，倘无公主，谁传诀窍。”以上材料说明

- A. 吐蕃赞普松赞干布仰慕中原文化
 B. 唐朝人的生活习俗受到吐蕃影响
 C. 西北各族尊奉唐太宗为“天可汗”
 D. 唐蕃和亲促进了吐蕃经济的发展

4. 某纪念馆悬挂对联：“草堂留后世，诗圣著千秋。”此馆纪念的人物是

- A. 魏征
 B. 姚崇
 C. 李白
 D. 杜甫

5. 对以下朝代兴替表解读正确的是

| 朝代 | 创建人 | 称帝前的身份 | 年代 |
|----|-----|---------------|-----------|
| 后梁 | 朱全忠 | 唐朝宣武军节度使 | 907—923 年 |
| 后唐 | 李存勖 | 晋王，其父为唐朝河东节度使 | 923—936 年 |
| 后晋 | 石敬瑭 | 后唐河东节度使 | 936—947 年 |
| 后汉 | 刘知远 | 后晋河东节度使 | 947—950 年 |
| 后周 | 郭威 | 后汉天雄节度使 | 951—960 年 |

- ①武将专权，政局动荡不安
 ②北方政权更迭频繁
 ③后梁等五个政权并存对峙
 ④南方政局相对稳定

- A. ①②
 B. ②③
 C. ①④
 D. ③④

6. 位于今河南省新乡市的陈桥驿曾见证了王朝更替的历史，下列政权的建立与其有关的是

- A. 隋朝 B. 唐朝 C. 北宋 D. 南宋

7. 元祐元年(1086年)一位大臣说:祖宗之法,由文官担任地方军政长官,武将统领军队,接受文官指挥。与此言论相符的统治政策是

- A. 以德治国 B. 重文轻武 C. 无为而治 D. 闭关锁国

5. 宋代诗人范成大描绘当时的田园生活:农民种植蔬菜后,“溪头洗抒店头卖,日暮裹盐沽酒归”:村中“鸡飞过篱犬吠窦,知有行商来买茶”。以上材料可以用来研究

- A. 垦田面积扩大 B. 耕作技术提高
C. 农村商业状况 D. 农业工具改进

9. 图1横线上应填写

- A. 西夏 B. 蒙古 C. 元 D. 明

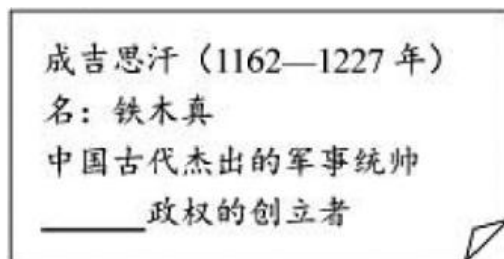


图1

10. “在人事权方面,元代地方官吏的选用主要由中书省和吏部负责;行省不能独立行使军大多数情况下,遵照朝廷的救命行事。”由此可见行省制度

- A. 进一步加强了中央集权
C. 地方机构过多,效率低
B. 有利于地方与中央抗衡
D. 造成丞相权力威胁皇权

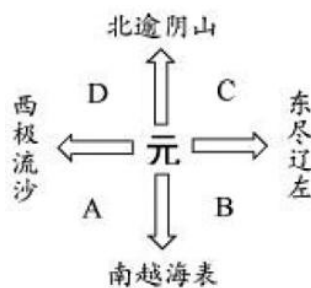


图2

12. “宋朝时很多大城市中的夜市每日从天未暗到深夜,甚至通宵都有营业,流动商业深入各街各巷,居民不跑远路就能方便地买到东西。”这说明

- A. 商业不再受时间、空间的限制 B. 市民居住、商业活动分区明显
C. 政府对市场交易进行严格管理 D. 市场中交易须按时开始和结束

13. 重庆钓鱼城是南宋与蒙古交战的主要战场之一。在此地南宋衙署遗址出土的铁雷(如图3)中装填的火药能把超过1厘米的铁壁炸裂,与南宋史料中记载的铁火炮、震天雷一致。这一考古发现的意义是

- A. 说明火药最早在南宋时期运用于战争
B. 为爆炸性火药武器使用提供实物证据
C. 证明中国发明的火药和火器传到欧洲
D. 论证火药武器使用推动欧洲社会变革



图3

14. 以下表格“①”处应填写

| 各时期主流文学体裁 | 唐诗 | 宋词 | 元曲 |
|-----------|---------|----------------|----|
| 代表作 | 李白《将进酒》 | 苏轼《水调歌头·明月几时有》 | ① |

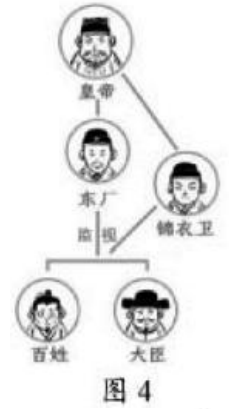
- A. 司马迁《资治通鉴》 B. 关汉卿《窦娥冤》
C. 汤显祖《牡丹亭》 D. 孔尚任《桃花扇》

15. 对图4所示内容解释正确的是

- A. 朱元璋取消行中书省,设立“三司”



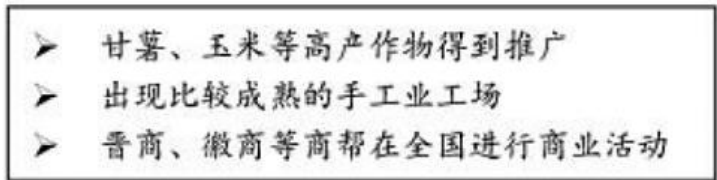
- B. 朱元璋废除丞相制度，使六部直接向皇帝负责
- C. 明朝设立特务机构，加强皇权，镇压官民
- D. 清朝制造文字狱，禁锢人们的思想言论



16. “杀牛羊，备酒浆，开了城门迎闯王，闯王来时不纳纳粮”这是一首流传甚广的欢迎农民起义军的民谣。歌谣中的“闯王”指的是

- A. 黄巢
- B. 朱温
- C. 钱镠
- D. 李自成

17. 图5是某同学的课堂笔记，根据笔记内容，他学习的主题是



- A. 隋朝的农业
- B. 唐朝的金融
- C. 元朝的外贸
- D. 清朝的经济

图5

18. 2015年，习近平在新加坡国立大学做题为《深化合作伙伴关系，共建亚洲美好家园》的报告。报告回顾了15世纪以来中新两国的友好往来，可以作为报告论据的是

- A. 玄奘西游
- B. 鉴真东渡
- C. 蒙古政权扩张
- D. 郑和下西洋

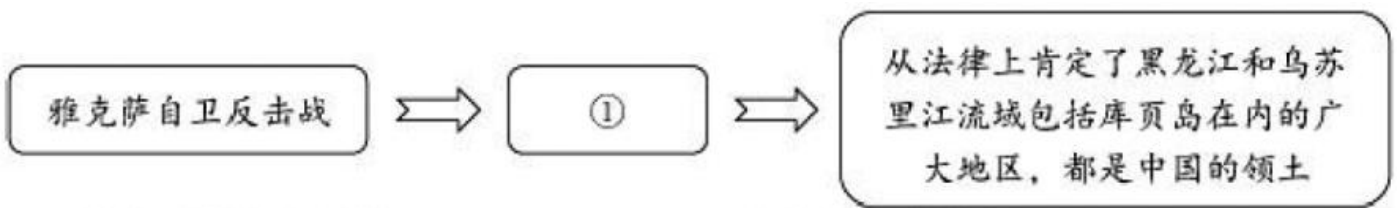
19. “口口口为清代所独创，对清代政治产生过广泛深远的彭响。它的设立与雍正初清廷向西北用兵有密切关系……标志着中国封建专制统治已经发展到顶峰。”上文中“口口口”应为

- A. 军机处
- B. 市舶司
- C. 锦衣卫
- D. 中书省

20. 康熙皇帝册封“班禅额尔德尼”与乾隆皇帝平定大小和卓叛乱的共同作用是

- A. 加强了对西藏地区管理
- B. 巩固了统一多民族国家
- C. 增进了与各国友好往来
- D. 安定了我国的西北边疆

21. 以下示意图反映了某一历史事件及其背景、历史意义，其中①应为



- A. 签订《尼布楚条约》
- B. 平定噶尔尔叛乱
- C. 土尔扈特部回归祖国
- D. 确立金瓶掣签制度

22. 某位同学看到一幅历史漫画(如图6)，发出这一严正声明的是

- A. 忽必烈
- B. 戚继光
- C. 郑成功
- D. 康熙皇帝




图6

23. 1700—1820 年中国、欧洲经济发展情况

| | GDP 占世界比重 (%) | | 人口 (百万) | | 人均 GDP (1990 年国际元) | | 1700—1820 年人均 GDP 年增长率 (%) |
|----|---------------|--------|---------|--------|--------------------|--------|----------------------------|
| | 1700 年 | 1820 年 | 1700 年 | 1820 年 | 1700 年 | 1820 年 | |
| 中国 | 22.3 | 32.9 | 138 | 381 | 600 | 600 | 0.00 |
| 欧洲 | 24.9 | 26.6 | 100.3 | 169.5 | 923 | 1090 | 0.14 |

注:GDP 是指在一定时期内一个国家或地区的经济中所生产出的全部最终产品和劳务的价值, 常被公认为衡量国家经济状况的最佳指标。

阅读上表, 清朝走向衰败的表现是

- A. 中国 GDP 占世界比重下降
- B. 中国 GDP 总量低于欧洲
- C. 中国人均 GDP 长期停滞
- D. 中国人口数量急剧增长

24. 一位同学将历史教材中提及的书籍进行分类汇总, 其中①处应填写

| |
|-------------------------------|
| 类别一: 《千金方》 《唐本草》 《本草纲目》 |
| 类别二: 《史记》 《三国志》 《资治通鉴》 |
| 类别三: 《三国志通俗演义》 《水浒传》 ① |

- A. 《梦溪笔谈》
- B. 《天工开物》
- C. 《农政全书》
- D. 《红楼梦》

第二部分(非选择题, 共 52 分)

25. (16 分) 科举制是具有世界影响的中华文明产物。

材料一为了加强对社会的控制能力, 提高各级官府的管理水平和效率, 唐朝对官员文化水平的要求不断提高。开科考试是贯彻按才学选官原则的前提; 设立科目公开考试、公平竞争、择优录取是科举制度的基本特征。唐朝中后期, 进士科成为宰相等高级官僚的主要来源, 凭借高官子弟特权进入仕途的宰相人数急剧减少。同时, 地方的中下级官吏中科举出身者所占比重也不断加大。

—摘编自吴宗国主编《盛唐政治制度研究》

(1) 依据材料一和所学, 概括科举制度实施的作用。(6 分)

材料二一个地区经济文化越发达, 进士人数就越多。北宋科举制没有地域名额的限定, 完全按才能录取。因此, 北宋所录取的进士里, 其籍贯的分布很不平衡。欧阳修言: “每次科场, 东南进士得多, 而西能进士得少。”

—摘编自刘俊丽《宋诗作者队伍的定量分析》

(2) 北宋科举录取进士的地域分布有什么特点? 结合所学, 说明这一特点出现的原因。(5 分)

材料三乾隆年间, 大臣鄂尔泰说: “非不知八股为无用, 而牢笼英才, 驱策志士, 其术英善于此。” 此处“牢笼”二字, 既有控制之意, 还有网罗、选拔之意。八股“无用”, 是指对从政或治国安邦无直接的作用, 并不是说对选拔人才无用的意思。统治者通过八股取士选拔少量的治国精英, 却造就了许多除了举业之外一无所长的儒生。

—摘编自刘海峰、李兵《中国科举史》

(3) 依据材料并结合所学, 概括八股取士的消极影响。(5 分)

26. (16 分) 历史地图能帮助我们直观而生动地认识历史。



【图史互证】

材料“安史之乱”后割据倾向最强的是河北地区的藩镇。这些节度使原来随安禄山

叛乱，之后投降朝廷，因而被允许保留对自己部队的指挥权，并且统治大片土地。虽然这些以前的叛将接受唐朝所所赐名号，并对长安的帝国政府名义上效忠，但他们自己的领地如同独立的王国，他们任命自己的官吏，

①

招募军队，征收赋税，任命自己的继承人，这在制度上意味着他们成了世袭统治者。

②

北方人口大为减少，唯有东南地区有余粮(主要是大米)可供输出。因此，在“安史之乱”之前只是作为一种有益的补充手段的大运河，突然成了唐朝中央政府不可或缺的生命线。

—摘编自[美]陆威仪《世界性的帝国：唐朝》

(1)从材料中，找出能证明以下结论的史料。(4分。从材料下划线部分选择：写序号即可，多选、错选不得分)

节度使名义上服从中央：_____

节度使与中央抗衡：_____

(2)上题(1)所述局面，出现在安史之乱后。这一局面在历史上被称为_____。(2分)

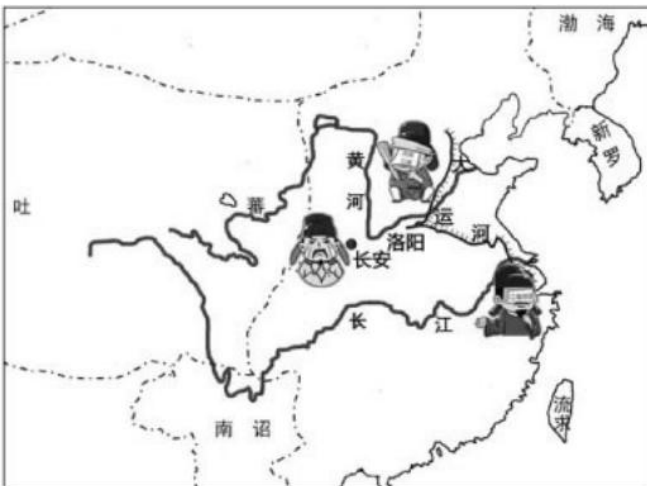


图7

(3)图7是某同学绘制的元和十五年(820年)唐朝形势示意图。

唐朝中央政府必须筹措粮食等物资供应都城。依据文字材料，在图7中画出这一时期供应唐朝都城的物资运输路线。(4分)

要求：路线有明确的起止点，用箭头表示物资运输方向，方位准确。

【地图对比】



图8



图9

(4) 比较图 8 和图 9 的局势，完成以下表格。(6 分)

| | 特点概述 | 地图中对应信息 |
|-------------------|------------|--------------------------------------|
| 共同点 | | 图 8: 辽、宋、西夏等政权并存 图 9: 宋、金、西夏等政权并存 |
| | 各民族间进行经济贸易 | |
| 不同点 (举出一个变化即可) | | |

27. (20 分) 研究文物，探寻丝绸之路。

材料一汉唐骆驼形象变化的轨迹，表现出中外交往的不断深入。汉代关于骆驼的艺术形象较少，而且显得有些稚拙，骆驼蹄子与马蹄无异，形象塑造与真实的骆驼存在差距，似乎是对骆驼并不十分了解。唐代胡人牵引载货骆驼如同是天经地义的造型选择，把它和对外交往、经济贸易紧密地联系在一起。骆驼形象塑造更多、制作更为生动，显然是在向往、猎奇后的创作。骆驼作为一种符号，象征着当时“丝绸之路”的兴盛。勾画出“无数铃声遥过碛，应驮白练到安西”美妙图景。

—摘编自齐东方《无数铃声遥过碛，应驮白练到安西》

(1) 阅读材料一，填写下列表格。(6 分)

| 朝代 | 艺术中的骆驼形象(不得照抄原文) |
|----|------------------|
| 汉代 | |
| 唐代 | |

材料二 18 世纪，茶叶成为世界贸易网络中最重要的国际贸易商品之一。中国的茶叶进入欧洲后，饮茶成为社会时尚，欧洲人运用来自中国的舶来品演绎出享誉至今的下午茶文化。在逐渐接受茶叶这种新型饮料的同时，欧洲人对茶树的种植和茶叶的烘焙等制作过程也产生了日益浓厚的兴趣。

广东省博物馆收藏有一套乾嘉时期(1736-1820 年)的纸本水粉制茶图，共 12 件。逼真写实地展现了茶叶从栽培、加工到装运、销售的全过程，为西方世界提供了直观准确的图像资料。有资料表明，正是在这类外销画作的启发之下，英国植物学家将中国茶籽带到印度和斯里兰卡，最终试种成功。

—摘编自白芳《南粤茗香飘四海——从清代外销画看广州的茶叶出口》




图 10 制茶图第 12 件 茶行(局部)
茶行中，茶叶装箱，称重、记账。
八仙桌上除砚台和账簿之外，还有一个西式笔盒，上插有一支鹅毛笔，供西方商人签字确认之用。不远处，一位头戴礼帽，身穿燕尾服的西方男子正与行商谨慎交谈，并准备接过行商递上的鹅毛笔签字确认，完成这笔茶叶交易。

(3) 结合材料和所学，说说 18 世纪茶叶贸易兴盛给中国和世界带来了哪些影响。(4 分)

(4) 有研究者认为，图 10 的场景发生在广州。你是否同意?依据所学说明理由。(4 分)



2019 北京海淀初一（下）期末历史参考答案



第一部分 选择题（共 48 分）

| | | | | | | | | | | |
|----|----|----|----|----|----|----|----|----|----|----|
| 题号 | 1 | 2 | 3 | 4 | 5 | 6 | 7 | 8 | 9 | 10 |
| 答案 | C | B | D | D | A | C | B | C | B | A |
| 题号 | 11 | 12 | 13 | 14 | 15 | 16 | 17 | 18 | 19 | 20 |
| 答案 | A | A | B | B | C | D | D | D | A | B |
| 题号 | 21 | 22 | 23 | 24 | | | | | | |
| 答案 | A | C | C | D | | | | | | |

第二部分 非选择题（共 52 分）

25.（16 分）

(1)有利于官员文化水平的提高；提高政府的管理能力；加强了皇帝在选官和用人上的权力；扩大了官吏选拔的范围，使有才学的人能够由此参政，促进了社会阶层的流动；同时也推动了教育的发展。（6 分。一点 2 分，回答出以上 3 点即可）

(2)特点：录取进士东南地区人数多，西北地区人数少。（2 分）

原因：经济重心继续南移；东南地区经济繁荣，文化发达。（3 分。一点 2 分，两点 3 分）

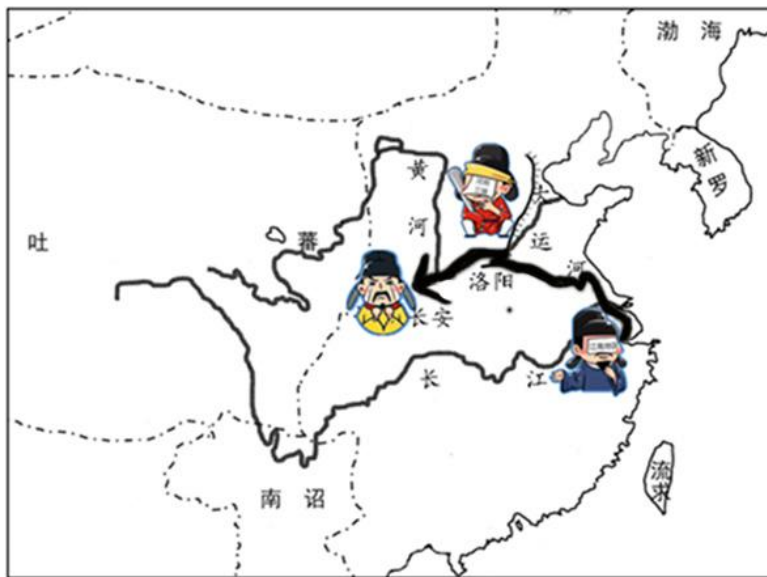
(3)八股文脱离实际，应试的人缺乏真才实学；禁锢人们的思想；录取者成为皇帝旨意的顺从者。（5 分。一点 2 分，两点 4 分，三点 5 分）

26.（16 分）

(1)①；②（4 分）

(2)藩镇割据（2 分）

(3)（4 分）



路线要求：起点（江南地区）、终点（长安）、方向（江南至长安）、路径（经大运河）各 1 分。

(4)

| | 特点概述 | 地图中对应信息 |
|---------|---|-----------------------|
| 共同点 | 民族政权并立（对峙）（2分） | 两幅地图中，民族政权边界都设有榷场（2分） |
| | | |
| 不同点（2分） | 2分。符合地图信息和史实，言之成理即可得分。可以从政权兴替、边界变化、都城变化等角度回答。 | |

27. （20分）

(1)

| 朝代 | 艺术中的骆驼形象 |
|----|---------------------------------------|
| 汉代 | 形象少，与真实的骆驼形象差异较大（3分，一点2分，两点3分） |
| 唐代 | 形象多，生动，多与胡人形象、运载货物联系在一起（3分，一点2分，两点3分） |

(2)唐代中外交往兴盛（或丝绸之路发展）；唐朝包容开放的社会风气；经济繁荣。（6分。一点2分，回答以上3点即得分。其他合理答案也可）

(3)中国：促进了中国茶叶种植、制茶、茶叶贸易及运输的发展。（其他合理答案也可）

世界：改变了欧洲人的饮食习惯（欧洲出现饮茶习惯）；茶叶引种到印度、斯里兰卡等国。

（4分。一点2分，回答以上2点即得分）

(4)答案示例1：

同意。清朝实行闭关锁国政策，只开放广州一处作为开放口岸；因此外商与中国人交易的场面只能出现在广州。（4分。下划线部分为得分点，答出2点即得分）

答案示例2：

不同意。1757年前，宁波、漳州等地也曾是开放口岸，外商与中国人交易的场面也可能出现在这些地区。（4分。下划线部分为得分点，答出2点即得分）

