

2018 北京一六一中学初一（下）期中 历史

班级_____姓名_____学号_____



一、单项选择题（本大题共 100 道小题，每小题 1 分，共 100 分）

1. 经过长期分裂，589 年使我国南北再次实现统一的是
A. 秦始皇 B. 汉武帝 C. 隋文帝 D. 唐高祖
2. 隋朝能够统一全国的条件包括
①人民渴望统一 ②北方民族大交融 ③江南经济的发展 ④大运河的开通
A. ①②③ B. ①②④ C. ②③④ D. ①②③④
3. 隋末，家住涿郡的一位商人要沿着新开通的大运河乘船去洛阳，他必须经过的是
A. 永济渠 B. 邗沟 C. 江南河 D. 通济渠
4. 下列有关隋朝历史贡献的叙述中，不正确的是
A. 开通了纵贯南北的大运河 B. 结束分裂局面，使中国重归一统
C. 创立了科举制 D. 出现了“贞观之治”的盛世局面
5. 就历史阶段特征而言，隋唐时期的主要特征是
A. 民族政权并立 B. 商业经济空前活跃
C. 繁荣与开放 D. 中外交往与冲突
6. “十年寒窗无人问，一朝成名天下知。与这句诗反映的社会现象相关的制度是
A. 禅让制 B. 科举制 C. 世袭制 D. 选举制
7. 中国人民大学副教授孟宪实在《百家讲坛》作了“太宗继位”“魏征进谏”“以民为本”等系列讲座。由此推知他所讲的主题是
A. 《开皇之治》 B. 《贞观之治》 C. 《开元盛世》 D. 《康乾盛世》
8. 创新是一个民族发展的灵魂。下列属于唐朝时期发明创造的农业生产工具是
①曲辕犁 ②翻车 ③筒车 ④水排
A. ①② B. ③④ C. ①③ D. ②④
9. 唐朝手工业发达，陶瓷业在唐朝有重要发展，被称为世界手工业珍品的是
A. 青花瓷 B. 唐三彩 C. 冰裂纹瓷 D. 钧瓷
10. 唐朝是我国封建社会最繁盛时期，它实行开明的民族政策。下列哪件事体现了这一政策？
A. 遣唐使来华 B. 鉴真东渡日本 C. 玄奘西行天竺 D. 文成公主入藏
11. 在我国古代文学发展的历史中，唐朝在文学方面最为突出的是
A. 小说 B. 诗歌 C. 词 D. 戏剧
12. 唐朝僧人玄奘曾游学天竺，其弟子根据他的亲身经历和见闻记录而成的一部重要书籍是
A. 《金刚经》 B. 《大唐西域记》 C. 《西游记》 D. 《马可·波罗游记》
13. 唐朝是中国封建社会的鼎盛时期，下列选项中能够体现盛唐气象的有
①唐诗盛行，吟诗作赋成为社会风尚 ②各种肤色的外国人在长安城内经商
③青花瓷的制作技术高超 ④社会风气开放，女子可以参加社交和文体活动
A. ①②③ B. ①③④ C. ②③④ D. ①②④
14. 使唐朝由盛转衰的标志性事件是

- A. 玄武门之变 B. 天宝危机 C. 黄巢起义 D. 安史之乱

15. 下列对五代十国这一阶段情况描述正确的是

- ①五代十国是唐末藩镇割据局面的延续 ②这一时期的开国之君都是掌握兵权的武将
③南方相对安定 ④统一是历史发展的必然趋势

- A. ①②③④ B. ①③④ C. ②③④ D. ①②③

16. 与“黄袍加身”、“陈桥兵变”有关的皇帝和建立的朝代是

- A. 宋太宗、北宋 B. 宋太祖、北宋 C. 宋钦宗、南宋 D. 宋真宗、北宋

17. 宋代社会的基础是文官政治。在重文轻武的国策背景下，有较高社会地位的是

- A. 伎（艺）人 B. 军人 C. 商人 D. 士人

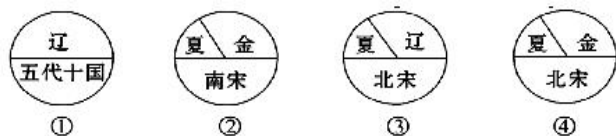
18. 与宋并立的少数民族政权辽、西夏、金分别是下列哪个选项中的少数民族建立的

- A. 契丹、党项、匈奴 B. 契丹、党项、女真
C. 党项、女真、回纥 D. 匈奴、回纥、吐蕃

19. 辽宋议和、宋夏议和的共同内容是

- A. 宋向少数民族政权称臣 B. 宋割地给少数民族政权
C. 宋给少数民族政权“岁币” D. 少数民族政权向宋称臣

20. 下面是唐至元之间民族政权并立的示意图，其正确的演变顺序是



- A. ①②③④ B. ②③④① C. ③④①② D. ①③④②

21. 在美丽的西子湖畔，曾有一位姓秦的读书人来到一座英雄墓前。看见两尊铁铸跪像，十分惭愧地写下两句诗：

“人从宋后少名桧，我到坟前愧姓秦。”你知道他为何事发出这种感慨吗？

- A. 文天祥宁死不屈 B. 秦桧谋杀岳飞 C. 韩世忠抗金 D. 卫青抗击匈奴

22. 宋朝时，跃居粮食产量首位的农作物是

- A. 高粱 B. 小麦 C. 水稻 D. 玉米

23. 我国的经济重心南移是从唐朝中期开始的，最后完成于

- A. 北宋时期 B. 南宋时期 C. 五代十国时期 D. 唐朝时期

24. “山外青山楼外楼，西湖歌舞几时休？暖风吹得游人醉，直把杭州作汴州。”诗中的“杭州”在当时的名称应是

- A. 东京 B. 临安 C. 应天 D. 建康

25. 宋朝时的主要对外贸易港口有

- ①福州 ②广州 ③泉州 ④明州

- A. ①②③④ B. ①③④ C. ②③④ D. ①②③

26. 在我国历史上，蒙古族曾建立一个疆域空前辽阔的元王朝，其建立者是

- A. 成吉思汗 B. 忽必烈 C. 完颜阿骨打 D. 耶律阿保机

27. 下列政权被蒙古族所灭的有

- ①辽 ②西夏 ③南宋 ④北宋 ⑤金

- A. ①②③⑤ B. ②③⑤ C. ①③⑤ D. ①②③④⑤

28. 西藏自古以来就是中国领土不可分割的一部分，将西藏置于中央政府直接管辖之下开始于

- A. 唐朝 B. 元朝 C. 明朝 D. 清朝

29. 下列关于我国结束分裂割据，实现大统一的封建王朝的排序，正确的一组为

- A. 隋-西晋-秦-元 B. 西晋-隋-元-秦
C. 秦-隋-西晋-元 D. 秦-西晋-隋-元

30. 《清明上河图》是画家张择端以清明时节汴河两岸众生百态所作的一幅传世名画，他创作这幅画的时代是

- A. 北宋 B. 明朝 C. 南宋 D. 元朝

31. 秦朝和隋朝都是短命王朝，却分别为汉唐盛世奠定了基础，它们共同的历史贡献是

- A. 都出现了盛世 B. 都创立了有利于统一的制度和措施
C. 都开凿了贯通南北的大运河 D. 都修筑过大规模的军事防御工程

32. 观察“举子看榜”图，这种情景最早出现在

- A. 汉代 B. 隋代 C. 唐代 D. 宋代



33. 中国古代历史上曾多次出现政治清明、经济繁荣、国力强盛的盛世局面。例如：唐朝时期的“贞观之治”和“开元盛世”……这些盛世局面出现的前提条件是

- A. 国家统一和社会的稳定 B. 统治者的励精图治
C. 劳动人民的辛勤劳动 D. 国内各地区、各民族之间的经济文化交流

34. 唐代，我国境内生活着许多少数民族。其中有一个少数民族生活在我国的高原地区，他们最引以为豪的建筑是布达拉宫。这个少数民族是

- A. 突厥 B. 匈奴 C. 南诏 D. 吐蕃

35. 中国古典诗词浩如烟海，诗人灿若星河。与图中诗篇的作者生活于同一朝代的是

- A. 杜甫 白居易 B. 屈原 苏轼
C. 颜真卿 李清照 D. 吴道子 辛弃疾



36. 七年级(1)班负责学校本月文化长廊的黑板报设计，他们选定的主题是“唐代的中外交往”，并拟定了如下四个标题，请你帮他们指出哪一项是不恰当的

- A. 朝鲜音乐在民间广泛流传 B. 鉴真东渡宣扬中国文化
C. 玄奘西游天竺取经 D. 唐太宗被尊奉为“天可汗”

37. 澶渊之盟后，宋辽边境“生育蕃息，牛羊被野，戴白之人，不识干戈(战争)”。这说明


- A. 北宋的军事力量遭到极大地打击 B. 宋辽双方建立了平等友好的关系
C. 南方社会经济出现了繁荣的局面 D. 宋辽之间维持了长久的和平局面

38. 以下是某学习小组在研究性学习中搜集的一组图片，由此可知他们探究的主题是

- A. 魏晋时期江南地区的开发
B. 两宋时期民族关系的发展
C. 两宋时期对外贸易的繁荣
D. 两宋时期商品经济的发展



济南刘家功夫针铺商标



清明上河图



交子

39. “戎马倥偬，征战终生，统一了蒙古，为中国统一而战，祖孙三代鏖战六七十年，其后征服民族多至 720 部。”这是马克思对下列哪一人物的评价

- A. 耶律阿保机 B. 阿骨打 C. 成吉思汗 D. 忽必烈

40. 元朝在中央设中书省，地方设行中书省，其目的是

- A. 发展农业生产 B. 加强民族交融 C. 有效统治全国 D. 实现国家的统一

41. 2016年12月20日，蒙古国外长蒙赫奥尔吉勒在接受采访时表示，蒙古正在为蒙中关系重回正轨，恢复有关对话作出积极努力。蒙古坚定支持一个中国政策，一贯认为西藏是中国不可分割的一部分。西藏正式成为中国的一个行政区域，开始于

- A. 唐朝 B. 宋朝 C. 元朝 D. 明朝

42. 一位法国学者说：“(宋代中国)‘现代化’的程度令人吃惊……在经济和人民日常生活方面，中国是当时世界上首屈一指的国家。”下列名词不能够反映宋代社会经济与人民生活“现代化”水平的是

- A. 交子 B. 瓦子 C. 夜市 D. 岁币

43. 在宋代的文学史上，有两位来自济南的著名词人，人们称他们是“济南二安”。他们都生活在两宋之交，一位是女词人，所作的词风格婉约，“凄凄惨惨戚戚”；另一位是男词人，所作的词风格豪放，“醉里挑灯看剑”。他们是

- A. 苏轼、李清照 B. 李清照、辛弃疾 C. 李清照、关汉卿 D. 苏轼、柳永

44. 人们常用“比黄连还苦，比窦娥还冤”这句话形容一个人含冤命苦。“窦娥”这个艺术形象的塑造者是

- A. 苏轼 B. 关汉卿 C. 汤显祖 D. 辛弃疾

45. 历史学家黄仁宇在《中国大历史》中说：“公元960年宋代兴起，中国好像进入了现代，一种物质文化由此展开。”这里的“物质文化”的展开主要有

- ①纸币的流通 ②火器的使用 ③指南针的普遍使用 ④雕版印刷术的发明

- A. ①②③ B. ②③④ C. ①②④ D. ①③④

46. 学习宋元历史后，某班四位同学作了如下主题演讲。你认为能准确概括这段历史的基本特征的是

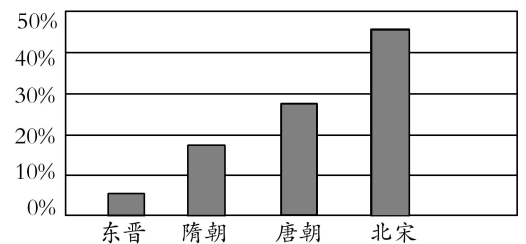
- A. 国家产生和社会变革 B. 政权分立和民族交融
C. 繁荣与开放的社会 D. 民族关系的发展和社会变化

47. 北宋大部分时期，宰相、枢密使和三司使互不统属，各自独立对皇帝负责。那时，中书省与枢密院称“二府”，对掌文武；而三司称“计省”，独掌财政。这说明宋代时期防止宰相专权的手段是

- A. 分化事权，削弱相权 B. 废除丞相，实施专制
C. 加强集权，削弱地方 D. 设立通判，加强监督

48. 右图是东晋至北宋时期平民子弟在政府官员群体中所占比例示意图。唐宋时期这一比例变化与下列哪一制度的实行密切相关？

- A. 世袭制 B. 分封制
C. 郡县制 D. 科举制



49. 下列是少数民族的杰出领袖，都曾建立过强大的政权，这些政权的名称分别是



阿骨打



铁木真



松赞干布



元昊



- A. 金 元 吐蕃 契丹 B. 辽 蒙古 西夏 吐蕃
C. 金 蒙古 吐蕃 西夏 D. 辽 元 吐蕃 西夏
50. 淮安市名称“淮安”寓意“淮水安澜”。中国历史上曾以淮水为界的两个民族政权是
A. 北宋和辽 B. 辽和西夏 C. 北宋和金 D. 南宋和金
51. 据记载，宋代一个海商一次贩运的货物常达十万斤以上，价值高达数十万贯。中国商人和商船取代波斯成为中外贸易的主导力量。材料反映了宋代
A. 农业繁荣 B. 手工业兴旺 C. 海外贸易发达 D. 文化昌盛
52. 秦朝的郡县制和元朝的行省制都能有效加强中央集权，主要是因为
A. 都有常设的地方行政机构 B. 其长官都由中央直接任命
C. 地方官员之间的分权和制衡 D. 都有利于发挥地方自主性
53. 元朝为统一多民族国家作出了巨大贡献，表现在
①设宣政院，首次直接管辖西藏 ②创立行省制度，加强中央对地方的直接管辖
③结束分裂，首次实现大一统 ④疆域辽阔，国家统一，民族交融进一步加强
A. ①②③④ B. ①② C. ①②④ D. ③④
54. “舟师识地理，夜则观星，昼则观日，阴晦则观指南针。”这种记载最早可能出现在
A. 秦汉时期 B. 隋唐时期 C. 两宋时期 D. 明清时期
55. 假如你生活在宋代，不可能做到的是
A. 去勾栏欣赏各种表演 B. 除夕夜，挂年画，贴“桃符”
C. 诵读苏轼、李清照的词作品 D. 去岭北行省旅行
56. 小王同学想了解豪放派词的特点，通过网络他找到以下四个与宋词相关的网页，你认为访问哪个网页可以找到最多的豪放派的作品
A. “柳永”词爱好者网页 B. “东坡”词爱好者网页
C. “李清照”词爱好者网页 D. “婉约词”爱好者网页
57. 宋元时期是我国古代科技发展的高峰时期，其标志性的成就是
①造纸术的发明 ②活字印刷术的发明 ③指南针应用于航海 ④火药的广泛应用
A. ①②③ B. ②③④ C. ①③④ D. ①②④
58. 如图小说《昙花王朝——隋帝国的短暂与辉煌》第一章题为：百年乱世出新朝。这个新朝的建立者是
A. 杨坚 B. 李世民 C. 李渊 D. 嬴政
59. 隋朝大运河是世界上伟大工程之一，它的完成，体现了我国古代劳动人民的聪明才智和创造力。它开凿于
A. 秦始皇时 B. 汉武帝时 C. 隋文帝时 D. 隋炀帝时
60. 古人这样评价大运河：“北通涿郡之渔商，南运江都之转输，其为利也博哉。”从中可以看出大运河直接作用是
A. 实现了南水北调 B. 加强了民族融合
C. 便利了南北运输 D. 促进了中外交流
61. 唐太宗说：“夫治国犹如栽树，本根不摇，则枝叶茂荣。君能清静，百姓何得不安乎？”为此，他
A. 知人善任 B. 虚心纳谏 C. 轻徭薄赋 D. 大兴科举
62. 唐朝时，即是当时中国的政治、经济和文化交往的中心，也是一座国际性的大都会的城市是
A. 成都 B. 洛阳 C. 广州 D. 长安

63. 唐玄宗统治前期，出现了封建社会前所未有的盛世景象。这个繁荣盛世局面在历史上被称为
- A. 文景之治 B. 开皇之治 C. 贞观之治 D. 开元盛世
64. 唐朝时期，漠北地区少数民族为了方便到长安朝拜皇帝，在大漠南北专门开辟了一条大道，称为“参天可汗道”。“天可汗”指的是
- A. 唐高祖 B. 唐太宗 C. 唐玄宗 D. 武则天
65. 如图佛座侧面刻有“大唐龙朔二年三藏法师玄奘敬造释迦佛像供养”。“三藏法师玄奘”的历史功绩有
- A. 出使西域 B. 西行取经
C. 七下西洋 D. 抗击沙俄
- 
66. 曾经六次东渡并最终到达日本，为中日文化交流做出过突出贡献的中国僧人是
- A. 玄奘 B. 鉴真 C. 晁衡 D. 戒贤
67. 凌晨，将士突入馆驿中……太祖未及回答，有的人就把黄袍加太祖之身，众皆拜于庭下，大呼称万岁，声闻数里……太祖既得天下。”该材料描述的事件是
- A. 陈桥驿兵变 B. 李渊建唐 C. 八王之乱 D. 七国之乱
68. 宋太祖从地方军队中挑选精壮士兵编入禁军主要是为了
- A. 加强中央集权 B. 消灭割据政权 C. 防御辽兵进攻 D. 节省军费开支
69. 宋太祖深知“马上得天下，马下治天下”的道理，因而十分重视发展文教事业。下列举措最能体现这一治国思想的是
- A. 解除禁军将领兵权 B. 增加科举取士的名额
C. 分化宰相权力 D. 取消节度使收税的权力
70. “秦皇汉武，唐宗宋祖”都是中国历史上有名的皇帝，其中建立北宋的“宋祖”是
- A. 刘备 B. 元昊 C. 忽必烈 D. 赵匡胤
71. 10世纪初，统一契丹各部，916年建立契丹政权的少数民族首领是
- A. 赵匡胤 B. 耶律阿保机 C. 完颜阿骨打 D. 元昊
72. 宋辽“和好年深，蕃汉人户休养生息，人人安居，不乐战争。”双方这一相对和平局面的出现，是由于
- A. 玄武门之变 B. 陈桥兵变 C. 澶州之战 D. 澶渊之盟
73. 据藏文史料记载：夏尔巴人是历史上曾建立过西夏政权的党项羌人的后裔。西夏政权的建立者是
- A. 耶律德光 B. 柴荣 C. 元昊 D. 朱温
74. “开元盛世”“与贞观之治”的不同点是
- A. 唐朝进入全盛时期 B. 政治比较清明经济繁荣发展
C. 经济繁荣发展 D. 国力强盛
75. 郭靖与杨康是金庸先生脍炙人口的小说《射雕英雄传》中的两个重要人物。请分析他们名字中的“靖”、“康”与下列哪一历史事件有直接联系
- A. 金灭北宋 B. 辽灭北宋 C. 西夏灭北宋 D. 蒙古灭北宋
76. 某战役大捷后，岳飞乘胜前进，他满怀豪情地对将士说：“直抵黄龙府，与诸君痛饮尔！”该战役发生在
- A. 澶州 B. 建康 C. 郾城 D. 大散关
77. 我国诗歌的黄金时代是

- A. 汉朝 B. 南北朝 C. 隋朝 D. 唐朝

78. 下列选项中，不属于安史之乱的重要影响是

- A. 安史之乱是北方的社会经济遭到严重破坏
B. 安史之乱后，唐朝形成了藩镇割据的政治局面
C. 安史之乱是大唐王朝由盛转衰的标志
D. 安史之乱的爆发，标志着盛极一时的大唐王朝覆灭

79. 北宋时期，四川地区出现了世界上最早的纸币，它是

- A. 银票 B. 法币 C. 交子 D. 会子

80. 宋朝时期，随着城市的繁荣，市民阶层不断壮大，市民文化生活也丰富起来。东京城内出现了许多娱乐兼营商业的场所，称为

- A. 市 B. 瓦子 C. 勾栏 D. 邸店

81. 南宋时期，一位阿拉伯商人运载一批货物到泉州销售，他抵达泉州后应到哪个机构办理手续

- A. 蕃市 B. 市舶司 C. 蕃学 D. 蕃坊

82. 在一次拍卖会上，人们见到了一件珍贵的拍品（见右图）。专家鉴定它是出自当时浙江范围内的一个名窑，距今近千年。它应该出自

- A. 越窑 B. 哥窑 C. 邢窑 D. 景德镇



83. 元朝是我国第一个统一全国的少数民族政权，下列事件发生在元朝的是

- ①成吉思汗统一蒙古 ②马可·波罗来华
③经济重心南移完成 ④回族的形成

- A. ①②③④ B. ①②③ C. ②③④ D. ②④

84. 下面这道题连线搭配正确的是

- ①辽——契丹族 ②西夏——元昊 ③阿骨打——党项族
④北宋——赵匡胤 ⑤金——阿保机

- A. ①②③ B. ①②④ C. ②③④ D. ③④⑤

85. 国家统一是中国历史发展的主流。公元6世纪80年代，中国重归统一时的皇帝是

- A. 隋文帝 B. 隋炀帝 C. 唐太宗 D. 唐玄宗

86. 贞观年间实行汉藏和亲，传下千古佳话。“佳话”中的主人公是

- A. 松赞干布和文成公主 B. 尺带珠丹和金城公主
C. 松赞干布和金成公主 D. 尺带珠丹和文成公主

87. 钱文忠在讲述唐朝对外关系时说：“一个伟大僧人西行取经的传奇故事，一条由信念、坚持和智慧浇铸而成的求知之路，一个民族胸襟开阔、海纳百川的真实写照……”以该僧人取经的故事为素材创作的一部长篇神话小说是

- A. 《西行漫记》 B. 《大唐西域记》 C. 《西游记》 D. 《封神演义》

88. 清朝赵翼说：“李杜诗篇万口传，至今已觉不新鲜。江山代有才人出，各领风骚数百年。”材料中的“李杜”指的是

- A. 李白、杜甫 B. 李商隐、杜甫 C. 李白、杜牧 D. 李商隐、杜牧

89. 唐朝末年，翰林学士刘允章上《直谏书》中指出老百姓有“官吏苛刻”“赋税繁多”“冤不得理，屈不得申”“冻无衣，饥无食”“病不得医，死不得葬”等“八苦”。上述材料反映的应该是

- A.安史之乱爆发的原因
B.繁镇节度使拥兵自重
C.唐末农民起义的原因
D.五代十国导致的混乱

90. 宋真宗亲撰《励学篇》“富家不用买良田，书中自有千钟粟。安居不用架高楼，书中自有黄金屋。娶妻莫恨无良媒，书中自有颜如玉。出门莫恨无人随，书中车马多如簇。男儿欲遂平生志，五经勤向窗前读。”反映了宋朝统治者推行的国策是

- A.重武轻文
B.重农抑商
C.重视教育
D.重文轻武

91. 历史发展一般都具有阶段性特征。辽、宋、西夏、金这一时期最显著的阶段特征是

- A.多元文化碰撞交融
B.繁荣与开放的社会
C.统一国家建立发展
D.统一多民族国家巩固

92. “山外青山楼外楼，西湖歌舞几时休。暖风熏得游人醉，直把杭州作汴州。”该诗反映的时代背景应该是

- A.北宋与辽对峙
B.北宋与金对峙
C.北宋与西夏和议
D.南宋与金对峙

93. 下表为汉至宋南北方户数统计表（单位：万户）。表中户数变化最能说明这一时期

地区 \ 朝代	西汉（2年）	西晋（280年）	唐代（742年）	宋代（1080年）
北方	965	149	493	459
南方	111	65	257	830

- A. 经济重心南移
B. 政治统治开明
C. 城市经济活跃
D. 民族融合加强

94. （宋）吴自牧在《梦粱录》中记载“奇术异能，歌舞百戏，鳞鳞相切，乐声嘈杂十数里。”这段材料主要反映了宋朝

- A.知识分子地位提高
B.商人的地位提高
C.城市文化生活丰富
D.节日的热闹景象

95. 《马可·波罗行纪》中记载“外国巨价异物及百物之输入此城者，世界诸城无能与比。”这句话中的“此城”指的是今天的

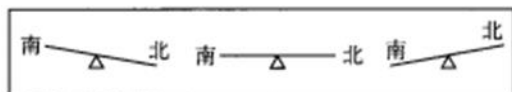
- A.西安
B.北京
C.杭州
D.开封

96. 右图反映的是西藏正式纳入中国版图，说明我国首次对西藏实行政管辖是在

- A.隋朝
B.唐朝
C.宋朝
D.元朝



97. 以下是我国经济重心变化示意图，与这三幅图相对应的大致时期依次是



- A.宋朝、唐朝中后期，魏晋南北朝时期
B.魏晋南北朝时期、唐朝中后期、宋朝
C.魏晋南北朝时期、宋朝、唐朝中后期
D.宋朝，魏晋南北朝时期、唐朝中后期

98. 斯塔夫里阿诺斯在《全球通史》中指出：“宋朝皇帝每年要向游牧民（辽、西夏）‘送礼’，……（‘送礼’）是宋朝一个致命的弱点，它使游牧民入侵十分容易。‘送礼’政策实行了一个半世纪。”对于这段文字的理解



解，正确的是

- ①“送礼”指的是北宋统治者缴纳的岁币以及绢帛
- ②宋朝皇帝向两个游牧民族“送礼”的原因是战场上的失利
- ③“送礼”给宋朝政府带来了巨大的财政负担，所以是其致命弱点之一
- ④“送礼”政策客观上有利于边境安定，互市贸易往来

A. ①③④ B. ①②④ C. ②③④ D. ①②③④

99. 下列各项不属于秦、隋、元三个朝代相似之处的是

- A. 都结束了长期分裂,实现了统一
- B. 都开凿过运河
- C. 都创设了对后世影响深远的政治制度
- D. 都是短命王朝

100. 宋朝的商品经济发展非常迅速，人们的日常生活也发生了巨大变化，下列生活方式中，当时百姓生活中可能遇到的有

- ①在大型的娱乐场所“瓦子”中观看演出
- ②阅读《马可·波罗行纪》，了解欧洲
- ③在航海中使用指南针导航
- ④在居民区内就可以购买所需商品

A. ①②③④ B. ①②③ C. ①③④ D. ②④

二、综合题（本大题共 5 道小题，60 分。）

101. 阅读材料，回答问题。（18 分）

材料一 忆昔开元全盛日，小邑犹藏万家室。稻米流脂粟米白，公私仓禀俱丰实。九州道路无豺狼，远行不劳吉日出。

——唐·杜甫《忆昔》

(1)材料一中的唐诗，描写了唐朝开元时期繁荣富庶、天下太平的盛世景象，当时的统治者是谁？（1 分）

材料二




图①

图②

(2)农业工具的创新极大地促进了生产的发展，材料二中的两种新农具分别有何用途？（2 分）

材料三 复旦大学钱文忠教授在讲述唐朝对外关系时说：“一个伟大僧人西行取经的传奇故事，一条由信念、坚持和智慧浇铸而成的求知之路，一个民族胸襟开放、海纳百川的真实写照。”

材料四 图片两幅



图③



图④

(3)材料三的“伟大僧人”是谁？材料四中的两个人物，哪一个是他？他的一生与佛学密不可分，他“求知”的最高佛学学府和为后世留下的研究中外交史史珍贵文献分别是什么？（4 分）

(4)材料四的两幅图片，反映的历史事件的名称分别是什么？（2分）

材料五 中国被称为“诗的国度”，而诗之盛者莫过于唐。清代康熙年间编定的《全唐诗》收录的诗作就有48000多首。唐诗内容既涉及政治、经济、宗教，又涉及亲情、友谊、怀古、山水、田园；作者中既有帝王将相，也有贩夫走卒……还有外国人。

——改编自仪平策《中国审美文化史》

材料六 唐朝允许不同民族、不同国家的人参加科举考试和做官。京城和各大城市居住着很多外国的使节和留学生，有不少人与当地人通婚。武则天下令组织编纂的《三教珠英》一书，儒、佛、道的内容都包括在其中。

——改编自朱汉国主编《历史》

(5)根据材料五、材料六，分别概括唐诗、唐朝社会风气的特点。（5分）

(6)以上材料表明了唐朝时期社会发展最显著特点的是什么？（2分）

(7)上述特点形成的共同原因是什么？（2分）

102. 阅读下列材料，回答问题。（14分）

材料一 “苏湖熟，天下足。” “江南……地广野丰，民勤本业，一岁或稔，则数郡忘饥，……丝绵布帛之饶，覆衣天下。”

材料二 图⑤

材料三 宋朝，“市舶之利最厚，若措置合宜，所得动以百万计”。

——《宋会要辑稿》



图⑤北宋纸币铜板拓片

请回答：

(1) 材料一反映了我国古代经济发展出现了什么重大变化？（3分）

(2) 材料中的“苏湖”指什么地方？（2分）

(3) 当地最重要的粮食作物是什么？（2分）

(4) 依据材料二，结合所学，填出世界上最早纸币的名称_____，它出现的时间是_____、发行地点是_____，它在世界货币史上的地位是_____，意义是_____。（5分）

(5) 根据材料三写出宋代政府鼓励海外贸易所设立的机构名称。（2分）

103. 阅读材料，回答问题（5分）

材料一 世界上记载指南针应用于航海导航的文献是北宋宣和年间（公元1119-1125年）朱彧所著《萍洲可谈》：“舟师识地理，夜则观星，尽则观日，阴晦观指南针。”

材料二 “火药、指南针、印刷术——这是预告资产阶级社会到来的三大发明。火药把骑士阶层炸得粉碎，指南针打开了世界市场并建立了殖民地，而印刷术则变成新教的工具，总的来说变成科学复兴的手段，变成对精神发展创造必要前提的最强大的杠杆。”

——马克思《机器、自然力和科学的应用》

(1) 根据材料一指出指南针最早用于航海的朝代和主要功能？（2分）

(2)

(2)材料二中的印刷术的发明经过了隋唐和宋朝两个发展阶段。每个阶段的发明分别是什么？（2分）

(3)材料二中提到的三大发明大发明是由什么人传入欧洲的？（1分）

104. 阅读下列材料：（11分）

材料一 隋文帝即位后，初步建立起通过考试选拔人才的制度。隋炀帝时，进士科的设立，标志着这种制度的正式确立。

——摘编自教材

材料二 一位唐朝官员说：“国家取士，远法前代，进士之科，得人为盛”。

材料三：唐太宗深知“为政之要，惟在得人”，用人不计资历名望，不计亲疏恩怨，凡有治国安邦之才，都委以重任。

材料四 天子重英豪，文章教尔曹；万般皆下品，惟有读书高。

少小须勤学，文章可立身；自小多才学，平生志气高；

别人怀宝剑，我有笔如刀。将相本无种，男儿当自强……

——选自宋代《神童诗》有删节

请回答：

(1) 上述材料反映的是什么制度？（2分）

(2) 这种制度诞生于_____朝（1分），诞生的标志是_____（1分），逐步完善于_____朝，（1分）进一步发展于_____朝，（1分）结束于_____朝。（1分）

(3) 材料三反映唐太宗重视人才，为选拔官员，他是怎样完善了科举制度的？（2分）

(4) 以上材料表明这种制度在我国施行了1300年左右，你对此怎么看？（2分）

105. 阅读材料，回答问题。（12分）

材料一 如下表

朝代	南方		北方	
	人口(户)	占全国户口数的比例	人口(户)	占全国户口数的比例
西汉	2 470 685	19.8%	9 985 785	80.2%
唐朝	3 920 415	43.2%	5 148 529	56.8%
北宋	11 224 760	62.9%	6 624 296	37.1%

材料二 语曰：“苏湖熟(丰收)，天下足。”

材料三 国家根本，仰给东南。

(1) 上述材料反映了南方经济有哪些发展？(4分)

(2) 上述材料反映了我国古代经济发展出现了什么重大的变化？(2分)

(3) 南方经济发展的主要原因是什么？(4分)

(4) 你认为古代南方经济发展的过程对我们今天经济建设有何启示？(2分)

