


地 理

2018.11

学校 _____ 姓名 _____ 准考证号 _____

注 意 事 项	<p>1. 本调研卷共 12 页，满分 90 分。考试时间 90 分钟。</p> <p>2. 在调研卷和答题纸上准确填写学校名称、姓名和准考证号。</p> <p>3. 调研卷答案一律填涂或书写在答题纸上，在调研卷上作答无效。</p> <p>4. 在答题纸上，选择题用 2B 铅笔作答，其他题用黑色字迹签字笔作答。</p> <p>5. 调研结束，将本调研卷和答题纸一并交回。</p>	 <p>微信扫一扫，快速关注</p>
------------------	--	---

第一部分 选择题（共40分）

本部分共 40 小题，每小题 1 分，共 40 分。在每小题列出的四个选项中，选出最符合题目要求的一项。

在学习地球知识时，小畅同学制作了地球仪，并用它演示地球运动。图 1 为小畅利用地球仪演示地球运动的照片（右侧光源代表太阳光线）。读图，完成 1 ~ 3 题。

1. 小畅制作的地球仪能反映出

- A. 地球的形状是圆形
- B. 所有经线相互平行
- C. 地轴与纬线垂直
- D. 赤道是最长的经线




图 1

2. 利用图示地球仪演示地球运动的正确操作是

- A. 拨动地球仪使其旋转，演示的是地球的自转和公转
- B. 使地球仪围绕光源做圆周运动，演示地球的公转
- C. 保持地轴竖直向上，使地球仪围绕光源逆时针运动，演示地球的公转
- D. 面对地球仪，并从左向右拨动地球仪，演示地球的自转

3. 图 1 中地球运动的时刻，可显示

- A. 昼夜更替现象
- B. 北半球昼短夜长
- C. 北极点处在白昼
- D. 太阳直射赤道

专注北京中考升学

图2为小明绘制的学校平面图。读图，完成4~6题。

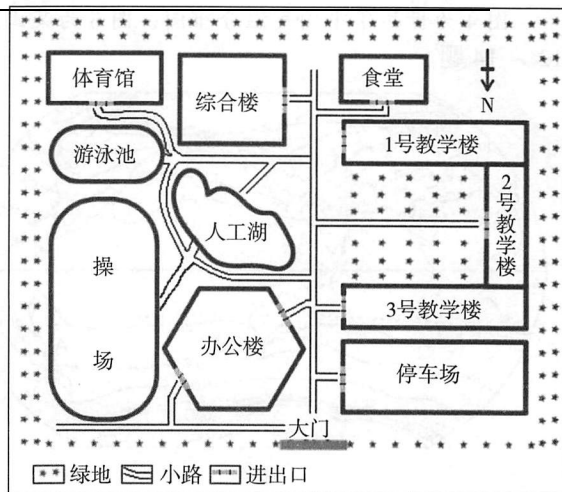


图2

4. 依据小明绘制的平面图，可以
- ①确定综合楼在校园内的位置
 - ②估算从办公楼到食堂大约有多少米
 - ③估算校园绿地面积占校园总面积的比例
 - ④找出从3号教学楼去体育馆的最短路线
- A. ①②③ B. ①③④
C. ②③④ D. ①②④
5. 经实地测算，从学校大门到食堂的小路长度约为550米，据此推算该平面图的比例尺是
- A. 1:10 B. 1:100
C. 1:10000 D. 一百万分之一
6. 小明进入学校大门后
- A. 向北走可以到达教学楼
 - B. 向东走可以到达停车场
 - C. 向南再向东到达游泳池
 - D. 向西再向南到达体育馆

竖版世界地图以崭新的视角展示世界。读图3，完成7~9题。

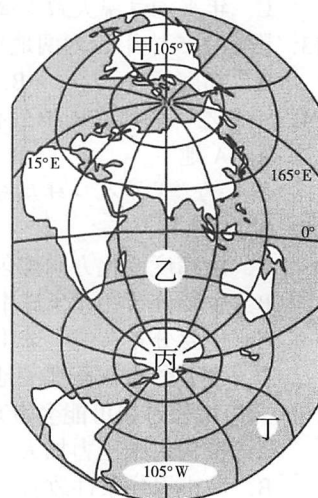


图3

7. 甲、乙、丙、丁四地中，位于北半球的是
- A. 甲 B. 乙 C. 丙 D. 丁
8. 乙地的经纬度位置是
- A. (30° S, 105° W) B. (30° N, 105° E)
C. (60° S, 105° W) D. (30° S, 75° E)
9. 甲、乙、丙、丁所处的地理区域，对应正确的是
- A. 甲——南美洲 B. 乙——太平洋
C. 丙——南极洲 D. 丁——印度洋

表1为北京市连续一周的天气状况。读表，完成10、11题。

表1

周一	周二	周三	周四	周五	周六	周日
-3 ~ 4℃	-1 ~ 9℃	-4 ~ 7℃	-3 ~ 9℃	-2 ~ 7℃	-1 ~ 8℃	-5 ~ 4℃
微风	微风	微风	微风	微风	微风转4-5级	北风5~6级

10. 一周中，北京气温日较差最大的一天是
- A. 周二 B. 周三 C. 周四 D. 周日
11. 根据表1，以下天气播报正确的是
- A. 周二雪后初晴，适宜穿短袖类衣服
 - B. 周三气温回升，空气清新
 - C. 周五、周六一改晴朗天气，空气质量下降
 - D. 周日风和日丽，适宜登山赏景

专注北京中考升学

图4为世界年平均气温分布图，图5为某山地甲、乙、丙三个地点的气象数据。读图，完成12~14题。

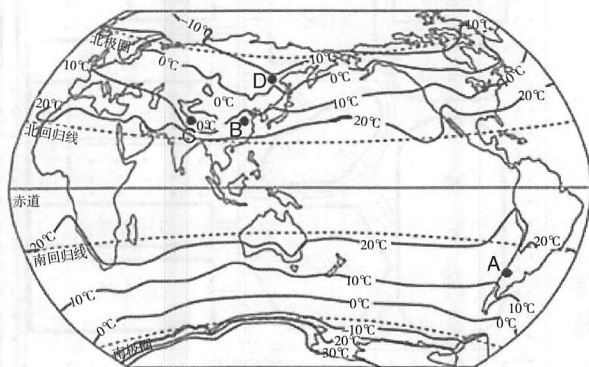


图4

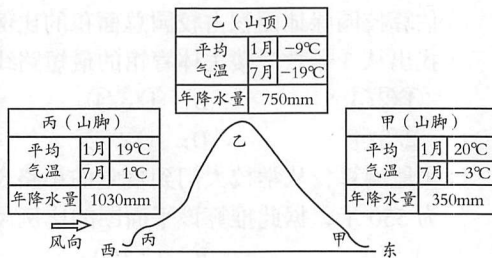


图5

12. 图4中
 A. A地年平均气温低于10°C
 B. B地年平均气温高于C地
 C. 年平均气温大致由高纬向低纬降低
 D. B、D两地气温差异主要受地形因素的影响
13. 影响图5中甲、丙两地年降水量差异的主要因素是
 A. 纬度位置
 B. 海陆位置
 C. 地形因素
 D. 人类活动
14. 甲、乙、丙所在山地最有可能位于图4中
 A. A地
 B. B地
 C. C地
 D. D地

15. 世界人口
 A. 沿纬度变化方向均匀分布
 B. 主要分布在北半球中低纬度地区
 C. 主要分布在南半球中低纬度地区
 D. 主要分布在高纬度地区
16. 人口增长过快可能会带来的问题有
 A. 粮食供给压力加大
 B. 城市居住条件改善
 C. 劳动力能全部就业
 D. 消费水平迅速提高




图6

2018年夏季高温席卷北半球，乃至北极圈，对于生活在瑞典的人们而言，因为屋里极少装制冷空调，今年夏季高温的天气甚是难熬。读图7，完成17~21题。

17. 瑞典居民房屋内很少装空调的主要影响因素是
 A. 文化习俗
 B. 气温
 C. 降水
 D. 资金
18. 瑞典
 A. 地形以山地为主，东高西低
 B. 河流短小，多注入北冰洋
 C. 是一个海陆兼备的国家
 D. 东部与挪威相邻

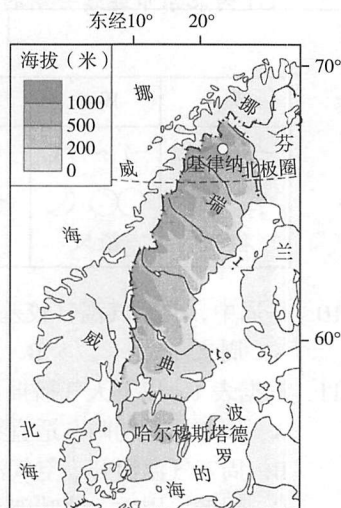


图7

专注北京中考升学

19. 瑞典是欧盟成员国中使用可再生能源所占比例最高的国家, 已超过 52%。为实现可持续发展, 瑞典使用的可再生能源主要来自
①石油、天然气 ②核电 ③风能、太阳能 ④水能
A. ①② B. ②③ C. ①④ D. ③④
20. 在夏季假期, 瑞典人喜欢远离城市喧嚣, 亲近自然。从瑞典的景观图 a、图 b 中可以看出乡村聚落比城市聚落



a 瑞典首都斯德哥尔摩



b 瑞典的田园风光

- A. 房屋密度小 B. 人口密度大 C. 商业较繁荣 D. 交通较完善
21. 维斯比古城是瑞典保存完好的中世纪小镇, 1995 年被联合国教科文组织评为世界文化遗产。古城内很多街道不允许机动车通行以减少尾气排放, 古城外还新建了大型的垃圾分类处理中心以确保绿色可持续的旅游环境。维斯比古城入选世界文化遗产的主要意义是
①留存和保护地域文化 ②还原人们旧时的生活方式
③提高旅游的环境质量 ④利于历史研究和文化交流
A. ①②③ B. ①②④
C. ①③④ D. ②③④

第 31 届夏季奥林匹克运动会, 于 2016 年 8 月 5 日 - 21 日在巴西的里约热内卢举行。里约热内卢是奥运史上首个主办奥运会的南美洲城市。读图 8, 完成 22、23 题。

22. 里约热内卢
A. 位于东半球 B. 地处中纬度
C. 东临太平洋 D. 位于巴西利亚的东南方向
23. 在巴西北部亚马孙河流域分布着面积广大的热带雨林, 热带雨林具有巨大的环境效益和经济效益, 下面属于热带雨林经济效益的是
A. 涵养水源
B. 调节全球气候
C. 维护生物多样性
D. 提供木材、药材

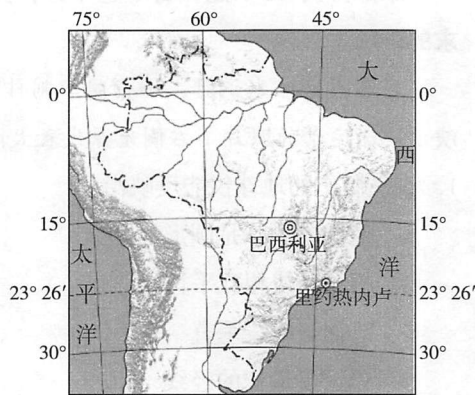


图 8

2016 年 4 月 4 日, 1500 余只种羊搭载波音 747 包机由澳大利亚珀斯直飞中国, 本次引进的澳洲种羊均为绵羊, 是肉、毛兼用羊, 具有生长快、肉质好、出毛多、繁殖率高、适应性强的特点。图 9 为澳大利亚示意图, 读图, 回答 24 ~ 26 题。

24. 我国从澳大利亚引进种羊是因为
A. 澳大利亚是羊的原产地
B. 澳大利亚绵羊品质优良
C. 从澳引进种羊成本较低
D. 从澳引进种羊路途较近

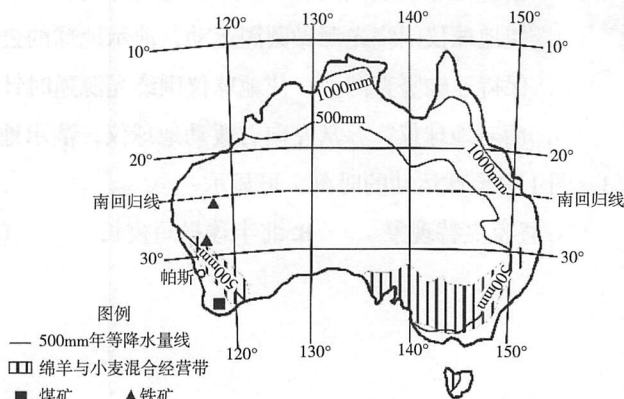


图 9

专注北京中考升学

25. 澳大利亚利用不同地区的自然条件发展养羊业，珀斯所在的西南部形成绵羊与小麦混合经营带，此处为西部高原地形区，有关该地发展畜牧业的自然条件叙述正确的是

- A. 地表起伏很大 B. 全年高温 C. 年降水量 500mm 左右 D. 沙漠广布

26. 根据矿产资源优势，在珀斯附近适宜发展的工业是

- A. 冶金工业 B. 石油工业 C. 纺织工业 D. 钢铁工业

“我住江之头，君住江之尾。彼此情无限，共饮一江水。”诗中描述的是国际河流澜沧江—湄公河，图 10 为澜沧江—湄公河流域示意图，图 11 为该流域下游地区典型气候类型的气温曲线与降水量柱状图。读图，完成 27~29 题。

27. 澜沧江—湄公河

- A. 干流流向大致是自南向北
B. 在越南注入南海
C. 澜沧江段水流平稳
D. 湄公河段结冰期长

28. 受气候影响，澜沧江—湄公河流域下游地区水旱灾害频繁，造成该地区水旱灾害频繁的主要气候原因是

- A. 年降水量较小，且季节分配不均
B. 年降水量丰富，主要集中在 10 月到次年 4 月
C. 年降水量丰富，季节分配不均
D. 年降水量丰富，年蒸发量更大

29. 澜沧江—湄公河流域下游地区

- A. 盛产苹果、梨
B. 民居多为平顶
C. 居民多穿着皮毛服装
D. 可见大片稻田



图 10

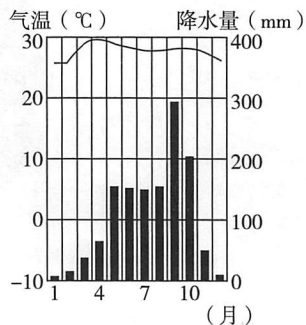


图 11

2018 年 2 月 8 日，我国第五个南极科学考察站在罗斯海特拉诺湾的难言岛选址成功，预计最快 2022 年建成。罗斯海是南极重要的边缘海，海洋资源丰富，罗斯冰架是南极最大的冰架。这里接近南极著名的横贯山脉，有著名活火山、干谷等重要的科学考察区域。读图 12 我国南极科考站位置示意图，完成 30~32 题。

30. 新建站

- A. 无极昼极夜现象
B. 是纬度最高的南极科考站
C. 选址时正值当地暖季
D. 濒临印度洋

31. 南极洲年平均气温为零下 25℃，极端最低气温曾达零下 89.2℃。年平均降水量为 55 毫米。这说明南极地区的气候特征是

- A. 酷冷干燥 B. 炎热干燥
C. 高温多雨 D. 低温多雨

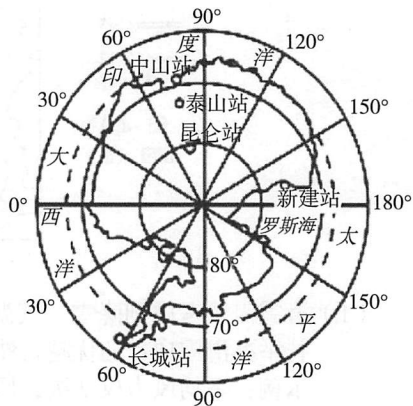


图 12

专注北京中考升学

32. 建立第五个南极科学考察站, 有助于

- A. 开发那里的固体淡水资源
- B. 开展海洋、冰川和地质等方面研究
- C. 捕捞南极地区的磷虾资源
- D. 向两极地区移民

冰岛的一座火山大爆发, 火山灰对欧洲许多国家造成很大影响。读图 13, 完成 33、34 题。

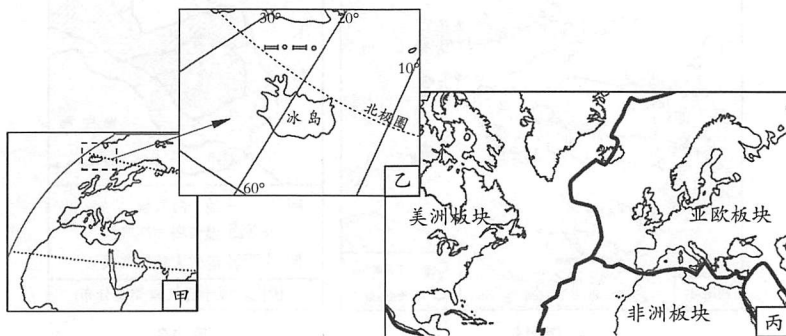


图 13

33. 图中

- A. 甲图比乙图比例尺大
- B. 乙图跨越了欧洲和非洲
- C. 冰岛是太平洋的岛国
- D. 冰岛位于美洲板块和亚欧板块的交界

34. 冰岛火山喷出大量的火山灰, 受其影响最大的运输方式是

- A. 海运
- B. 公路运输
- C. 管道运输
- D. 航空运输

K3 次列车从中国北京运行至俄罗斯莫斯科, 是中国铁路的国际联运快速列车。图 14 为俄罗斯及其部分地理事物分布示意图。读图, 完成 35~37 题。

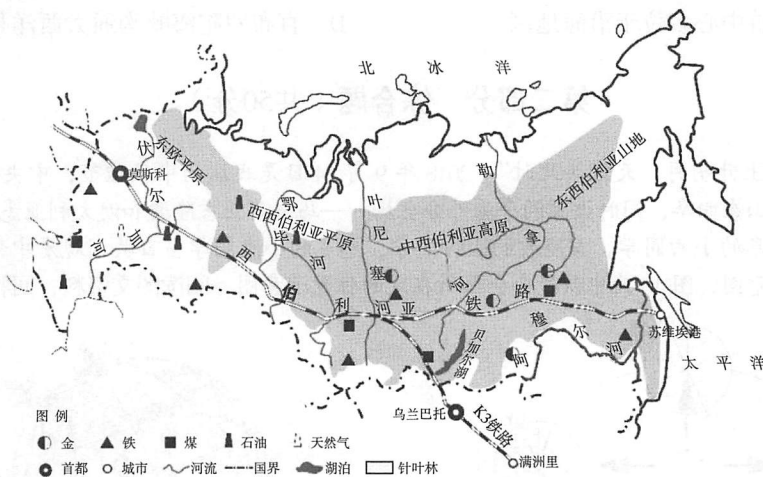


图 14

35. 国际列车 K3 线在俄罗斯境内依次经过的地形区是

- A. 中西伯利亚高原、西西伯利亚平原、东欧平原
- B. 东西伯利亚山地、中西伯利亚高原、西西伯利亚平原
- C. 东欧平原、西西伯利亚平原、中西伯利亚高原
- D. 西西伯利亚平原、中西伯利亚高原、东西伯利亚山地

36. 列车跨越的河流中, 内河航运最发达的是

- A. 勒拿河
- B. 叶尼塞河
- C. 鄂毕河
- D. 伏尔加河

专注北京中考升学

37. 俄罗斯和中国有密切的贸易往来，俄罗斯出口到中国的商品中最可能有_____。
A. 石油、服装 B. 煤炭、稻米 C. 木材、石油 D. 有色金属、玩具
- 西班牙位于欧洲西部伊比利亚半岛。读图 15、图 16，完成 38-40 题。

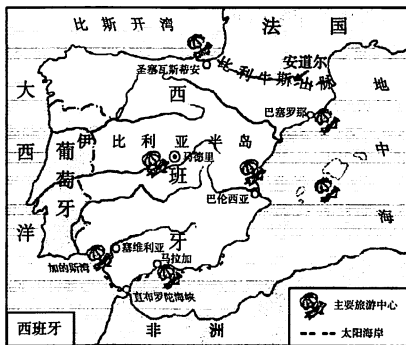


图 15

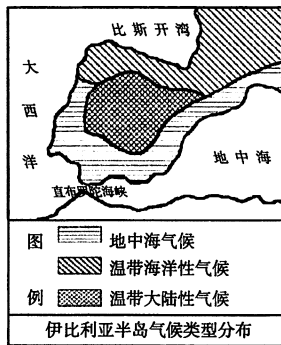


图 16

38. 西班牙
A. 北部濒临加的斯湾 B. 西北临大西洋，西南临地中海
C. 西与葡萄牙接壤，东有邻国法国和意大利 D. 隔直布罗陀海峡与非洲相望
39. 伊比利亚半岛
A. 北部和西北部为温带大陆性气候 B. 南部和东南部沿海属地中海气候
C. 北部地区终年潮湿、南部地区夏季多雨 D. 三种气候类型呈东西纵列分布
40. 从图 15 中可以得到的信息有
A. 比利牛斯山脉呈东北 - 西南走向 B. 伊比利亚半岛地势中部高、南北低
C. 主要旅游中心多位于沿海地区 D. 直布罗陀海峡沟通大西洋与太平洋

第二部分 综合题 (共50分)

41. (10分) “海上生明月、天涯共此时”。2018年9月24日是我国的中秋佳节，中央电视台中秋晚会主会场定在山东曲阜，同时设置两个海外分会场——马来西亚吉隆坡和澳大利亚悉尼，全球华人共度佳节。曲阜的小曲同学、吉隆坡的小吉同学、悉尼的小悉同学当日共同观看中秋晚会。图 17 为地球公转示意图，图 18 为中秋晚会会场所在地的位置示意图。阅读图文资料，回答下列问题。

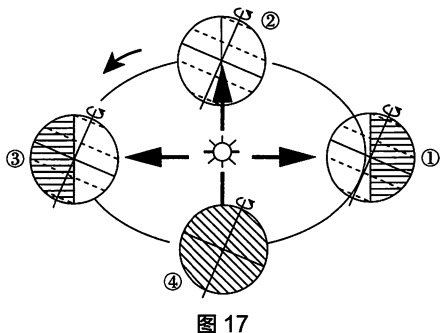


图 17

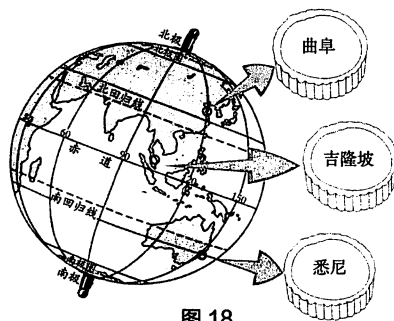


图 18

- (1) 2018年的中秋佳节恰逢二十四节气中的_____前后，此时地球运行到图 17 的_____位置 (填数字) 附近。这一天，山东曲阜白昼接近_____小时，从中秋节到再次看到月圆的时段，该地昼长的变化是_____。(选择填空)
- A. 昼先变短，后变长 B. 昼先变长，后变短 C. 昼逐渐变长 D. 昼逐渐变短

专注北京中考升学

- (2) 中秋节当天，三位同学中，_____（小曲/小吉/小悉）最早看到新一天日出，造成这种差异的主要原因是_____（选择填空）。
- A. 地球的自转 B. 地球的公转 C. 地球的形状 D. 地球的大小
- (3) 读图 18 可知，吉隆坡位于山东曲阜的_____方向，如果你到吉隆坡与小吉共度中秋，你将欣赏到迷人的_____（热、温、寒）带风光，当地自然植被以_____（森林、草原、荒漠）为主。
- (4) 中秋节期间我国北方大部分地区已感受到秋季的凉意，中秋节后的一个月，生活在悉尼的小悉感受到地理现象有_____（选择填空）。
- A. 清晨日出时间越来越早 B. 正午时日影逐渐变长
C. 天气逐渐转凉 D. 树木枯黄，落叶飘零

42. (10分) 2022年北京-张家口冬季奥运会雪上项目将在北京延庆和张家口崇礼两地举行。张家口崇礼县多中、低山，冬季平均气温约零下12℃，平均风力仅2级，10月中下旬至次年4月初多雪，全年积雪1.5米左右，存雪期150多天，是发展滑雪产业的理想区域。目前，崇礼拥有多个高标准滑雪场，距北京220公里。图19为北京至张家口交通路线示意图，图20为崇礼红花梁山局部地区等高线地形图。阅读图文资料，回答下列问题。

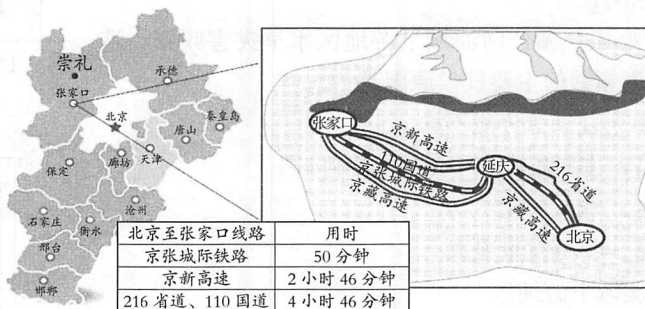


图 19

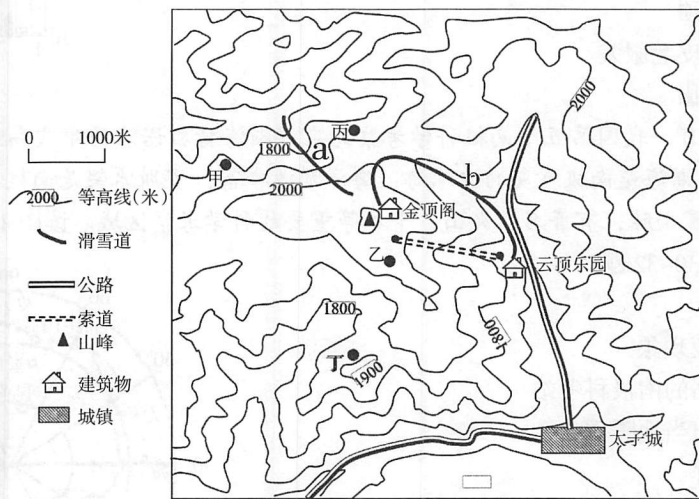


图 20

- (1) 滑雪需要考虑到降雪、气温、风力、地形等因素。结合材料，参考示例的表述，说明崇礼举办滑雪项目的优越自然条件。
- 示例：平均风力仅2级，风速小，利于开展滑雪项目。
- 优势_____。

专注北京中考升学

(2)从北京市出发到张家口市观看冬奥会雪上项目比赛，请说出你选择的交通运输方式，并说明理由。

(3)崇礼红花梁地区建有国际标准的滑雪场，开展体育赛事的同时，也吸引了大批游客。为了方便游客登顶，修建了由云顶乐园到金顶阁的索道。金顶阁的海拔约为_____，索道经过的地形部位为_____，索道爬升的高度约为_____（选择填空）。

- A. 150米 B. 350米 C. 400米 D. 450米

(4)红花梁山有多条滑雪道，其中a为中级滑雪道，b为初级滑雪道，读图说明b设为初级滑雪道的理由_____。

(5)除滑雪外，红花梁山还可以开展的活动是_____。（选择填空）

- A. 甲地——体验极速漂流 B. 乙地——开展观星活动
C. 丙地——观赏日出景色 D. 丁地——俯瞰太子城

43. (10分)家住北京的李欣暑假期间和家人一起出国旅游，写下了两则游记。阅读游记片段及图21世界气候类型分布图，回答下列问题。

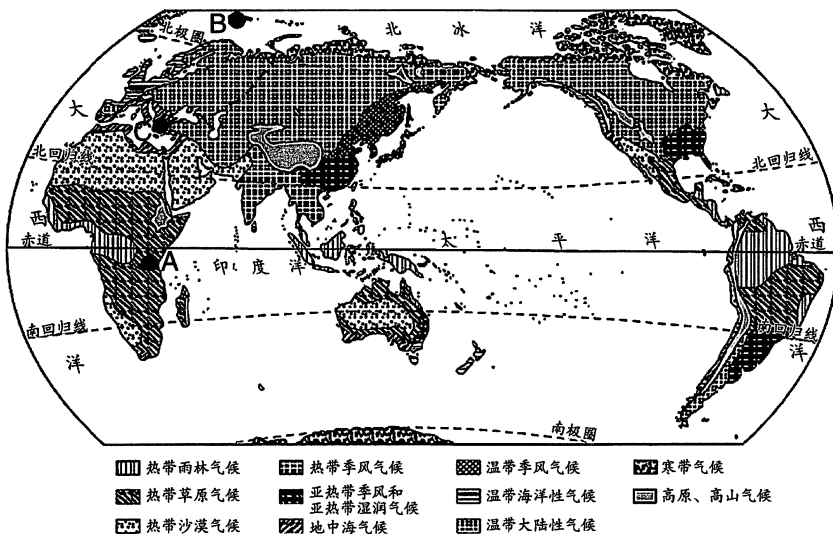


图 21

游记一：安博塞利的草原上，几十头长颈鹿聚在一起各自寻找着爱的伴侣；乞力马扎罗雪山下的两群大象不期而遇，公象炫耀着自己的强壮不时的发出阵阵低吼；鬣狗已经撤开了罗网，一场杀戮和伏击瞬间就要爆发。

游记二：7月5日，我们到达了朗伊尔城。气温上升到冰点以上，大洋边缘地带已经融化。我们在这儿待了几天时间里都没有看到日落和日出。

图 21 中 A、B、C 三地李欣一家暑期旅游地点。

(1) 游记一描述的旅游地点是图 21 中的_____地（填字母），该地的气候类型为_____，在该地，李欣最可能欣赏到_____（选择填空）。

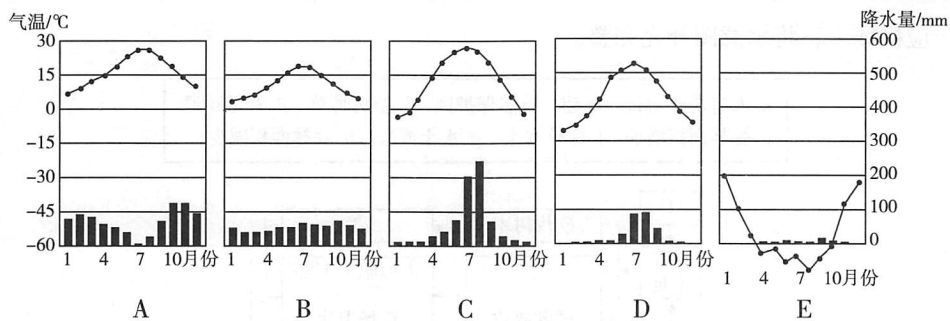
- ①广阔的热带草原 ②壮观的动物大迁徙 ③巍峨的雪山 ④可爱的鸭嘴兽和袋鼠
A. ①②③ B. ②③④
C. ①③④ D. ①②④

(2) 游记二中的朗伊尔城，位于图 21 中的_____地（填字母），朗伊尔城和游记一中地点气候特征明显不同的主导因素是_____。游记二中说到“没看到日落和日出”，是由于朗伊尔城出现了_____现象。

(3) 李欣在朗伊尔城旅游中，你认为在旅行安全或环境保护方面的注意事项有_____。

专注北京中考升学

(4) 李欣在暑期去 C 地旅游，下图中符合该地气候特征的是_____ (选择填空)，与北京相比，C 地的气候特征是_____。



44. (10分) 2018年9月3日—4日，中非合作论坛在北京召开，本次论坛主题为“合作共赢，携手共建更加密切的中非命运共同体”。非洲多为发展中国家。阅读图文资料，回答下列问题。



图 22

- (1) 图 22 为参加中非合作论坛的非洲国家代表，根据照片推断，当地居民以_____色人种为主。
- (2) 加纳是位于非洲几内亚湾北岸的一个国家。加纳总统在会议专访中提及，中国寻求的是与非洲互利合作的关系，中国与加纳之间的合作属于_____ (南北对话 / 南南合作)。图 23 为加纳进、出口商品额百分比示意图。读图可知，加纳在国际贸易中处于_____ (有利 / 不利) 地位，原因是_____。

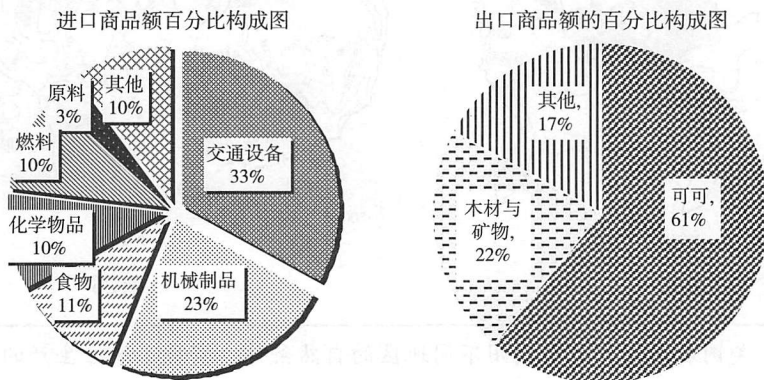


图 23

(3) 中国与非洲各国之间交流涉及经济、文化等领域，下图中能展示非洲艺术文化特色的是_____ (选择填空)



- A. 鼓乐 B. 信天游 C. 芭蕾舞 D. 桑巴舞

专注北京中考升学

(4) 非洲地区人口问题较为突出，在开发和利用自然环境过程中，一些做法造成生态环境恶化。图 24 为该地区人地关系示意图，请选择图中序号代表的正确含义，将字母填在相应横线上，将示意图补充完整。

- a. 人口快速增长 b. 建立自然保护区 c. 植树种草 d. 开垦草原
e. 森林面积增加 f. 保持水土 g. 水土流失 h. 森林面积减少

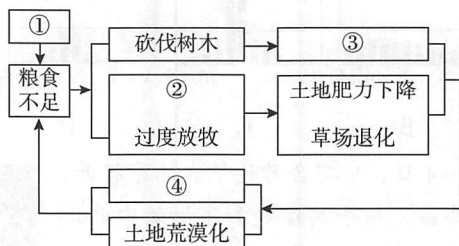


图 24

① _____ ② _____ ③ _____ ④ _____

(5) 针对上述生态环境问题，为实现该区域的可持续发展，请根据所学提出建议。
_____ (写出一条即可)

45. (10分) 美国是世界农业大国，更是农业强国。阅读图文资料，回答下列问题。

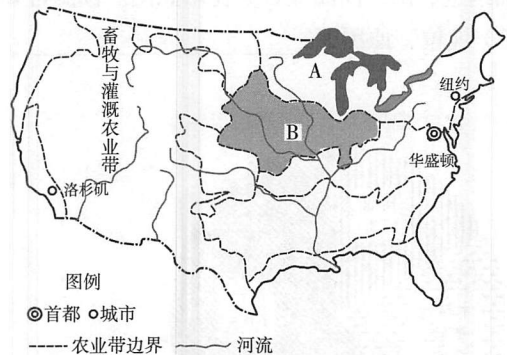


图 25

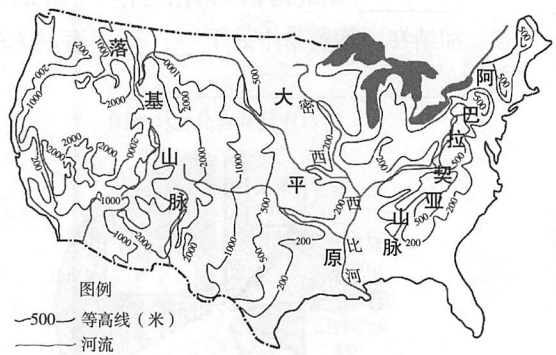


图 26

资料 1 美国农业生产充分利用不同地区的自然条件，实现了地区生产的专业化，形成了农业带。图 25 为美国主要农业带的分布示意图，图 26 为美国等高线地形图。

乳畜带：分布在美国东北部五大湖地区附近，气候冷湿，适宜牧草生长；这里经济发达，人口稠密，城市众多，对农产品的需求量大。

玉米带：分布在美国中部平原区，地势平坦，土壤肥沃，地处温带，春夏气温较高，适合玉米生长。

(1) 阅读资料 1，判断图 25 中代表乳畜带分布区的字母是 _____，归纳影响上述两个农业带分布的主要因素，乳畜带：_____，玉米带：_____。

专注北京中考升学

(2) 畜牧与灌溉农业带位于美国西部，其发展农业的自然条件与东部差异较大，参考资料 1 中对乳畜带和玉米带的描述，从地形和气候等方面说明形成畜牧和灌溉农业区的条件

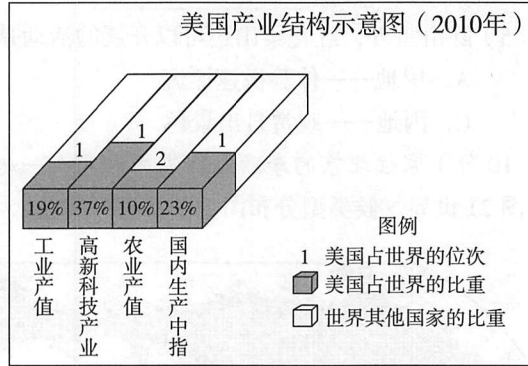
_____。

(3) 美国农业专业化生产的好处有_____。(选择填空)

①便于机械化生产 ②提高农业生产效率 ③提高农业商品率 ④可以缓解人多地少的矛盾

- A. ①③④ B. ②③④ C. ①②④ D. ①②③

资料 2 农场主凯利斯通过物联网、大数据调研确定农作物的种植面积，决定作物的播种、灌溉、施肥、病虫害防治到收获的最佳时期，实时监测农作物生长过程。借助农业电子商务构建了网上直销渠道，提高了农产品的产量、质量以及扩大了销售市场。



(4) 阅读资料 2 可知，美国的_____产业占比最高，该产业对美国农业产生的影响有_____。(写出两点即可)