



2021北京房山初二（上）期末

地 理

考
生
须
知

1. 本试卷共有 10 页，共 29 道题，满分 70 分，时间 70 分钟。
2. 请务必将你的答案写在答题卡上，本试卷上作答无效。

第一部分 单项选择题（共 25 道题）

一、本部分共 25 小题，每小题 1 分，共 25 分。在每小题列出的四个选项中，选出最符合题目要求的一项。

2019 年 4 月 10 日 21 时，美国、中国、智利、比利时、丹麦和日本等国同时发布人类首张黑洞照片。图 1 中字母位置为天文望远镜观测站在全球的分布图，读图完成 1 ~ 3 题。

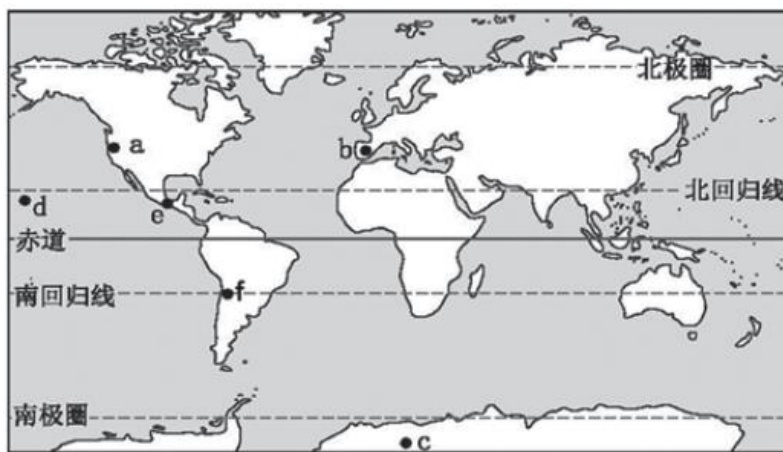


图 1

1. 望远镜观测站的分布多集中于
 - A. 赤道附近
 - B. 亚欧大陆
 - C. 中低纬度地区
 - D. 发达国家
2. b 所在区域为
 - A. 欧洲西部
 - B. 阿拉伯半岛
 - C. 太平洋西岸
 - D. 低纬度北温带
3. 导致 b、c 两地年平均气温不同的主要原因是
 - A. 地形因素
 - B. 纬度位置
 - C. 海陆位置
 - D. 人类活动

当一个国家或地区 60 岁以上老年人口占人口总数的 10%，或 65 岁以上老年人口占人口总数的 7%，意味着这个国家或地区的人口处于老龄化社会。图 2 为各地区 60 岁以上人口数量，图 3 为世界人口分布图。据图，完成 4 ~ 7 题。

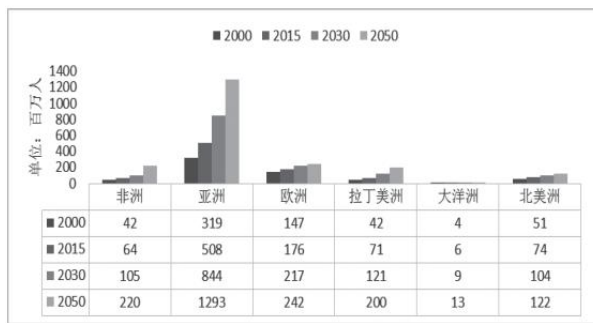


图 2

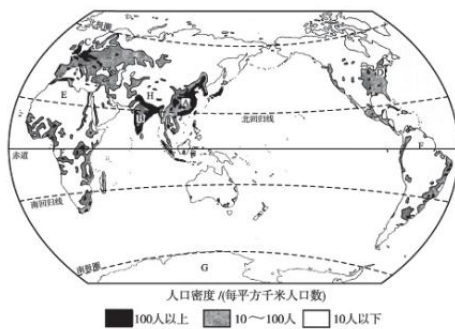


图 3

4. 60 岁以上人口数量最多的地区是
- A. 亚洲 B. 北美洲 C. 非洲 D. 拉丁美洲
5. 非洲 60 岁以上人口
- A. 2030 年数量将超过拉丁美洲 B. 2050 年数量将超越北美洲，居世界第二位
- C. 2015 -2030 年间平均增量超过 2000 -2015 年间 D. 2030 至 2050 年间平均增量低于大洋洲
6. 60 岁以上人口数量快速增长带来的影响是
- A. 社会福利水平提高 B. 劳动力短缺 C. 资源得到有效利用 D. 消费水平骤增
7. 世界人口与资源、环境和经济发展相适应人类才能可持续发展，下列关于世界人口分析正确的是
- A. 预计到 2050 年世界人口超过 90 亿，人口过多导致自然资源短缺
- B. 世界人口分布不均，中低纬度、沿海平原地区人口密集，环境恶劣地区人口稀疏
- C. 世界人口分布不均，未来世界人口分布趋于均衡
- D. 科技进步可以解决人类面临的全部人口、环境和资源问题

图 4 为《清明上河图》的一部分，反映了北宋都城汴梁（今河南开封）的繁华风貌。读图，完成第 8～9 题。



图 4

8. 图中景观反映的是
- A. 城市聚落 B. 工业生产 C. 乡村聚落 D. 农业生产
9. 由图中景观可推断当时该地
- A. 水运发达 B. 商业落后
- C. 水流湍急 D. 全年少雨



2020 年世界海洋日暨全国海洋宣传日活动主题是“保护红树林，保护海洋生态”。红树林生长在受到潮水周期

性浸淹的海岸地带。图 5 为世界红树林海岸分布图。读图，完成第 10 ~ 12 题。

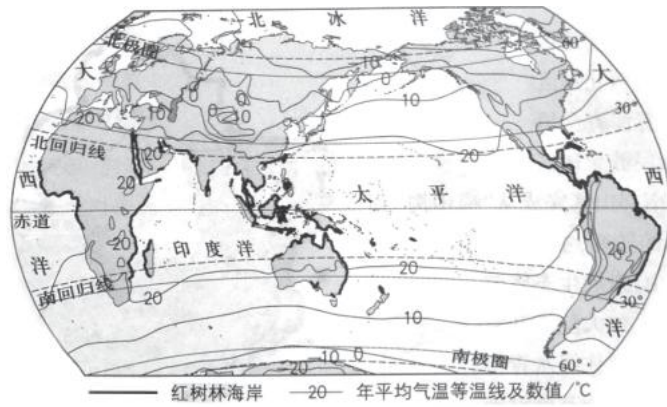


图 5

10. 图中

- A. 年平均气温自北向南逐渐增加
- B. 同纬度地区海洋比陆地气温高
- C. 北半球海洋面积大于陆地面积
- D. 南纬 30°~ 60°之间海洋面积最小

11. 红树林

- A. 分布区域北界的纬度高于南界
- B. 集中分布于等温线密集的海岸地区
- C. 多分布在年均温 20°C 以上的海岸地区
- D. 广泛分布于大陆东岸的海岸地区

12. 红树林被称为“消浪先锋”，其作用是

- A. 保护海岸
- B. 吸烟滞尘
- C. 淡化海水
- D. 涵养水源

欧洲西部、东南亚为中国游客境外游的主要目的地。图 6 为两个地区的示意图。读图完成第 13 ~ 14

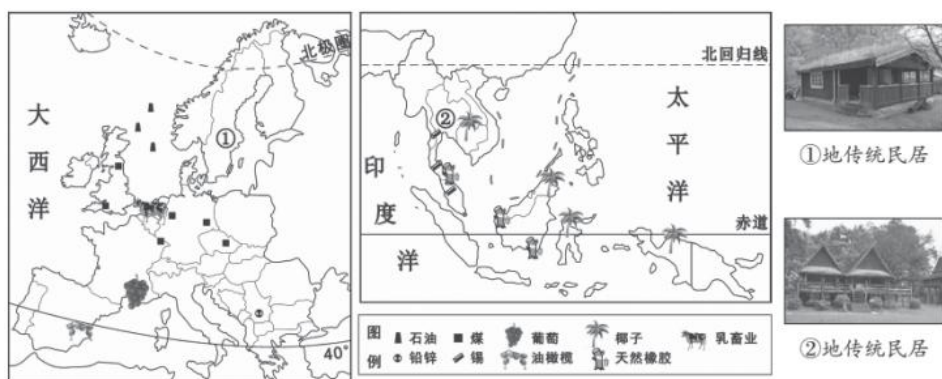


图 6

13. 下列关于两地自然环境说法正确的是

- A. 欧洲西部西临大西洋，北回归线穿过其北部
- B. 欧洲西部气候温和湿润，以种植业为主
- C. 东南亚位于印度洋和大西洋之间交通便利



D. 东南亚气候湿热是世界热带经济作物主要产区之一

14. 游客在旅途中看到图中①②两地的传统民居

- A. ①屋顶种草皮，防寒保暖
- B. ②门窗大，节省建筑材料
- C. ①墙厚重，为了抵御台风
- D. ②底部悬空，防地基变形

巴西是南美洲面积最大、经济发展最快的国家，巴西大豆产量居世界前列。读图 7、图 8，完成 15 ~ 17 题。

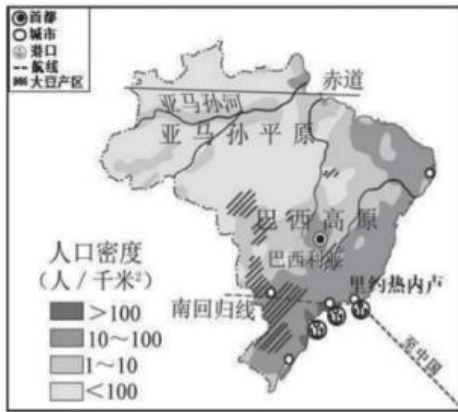


图 7



图 8



椰奶虾



巴西烤肉

15. 关于巴西地理特征描述正确的是

- A. 完全位于南半球的国家
- B. 地形以高原和平原为主
- C. 热带雨林气候为主，气候湿热
- D. 南美洲唯一的发达国家

16. 巴西人口密度大于 100 人/千米²的地区，分布在

- A. 热带地区
- B. 内陆地区
- C. 西北地区
- D. 东南沿海

17. 巴西和中国经济和文化交流合作

- A. 中国游客到巴西高原品尝巴西烤肉和椰奶虾
- B. 巴西大豆通过公路运输—航空运输运往中国
- C. 巴西的首都里约热内卢是南美洲最大的城市
- D. 中国和巴西南南合作促进了两国经济发展

K3 次列车从中国北京运行至俄罗斯莫斯科，是中国铁路的国际联运快速列车。图 9 为俄罗斯及其部分地理事物示意图。读图，回答 18 ~ 20 题



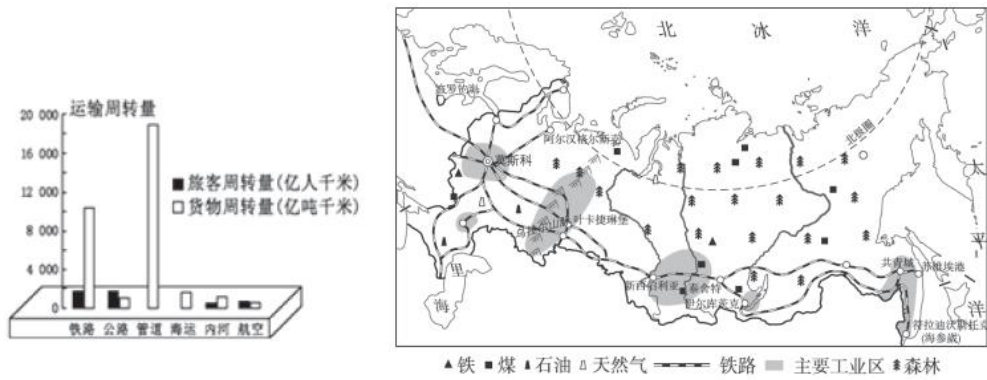


图 9

18. 火车一路上跨越了多条河流，西伯利亚地区三条河流的共同特征有

- A. 自南向北流
- B. 结冰期短
- C. 注入太平洋
- D. 含沙量大

19. 下列关于俄罗斯的交通运输状况叙述正确的是

- A. 西伯利亚铁路被称为亚欧大陆桥，横跨亚欧两大洲
- B. 俄罗斯是一个三面环海的国家，海运非常发达
- C. 铁路和公路是货运的主要方式
- D. 俄罗斯交通线分布不均衡，北部地势低平地区较稠密

20. 俄罗斯和中国有密切的贸易往来，俄罗斯出口到中国的商品中最可能有

- A. 石油、服装
- B. 煤炭、稻米
- C. 石油、天然气
- D. 有色金属、玩具

旅行过程中你关注过各地不同的路牌吗？图 10 为“某国富有文化特色的‘请减速’道路警示牌”。读图，完成第 21 ~ 22 题。



图 10

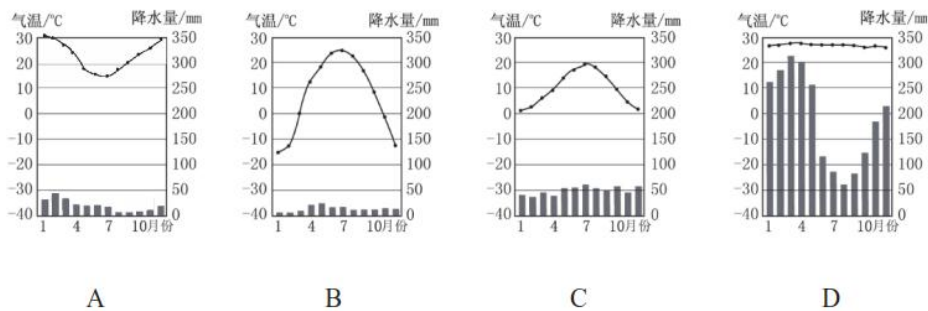
21. 该国

- A. 位于北极地区附近
- B. 居民主要使用英语
- C. 气候干旱沙漠广布
- D. 河湖众多植被茂盛

22. 警示牌上的野生单峰驼生活在热带，目前已灭绝，仅存一些被野化（将动物培养后再次放归大自然）的驼群。

以下适宜野化单峰驼生存的区域是





2018年4月,世乒赛在瑞典小城哈尔姆斯塔德举办,中国乒团又一次包揽全部冠军奖杯。读图11完成23-25题

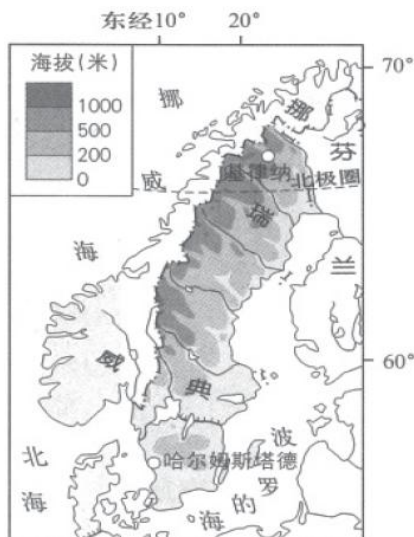


图 11

23. 瑞典

- A. 地形以山地为主,东高西低
- B. 河流无结冰现象
- C. 纬度较高,北极圈穿过
- D. 东部与挪威相邻

24. 与基律纳相比,哈尔姆斯塔德

- A. 距海洋更远
- B. 无极昼极夜现象
- C. 冬季更漫长
- D. 海拔更高

25. 瑞典居民

- ①喜欢点燃蜡烛驱赶漫漫长夜
- ②集中居住在北极圈以北
- ③以仲夏节(每年6月24日)为重要节日
- ④多喜欢滑雪运动

- A. ①②③
- B. ①②④
- C. ①③④
- D. ②③④

第二部分综合题(共4道题)

26. 马可·波罗东方之旅图12是马可·波罗中国之行路线图,读图完成下列各题(11分)



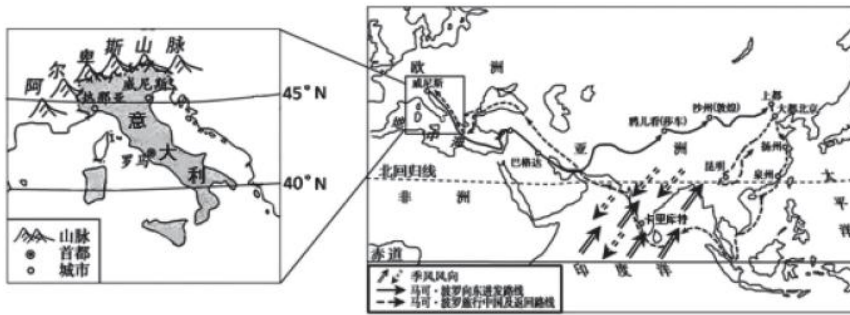


图 12

(1) 马可·波罗的祖国意大利位于地球五带中的_____带，南临_____海，处在_____山脉南侧，首都是_____。(4分)

意大利是世界最大的橄榄油出口国，图 13 (a) 为油橄榄资料卡，图 13 (b) 为意大利典型气候的气温曲线和降水量柱状图。

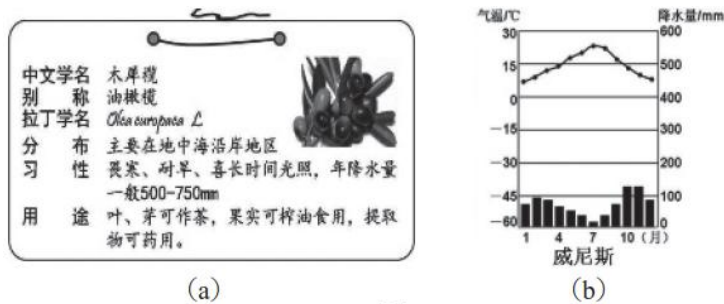


图 13

(2) 分析意大利有利于油橄榄生长的自然条件。(2分)

- ① _____;
- ② _____。

意大利有迷人的海滩、透迤的群山以及众多的世界文化遗产，此外其经济发达，公路交通便利，旅游设施齐全，每年都吸引了众多游客，旅游收入居世界前列。

(3) 从材料可知，意大利发展旅游业的优势条件有_____ (两项选择)。(2分)

- A. 自然和人文旅游资源丰富
- B. 经济发达，服务设施齐全
- C. 国土面积广阔
- D. 山地广大，公路交通不便

(4) 马可·波罗途经印度的海港卡里库特，图 14 是当地的气候资料，读图分析这里的气候特征为：_____，可广泛种植_ (小麦 / 水稻)，因此人们喜食手抓饭，但受季风气候影响_____灾频繁发生，严重影响到粮食生产。(3分)

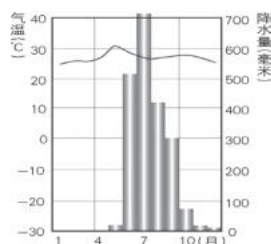


图 14



27. 走进南美洲 (12分)

阳阳通过查阅地图和资料,自己学习了南美洲并做了总结分析。



图 15

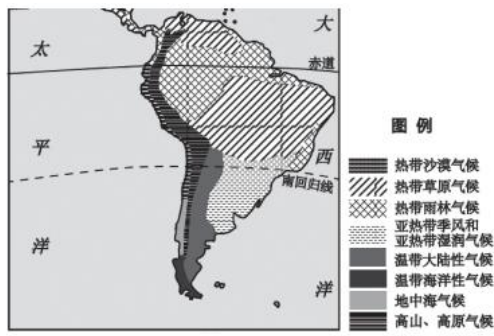
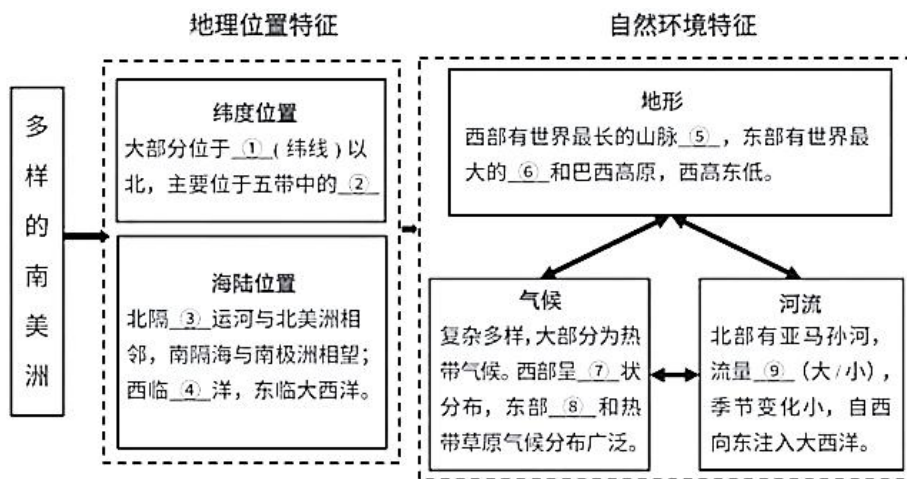


图 16

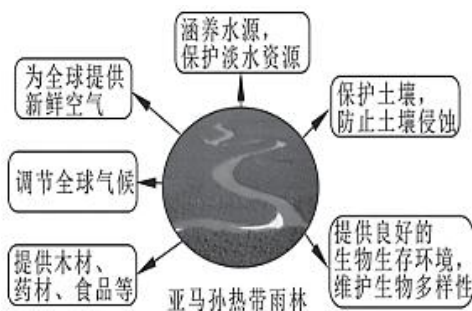
图文转化建联系——认识不同的区域

(1) 根据资料信息,阳阳制作知识结构图,请你帮他共同完成。



查阅资料拓展学习——亚马孙热带雨林保护

材料 1: 巴西亚马孙热带雨林面积占世界 50%, 拥有世界最丰富的生物物种。热带雨林吸收大量的二氧化碳制造维持人类生存的氧气 约占地球的 1/3, 号称“地球之肺”。森林产生巨大的环境效益维护着地球生态平衡。



材料 2: 世界绿色和平组织 2006 年发布《吃掉亚马孙》报告, 五年中巴西毁林开荒 种植大豆, 致使近 11 万平方千米的雨林消失; 此外由于森林大火、开辟牧场、商业伐木、工矿建设占用林地等大大加快了热带雨林消失的速度, 这片比欧洲面积还大的森林只剩一半。

(2) 根据资料分析热带雨林产生的环境效益有_____、_____等。

(3) 作为环保的拥护者, 提出你的建议:

28. 保护人类共有的资源宝库—南极洲 1983 年中国加入《南极条约》后，在南极建设 多个科学考察站，对南极地区特殊地理环境进行大量的科学考察，为南极地区的 环境保护做出贡献。读图 17 完成各题。（12 分）



图17

29. 对比学习加深区域特征 日本和澳大利亚是近年来中国出境游的热门目的地，在地理课上同学们对比学习两国的地理特征。读图 18，完成下列问题。（10 分）



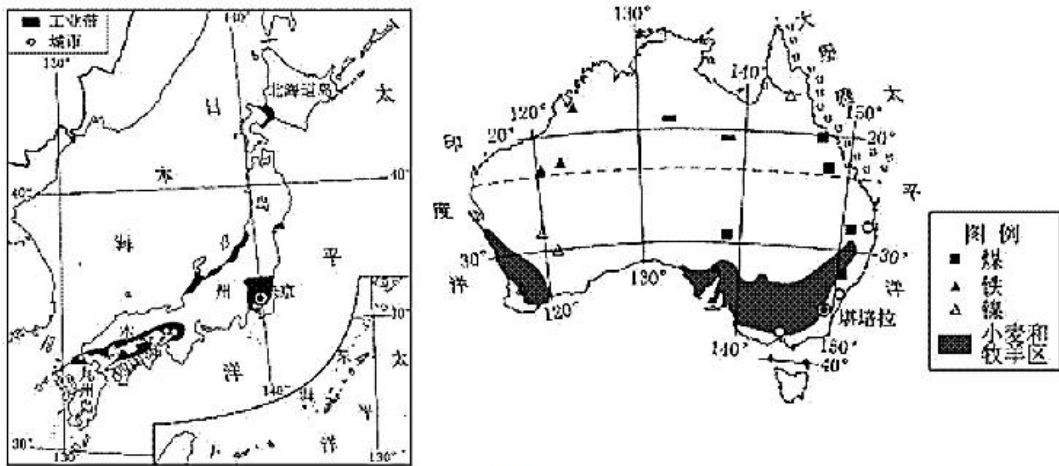


图 18

- (1) 两国都四面环海，澳大利亚是独占一个大陆的国家，但日本则属于_____国（岛 / 内陆）。
- (2) 受纬度位置影响，当日本本州岛的樱花凋谢时，在四大岛中的_____岛赏樱活动正当时。
- (3) 两国在经济上都属于_____国家，重要的港口城市都分布在_____洋沿岸。两国与中国的合作称为_____（南南合作 / 南北对话）。
- (4) 对比澳大利亚、日本两国的社会经济差异，完成表。

比较项目	澳大利亚	日本
面积、人口状况	地广人稀	①
农业发展不利条件	大部分地区气候干旱	平原小，②少
工业发展特点	矿产品出口国	原料③，成品出口
特色旅游活动	可游览④	赏樱花
别称	⑤	日出之国



2021北京房山初二（上）期末地理



参考答案

一、单选

1	2	3	4	5	6	7	8	9	10
C	A	B	A	C	B	B	A	A	C
11	12	13	14	15	16	17	18	19	20
C	A	D	A	B	D	D	A	A	C
21	22	23	24	25					
C	A	C	B	C					

二、综合题

26、（1）北温带 地中海 阿尔卑斯 罗马

（2）油橄榄畏寒，意大利冬季温和、夏季高温，可满足其生长需要的热量；

油橄榄耐寒、喜高温，意大利属于地中海气候，夏季高温少于，适宜油橄榄的生长；

意大利年降水量在 500 毫米至 750 毫米之间，适宜油橄榄的生长。（任意两条即可）

（3）A B（选 2 个的情况下，对 1 个给 1，对 2 给 2 分）

（4）全年高温，有明显的雨旱季 水稻 水旱/旱涝

27、（1）南回归线（ $23.5^{\circ} S$ 或 $23^{\circ} 26' S$ ）或 $40^{\circ} S$ 热带 巴拿马

太平 安第斯 亚马孙平原 条带 热带雨林 大

（2）制造氧气、为全球提供新鲜空气、调节全球气候、保持水土、涵养水源、美化环境、净化空气等 2 点即可

（3）如：保护森林，禁止乱砍滥伐，合理开发森林等合理即可得分

28、①高 ②低 ③高 ④融化 ⑤没有 ⑥秋/秋冬 ⑦大洋洲

⑧⑨ $75^{\circ} E$ — $(76^{\circ} E)$ 、 $69^{\circ} S$ — $(70^{\circ} S)$ ⑩距南极洲近/物资充足 (11)合理即可得分

29、（1）岛国 （2）北海道 （3）发达 太平 南北对话

（4）①地狭人稠 ②耕地 ③进口 ④大堡礁/艾尔斯山/悉尼歌剧院等

⑤坐在矿车上的国家/骑在羊背上的国家/活化石博物馆/独占一块大陆的国家