

考生须知

1. 本试卷共 12 页,共 30 道选择题,4 道综合题。满分 90 分。考试时间 90 分钟。
2. 在试卷和答题卡上准确填写学校名称、班级、姓名和学号。
3. 试题答案一律填涂或书写在答题卡上,在试卷上作答无效。
4. 在答题卡上,选择题用 2B 铅笔作答,其他试题用黑色字迹签字笔作答。

第一部分 选择题

本部分共 30 小题,每小题 1.5 分,共 45 分。在每小题列出的四个选项中,只有一项最符合题目要求,请将该选项前的字母代号填涂在答题卡上。

1. 下列文物中与我国原始农耕时代生活有关的是



①河姆渡出土的骨耜



②北京人使用的工具



③半坡出土的纺轮



④河姆渡黑陶炊具

A. ①②③④

B. ②③④

C. ①②④

D. ①③④

2. 一位同学制作了中国古代某一历史时期政权更迭的年代标尺,其中①处政权是

约公元前2070年

约公元前1600年

公元前1046年

公元前770年

①

②

③

④

A. 商朝

B. 西周

C. 夏朝

D. 战国

3. 1986 年在北京出土了一件青铜器,器内铭文大意为:周成王命克(召公长子)做侯(燕,今北京地区)的诸侯,管理从羌族……到狄族、微族的地方。它反映了西周实行的政治制度是

A. 禅让制

B. 分封制

C. 郡县制

D. 行省制

4. 下列主张中属于孔子的是

① 己所不欲,勿施于人

② 无为而治

③ 有教无类

④ 仁者爱人

A. ①②④

B. ①③④

C. ②③④

D. ①②③④


5. 文物是了解历史的重要途径。下列图片所示文物按其所处的年代先后排序,正确的是



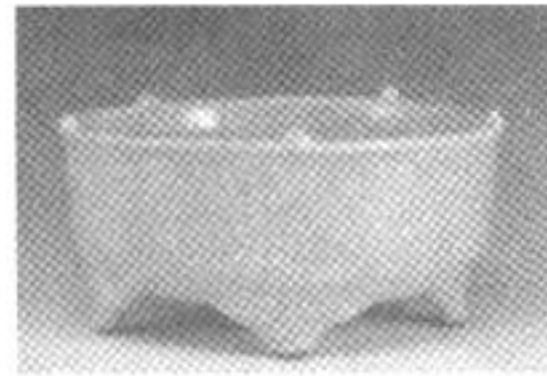
①司母戊鼎



②半两钱



③半坡人面鱼纹彩陶盆



④哥窑瓷器

A. ③①④②

B. ①③②④

C. ①③④②

D. ③①②④



6. 下列史事中,可以通过阅读《史记》了解到的有

- ①陈胜吴广起义 ②汉武帝兴办太学 ③赤壁之战 ④百家争鸣
A. ①③④ B. ①②④ C. ①②③ D. ②③④

7. 右图是中国历史朝代顺序示意图的一部分,其中,①处的政权名称是

- A. 陈
B. 宋
C. 东晋
D. 前秦



8. 右侧表中所示措施的直接作用是

- A. 加强中央集权
B. 加快江南开发
C. 促进民族交融
D. 结束分裂局面

措施
在朝廷中必须使用汉语,禁用鲜卑语
官员及家属必须穿戴汉族服饰
将鲜卑族姓氏改为汉族姓氏

9. 下列史实反映的共同主题是

- ①张骞出使西域后,西域多种乐器和歌舞等传入中原
②玄奘前往天竺,携带大量佛经回到长安
③鉴真东渡日本,传授佛经,传播中国的医药、建筑知识
④文成公主入藏,带去历法、医药等方面的书籍

- A. 经济繁荣 B. 民族团结
C. 国家统一 D. 文化交流

10. 唐诗中蕴含了丰富的历史信息。下列诗句中能佐证开元盛世局面的是

- A. 稻米流脂粟米白,公私仓廩俱丰实 B. 国破山河在,城春草木深
C. 城头山鸡鸣角角,洛阳家家学胡乐 D. 举头望明月,低头思故乡

11. 下列科技成就中,宋代时制成并对世界文明发展产生深远影响的是

- A. 麻沸散 B. 造纸术
C. 雕版印刷术 D. 指南针

12. 一位同学摘录了宋代太湖流域水稻、茶叶种植方面的资料,又搜集了下列三幅图片。这些材料反映的共同主题是



南宋海船复原图



南宋景德镇观音像

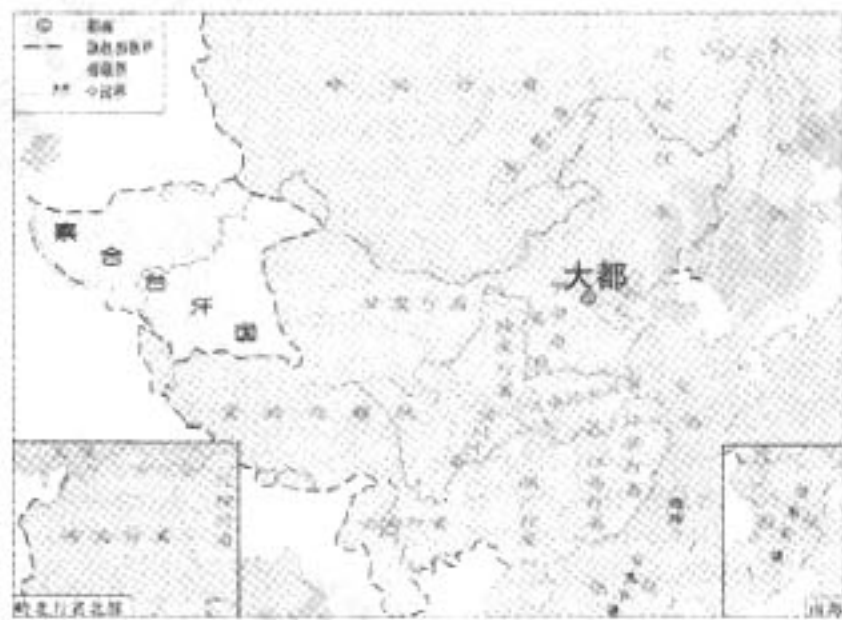


南宋纸币铜版拓片

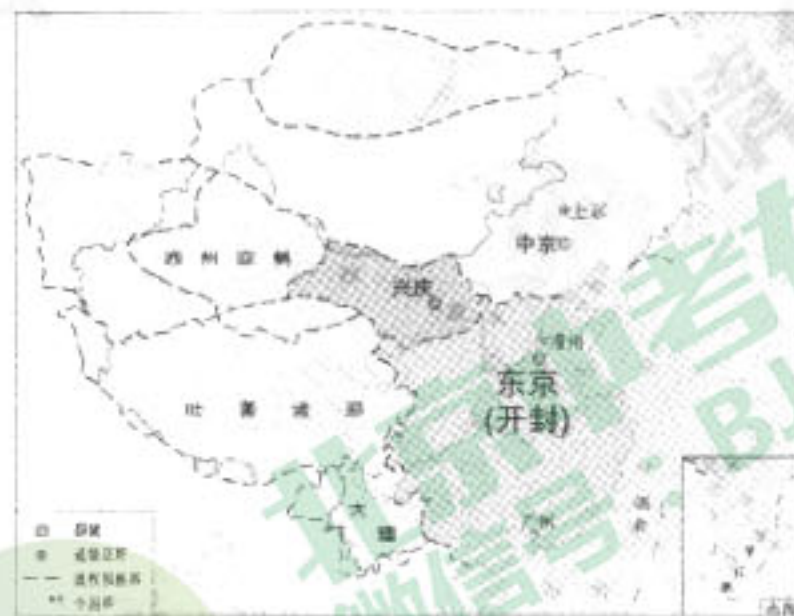
- A. 精巧的手工技艺 B. 繁荣的宋代经济
C. 发达的农业生产 D. 独特的活字印刷



13. 下列疆域图中,反映元朝统一全国的是



A



B



C



D

14. 明太祖曾说:“自秦始置丞相,不旋踵而亡。汉、唐、宋因之,虽有贤相,然其间所用者多有小人,专权乱政。今我朝罢丞相。”由此可见,明太祖废除丞相的主要原因是

- A. 丞相导致王朝灭亡
- B. 丞相不尽心尽职
- C. 丞相平庸,形同虚设
- D. 丞相专权,威胁君权

15. 右图是北京故宫里清朝某一机构的办公场所,它初设于雍正年间,此机构的设置进一步强化了君主专制。它是

- A. 东厂
- B. 锦衣卫
- C. 军机处
- D. 议政王大臣会议



16. 使中国完全沦为半殖民地半封建社会的不平等条约是

- A. 《南京条约》
- B. 《北京条约》
- C. 《马关条约》
- D. 《辛丑条约》

17. 毛泽东曾说,《新青年》对青年时期的他产生了巨大影响。该杂志宣传的主旨是

- A. 民主科学
- B. 自强求富
- C. 变法图强
- D. 三民主义

18. 右侧漫画形象地描绘了 20 世纪初中国社会习俗的变化,推动这一变化的历史事件主要是

- A. 洋务运动
- B. 戊戌变法
- C. 辛亥革命
- D. 义和团运动



19. 右图是晓华同学的笔记,据此判断这是中国近代史上一次重大运动。下列关于这场运动的正确表述是

运动时间: 1919年
运动主要口号: “外争主权, 内除国贼”
“誓死力争, 还我青岛”

- ①它是一场文学革命
- ②它是中国新民主主义革命的开始
- ③它是一次彻底的反帝反封建的爱国运动
- ④它抨击了以孔子为代表的儒家传统道德和文化

A. ①② B. ②③ C. ①④ D. ②④

20. 北京西城区有以赵登禹、佟麟阁命名的道路,这两位英烈殉国的时期是

A. 北伐战争 B. 抗日战争 C. 解放战争 D. 抗美援朝战争

21. 1949年美国国务院白皮书说:“中华民国政府的失败,不是因为援助不够……中国人心掌握在共产党人手中。”这段材料说明人民解放战争迅速取得胜利的主要原因之一是

- A. 人民解放军英勇善战
- B. 中国共产党赢得人民的拥护与支持
- C. 中国共产党得到国际援助
- D. 人民解放军采取灵活机动的战略战术

22. 抗美援朝是保家卫国的正义战争,其主要依据是

- ①朝鲜内战爆发
- ②美军飞机轰炸扫射中国东北边境地区
- ③美国第七舰队入侵中国台湾海峡
- ④美国的侵略活动严重威胁中国的安全

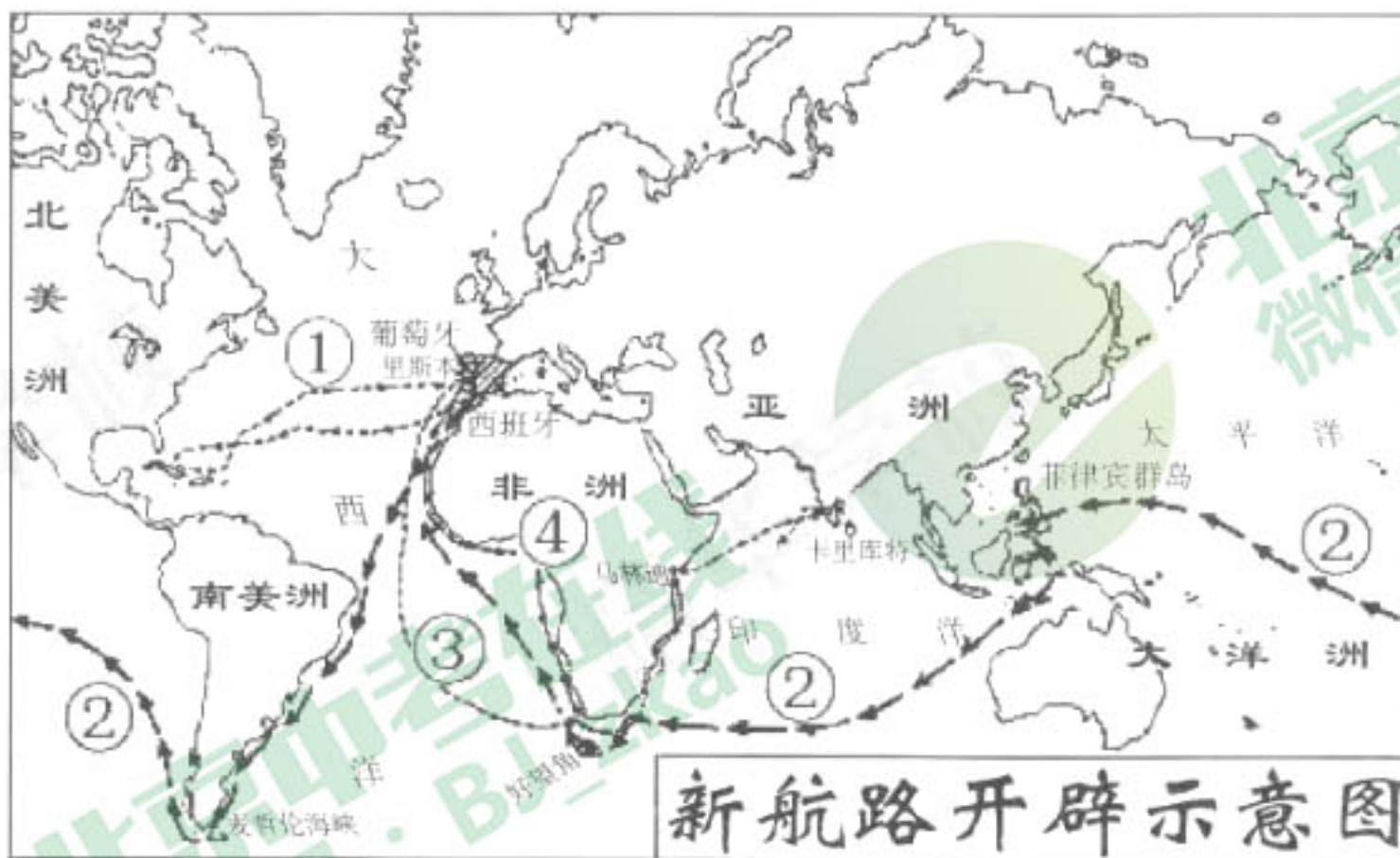
A. ①②③④ B. ①②③ C. ②③④ D. ①③④

23. 右图所示的文物刻有世界上最早的成文法典,该文物有助于我们了解

- A. 古代两河流域文明
- B. 古代印度文明
- C. 古代希腊文明
- D. 古代埃及文明



24. 观察下图,表示麦哲伦船队航海路线的序号是



A. ① B. ② C. ③ D. ④

25. 名言“人是一件多么了不起的杰作! 多么高贵的理性! 多么伟大的力量!”反映了文艺复兴时期的核心思潮是

A. 理性主义 B. 人文主义 C. 现实主义 D. 启蒙思想



26. 有一历史文件以法律的形式限制了国王征税,在和平时期维持常备军等权力,它是
A. 《独立宣言》 B. 《人权宣言》 C. 《权利法案》 D. 《拿破仑法典》
27. 1914年6月,萨拉热窝街头的一声枪响,奥匈帝国王储遇刺,引发了
A. 英国资产阶级革命 B. 法国大革命
C. 第一次世界大战 D. 第二次世界大战
28. 欧洲战场及第二次世界大战的重要转折点是
A. 阿拉曼战役 B. 中途岛战役
C. 攻克柏林 D. 斯大林格勒战役
29. 二战后,英国、法国、联邦德国和日本虽然发展模式各不相同,但是政府干预都是这些国家经济发展中的共同之处。“政府干预经济”的模式在资本主义世界始于
A. 杜鲁门主义 B. 马歇尔计划
C. 自由放任政策 D. 罗斯福新政
30. 1995年1月1日,在日内瓦成立了一个国际组织,其宗旨是“通过市场开放、非歧视性和公平贸易等原则,推动世界贸易自由化”。它是
A. 世界贸易组织 B. 国际联盟 C. 联合国 D. 欧洲联盟

第二部分 非选择题

31. (15分)改革·探索·创新

材料一 公元前四世纪,商鞅在秦孝公支持下进行变法。商鞅变法的主要内容包括:①废除旧贵族的世袭特权;②奖励耕织,生产粮食、布帛多的人可免除徭役;③奖励军功,对有军功者授予爵位并赏赐土地;④确立县制,由国君直接委派官吏治理;⑤统一度量衡;⑥改革户籍制度,加强对人民的管理;⑦严明法度,禁止私斗;⑧废除井田制,允许土地自由买卖。

(1)商鞅从政治、经济、军事等方面进行了改革,请从材料一中选出属于经济方面的变法措施。(1分)

材料二 对商鞅及商鞅变法,自古众说纷纭:

- ❖ 秦朝丞相李斯在《谏逐客书》中说到:孝公用商鞅之法,“诸侯亲服,获楚、魏之师,举地千里,至今治强”。
- ❖ 东汉思想家王充在《论衡》中说到:“商鞅相孝公,为秦开帝业”。
- ❖ 宋代政治家王安石写到:“自古驱民在信诚,一言为重百金轻。今人未可非商鞅,商鞅能令政必行。”
- ❖ 南宋理学家朱熹说商鞅“无教化仁爱之本”。

(2)依据材料一和材料二,对以下表述做出判断:正确的在括号内划“√”;错误的在括号内划“×”;材料没有涉及的,在括号内划“○”。(4分)

- ①李斯认为商鞅变法发挥了巨大的积极作用。 ()
- ②王充认为商鞅变法为秦国统一中国奠定了基础。 ()
- ③王安石赞美商鞅为政“以民为本”。 ()
- ④朱熹评价了商鞅变法的历史意义。 ()



材料三

日本历史上的两次改革表

改革名称	时间	内容	意义
①	公元7世纪	参照中国的隋唐制度,政治上,建立中央集权的天皇制封建国家,废除贵族世袭制,以才选官;经济上,把很多贵族土地收归国有,部民转为国家公民。国家定期把土地分给农民耕种,向他们收取赋税。	是日本从奴隶社会向封建社会过渡的标志。
②	19世纪60年代	政治方面,“废藩置县”,加强中央集权;经济方面,允许土地买卖,引进西方技术,鼓励发展近代工业;社会生活方面,提倡“文明开化”,即向欧美学习,努力发展教育。	使日本从一个闭关锁国的封建国家逐步走上了资本主义发展道路;使日本摆脱了沦为半殖民地国家的命运。

(3) 材料三中的①是_____ (1分);②是_____ (1分)。请依据材料,归纳日本历史上两次社会改革具有的共同特点。(2分)

材料四 梁启超在《变法通议》中写道:同治初年(19世纪60年代),德相俾斯麦对人说:“三十年后,日本其强,中国其弱乎?日人之游欧洲者,讨论学业,讲究官制,归而行之;中人之游欧洲者,询某厂船炮之利,某厂价值之廉,购而用之。”

(4) 请写出19世纪60~90年代,清政府实施的自救运动的名称。(1分)依据材料三、材料四,说一说德相俾斯麦认为“三十年后,日本其强,中国其弱”的依据是什么?(2分)

材料五



图1

向农民宣传土地改革法



图2

“大跃进”时的壁画



图3

《光明日报》发表的社论



图4

国庆游行方队中的标语牌

(5) 中共十八大将科学发展观确定为中国共产党的指导思想,进行社会主义建设就要符合国情、尊重社会发展客观规律。在材料五中,哪些图片能从正面佐证科学发展观在社会主义建设中的重大意义?(1分)并在按要求选择的图片中任选一幅,说明选择的理由。(1分)

材料六 改革开放胆子要大一些,看准了的,就大胆地试,大胆地闯。

——邓小平

改革开放是前无古人的崭新事业,必须坚持正确的方法论,在不断实践探索中前进。

——习近平



(6) 依据材料六,并结合上述其它材料,谈谈改革者所具备的特质。(1分)

32. (12分) 科学与技术的发展,是人类文明进步的强大动力。

材料一

中西方科学家及其成就简表

中国科学家的成就		运用“割圆术”,将圆周率精确到小数点以后的第7位数字,领先世界近千年
		所著书籍内容丰富,几乎涵盖了当时中国农业和手工业的所有生产和加工部门,被誉为“中国17世纪的工艺百科全书”
	⑤	所著《农政全书》全面总结了我国古代农业生产的先进经验、技术革新和作者关于农学的创新成果
西方科学家的成就		是近代自然科学的奠基人,第一次揭示了自然界中的一种基本的、相互作用的规律,开创了物理学的新时代,被人们称为“现代科学之父”
		著《物种起源》,第一次把生物学建立在科学的基础上,推翻了神创论和物种不变论,是人类对自然界认识的一次伟大变革

(1) 上述科技成就的取得,得益于下列科学家的辛勤探索:①宋应星 ②达尔文 ③祖冲之 ④牛顿 ⑤徐光启。请参照范例,将这些科学家与其成就一一对应。(4分)

材料二 世界历史进入到近、现代时期,科学和技术转化为生产力的速度越来越快。科技对生活的影响也越来越深刻。特别能使我们获得直观感受的就是交通技术的变革,尤其是轨道交通的发展。每经历一次工业革命或者科技革命,都会引起轨道交通工具发生技术升级。

(2) 依据材料二并结合所学,将下列三项轨道交通工具与其对应的技术革命连线。(3分)



高铁动车



内燃机车



蒸汽机车

工业革命

第二次工业革命

第三次科技革命



材料三

袁隆平	袁隆平从20世纪60年代起进行水稻良种的培育,经多次杂交试验和筛选,于1973年在世界上首次育成籼型杂交水稻。他培育的杂交水稻亩产可达650千克以上,比普通水稻增产20%以上,被称为“东方魔稻”。袁隆平在实践中提出了水稻杂交新理论,实现了水稻育种的历史性突破,被国际农学界誉为“杂交水稻之父”。
屠呦呦	20世纪60年代,为寻找治疗疟疾的新型有效药物,许多国家组织科研力量展开研究。中国药学家屠呦呦领导科研团队,从中医药古典文献中获得灵感,在极为艰苦的科研条件下,经过数百次实验,终于在70年代初发现了能够有效抵抗疟疾的青蒿素,开创了治疗疟疾的新方法。青蒿素类药物对疟疾的治愈率很高,得到世界卫生组织的认可和大力推广,使全球数亿人受益。由于对人类生命健康事业作出了巨大贡献,屠呦呦获得2015年诺贝尔生理学或医学奖。

(3) 依据材料三,说出袁隆平和屠呦呦科技成果的主要共同之处。(2分)

材料四

中国和美国知识技术资源占世界的比重表

	1990年	1995年	2000年	2005年	2010年	2012年	2013年
发明专利申请数(%)							
中国	1.02	1.78	3.77	10.17	19.68	27.80	32.66
美国	17.16	21.78	21.48	22.94	24.66	23.12	23.12
科技论文发表数(%)							
中国	1.32	1.58	2.87	5.86	8.34	15.45	19.60
美国	40.16	34.51	31.06	28.98	27.18	36.08	35.49
互联网用户(%)							
中国	0.05	0.15	5.77	11.19	22.64	22.80	22.88
美国	75.75	63.18	31.79	19.96	11.30	9.93	9.80
总体知识资源(%)							
中国	0.86	1.28	3.92	8.45	15.55	19.65	22.20
美国	39.90	36.63	27.85	24.28	21.34	22.71	22.45

——胡鞍钢等《对中美综合国力的评估(1990-2013年)》

(4) 依据材料四,指出1990年以来中国“知识技术资源占世界的比重”发生了怎样的变化?(2分)请结合当代中国的社会发展状况,说明为什么会发生这样的变化?(1分)

33. (9分) 社会主义:理论与实践

【理论诞生】

《共产党宣言》是社会主义从空想到科学的重要标志,它的问世标志着马克思主义的诞生。



材料一 19世纪三、四十年代,欧洲连续爆发了法国里昂丝织工人起义、英国宪章运动、德国西里西亚纺织工人起义。1848年2月21日,受共产主义者同盟第二次代表大会委托,马克思和恩格斯共同起草的《共产党宣言》在伦敦出版。此时正好赶上1848年欧洲革命爆发,油墨未干的书籍立即分发到各国的同盟盟员手里,成为工人的思想武器。《共产党宣言》指出,资本主义必然灭亡,共产主义必然胜利。这个历史使命的承担者是无产者,而无产者要实现这个使命,必须推翻资产阶级,使自己上升为统治阶级。

(1)依据材料一,说明国际工人运动与马克思主义诞生之间的相互关系。(2分)

【苏联道路】

俄国十月革命胜利后,在世界上建立了第一个社会主义国家,将社会主义的理想变成了现实。

材料二




图1
斯大林格勒拖拉机厂



图2
攻占冬宫



图3
戈尔巴乔夫发表电视讲话



图4
斯大林格勒战役

(2)按照历史发展的先后顺序,排列上述图片。(1分)

材料三 在资本主义包围的特定历史条件下,形成和发展起来的苏联模式,曾经有效地调动了人力、物力,使苏联在建设社会主义和反法西斯战争中,建立了不可磨灭的历史功勋。但由于它并没有把自己“是在经济文化比较落后的基础上建设社会主义”这样一个事实当作总的依据,因此在经济政治体制和发展战略等方面,有许多缺陷和弊端,特别是在时代主题发生转换的情况下,仍然思想僵化,没有及时进行调整。它导致在20世纪70年代以后苏联经济就不断地滑坡,使戈尔巴乔夫得以在“改革与新思维”的名义下改旗易帜,背离社会主义的根本制度,跟西方资本主义,从思想上、政治上、经济上搞“一体化”,把苏联一步一步地推向剧变解体。

——徐崇温

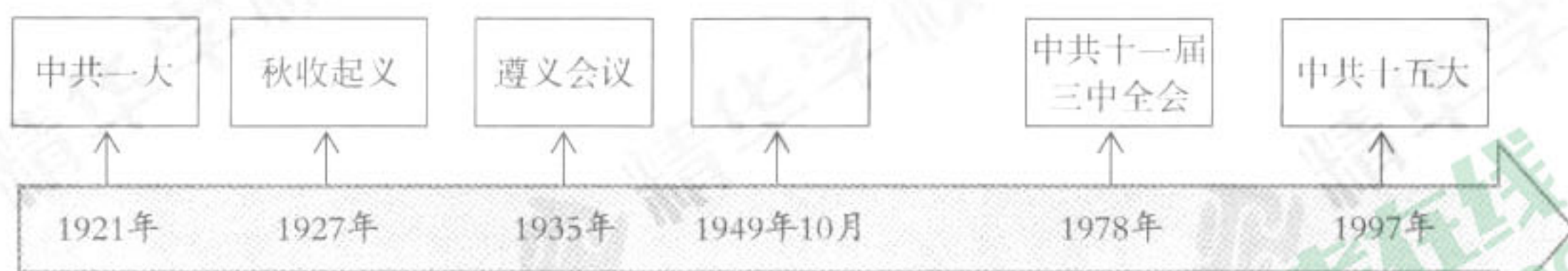
(3)依据材料三,谈谈作者对苏联模式的看法。(2分)

【中国道路】

中国共产党把马克思主义的普遍真理同中国的具体实际相结合,探索出了自己的道路。

(4)下面年代尺与中国共产党领导人民进行革命和建设的历程相关,其中与1949年对应的方框内应该填写_____。(1分)





(5) 从以下表格中任选一个主题,运用上面年代尺中的相关事件,说明该事件与主题的关系。(3分)

主题	事件	说明
开始探索适合中国实际的革命道路		
开始探索中国特色社会主义道路		

34. (9分) 某校初三学生分成两个小组,围绕“国家统一和民族团结”主题展开综合实践探究。

西藏组

小赵同学为梳理历代中央政府对西藏地区的有效管辖,将收集到的图文资料制作成卡片。

卡片1 宣政院印



在中央设立宣政院,负责管理藏族地区军民各项事务。

卡片2 文成公主和松赞干布塑像



卡片3 顺治帝会晤五世达赖图



1653年,顺治帝正式赐予五世达赖金册、金印和“达赖喇嘛”的封号。

卡片4 掣签用的金本巴瓶



金瓶掣签制度是藏传佛教认定达赖、班禅等活佛转世灵童的法定制度。1793年,清政府以法律形式肯定了这一制度。



卡片5 平定大小和卓叛乱图



乾隆时期平定了大小和卓的叛乱，加强了对边疆地区的管辖。

卡片6 驻藏大臣令牌



驻藏大臣代表中央督办藏内事务，地位与达赖喇嘛、班禅额尔德尼平等。

(1) 请帮助小赵同学对以上卡片进行判断、选择，并填入下列表格中的恰当位置。(2分)

古代历史上中央政府对西藏地区有效管辖简表

朝代	基本史实	结论
	卡片1	中央政府对西藏实行了长期有效的管辖，西藏是中国不可分割的一部分
清朝		

(2) 中华人民共和国成立以来，少数民族地区各项事业取得了长足的发展。以下是小钱同学收集到的相关资料，他准备按照三部分内容进行展示，请帮助他完成资料的分类。(3分)

- ①北京市援助西藏建设环保建材厂
- ②中国人民政治协商会议第一届全体会议少数民族代表合影
- ③1953年第一届全国少数民族传统体育运动会
- ④第一个五年计划中修建了青藏、川藏、新藏公路，2006年通往拉萨的青藏铁路通车
- ⑤整理编纂《中国少数民族古籍总目提要》
- ⑥新疆维吾尔自治区人大代表接受记者采访

第一部分 当家作主

第二部分 发展经济

第三部分 保护民族文化



台湾组

小孙、小李同学研究了台湾问题的由来及解决台湾问题的现实意义,她们收集了如下资料:

解决台湾问题、实现祖国完全统一,是全体中华儿女共同愿望,是中华民族根本利益所在。

体现一个中国原则的“九二共识”明确界定了两岸关系的根本性质,是确保两岸关系和平发展的关键。承认“九二共识”的历史事实,认同两岸同属一个中国,两岸双方就能开展对话,协商解决两岸同胞关心的问题,台湾任何政党和团体同大陆交往也不会存在障碍。

两岸同胞是命运与共的骨肉兄弟,是血浓于水的一家人。我们秉持“两岸一家亲”理念,尊重台湾现有的社会制度和台湾同胞生活方式,愿意率先同台湾同胞分享大陆发展的机遇。我们将扩大两岸经济文化交流合作,实现互利互惠,逐步为台湾同胞在大陆学习、创业、就业、生活提供与大陆同胞同等的待遇,增进台湾同胞福祉。我们将推动两岸同胞共同弘扬中华文化,促进心灵契合。

——节选自《中共十九大报告》

(3) 依据材料,指出促进海峡两岸和平统一的政治基础是什么?(1分)

(4) 近年来,海峡两岸的经济文化交流日益密切。依据上述材料,说出海峡两岸经济、文化交流迅速发展的因素有哪些?(3分)



北京市西城区 2018 年九年级模拟测试

历史试卷答案及评分标准

2018.5

第一部分 选择题(共 45 分)

题号	1	2	3	4	5	6	7	8	9	10
答案	D	C	B	B	D	B	C	C	D	A
题号	11	12	13	14	15	16	17	18	19	20
答案	D	B	A	D	C	D	A	C	B	B
题号	21	22	23	24	25	26	27	28	29	30
答案	B	C	A	B	B	C	C	D	D	A

第二部分 非选择题(共 45 分)

31. (共 15 分)

(1) ②、⑤、⑧(答对三项才能给分,1 分)

(2) ①√;②√;③×;④○(4 分)

(3) ①大化改新;②明治维新(2 分)

相同点:日本历史上的两次改革都学习借鉴了当时先进的外国文化;都推动了日本社会的进步(或都改变了日本社会的性质);都从政治、经济等方面进行了改革。(答出任意两点即可得分,2 分)

(4) 洋务运动。(1 分)

日本全面向西方学习;中国只是学习西方的技术。(2 分)

(5) 图 1、图 3、图 4(答对三项才能给分,1 分)

对其中一幅选择的图片,说明理由:(1 分)

赋分示例:

图 1:适应解放农村生产力发展的需要,满足了农民获得土地的愿望。

图 3:关于真理标准问题的大讨论,使人们认识到只有实践才是检验真理的唯一标准,解放了人们的思想。

图 4:依据生产力发展水平,采取家庭联产承包制,调动农民积极性。

(6) 诚信;坚定;善于学习先进文化;务实精神、创新精神、开拓精神等(至少答出两点,1 分)

32. (共 12 分)

(1) 从上到下依次是:③、①、④、②(4 分)

(2) (3 分)

高铁动车	—	工业革命
内燃机车	—	第二次工业革命
蒸汽机车	—	第三次科技革命

(3) 领先世界;与人类的生命和健康息息相关;科技的重大创新。(答出任意两点即可得分,2 分)

(4) 变化:由占世界比重较低到逐步增长;与美国的差距由较大到逐步缩小;在某些方面超过



美国。(答出两点即可,2分)

原因:政治稳定;经济发展;国家实施改革开放的决策;政府重视科教事业等。(答出任意一点即可,1分)

33. (共9分)

(1) 国际工人运动的发展需要先进理论的指导;(1分) 马克思主义的诞生为国际工人运动提供了思想武器。(1分)

(2) 图2;图1;图4;图3(1分)

(3) 苏联模式使苏联在建设社会主义和反法西斯战争中,建立了不可磨灭的历史功勋;(1分)

苏联模式存在的缺陷和弊端没有及时得到调整,最终把苏联推向解体。(1分)

(4) 中华人民共和国成立,或开国大典。(1分)

(5) 依据主题选取正确历史事件;能够联系史实,说明该事件与主题的关系。(3分)

赋分示例:

主题	事件	说明
开始探索适合中国实际的革命道路	秋收起义(1分)	毛泽东领导秋收起义,创建了井冈山革命根据地,(1分)开辟了工农武装割据、农村包围城市、武装夺取政权的革命道路(1分)
开始探索中国特色社会主义道路	中共十一届三中全会(1分)	中共十一届三中全会作出把党和国家的工作重心转移到经济建设上来,实行改革开放的伟大决策,(1分)中国进入社会主义现代化建设的新时期(1分)

34. (共9分)

(1) 元朝(1分);卡片3、卡片4、卡片6(答对三项才能给分,1分)

(2) 第一部分 当家作主②、⑥;(答对两项才能给分,1分)

第二部分 发展经济①、④;(答对两项才能给分,1分)

第三部分 保护民族文化③、⑤;(答对两项才能给分,1分)

(3) 坚持一个中国的原则。(1分)

(4) 海峡两岸血浓于水的亲缘关系;一脉相承的文化传统;中央政府对台政策的有力保障;符合海峡两岸同胞的共同愿望。(答出任意三点即可,3分)

