



北京市西城区九年级模拟测试

道德与法治试卷

2020.6

考生
须知

1. 本试卷共 10 页，共两部分，26 道小题，满分 90 分。考试时间：90 分钟。
2. 在试卷和答题卡上准确填写姓名、准考证号、考场号和座位号。
3. 试题答案一律填涂或书写在答题卡上，在试卷上作答无效。
4. 在答题卡上，选择题用 2B 铅笔作答，其他试题用黑色字迹签字笔作答。
5. 考试结束，将本试卷、答案卡和草稿纸一并交回。

第一部分 选择题（共 40 分）

本部分共 20 小题，每小题 2 分，共 40 分。在每小题列出的四个选项中，选出最符合题目要求的一项。

1. 2020 年 5 月 5 日，为我国载人空间站工程研制的_____运载火箭首飞成功，拉开了我国载人航天工程“第三步”任务序幕。
A. 天舟一号
B. 快舟一号甲
C. 神舟十一号
D. 长征五号 B
2. 第十三届全国人民代表大会第三次会议表决通过了_____。这部法律自 2021 年 1 月 1 日起施行。这部法律被誉为“社会生活的百科全书”“保障民事权利的宣言书”。
A. 《中华人民共和国外商投资法》
B. 《中华人民共和国民法总则》
C. 《中华人民共和国民法典》
D. 《中华人民共和国密码法》

3. 右图内容启示我们

- A. 唯有竞争才能让友谊稳固持久
- B. 正确认识自己是为了在竞争中获胜
- C. 竞争需要分出高低胜负，会影响友谊
- D. 竞争中接受朋友的成就，激励自己，会收获更多






4. 当我们快乐的时候，可能会感到精力充沛，对新鲜事物充满好奇；当我们悲伤的时候，可能会觉得沮丧、泄气，无心投入学习工作。这启示我们

- ①要积极主动调控情绪
- ②人与人之间的情绪会相互感染
- ③情绪会影响人们的想法和行动
- ④情绪受多方因素影响，个人无法把控

A. ①② B. ①③ C. ②④ D. ③④

5. 右图内容提示我们

- A. 每个家庭的亲情表现不尽相同
- B. 步入青春期，孩子更乐于独立思考
- C. 缺乏有效的交流沟通，不易化解亲子矛盾
- D. 事事顺从父母才能构建平等、民主的家庭氛围



6. 下列同学的做法符合“行己有耻”要求的是

- ①小强每天进入校园前都会自觉关闭手机
- ②小峰拒绝了好友考试时传递答案的要求
- ③小涛总以各种理由为自己不完成作业开脱
- ④小刚上学迟到，向值周生谎报自己所在班级

A. ①② B. ①③ C. ②④ D. ③④

7. 新冠肺炎疫情期间，同学们通过“空中课堂”“直播教学”等在线方式进行课程学习，通过亲自下厨掌握了一两道拿手菜，通过实际操作掌握了制作视频的技能。这些说明

- A. 保持对学习的兴趣，才能学会学习
- B. 经历了学习的辛苦，就能收获学习的成果
- C. 既要重视书本知识的学习，也要坚持在实践中学习
- D. 网络教学为学生获取知识提供了便利，必将替代教师



8. 一位房东考虑到新冠肺炎疫情期间城市停工停产给租户带来的生活困难，主动提出免收租户两个月房租。房东表示，自己之前被确诊新冠肺炎，得到了医护人员的细心护理。他很感念这份帮助，希望为城市做点事情。房东的决定

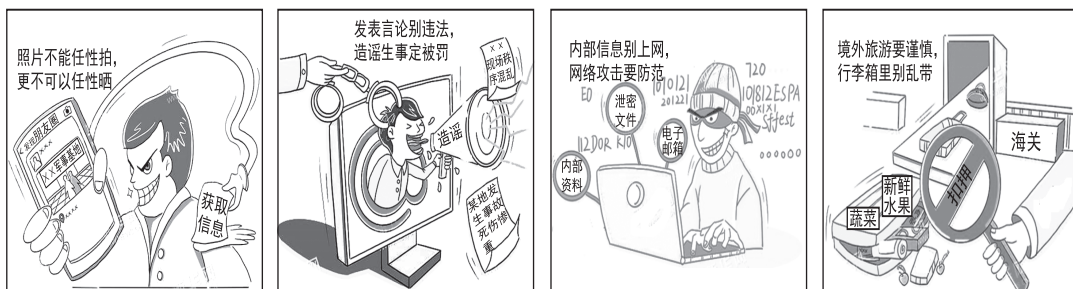
- ①是关爱他人、回馈社会的表现
- ②展现追求“止于至善”的精神境界
- ③说明人的身份是在社会关系中确定的
- ④表明每个人都要遵守社会规则

A. ①② B. ①③ C. ②④ D. ③④

9. 新冠肺炎疫情发生以来，我国采取的所有防控措施首先考虑的是尽最大努力防止更多群众被感染，尽最大可能挽救更多患者生命。上至 108 岁的老人，下至出生仅 30 个小时的婴儿，不放弃每一名患者。全力救治每一个生命

- ①彰显了国家尊重和保障人权
- ②展现了坚持生命至上的价值追求
- ③体现了我国宪法保护的人权内容很广泛
- ④表明了保障人权是我国立法活动的基本要求

A. ①② B. ①③ C. ②④ D. ③④



10. 上面四幅图共同反映的主题是

- A. 维护社会秩序，保障个人权益
- B. 提高媒介素养，理性参与网络生活
- C. 评估承担责任的代价，作出合理选择
- D. 增强国家安全意识，自觉维护国家安全



11. 下列对热点新闻解读正确的是

	热点新闻	解读
①	北京市政府将 12345 便民电话中管辖权清晰的群众诉求直接派给街道（乡镇），畅通了渠道，提高了效率。	权力机关全心全意为人民服务
②	2019 年，我国民族地区生产总值达到 100452.1 亿元，同比增长 6.8%，高于全国 0.7 个百分点；贫困人口下降到 119 万人，贫困发生率下降到 0.79%。	我国坚持各民族共同繁荣
③	世界知识产权组织表示，2019 年中国超过美国成为该组织《专利合作条约》框架下国际专利申请量最多的国家。	我国已经跻身科技创新强国行列
④	国家从最大限度降低新冠肺炎疫情对考生特别是农村和贫困地区考生复习备考的影响等角度出发，明确 2020 年全国高考延期一个月举行。	国家最大限度地保障教育公平

- A. ①② B. ①③ C. ②④ D. ③④

12. 某企业生产的洗衣机加载了“超声波+电解+活氧”3种组合技术，达到快速杀菌消毒、去污除臭的效果。该企业在生产这种功能洗衣机上拥有的技术优势，让其在新冠肺炎疫情期间的海外订单量不减反增。这表明

- A. 出口企业更需要提升创新能力
B. 提升创新能力是企业参与市场竞争的制胜之道
C. 创新不只是灵光乍现的顿悟，还需要持续的积累
D. 企业的生产既受全球经济影响，也会影响全球经济

13. 李克强总理在第十三届全国人民代表大会第三次会议上代表国务院向大会作政府工作报告，提请全国人大代表进行审议，并请全国政协委员提出意见。这表明

- A. 人民代表大会是我国的根本政治制度
B. 人民政协依法行使重大事项决定权
C. 人民代表大会对人民负责，受人民监督
D. 政府对人民代表大会负责，受人民代表大会监督



14. 新修订的《中华人民共和国公务员法》在不得录用为公务员的条件中增加了“依法被列为失信联合惩戒对象的”规定。新增加的规定

- ①说明诚信是一项民法原则，要求人们不轻易许诺
- ②表明社会生活是复杂的，要权衡利弊，运用诚信智慧
- ③有利于弘扬社会主义核心价值观，引领社会良好道德风尚
- ④进一步证明诚信是个人安身立命之本，要珍惜个人诚信记录

A. ①② B. ①③ C. ②④ D. ③④

15. 文明礼貌是维系社会正常生活的道德行为规范，是沟通人与人之间情感的桥梁。下列行为体现文明有礼的是

- ①患者无视前面有人正在挂号，挤到挂号窗口咨询问题
- ②小峰去办公室找老师，进门时先敲门，离开时说“老师再见”
- ③小明感冒不戴口罩，乘坐地铁时没有遮拦地咳嗽、打喷嚏
- ④司机主动停车让行人过马路，行人速过马路并向司机投以微笑

A. ①② B. ①③ C. ②④ D. ③④

16. 劝导右图中的讨债者，下列表达合理的是

- ①维护权利本无错，非法拘禁要担责
- ②解决纠纷靠法律，违反法律是犯罪
- ③权利义务相统一，依法维权放第一
- ④欠债还钱没有错，解决问题最重要



A. ①② B. ①③ C. ②④ D. ③④

17. 一位法学院教授在回忆学习宪法的经历时说道，“最开始认为宪法是治国平天下的学问，随着学习的深入，越发认识到宪法不仅是治国平天下的学问，还是每个公民保护自己合法权益的武器。”教授的表达告诉我们

- A. 国家权力必须在宪法和法律限定的范围内行使
- B. 宪法是公民权利的保障书，是治国安邦的总章程
- C. 宪法具有最高法律效力，其他法律不得与宪法原则相违背
- D. 宪法是国家法制统一的基础，其他法律是对宪法规定的具体落实



2015年10月，中国共产党第十八届五中全会提出，促进人口均衡发展，坚持计划生育的基本国策，完善人口发展战略，全面实施一对夫妇可生育两个孩子政策，积极开展应对人口老龄化行动。2015年12月，十二届全国人大常委会第十八次会议通过修改《中华人民共和国人口与计划生育法》的决定，对《中华人民共和国人口与计划生育法》作出修改，规定国家提倡一对夫妻生育两个子女。

18. 小静想对上述内容做点评，以下可以作为点评要点的是
- ①我国推行计划生育，使人口增长同经济和社会发展计划相适应
 - ②人口增速趋缓、出生率低、老龄化加剧是我国人口现状的基本特点
 - ③我国人口众多的基本国情已经改变，人口对经济社会发展的压力已经消除
 - ④走中国特色社会主义法治道路，要坚持党的领导、人民当家作主、依法治国有机统一
- A. ①② B. ①④ C. ②③ D. ③④
19. 中华文明为人类社会进步作出了巨大贡献，如造纸术和印刷术加速了欧洲的文艺复兴和宗教改革运动，指南针引领欧洲航海业的发展和世界市场的开拓。独具特色的西方文明高扬科学与理性旗帜，在文明交流中为我们带来新的思维和科学技术文化。这些说明
- A. 文明因交流而多彩，因互鉴而丰富
 - B. 文明交流互鉴是维系世界和平的纽带
 - C. 中华文化独具魅力，影响力日益增强
 - D. 实现文明间的交流互鉴，平等尊重是关键
20. 右栏信息说明
- ①我国已经成为世界经济发展的引擎与稳定器
 - ②我国以务实的行动践行人类命运共同体理念
 - ③我国全方位参与全球治理，主动承担国际责任
 - ④发展中国家与发达国家之间依然存在较大差距
- A. ①② B. ①④ C. ②③ D. ③④

<p>加大发展援助</p> <p>➢ 1950年至2016年，中国累计对外提供援款4000多亿元人民币</p>	<p>提升发展能力</p> <p>➢ 2013年至2017年，中国在“一带一路”沿线国家建设的经贸合作区，带动东道国就业超过20万人</p>
<p>开展人道救援</p> <p>➢ 自2004年以来，中国累计提供国际人道援助300余次</p>	<p>维护世界和平</p> <p>➢ 截至2018年5月，中国累计派出维和军事人员3.7万余人次、维和警察2700余人次，参加约30项联合国维和行动</p>

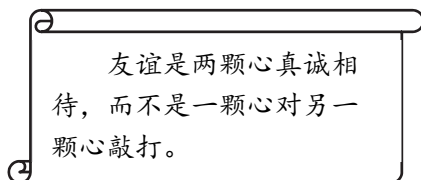
数据来源：《改革开放40年中国人权事业的发展进步》白皮书



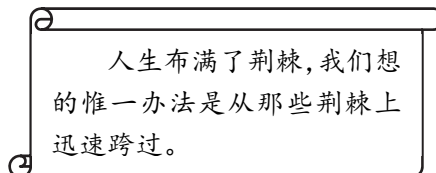
第二部分 非选择题（共 50 分）

21. （4分）

又到一年毕业季，学校准备开展“寄语学弟学妹”活动，请即将毕业的初三学生推荐一句名言警句，鼓励学弟学妹们过好初中生活。



①



②

请从上述名言警句中选择一句推荐给学校，运用所学知识写出推荐理由。（4分）

22. （6分）

冬日放学路上，公交车司机通过车载监控发现一名学生正趴在公交车座椅上写作业。在等红灯的间隙，司机快步走到学生身边，提醒她蹲在那里写作业不安全。学生微笑着对司机说：“知道了，谢谢您！”学生收起作业，坐到座位上开始看书。司机见此情景打开车厢灯为学生照明。学生临下车前，给司机递了张纸条并鞠躬感谢。司机打开纸条，感动涌上心头，纸条上写着“谢谢叔叔，我要回家照顾妈妈，所以在车上写作业。谢谢您为我开灯。”

运用所学知识，为上述新闻写一则短评。（6分）

23. （16分）

《北京市文明行为促进条例》于2020年6月1日起施行。该条例的立法起草小组贯彻“开门立法”原则。法规起草前，在全市开展社会问卷调查，在充分吸纳调查结果的基础上起草了《北京市文明行为促进条例(草案征求意见稿)》。法规起草过程中，不仅征求区人大、政府部门及专家意见，还通过市人大常委会网站等媒体公开征求社会意见。法规一审后，继续向市、区人大代表、政协委员征求意见，并及时整理吸纳……

(1) 运用所学知识，说明《北京市文明行为促进条例》的立法工作贯彻“开门立法”的意义。（6分）



北京在园林绿化过程中提出选择树种要坚持乡土、长寿、食源等原则。“乡土”，就是本地有自然分布的植物，乡土植物在相对固定的生态系统里进化出了一整套适合环境的生存策略。“长寿”，就是能活得长久的植物。早些年，北京为了快速增绿，使用了大量速生树种，这类树种生长快、绿量足，但是寿命短，到了一定年限就要更新。“食源”，就是考虑植物配置对动物生存的影响，种植能给小动物提供花蜜、果实等“口粮”的植物。

(2) 运用所学知识，说明北京选择树种的原则带给我们在共建生命家园方面的启示。(4分)

《北京市推进全国文化中心建设中长期规划(2019年-2035年)》中提出，建设全国文化中心要坚持古都文化、红色文化、京味文化、创新文化“四个文化”基本格局，着力做好首都文化这篇大文章。

某班计划以“文化北京”为主题出一期展板，以下是展板的内容，请你参与完成。

四个文化	推荐活动	结束语要点
古都文化	①	☆培育和践行社会主义核心价值观。
红色文化	②	☆ ☆
京味文化	开展《骆驼祥子》《茶馆》课本剧展演	☆ ☆
创新文化	参观北京某大型现代物流基地	……

(3) 参照已有推荐，补全推荐活动，以便同学们更好地感悟“四个文化”。(2分)

(4) 结合文化的相关知识，参照示例，为这期展板的结束语增补4个要点，说明坚持“四个文化”基本格局的意义。(4分)




24. (6分)

消防通道是指消防人员实施营救和被困人员疏散的通道,人们又称其为生命通道。

近年来,小区居民占用、堵塞消防通道影响消防救援,造成人员伤亡的情况屡有发生。在被问及占用、堵塞原因时,一些居民给出了以下说法:

- ☆别人占用都安然无恙,自家车暂时停在消防通道应该没大碍。
- ☆占用消防通道最多罚款500元,不足以警示占用的人。
- ☆担心自己的电动车会被雨淋湿,所以才把电动车放在楼道。
- ☆小区车多,车位少,没办法,只能停在消防通道。



相关链接:

《中华人民共和国消防法》第六十条规定,个人占用、堵塞、封闭疏散通道、安全出口或者有其他妨碍安全疏散行为的,处警告或者五百元以下罚款。个人占用、堵塞、封闭消防车通道,妨碍消防车通行的,处警告或者五百元以下罚款。

《中华人民共和国消防法》第七十二条规定,违反本法规定,构成犯罪的,依法追究刑事责任。

运用依法治国的知识,为“畅通生命通道”提出合理建议。(6分)

25. (10分)

某校组织开展“走进不同职业,感悟劳动价值”的社会实践活动,以下是同学们参加活动后的感悟。

职业	感悟
警察	指导我的民警负责一个社区的工作,小到邻里间的矛盾,大到违法案件,他都要管。我跟着他走街串巷,真切感受到警察是在基层忙碌、维护公共安全的人民公仆。
环卫工人	200多米长的街道,铲除地上的口香糖,我用了1个多小时才弄完,拿铲子的手也磨出了血泡。环卫工人的辛劳付出带给了我们美好的环境,我们不随意乱扔垃圾就是对他们最大的支持和关爱。
科研人员	我从一个个小细节中切身体会到科研工作的严谨,了解到科研创新的不易。“有目标、敢于探究、严谨、不怕苦、经得起失败……”这些都是科研人员具备的品质。

(1) 运用所学知识,说明同学们参加此次社会实践活动的意义。(6分)



生涯规划课上，老师讲述了抗击新冠肺炎疫情期间救死扶伤、守护生命的医生，闻令而动、敢于担当的军人，夜以继日、协同攻关的科研工作者，加班加点、不辞劳苦的快递小哥、抗疫物资运输司机，舍小家、为大家的社区工作者、公安干警、新闻工作者的感人事迹，鼓励同学们在未来的职业规划中以这些最美逆行者、守护者为榜样。

同学甲

“见贤思齐焉，见不贤而内自省也。”在未来的职业规划中要寻找“贤”，将他们作为榜样。

同学乙

突如其来的新冠肺炎疫情让我们不知所措，以后的一切都是未知，我们对未来作出规划没有意义。

(2) 请从同学甲或乙的观点中任选其一，辨别正误，并说明理由。(4分)

26. (8分)

材料一 中华人民共和国成立70多年来，民生改善成为中国发展成就中的一道靓丽风景。

改善一	改善二	改善三
2019年末，我国城镇新增就业1352万人，连续7年保持在1300万人以上。国家开展职业技能培训，提升中低技能劳动者就业能力，让更多人拥有一技之长。各级政府维护劳动者合法权益，适时适度提高最低工资标准，让经济增长的同时实现收入同步增长。	1978年，我国没有什么高速公路，更没有高铁，人们出行很不方便。随着我国基础设施大大改善，截至2019年底，我国高铁运营里程达到3.5万公里，占世界高铁运营里程的70%。高速公路、桥梁、机场等都创造了一系列的世界第一。	2018年末，我国基本养老保险覆盖超过9亿人，医疗保险覆盖超过13亿人，基本实现全民医保。2018年，全国城镇棚户区住房改造开工609万套，棚户区改造基本建成604万套，公租房基本建成82万套。越来越多的住房困难家庭圆了安居梦。

(1) 从以上三个方面的改善中任选其一，运用所学知识，谈谈改善取得的具体原因和积极影响。(4分)

材料二 2020年，我国将全面建成小康社会、实现第一个百年奋斗目标，开启实现第二个百年奋斗目标新征程。实现中华民族的伟大复兴，必须坚持中国共产党对一切工作的领导，坚持……

(2) 对材料二的内容进行续写，50字左右。(4分)