

历史试卷

2018.6

学校 _____ 班级 _____ 姓名 _____ 考号 _____


考生须知	1. 本试卷共 12 页,共 90 分。考试时间 90 分钟。 2. 在试卷和答题卡上准确填写学校、班级、姓名和考号。 3. 试题答案一律填涂或书写在答题卡上,在试卷上作答无效。 4. 在答题卡上,选择题用 2B 铅笔作答,其他试题用黑色字迹签字笔作答。 5. 考试结束,将本试卷、答题卡一并交回。
------	---

一、选择题(共 30 小题,每小题 1.5 分,共 45 分。在下列各题的四个选项中,只有一项符合题意)

- 北京是目前世界上拥有世界遗产项目数最多的城市,周口店北京猿人遗址是北京七大世界文化遗产之一。下列能展现北京人生产、生活面貌的史实是
 A. 饲养猪狗等家畜 B. 会使用天然火 C. 建造干栏式房屋 D. 从事农业耕作
- 夏商西周时期,我国的青铜工艺在世界上独树一帜。下列文物能反映商朝青铜工艺成就的是



A



B



C



D

- 清人吴文锡描述中国古代一项水利工程:“龙是何年伏,江流滚滚来。神功名永著,山势斧分开。作堰敢辞瘁,慰农愧少才。眷言秦太守,一步一低回。”此诗的名字是
 A.《永济渠》 B.《灵渠》 C.《都江堰》 D.《大运河》
- 秦始皇和汉武帝是中国古代著名的政治家,他们都采取了一系列措施巩固统治。下列措施属于后者实施的是

①将“小篆”作为全国规范统一的文字
②“罢黜百家,独尊儒术”
③“废分封,行郡县”
④颁布“推恩令”

- A. ①② B. ③④ C. ②③ D. ②④
- 我们常用“华佗再世”赞誉医生的医术高明,华佗的突出贡献有
 ①制成“麻沸散” ②著有《伤寒杂病论》 ③著有《本草纲目》 ④创编“五禽戏”
 A. ①② B. ①④ C. ②③ D. ③④



6. 某同学查阅了有关“赤壁之战”“三国鼎立”“人口南迁”“北魏孝文帝改革”等历史资料,他探究的主题是
- A. 先秦时期历史的演进
B. 秦汉的大一统局面
C. 政权分立与民族交融
D. 繁荣与开放的社会

7. 《英国大百科全书》中提到:“我们所知道的最早的考试制度,是中国所采用的选举制度,及其定期举行的考试。”这种“最早的考试制度”是
- A. 分封制
B. 郡县制
C. 行省制
D. 科举制

8. 右图是河南某纪念馆山门处一副对联:“陈桥兵变奠宋代基业,黄袍加身定赵氏乾坤。”它所描述的古代帝王是
- A. 隋文帝
B. 唐太宗
C. 宋太祖
D. 元世祖



9. 某校举办宋代历史专题手抄报比赛。下面某位同学准备的资料能够反映出宋代

学习卡片

从越南引进的占城稻在南方普遍种植;

北方的粟、麦、黍、豆等在南方种植日渐增多;

棉布成为长江下游地区的著名土特产



浙江哥窑鱼耳炉



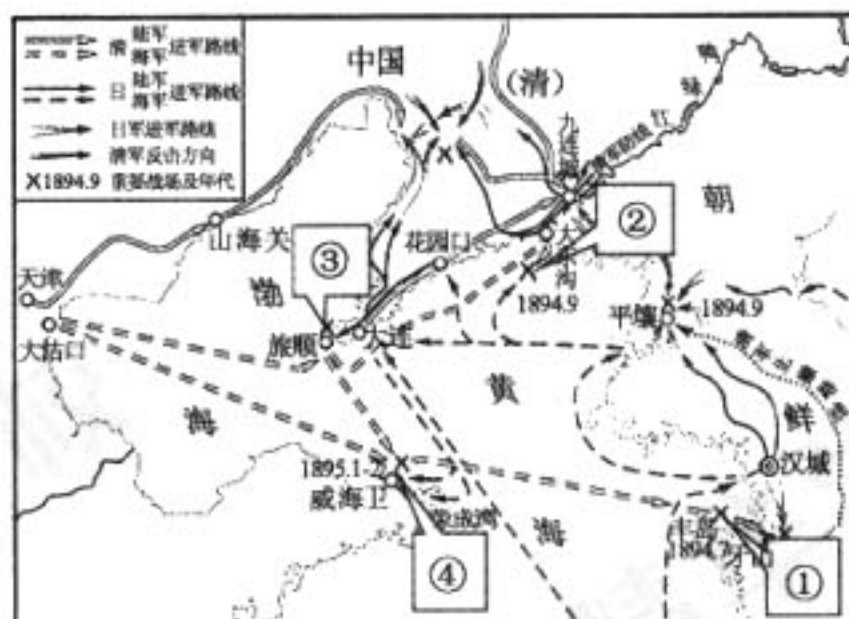
南宋纸币“会子”

- A. 南方经济的繁荣
B. 发达的农业生产
C. 手工技艺的高超
D. 独特的活字印刷
10. 右图是某同学在研究性学习中使用的—幅地图(部分)。据此判断,他研究的课题是
- A. 秦朝疆域
B. 宋朝疆域
C. 元朝疆域
D. 明朝疆域



11. 明朝废除丞相,由六部分理朝政和清朝设立军机处的主要目的都是为了
- A. 促进中外交往
B. 加强君主专制
C. 提高行政效率
D. 扩大地方权力
12. 在我国山东、浙江和福建等沿海省市共有十多处戚继光雕像及纪念馆,主要是纪念他
- A. 荡平东南沿海倭寇
B. 收复台湾全部领土
C. 平定大小和卓叛乱
D. 抗击沙皇俄国入侵

13. 在中国社科院公布的 2015 年六项考古新发现中,致远舰的发现入选其中。依据史实判断致远舰的发现地点应在右图中的



- A. ①
B. ②
C. ③
D. ④



14. 下图 1 是湖北一座纪念馆内的陈设,图 2 是人民英雄纪念碑八幅浮雕之一,它们共同描绘的历史事件是



图 1



图 2

- A. 武昌起义 B. 北伐战争 C. 抗日战争 D. 解放战争


15. “它标志着中国人,至少是中国知识分子特别是青年学生意识的觉醒,是 1840 年以来中国青年知识分子群体第一次全身心地投入,由此揭开了中国历史的新篇章,即中国的政治已扩大到了知识分子阶层特别是青年学生层面”。“它”指的是

- A. 戊戌变法 B. 辛亥革命 C. 新文化运动 D. 五四运动

16. 1947 年毛泽东饱含激情地说:“人民解放军的主力已经打到国民党统治区里去了……这是一百多年来帝国主义在中国的统治由发展到消灭的转折点。”体现这一战略方针的军事行动是

- A. 转战陕北 B. 挺进大别山 C. 淮海战役 D. 渡江战役

17. 近代教育和文化事业得到很大发展。下面四幅图片中不能反映这种变化的是



A



B



C



D

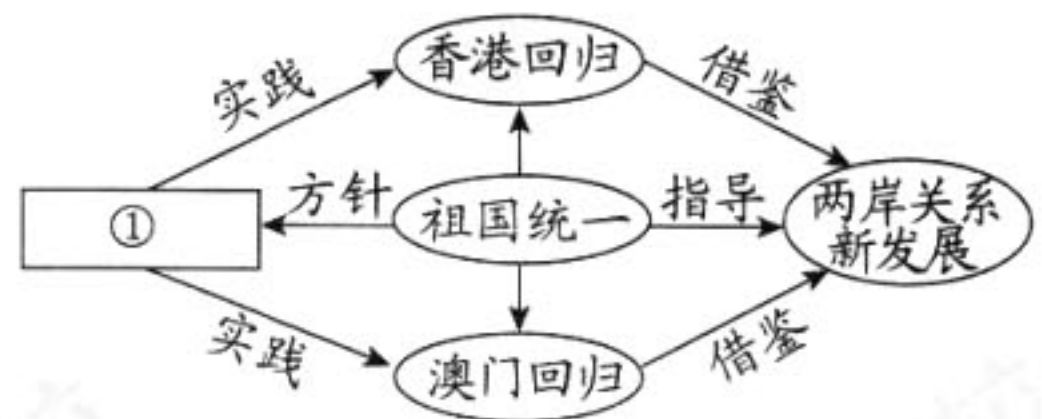
18. 近代优秀的文艺作品层出不穷。右表中三位著名画家和音乐家的代表作都创作于

- A. 新文化运动时期 B. 五四运动时期
C. 抗日战争时期 D. 抗美援朝时期

人物	作品
徐悲鸿	《愚公移山》
聂耳	《义勇军进行曲》
冼星海	《黄河大合唱》

19. 某同学在学习一个历史专题时,设计了如下的知识结构图。据此判断图中①处应填写的是

- A. 新中国的外交成就
B. “一国两制”伟大构想
C. 改革开放政策的实施
D. 中国特色社会主义建设



20. 公元前 5 世纪后半期,雅典奴隶主民主政治达到极盛。下列说法正确的是

- A. 雅典主要以农业为主,崇尚武力 B. 国家各级官职向雅典居民开放
C. 规定国家一切权力属于全体公民 D. 雅典法律规定妇女也可以参政



21. 布克哈特说：“在中世纪的欧洲，人类意识处在一层纱幕之下，这层纱幕是由信仰、幻想和幼稚的偏见织成的。在意大利，这层纱幕最先烟消云散。”下列历史事件与这一观点相符的是

- A. 文艺复兴
- B. 新航路开辟
- C. 美国内战
- D. “光荣革命”

22. “乘船在悲惨的中程航段中横渡大西洋。这些黑色的货物上了镣铐，锁在甲板上，没有卫生设备，他们忍受着可怕的待遇。”与这段描述相关的历史事件是

- A. 哥伦布发现美洲
- B. 殖民者的“三角贸易”
- C. 英国向中国走私鸦片
- D. 麦哲伦船队环球航行

23. 约翰·亚当斯曾盛赞道：“华盛顿的行动很感人……为了国家的事业，他抛弃了养尊处优的生活，离开了家人和朋友，牺牲了自己的舒适环境，把这一切都拿来孤注一掷。”华盛顿的行动是指

- A. 出任美国首任总统
- B. 签署了《宅地法》
- C. 不再连任美国总统
- D. 领导美国独立战争

24. 下列关于《权利法案》、《独立宣言》和《人权宣言》共同点的说法准确的是

- A. 都反对封建专制统治
- B. 都反映了资产阶级的要求
- C. 都是民族独立的号角
- D. 都有利于法制化社会发展

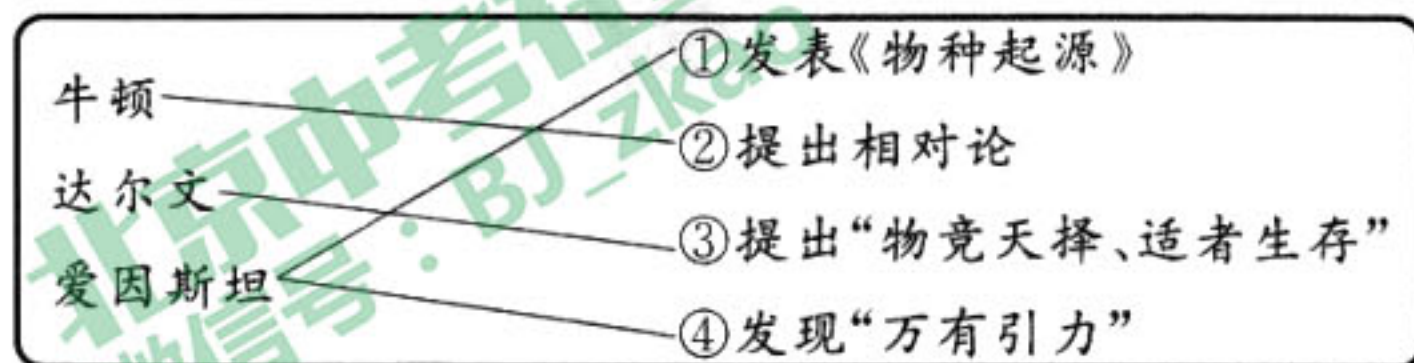
25. 某同学对第一次工业革命进行复习总结，其中归纳正确的是

- ①首先发生在美国
 - ②使人类进入“电气时代”
 - ③促进社会生产力的发展
 - ④大机器生产取代手工劳动
- A. ①②
 - B. ②③
 - C. ③④
 - D. ①④

26. “生命诚可贵，爱情价更高，若为自由故，二者皆可抛。”裴多菲的自由宣言表达了人们对自由的无限向往。下列历史人物中因“捍卫民族的独立和自由”而永载史册的是

- ①章西女王
 - ②屋大维
 - ③玻利瓦尔
 - ④克伦威尔
- A. ①②
 - B. ①③
 - C. ②③
 - D. ②④

27. 下面是某同学对几位科学巨匠及其主要贡献进行的归纳，他搭配正确的一组是




- A. ①
- B. ②
- C. ③
- D. ④

28. 第一次世界大战结束后形成了世界的新秩序。下列与这一新秩序构建无关的是

- A. 《凡尔赛和约》
- B. 《九国公约》
- C. 华盛顿会议
- D. 雅尔塔会议



29. 下面是某同学的学习笔记。据此判断,他学习的主题是



- A. 美苏“冷战”对峙局面的形成
B. 世界格局的多极化趋势
C. 世界经济的全球化趋势
D. 世界经济的区域化趋势

30. 它是一个永久性的国际组织,负责管理世界经济和贸易秩序,2001年中国成为它的正式成员。它就是

- A. 联合国
B. 世界贸易组织
C. 欧盟
D. 北美自由贸易区

二、非选择题(共4小题,31题10分,32题15分,33题10分,34题10分,共45分)

31. 中国服饰文化体现时代精神。(10分)

材料一 胡服服饰盛行,与初唐、盛唐时期少数民族大量涌入或定居有关,各种穿着的服饰必然影响唐代的社会生活。在中西文化交流、融合的氛围中,男人们由于战争和武备的需要,率先使用胡服服饰,使胡服服饰在唐代社会有了一定的社会基础;两京、大都市中的皇亲国戚无不竞相模仿,上行下效,胡服、胡妆便成为时世风尚,从而成为中国封建社会之特有现象。

——摘编自程旭《唐韵胡风》

(1)依据材料一,归纳唐朝胡服服饰成为时尚的原因有哪些。(2分)

材料二 胡服在中土流行,不能仅用猎奇心理来解释,除了胡服的便利和实用性之外,更反映出唐代士庶对异族习俗的包容心态,而这种包容心态则是建立在自身文化强大的自信心之上的。

——摘编自李星明《唐墓壁画研究的独特视角》

(2)依据材料二,结合所学说说唐朝人拥有文化自信的原因。(3分)

材料三 辛亥革命时期旗袍的演化进程可以说是中国民族服装发展的典范,尤其是“改良旗袍”出现更是反映了这一时期中国人服装生活发生的重大变化。各种政治、经济、文化等因素相互碰撞,造就了中国服装的革新发展。

——摘自张玲《关于辛亥革命时期“民族服装”演化进程的研究——以旗袍为例》



(3)材料三反映了辛亥革命时期社会习俗中哪一方面的变化?除此之外,依据所学再举出辛亥革命时期社会习俗变化的一例并说明其影响。(3分)

材料四



2014年APEC会议在北京召开



这次APEC会议领导人服装采用了中国传统的吉祥纹样海水江崖纹,赋予了21个APEC经济体山水相依、守望相助的寓意。

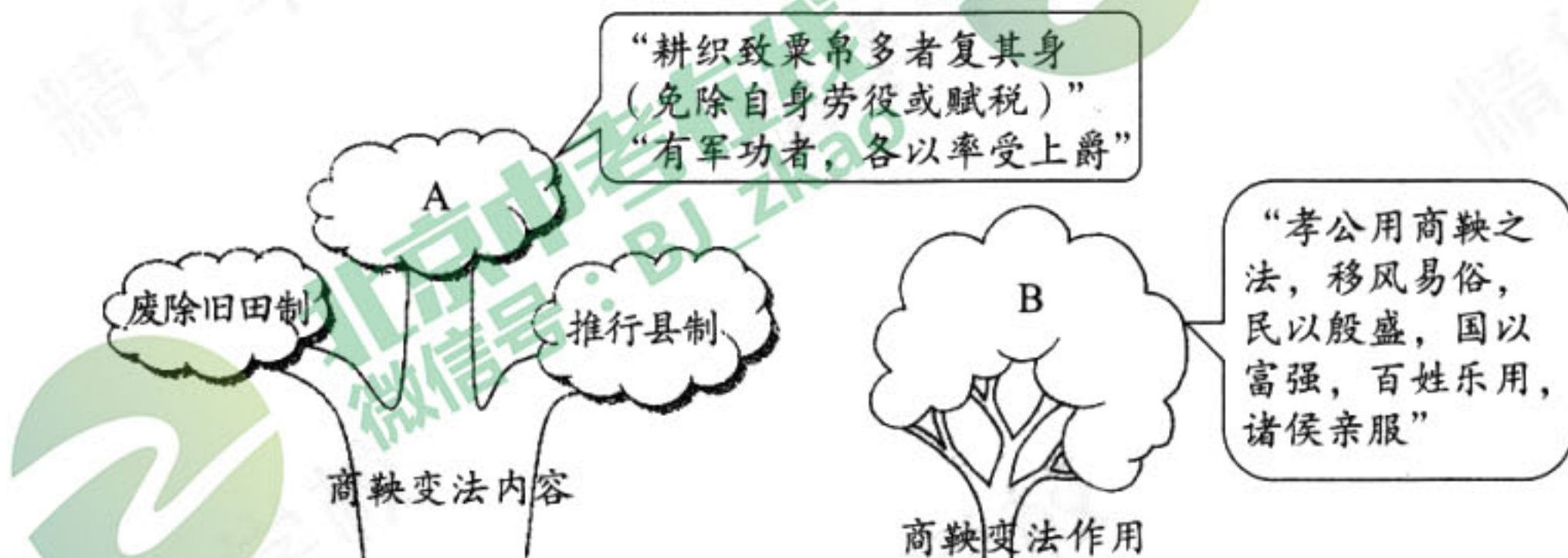
参与本届APEC会议领导人服装设计的设计师罗峥说:“该设计力求把中国传统元素与国际设计理念相结合并加以创新,提炼出一种时代的中国精神来展现中国的文化内核,形成新的东方美学,提高我们在国际社会的辨识度,增强中国自己的文化自信。”

(4)依据材料四,谈谈你对2014年APEC会议领导人服装设计理念的理解。(2分)

32. 改革推动社会的发展与进步。(15分)

(1)下面是某同学梳理的商鞅变法知识结构,请你帮他补充图示中的A和B两处。

(2分)



材料一

 <p>1853年爆发的克里米亚战争中俄军阵地</p>	 <p>1861年沙皇亚历山大二世签署废除农奴制法令</p>	<p>1861年农奴制改革后,农民缴纳的巨额赎金为发展大工业增添了新的资金来源;获得解放的2000多万农民为大工厂提供了充足的自由劳动力;农村自然经济的进一步瓦解扩大了国内市场。</p>
 <p>1853年美国舰队开到日本,以武力相威胁,打开日本大门 (日本绘画)</p>	 <p>1868年明治天皇建立新政府,颁布法令进行改革</p>	<p>在1885—1890年的短时期内,日本棉纺厂就从20个增加到30个,纱锭也从7万个增至28万个。棉纱的产量也增加大约8倍。到1890年,日本已从棉纺织品进口国变成一个棉纱出口国。</p>

(2)依据材料一,结合所学,比较俄国1861年改革和日本明治维新的背景有何不同。(2分)从性质和作用两方面归纳两者有何相同点。(2分)

材料二 这实在是人世间最不幸、最痛心的事。咖啡当作行船的燃料,玉米被烧来取暖,土豆大量抛进河里,猪杀了埋起来让它烂掉。流民们从各条公路涌来,眼睛里流露出饥饿的神色,流露出求生的渴望。他们不惜压低工价来抢活干。一个人干的活儿,有十个人来抢。

——摘编自【美】约翰·斯坦贝克小说《愤怒的葡萄》

注:《愤怒的葡萄》被认为是20世纪30年代美国经济危机时期的一部史诗。

1933年3月4日,罗斯福在发表就职演说的讲台上说道:“我向国会请求目前仍然存在的对付危机的一种手段——向这种紧急情况宣战的广泛的总统行政权,将赋予我的这一权力之大,就像我们事实上遭到外敌入侵时一样。”新任总统很快宣布当天是“银行停业日”,关闭国家的储蓄机构一个星期。新总统召开了国会,提出一系列立法计划。从1933年3月9日到6月16日期间,制订了15项重大立法,这个法律频出的时期被称作“百日”。

——摘编自【美】威廉·J.本内特《美国通史》(下)



(3) 依据材料二, 结合所学, 对以下表述做出判断: 正确的在括号内划“√”; 错误的在括号内划“×”。(每空 1 分, 共 4 分)

- ① 1929—1933 年美国经济危机造成严重的失业问题。 ()
- ② 罗斯福新政的特点是加强国家对经济的干预和指导。 ()
- ③ 罗斯福新政的中心内容是整顿金融体系。 ()
- ④ 罗斯福政府推行新政采用了立法的形式。 ()

(4) 请选择①—④中表述正确的一项, 从材料二中找出判断依据并加以说明。(2 分)

表述序号	说明(要求: 不得照抄原文)
	此处答题无效

材料三

表 1 1979—2005 年中国国内生产总值变化表(亿元)

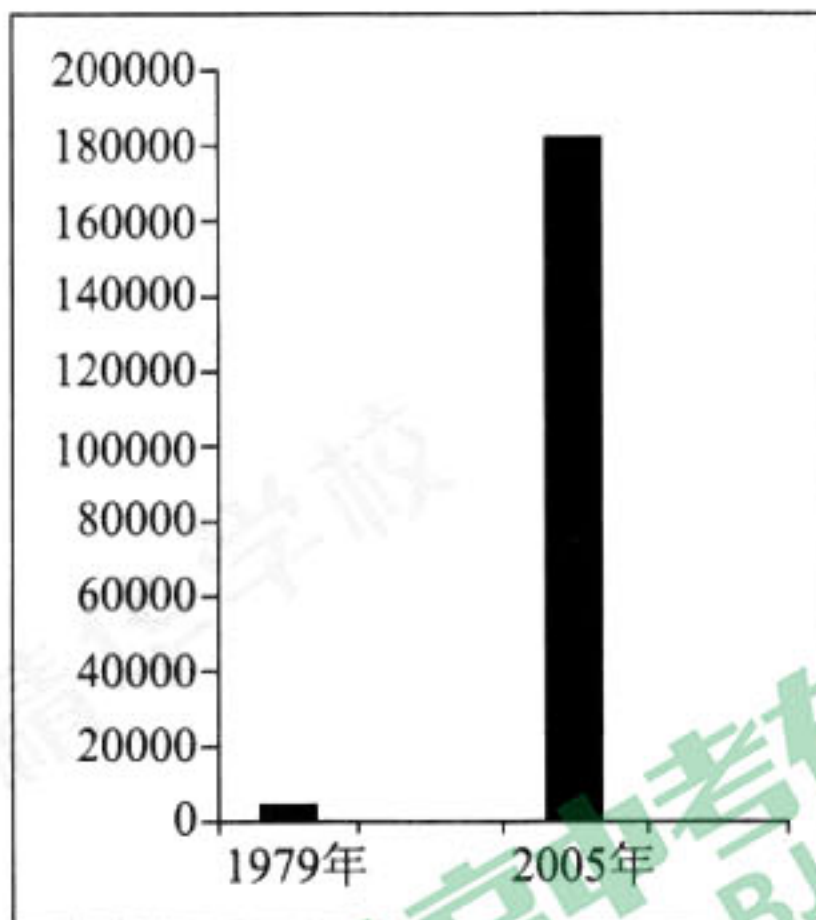
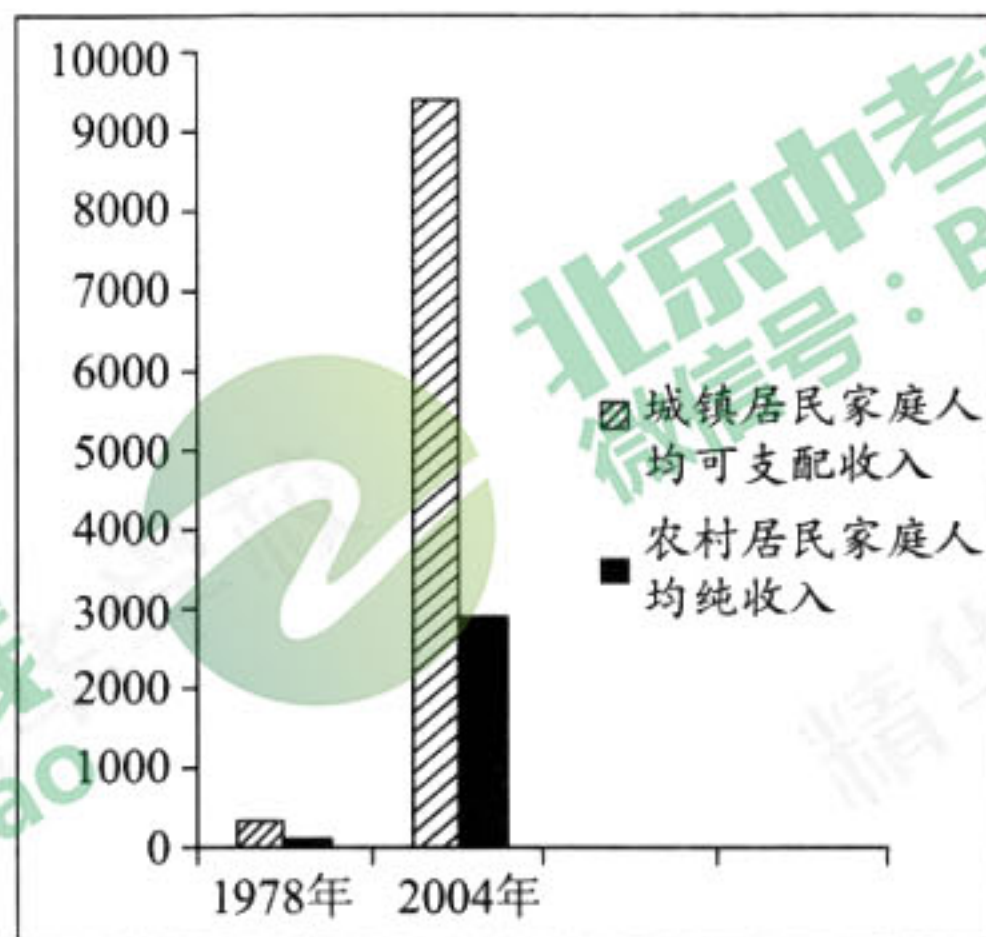


表 2 1978—2004 年中国城镇居民与农村居民家庭人均收入变化表(元)



——沙健孙《中国近现代史纲要(教师参考书)》

(5) 依据材料三中表 1、表 2, 概括 1978—2005 年间中国社会发展取得了怎样的成就? 这些成就的取得得益于什么政策的实施?(3 分)



33. 城市见证历史。(10分)

材料一

彼得格勒十月起义



(1)从地图所示①、②、③中任选一个，简述彼得格勒十月起义时发生在该地点的史实。(1分)

材料二

以下是与南昌起义、遵义会议、开国大典三个历史事件相关的图片和诗词。



图 1

A



图 2

B



图 3

C

娄山关前鏖战急，
遵义城头赤帜竖。
舵手一易齐浆橹，
革命从此上新途。

——伍修权《七律·历史转折》

南昌首义诞新军，
喜庆工农始有兵。
革命大旗擎在手，
终归胜利属人民。

——朱德《纪念八一》

毛泽东向世界宣布：
中华人民共和国诞生了。
毛泽东向世界宣布：
我们已经站起来了，
我们也不再是一个被人侮辱的民族了。

——何其芳《我们最伟大的节日》

(2)将上面的诗词与图片正确搭配，将字母填写在下面的横线上。(3分)

图 1: _____ 图 2: _____ 图 3: _____



材料三



新华社新闻图片：2017年10月31日，习近平带领中央政治局常委在上海中共一大会址纪念馆重温入党誓词

一百年前，十月革命一声炮响，给中国送来了马克思列宁主义。……在近代以后中国社会的剧烈运动中，在中国人民反抗封建统治和外来侵略的激烈斗争中，在马克思列宁主义同中国工人运动的结合过程中，一九二一年中国共产党应运而生。从此，中国人民谋求民族独立、人民解放和国家富强、人民幸福的斗争就有了主心骨。

——《十九大报告》节选

(3) 依据材料三，结合所学，谈谈你对“从此，中国人民谋求民族独立、人民解放和国家富强、人民幸福的斗争就有了主心骨”的理解。(3分)

(4) 综合本题所有材料，谈谈这些内容体现了哪些历史学习方法？运用材料，试举一例说明。(3分)

示例：材料三中通过解读新闻图片，了解中国共产党建党历史。



34. 传承·融通·发展(10分)

材料一 2013年12月4日中国珠算项目正式列入联合国教科文组织人类非物质文化遗产名录。联合国教科文组织给出的入选理由是：“珠算是中国古代的重大发明，伴随着中国人经历了1800多年的漫长岁月，它以简便的计算工具和独特的数理内涵，被誉为世界上最古老的计算机。”

宣纸制作工艺

宣纸以安徽宣城而得名，是传统手工纸品最杰出的代表。宣纸质地上乘，做工精致，可保千年不变质，居文房四宝之首。

“宣纸”一词最早出现在唐代。至明代，宣纸步入重要的发展阶段。工艺日趋成熟，品种花色日愈增多。宣纸在1886年获巴拿马万国博览会金奖奖章后传入欧美各国。

郭沫若为其题词说：“宣纸是中国劳动人民所发明的艺术创造，中国的书法和绘画离了它便无从表达艺术的妙味。”

——摘编自《国家级非物质文化遗产名录》，编号Ⅷ-65 2006年

北京曹氏风筝工艺

1943年孔祥泽先生发现并抄录曹雪芹遗稿《南鹞北鸢考工记》后，加以研究和改进，复制呈现清代风筝制作工艺，自成一派，简称“曹氏风筝”。曹氏风筝的最大特点就是文学色彩融入风筝，以歌诀叙述技艺，使其谱式化、图案化、拟人化，创造出一个充满个性与情感的风筝家族。其中拟人化的扎燕凸显了北京特色。

曹氏风筝融汇了深厚的文化内涵和民族精神，在历史、文化、艺术、民俗等方面都有研究和认识的价值。

——摘编自《曹氏风筝工艺·孔令民北京非物质文化遗产传承人口述史》

(1)假如你是一名文化宣传小大使，请从上面两项中国非物质文化遗产中选择一项，(1分)依据所给材料，仿照珠算入选理由，从历史渊源、技艺特点和文化价值等方面编写一段宣传稿。(3分)


材料二 上海广方言馆是洋务运动中最早引入数学的新式学校，它在开馆之初就开设了算学课。《广方言馆课程十条》指出：“习算学，无论笔算、珠算，先从加减乘除开方入手，中学则熟习算经十书(中国古代十部数学著作总称)，前贤代有著述皆可流览。西学则几何、重学、代数诸书”，规定了数学学习内容。《广方言馆算学课艺》是反映上海广方言馆数学教育的一部重要的算学著作。反映了其数学教育“中西结合，融会贯通”的显著特点，体现了西学传入中国之后，传统数学新的发展方向。总之，上海广方言馆不仅在培养外交等洋务人才方面成绩显著，而且在传播西学，普及数学教育，提高国人科学素养方面也起到了一定的积极作用。

——摘编自易萍《清末上海广方言馆及其数学教育》

(2)依据材料二，分析上海广方言馆数学教育的特点及作用。(3分)



材料三



(3) 观察材料三示意图, 你能获取什么信息? (2分) 这些信息带给你怎样的启示? (1分)



历史试卷参考答案及评分标准

2018.6

一、选择题(每小题 1.5 分,共 45 分)

题号	1	2	3	4	5	6	7	8	9	10
答案	B	B	C	D	B	C	D	C	A	C
题号	11	12	13	14	15	16	17	18	19	20
答案	B	A	B	A	D	B	D	C	B	C
题号	21	22	23	24	25	26	27	28	29	30
答案	A	B	D	B	C	B	C	D	A	B

二、非选择题(共 45 分)

31. (10 分)

(1)初唐和盛唐时期少数民族的大量涌入或定居;中西文化交流融合;战争和武备的需要;皇亲国戚竞相模仿。(2 分,答出其中两点即可得满分)

(2)唐朝出现了“贞观之治”和“开元盛世”的盛世局面,(1 分)经济发达、社会安定,文化繁荣,(1 分)民族交往交融。(1 分)

(3)“易服饰”。或答服装的革新、新式服装的流行亦可。(1 分)

示例:“改称呼”。(1 分)表明国民人格平等的观念已逐渐取代了传统的等级观念。(1 分)

(4)观点正确,表述清晰即可酌情给分。(2 分)

答案示例:2014 年 APEC 会议领导人服装的设计理念是:突出中国传统元素,彰显中国时代精神;与国际设计理念相结合,发展创新;体现 APEC 会议合作发展的精神。(答出其中两点即可得满分)

32. (15 分)

(1)A:奖励耕战。(1 分)B:商鞅变法促进了秦国政治经济的发展,增强了国力。(1 分)

(2)背景不同:俄国:克里米亚战争使其内外交困,农奴制阻碍资本主义发展;日本:国门被打开后,民族危机和社会矛盾不断加剧。(2 分)

相同点:性质:两者都是自上而下的资产阶级性质的改革。(1 分)作用:两者都促进了本国资本主义的发展。(1 分)

(3)①√ ②√ ③× ④√(每空 1 分,共 4 分)

(4)选择①(1 分),材料二中提到流民们不惜压低工价来抢活干,一个人干的活儿,有十个人来抢。说明经济危机下,美国出现了严重的失业问题。(1 分)



选择②(1分),材料二中提到罗斯福在就职演说中要求国会赋予他广泛的总统行政权,体现了罗斯福新政加强了国家对经济的干预和指导。(1分)

选择④(1分),材料二中提到罗斯福政府3个月制定了15项重大立法,体现了罗斯福新政采用立法的形式加强国家干预。(1分)

(5)成就:中国国民经济快速增长,人民生活水平有了显著提高。(2分)

政策:改革开放政策的实行。(1分)

33. (10分)

(1)(1分)选择①:在此响起了进攻的炮声,成为总攻的信号。

选择②:革命者占领了冬宫——临时政府的最后堡垒。

选择③:列宁在此指挥了十月起义,并在此宣告苏维埃政府成立。

(2)图1:B图2:A图3:C(每空1分,共3分)

(3)观点正确、表述清晰即可酌情给分。示例:中国共产党的诞生是中国历史上开天辟地的大事,(1分)中国革命有了坚强的领导核心,(1分)革命的面貌焕然一新。(1分)

(4)方法:运用地图、查阅文献、实地参观、关注时事报道等。(写出其中两点即可得满分,

2分)说明:言之成理即可。(1分)

34. (10分)

(1)写出宣传对象名称。(1分)编写要求:可从历史渊源、技艺特点和文化价值三个方面编写。(不得照抄原文)(3分)

示例1:我选择宣纸工艺。宣纸工艺是中国古代造纸技术的杰出代表,在1000多年的不断发展中,它以上乘的质地,千年不坏的品质成为中国传统文化艺术的重要载体。近代以来得到世界的高度认可。

示例2:我选择曹氏风筝工艺。曹氏风筝工艺是按照曹雪芹的记载恢复的清代风筝制作工艺,自成一派。曹氏风筝兼有文学色彩和北京特色,具有广泛的研究价值。

(2)特点:“中西结合,融会贯通”。(1分)作用:培养洋务人才;(1分)传播西学、普及数学教育,提高国人科学素养。(1分)

(3)信息:应用数学促进中国的科技、文化等方面发展。(2分)

启示:言之成理即可。(1分)

