



2023 北京延庆初一（上）期末 历史

2022.12

考生须知

1. 本试卷共 7 页，共两部分，24 道小题。满分 70 分。考试时间 70 分钟。
2. 在试卷和答题卡上准确填写学校名称、姓名和学号。
3. 试题答案一律填涂或书写在答题卡上，在试卷上作答无效。
4. 在答题卡上，选择题用 2B 铅笔作答，其它试题用黑色字迹签字笔作答。


第一部分

本部分共 20 小题，每小题 1.5 分，共 30 分。在每小题列出的四个选项中，选出最符合题目要求的一项。

1. 某同学在网上搜集了一组关于北京人的想象图，这组图片的创作依据是（ ）



北京人狩猎场景想象



北京人采集场景想象

- A. 历史照片 B. 影视作品 C. 考古发现 D. 文献记载
2. 半坡人和河姆渡人能过上定居生活的最主要原因在于（ ）
- A. 使用打制石器 B. 原始农业产生 C. 使用骨针 D. 火的使用
3. 中华民族同根同源，被尊崇为中华民族人文初祖的是（ ）
- A. 炎帝、舜 B. 舜、禹 C. 黄帝、禹 D. 炎帝、黄帝
4. 《史记·周本纪》中记载：“幽王为烽燧大鼓，有寇至则举烽火，诸侯悉至”这说明诸侯要承担的义务有（ ）
- A. 管理人民 B. 进献贡物 C. 服从周王调兵 D. 缴纳赋税
5. 迄今世界上出土的最重的青铜器是（ ）



A. 司母戊鼎



B. 利簋



C. 毛公鼎



D. 四羊方尊



6. 下侧是一位同学 课堂笔记，其中①处的内容应是（ ）

动荡的春秋时期	经济发展	农业、手工业、商业
	王室衰微	周王室统治力大减，分封制逐步瓦解
	①	齐桓公、晋文公、秦穆公、楚庄王等先后称霸

- A. 盘庚迁殷 B. 平王东迁 C. 诸侯争霸 D. 战国七雄

7. 春秋后期，某学派首倡“仁爱”，以“爱”释“仁”，开创“仁爱”思想教化的先河。这一学派是（ ）

- A. 道家 B. 儒家 C. 墨家 D. 法家

8. 以下是某本书的章节目录（部分），这本书的书名是（ ）

第一章	水力的奇迹
第二章	恼人的水患
第三章	郡守李冰
第四章	开凿宝瓶口

- A. 《都江堰》 B. 《长城》 C. 《灵渠》 D. 《黄河》

9. 中国古代的皇帝是国家最高统治者，拥有至高无上的权威，总揽全国的一切军政大权。“皇帝”这一称谓最早出现在（ ）

- A. 周朝 B. 秦朝 C. 汉朝 D. 唐朝

10. 《史记》记载：“二世元年七月，发闾左適戍渔阳……陈胜自立为将军，吴广为都尉。攻大泽乡，收而攻蕲。”材料提及的起义（ ）

- A. 因秦始皇的残暴统治而爆发 B. 是西楚霸王领导的
C. 结束了秦朝的统治 D. 是中国历史上第一次农民起义

11. 统一是秦汉时代的主题，思想统一也势在必行。“思想统一”在汉代表现为（ ）

- A. 焚书坑儒 B. 百家争鸣 C. 以法治国 D. 尊崇儒术

12. 中国古代出现过“文景之治”“光武中兴”等治世局面，他们具备的共同历史条件是（ ）

- A. 罢黜百家，尊崇儒术 B. 民族交往密切，海外贸易发达
C. 国家统一，社会稳定 D. 君主专制加强，科举制度完善

13. 以下食物通过丝绸之路传入中原，最初都以“胡”字命名。与这些食物能够传入中原相关的历史事件是



胡瓜（今黄瓜）



胡豆（今蚕豆）



胡桃（今核桃）



- A. 商鞅变法
- B. 张骞通西域
- C. 鉴真东渡
- D. 郑和下西洋

14. 西域都护 职责有 ()

- ①管理西域的军事 ②管理西域的政治 ③保护商旅往来 ④加强汉与匈奴的联系

- A. ①②③
- B. ①②④
- C. ①③④
- D. ②③④

15. 下面漫画形象地反映了东汉后期政治的特点是 ()

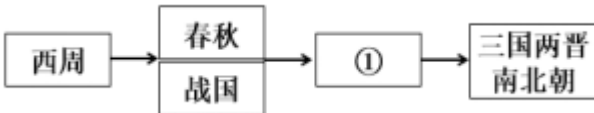


- A. 皇帝联合外戚打击宦官
- B. 皇帝利用宦官打击外戚
- C. 皇帝制衡外戚和宦官
- D. 外戚宦官交替专权

16. 东汉末年, 名医张仲景“治未病”理论, 华佗模仿虎、鹿、熊、猿、鸟五种动物活动姿态创编出“五禽戏”。这反映出他们主张

- A. 预防疾病, 强身健体
- B. 诊断疾病, 望闻问切
- C. 针灸疗法, 辨证施治
- D. 药食同源, 用药简易

17. 下图所示的示意图中与①相关的阶段特征是 ()



- A. 社会大变革时期
- B. 统一多民族国家的建立与巩固
- C. 政权分立与民族交融
- D. 民族关系发展和社会变化

18. 以下战役中, 为三国鼎立局面的形成奠定了基础的是

- A. 吴越争霸
- B. 桂陵之战
- C. 官渡之战
- D. 赤壁之战

19. 识读历史地图是学习历史 重要方法之一。下图反映的历史现象是 ()





- A. 北方游牧民族的内迁 B. 八王之乱 C. 江南经济的开发 D. 藩镇割据

20. 贾思勰在《齐民要术》中提出“顺天时，量地利，则用力少而成功多”。这反映了农业生产要（ ）

- A. 占有更多的土地 B. 大量种植农作物
C. 因地制宜，顺应自然规律 D. 增加劳动力

第二部分

本部分共 4 题，共 40 分。

21. 在人类社会的发展进程中，农业生产活动是人们赖以生存和发展的基础。

材料一 原始农耕生活


	河姆渡居民	半坡居民
时空定位	距今约 7000 年 长江流域：浙江余姚	距今约 6000 年 黄河流域：陕西西安
自然环境	气候温暖湿润、低洼多水	寒冷多风
生产与生活	人工栽培水稻；饲养猪、狗、水牛； 使用磨制石器；建造干栏式房屋	种植粟；饲养猪、狗；制作精美的磨制石器； 建造半地穴式房屋

(1) 依据材料一，概括河姆渡居民和半坡居民生产生活的共同点。指出造成其差异的主要原因。

材料二 某同学为准备一次历史主题展览搜集了以下四幅图片。



(2) 请为此次展览拟定一个主题。将材料二的图片按时间顺序排列。



材料三 与汉魏相比东晋南朝农作物种类增多，来自北方的麦、粟等各种杂谷在南方与水稻交错种植。北民南迁，带来了许多先进的生产技术，南方的农业工具已有很大改进，种类也增多，例如整地有犁、耙、耨等；北民将复栽技术带入南方，使南方逐渐脱离火耕水耨的耕作方式，并根本改变了南方水田的生产效率以及土地利用率。

——摘编自罗宗真《六朝时期的江南农业经济——兼论全国经济重心的开始南移》

(3) 依据材料三，概括东晋南朝时期南方农业发展的变化。结合所学，分析变化的原因。

22. 政治制度是实现社会治理的手段。

材料一 (周)武王追思先圣王，乃褒封神农之后于焦，黄帝之后于祝，帝尧之后于蓟，帝舜之后于陈，

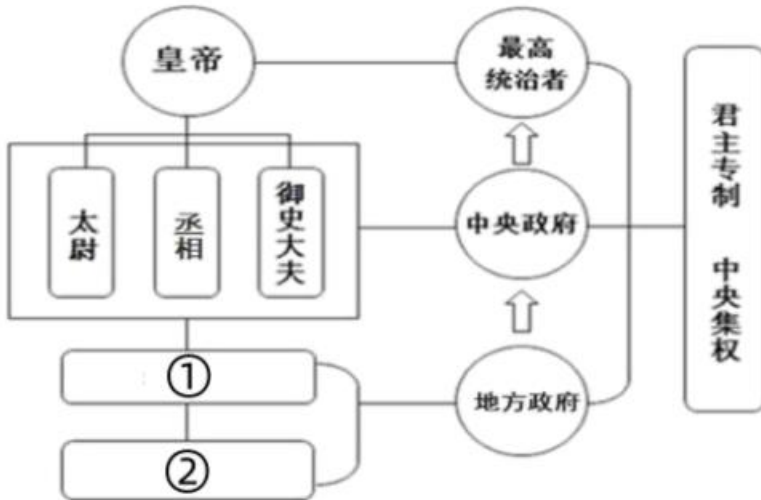


大禹之后于杞。于是封功臣谋士，而师尚父为首封。封尚父于营丘，曰齐。封弟周公旦于曲阜，曰鲁。封弟叔鲜于管，弟叔度于蔡。

——摘编自司马迁《史记·周本纪》

(1) 依据材料一，概括西周分封的对象。结合所学，分析分封制的作用。

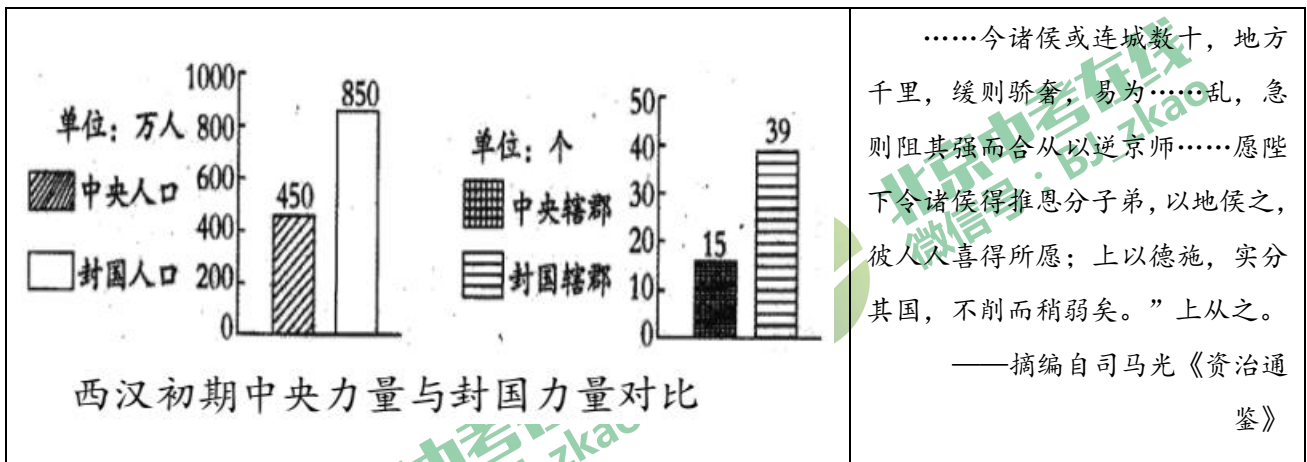
材料二



秦朝的政治建制示意图

(2) 请将“秦朝的政治建制示意图”中的①、②处补充完整。结合所学，说出秦为巩固统一采取的其他措施。

材料三



(3) 指出材料三中反映的西汉初期中央面临的问题。简述汉武帝时期解决这一问题的举措和结果。

23. 改革是推动社会进步的动力。

材料一 商鞅变法的发起者是商鞅和秦孝公，秦国变法成功与此二人的独特品质息息相关。在“要不要变法”的廷议上，商鞅以“治世不一道，便国不法古”为主旨，说服了秦国君臣；然后以“南门徙木”一幕来取信于民。在变法法令上，他十分注意抓住秦人的特点，以“名、利”为导向，移风易俗，并以“农、战”为主导政策，效果显著。

——摘编自张守慧《论商鞅变法和王安石变法之成败及其现实意义》

(1) 依据材料一，指出商鞅变法的发起者。结合所学，概括商鞅变法能取得成功的原因



材料二 从商鞅变法到秦始皇即位的前一年，秦军同六国作战 65 次。

秦军战绩	全胜	不分胜负	败北
	58 次	3 次	4 次

——摘编自贾劼《秦律通论》

(2) 依据材料二并结合所学，概括秦军同六国作战结果的特点并说明原因。

材料三

孝文帝改革

- 鲜卑贵族一律改穿汉服
- 改鲜卑姓为汉姓，亲自主持“定氏族”的工作
- 宣布以汉语为正音，禁止人们说鲜卑语
- 禁止鲜卑族同性通婚，提倡鲜卑人与汉人通婚

这一时期，从表象上看是一个大分裂、大动乱时期，其实深入探究起来，他应该是由分裂走向再统一的时期……关键就是“胡人汉化”与“汉人胡化”，各民族在融合中求同存异，为大一统帝国的重建奠定了基础。

——摘编自樊树志《国史概要》

(3) 依据材料三，说出示意图中反映的孝文帝改革的内容。结合所学，分析孝文帝改革的影响。

24. 汉字是中华文明的重要载体。

材料一



①甲骨文

②居延汉简

③《兰亭集序》

④秦小篆

(1) 将上述文物与其见证的历史正确搭配。(填写序号)

- () 我国有文字可考的历史开始
- () 用行政手段规范汉字书写
- () 汉代典章制度及社会风貌
- () 魏晋书法艺术的全新境界

材料二 从后来的历史看……而代之以全中国都能理解的统一文字。这种统一文字……证明是一种非常有效且持久的统一的粘合剂。



——斯塔夫里阿诺斯《全球通史》

(2) 依据材料二，结合所学，简述统一文字的重要意义。

材料三 东汉蔡伦进一步改进了造纸术。他用树皮、麻布、破布、废渔网等做原料，制成质轻耐用的纸，这种纸就叫做“蔡侯纸”……我国造纸术传播出去后，推动了世界科学文化的传播与交流，深刻影响了世界历史的进程。

——摘编自《中国通史》(上册)

(3) 依据材料三结合所学，说出“蔡侯纸”的优点。概括造纸术发明的影响。

材料四 下图是2022年北京冬奥会会徽“冬梦”。会徽运用中国书法的艺术形态，将中国传统文化与奥林匹克元素巧妙结合。会徽灵感来源于汉字“冬”，上半部分展现滑冰运动员的造型，下半部分表现滑雪运动员的英姿。中间舞动的线条代表举办地起伏的山峦、赛场、冰雪滑道和节日飘舞的丝带，也象征着北京冬奥会将在中国春节期间举行。



(4) 依据材料四，通过了解北京冬奥会会徽的设计理念及汉字发展历史，写出你从中获得的启示。



参考答案

第一部分

本部分共 20 小题，每小题 1.5 分，共 30 分。在每小题列出的四个选项中，选出最符合题目要求的一项。

1. 【答案】C

【解析】

【详解】根据材料“北京人狩猎场景想象”“北京人采集场景想象”等信息可知，材料内容体现了北京人生活场景想象图，体现出北京人以采集、渔猎为生，生活方式是过群体生活，生活场景图的创制依据是考古发现，通过考古挖掘能够得知北京人生活场景，C 项正确；根据所学知识可知，北京人生活在距今约 70 万年至 20 万年，这时期没有照相技术、影视技术和文字，因此都不能依靠历史照片、影视作品、文献记载，排除 A、B、D 项。故选 C 项。

2. 【答案】B

【解析】

【详解】根据材料及所学知识，中国是农业大国，农业生产具有悠久的历史。经过 2000 多年的发展，稻作和粟作农业分别在我国南北方逐渐推广，原始社会时期，出现了聚落，使用磨制石器等现象出现，标志着原始农业出现，人们种植农作物，饲养家畜，过上定居生活。而原始先民的两个典型代表即是半坡人和河姆渡人。B 项正确；打制石器是旧石器时代特征，半坡人和河姆渡人所处时代已是新石器时代，排除 A 项；骨针的使用最早可以追溯到旧石器时代的山顶洞人，排除 C 项；旧石器时代的北京人已经学会用火。排除 D 项。故选 B 项。

3. 【答案】D

【解析】

【详解】根据材料及所学知识，距今约四五千年生活在黄河流域炎帝部落和黄帝部落联合在涿鹿一战中打败蚩尤部落。从此，炎帝、黄帝部落结成联盟，经过长期发展形成日后的华夏族，华夏族是汉族的前身，中华民族的主干部分。炎帝和黄帝被后人尊称为中华民族的“人文初祖”。D 项正确；舜和禹均是部落联盟时期的首领，故而，炎帝、舜，舜、禹，黄帝、禹均不符合史实与题意，排除 ABC 项。故选 D 项。

4. 【答案】C

【解析】

【详解】根据题干材料“幽王为烽燧大鼓，有寇至则举烽火，诸侯悉至”可知，诸侯有服从周王调兵的义务，C 项正确；管理人民、进献贡物、缴纳赋税与题干内容无关，排除 ABD 项。故选 C 项。

5. 【答案】A

【解析】

【详解】根据所学知识可知，到商代后期，青铜铸造业不仅规模宏大，而且组织严密，分工细致，能够铸造出大型器物。如司母戊鼎，是迄今世界上出土的最重的青铜器，重达 832.84 千克，A 项正确；利簋是迄今能确知的最早的西周青铜器，毛公鼎在所见青铜器铭文中为最长，四羊方尊是中国现存商代青铜方尊中最大的一件，均与题干“迄今世界上出土的最重的青铜器”不符，排除 BCD 项。故选 A 项。



6. 【答案】C

【解析】

【详解】结合所学可知，齐桓公、晋文公、秦穆公、楚庄王等先后称霸反映的是春秋时期诸侯争霸的史实，C项正确；盘庚迁殷发生在商朝时期，排除A项；平王东迁，东周开始，排除B项；战国七雄是齐、楚、燕、韩、赵、魏、秦，排除D项。故选C项。

7. 【答案】B

【解析】

【详解】根据材料并结合所学知识可知，儒家学派首倡“仁爱”，以“爱”释“仁”，开创“仁爱”思想教化的先河，B项正确；道家提倡无为而治，排除A项；墨家主张兼爱非攻，排除C项；法家主张法治，排除D项。故选B项。

8. 【答案】A

【解析】

【详解】根据题干和所学可知，郡守李冰是主持修建都江堰人，宝瓶口是都江堰的三大主体工程之一，所以书名应与都江堰有关，A项正确；长城是军事防御工程，不是水利工程，排除B项；灵渠秦朝时开凿的运河，与秦国李冰无关，排除C项；黄河是天然河流，排除D项。故选A项。

9. 【答案】B

【解析】

【详解】根据所学知识可知，在秦朝建立的中央集权制度中，国家的最高统治者称为皇帝，拥有至高无上的权威，总揽全国的一切军政大权，秦朝的建立者嬴政自称“始皇帝”，史称“秦始皇”，所以，“皇帝”这一称谓最早出现在秦朝，B项正确；周朝最高统治者称天子，排除A项；汉朝和唐朝均是秦朝以后的朝代，排除CD项。故选B项。

10. 【答案】D

【解析】

【详解】根据题干材料“……陈胜自立为将军，吴广为都尉。攻大泽乡，收而攻蕲。”结合所学可知，材料反映的是陈胜、吴广起义，又称大泽乡起义。大泽乡起义是中国历史上第一次农民起义，D项正确；陈胜、吴广起义因秦二世的暴政而爆发，排除A项；陈胜、吴广是起义的领导者，排除B项；刘邦攻占咸阳，结束了秦朝的统治，排除C项。故选D项。

11. 【答案】D

【解析】

【详解】根据材料及所学知识，西汉初，朝廷对地方的控制很弱，统治者奉行“无为而治”的政策，诸子百家的学说在社会上很流行。诸侯王门下聚集许多宾客，常常批评皇帝的政策。汉武帝即位后，接受董仲舒的建议，把儒家学说立为正统思想，即尊崇儒术，使儒家忠君守礼的思想成为大一统政权的精神支柱。D项正确；焚书坑儒事件发生在秦朝，排除A项；百家争鸣是指春秋战国时期知识分子中不同学派的涌现及各家流派之间争芳斗艳的局面。排除B项；战国末期的韩非是法家的集大成者，他反对空谈仁义，强调以法治国，树立君主的权威，建立中央集权专制统治。排除C项。故选D项。



12. 【答案】C

【解析】

【详解】结合所学可知，“文景之治”“光武中兴”等治世局面，都是在国家统一、社会安定、经济发展等条件下出现的，C项正确；罢黜百家，尊崇儒术是汉武帝巩固大一统的措施，排除A项；文景时期，海外贸易并不发达，排除B项；科举制度诞生于隋朝，与题干时间不符，排除D项。故选C项。

13. 【答案】B

【解析】

【详解】依据所学知识，西汉汉武帝时期派遣张骞通西域，沟通汉朝与西域的联系，为丝绸之路的开通奠定基础，从此西域等地的物种传入中原，如黄瓜、蚕豆、核桃等，丰富了中原人民的物质文化生活，B项正确；商鞅变法发生在战国时期，使得秦国实现了富国强兵，与题干不符，排除A项；唐朝时期鉴真东渡日本，推动了中华文化在日本的传播，排除C项；明朝时期郑和下西洋，是世界航海史上的壮举，加强了中国与亚非国家地区的友好交往，排除D项。故选B项。

14. 【答案】A

【解析】

【详解】根据材料及所学知识，张骞通西域后，西汉王朝加强了对西域的经营。公元前60年，西汉朝廷设置西域都护，作为管理西域的最高长官，管辖西域36国，都护府设在乌垒城。这标志着西域开始正式归属于中央政权加强了与内地经济、政治与文化的联系。对于中国统一的多民族国家的形成和巩固，有着深远的影响，其主要职责有管理西域的军事、管理西域的政治、保护商旅往来，即①②③项符合题意，A项正确；加强汉与匈奴的联系不符合史实与题意，排除包含④的选项，排除BCD项。故选A项。

15. 【答案】D

【解析】

【详解】根据材料及所学知识，东汉中期以后，继位的皇帝大多年幼，无法主政，大权就由皇帝的母亲太后主持。太后重用自己的亲戚，导致外戚的势力膨胀。皇帝长大后，不甘心被外戚摆布，想亲自行使君权，就依赖身边的宦官，设法除掉外戚，宦官由此得到宠信，把持朝政。如此循环往复，形成了东汉后期外戚与宦官交替专权的局面。D项正确；题干意在强调外戚宦官交替专权的恶性循环过程，皇帝联合外戚打击宦官、皇帝利用宦官打击外戚、皇帝制衡外戚和宦官均不符合题意，排除ABC项。故选D项。

16. 【答案】A

【解析】

【详解】材料中的“治未病”指的是还未发生的疾病，主要体现了对于预防疾病的重视，而根据动物姿态创编的“五禽戏”类似于今天的健身操等强身健体的活动，所以本题正确答案为A选项；

B选项中的望闻问切主要是指中医诊断疾病的四种方式，与题意无关故排除；

C选项，材料中未曾涉及针灸疗法，C选项不符合题意；

D项，药食同源，用药简易主要指病人用药不应该太过复杂，材料中并无此方面的说明，故排除。故本题正确答案为A项。

17. 【答案】B



【解析】

【详解】依据示意图中春秋战国和三国两晋南北朝可知，中间是秦汉时期。秦汉时期社会特征是统一多民族国家的建立与巩固，B项正确；社会大变革是春秋战国时期社会特征，排除A项；政权分立与民族交融是三国两晋南北朝时期社会特征，排除C项；民族关系发展和社会变化是辽宋夏金元时期社会特征，排除D项。故选B项。

18. 【答案】D

【解析】

【分析】

【详解】据所学可知，赤壁之战奠定了为三国鼎立局面的基础，D项正确；吴越争霸是春秋时期，排除A项；桂陵之战也是发生在春秋时期，排除B项；官渡之战是曹操与袁绍的战争，官渡之战为曹操统一北方奠定了基础，排除C项。故选D项。

【点睛】

19. 【答案】A

【解析】

【详解】根据材料及所学知识，东汉、魏、晋时期，我国北方的游牧民族不断内迁。原来生活在西北的氏族和羌族，由西向东迁入陕西关中；分布在蒙古草原上的匈奴族和羯族，由北向南迁到山西一带；而鲜卑族有一部分迁到辽宁，有一部分迁到陕西及河套地区。A项正确；西晋的八王之乱主要在洛阳一带展开，排除B项；材料与江南地区的开发无关，排除C项；藩镇割据是唐朝安史之乱后出现的局面，排除D项。故选A项。

20. 【答案】C

【解析】

【详解】根据题干“顺天时，量地利，则用力少而成功多”可知，农业生产要因地制宜，顺应自然规律，C项正确；占有更多的土地、大量种植农作物题干未体现，排除AB项；增加劳动力与题干“用力少而成功多”不相符，排除D项。故选C项。

第二部分

本部分共4题，共40分。

21. 【答案】(1) 共同点：都能种植农作物、饲养家畜、使用磨制石器、建造房屋、制作陶器等；主要原因：自然条件和地理环境的影响。(2) 图3，图2。

(3) 变化：农作物种类增多；农业工具有很大改进，种类也增多；耕作方式改变，生产效率以及土地利用率高。原因：北民南迁，带去了先进的生产技术；南方相对安定；南方自然条件优越；统治者重视；劳动人民的辛勤劳动。

【解析】

【详解】(1) 根据材料一“原始农耕生活图表”结合所学知识可知，半坡居民和河姆渡居民都能种植农作物、饲养家畜、使用磨制石器、建造房屋、制作陶器等；根据图表中的自然环境信息结合所学知识可知，由于地处湿热地区，河姆渡人采用干栏式房屋，上面住人，下面养牲畜，通风防潮；由于比较寒冷，半坡



原始居民房屋墙壁比较厚，采取半地穴式房屋，南北地域的差异造成种植农作物也不同，这与两地的自然条件环境有影响。

(2) 结合所学可知，骨耜是河姆渡原始居民使用的生产工具；翻车是东汉时期发明的取水灌溉工具；铁农具出现与春秋时期；耒耜是西汉时期发明的播种工具。因此，先后顺序为：图 1，图 3，图 4，图 2。

(3) 根据材料三“与汉魏相比东晋南朝农作物种类增多，来自北方的麦、粟等各种杂谷在南方与水稻交错种植……”可得出，农作物种类增多；根据材料“……北民南迁，带来了许多先进的生产技术，南方的农业工具已有很大改进，种类也增多……”可得出，农业工具有很大改进，种类也增多；根据材料“……民将复栽技术带入南方，使南方逐渐脱离火耕水耨的耕作方式，并根本改变了南方水田的生产效率以及土地利用效率”，可得出，耕作方式改变，生产效率以及土地利用效率提高。结合所学可知，东晋南朝时期南方地区地区农业发展变化的原因有：北民南迁，带去了先进的生产技术；南方相对安定；南方自然条件优越；统治者重视；劳动人民的辛勤劳动。

22. 【答案】(1) 对象：先代贵族、宗亲、功臣。作用：保证了周王朝对地方的控制，稳定了政局，扩大了统治范围。

(2) ①郡；②县。措施：统一文字、车轨、货币、度量衡；开灵渠、修长城。

(3) 问题：诸侯王势力强大，威胁中央。举措：实施“推恩令”(答出推恩令的具体内容也可)。结果：削弱了诸侯王的实力，中央大大加强了对地方的控制。

【解析】

【详解】(1) 根据材料一“(周)武王追思先圣王，乃褒封神农之后于焦，黄帝之后于祝，帝尧之后于蓟，帝舜之后于陈，大禹之后于杞。于是封功臣谋士，而师尚父为首封。封尚父于营丘，曰齐。封弟周公旦于曲阜，曰鲁。封弟叔鲜于管，弟叔度于蔡。”可知，西周分封 对象有先代贵族、功臣、宗亲。结合所学可知，分封制保证了周王朝对地方的控制，稳定了政局，扩大了统治范围。

(2) 结合所学知识可知，秦朝统一全国后，为了适应新的统一形势，在地方上实行了郡县制。全国分 36 郡，郡县设县。因此，①是郡，②是县。结合所学可知，秦为巩固统一采取的其他措施有：统一文字、车轨、货币、度量衡；开灵渠、修长城。

(3) 根据材料三“西汉初期中央和封国力量对比”结合所学可知，材料反映了西汉初期，诸侯王势力强大，威胁中央。汉武帝在位时，为了加强中央集权，接受了主父偃的建议，实施“推恩令”。推恩令的实行削弱了诸侯王的实力，中央大大加强了对地方的控制。

23. 【答案】(1) 发起者：商鞅和秦孝公；原因：变法合乎秦国国情，顺应历史发展趋势；得到百姓支持，厉行法治，赏罚分明。

(2) 特点：胜多败少；原因：商鞅变法使秦国强大。

(3) 内容：改穿汉服；改用汉姓；改说汉语；与汉族通婚。影响：北魏孝文帝改革有利于北方经济的恢复与发展，促进了民族交融，也增强了北魏的实力。

【解析】

【详解】(1) 根据材料一“商鞅变法的发起者是商鞅和秦孝公，秦国变法成功与此二人的独特品质息息相关。”可知，商鞅变法的发起者是商鞅和秦孝公。结合所学可知，商鞅变法能取得成功的原因是：变法合



乎秦国国情，顺应历史发展趋势；得到百姓支持，厉行法治，赏罚分明。

(2) 根据材料二表格中的数据可知，秦军同六国作战胜多败少；结合所学可知，秦军胜多败少的原因是：商鞅变法使秦国走上了富国强兵之路，为秦的统一奠定了基础。

(3) 根据材料三图一可知，北魏孝文帝改革的措施有：改穿汉服；改用汉姓；改说汉语；与汉族通婚。根据材料三“这一时期，从表象上看是一个大分裂、大动乱时期，其实深入探究起来，他应该是由分裂走向再统一的时期……”结合所学可知，北魏孝文帝改革有利于北方经济的恢复与发展，促进了民族交融，也增强了北魏的实力。

24. 【答案】(1) ①. ① ②. ④ ③. ② ④. ③

(2) 有利于政令的推行和文化的传播，有利于国家统一。

(3) 优点：原料易得，造价低廉，轻便耐用。影响：纸成为人们广泛使用的书写材料；推动了世界文明的发展，是中国对世界文明的伟大贡献之一。

(4) 会徽运用中国书法的艺术形态，将中国传统文化与奥林匹克元素巧妙结合，以其浓郁的中国文化特色，给全世界留下了深刻的印象。

【解析】

【分析】

【小问 1 详解】

甲骨文是我国有文字可考的历史开始；秦朝统一全国文字为小篆，用行政手段规范汉字书写；居延汉简是反映汉代典章制度和社会风貌的重要史料；王羲之的《兰亭集序》反映了魏晋书法艺术的全新境界。

【小问 2 详解】

根据“是一种非常有效且持久的统一的粘合剂”，结合所学可知，统一文字有利于政令的推行和文化的传播，有利于国家统一。

【小问 3 详解】

优点：根据“树皮、麻布、破布、废渔网等做原料”“质轻耐用”，概括得出原料易得，造价低廉，轻便耐用。影响：根据“推动了世界科学文化的传播与交流，深刻影响了世界历史的进程”，概括得出推动了世界文明的发展，是中国对世界文明的伟大贡献之一；还可从纸成为人们广泛使用的书写材料等分析其影响。

【小问 4 详解】

根据“会徽运用中国书法的艺术形态，将中国传统文化与奥林匹克元素巧妙结合”，分析得出会徽运用中国书法的艺术形态，将中国传统文化与奥林匹克元素巧妙结合，以其浓郁的中国文化特色，给全世界留下了深刻的印象。