



历史

2021.1

考 生 须 知	1.本试卷共 10 页，分为两部分，第一部分选择题，30 个小题，共 60 分；第二部分非选择题，4 道题，共 40 分。 2.请将条形码粘贴在答题卡相应位置处。 3.试卷所有答案必须填涂或书写在答题卡上，在试卷上作答无效。请使用 2B 铅笔填涂，用黑色字迹签字笔或钢笔作答。 4.考试时间 90 分钟，试卷满分 100 分。
------------------	--

选择题 第一部分 (共 60 分)

本部分共 30 小题，每小题 2 分，共 60 分。在每小题列出的四个选项中，选出最符合题目要求的一项。

- 1987 年 12 月，第 42 届联合国大会通过决议，正式将每年 6 月 26 日确定为“国际禁毒日”，这一决议与下列哪一历史事件相关
 A.虎门销烟 B.收复新疆 C.黄海战役 D.抗倭斗争
- “因大英商船远路涉洋，往往有损坏须修补者，自应给予沿海一处，以便修船及存守所用物料。今大皇帝准将香港一岛给予大英国君主……任便立法治理。”对该条约的评价正确的是
 A.提高了中国的影响力 B.是中国近代第一个不平等条约
 C.有利于中英平等贸易的发展 D.中国完全沦为半殖民地半封建社会
- 西方列强对中国发动两次鸦片战争的借口不同，但是根本原因是一致的，那就是
 A.教训清政府 B.维护鸦片贸易合法化
 C.镇压中国人民的革命运动 D.打开中国市场，谋求在华权益
- 2020 年 12 月 1 日，国家文物局正式将圆明园马首铜像划拨北京市海淀区圆明园管理处收藏，成为第一件回归圆明园的流失海外重要文物，致使马首铜像流散国外的侵略者是



A.俄军

B.英军

C.英法联军

D.八国联军

5.1841年，林则徐在辞职返乡时曾预言：“终为中国患者，其俄罗斯乎！”下列史实能够证明他的预见正确的是

A.日本割占了台湾

B.英法火烧圆明园

C.英国占领香港岛

D.俄国割占中国 150 多万平方千米领土

6.下列选项不属于洋务运动时期创办的军事工业的是

A.福州船政局

B.开平煤矿

C.安庆内军械所

D.江南制造总局

7.阅读洋务运动时期创办的京师同文馆课程计划表，可以看出这些课程的设置有

首年：认字写字：浅解辞句：讲解浅书
二年：讲解浅书：练习文法：翻译条子
三年：讲各国地图：读各国史略：翻译选编
四年：数理启蒙：代数学：翻译公文
五年：讲求格物：几何原本：....练习译书
六年：讲求机器：微分积分：航海测算：练习译书
....
至汉文经学，原当始终不已，故于课程并未另列。

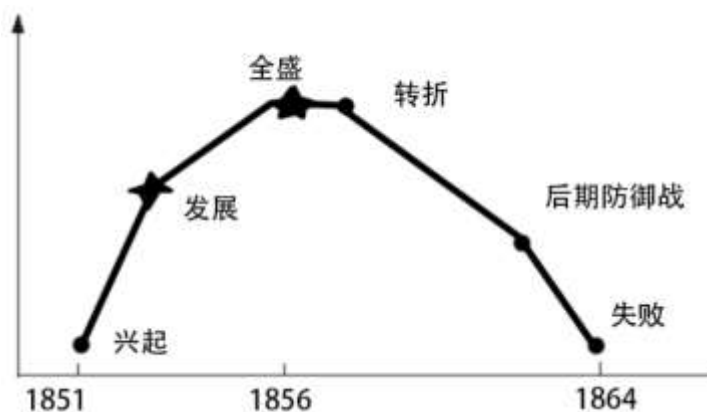
A.促进科举考试

B.发展排外顽固势力

C.培养近代外交、科技人才

D.促进近代民族工业的发展

8.下图为某一历史事件发展过程的形势示意图，由此判断这一事件是



A.李自成起义

B.义和团运动

C.太平天国运动

D.八国联军侵华战争

9.有一位将对他的士兵们说：“吾辈从军卫国，早置生死于度外，今日之事，有死而已！”说这番豪言壮语的，是在中日黄海战役中英勇牺牲的民族英雄

- A.丁汝昌 B. 邓世昌 C.徐邦道 D.左宝贵

10.在近代化的艰难起步中，主张“变者，天下之公理也”的维新派代表人物是

- A.胡适 B.李鸿章 C.梁启超 D.林则徐

11.维新变法期间创办的京师大学堂就是今天的

- A.北京大学 B.清华大学 C.南京大学 D.北京师范大学

12.近代以来，腐败的清政府多次被西方列强“惩罚”。观察右侧漫画《“惩罚”中国》，此次中国被“惩罚”导致了



“惩罚”中国

- A.中国领土主权开始遭到破坏
B.清政府变成了“洋人的朝廷”
C.中国半殖民地化程度大大加深
D.中国开始被卷入世界资本主义的漩涡

13.中国第一个全国规模的、统一的资产阶级革命政党是

- A.兴中会 B.华兴会 C.中国同盟会 D.光复会

14.有人说“辛亥革命在一片欢呼声中失败了。”你认为辛亥革命失败的根本依据是

- A.资产阶级的软弱性 B.袁世凯窃取辛亥革命的胜利果实
C.孙中山辞去临时大总统的职务 D.没有完成反帝反封建的民主革命任务

15.下列事件按时间先后排序正确的是

- ①袁世凯称帝 ②宋教仁遇刺 ③二次革命 ④护国战争

A.①②③④

B.①③②④

C.②③①④

D.④③①②

16.鲁迅的《狂人日记》这样写道：“我翻开历史一查，这历史没有年代，歪歪斜斜的每页上都写着‘仁义道德’几个字。我横竖睡不着，仔细看了半夜，才从字缝里看出字来，满本都写着两个字‘吃人’”下列关于该书及这段文字的解读，最恰当的是

A.估计成书于五四运动以后

B.描绘了一个精神不健康的狂人

C.作者借狂人之口，抨击了封建儒学的虚伪

D.作者喜欢看历史书，并且看书比较仔细

17.下图是 1920 年的一幅漫画，画中妇女所靠的刻有“三从四德”的石柱摇摇欲坠，反映了封建道德思想已经动摇。出现这种状况的主要原因是



A.中共“一大”召开的影响

B.五四运动初步胜利的影响

C.十月革命胜利对中国的影响

D.新文化运动“四提倡、四反对”的影响

18.发生在 1919 年的五四爱国运动是中国近代史上划时代的大事。它标志着中国

A.近代史的开端

B.近代化的起步

C.新民主主义革命的开端

D.进入社会主义初级阶段

19.下列历史人物出席了 1921 年 7 月在上海(最后一天改在浙江嘉兴南湖)秘密召开的会议，参加会议的共 13 人。这次会议的召开



毛泽东



何叔衡



董必武



邓恩名

- A.揭开了新民主主义革命序幕 B.使中国革命的面貌焕然一新
C.使中国首次出现了革命政党 D.开始在中国传播马克思主义

20. 以下是蒋介石在北伐战前的誓词：“嗟我将士，尔肃尔听。国民痛苦，火热水深。土匪军阀，为虎作伥。帝国主义，以梟以张。本军兴师，救国救民。……保我平等，还我自由。实行主义，牺牲个人。有进无退，革命精神。”，这次战争

- A.以反清、反帝为斗争目标 B.主要打击对象是帝国主义
C.粉碎了列强瓜分中国的阴谋 D.基本推翻了北洋军阀的统治

21. 1936年10月，中国工农红军历经艰难险阻完成了战略转移。创造了中国革命史上的伟大传奇，其中最能诠释生死攸关，历史转折的事件是



- A.胜利会师 B.过雪山草地 C.遵义会议 D.四渡赤水

22. 学者傅佩荣在2020年的国家公祭日(12月13日)说，遗忘历史的人终将重蹈覆辙，铭记我们民族遭受的苦难，才更加清楚自己应该肩负的责任和使命。国家公祭日是一个国家为纪念曾经发生过的重大民族灾难而设立的国家纪念活动，下列哪一事件与设立国家公祭日有关

- A.卢沟桥事变 B.台儿庄战役 C.南京大屠杀 D.百团大战

23. “苦难十四年，日本和汉奸，压迫老百姓，有苦不能言”中的“苦难十四年”始于

- A.九一八事变 B.一二八事变 C.七七事变 D.南京大屠杀

24. 西安事变与重庆谈判都是中国近代史上的重大事件，二者的相同点有

- ①中国共产党都做出了积极的努力 ②毛泽东都直接参与其中
③都初步出现了有利于中华民族的结果 ④都为国共进一步合作奠定了基础

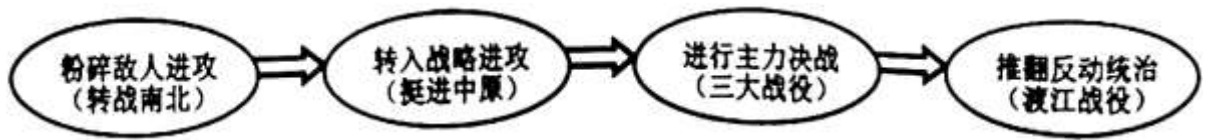
- A.①② B.③④ C.①③ D.②④

25. 1947年6月30日，晋冀鲁豫解放军主力强渡黄河，千里跃进大别山，揭开人民解放军战略进攻的序幕。其领导人是

- A.贺龙、林彪 B.陈毅、粟裕 C.毛泽东、彭德怀 D.刘伯承、邓小平



26. 下面的示意图有助于我们了解



- A. 人民解放战争的主要进程
- B. 国民大革命的主要进程
- C. 中国新民主主义革命发展的历程
- D. 中国逐步走出半殖民地半封建社会的过程

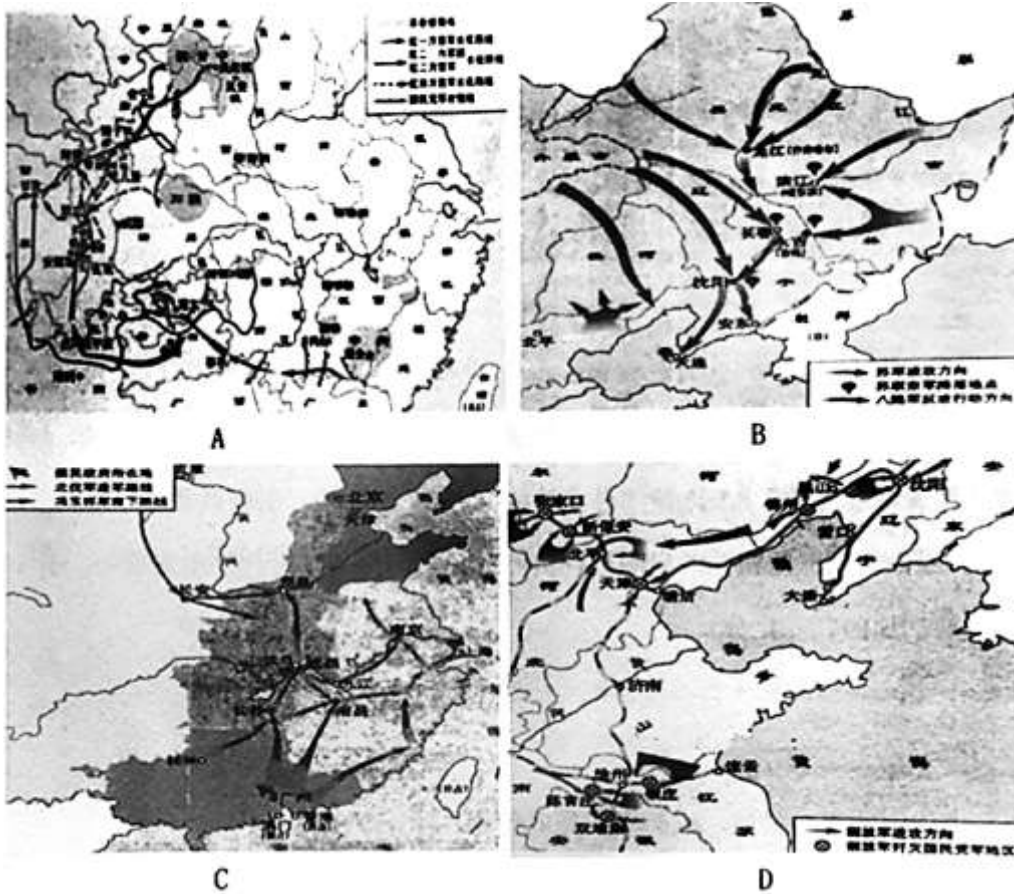
27. 阅读淮海战役人民支援前线统计表，据此说明解放战争胜利的重要原因是

- A. 解放军的英勇作战
- B. 共产党的正确领导
- C. 人民的积极支持
- D. 解放军武器先进



民工	543 万人
担架	30.5 万副
大小车	88 万辆
牲畜	76.7 万头
船只	8600 只
筹粮	9.6 亿斤
挑子	20.6 万副

28. 下列各图反映国民党反动派发动内战的主要军事力量被基本消灭，使人民解放战争在全国的胜利成为定局的是



29. 他是清末状元，一生创办了 20 多个企业、370 多所学校。他为中国近代民族工业的兴起、为教育事业的发展作出了宝贵贡献，他是

A.孙中山

B.张謇

C.梁启超

D.李鸿章

30.下列事件在 1905 年不可能发生的是

A.北京东交民巷有中国人居住

B.在中国沿用了一千三百多年的科举制度被废除

C.詹天佑被任命为总工程师，负责修建京张铁路

D.人们可以通过《申报》了解到国内外发生的重大事件

第二部分 非选择题(共 40 分)

31.(11 分)阅读材料，完成下列要求。

【看图说史】



材料一



(1)材料一的四幅图片是近代中国遭受列强四次侵略的掠影。请将上述图片反映的历史事件按时间先后顺序排序(写出正确选项的序号): (1 分)经历了四次震荡的中国, 社会性质发生了怎样的变化?(按顺序一一说明)(4 分)

A.图 4 图 1 图 3 图 2

B.图 3 图 1 图 4 图 2

C.图 3 图 2 图 4 图 1

D.图 1 图 3 图 2 图 4

排序:

变化:

【材料析史】

材料二 中国文武制度，事事远出西人之上、独火器万不能及……中国欲自强，则莫如学习外国利器；欲学习外国利器，则莫如宽制器之器，

——摘自李鸿章《筹办夷务始末》

(2)概述材料二李鸿章提出的“中国欲自强”的核心内容是什么?(不得照抄原文)(1分)

【历史回眸】

材料三



图5江南制造总局



图6 《定国是诏》



图7孙中山



图8 《青年杂志》

(3)图5是在_____ (地点)创建的：(1分)图8杂志的创办者是_____。(1分)

(4)依据材料三图片所涉及的四个重大事件可以将其概括为“自强求富”、“变法强国”、“民主共和”、“思想解放”，请将下表空白处填写完整。(2分)

	反映的重大事件
自强求富	洋务运动
变法强国	戊戌变法
民主共和	_____
思想解放	_____



【历史探究】

(5)通过上述材料，请你归纳总结中国近代化探索历程的特点?(1分)

32.(10分)家国情怀是历史学科的核心素养之一。阅读下列材料，回答问题。

材料一 他受命于钦差大臣，后赴广东虎门销烟、“苟利国家生死以、岂因祸福避趋之”是他爱国情怀的真实写照，

——摘自初中历史教学参考书

(1)材料一中的“他”是谁?(1分)虎门销烟有何历史意义?(2分)

材料二



(2)依据材料二所示信息，戊戌变法失败后，在就义前大声说：“有心，无力回天、死得其所。快哉快哉!”的人物是谁!(1分)其中“贼”是指谁?(1分)这场变法运动对中国近代社会产生了怎样的深远影响?(1分)

材料三 五四运动以全民族的行动激发了追求真理、求进步的伟大觉醒，五四运动前后，我国一批光进知识分子和革命青年，在追求真理中传播新思想新文化、勇于打破封建思想的桎梏，猛烈抨击了几千年来的封建旧礼教，旧道德，旧思想，旧文化，改变了以往只有觉悟的革命者而缺少觉醒的人民大众的斗争状况，实现了中国人民和中华民族自鸦片战争以来第一次全面觉醒，

——习近平纪念五四运动 100 周年大会上的讲话

(3)依据材料三，概括五四运动的作用和特点、(2分)

材料四 人民网、新浪网等组织了一次关于“五四精神的网络调查。受访者中，40.2%选择“爱国主义”，23.4%选择“民主精神”，20.8%选择“科学精神”，15.6%选择“创新精神”。

(4)依据材料四你认为五四精神的内涵是什么?(1分)作为新时代的中国青年，你对五四精神的时代价值是如何理解认识的?(1分)

33.(11分)请你阅读下列材料，根据要求完成问题，

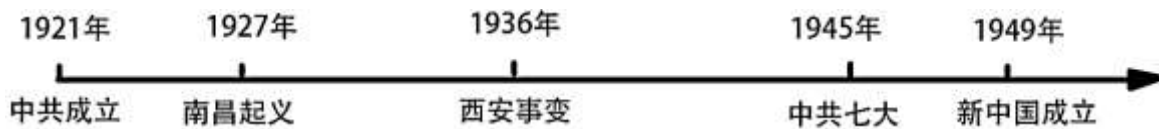
材料一(中国)不是一个独立的民主的国家，而是一个半殖民地的半封建的国家，在内部没有民主制度，而受封建制度压迫；在外部没有民族独立而受帝国主义压迫.....在这里，共产党的任务——不是先占城市后取农村，而是走相反的道路。

——毛泽东

(1)依据材料一你认为近代中国民主革命的基本任务是什么?(1分)国民大革命失败后，毛泽东创造性地开辟了一条怎样的中国革命道路?(2分)

材料二

新民主主义革命大事简图



(2)在材料二《新民主主义革命大事简图》中 1936年爆发了西安事变，西安事变的和平解决有何积极影响?(2分)

材料三抗日战争是近百年来中国人民第一次取得完全胜利的伟大民族解放战争.中国之所以能够进行这场前所未有的全民族抗战并取得胜利，是由于近百年来中国人民的空前觉醒和中华民族团结御侮的凝聚力，更为重要的是，这时中国已经有了使自己走向伟大复兴的先进的政治力量——中国共产党，中国共产党作为中国抗日战争的中流砥柱，是民族解放战争获取完全胜利的首要条件，抗日民族统一战线的建立，坚持和发展，是争取抗日战争胜利的基本保证，中国共产党领导人民武装坚持独立自主的抗日游击战争及时而大胆地向敌占区进军，放手发动人民群众，建立抗日根据地，开辟广大的敌后战场，成为取得抗战胜利的决定因素，中国共产党所以能够在争取抗日战争胜利的斗争中起决定性作用，是由于党善于把马克思列宁主义基本原理与中国革命的具体实际紧密结合起来，成为中国人民革命事业当之无愧的领导核心，

世界反法西斯战争在欧洲、亚洲太平洋等战场的巨大胜利，有力地支援了中国的抗战。苏、美、英等盟国给中国抗战以人力，物力的援助。世界许多国家的共产党人和进步人士，还以各种方式支援中国。所有这些，都成为鼓舞中国人民坚持抗战直到最后胜利的重要因素。

——摘编自《中国共产党历史》第一卷

(3)依据材料三，并结合所学，归纳中国取得十四年抗战胜利的原因。(4分)

材料四 据统计，中央红军长征路上一共 368 天，有 15 天用于打大的决战，有 235 天用于白天行军，有 18 天用于夜晚行军；整个长征途中，只休息了 44 天，平均走 182 公里才休整一次，日均行军 37 公里；共翻越了 18 条山脉，其中 5 条山脉终年积雪；渡过了 24 条河流；穿越了 11 个省；突破了 10 个地方军阀的封锁包围；从瑞金出发时有 8.6 万人，到达陕北时，仅剩 6500 人，平均每行进 1 公里，就有 3 至 4 名战士壮烈牺牲……

——摘编自中共党史研究室文献

(4)依据材料四并结合所学知识，谈谈你对“长征精神”的理解。(1分)

(5)通过对以上问题的探究，你得到了什么启示?(1分)

34.(8分)近代中国在社会经济、社会生活等方面都发生了巨大变化，阅读下列材料，回答问题。

材料一

清末中国民族资本主义企业情况



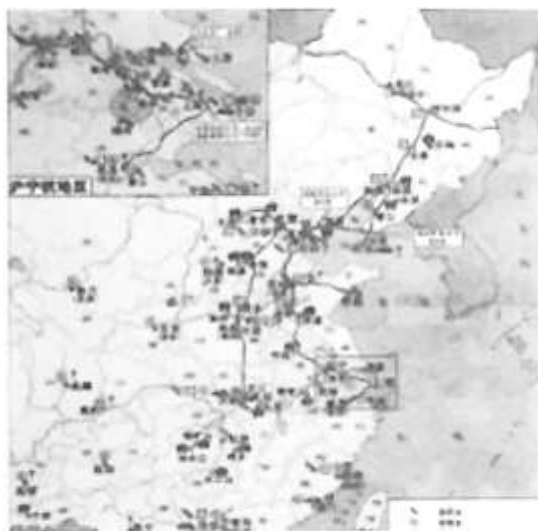
年份	厂矿数	资本额(百万元)	资本占中国民族工业比
1872-1895 年	69	8.534	33.01

1896-1911年	330	73.121	57.88
------------	-----	--------	-------

——数据引自王建朗、黄克武主编《两岸新编中国近代史晚清卷》下

(1)依据材料一，概括甲午中日战争后中国民族资本主义发展的趋势，(1分)结合所学说明出现这一趋势的原因。(1分)

材料二 见下图



近代民族工业分布示意图

(2)右图是我国近代民族工业分布示意图，根据图示可以看出我国近代民族工业分布的特点是(选择正确序号)(1分)并分析其形成的原因。(1分)

- A.主要分布在西南地区
- B.主要分布在青藏地区
- C.主要分布在西北内陆地区
- D.主要分布在东南沿海地区

特点:

形成原因:

近代民族工业分布示意图

材料三

民国时期中国民族工业发展变化统计表

年份	拥有厂家	拥有资本	工人人数
1913	689家	33亿元	27万多
1920	1795家	50亿元	55万多

(3)材料三《民国时期中国民族工业发展变化统计表》反映了什么现象?(1分)结合所学概括出现这一现象的原因是什么?(1分)

材料四 五四运动提倡新生活成为当时进步青年的主张。当时妇女的面貌(服饰、发型等)变化较大，提倡个性解放，主张男女平等和妇女参政。新式知识分子对传统家庭进行了批判，家庭婚姻观念发生了根本的变化。



——《五四运动研究综述》

(4)材料四反映的是五四运动时期哪一方面的变化?(1分)这一变化是哪种思想直接影响的结果?(1分)

2021 北京门头沟初二(上)期末历史

参考答案

一、选择题



1. 【答案】A

【解析】

【详解】结合所学可知，虎门销烟成为打击毒品的历史事件。虎门销烟开始的6月3日，民国时被定为不放假的禁烟节，而销烟结束翌日即6月26日也是国际禁毒日。故A符合题意；左宗棠收复新疆，维护了祖国统一，与销烟无关，故B不符合题意；黄海战役属于甲午中日战争，与销烟无关，故C不符合题意；抗倭斗争指的是中国人与日本人的抗争，与销烟无关，故D不符合题意；故选A。

2. 【答案】B

【解析】

【详解】据材料“今天皇帝准将香港一岛给予大英国...任便立法治理”，结合所学可知，1842年鸦片战争中清政府战败，被迫与英国签订《南京条约》；中英签订《南京条约》，被迫割香港岛给英国；这是中国近代第一个不平等条约，故B符合题意；《南京条约》并没有提高中国的影响力，故A不符合题意；中英之间不是平等贸易，故C不符合题意；中国完全沦为半殖民地半封建社会是《辛丑条约》的影响，故D不符合题意；故选B。

3. 【答案】D

【解析】

【详解】题目所问的是“根本原因”，结合所学知识，英国从18世纪60年代开始进行工业革命，在1840年左右基本完成工业革命，此时，英国的生产力得到了极大的提高，产品生产量急速上升，急需寻找海外倾销地和廉价的原料产地。中国作为一个巨大的市场，对英国有着巨大的吸引力，但由于其闭关锁国政策和小农经济，英国难以对中国进行商品倾销，阻碍了其经济的发展和扩张，故发动两次鸦片战争来打开中国的市场，谋求在华权益。列强发动战争的根本目的也是如此，故D符合题意；教训清政府不属于根本原因，故A不符合题意；维护鸦片贸易合法化也是为了打开中国市场，谋求在华权益。故B不符合题意；仅八国联军发动侵华战争的原因之一有镇压中国人民的革命运动，故C不符合题意；故选D。

4. 【答案】C

【解析】

【详解】结合所学可知，第二次鸦片战争中，英法联军火烧圆明园，抢走了十二属相的铜像，故C符合题意；俄军和八国联军没有参与火烧圆明园，故AD不符合题意；不单是英军一方参加火烧圆明园，还有法军，故B不符合题意；故选C。

5. 【答案】D

【解析】

【分析】

【详解】根据材料内容可知题干强调的政权是俄罗斯，第二次鸦片战争前后，俄国趁火打劫，强迫清政府签订《瑷珲条约》等一系列条约，共割占中国东北和西北领土 150 多万平方公里，可以证明“终为中国患者，其俄罗斯乎”这个预见是正确的。故选 D；ABC 不符合题意，排除。

6. 【答案】B

【解析】

【详解】结合所学可知，开平煤矿是洋务运动时期创办民用工业，而非军事工业，故 B 符合题意；福州船政局、安庆内军械所和江南制造总局，属于洋务运动时期创办的军事工业，故 ACD 不符合题意；故选 B。

7. 【答案】C

【解析】

【分析】

【详解】依据题干的表格内容，结合所学知识可知，洋务运动时期开办了新式学堂京师同文馆，旨在培养外交人才和翻译人才，培养了新式人才和科技人才，培养了外交人才，促进了近代化教育的发展。洋务运动创办的京师同文馆课程计划表有利于培养近代外交、科技人才。C 项符合题意；ABD 三项的内容在题干材料中不能体现，不符合题意；故选 C。

8. 【答案】C

【解析】

【详解】根据图片中的文字并结合所学知识可知，1851 年，以洪秀全领导的太平天国运动在广西省金田村爆发，其势力迅速扩大，1853 年攻下南京，并定都于此，改南京为天京。之后太平天国西征北伐，扩大自己的势力范围。1856 年天京事变后，太平天国逐渐衰落，1864 年天京陷落标志着太平天国运动失败。故 C 符合题意；李自成起义的时间 1627 到 1645 年，与题干时间不符，故 A 不符合题意；义和团运动存在的时间是 1899 年秋-1900 年 9 月 7 日，与题干时间不符，故 B 不符合题意；八国联军侵华战争的时间是 1900 年，与题干时间不符，故 D 不符合题意；故选 C。

9. 【答案】B

【解析】

【分析】

【详解】根据材料内容，结合所学可知，在中日黄海战役中英勇牺牲的民族英雄是邓世昌，1894 年 9 月，清政府北洋舰队在黄海大东沟海域，遭到日本舰队袭击，致远舰管邓世昌率舰冲锋向前，激战中，致远舰多处中弹，邓世昌下令，开足马力，直冲敌舰，日舰躲避，同时施放鱼雷，击中致远舰，邓世昌与全舰官兵壮烈牺牲，B 符合题意；丁汝昌是威海卫战役中自杀的将领，A 不符合题意；徐邦道指挥的土城子阻击战是甲午战争爆发以来清军的一次重大胜利，他没有牺牲，C 不符合题意；左宝贵是平壤战役中牺牲的将领，D 不符合题意；故选 B。

10. 【答案】C

【解析】

【分析】



【详解】依据课本所学，梁启超在《时务报》上发表《变法通议》，强调“法者，天下之公器也；变者，天下之公理也”，日本因变法强大，中国如果不变法，将会因守旧而灭亡。C项符合题意；道光帝派林则徐为钦差大臣，前往广东禁烟。林则徐是地主阶级。A项不合题；李鸿章是地主阶级洋务派在地方的代表，B项不合题意；胡适是新文化运动的领导者，是资产阶级激进派。D项不合题意。由此可知ABD三项不合题意，故选择C。

11. 【答案】A

【解析】

【详解】根据所学知识可知，1898年戊戌变法时期的京师大学堂，京师大学堂是中国近代史上第一所国立综合性大学，它既是全国最高学府，又是国家最高教育行政机关，统辖各省学堂，它是现在北京大学的前身，故A符合题意；清华大学的前身清华学堂始建于1911年，因水木清华而得名，是清政府设立的留美预备学校，故B不符合题意；南京大学其前身是创建于1902年的三江师范学堂，故C不符合题意；北京师范大学的前身是1902年创立的京师大学堂师范馆，故D不符合题意；故选A。

12. 【答案】B

【解析】

【分析】

【详解】观察漫画《“惩罚”中国》中“八位强人正在合力痛打一位弱者”可知，这与八国联军侵华战争有关。1900年6月，为镇压中国人民的反抗侵略的斗争，俄、英、美、日、德、法、意、奥八个国家拼凑了2000多人的队伍，向北京进犯1901年9月，清政府全权大臣李鸿章与八国联军签订了丧权辱国的《辛丑条约》，规定清政府严禁中国人民参加反帝爱国斗争，这表明清政府已经完全成为帝国主义统治中国的工具，沦为了“洋人的朝廷”，中国完全沦为半殖民地半封建社会，故选B；A是鸦片战争的影响，排除；C是甲午中日战争的影响，排除；D是鸦片战争的影响，排除。

13. 【答案】C

【解析】

【分析】

【详解】1905年，孙中山在日本东京成立了中国同盟会，这是中国第一个全国规模的、统一的资产阶级革命政党，它的成立，大大推动了全国的资产阶级民主革命运动，故选C；ABD都是资产阶级革命团体，排除。

14. 【答案】D

【解析】

【分析】

【详解】之所以说辛亥革命失败是因为袁世凯窃取了辛亥革命的果实，仍然代表地主阶级和外国势力的统治，中国半殖民地半封建社会性质没有改变，反帝反封建的革命任务没有完成，所以 D 项符题意；资产阶级软弱是辛亥革命失败的原因，排除 A；袁世凯窃取革命果实是失败的标志，而不是根本依据，排除 B；孙中山辞去临时大总统的职务，只是辛亥革命失败的表面现象，排除 C。

15. 【答案】C

【解析】

【分析】

【详解】1913年3月20日，国会开会前夕，国民党代理理事长宋教仁被杀。4月，袁世凯又非法签订善后大借款，准备发动内战，消灭南方革命力量。孙中山看清袁世凯的反动面目，从日本回国，力主武装讨袁。发动二次革命，结果失败。袁世凯称帝是在1915年12月；护国战争起因是袁世凯在1915年12月于北京宣布接受帝制，南方将领唐继尧、蔡锷、李烈等在云南宣布独立，并且出兵讨袁，袁世凯绝望而死。②③①④符合题意。故选 C；ABD 不符合题意，排除。

16. 【答案】D

【解析】

【分析】

【详解】1918年，鲁迅在《新青年》上发表短篇小说《狂人日记》。这是中国现代文学史上第一篇白话小说，鲁迅在小说中借狂人之口愤怒揭露了延续几千年的封建礼教吃人的真面目，对封建统治和封建道德进行了深刻批判。故选 D；ABC 不符合题意，排除。



17. 【答案】A

【解析】

【分析】

【详解】依据所学知识可知，“三从四德”是封建社会提倡妇女应遵循的道德规范，是封建正统思想的组成部分。新文化运动提倡民主，反对独裁专制；提倡科学，反对迷信盲从；提倡新道德，反对旧道德；提倡新文学，反对旧文学；主张学习西方先进文化，把矛头指向中国旧文化、旧思想和旧道德观念，从而在社会上掀起一股生气勃勃的思想解放潮流。故 A 符合题意；BCD 不符合题意，故选 A。

18. 【答案】C

【解析】

【分析】

【详解】依据已学知识可知五四爱国运动是一次彻底的反对帝国主义和封建主义的爱国运动，是中国新民主主义革命的开始，故选 C。

19. 【答案】D

【解析】

【分析】

【详解】根据材料内容的时间“1921年7月”，地点“上海（最后一天改在浙江嘉兴南湖）”和“与会人数为13人”及图片中人物可知，这次会议是中共一大，它的召开标志着中国共产党的成立，中国共产党的成立是中国历史上开天辟地的大事，自从有了中国共产党，中国革命的面貌就焕然一新了。A项新文化运动后期开始在中国传播马克思主义；B项1919年五四运动拉开新民主主义革命序幕；C项中国首次出现了革命政党是1905年孙中山成立的中国同盟会。故选D。

20. 【答案】D

【解析】

【分析】

【详解】根据材料“土匪军阀，为虎作伥。帝国主义，以梟以张。本军兴师，救国救民”可知北伐目标是反帝反军阀，经过两年的征战，北伐战争取得巨大成功，基本推翻了北洋军阀的统治，故选D；A是辛亥革命的目标，排除；B与材料内容不符，排除；C是义和团运动的意义，排除。

21. 【答案】C

【解析】

【分析】

【详解】1936年10月，中国工农红军历经艰难险阻完成了战略转移。创造了中国革命史上的伟大传奇，其中最能诠释生死攸关的历史转折点的是遵义会议。1935年1月的遵义会议在革命最危急的关头挽救了党，挽救了红军，挽救了中国革命，故选C；ABD不符合题意，排除。

22. 【答案】C

【解析】

【详解】结合所学可知，设立国家公祭日，是国家意志，是为了悼念南京大屠杀遇难同胞，故C符合题意；卢沟桥事变是全面抗战的开始，故A不符合题意；台儿庄战役是中国正面战场最大的胜利之一，故B不符合题意；百团大战是抗日战争相持阶段八路军在华北地区发动的一次规模最大、持续时间最长的战役。故D不符合题意；故选C。

23. 【答案】A

【解析】

【分析】

【详解】1931年9月18日，九一八事变爆发。九一八事变爆发后，由于蒋介石的不抵抗政策，第二天清晨，日军占领沈阳城。随后，日军又陆续侵占了东北三省。东北人民和未撤走的东北军部队组织起抗日义勇军，抵抗日军的侵略，中国人民进入局部抗战时期。BCD不符合题意，故选A。

24. 【答案】C

【解析】

【分析】

【详解】根据所学知识，西安事变时，党中央派周恩来来到西安调停；重庆谈判后，1946年6月，蒋介石撕毁双十协定，对中原解放区发动疯狂进攻，全国内战爆发。选项中C符合题意，故选C。

25. 【答案】C

【解析】

【分析】



【详解】依据所学可知，1947年夏，刘伯承、邓小平率领晋冀鲁豫解放军主力，在山东西南强渡黄河，向国民党统治区发动大规模进攻，他们直插敌人兵力空虚的大别山地区，人民解放军转入战略进攻，刘邓大军开辟大别山根据地，严重威胁国民党统治中心南京和湖北重镇武汉，揭开人民解放军战略进攻的序幕，C项符合题意；毛泽东、周恩来等撤离延安后，率领中共中央和解放军总部一直转战陕北，指挥解放战争，彭德怀、贺龙率领西北人民解放军，进行多次战役，粉碎了敌人的进攻，ABD三项的人物都不是挺进大别山的人物，不符合题意，排除；故选C。

26. 【答案】A

【解析】

【分析】

【详解】1946年6月，国民党进攻中原解放区，内战全面爆发，国民党的全面进攻失败后，转为重点进攻，目标是陕甘宁解放区和山东解放区，中共中央转战陕北，粉碎了国民党对陕甘宁解放区的进攻。1947年6月，刘邓大军挺进中原，开辟了大山根据地，揭开了人民解放战争战略进攻的序幕。1948年9月—1949年1月，中国共产党发动辽沈、平津、淮海三大战役，歼敌150多万，基本上消灭了国民党的主力，为解放江南奠定了基础。1949年4月，中国共产党发动渡江战役，解放南京，国民党政权垮台，取得了解放战争的胜利。故选A；BCD不符合题意，排除。

27. 【答案】C

【解析】

根据材料中的信息“人民支援前线”，可知这个表格反映出来的内容是人民的积极支持。A、B项说法正确，但与材料无关，D项说法不正确。故选C。

28. 【答案】D

【解析】

【分析】

【详解】在人民解放军的战略决战三大战役中，人民解放军共歼灭和改编国民党军队一百五十多万人，国民党军队主力基本被消灭，从而大大加速了人民解放战争在全国的胜利。使人民解放战争在全国的胜利成为定局，根据图示可知D符合题意，故选D；A是长征图，排除；B是1945年苏军进攻东北日军图，排除；C是北伐战争图，排除。

29. 【答案】B

【解析】

【详解】结合所学可知，张謇是光绪二十年（1894年）状元，中国近代实业家、政治家、教育家、书法家。故B符合题意；孙中山是近代的革命家，非清末状元，故A不符合题意；梁启超是维新变法运动的主要领导者，为创办企业，故C不符合题意；李鸿章是洋务派的代表，展开了洋务运动，未创办三百多所学校，故D不符合题意；故选B。

30. **【答案】** A

【解析】

【分析】

【详解】1901年《辛丑条约》中规定东交民巷为使馆界，不准中国人居住。A符合题意，故选A；BCD在1905年都可以发生，不符合题意，排除。

二、非选择题

31. **【答案】** (1) B

(2) 学习西方的器物。

(3) 上海；陈独秀。

(4) 辛亥革命；新文化运动。

(5) 学习西方的器物到学习西方的制度再到学习西方的思想，由表及里，由浅及深。

【解析】

【详解】(1)结合所学可知，图一中英《天津条约》是在1856-1860年，第二次鸦片战争后签订的；图二八国联军侵华发生在1900年；图三《南京条约》是在1840-1842年鸦片战争后签订的；旅顺大屠杀发生在1894年甲午战争中发生的，故按着时间排序是：图3图1图4图2，故选B。

(2)根据材料“中国欲自强，则莫如学习外国利器”，可知，李鸿章提出的“中国欲自强”的核心内容是学习西方的器物。

(3)依据所学可知，图1军事工业是江南制造总局，是李鸿章在上海创办的；图8《新青年》杂志是1915年陈独秀在上海创办的。

(4)依据所学可知，开近代探索之先：洋务运动引进西方先进的科学技术，使中国出现了第一批近代工业。洋务运动为中国近代工业积累了生产经验，培养了技术力量，在客观上为中国民族资本主义的产生和发展起到了促进作用，是中国近代化的开端。圆变法救国之梦：戊戌变法中资产阶级改良派试图通过清政府在各方面的变法，来使国家逐步走上富强之路。启思想解放之门：新文化运动中，陈独秀等知识分子，以《新青年》为阵地，提倡民主、科学等思想，促进了人们的思想解放。

(5)根据材料四，再依据所学可知，中国的近代化探索从学习西方的器物历程是从学习西方的器物到学习西方的政治制度再到学习西方的思想文化。由表及里，由浅及深。

32. **【答案】** (1) 林则徐；打击了外国侵略者的气焰，表明了中国人民维护民族尊严的决心。

(2) 谭嗣同：以慈禧太后为首的顽固派；在思想文化方面产生广泛而深远的影响。

(3) 地位：五四运动是中国新民主主义革命的开端。作用：解放了思想，促进了民族觉醒；促进了马克思主义在中国的传播；无产阶级开始登上政治舞台并逐步成为中国革命的领导阶级。

(4) 爱国主义、民主精神、科学精神、创新精神；爱国主义是五四精神的主旋律，五四运动激发我们追求真理、坚持科学创新，为国家发展而奋斗。

【解析】



【分析】

【详解】 (1) 据材料一及所学知识可知，材料一中的“他”是林则徐。1839年6月3日，林则徐下令将缴获的鸦片，在虎门海滩当众销毁，虎门销烟是中国人民禁烟斗争的伟大胜利，打击了外国侵略者的气焰，表明了中国人民维护民族尊严的决心。

(2) 根据所学可知，戊戌变法失败后，谭嗣同甘愿为变法流血牺牲，不愿意离开，他被杀于菜市口，临终时喊出“有心杀贼……”，谭嗣同就义前所说的“贼”指的是以慈禧太后为首的顽固派。戊戌变法对中国近代思想文化产生广泛而深远的影响。

(3) 地位：根据“五四运动改变了以往只有觉悟的革命者而缺少觉醒的人民大众的斗争状况，实现了中国人民和中华民族自鸦片战争以来第一次全面觉醒”并结合所学容可知，从地位上来说，五四运动是中国新民主主义革命的开端。作用：从作用上来说，五四运动起到了促进思想解放、传播马克思主义的作用，并且在这次运动中无产阶级开始登上历史舞台并成为中国革命的领导阶级。

(4) 根据材料四“关于‘五四精神’的网络调查。受访者中，40.2%选择‘爱国主义’……”结合所学可知五四运动的内涵是爱国主义、民主精神、科学精神、创新精神。对五四运动的认识是一个开放性试题，因此言之有理即可，可从爱国主义是五四精神的主旋律，五四运动激发我们追求真理、坚持科学创新，为国家发展而奋斗进行回答。

33. **【答案】** (1) 反帝反封建或独立、民主；农村包围城市，武装夺取政权。

(2) 西安事变的和平解决，标志着国内和平的基本实现，是党的抗日民族统一战线政策实施的重大胜利。它对推动国共两党再次合作、团结抗日，起了重大的历史作用，成为由国内革命战争走向抗日民族战争的转折点。西安事变和平解决成了时局转换的枢纽，表明在新的形势下的国内的合作形成了，全国的抗日战争发动了。

(3) 中国人民的空前觉醒和中华民族团结御侮的凝聚力，国共联合的全民族统一抗战路线的建立；中国共产党的中流砥柱作用；世界爱好和平的人民支援。

(4) 长征精神就是不怕牺牲、前赴后继的精神，勇往直前、坚韧不拔的精神，众志成城、团结互助的精神，百折不挠、克服困难的精神等。

(5) 只有中国共产党才能救中国，才能发展中国。或要有坚韧不拔的信念不畏艰难曲折的勇气，方可取得事业的成功等。

【解析】

【详解】(1) 第一问根据材料“(中国)不是一个独立的民主的国家, 而是一个半殖民地的半封建的国家, 在内部没有民主制度, 而受封建制度压迫; 在外部没有民族独立而受帝国主义压迫”可知, 近代中国民主革命的基本任务是反帝反封建(或独立、民主); 第二问依据所学知识可知, 1927年9月, 秋收起义失败后, 毛泽东率领工农革命军, 向湘赣边的井冈山进军, 建立了中国第一个农村革命根据地--井冈山革命根据地。从此, 开创了一条中国革命的道路--农村包围城市, 武装夺取政权的道路。

(2) 结合所学可知, 西安事变的和平解决, 标志着国内和平的基本实现, 是党的抗日民族统一战线政策实施的重大胜利。它对推动国共两党再次合作、团结抗日, 起了重大的历史作用, 成为由国内革命战争走向抗日民族战争的转折点。西安事变和平解决成了时局转换的枢纽, 表明在新的形势下的国内的合作形成了, 全国的抗日战争发动了。

(3) 由材料“中国之所以能够进行这场前所未有的全民族抗战并取得胜利, 是由于近百年来中国人民的空前觉醒和中华民族团结御侮的凝聚力。更为重要的是, 这时中国已经有了使自己走向伟大复兴的先进的政治力量, 中国共产党苏、美、英等理国给中国抗战以人力、物力的援助。世界许多国家的共产党人和进步人士, 还以各种方式支援中国”可知, 中国“进行这场前所未有的全民族抗战并取得胜利”的原因包括中国人民的空前觉醒和中华民族团结御侮的凝聚力; 国共联合的全民族统一抗战路线的建立; 中国共产党的中流砥柱作用; 世界爱好和平人民的援助。

(4) 依据题干材料内容对红军长征的具体描述, 结合所学可以感受到不怕牺牲、前赴后继的精神, 勇往直前、坚韧不拔的精神, 众志成城、团结互助的精神, 百折不挠、克服困难的长征精神。长征精神是指红军在长征途中表现出的对革命理想和事业无比的忠诚、坚定的信念, 表现出的不怕牺牲、敢于胜利的无产阶级乐观主义精神, 表现出的顾全大局、严守纪律、亲密团结的高尚品德。总的来说长征精神就是不怕牺牲、前赴后继的精神, 勇往直前、坚韧不拔的精神, 众志成城、团结互助的精神, 百折不挠、克服困难的长征精神。长征精神是中华民族百折不挠、自强不息的民族精神的最高表现, 是保证我党领导革命和建设事业从弱小走向强大精神力量。

(5) 通过对以上问题的探究, 毛泽东开创了一条中国革命的道路--农村包围城市, 武装夺取政权的道路。西安事变的和平解决, 标志着国内和平的基本实现, 是党的抗日民族统一战线政策实施的重大胜利。中国“进行这场前所未有的全民族抗战并取得胜利”; “长征精神”, 可见, 只有中国共产党才能救中国, 才能发展中国。或要有坚韧不拔的信念不畏艰难曲折的勇气, 方可取得事业的成功等。

34. 【答案】(1) 趋势: 我国民族工业快速发展。原因: 辛亥革命的成功, 冲击了封建制度, 促进了中国民族资本主义工业的发展。海外华侨竞相投资国内近代企业。第一次世界大战期间, 帝国主义国家忙于战争, 暂时放松了对中国经济的掠夺, 中国民族工业得到了一个发展机会, 进入“黄金时代”。

(2) D。

(3) 厂家数量增多、规模扩大; 西方列强忙于欧洲战事, 暂时放松了对中国的侵略; 民国初期政府推行促进经济发展的措施; 抵制日货的爱国运动推动等。

(4) 社会风俗的变化; 反封建、反传统、反旧道德等。

【解析】



【详解】（1）据材料“民国初期历年新注册工厂数”并结合所学知识可知，这一时期中国民族工业发展的趋势是我国民族工业快速发展。结合所学可知，出现这一趋势的原因是，辛亥革命的成功，冲击了封建制度，促进了中国民族资本主义工业的发展。海外华侨竞相投资国内近代企业。第一次世界大战期间，帝国主义国家忙于战争，暂时放松了对中国经济的掠夺，中国民族工业得到了一个发展机会，进入“黄金时代”。

（2）结合所学可知，中国近代的民族工业在帝国主义，封建主义和官僚资本主义的在座大山的夹缝中求生存，图发展，总的来说比较落后的，从行业上看主要集中在轻工业部门。地区之间的发展也很不平衡，上海、武汉等沿海沿江大城市的民族工业比较发达，而广大内地却非常薄弱。依据我国近代民族工业分布示意图,根据图示可以看出我国近代民族工业分布的特点是主要分布在东南沿海地区。故选 D。

（3）根据材料可知，1913 年到 1920 年，厂家数量增多、规模扩大；结合所学可知，1913 年-1920 年，中国民族工业之所以出现短暂发展的“春天”，是因为列强忙于一战，放松了对中国的经济侵略，民国初期政府推行促进经济发展的措施；抵制日货的爱国运动推动等。

(4)根据材料“五四运动提倡新生活成为当时进步青年的主张。当时妇女的面貌(服饰、发型等)变化较大，提倡个性解放，主张男女平等和妇女参政”，结合所学知识可知，材料反映的是五四运动时期社会风俗的变化;这一变化是反封建、反传统、反旧道德等思想直接影响的结果。

