



# 北京市平谷区 2019 年中考统一练习(一)

## 地理 试卷

2019.4

注意事项

1. 本试卷共 12 页,包括两道大题,45 道小题,满分 90 分。考试时间 90 分钟。
2. 在试卷和答题卡上准确填写学校名称、班级、姓名和考号。
3. 试题答案一律填涂或书写在答题卡上,在试卷上作答无效。
4. 在答题卡上,选择题用 2B 铅笔作答,其他试题用黑色字迹签字笔作答。
5. 考试结束,请将答题卡交回。

一、选择题(每小题只有一个正确选项,请把正确选项的字母填涂在答题卡的相应位置,多选、错选均不得分,每小题 1 分,共 40 分)

1. 将一盏电灯放在桌子上代表太阳,在电灯旁放置一个地球仪代表地球,自左向右匀速拨动地球仪,模拟地球运动。读图 1 回答,该实验能够演示的地理现象是
  - A. 昼夜长短变化
  - B. 昼夜的交替
  - C. 四季更替
  - D. 北京地区有无太阳直射现象




图 1

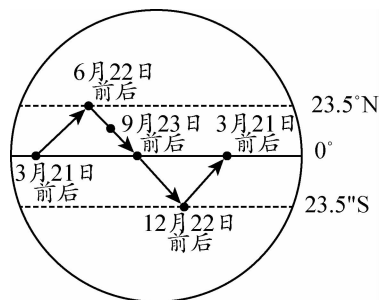


图 2

2019 年十三届全国人大二次会议于 2019 年 3 月 5 日至 15 日在京召开。2019 年全国政协十三届二次会议于 2019 年 3 月 3 日至 13 日在北京召开。全国“两会”代表到北京参政议政国家大事。读材料和图 2,回答 2~4 题。

2. 读图 2,全国“两会”期间太阳直射点的移动方向是
  - A. 向东
  - B. 向南
  - C. 向西
  - D. 向北
3. 下列诗句中,符合“两会”所在季节的是
  - A. 欲渡黄河冰塞川,将登太行雪满山
  - B. 沾衣欲湿杏花雨,吹面不寒杨柳风
  - C. 荷尽已无擎雨盖,菊残犹有傲霜枝
  - D. 黄梅时节家家雨,青草池塘处处蛙
4. 各位代表参加“两会”期间,使用频次最多的交通运输方式是
  - A. 航空运输
  - B. 铁路运输
  - C. 公路运输
  - D. 内河航运

5. 读图 3 回答,若某人在乙处观察地球仪,此人所见的经纬网图正确的是

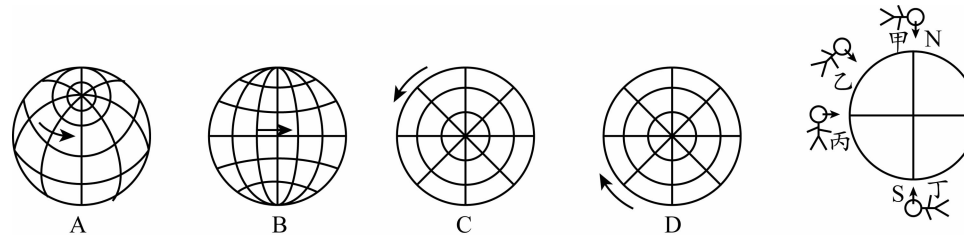
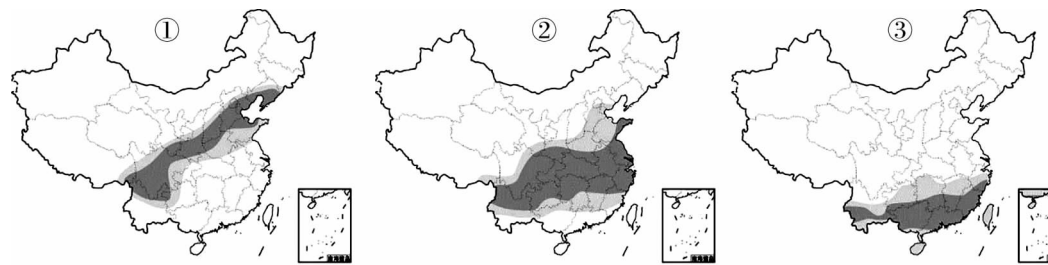


图 3

6. 红叶是一类观赏叶子的树木,叶子会随着气温下降而变红。读图 4 回答,如果想最大限度的观赏红叶,正确的观赏顺序是



图例 ■最佳观赏区 □次佳观赏区

图 4

- A. ③②①
- B. ②③①
- C. ①②③
- D. ①③②

7. 图 5 表现的聚落类型以及判断理由是

- A. 城市,以工业生产为主
- B. 乡村,几乎都是丘陵
- C. 城市,民居以楼房为主
- D. 乡村,以农业生产为主



图 5

读图 6 完成 8~10 题。

8. 图 6 所示区域为我国
  - A. 北方地区
  - B. 南方地区
  - C. 西北地区
  - D. 青藏地区
9. 关于图 6 所示区域的地理事物的叙述正确的是
  - A. ①为华北平原、②为黄土高原
  - B. ①为黄土高原、②为华北平原
  - C. ①②都位于第二阶梯
  - D. 该地区地势东高西低
10. 读图 6,判断①处的传统民居是
  - A. 蒙古包
  - B. 吊脚楼
  - C. 窑洞
  - D. 土楼

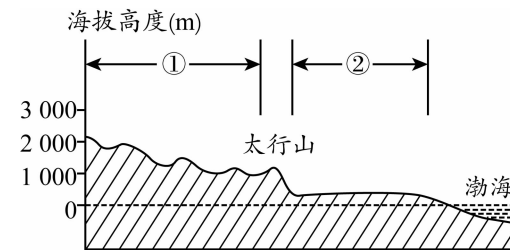


图 6

十八大会议报告特别强调,“解决好农业农村农民问题是全党工作重中之重,牢固树立‘重中之重’的战略思想,做好新阶段‘三农’工作,意义深远”。科技兴农的基本内容之一是因地制宜地把传统农业技术和现代农业技术结合起来。其中地膜覆盖具有保温、保湿、保土等作用,可有效提高农作物产量和农产品质量。据此完成11~12题。

11. 我国大部分地区的农业生产使用地膜覆盖,主要在  
 A. 春季                      B. 夏季                      C. 秋季                      D. 冬季
12. 下列地区相比较,地膜覆盖的保温、保湿、保土作用最显著的是  
 A. 东南沿海地区                      B. 西南地区  
 C. 西北地区                      D. 东北地区
13. 北京的网友感慨“动动手指”就能吃到全国各地新鲜水果,这得益于地域联系的不断发展,下列地域联系类型中没有参与此过程的是  
 A. 国际贸易                      B. 网络通信  
 C. 电信通信                      D. 交通运输

平谷被称为“桃乡”,在不断研究、开发、精深加工新工艺中,开发了相应的特色农产品产业链,桃的品种越来越多,远销到日本、欧洲等国家,大桃成为平谷的特色农业。

14. 下列选项中,与“桃乡”的成因不相符的是  
 A. 水质                      B. 光照  
 C. 土壤                      D. 保护“非遗”产品

火险天气等级是根据每天的主要火险要素,气温、湿度、风、降水、可燃物含水率和连续干旱情况等,按特定方法计算得出的。我国森林火险目前普遍使用五级制。读表1,完成15~16题。

表1 我国森林火险等级表

级别	名称	危险程度	易燃程度	蔓延扩散程度	表征颜色
一级	低火险	低	难	难	绿色
二级	较低火险	较低	较难	较难	蓝色
三级	较高火险	较高	较易	较易	黄色
四级	高火险	高	易	易	橙色
五级	极高火险	极高	极易	极易	红色

15. 我国森林火险天气等级为红色时,最容易出现的季节是  
 A. 春夏季节                      B. 冬春季节  
 C. 夏秋季节                      D. 秋冬季节
16. 当火险等级较高时,下列做法正确的是  
 A. 燃放孔明灯放飞心愿                      B. 吸烟后随地扔烟蒂  
 C. 在户外燃放烟花表示庆祝                      D. 严禁带火种进入山区、林区

图7为北京地区某日的运动和休闲指数。读图完成17~18题。

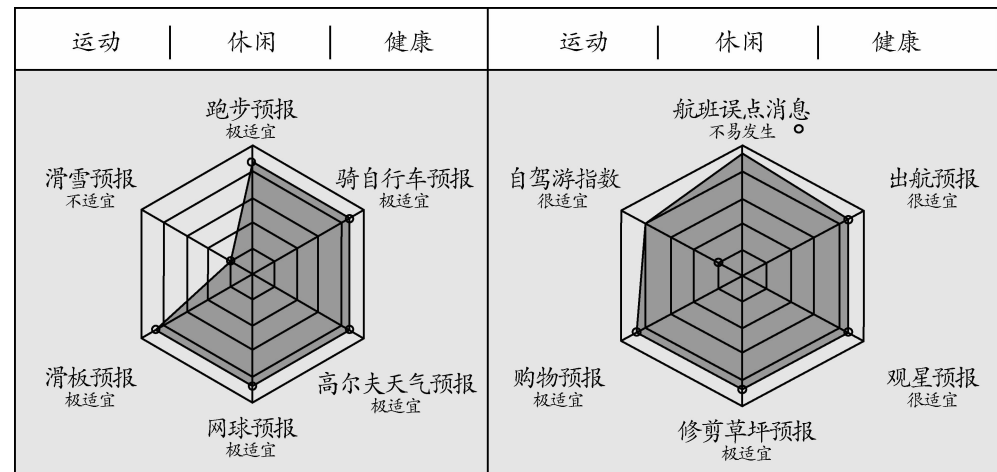


图7

17. 读图7推测当天对应的天气符号是



18. 读图7推测当前最有可能的季节是

- A. 春夏                      B. 夏秋                      C. 春秋                      D. 秋冬

19. 下列现象能说明海陆变迁的是

- A. 日月星辰的东升西落                      B. 澳门填海造陆  
 C. 格陵兰岛部分冰川消融                      D. 亚马孙河流域的热带雨林遭到破坏

图8为四个大洲的大陆轮廓图。读图并结合所学知识完成20~21题。



图8

20. 全部位于北半球的大陆有

- A. ①②                      B. ②③                      C. ③④                      D. ①④

21. 被称为“高原大陆”的是

- A. ①                      B. ②                      C. ③                      D. ④

22. 建设21世纪海上丝绸之路,是2013年10月习近平总书记访问东盟国家时提出来的。根据此倡议,如果从中国上海港出发至世界最大港口荷兰的鹿特丹港,所经过的海峡依次是。读图9世界四大海峡略图,正确选项是

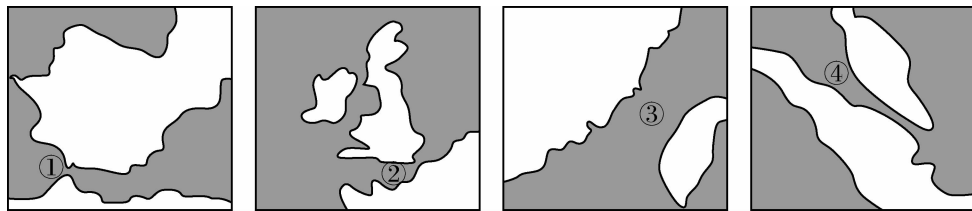


图9

- A. ②③①④      B. ①④②③      C. ③④①②      D. ②①③④

23. 关于世界人种、语言、宗教的叙述,正确的是  
 A. 亚洲西部的居民以黄色人种为主      B. 非洲北部的居民以白色人种为主  
 C. 世界三大宗教都发源于西亚      D. 英语是世界上使用人数最多的语言
24. 读图10 亚洲略图完成,下列关于亚洲的说法错误的是  
 A. 世界上面积最大的大洲,①是乌拉尔山脉,是亚欧两洲的分界线  
 B. 地跨热带、北温带和北寒带,②有世界上海拔最高的山峰  
 C. 北回归线自西向东依次穿过阿拉伯半岛、中南半岛和印度半岛  
 D. 东部和南部季风气候显著

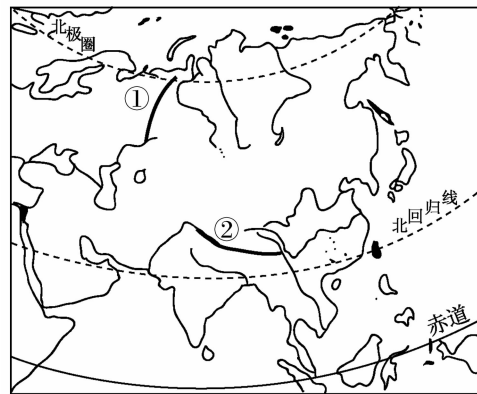


图10

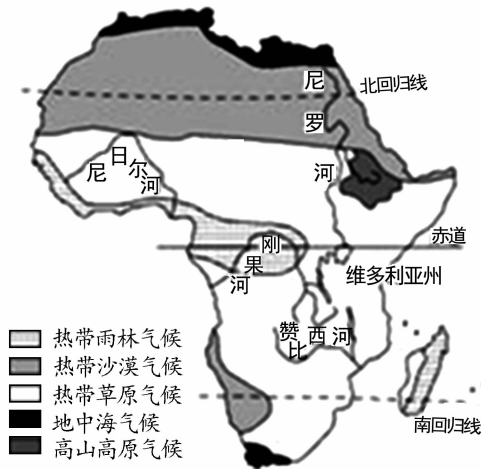


图11

读图11“非洲气候类型分布图及主要河流分布图”,回答25~26题。

25. 关于非洲气候类型分布特征的叙述正确的是  
 ①全年湿热      ②以赤道为轴大致南北对称分布  
 ③以热带气候为主      ④热带雨林覆盖整个赤道地区  
 A. ②③      B. ①④      C. ①③      D. ②④
26. 非洲四大河流中,流量最大的是  
 A. 尼罗河      B. 刚果河      C. 尼日尔河      D. 赞比西河

读图12“西亚石油海上运输线路示意图”,回答27~28题。



图12

27. 西亚石油主要分布在  
 A. 地中海及其沿岸地区      B. 红海及其沿岸地区  
 C. 亚丁湾及其沿岸地区      D. 波斯湾及其沿岸地区
28. 西亚石油输出到日本,走最近路线必须经过  
 A. 马六甲海峡      B. 苏伊士运河      C. 巴拿马运河      D. 土耳其海峡
- 印度和巴西同为“金砖国家”,在国际政治、经济事务中都发挥着重要作用。读图13完成29~30题。

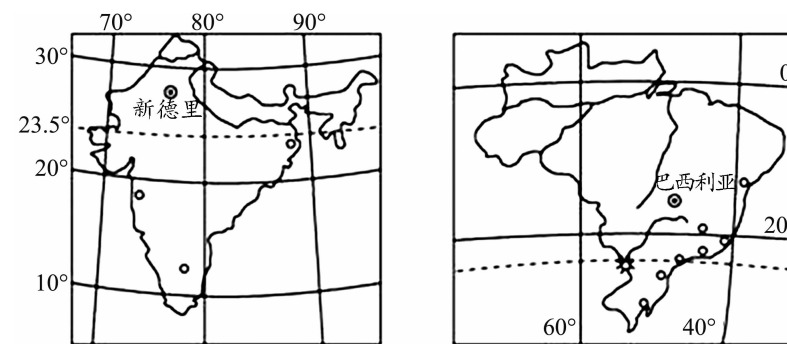


图13

29. 关于两国自然地理特征相同点的描述,正确的是  
 A. 位于东半球      B. 海陆兼备的国家  
 C. 热带雨林面积广大      D. 地形以山地、高原为主
30. 关于两国社会经济特征的叙述,正确的是  
 A. 人口、城市都集中分布在东南沿海      B. 巴西的农业主要分布在亚马孙平原  
 C. 印度IT业发达,是软件出口大国      D. 两国之间的政治、经济商谈称为“南北对话”

31. 读图 14,关于东南亚地理位置叙述正确的是
- A. 位于亚洲和大洋洲之间
  - B. 东、南临太平洋,西临印度洋
  - C. 位于亚洲东南方
  - D. 位于三大板块交界处

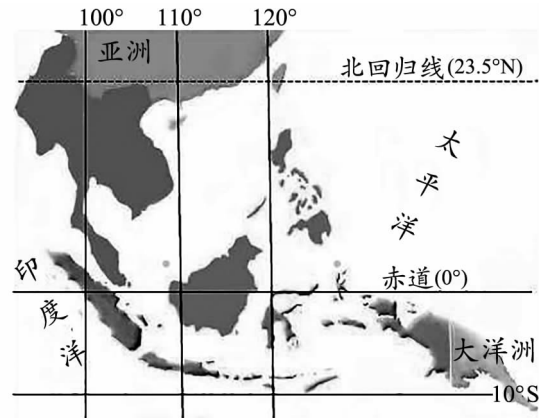


图 14

32. 读图 15,关于我国南极科学考察站叙述正确的是
- A. 我国四个考察站都有极昼极夜现象
  - B. 昆仑站是我国在南极地区建设最早的考察站
  - C. 长城站是我国在南极地区纬度最高的考察站
  - D. 我国的四个考察站中,长城站距离南美洲最近

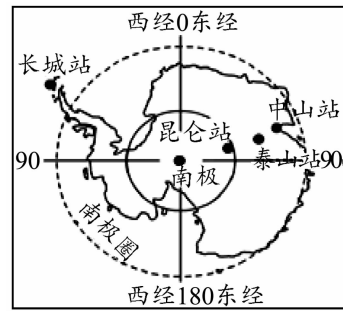


图 15

2018 年 11 月 5 ~ 10 日,中国首届进口博览会在上海召开,吸引了 130 多个国家和地区的 3000 多家企业参展,其中有 12 个主宾国。图 16 为 12 个主宾国分布示意图。读图 16 回答 33 ~ 34 题。

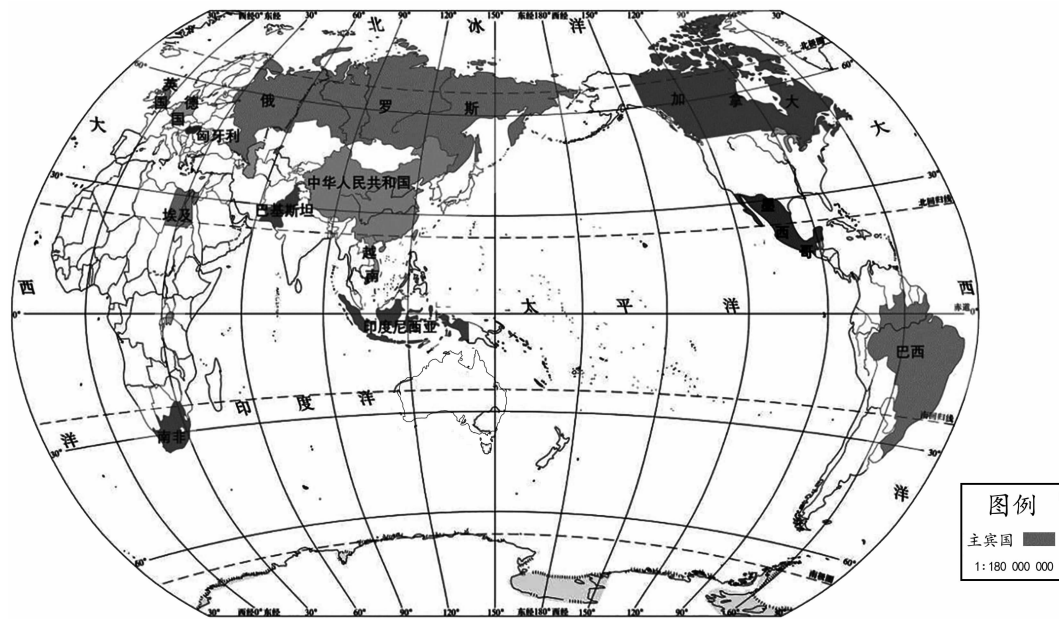


图 16

33. 图 16 中的主办国和 12 个主宾国
- A. 有 6 个国家濒临太平洋
  - B. 多数国家位于西半球
  - C. 地跨世界七个大洲
  - D. 多数国家是发达国家
34. 关于墨西哥地理位置的叙述,正确的是
- A. 位于巴西的东北方向
  - B. 位于太平洋西岸
  - C. 位于拉丁美洲的北部
  - D. 位于太平洋板块

牛仔裤是当今人们熟悉的服装,它们是根据 19 世纪 50 年代美国西部牧民所穿裤子改造而来,选料多为粗棉布,很适合工作,又耐脏。读图 17 美国农业分布图,回答 35 ~ 36 题。

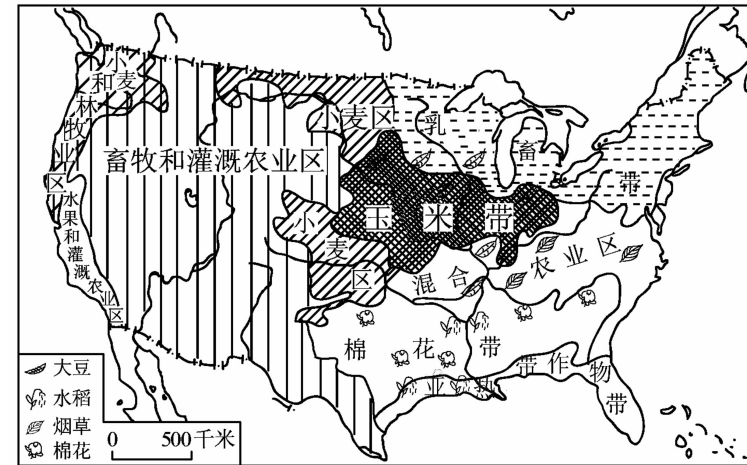


图 17

35. 制作牛仔裤的主要原料来源于美国农业带中的
- A. 畜牧和灌溉农业区
  - B. 棉花带
  - C. 乳畜带
  - D. 玉米带
36. 美国的农业特点是
- A. 粮食产量比较低
  - B. 农业人口多
  - C. 以小型农机具为主
  - D. 区域生产专门化

图 18 为四幅汽车牌照图,回答 37 ~ 38 题。

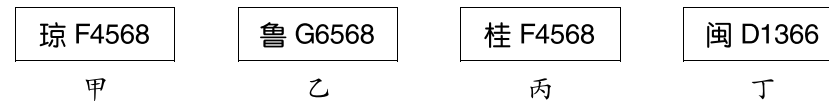


图 18

37. 对上述汽车牌照所属省区的叙述,错误的是
- A. 甲省区的岛屿有我国第二大岛
  - B. 乙省区位于北方地区
  - C. 丙是我国少数民族数量最多的省
  - D. 丁省区和台湾省距离最短
38. 上述汽车牌照所属省份中,既有大陆海岸线又有陆疆国界线的是
- A. 甲
  - B. 乙
  - C. 丙
  - D. 丁

巴基斯坦是我国重要的陆上邻国,中巴经济合作前景广阔。读图 19 完成 39~40 题。

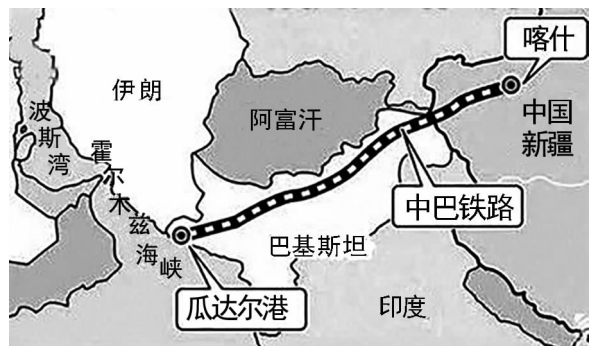


图 19

39. 瓜达尔港濒临  
 A. 太平洋            B. 印度洋            C. 大西洋            D. 北冰洋
40. 修建中巴铁路过程中,比较容易克服的条件是  
 A. 地形起伏大,地质条件复杂            B. 生态环境脆弱  
 C. 途经沙漠地区,施工难度大            D. 劳动力不足

二、综合题(共 50 分)

41. 图 20 是某地等高线图,读图回答下列问题。(10 分)

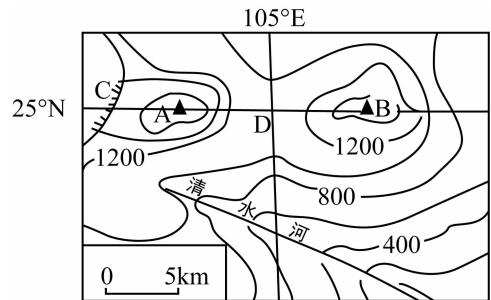


图 20

- (1) 图中 C 处的地形部位是\_\_\_\_\_, D 处的地形部位是\_\_\_\_\_。
- (2) 图中 A 在 B 的\_\_\_\_\_方向,量得 A、B 之间的图上距离为 2.5 个图上比例尺的单位距离,则 A、B 之间的实际距离是\_\_\_\_\_千米。
- (3) 从地形类型上看,图示地区属于\_\_\_\_\_,图中 B 山顶的海拔高度范围是\_\_\_\_\_米之间。
- (4) 图中清水河的汛期主要在\_\_\_\_\_季。
- (5) 图 21 的甲、乙两图中,能反映 A、B 两点间地势起伏状况的是\_\_\_\_\_图。

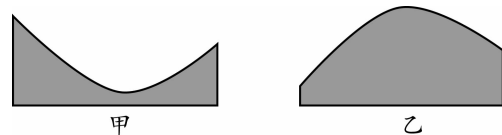


图 21

- (6) 用地理位置推算,该地区的气候类型是\_\_\_\_\_,其气候特点是\_\_\_\_\_。

42. 西气东输一线工程西起塔里木盆地的轮南、东至长江三角洲的上海,为我国东部地区经济发展提供能源保障。图 22 为“西气东输一线工程示意图”,读图回答下列问题。(10 分)

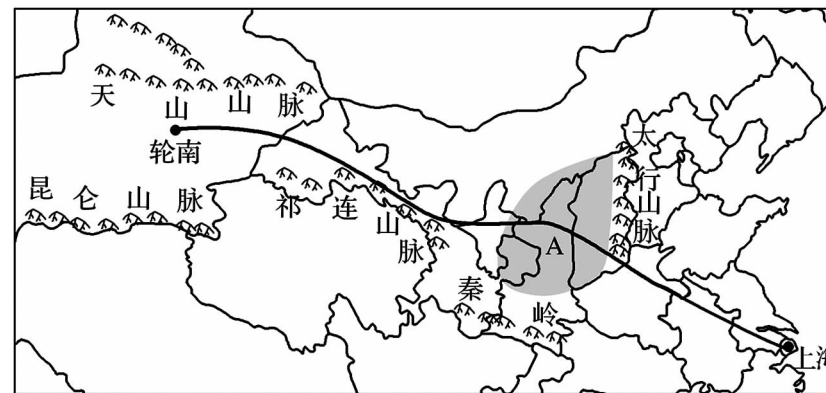


图 22

- (1) 轮南位于\_\_\_\_\_盆地内,这里资源丰富,经济相对落后,属于“地广人稀”的地区。
- (2) 该盆地内有我国面积最大的\_\_\_\_\_沙漠,有我国最大内流河\_\_\_\_\_河。
- (3) 因其深居内陆,受海洋影响小,故降水量\_\_\_\_\_,昼夜温差\_\_\_\_\_,所以这里的瓜果香甜可口。
- (4) 长江三角洲地区经济发达,能源需求量大,以上海、南京、杭州为中心的\_\_\_\_\_工业基地,是我国最大的综合性工业基地。
- (5) 图中 A 是黄土高原地区,该地区面临的主要生态环境问题是\_\_\_\_\_。西气东输工程跨过我国地势的\_\_\_\_\_两级阶梯,主要依靠\_\_\_\_\_运输(方式),为长江三角洲地区和沿线城市提供能源,取代部分生产生活中使用的煤炭,这有利于降低城市环境中的\_\_\_\_\_污染指数。

43. 读图 23,回答下列问题。(共 10 分)

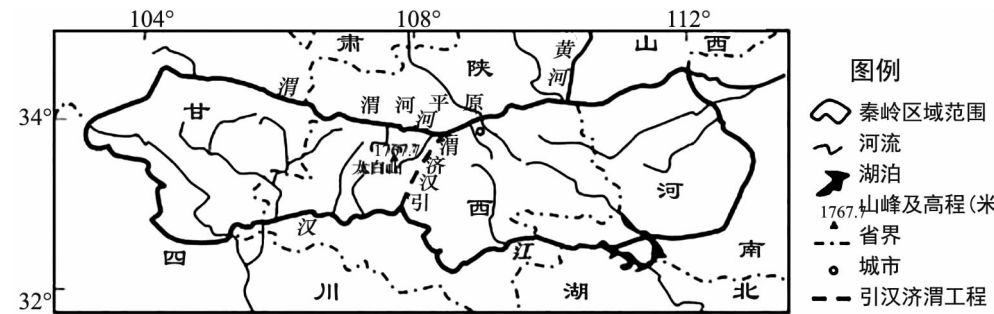


图 23

- (1) 读图判断秦岭大部分位于\_\_\_\_\_省南部,该省的行政中心是\_\_\_\_\_。
- (2) 该省南部的汉江谷地,植被是亚热带常绿阔叶林,属于\_\_\_\_\_ (干湿状况)地区。
- (3) “引汉济渭”工程中的“汉”是指\_\_\_\_\_,属于\_\_\_\_\_流域;“渭”是指\_\_\_\_\_,属于\_\_\_\_\_流域。



(4)读下面一段文字,将文中错误句子的原文抄写在横线上。

“引汉济渭”工程是陕西历史上规模最大,影响深远的战略性,基础性和全局性水资源配置工程。秦岭南侧为温带季风气候,夏季高温多雨,水资源充足。秦岭北侧是冬季风的背风坡,降水少。该工程解决了秦岭南北两侧水资源分布不均的问题,改善了北多南少的现状。由于“引汉济渭”工程主要穿越丘陵地区,所以施工难度大,但在广大农民的努力下,一定会顺利完成。工程完工后,西安人民就能用上嘉陵江的水了。

例:秦岭南侧为温带季风气候

错误 1: \_\_\_\_\_

错误 2: \_\_\_\_\_

错误 3: \_\_\_\_\_

44. 读图 24 北美洲略图,回答下列问题。(共 10 分)

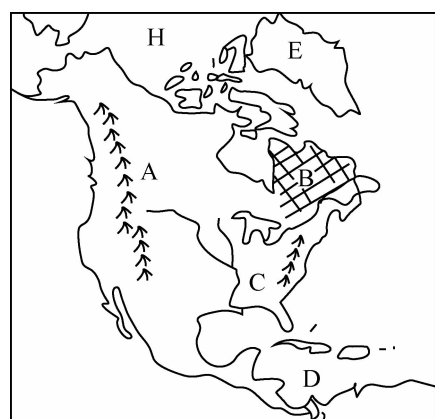


图 24

(1)北美洲北临的大洋 H 是 \_\_\_\_\_ 洋。字母 C 是 \_\_\_\_\_ 河,该河流注入 \_\_\_\_\_ 湾。岛屿 E \_\_\_\_\_ 岛是世界第一大岛屿。

(2)说出北美洲地形分布及特点: \_\_\_\_\_ ; \_\_\_\_\_ 。

(3)读图 25“北美大陆沿 40°N 地形剖面图”,判断 A 山脉是: \_\_\_\_\_ 。

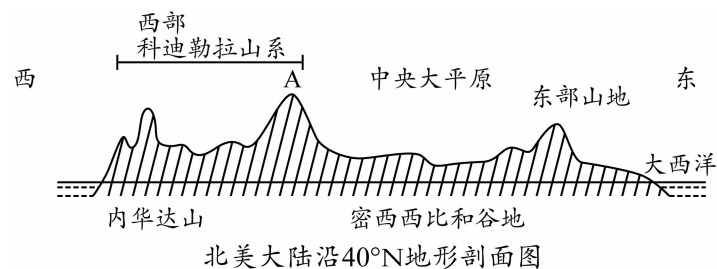


图 25

A. 安第斯山脉      B. 落基山脉      C. 喜马拉雅山脉      D. 乌拉尔山脉

(4)西部高大山脉的阻挡使地中海气候和 \_\_\_\_\_ 气候仅分布在沿岸地区;而中部广阔的大平原,冬季,北方 \_\_\_\_\_ (灾害性天气)不受阻挡南下,影响范围大,而夏秋季节的 \_\_\_\_\_ (灾害性天气)常常袭击东南部地区。

45. 2019 年 3 月 21 日至 26 日,国家主席习近平应邀对意大利、摩纳哥、法国进行国事访问,推动共建“一带一路”在亚欧大陆开辟新的空间,为中欧全面战略伙伴关系注入新的动力。读图 26 回答下列问题。(共 10 分)

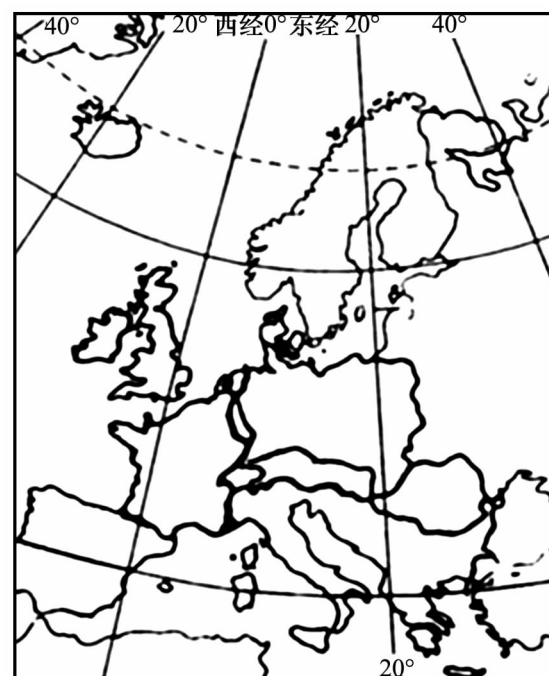


图 26

- (1)三国位于 \_\_\_\_\_ 洲的南部,南隔 \_\_\_\_\_ 海与 \_\_\_\_\_ 洲相望。
- (2)三国南部沿岸共有的气候类型是 \_\_\_\_\_ ,该气候类型的分布规律是 \_\_\_\_\_ 。
- (3)欧洲西部国家众多,绝大部分是 \_\_\_\_\_ (发达、发展中)国家,为进一步加强联系,本区形成了一个区域性国际组织是 \_\_\_\_\_ 。
- (4)图中 \_\_\_\_\_ (重要纬线)穿过本区北部,在夏至日前后该线以北地区会出现 \_\_\_\_\_ (极昼、极夜)现象,可以欣赏到午夜太阳。
- (5)小华在欧洲西部拍摄了许多照片(图 27),下列景观图片是小华拍摄的是 \_\_\_\_\_ 。




图 27