

历史试卷

考生须知	1. 本试卷共 12 页，共二道大题，34 道小题，满分 90 分。考试时间 90 分钟。 2. 在试卷和答题卡上认真填写学校名称、姓名和考号。 3. 试题答案一律填涂或书写在答题卡上，在试卷上作答无效。 4. 在答题卡上，选择题、作图题用 2B 铅笔作答，其他试题用黑色字迹签字笔作答。 5. 考试结束，将本试卷、答题卡一并交回。
------	------------------------------------------------------------------------------------------------------------------------------------------------------------------------------------

第一部分 选择题

本部分共 30 小题，每小题 1.5 分，共 45 分。在每小题列出的四个选项中选出最符合题目要求的一项。

1. 某同学搜集了下列文物遗存的图片，其中适于研究我国原始农业的是 ()

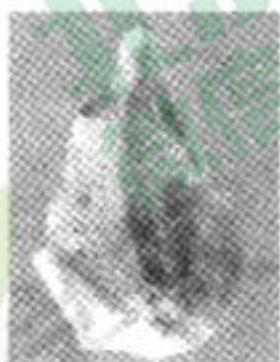


图 1



图 2



图 3



图 4

- A. 图 1 B. 图 2 C. 图 3 D. 图 4

2. 《三字经》：“汤伐夏，国号商。六百载，至纣亡。□□□□，始诛纣。八百载，最长久。”其中□□□□的内容是 ()


- A. 夏桀 B. 盘庚
C. 商纣王 D. 周武王

3. 观察右侧地图，下列历史事件发生在右图所示时代的是 ()

- A. 牧野之战 B. 长平之战
C. 赤壁之战 D. 淝水之战



4. 下方数据材料从某种程度上反映了西汉初期的社会状况，据此判断西汉初期中央面临的主要问题是 ()



- A. 诸侯强大，威胁中央 B. 经济衰败，人口锐减
C. 经济恢复，人口增加 D. 中央集权，国力鼎盛




5. 右图是发生在魏晋南北朝时期的历史现象。此历史现象造成的重要影响是 ()

- A. 北方社会的安定
- B. 北方经济的开发
- C. 江南战乱的加剧
- D. 江南经济的开发



6. 下列图片展示的是我国古代两项重要的水利工程，两者相同之处是 ()



- A. 都促进了经济的发展
- B. 都沟通了南北的交流
- C. 都促进了民族的交融
- D. 都导致了国家的灭亡

7. 文学作品是时代的反映。唐诗题材丰富，从政治、经济、文化、生活等不同侧面反映了唐朝的时代风貌。下列诗句中，能够反映唐朝民族交融进一步发展的是 ()

- A. 忆昔开元全盛日，小邑犹藏万家室。(杜甫)
- B. 飞流直下三千尺，疑是银河落九天。(李白)
- C. 百千家似围棋局，十二街如种菜畦。(白居易)
- D. 蕃人旧日不耕犁，相学如今种禾黍。(王建)

8. 下方是某历史时期的局势演变图，图中“？”处应填写 ()



- A. 匈奴
- B. 吐蕃
- C. 辽
- D. 元

9. 右图是学生在研究性学习中总结的史实摘要，据此推测他们研究的主题是 ()

- A. 唐朝的统治
- B. 唐朝对边疆的管辖
- C. 元朝的统治
- D. 元朝对边疆的管辖

摘要 1 中书省掌管全国行政事务
摘要 2 创立行省制度
摘要 3 设置宣政院
摘要 4 设置澎湖巡检司

10. 右图为北京故宫武英殿。历史上李自成曾在此称帝，推翻了 ()

- A. 唐朝
- B. 宋朝
- C. 元朝
- D. 明朝



11. 下方是《清朝疆域图》，清朝前期为管理图中①②③所示区域的举措有（ ）



- A. 设置西域都护、设置宣政院、设置澎湖巡检司
 B. 设置安西都护、设置北庭都护、设置台湾府
 C. 设置伊犁将军、设置宣政院、设置澎湖巡检司
 D. 设置伊犁将军、设置驻藏大臣、设置台湾府
12. 学校图书馆筹备“中国古代科技”专题图书展，以下图书可以入选此次展览的是（ ）
- ①《史记》 ②《齐民要术》 ③《天工开物》 ④《本草纲目》 ⑤《红楼梦》
- A. ①②③ B. ②③④ C. ①②⑤ D. ③④⑤
13. 为了更好地学习中国近代历史，老师找到了四部影视作品，准备按照历史发展进程播放给学生观看。正确的观看顺序是（ ）



①



②



③



④

- A. ④①②③ B. ④③①② C. ②③①④ D. ③①④②
14. 近代“新史学”的倡导者梁启超先生认为：“说明事实之原因结果，为史家诸种职责中之最重要者。”下列历史现象之间的因果关系表述正确的是（ ）
- A. 两次鸦片战争的失败，开明官僚认识到武器装备的落后——洋务运动
 B. 《天津条约》的签订和康梁思想的传播——戊戌变法
 C. 《辛丑条约》的签订和维新思想的传播——辛亥革命
 D. 巴黎和会上中国外交失败的消息传回国内——新文化运动
15. 右图为孙中山手书“十六字纲领”。后来，孙中山将“平均地权”概括为（ ）

驅除韃虜恢復中華
 創立民國平均地權

- A. 民权主义 B. 民族主义
 C. 民生主义 D. 民主主义

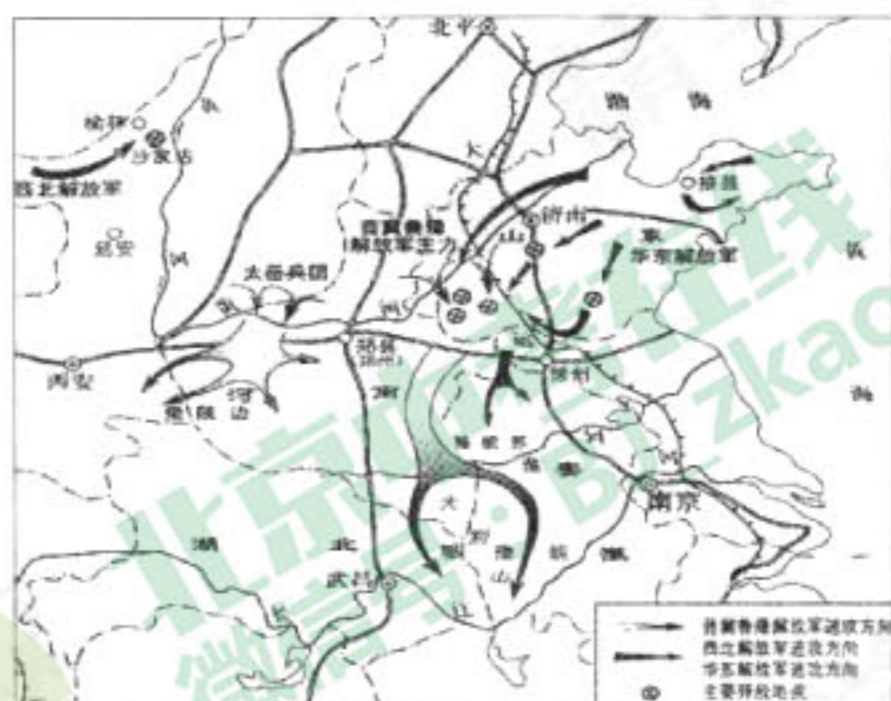


16. 为完成中国近代民主革命的任务，国共两党有过两次重要的合作。下列关于这两次合作叙述正确的是（ ）

- A. 都有共同的组织机构和军队
- B. 首先都由国民党倡导
- C. 都有共同的革命纲领
- D. 都基于当时社会的主要矛盾

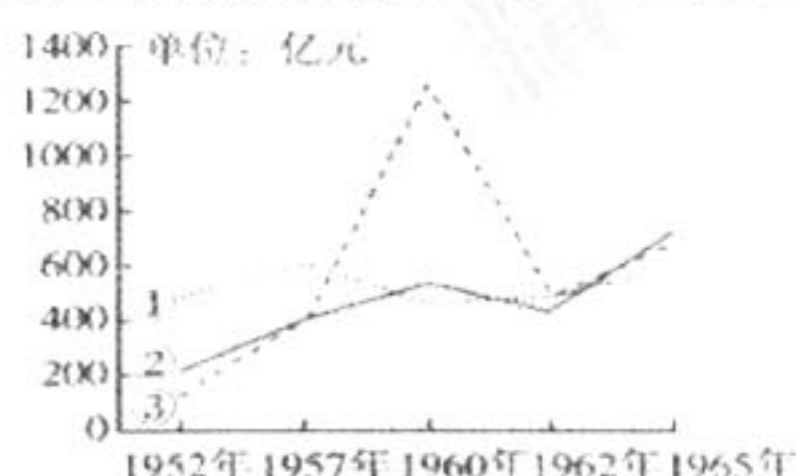
17. 观察右侧战争形势图，这一时期人民解放军开始（ ）

- A. 粉碎全面进攻
- B. 粉碎重点进攻
- C. 进行战略反攻
- D. 进行战略决战



18. 右图是我国在 20 世纪五六十年代的产值变化曲线图，①②③分别代表农业、轻工业、重工业，图中③增长最快的原因是（ ）

- A. 中华人民共和国成立
- B. 全国土地改革基本完成
- C. “大跃进”和人民公社化运动
- D. “文革”扩展到经济领域



19. 民族区域自治制度是我国社会主义民主政治的重要组成部分之一。下列对民族区域自治制度的表述正确的是（ ）

- A. 实施的前提是在国家的统一领导下
- B. 民族自治机构分为自治区和自治县两级
- C. 在所有少数民族居住的地方实行
- D. 由当地民族自己管理地方的外部事务

20. 中华人民共和国经历了若干历程。下列对中华人民共和国发展阶段时序排列正确的是（ ）

- A. 巩固新生政权——初建社会主义——社会主义建设的曲折探索——改革开放
- B. 初建社会主义——社会主义建设的曲折探索——改革开放——巩固新生政权
- C. 社会主义建设的曲折探索——改革开放——巩固新生政权——初建社会主义
- D. 改革开放——巩固新生政权——初建社会主义——社会主义建设的曲折探索

21. 班级板报“史海拾贝”栏目中介绍某古代文明时使用了下面两幅图片，据此推断该栏目介绍的是（ ）



两河流域诞生的古文明



汉谟拉比法典石柱上半部

- A. 古埃及文明
- B. 古巴比伦文明
- C. 古印度文明
- D. 古希腊文明



材料二 中国古代文物遗存图片及资料



历史遗存 1: 西周克盃。内壁铭文记载, 周成王封召公到燕国, 他的长子克代替他去燕国接收土地、平息动乱、管理羌族等多个部族。




历史遗存 2: 秦小篆体十二字砖。砖文: “海内皆臣, 岁登成熟, 道毋饥人。”是在给皇帝歌功颂德。皇帝是国家最高统治者, 拥有无上权威。



历史遗存 3: 宋代浮雕捧印文官石刻。宋代文官担任中央和地方的要职, 甚至主持军务, 地位和待遇高于武将。



历史遗存 4: 明朝锦衣卫木印。锦衣卫由皇帝直接指挥, 掌管侍卫、缉捕、刑狱诸事, 保护皇帝, 镇压官民。后来又成立同类机构东厂。



历史遗存 5: 清朝军机处。是辅助皇帝处理政务的最重要的中枢机构, 军政大事完全由皇帝裁决, 军机大臣照皇帝的旨意拟写成文。

(2) 参考材料二介绍中国古代某一时期的政治方面的措施。要求: 从历史遗存 1、2、4、5 中任选一项, 仿照示例从背景、内容和影响三个方面进行介绍。(3 分, 不得照抄原文)

[示例] 历史遗存 3——宋代重文轻武政策: 为了防止出现唐末以来武将专权、政权更替, 宋朝施行重文轻武的政策。由文官担任中央和地方的要职, 地位和待遇高于武将, 科举文士录取名额高于武举。这一政策促进了文教事业的发展、稳定了政权, 但也带来冗员冗费等弊端。

材料三 隋文帝对选举制度也作了重大改革。随着南北朝以来封建经济的发展, 中小地主与富裕农民的数量日益增多, 他们要求打破门阀士族的限制, 在政治上得到发展。这一要求与隋朝打击豪强地主, 加强中央集权的政策是相符合的。因此, 魏晋以来为豪强



地主所操纵的选拔官僚的“九品中正制”，就在开皇中废除了。代之而起的是以考试选士的科举制度。……还有词科也在这时出现了。如韦云起“开皇中，明经举”；杜正玄“开皇末，举秀才”；房玄龄“年十八本州举进士”。由此可见，明经、秀才、进士诸科都在开皇时设立了。唐以后得到了很大的发展。

——白寿彝主编《中国通史》

(3) 依据材料三，分析隋唐“科举制”的作用。(2分)

(4) 历史学习的反思也是重要学习方法。结合上述内容，举例说明学习中国古代制度的历史启示。(3分，提出观点，史实论证)

32. 十九大报告提出“要尊重世界文明多样性，以文明交流超越文明隔阂、文明互鉴超越文明冲突、文明共存超越文明优越。”某班同学以“世界文明的交流互动”为主题，展开研究性学习。(共10分)

【文明的交流】

材料一 两汉至唐代，中国的对外交通以陆上丝绸之路为主。入宋以后，特别是南宋，发生了划时代的变化——以海上丝绸之路为主了。元代又开创了对外交通的新局面，达到了“古代中西交通史之极”的地步。明初，海上丝绸之路得以空前繁荣，其中最为壮观、影响最大的，要数15世纪初的郑和下西洋。

——王介南《中外文化交流史》

(1) 依据材料，结合所学，填写下表。(3分)

历史阶段	中外交流主要途径	中外交流的史实
汉唐	①	③
两宋	②	以丝绸、瓷器等交换外国的舶来品
元代		马可·波罗来华
明初		郑和下西洋

材料二 火药、指南针、印刷术——这是预告资产阶级社会到来的三大发明。火药把骑士阶层炸得粉碎，指南针打开了世界市场并建立了殖民地，而印刷术则变成了新教的工具，总的来说变成了科学复兴的手段，变成对精神发展创造必要前提的最强大的杠杆。

——马克思《经济学手稿》

(2) 从材料二中任选一项发明，依据材料二并结合所学说明其对世界文明的贡献。

(2分，不得照抄原文)



【文明的碰撞】

材料三 公元 1500 年前后的地理大发现，拉开了不同国家相互对话和相互竞争的历史大幕，由此，大国崛起的道路有了全球坐标——正是从那个时候起，割裂的世界开始连接在一起。经由地理大发现而引发的国家竞争，拉开了不同文明间的相互联系、相互注视，同时也相互对抗和争斗的历史大幕。

——《大国崛起》解说词

(3) 材料三提出怎样的观点？结合所学用史实说明。(3 分，表明观点，说明理由)

【文明的共享】

材料四 2017 年 5 月，首届“一带一路”国际合作高峰论坛成功举办，29 位外国国家元首和首脑、130 多个国家的高级代表和 70 多个国际组织的负责人踊跃参会，达成 270 多项合作成果，形成各国合力推进“一带一路”建设的全球共识。……(中国)在沿线 24 个国家推进建设 75 个境外经贸合作区，中国企业对沿线国家投资累计超过 500 亿美元，创造了近 20 万个就业岗位。如果说“一带一路”的长远目标是服务于实现中华民族伟大复兴的话，那么对周边而言就要实现和周边国家的共同复兴。

——摘编自中国一带一路官网

(4) 依据材料四并结合所学历史知识，谈谈中国发展“一带一路”应当秉承的理念。(2 分)

33. 需求推动科技的创新，科技创新成果的运用极大推动了社会的进步，又进一步使需求逐步增加到技术的上限，进而鞭策科技的进一步演进。(共 11 分)

材料一 “我希望为全欧洲工作”，这是马修·博尔顿的雄心壮志。

1759 年，博尔顿在伯明翰附近租下了一块荒野的荆棘地，投资九千英镑，建立了一个大工厂——索霍工厂。这个工厂有五个主要车间，工人数达 600 人。其动力来源是依靠附近的人工瀑布，因而常常不能保证正常的生产需要。他迫切需要一种稳定的、充分的动力来源。

他很早就注意到瓦特对蒸汽机的改进，并邀请瓦特来到他的工厂。经过多年研制，瓦特改良的蒸汽机终于投产。1775 年开始，各地订货源源不断。它不仅用于矿井抽水，还被广泛地应用于冶金行业中劳动高炉鼓风机、城市供水等许多方面。随后法国、德国等纷纷派人来索霍工厂参观，并引进全部的技术设备。蒸汽机的广泛应用掀起了一场动力革命，工业的集中成为现实。博尔顿和瓦特的合作，共同打出了蒸汽机的天下，实现了博尔顿“为全欧洲工作”的雄心。

——摘编自张万合《蒸汽机打出的天下》



(1) 依据材料一，对以下表述做出判断：可以从材料直接得出的，在括号内划“√”；违背材料所表达意思的，在括号内划“×”；材料没有涉及的，在括号内划“○”。(4分)

- ①以水作为动力不稳定，常常不能保证正常的生产需求。()
- ②为技术保密，博尔顿在蒸汽机投产后，严格禁止蒸汽机外传。()
- ③瓦特经过多年的努力研究，终于成功改良蒸汽机，并广泛应用于各个领域。()
- ④以蒸汽为动力的蒸汽机车提高了运输量，引发了铁路建设的热潮。()

(2) 请从以上表述中选择任意两个（从材料中直接得出或违背材料意思表达的均可），列出判断依据。(2分)

表述序号	判断依据（要求：摘抄材料原文）

材料二 汽车问世后，深受好评。但是汽车价格昂贵，普通人不敢问津。福特认为汽车工业要发展，必须大幅度降低汽车的价格……福特开始采用专业化分工和流水线生产，显著提高生产效率。

——摘自北京版《历史》第3册

材料三 2014年，北大毕业生戴威与4名合伙人共同创立OFO，致力于解决大学校园的出行问题。用户在使用时，通过移动App输入车牌号即可获得密码解锁单车，并可以将车骑去校内任意的地方，随时停放。2015年6月，OFO共享计划推出，在北京大学成功获得2000辆共享单车。

——摘自OFO小黄车百度百科

(3) 列举材料二、材料三中推动技术创新的需求。(2分)

(4) 结合生活中的事例，说明科技创新给我们的生活带来的影响。(3分)

34. 参观北京大学网络展览馆，并完成相应任务。(13分)

【前言】从来没有哪一所大学，能和一个国家、一个民族的命运如此息息相关。今天，这个在历史转折的节点上诞生，浓缩了中国近代以来全部的忧患、苦难与追求，又时刻为民族复兴大业振臂高呼的殿堂，走过了两个甲子。



鲁迅为北大设计的校徽



【北大与教育】1898年6月11日，光绪皇帝下《明定国是诏》，宣布维新变法，明确当年7月3日“诏立京师大学堂”。废除八股，改试策论，革黜科举，代之以现代综合性教育——建立新型大学的理想就这样萌发了。这一年，中华民族危机四伏，政治风向波诡云谲。救亡图存，维新百日，终告失败。但或许是命运使然，抑或是“以萌芽早，得不废”，京师大学堂得以保留。



京师大学堂匾额

1912年，千年帝制在辛亥革命的枪炮声中土崩瓦解，中华民国应运而生。那一年的5月3日，京师大学堂改名北京大学，严复出任北大首任校长。在短短8个月的校长生涯中，严复将北大教学推向正轨，英国教育学会承认北大学生的学历与成绩，成功接轨现代意义的大学。

1916年12月26日，北京大学迎来了一位新校长——蔡元培。他带来的，不仅是焕然一新的校风，不仅是陈独秀、胡适、李大钊、钱玄同等一大批良师益友，更重要的是，他带来了北大传承至今的精神特质——“循思想自由原则，取兼容并包主义”。

【北大与思想】1917年，景山附近落成了一座新的西洋式建筑，这便是新的北大校舍“沙滩红楼”。这里变成一所“人人都可以进去的”大学。……1917年，胡适发表《文学改良刍议》；1918年，鲁迅发表白话小说《狂人日记》，陈独秀和李大钊创办《每周评论》；1919年，北大学生创办《新潮》《国民》……北京大学，成为新文化运动的中心。



沙滩红楼

【北大与革命】1919年5月3日晚，北大全体学生大会上，法科学生谢绍敏义愤填膺，当场将中指啮破，裂断衣襟，血书“还我青岛”四字。4日，以北大为主力的各校学生3000多人到天安门举行集会、示威游行。当天，被抓走的32名学生中，北大占20人……北大，成为五四运动的策源地。五四运动促进了马克思主义在中国的广泛传播，北大教授李大钊在中国第一个举起马克思主义的旗帜——发表《Bolshevism的胜利》《我的马克思主义观》，把马克思主义理论正式列入课程，组织指导“马克思学说研究会”等进步社团……



五四运动

中共一大前，在全国8个地区建立的党组织中，有6个地区的党组织负责人是北大师生和校友，全国53名党员中，北大师生和校友21人，1921年7月出席中共一大



人工合成牛胰岛素的研究



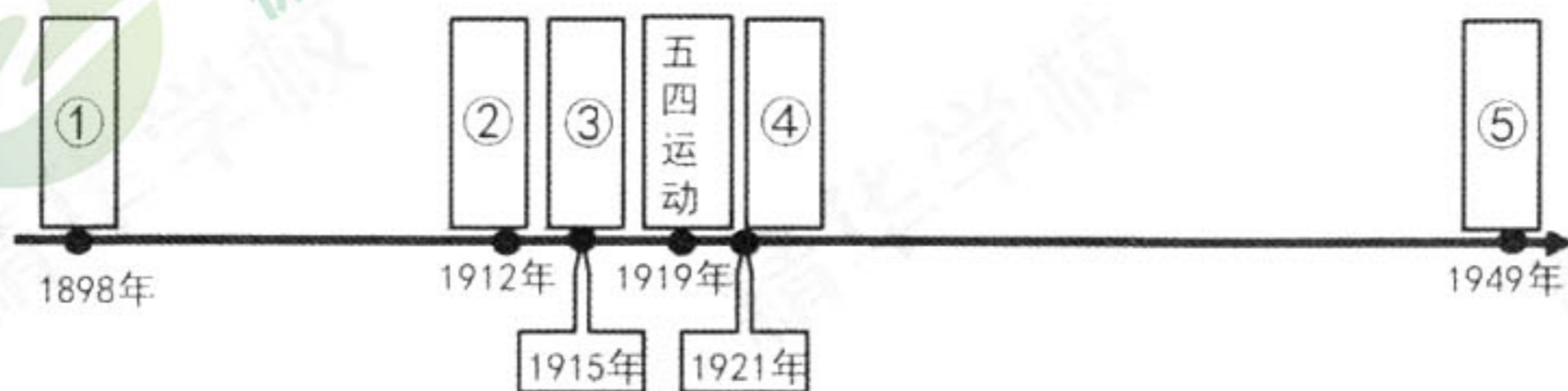
的 13 名代表有北大师生和校友 5 人。

【北大与强国】1949 年，新中国诞生后，北京大学历史性地承担起新中国文化传承和自主创新的使命，顶天立地，勇于担当，不断创造着新知识、新思想与新技术。在“两弹一星”研制、百万次电子计算机问世、人工合成牛胰岛素等国家重大战略工程中，北大人作出了自己的贡献。一代代北大人以强烈的使命担当和爱国情怀，唱响了“团结起来，振兴中华”的最强音。

【寄语】2018 年 5 月 2 日，在五四青年节和北京大学建校 120 周年校庆日即将来临之际，中共中央总书记、国家主席、中央军委主席习近平来到北京大学考察并发表重要讲话：“五四运动源于北大，爱国、进步、民主、科学的五四精神始终激励着北大师生同人民一起开拓、同祖国一起奋进。青春理想，青春活力，青春奋斗，是中国精神和中国力量的生命力所在。今天，在实现中华民族伟大复兴新征程上，北大师生应该继续发扬五四精神，为民族、为国家、为人民作出新的更大的贡献。”

(1) 任务一：北大的历史浓缩着中国近代以来全部的忧患、苦难与追求。依据参观所得，结合所学，将序号①②③④⑤所对应的历史事件填充在时间示意图的相应位置上。

(5 分)



(2) 任务二：依据【北大与革命】的展览内容，列举北大对中国新民主主义革命的贡献。

(3 分)

(3) 任务三：为北京大学网络展览馆设计一个网页 logo (标志)，并对设计图案进行简要说明。设计要求：主题突出、思想性强。(5 分)



丰台区 2018 年初三第二次统一练习

历史答案

第一部分选择题

本部分共 30 小题，每小题 1.5 分，共 45 分。

1	2	3	4	5	6	7	8	9	10
B	D	B	A	D	A	D	C	C	D
11	12	13	14	15	16	17	18	19	20
D	B	B	A	C	D	C	C	A	A
21	22	23	24	25	26	27	28	29	30
B	B	A	B	C	A	D	A	C	B

第二部分非选择题

本部分共 4 道题，共 45 分。

31. 共 11 分

(1) 图 1: 西周; 图 2: 秦朝; 图 3: 明朝。(每空 1 分, 共 3 分)

(2) 仿照示例从背景、内容及影响三方面介绍。(每方面 1 分, 共 3 分)

(3) 作用: 扩大选官范围, 打破门阀士族的限制; 有利于文化的繁荣发展; 考试制度更加公平合理; 有利于人才培养。(每点 1 分, 共 2 分。答出任意 2 点, 意思相近、言之有理即可得分。)

(4) 示例: 制度是人类重要文明成果之一, 对社会发展起到积极作用; 如科举制有利于文教的发展, 有利于人才的选拔与培养。(观点 1 分, 举例说明、史实依据 2 分, 共 3 分)

32. 共 10 分

(1) ①陆上丝绸之路; ②海上丝绸之路; ③玄奘西行等合理答案。(每空 1 分, 共 3 分)

(2) 印刷术: 促进文化传播, 推动世界文明发展; 火药: 对欧洲火器制造和作战方式影响巨大, 推动社会变革; 指南针: 推动了世界航海事业的发展。(任意一项 2 分, 共 2 分。意思相近即可得分。)

(3) 观点: “新航路开辟使世界上原来彼此隔绝地区逐渐沟通起来”、“文明之间既有交融又有碰撞”等合理观点; 史实说明: 史实能够说明观点。(观点 1 分, 史实说明 2 分, 共 3 分。观点意思相近、言之有理, 史实正确并能说明观点, 即可得分。)

(4) 和平交往、合作共赢。(每点 1 分, 共 2 分。意思相近、言之有理即可得分。)

33. 共 11 分

(1) ① (√) ② (×) ③ (√) ④ (○) (每空 1 分, 共 4 分)

(2) (每空 1 分, 共 2 分)

表述序号	判断依据 (要求: 摘抄材料原文)
①	其动力来源是依靠附近的人工瀑布, 因而常常不能保证正常的生产需要。
②	随后法国、德国等纷纷派人来索霍工厂参观, 并引进全部的技术设备。
③	经过多年研制, 瓦特改良的蒸汽机终于投产。它不仅用于矿井抽水, 还被广泛地应用于冶金行业中劳动高炉鼓风机、城市供水等许多方面。
④	选④不得分



(3) 需要价格低的汽车；希望解决大学校园的出行问题。(每点1分，共2分。意思相近即可得分。)

(4) 示例：汽车，方便出行，带来空气污染。(每点1分，共3分。举例、积极影响、消极影响每点各1分。)

34. 共13分

(1) ①百日维新(戊戌变法)；②中华民国成立；③新文化运动；④中国共产党成立；⑤新中国成立。(每空1分，共5分)

(2) 北大是五四运动的策源地；促进了马克思主义在中国的传播；促进了中国共产党早期组织的发展。(每点1分，共3分。意思相近即可得分。)

(3) logo设计：主题突出，北大精神元素明显；有一定寓意。(3分)文字说明：能说明设计意图；语言简明有条理。(2分)

