



北京市西城区九年级模拟测试

历史试卷

2020.6

考生须知

1. 本试卷共 12 页，共两部分，34 道小题，满分 90 分。考试时间：90 分钟。
2. 在试卷和答题卡上准确填写姓名、准考证号、考场号和座位号。
3. 试题答案一律填涂或书写在答题卡上，在试卷上作答无效。
4. 在答题卡上，选择题用 2B 铅笔作答，其他试题用黑色字迹签字笔作答。
5. 考试结束，将本试卷、答题卡和草稿纸一并交回。

第一部分 选择题（共 45 分）

本部分共 30 小题，每小题 1.5 分，共 45 分。在每小题列出的四个选项中，选出最符合题目要求的一项。

1. 以下是一位同学的笔记，该同学研究的内容是

时间	距今约 6000 年前
地点	陕西西安东部
考古发现	半地穴式房屋、磨制石器
价值	黄河流域原始聚落遗址代表

- A. 山顶洞人 B. 河姆渡人 C. 半坡人 D. 大汶口人


2. 对于下列属于春秋战国时期文物的考古发现，综合起来最为适合的研究主题是



兵器 宋公栾戈



铁锄



郭店楚简

- A. 春秋战国时期的军事战略 B. 春秋战国时期的农业经济
C. 春秋战国时期的社会发展 D. 春秋战国时期的文化繁荣

3. 阅读以下表格，可以说明

诸子百家代表思想	社会主义核心价值观（部分）
儒家：仁义礼智信	富强、民主、文明
墨家：兼爱、非攻	和谐、法治、爱国
法家：注重法律	

- A. 百家争鸣流派众多 B. 诸子思想影响深远
C. 百家争鸣禁锢思想 D. 古今思想认知一致



4. 对下列图片所代表的事件，理解最准确的是



秦朝小篆



汉朝五铢钱

- A. 都促进了经济的发展
B. 都推动了文化的繁荣
C. 都巩固了大一统王朝
D. 都加速了本朝的灭亡
5. 公元 2020 年初中国历经了疫情风波，在对疾病的治疗过程中，中医与西医各展其能又相辅相成。下列人物中，对于中医领域发展有杰出贡献的是
A. 司马迁 B. 张仲景 C. 祖冲之 D. 贾思勰
6. 对于下表解读准确的是

唐朝诗人	出身
李白	未参加科举考试
杜甫	参与科考，未中
柳宗元	贞元九年中进士
白居易	贞元十六年中进士
李商隐	开成二年中进士

- A. 唐代诗歌是中国古代文学发展的顶峰 B. 唐代诗坛气象万千、名家辈出
C. 科举考试与唐代诗歌兴盛有一定关联 D. 唐朝著名诗人都通过了科举考试选拔
7. 宋朝建立之初，宋太祖曾忧虑说：“自唐季以来，数十年间，帝王凡易十姓，兵革不息，其故何也？吾欲息天下之兵，为国家建长久计，其道如何？”针对此情况，采取的措施是
A. 废分封行郡县 B. 废三省削相权 C. 收兵权置通判 D. 废丞相设内阁
8. 下列历史人物与事件对应准确的是
A. 商鞅——变法图强，使齐国成为春秋霸主
B. 耶律阿保机——统一匈奴各部，建立政权
C. 岳飞——抗击金军，取得郾城大捷
D. 成吉思汗——推翻明朝，设立军机处
9. 下表中关于中国古代科技成就解读正确的是

选项	史实	结论
A	司母戊鼎重达 800 多千克，工艺复杂	古代青铜器大多用作礼器和农业工具
B	《天工开物》中记载了倭缎织造法，朝鲜及西洋棉布染整法，红夷大炮等外来技术	海外技术传入丰富了中国人的科学认知
C	《齐民要术》介绍豆、麦、谷类种植技术，内容丰富，强调农业生产要遵循自然规律	反映出中国古代商品经济的繁荣发展
D	《本草纲目》对各种药物进行了新的分类，记载药物 1 千多种	全面总结了中国古代农业发展的巨大成就



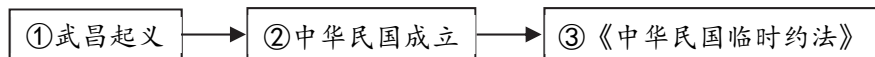
10. 有同学研究清朝历史时整理出如下史实，据此推断他的研究主题是
- ①土尔扈特部回归祖国②康熙皇帝亲征噶尔丹③平定大、小和卓叛乱④中俄雅克萨之战
- A. 君主专制中央集权的不断强化 B. 统一多民族国家的巩固和发展
- C. 反对外来侵略的斗争 D. 民族交融的不断加深

11. 第二次鸦片战争前后，沙俄侵占了中国北方 150 多万平方千米的领土。下列各项可作为研究这一历史事件的证据使用的是
- ①电影《火烧圆明园》 ②《沙俄侵占中国北方领土示意图》 ③《鸦片战争》形势图
- ④中俄《北京条约》文本
- A. ①② B. ①③ C. ②③ D. ②④

12. 如右侧漫画所示，清政府完全成为“洋人的朝廷”是在
- A. 《南京条约》签定后
- B. 《北京条约》签订后
- C. 《马关条约》签订后
- D. 《辛丑条约》签订后



13. 与以下示意图中序号相关的正确结论是



- A. 武昌起义后，成立了广东军政府
- B. 清朝统治结束后，中华民国临时政府成立
- C. 《中华民国临时约法》的颁布者是袁世凯
- D. 辛亥革命极大推动了中华民族的思想解放
14. 为下表选取表名，最恰当的是

名称	相关信息
开滦煤矿	1878 年建，位于河北，官营大型煤炭工业
北洋水师大沽船坞	1880 年建，位于天津，官营船舶修造所
北洋银元局	1902 年建，位于天津，国家造币中心之一
京师自来水公司	1908 年建，北京最早的官营自来水厂

- A. 晚清京津冀地区重要企业简表 B. 近代民族资本主义企业简表
- C. 民国时期中国重要企业简表 D. 近代外国资本在华企业简表
15. 鲁迅在白话文小说《狂人日记》中写道：“我翻开历史一查……每页上都写着‘仁义道德’几个字。……仔细看了半夜，才从字缝里看出字来，满本都写着两个字‘吃人’”。该段文字反映出鲁迅的思想主张是
- A. 抨击专制，提倡民主 B. 抨击旧道德，提倡新道德
- C. 抨击迷信，提倡科学 D. 抨击旧文学，提倡新文学
16. “红军一共爬过十八条山脉，其中五条是终年盖雪的，渡过二十四条河流，经过十二个省份，占领过六十二座大小城市……”，《红星照耀中国》里记载的红军这段艰难的行军中，中共中央召开的重要会议是
- A. “八七会议” B. 古田会议 C. 遵义会议 D. 中共七大

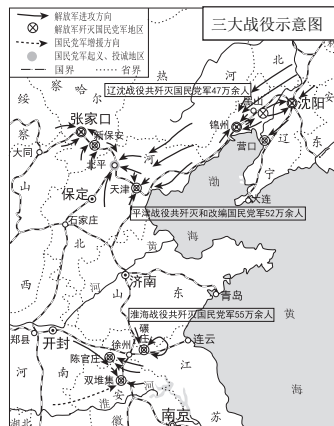


17. 利用历史地图并结合史实,可以提升历史学习中的时空意识。

依据“三大战役示意图”并结合相关史实,叙述准确的是

- ① 三大战役揭开了人民解放军战略反攻的序幕
- ② 三大战役在东北地区最先打响
- ③ 淮海战役的胜利使华北全境基本解放
- ④ 三大战役大大加速了人民解放战争在全国的胜利

- A. ①③
- B. ②③
- C. ②④
- D. ①④



18. 中国人民政治协商会议第一届全体会议, 中华人民共和国第一届全国人民代表大会召开的时间、地点分别是

- A. 1946年、重庆; 1949年、北平
- B. 1949年、北平; 1954年、北京
- C. 1949年、上海; 1954年、北京
- D. 1954年、北京; 1956年、北京

19. 在社会主义经济建设的火热年代, 全国各条战线上涌现出大批英雄模范人物, 其中被称为“党的好干部”的是



A. 王进喜



B. 邓稼先



C. 焦裕禄



D. 雷锋

20. 某校初二年级的同学想要制作一期以“中国特色社会主义理论体系”为主题的板报, 请你为他们推荐合适的参考资料

- ① 邓小平理论
 - ② “三个代表”思想
 - ③ 科学发展观
 - ④ 新时代中国特色社会主义思想
- A. ①②③
 - B. ①③④
 - C. ②③④
 - D. ①②③④

21. 下列观念符合文艺复兴时期的核心精神的是

- A. 人, 应该追求知识和美德
- B. 世界的知识在上帝看来就是愚蠢
- C. 人类一思考, 上帝就发笑
- D. 人是渺小的, 神是伟大的

22. 著名学者斯塔夫里阿诺斯著有《全球通史》, 分为“1500年以前的世界”、“1500年以后的世界”两大部分。作者重视“公元1500年”这个历史坐标的主要原因是

- A. 世界贸易中心由地中海沿岸转到大西洋沿岸
- B. 人类文明的发展开始进入到工业文明时期
- C. 世界从孤立、分散、隔绝走向整体的联系
- D. 促进了欧洲农村的垦殖运动并确立地圆学说

23. 比较俄国亚历山大二世改革和日本明治维新, 其相同点是

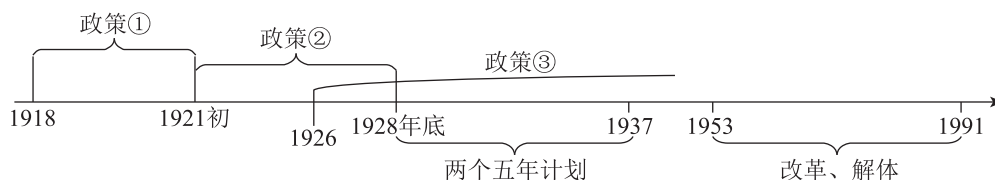
- A. 都强化了本国的农奴制
- B. 都削弱了本国的农奴制
- C. 都保留了浓厚的军国主义色彩
- D. 都走上了资本主义的发展道路



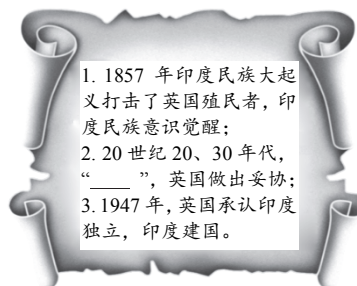
24. 1935 年，厄瓜多尔政府在本国勒克湾海岸上建立了一座纪念碑，碑文上写道：“他于 1835 年在加拉道巴哥斯群岛登陆，在研究当地动植物分布时，初次考察到生物进化问题。从此开始了这个悬而未决的论题的思想革命。”碑文中提到的“他”，应该是
A. 哥伦布 B. 麦哲伦 C. 瓦特 D. 达尔文
25. 下表可用于直接研究的历史主题是

	英国	法国	德国	美国
19 世纪中期工业生产所占位次	1	2	3	4
1913 年工业生产所占位次	3	4	2	1
1913 年殖民地面积所占位次	1	2	4	5

- A. 工业革命时期列强实力的演变 B. 第一次世界大战爆发的原因
C. 凡尔赛-华盛顿体系的形成过程 D. 美德两国间全面矛盾的发展
26. 在学习世界史过程中，某学生梳理、绘制了《苏俄（苏联）经济发展史》示意图，其中“政策③”指的是



- A. 新经济政策 B. 工业化政策
C. 战时共产主义政策 D. 余粮收集制政策
27. 某位历史老师在世界史课堂上举了“印度”这个案例，来讲述世界人民反抗殖民斗争的艰辛历程，其板书如右图所示，横线空格处应该填入的内容是



- A. 非暴力不合作运动
B. 卡德纳斯改革
C. 华夫脱运动
D. 不结盟运动
28. 右图是 20 世纪四十年代初期美国媒体上的一幅漫画，漫画中有三个卡通人物形象分别是希特勒、墨索里尼、广田弘毅，他们正在切瓜，而瓜皮上的纹理是一副世界地图。如果给这幅漫画拟定一个题目，那么下列选项中最合适的是



- A. 《英法对轴心国实行绥靖政策》
B. 《苏联与德国、日本互不侵犯》
C. 《德意日法西斯正在瓜分世界》
D. 《美国与法西斯国家关系稳定》
29. 某学习小组要研究冷战时期的历史，可利用的史料有
①柏林危机的相关档案 ②《华沙条约》的文本
③《联合国宪章》 ④杜鲁门在 1947-1953 年间的演说稿
A. ①②③ B. ①②④ C. ①③④ D. ②③④



30. 下表中是 1982 年、2018 年两个年份中，部分国家在世界经济中占比及相关数据，对比两组数据的变化并结合所学，可以得出的结论是

1982年排名	国家	国内生产总值(万亿美元)	世界经济占比	2018年排名	国家	国内生产总值(万亿美元)	世界经济占比
1	美国	3.34	29.4%	1	美国	20.54	23.9%
2	日本	1.13	10%	2	中国	13.61	15.84%
3	德国	0.77	6.8%	3	日本	4.97	5.79%
4	法国	0.58	5.1%	4	德国	3.95	4.6%
5	英国	0.52	4.5%	5	英国	2.86	3.32%
9	中国	0.21	1.8%	6	法国	2.78	3.23%

- A. 世界政治格局的多极化发展明显 B. 美国在世界经济占比中有所下降
C. 日本与西欧在全球经济占比稳定 D. 中国成为仅次于美国的发达国家

第二部分 材料分析题（共 45 分）

31. (11 分) 人口的流动与迁移与社会变化密切相关

材料一 公元前 214 年，① 朝征服岭南后留军驻守，主将转为当地郡县长官。长官赵佗安抚本地居民，劝导士兵在当地成家，随后奏请朝廷从中原迁 50 万居民至岭南定居。① 末战乱，赵佗乘机独立，建南越国。从此，中原文化与南越文化、海洋文化逐渐融合，开启了岭南文明的辉煌。西晋末年，北方战乱不休，大批幸存者纷纷逃离，《晋书》称：“洛阳倾覆，中州士女避乱江左者十六、七。”“南迁移民主要集中在 ② 地区。他们促使自然条件优越的 ② 地区得到开发，经济迅速发展。

- (1) 依据上述材料，空格①处应该填的朝代是_____；空格②处应该填的地区是_____。(2 分)
(2) 依据材料一，指出影响我国古代大规模人口迁移的主要原因。(1 分) 说出大规模人口迁移产生的主要影响。(1 分)



奥劳达·埃奎亚诺

材料二 奥劳达·埃奎亚诺(1745~1797)，非洲裔作家。1789 年出版回忆录《生平奇事》。书中自述他本是西非人，10 岁时和姐姐一起被奴隶贩子从家中抓走，带到北美为奴 21 年。后来他赎回自由，移居伦敦，并集结出版了这本回忆录。回忆录出版两周后，英国国会展开是否要终止奴隶贸易的争论，这场争论中，该书起到了重要作用。此后，埃奎亚诺在大不列颠各地巡游，开展反奴隶制和奴隶贸易的宣传，1797 年去世。他死后十年，英国禁止了奴隶贸易。

- (3) 依据材料二，指出造成奥劳达·埃奎亚诺到达北美的时代背景。(1 分) 结合所学谈谈你对他人人生经历的认识。(1 分)



材料三

序号	人物	事迹
①	方举赞	广东香山人。最初在上海与广东之间贩运杂货。1866年在上海投资创办发昌机器厂，是中国最早的民族资本主义企业之一。后该厂以制造小火轮为主，是当时上海私人资本机器工业中规模最大的一家。
②	蔡元培	浙江绍兴人。25岁中进士，后接触西学。1901年以后主要在上海从事教育事业，并辗转各地宣传革命思想。1904年，蔡元培在上海创办革命团体光复会，一年后并入同盟会，成为同盟会上海分会负责人。
③	荣宗敬、 荣德生 兄弟	江苏无锡人。早年在上海钱庄当学徒，后投资实业。1912年在上海创办福新面粉公司，1915年在上海创办申新纺织公司，成为中国近代著名的面粉大王，纺织大王。
④	陈独秀	安徽怀宁人。青年时期赴日本求学，后参加反专制的革命活动，在安徽、上海之间奔走。1915年，面对袁世凯复辟逆流，在上海创办《青年杂志》，掀起新文化运动。
⑤	李汉俊	湖北潜江人。1918年留学归来后在上海从事写作、翻译工作，传播马克思主义思想。1921年，参与组织筹划中国共产党第一次全国代表大会，并作为上海地区代表参加。
⑥	邹韬奋	出生于福建。24岁于上海求学，31岁担任《生活周刊》编辑。他以“社会改造”为宗旨，大力革新。抗战期间，《生活周刊》高举“抗日救国”的旗帜，成为宣传团结抗战、谴责投降卖国的舆论阵地。

(4) 选择任意两则材料，提炼一个观点，说明人口流动与上海发展的关系。(3分)

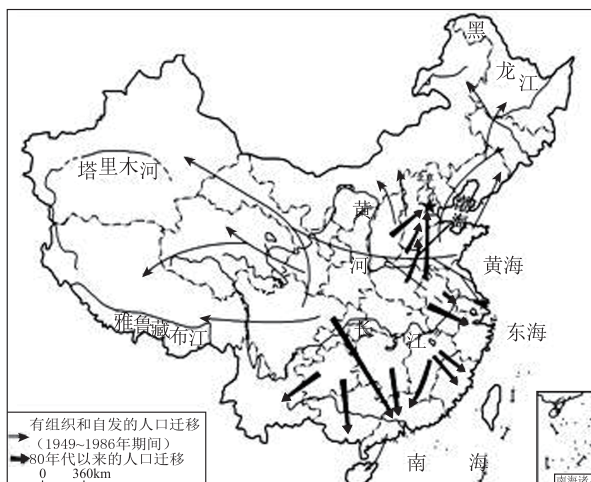
【示例】选择：②和⑤ 观点：人口流动促使上海成为近代革命运动的发源地之一。

说明：蔡元培在上海建立光复会，推动反对清政府的斗争；李汉俊在上海筹划和参加共产党一大，促成了中国革命面貌的改变。

材料四

1949年以来我国国内人口流动的主要流向图

(5) 依据材料四的地图，指出20世纪80年代以来我国人口流动的主要方向。(1分) 结合所学，分析产生这一流动方向的主要原因。(1分)





32. (10分) 历史上广告古已有之，而各种宣传又经常是时代的呼声

材料一 隋唐时期的茶叶广告发展迅速。主要表现为茶肆开始取名、夜间悬挂灯笼、使用招牌、注重门面修饰、利用音响等方式。这一时期茶区遍布四川、陕西等15个省市。而至南宋茶产量约已经是唐代的3倍多。唐宋时期饮茶成风，皇帝大多嗜茶如命，有的还亲自撰写茶书，士大夫更是风行斗茶，普通百姓也视茶为必需，城乡茶馆大兴。市场竞争加剧，也刺激了茶商进一步改善经营手段。

(1) 依据材料一，说出隋唐时期茶叶广告的特点。(1分) 结合所学分析广告发展的原因(2分)

材料二

			
宣传画 1 内容：美国联邦士兵装备图。 (创作于1862年)。	宣传画 2 内容：1908年福特T型汽车问世。后续共生产1500多万辆。 (创作于1908年)	宣传画 3 内容：图中俄文为“光荣属于伟大的十月！” (创作于1917年)	宣传画 4 内容：图中英文为“彻底根除法西斯暴徒！” (创作于1945年)

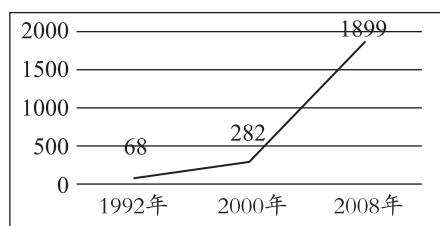
(2) 从材料二中的宣传画中任选其一(示例除外)，仿照示例，说出反映的历史信息(3分)

示例：选择宣传画1

说明：宣传画1反映了1861-1865年的美国内战。这场战争源于美国南北双方的矛盾积累与爆发。通过战争美国废除了奴隶制度，维护了国家统一并促进了美国资本主义经济的发展。

材料三 19世纪下半叶开始，中国专门从事广告经营活动的广告公司和专业人员应运而生，广告业在中国诞生了。新中国成立以后，中国开始实行计划经济，广告业因而退出了当时的经济活动。而1978年后广告行业发生了巨大的改变。

1992年以来广告营业总额(单位：亿元)



(3) 依据材料三，归纳中国广告行业的发展趋势(1分) 结合所学分析该趋势产生的时代背景(1分)

(4) 综合上述材料，以“广告与历史”为主题谈谈你的看法(2分)






33. (14分) 国家治理和全球治理

材料一

<p>① “皇帝之下，设有中央政府机构，由丞相、太尉、御史大夫统领，分别掌管行政、军事和监察事务，最后决断权由皇帝掌控。”</p>	<p>② “唐代宰相有三个衙门，称三省：一中书省，二门下省，三尚书省。三省职权会合，才等于一个汉朝的宰相。”</p>	<p>③ “秦始置丞相，不旋踵而亡。汉唐宋因之，虽有贤相，然其间所用者多有小人。……以后嗣君不许立丞相，臣下敢有奏请设立者，文武群臣即时劾奏，处以重刑。”</p>
<p style="text-align: center;">A</p>	<p style="text-align: center;">B</p>	<p style="text-align: center;">C</p>

(1) 上面三则文字材料分别解读了古代中国三个不同时期的专制主义中央集权，请将对应的史实叙述的序号与示意图表示的字母进行连接。(3分)

材料二 下面三位近代历史人物，都是救亡图存的积极探索者，其言论和观点主张部分呈现如下：

近代探索者	人物言论	观点主张	实践行动
 李鸿章	中国欲自强，则莫如学习外国利器，欲学习外国利器，则莫如觅制器之器，师其法而不必尽用其人。	①	创办江南制造总局等军事企业
 康有为	国会者，君与民共议一国之政治也，盖自三权鼎立之说出，以国会立法，以法官司法，以政府行政。	主张实行君主立宪制	②
 孙中山	驱除鞑虏，恢复中华，创立民国，平均地权。	③	领导辛亥革命

(2) 根据表格提供的信息，并结合所学，完善表格空白处的内容。(3分)



材料三 17~18 世纪，欧美有多个国家都爆发了革命。这些国家都曾遇到一个问题，即革命后的国家治理。英国在 1688 年“光荣革命”后，议会于次年颁布了《权利法案》；以此为基础，英国确立了议会在国家政治生活中的最高地位，逐渐形成了君主立宪制；从此，分歧可以在议会中协商解决，避免了不必要的暴力和内战。美国在独立战争结束后，由于各州自行其是，矛盾重重，中央政府软弱无力；1787 年，各州派出代表齐聚费城，组成制宪会议并最终制定出美国宪法，将美国设计成为一个联邦制共和国，开启了美国的崛起之路。法国大革命期间历经多次政局动荡、社会混乱，直到 1804 年，拿破仑亲自参与和签字批准的《民法典》正式生效；这部法典巩固了法国的资本主义制度，使革命前的封建秩序在法国再也不可能得到恢复，法国社会的进步最终无法阻挡。

(3) 依据材料三，分别指出英美法三国在“革命后”治理国家的具体措施。(3 分) 概括他们的相同点。(1 分)

材料四 国际秩序的演变是全球治理得以产生和发展的首要动因。……从 20 世纪 50 年代直至冷战结束之前，世界政治、经济、安全和文化等领域的主导权始终牢牢掌握在美国和其他几个少数西方发达国家的手中，“少数控制多数”、“美国独霸、几方共治”的不平衡、不公正的全球治理格局长期持续，而世界上广大发展中国家的利益诉求却始终无法得到有效回应。

(4) 依据材料四，指出冷战结束前，全球治理存在的主要问题。(2 分)

材料五 习近平指出，当今世界发生的各种对抗和不公，不是因为联合国宪章宗旨和原则过时了，而恰恰是由于这些宗旨和原则未能得到有效履行。要坚定维护以联合国宗旨和原则为核心的国际秩序和国际体系，维护和巩固第二次世界大战胜利成果，积极维护开放型世界经济体制，旗帜鲜明反对贸易和投资保护主义。

(5) 依据材料五，分析面对当今世界发生的各种对抗和不公，习近平给出的应对措施。(2 分)

34. (10 分) 某历史小组开展“北京史迹寻踪”考察活动

【探古都风韵】

材料一 古都北京历史古迹与遗迹丰富，学习小组搜集了以下相关资料：

①卢沟桥：金朝修建，特色之一是桥上的石狮子，历经元明清三代修补，融汇众多民族的艺术特征，成为一座石雕艺术博物馆。

②元大都城垣遗址：忽必烈称帝后，决定都城南迁，任用汉族士人营建新都。元大都街道整齐划一，由中心区向南规划出全城的中轴线。

③积水潭遗址：元朝京杭大运河漕运总码头，来自全国的商货集散于积水潭码头，钟鼓楼一带成为大都城中最为繁华的闹市。

④紫禁城：明清北京城承袭了元大都的中轴线。紫禁城是北京城的核心，也是中轴线的重要组成部分。有各类殿宇 9000 间，是世界最宏大的皇家建筑群。

⑤大栅栏商业街区：兴起于清朝，以大栅栏为中心，形成了若干具有行业色彩的商街。日用品、古玩交易，金融服务，娱乐休闲、餐饮场所等，应有尽有。

⑥湖广会馆：创建于清嘉庆十二年（1807 年），现辟为“北京戏曲博物馆”。会馆中历史



价值最高的是进行京剧演出的大戏楼，名伶谭鑫培、余叔岩都曾在此演出。

⑦曹雪芹故居：曹雪芹晚年居所，位于今北京植物园内的黄叶村。他在此完成《红楼梦》前80回。清朝小说中艺术成就最高、影响最远的就是《红楼梦》。

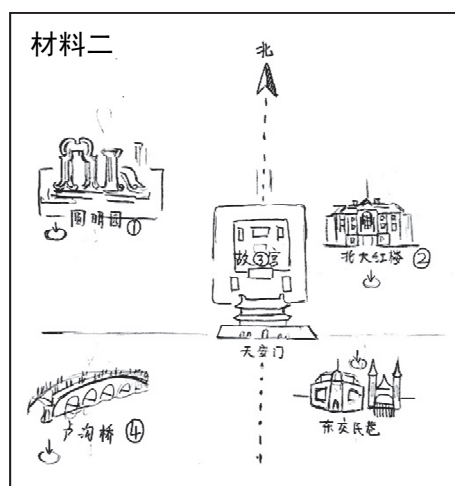
(1) 仿照示例，设计一条探访古都风韵游览路线的主题，并选取材料一中的两则相关材料加以对应（只有序号而无主题不得分）。（3分）

【示例】

主题	序号
民族交融的见证	①
	②

【观近代风云】

(2) 材料二是学习小组绘制的“近代北京历史古迹”示意图。从图中①、②、③、④等四处任选一处推荐，并写出推荐理由。（2分）



【感红色印记】

材料三 1949年3月，中共七届二中全会闭幕不久，中共中央机关即由河北平山县西柏坡迁到了北平西郊的香山，位于香山南面山坡上的双清别墅成为毛泽东同志暂时居住、办公的地方。以下两段文字皆出自这一时期的毛泽东。

①
钟山风雨起苍黄，
百万雄师过大江。
虎踞龙盘今胜昔，
天翻地覆慨而慷。
宜将剩勇追穷寇，
不可沽名学霸王。
——毛泽东
一九四九年四月二十四

②
庆龄先生：
重庆违教，忽近四年。仰望之诚，与日俱积。兹者全国革命胜利在即，建设大计，亟待商筹，特派邓颖超同志趋前致候，专程欢迎先生北上。敬希命驾莅平，以便就近请教，至祈勿却为盼！专此。
敬颂大安！
毛泽东
一九四九年六月十九日



(3) 从材料三中任选一个文本(写出序号), 写出与之相关的历史事件。结合所学, 指出该事件的历史意义。(3分)

序号:

事件:

历史意义:

【看文化新生】

材料四 2020年清明小长假期间, 因疫情而闭馆70多天的故宫联合多家网络媒体, 开启了2020年“云游”故宫直播, 带观众探春紫禁城, 共赴“云上”故宫之约。故宫博物院院长王旭东认为, 技术的发展使得博物馆能够打破传统的开放模式, 通过网络拓宽自己的传播途径, 实现更加广泛的社会服务与文化传播。如今, 观众在家便可逛故宫、看展览、赏文物、学历史。走在数字博物馆建设前列的“数字故宫”, 以越来越开放的姿态, 让古老的故宫与时代相接, 让更多的观众与文化相遇。其承载的中华优秀传统文化, 在人们心中种下一粒种子, 并生根、发芽, 筑牢每一位中国人的文化自信。

(4) 让古老的文化遗产获得新生, 彰显传统文化的魅力, 是当代人的使命。请任选一处你知道的北京地区文化古迹(本题已展示说明的除外), 提出你助力文化宣传、增加文化活力的行动建议。(2分)