



历史试卷

学校 _____

姓名 _____

教育 ID _____

考生须知

1. 本试卷共 10 页，34 道小题，满分 90 分。考试时间 90 分钟。
2. 在试卷和答题卡（纸）上准确填写学校名称、姓名和教育 ID。
3. 试题答案一律书写在答题卡（纸）上，在试卷上作答无效。
4. 在答题卡（纸）上，选择题用 2B 铅笔作答，其他试题用黑色字迹签字笔作答。
5. 考试结束，将本试卷、答题卡（纸）和草稿纸一并交回。

第一部分 选择题

本部分共 30 小题，每小题 1.5 分，共 45 分。在每小题列出的四个选项中最符合题目要求的一项。

1. 下列图片是历史书中某一子目的插图，这一子目是



碳化的稻谷



建房的木桩

- A. 周口店和北京人
B. 河姆渡居民和原始农业
C. 半坡居民和彩陶制作
D. 黄帝和炎帝的传说
2. 他出生在春秋时期的鲁国，曾带领学生周游列国，寻找能够接受他主张的国君，结果失败。他决心推动人们去施“仁”，成为中国第一位道德哲学家。他创立的学派是
A. 道家
B. 儒家
C. 法家
D. 墨家
3. 商鞅变法后，“秦战未尝不克，攻未尝不取，所当未尝不破”。秦军强大的战斗力主要得益于
A. 允许土地私有
B. 统一度量衡
C. 奖励军功
D. 推行县制
4. “百代皆行秦政制”。秦朝政治制度为后世王朝长期沿用的是
A. 分封制
B. 郡县制
C. 科举制
D. 行省制
5. 秦汉时期的时代特征是
A. 中华文明的起源
B. 国家的产生与社会变革
C. 大一统局面的开创
D. 政权分立与民族交融
6. 《三字经》：“光武兴，为东汉，四百年，终于献。□□□，争汉鼎，号三国，迄两晋。”
□□□为缺漏的内容，这部分内容是
A. 国号商
B. 始春秋
C. 魏蜀吴
D. 为南朝

历史试卷 第 1 页（共 10 页）

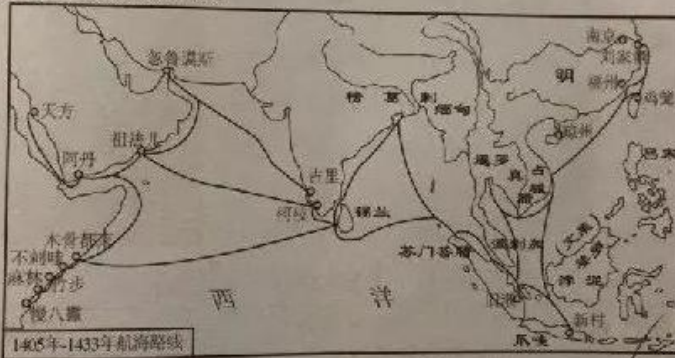
7. 历史概念是对史事的概括/与“迁都洛阳”“改汉姓”“禁胡语”都有关的历史概念是
 A. 东晋建立 **B. 孝文帝改革** C. 江南开发 D. 经济重心南移
8. 唐太宗是我国古代一位有作为的君主。下列言论体现他开明的民族政策的是
A. 自古皆贵中华，贱夷狄，朕独爱之如一
 B. 为政之要，唯在得人
 C. 以古为镜，可以知兴替；以人为镜，可以知得失
 D. 舟所以比人君，水所以比黎庶，水能载舟，亦能覆舟

9. 右图为古代某朝代都城示意图，该都城是

- A. 西汉长安**
 B. 东汉洛阳
 C. 唐朝长安
 D. 北宋东京



10. 下图反映的重要历史事件是



- A. 张骞出使西域 B. 玄奘西游 C. 鉴真东渡 **D. 郑和下西洋**
11. 一位同学学习中国古代史时整理了一些史实（见右表）。这些史实反映的主题是中国古代的

- | | |
|------|------------|
| 事件 1 | 西汉王朝设置西域都护 |
| 事件 2 | 唐王朝设置安西都护府 |
| 事件 3 | 元设置宣政院管辖西藏 |
| 事件 4 | 清朝在台湾设置台湾府 |

- A. 边疆管理**
 B. 经济往来
 C. 文化交流
 D. 政体演变
12. 王国维先生说：“凡一代之文学，楚之骚，汉之赋，六代之骈语，唐之□，宋之□，元之□，皆所谓一代之文学，而后世莫能继焉者也。”□处依次应该填入的是
A. 诗、词、曲 B. 词、曲、诗 C. 曲、诗、小说 D. 小说、诗、曲
13. 在近代化的探索中，主张“中国只有实行维新变法，才能自强保种”的代表人物是
 A. 林则徐 B. 李鸿章 **C. 康有为** D. 胡适

历史试卷 第2页 (共10页)

14. 1919年6月5日,上海开始大罢市,全市商店的窗户上都贴着白色的标语,写着诸如此类的口号:“不除国贼,誓不开市”“还我自治,释放学生”“爱国自由,不受干涉”。这一场景出现于

- A. 武昌起义中 B. 五四运动中 C. 南昌起义中 D. 重庆谈判中

15. 据右侧“资料卡片”判断,其中的“会议”是指

- A. 中国共产党一大
B. 遵义会议
C. 中国共产党七大
D. 中国共产党八大

会议时间: 1921年7月23日
会议地点: 上海望志路106号
参加者: 毛泽东、董必武等13人

16. 某班同学筹备一期板报,包括以下内容:撤出中央革命根据地、四渡赤水、强渡大渡河、翻越大雪山、胜利到达陕北。此板报的题日应是

- A. 此日漫挥天下泪,有公足壮海军威 B. 四万万同一哭,去年今日割台湾
C. 红军不怕远征难,万水千山只等闲 D. 钟山风雨起苍黄,百万雄师过大江

17. 右图是位于沈阳的一座纪念馆,主体建筑上有“1931; 9月小; 18; 星期五”等字样,其设计是为纪念某一重大历史事件。这一事件标志着

- A. 国民革命兴起
B. 国共合作形成
C. 农村革命根据地创建
D. 中国局部抗战开始



18. 下表反映了1940年八路军发动的一次重大战役。这次战役是

作战区域	指挥官	作战目的	战果
华北地区	彭德怀	打破日军对根据地的封锁	毙、伤、俘日伪军4万多人

- A. 淞沪会战 B. 平型关大捷 C. 台儿庄战役 D. 百团大战

19. 右图是1978年12月《人民日报》刊发的一次会议公报。该会议确定把党和国家的工作重心转移到

- A. 阶级斗争
B. 国防建设
C. 经济建设
D. 文化创新



20. 文物是我们了解历史的重要途径。著名的汉谟拉比法典石柱有助于我们了解
- A. 尼罗河流域文明
B. 两河流域文明
C. 印度河流域文明
D. 黄河流域文明
21. 下列各项对文艺复兴运动表述正确的是
- ①发源于意大利
②以人文主义为核心
③否定对现实幸福的追求
④反映新兴资产阶级的愿望
- A. ①②③
B. ①②④
C. ①③④
D. ②③④
22. 右图摘自一位学生的读书心得，他评价的是
- A. 英国“光荣革命”
B. 俄国农奴制改革
C. 日本明治维新
D. 美国罗斯福新政
- 我认为此改变，没有流血就推翻了国王的专制统治，值得赞扬和借鉴。
23. “我们郑重宣布：这些联合殖民地从此成为、而且名正言顺地应当成为自由独立的合众国，他们解除对于英王的一切隶属关系，与大不列颠王国之间的一切政治联系也应从此完全废止。”这段话出自
- A. 《权利法案》
B. 《独立宣言》
C. 《人权宣言》
D. 《解放黑人奴隶宣言》
24. 拿破仑捍卫了法国大革命的成果。下列事件发生在拿破仑帝国时期（1804—1815）的是
- A. 召开三级会议
B. 攻占巴士底狱
C. 罗伯斯庇尔掌权
D. 颁布《民法典》
25. 1865年4月，北方军队攻占里士满，南方军队投降，内战结束。美国南北战争
- A. 推翻君主专制，确立资产阶级议会制
B. 为欧洲资本主义制度建立奠定了基础
C. 摆脱英国殖民统治，实现了国家独立
D. 维护了国家统一，废除了黑人奴隶制
26. 下表是俄国农奴制改革和日本明治维新的主要内容。它们的共同点是
- | 俄国农奴制改革 | 日本明治维新 |
|---|--|
| 亚历山大二世签署废除农奴制法令，农奴在获得解放时，可以得到一块份地，但他们必须出钱赎买这块份地 | 明治天皇政府实行了一系列改革：“废藩置县”；允许土地买卖；鼓励发展近代工业；提倡“文明开化” |
- A. 改变了土地制度
B. 解放了农奴
C. 赢得了民族独立
D. 推翻了幕府统治
27. 1859年，达尔文发表了科学巨著《物种起源》。他在科学理论方面的贡献是
- A. 发现了杠杆定律和浮力定律
B. 建立了经典力学的完整体系
C. 揭示了生物界自然选择规律
D. 为核能的应用提供理论基础
- 历史试卷 第4页 (共10页)

28. 与右图文物相关的历史事件是

- A. 拉丁美洲独立运动
- B. 马克思主义诞生
- C. 巴黎公社建立
- D. 俄国十月革命



此图为“阿芙乐尔”号巡洋舰132号舷窗。该军舰在1917年11月7日发出了向冬宫进攻的信号。

29. 在经济大萧条时期，为缓解危机，美国政府制定了很多法律法规，譬如：通过《紧急银行法》整顿金融；通过《农业调整法》恢复农产品价格；通过《全国工业复兴法》加强对工业的指导。这些措施的特点是政府

- A. 通过立法干预经济
- B. 全力发展重工业
- C. 采用自由放任政策
- D. 实行农业集体化

30. 下列第二次世界大战中的重大历史事件，按照时间顺序排列正确的是

- ①国际反法西斯联盟建立
 - ②雅尔塔会议召开
 - ③斯大林格勒战役
 - ④德国闪击波兰
- A. ①②③④
B. ②④③①
C. ③②①④
D. ④①③②

第二部分 非选择题

31. (9分) 十九大报告提出“坚持中西医并重，传承发展中医药事业”。

材料一

中国古代医学成就

时期	成就
战国到秦汉时期	《黄帝内经》全面总结秦汉以前的医学成就，为后世中医学的发展提供了理论指导
	东汉张仲景著《伤寒杂病论》，继承古代医书的基本理论，确立辨证治疗的原则，奠定了中医治疗学的基础
	东汉华佗研制成“麻沸散”，为患者进行外科手术，是世界上第一位采用全身麻醉方法的医生
明朝	李时珍写成的药物学巨著《本草纲目》共收录了1892种药物，其中374种是李时珍新增加的药物。它先后被译成日、法、德、英、拉丁、俄、朝鲜等十余种文字，在国外出版

(1) 依据上表，将下列中医成就与其评价正确搭配。(将成就的序号填写到相应位置，4分)

- ①《本草纲目》 ②“麻沸散” ③《伤寒杂病论》 ④《黄帝内经》
- () 秦汉以前的中医学成就
 - () 领先世界的外科医学成就
 - () 奠定中医治疗学基础的著作
 - () 影响广泛的药物学巨著

历史试卷 第5页 (共10页)

材料二 随着西方科学技术及西方医学在我国的传播发展，在如何发展中医学的问题上，不仅出现了中西医汇通的主张，同时也产生了中医科学化的思潮。有人赞同用科学方式整理中医，如主张中医学应接纳传染病学说、内分泌说、维他命说，将经验实验化，药物化学化，治疗机械化。

——摘编自张成博、程伟《中国医学史》

- (2) 自近代以来，人们对中医学的发展提出了什么主张？（1分）分析以上主张出现的时代背景。（1分）

材料三 2015年，中国科学家屠呦呦因研制治疟药物青蒿素获得诺贝尔奖。

东晋葛洪《肘后备急方》记载的治疟药方：“青蒿一握，以水一升渍，绞取汁，尽服之。”屠呦呦从中得到启示，用沸点比较低的乙醚提取青蒿中的有效成分——青蒿素，经过反复试验，终于获得了成功。

- (3) 说明屠呦呦的成功与传统中医的关系。（1分）从中我们能得到什么启示？（2分）

32. (16分) 交融·和解·担当

材料一 古丝绸之路不仅是一条通商易货之道，更是一条知识交流之路。沿着古丝绸之路，中国将丝绸、瓷器、漆器、铁器传到西方，也为中国带来了胡椒、亚麻、香料、葡萄、石榴。沿着古丝绸之路，佛教、伊斯兰教及阿拉伯的天文、历法、医药传入中国，中国的四大发明、养蚕技术也由此传向世界。更为重要的是，商品和知识交流带来了观念创新。比如，佛教源自印度，在中国发扬光大，在东南亚得到传承。儒家文化起源中国，受到欧洲莱布尼茨、伏尔泰等思想家的推崇。这是交流的魅力、互鉴的成果。

——习近平在“一带一路”高峰论坛开幕式上的主旨演讲（节选）

- (1) 依据材料一，列举古代中国通过丝绸之路外传和输入的文明成果。

外传的文明成果有：_____（2分）

输入的文明成果有：_____（2分）

- (2) 依据材料一，谈谈古代丝绸之路的作用。（2分）

材料二 美洲的发现、绕过非洲的航行，给新兴的资产阶级开辟了新天地。东印度和中国的市场、美洲的殖民化、对殖民地的贸易、交换手段和一般商品的增加，使商业、航海业和工业空前高涨，因而使正在崩溃的封建社会内部的革命因素迅速发展。

以前那种封建的或行会的工业经营方式已经不能满足随着新市场的出现而增加的需求了。工场手工业代替了这种经营方式。

——马克思、恩格斯《共产党宣言》

- (3) 依据材料二并结合所学，说明新航路开辟的影响。（3分）

历史试卷 第6页（共10页）

材料二 随着西方科学技术及西方医学在我国的传播发展,在如何发展中医的问题上,不仅出现了中西医汇通的主张,同时也产生了中医科学化的思潮。有人赞同用科学方式整理中医,如主张中医学应接纳的传染病学说、内分泌说、维他命说,将经验实验化、药物化学化,治疗机械化。

——摘编自张成博、程伟《中国医学史》

- (2) 自近代以来,人们对中医学的发展提出了什么主张?(1分)分析以上主张出现的时代背景。(1分)

材料三 2015年,中国科学家屠呦呦因研制治疟药物青蒿素获得诺贝尔奖。

东晋葛洪《肘后备急方》记载的治疟药方:“青蒿一握,以水一升渍,绞取汁,尽服之。”屠呦呦从中得到启示,用沸点比较低的乙醚提取青蒿中的有效成分——青蒿素,经过反复试验,终于获得了成功。

- (3) 说明屠呦呦的成功与传统中医的关系。(1分)从中我们能得到什么启示?(2分)

32. (16分) 交融·和解·担当

材料一 古丝绸之路不仅是一条通商易货之道,更是一条知识交流之路。沿着古丝绸之路,中国将丝绸、瓷器、漆器、铁器传到西方,也为中国带来了胡椒、亚麻、香料、葡萄、石榴。沿着古丝绸之路,佛教、伊斯兰教及阿拉伯的天文、历法、医药传入中国,中国的四大发明、养蚕技术也由此传向世界。更为重要的是,商品和知识交流带来了观念创新。比如,佛教源自印度,在中国发扬光大,在东南亚得到传承。儒家文化起源中国,受到欧洲莱布尼茨、伏尔泰等思想家的推崇。这是交流的魅力、互鉴的成果。

——习近平在“一带一路”高峰论坛开幕式上的主旨演讲(节选)

- (1) 依据材料一,列举古代中国通过丝绸之路外传和输入的文明成果。

外传的文明成果有: _____ (2分)

输入的文明成果有: _____ (2分)

- (2) 依据材料一,谈谈古代丝绸之路的作用。(2分)

材料二 美洲的发现、绕过非洲的航行,给新兴的资产阶级开辟了新天地。东印度和中国的市场、美洲的殖民化、对殖民地的贸易、交换手段和一般商品的增加,使商业、航海业和工业空前高涨,因而使正在崩溃的封建社会内部的革命因素迅速发展。

以前那种封建的或行会的工业经营方式已经不能满足随着新市场的出现而增加的需求了。工场手工业代替了这种经营方式。

——马克思、恩格斯《共产党宣言》

- (3) 依据材料二并结合所学,说明新航路开辟的影响。(3分)



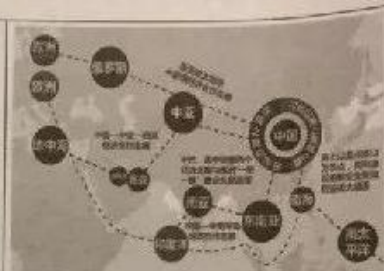
历史试卷 第6页(共10页)

材料三 第二次世界大战后的西欧处于美、苏两极之间，没有一个西欧国家可以担当欧洲复兴的重任，只有走联合之路。联邦德国和法国决心摆脱束缚它们近一个世纪之久的宿怨，求得彻底和解。1950年5月，法国提出把法德的全部煤钢生产置于一个其他欧洲国家都可以参加的高级联营机构的管制之下，联邦德国积极响应。1952年由法国、联邦德国、意大利等六国组成的煤钢共同体正式运作。这一组织的建立不仅有效地促进了成员国冶金工业的发展，而且在欧洲联合的进程中具有重要意义。它把法国和德国的利益融合在一起，从而有利于从根本上实现两国的和解。它作为欧洲一体化的第一个实体，为更深层次的欧洲一体化奠定了基础。

——摘编自彭树智《世界史·当代卷》

(4) 说一说法德两国之间有什么“宿怨”？（写出史实，1分）法德两国是如何和解的？（1分）结合材料，你如何看待这种和解？（表明态度，并说明理由，3分）

材料四

 <p>图1</p>	 <p>图2</p>	 <p>图3</p>
<p>2015年，习近平主席出席联合国发展峰会，宣布了中国为支持联合国推动国际和平与发展事业所采取的重大举措。</p>	<p>2015年，中国海军第二十二批护航编队起航，奔赴亚丁湾、索马里海域执行护航任务。</p>	<p>越来越多的国家、国际组织加入了“共商共建共享”的“一带一路”实践进程。</p>

(5) 从以上图文材料中任选其一，谈谈当今中国在世界发挥的作用。（史论结合，2分）

33. (10分) 铁路经历了两百多年的发展历程。

材料一

1830~1870年世界铁路营业里程表（单位：英里）

	1830年	1840年	1850年	1870年
欧洲	60	1800	14000	65000
北美洲	—	2800	9000	56000
亚洲	—	—	200	5100
南美洲	—	—	—	1800
非洲	—	—	—	1100
澳洲	—	—	—	1000
全世界总计	60	4600	23200	130000

——（英）伯里编《新编剑桥世界近代史第10卷：欧洲势力的顶峰：1830~1870年》

(1) 依据材料一并结合所学，说出铁路为什么最早出现在欧洲？（1分）铁路的发展呈现出哪些趋势？（2分）

历史试卷 第7页（共10页）

材料二 1906年京汉铁路通车，在铁路沿线地区，过去成年男子多穿着长袍马褂，妇女穿宽肥衣裳，无论款式还是颜色均较单一。京汉铁路开通后，外地流行的服饰很快就传到沿线地区。各种西式衣帽开始受到青年男子的青睐。妇女衣着更是异彩纷呈，旗袍、长裙、连衣裙，花样繁多。由于铁路沿线形成了大量的商贸集散中心，便捷的铁路运输使输入本地的菜、蛋、肉、禽及各种时令水果数量和种类大为增加。京汉铁路改变了沿线人们外出步行为主，远距离依靠马车的习惯。人们逐渐被这种新式交通工具所吸引，时间缩短，乘坐火车的人数逐年增加。以车站为中心的城市与周边各县公路交通也日益发达，外出旅行的铁路和公路等道路条件更为方便。

——摘编自郝震生《京汉铁路对直隶沿线的影响》

(2) 依据材料二，说出京汉铁路通车给人们生活带来的变化。(3分)

材料三 中华人民共和国成立前，全国有2万多公里铁路，大都分布在东北和沿海地区。西北、西南只有1000多公里，仅占全国铁路的6%左右。铁路设备主要依靠进口，不仅质量差，而且类型杂乱。新中国建立后，先后在西北、西南地区建成宝成、青藏和北疆等十几条铁路干线，这两个地区的铁路营业里程上升到全国的24%以上。到2016年底，全国铁路营业里程达12.4万公里，其中高速铁路2.2万公里以上，居世界第一。各种类型的机车、车辆设备都实现了国产化，其质量、数量都不断上升。

——《中国铁路百年发展史》

(3) 依据材料三，概括新中国铁路建设的成就。(2分)

材料四 2022年北京和张家口将共同主办第24届冬季奥林匹克运动会。我国计划建设北京到张家口的高速铁路，铁路全线长约174千米，主线共设近10个车站，设计时速将在每小时200到350千米之间，乘火车从北京北站到延庆场馆约20分钟，到张家口场馆为52.5分钟。

——2016年9月6日中华铁道网

(4) 请你畅想铁路建设给你参与2022年冬奥会带来的影响。(2分)

34. (10分) 文化遗产和历史文物见证了历史的发展。


材料一 2014年6月22日大运河成功申报世界文化遗产，部分遗址点如下表：

运河段	遗址点
北京-天津-河北段	通惠河段、旧城段(什刹海-玉河)万宁桥、东不压桥遗址、十四仓遗址、八孔闸、独流木桥、九宣闸、沧州至德州段运河河道
山东-河南段	南运河德州段、会通河临清段(元运河、小运河)、会通河南旺枢纽段、中河台儿庄段、通济渠郑州段、洛阳回洛仓遗址和含嘉仓遗址
浙江段	杭州塘段(海宁-杭州)、江南运河杭州段、浙东运河主线、富义仓、凤山水城门遗址、桥西历史街区、西兴过塘行码头

(1) 依据材料一并结合所学，对以下表述做出判断：正确的在括号内划“√”；错误的在括号内划“×”。(4分)

- ①通惠河段属于北京-天津-河北段。 ()
- ②只有古运河河道才是受保护的遗址点。 ()
- ③运河段的粮仓遗址说明古运河具有运输粮食的功能。 ()
- ④大运河沟通南北交通，促进经济文化交流。 ()


材料二 复兴之路展示了近代中国人民为民族复兴而奋斗的艰辛历程。



文物 1: 林则徐向道光皇帝报告虎门销烟的奏折



文物 2: 清朝末代皇帝溥仪的退位诏书



文物 3: 中国人民政治协商会议第一届全体会议委员签名册

(2) 按照历史发展的时间顺序，排列以上文物。(填写序号即可，1分)

(3) 请从以上文物中任选一件，说明相关历史事件及其影响。(2分)

材料三 建设新中国，走中国特色社会主义道路是民族复兴的必经之路。在参观复兴之路展览时，同学们搜集到以下历史资料：

①	20世纪50年代鞍钢老工人孟泰带动全厂工人从废铁堆里捡出上万吨材料，建立孟泰仓库
②	20世纪50年代科技人员研制原子弹时使用的手摇计算机
③	1954年老舍当选为北京市人民代表大会代表的代表证
④	1973年袁隆平研制高产杂交水稻成功的新闻报道照片
⑤	1977年高等学校招生的准考证
⑥	1986年六届全国人大四次会议通过《中华人民共和国义务教育法》，推行九年制义务教育
⑦	1991年11月全国政协对政协委员刘崇智提出的关于深入开展反腐败斗争的提案的表彰证书
⑧	2003年宇航员杨利伟第一次太空飞行的航空日志及圆珠笔

(4) 从以下表格中任选一个与民族复兴相关的主题，运用上表中的两则资料，说明该资料与主题的关系。(3分)

主题	序号	说明
示例： 民主政治	③	这张代表证说明老舍是人大代表。人民代表大会制度是我国的根本政治制度，保证了人民当家作主
	⑦	本证书说明政协委员积极参政议政受到表彰。中国共产党领导的多党合作和政治协商制度是我国的一项基本政治制度
重视教育		
科技发展		
艰苦奋斗		

