

初三第一学期期中学业水平调研

道德与法治



微信扫一扫，快速关注

学校 _____ 姓名 _____ 准考证号 _____

注 意 事 项	<p>1. 本调研卷共 7 页，满分 90 分。考试时间 90 分钟。</p> <p>2. 在调研卷和答题纸上准确填写学校名称、姓名和准考证号。</p> <p>3. 调研卷答案一律填涂或书写在答题纸上，在调研卷上作答无效。</p> <p>4. 在答题纸上，选择题用 2B 铅笔作答，其他题用黑色字迹签字笔作答。</p> <p>5. 调研结束，将本调研卷和答题纸一并交回。</p>
------------------	-----------------------------------------------------------------------------------------------------------------------------------------------------------------------------------------------

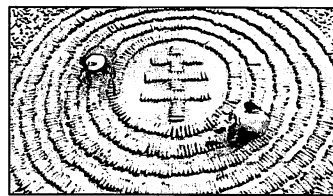
第一部分（选择题 共40分）

本部分共 20 小题，每小题 2 分，共 40 分。在每小题列出的四个选项中，选出最符合题目要求的一项。

- 2018 年中非合作论坛北京峰会于 9 月 3 日至 4 日在北京举行。本次峰会主题为“合作共赢，携手构建更加紧密的_____”。
 - 中非关系
 - 中非合作体
 - 中非命运共同体
 - 中非友好伙伴关系
- 纪念中国人民抗日战争暨世界反法西斯战争胜利_____周年座谈会于 2018 年 9 月 3 日在北京举行。中国人民抗日战争胜利，是近代以来中国抗击外敌入侵的第一次完全胜利。这一伟大胜利，开辟了中华民族伟大复兴的光明前景，开启了古老中国凤凰涅槃、浴火重生的新征程。
 - 65
 - 73
 - 69
 - 70
- 1978 年，党的十一届三中全会开启了改革开放的历史征程。下列对改革开放的理由和意义阐释不正确的是
 - 坚持改革开放是我国的强国之路
 - 改革开放使广大群众参与劳动的积极性高涨
 - 改革开放使我国成为世界第一大经济体
 - 改革开放是决定当代中国命运的关键抉择
- 中国特色社会主义进入新时代，我国社会主要矛盾已经转化为人民日益增长的美好生活需要和不平衡不充分的发展之间的矛盾。下列有利于解决这一矛盾的举措是
 - ①我国实施“健康中国战略”
 - ②限制非公有制经济发展，推动国有资本做强做优做大
 - ③ 2018 年加大精准扶贫力度，再减少农村贫困人口 1000 万以上
 - ④政府推进“厕所革命”，以推动农村生态振兴
 - ①②③
 - ②③④
 - ①②④
 - ①③④

5. 海淀蔬菜联采联盟在区商务委的带领下，着力探索精准健康扶贫模式，展开与对口帮扶地区内蒙古敖汉旗的对接工作。目前，第一批采自敖汉旗的特色产品已经进入海淀，采购金额达千万元。这一举措
- A. 是促进贫困地区脱贫的关键
B. 是我国当前一切工作的中心
C. 有利于实现收入分配绝对公平
D. 有利于实现共同富裕
6. 2018年9月，好消息一个接一个，异地换发出入境证件、14种抗癌药价格下调、景区门票价格降低，一系列惠民政策不断涌现。这体现了
- A. 人民的所有合法权益均得到保障
B. 我国已经全面建成小康社会
C. 我国城乡之间的差距不断缩小
D. 党和政府坚持以人民为中心的发展思想
7. 经党中央批准、国务院批复自2018年起，将每年农历秋分日设立为“中国农民丰收节”。这是第一个在国家层面专门为农民设立的节日。中国农民丰收节的设立

- ①彰显“三农”工作的重要地位
②提升亿万农民的荣誉感、幸福感、获得感
③说明发展的根本目的是促进农业丰收
④促进我国城乡发展不平衡不协调问题的解决




- A. ①②③
B. ②③④
C. ①②④
D. ①③④

8. 下列选项中，由材料得出的观点不正确的是

选项	材料	观点
A	现在很多人出门都不用带钱包，手机支付更方便	创新让生活更美好
B	以公有制为主体，多种所有制经济共同发展的基本经济制度，极大解放和发展社会生产力	制度的创新推动经济发展、社会进步
C	2016年9月，世界最大的射电望远镜在我国贵州建成，这是具有我国自主知识产权的国家重大科技基础设施	我国已经迈入创新强国行列
D	诺贝尔生理学或医学奖获得者屠呦呦说：诺贝尔奖不仅是授予我个人的荣誉，也是对全体中国科学家团队的嘉奖和鼓励	创新不仅是个人的创意行为，也是团队、集体的创造活动

9. 海淀区第二届“智慧杯”中小学生计算机程序设计大赛开始啦！它以“编程创造未来”为主题，将“科技”与“未来”结合在一起，引导中小学生自由发挥想象，从艺术、游戏等多角度利用计算机语言进行编程创作。如果就此拟一个新闻标题，下列最合适的是
- A. 人才培养从学生开始，智慧编程激发创造力
B. 中小学生齐参与，科技竞赛助力经济发展
C. 创新离不开想象，想象力决定国家未来实力
D. 科技与未来融合，自主创新效果显著
10. 2018年9月，广深港高铁香港段正式运营，这标志着内地高铁网延伸至香港，两地高铁实现互联互通。中国高铁经历了从无到有，从引进技术，摸索学习到高铁核心技术完全国产化的历程。下列选项正确的是
- A. 核心技术应从国外引进以节约开发成本
B. 中国高铁走出了一条自主创新的道路
C. 中国高铁的故事说明创新都是原创的
D. 高铁的发展说明创新是推动社会发展的决定力量

11. 2018年9月17日,第七届中国创新创业大赛行业总决赛开幕。本届比赛报名企业共计31136家,较上届增长10.6%。七年间,通过举办创新创业大赛,从地方到中央支持创新创业的制度环境不断优化、市场活力不断释放。我国举办创新创业大赛
- ①说明政府倡导大众创业、万众创新
②是为了激活创新引擎,释放更多创新活力
③是解决创新能力不强的关键措施
④体现教育是培养创新型人才的根本途径
- A. ①② B. ①③ C. ②④ D. ③④
12. 个税起征点的调整先后开展了方案制定、专家论证、公示征求百姓意见等工作,于2018年8月31日,修改个人所得税法的决定通过,个税起征点提高到每月5000元,这使广大纳税人能不同程度地享受到减税的红利。这说明社会主义民主具有_____的特征。
- A. 合理性 B. 公平性 C. 真实性 D. 全民性
13. 在北京市教委举办的第九届中小学生科学建议奖评选活动中,共征集到首都近千名中小學生提出的871项建议,包括城市治理、环境保护、京津冀协同发展、冬奥文化传播、民生保障等方面。这一活动
- ①进一步扩大学生的政治权利 ②有利于提升学生的政治素养和参与能力
③保障学生直接行使管理国家事务的权力 ④有利于激发学生的科学精神和社会责任感
- A. ①② B. ①③ C. ②④ D. ③④
14. 下列图片中属于民主决策的是

	
<p>A. 公共交通价格调整听证会</p>	<p>B. 村干部改选</p>
	
<p>C. 中央电视台《焦点访谈》栏目</p>	<p>D. 依法信访</p>

15. 新兴网络词语“喷子”是指爱好胡乱指责他人而不通情达理的人，一些喷子甚至通过种种不道德，乃至违法的手段来配合“攻击语言”，以达到“在精神上战胜对方”的目的。在网络上遇到“喷子”时，正确的选择是
- A. 发动网友搜索其信息并予以曝光
B. 以相同的方式回应他们
C. 道德谴责或运用法律维护合法权益
D. 应尊重他们的言论自由
16. 有事好商量，众人的事情由众人商量，是人民民主的真谛。协商民主是我国社会主义民主特有的形式和独特优势。下列体现“协商民主”的事例是
- ①北京市发改委就 30 多个民生热点问题开展问计于民的活动
②某街道召开各界人士座谈会，征询对老旧小区微改造的意见
③《刑事诉讼法（修正草案）》在人大网公布，征求社会公众意见
④北京市教委公布城乡中小学校一体化发展项目管理办法
- A. ①②③ B. ②③④ C. ①②④ D. ①③④
17. 近几年城市养犬数量大幅增加，由此引发的社会矛盾和争论日益明显。为了加强养犬管理，济南市公安局实行养犬登记“信用计分制”，扣满 12 分需学习《济南市养犬管理条例》，经此治理，犬只拴绳率由当初不足 20% 增长至 80% 以上。
- 下列分析不正确的是
- A. 政府的作用就是管理社会生活
B. 强化法律对道德建设的促进作用
C. 政府管理到位可以化解社会矛盾
D. 公民要树立正确的权利义务观念
18. 在现代社会，作为合格公民，应该积极参与民主生活，感知民主价值，增强民主意识。下列活动体现公民参与民主生活的是
- ①拨打市长热线反映学校附近网吧非法经营问题
②积极参与“双十一”网购狂欢
③积极参与网上评议政府的活动
④利用假期到福利院帮助残疾儿童
- A. ①② B. ①③ C. ②④ D. ③④



19. 我国政府建立清单制度。权力清单就是把各级政府和各个政府部门所掌握的各项公共权力进行全面统计，并将权力的列表清单公之于众。下列选项理解正确的是

- A. 权力清单增加政府公共服务
- B. 权力清单规范政府行政权
- C. 权力清单缩小政府权力
- D. 权力清单规范公民义务



20. 近日，在济南开往北京的列车上，一名男乘客一直霸占别人座位，态度十分恶劣。济南铁路公安局依据《治安管理处罚法》，给予该乘客罚款 200 元，并在 180 天内限制购票乘坐火车的处罚。下列网友对这一事件的评论中，正确的是

- A. 甲：罚款太少了，只有多罚款才有效
- B. 乙：任何违法行为都要受到刑事处罚
- C. 丙：道德对人们普遍没有什么约束力
- D. 丁：公民应在法律范围内行使权利履行义务

第二部分（非选择题 共50分）

21. 2018 年恰逢中国改革开放 40 周年，国家博物馆举办“影像见证四十年（1978—2018）”摄影展，展览上，有这样两幅照片及介绍：



责任制从他们手中诞生

1979 年，安徽省凤阳县小岗生产队农民严俊昌、严立学、严立坤站在自己承包的土地上，心中充满希望。

1978 年 11 月 24 日，小岗生产队 18 户农民偷偷搞起了农业“大包干”，“交足国家的，留足集体的，剩下都是自己的”。沿着这个逻辑，整个中国的命运发生了转折……



清华大学 77 级学生在上课

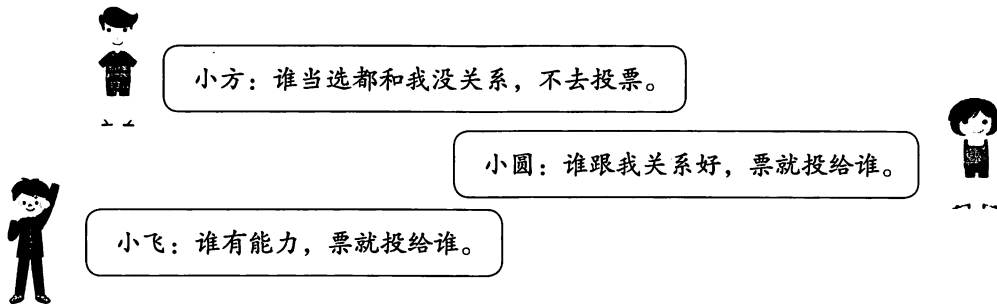
1979 年，清华大学 77 级学生在上课。

清华大学 77 级入学新生只有 800 多人，1 个月后又扩招了 200 多人，录取共计 1053 人。在新生中，职工和下乡回乡知识青年占 70% 以上。

1977 年，中断 10 年的高考制度恢复。这一年，全国高考报名考生共 570 万人，录取率仅为 5%。2017 年，全国高考报名考生共 940 万人，录取率达 74.46%……

任选一幅图片，结合所学知识，谈谈你的感悟。（6 分）

22. 社会生活中需要参加投票选举，在“投谁一票”的问题上，大家发表了以下观点：



小方：谁当选都和我没关系，不去投票。

小圆：谁跟我关系好，票就投给谁。

小飞：谁有能力，票就投给谁。

结合所学知识，分别对小方、小圆、小飞的观点进行评析。（6分）

23. 在海淀区人民政府网站“咨询回应”栏目下，提交了这样一则信息：

提出人：志明

主题：请规范龙翔路10号楼门口胡同乱停车问题

具体内容：海淀区龙翔路10号楼门口胡同长约二三十米，仅能勉强错开两辆车，胡同东侧长期乱停乱放车辆，导致道路严重拥堵，存在极大的安全隐患，望相关部门给予规范化管理。

结合所学知识，回答该公民行使了什么权利，行使这一权利有什么意义？（6分）

24. 北京市政府开展“疏解整治促提升——让城市更宜居，我有话说”的活动，就便民服务不够便利、缺少绿色休闲空间、腾退空间如何更好规划利用等问题，广泛征求广大市民的意见和建议。

结合所学知识，回答问题。

(1) 说明北京市政府广泛征求广大市民意见和建议的理由。（6分）

(2) 公民在参与民主生活过程中，应该注意什么？（4分）

25. 有这样一位老人，他自学法律，义务为海岛渔民宣传法律知识，三十多年的普法行程已达两万六千多公里。

1985年开始，他用两年半的时间，系统自学完成了宪法、刑法、民法等十多门法律课程，并以优异的成绩取得了法律函授学校毕业证书。1987年，64岁的他掏出自己的退休金，自费创办法制学校。自1987年至今，共培养出“法律明白人”2000多人，为群众义务提供法律咨询3000多人次，调解家庭邻里纠纷600余起。

(1) 说明这位老人身上的哪些品质值得你学习。(4分)

(2) 全面依法治国离不开全民守法，除此以外，要实现全面依法治国，立法机关、行政机关、司法机关应该怎么做?(6分)

26. 某校九年级(1)班学生在《道德与法治》的课堂上开展了以“创新”为主题的研讨。

【创新之我见】

小明在讨论中说：航天领域是投入多，风险大的未知领域，对我们来说一切都是新的，不确定的，处处充满摸索和冒险，但我们国家还存在着贫困、环境污染等需要马上解决的问题。航天搞了这么多年，花了那么多钱，真的值得吗？

(1) 你认为值得吗？结合所学知识说明理由。(6分)

【创新共努力】

(2) 中国科技创新之路任重道远，需要加快建设创新型国家。结合所学知识，分别从国家、企业、个人的角度，就如何建设创新型国家各提一条建议。(6分)

初三第一学期期中学业水平调研
道德与法治参考答案及评分细则

2018.11

第一部分 共 20 小题，每小题 2 分，共 40 分。

题号	1	2	3	4	5	6	7	8	9	10
答案	C	B	C	D	D	D	C	C	A	B
题号	11	12	13	14	15	16	17	18	19	20
答案	A	C	C	A	C	A	A	B	B	D

第二部分 共 6 小题，共 50 分。

21. (6 分) 评分观察视角：能够围绕改革开放、科教兴国战略、人才强国战略谈。

等级水平	等级描述
水平 4	观点明确，知识运用恰当，条理清晰。(5-6 分)
水平 3	观点较为明确，知识运用较为恰当，条理较为清晰。(3-4 分)
水平 2	观点不明确，知识运用不恰当，缺乏条理性。(1-2 分)
水平 1	答非所问，没有应答或观点错误。(0 分)

22. (6 分) 小方的观点是不正确的，他没有珍惜自己的民主权利，公民要积极、主动地参与民主选举。小圆的观点是不正确的，公民要理性地参与民主选举，做到客观公正。小飞的观点有一定的道理，但票投给谁：除了考虑能力，还要综合考虑品德等其他方面。

23. (6 分) 监督权。有利于促进政府及其工作人员依法行政，更好地为人民服务；有利于增强公民的参与意识，维护社会公共秩序。

24. (1) (6 分) 我国是人民民主专政的国家。人民当家作主是社会主义民主的本质。政府的权力来源于人民，其宗旨是为人民服务。公民具有知情权、参与权、表达权、监督权。促进政府决策科学化、民主化。

(2) (4 分) 答案不唯一。

答案示例：遵守宪法和法律、理性参与、辩证分析问题等。

25. (1) (4分) 答案不唯一。

答案示例：坚持不懈、无私奉献、乐于学习、志愿服务等。

(2) (6分) 立法机关科学立法、行政机关严格执法（依法行政）、司法机关公正司法。

26. (1) (6分) 值得。理由：科技创新能力已经成为综合国力竞争的决定性因素。创新让生活更美好。探索航空领域需要不断进行技术创新，科技创新能力的提高能够使我国在综合国力的竞争中处于有利地位，不会受制于人；同时，其中的许多技术创新可以用于民用，也会促进贫困、污染等问题的解决，让我们的生活更美好。

(2) (6分) 答案不唯一。

答案示例：国家：实施科教兴国战略、人才强国战略。企业：加大科研投入，培养科技创新人才。个人：培养批判性思维，勇于探索实践。



微信扫一扫，快速关注