



第二环节【参与·践行】

法国思想家卢梭说过，真正的宪法既不是刻在大理石上，也不是刻在铜表上，而是刻在公民的内心里。

(2)如果让你策划开展宪法宣传活动，你还会怎么做……

顺义区 2018—2019 学年度第一学期期末九年级教学质量检测
 历史试卷

考生须知

1. 本试卷共 8 页，共两部分，29 道小题。满分 100 分。考试时间 60 分钟。
2. 在答题纸卡准确填写姓名、班级和学校。
3. 试题答案一律书写在答题卡上，在试卷上作答无效。
4. 在答题卡上，试题用黑色字迹签字笔作答。
5. 考试结束，将答题纸交回。

第一部分(选择题 共 50 分)

本部分共 25 小题，每小题 2 分，共 50 分。在每小题列出的四个选项中，选出最符合题意的一项。

1. 要研究我国北方原始农耕文化，下列古人类遗址中，可以去考察的是
 A. 云南元谋 B. 北京周口店 C. 陕西半坡 D. 浙江河姆渡
2. “封尚父于营丘，曰齐；封弟周公旦于曲阜，曰鲁。”《史记·周本纪》中这段文字反映的古代政治制度是
 A. 禅让制 B. 分封制 C. 郡县制 D. 行省制
3. 下列历史人物在中外交流中做出过突出贡献，其活动按先后顺序排列正确的是
 ①张骞出使西域 ②鉴真东渡 ③郑和下西洋 ④马可·波罗来华
 A. ①②③④ B. ②①④③ C. ①④②③ D. ①②④③
4. 列表总结是有效的学习方法，阅读下表，表中①处应该填写的正确内容是

序号	①	北魏孝文帝改革主要措施
1	废除旧田制，私田可买卖	迁都洛阳
2	奖励耕织，免除徭役	朝廷官员禁用鲜卑语，用汉语
3	按军功授爵	改鲜卑服为汉服，改鲜卑姓为汉姓
4	建立县制	鼓励鲜卑贵族与汉人通婚

- A. 秦国商鞅变法 B. 秦朝商鞅变法 C. 秦朝李斯改革 D. 汉朝董仲舒改革
5. 中华民族是崇尚英雄、勇于担当的民族，下表空白处与人物相对应的事件是

民族英雄	戚继光	郑成功	林则徐	邓世昌
历史事件	抗击倭寇	收复台湾		血战黄海

- A. 虎门销烟 B. 抗击沙俄 C. 收复新疆 D. 武昌起义
6. 今天的中国正在走向富强，不能忘记那些曾为挽救民族危亡做出贡献的仁人志士。其近代著名的状元实业家是

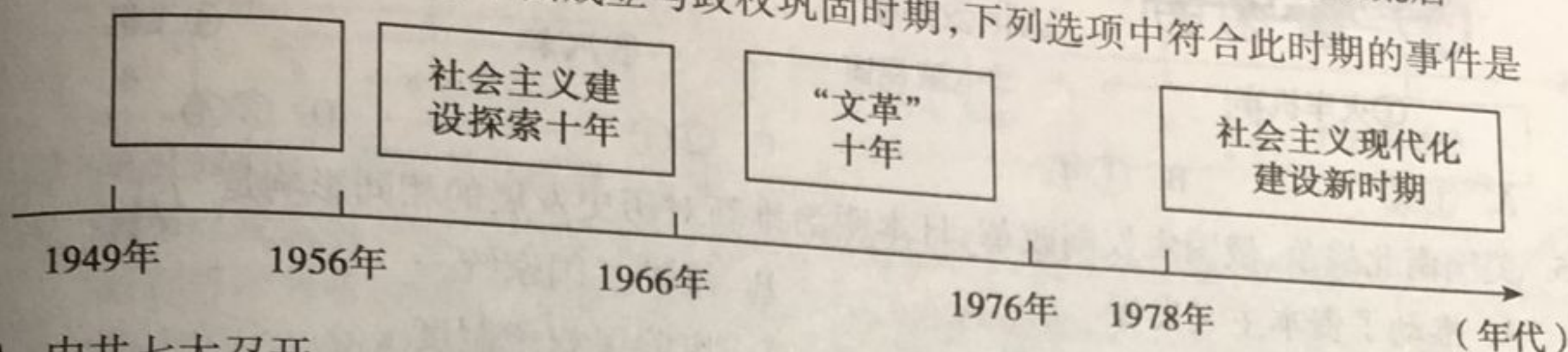
- A. 孙中山 B. 康有为 C. 陈独秀 D. 张謇



7. 在近代西方工业文明的冲击下,民国时期社会习俗发生变化。下列所述现象与民国时期要求不符合的是

- A. 禁缠足,倡女权,男女平等新追求
- B. 称先生,道某君,人格平等意义深
- C. 旗袍西服中山装,穿着舒适又大方
- D. 辫子搭肩三尺长,之乎者也说荒唐

8. 下图中空格所示阶段是新中国成立与政权巩固时期,下列选项中符合此时期的事件是



- A. 中共七大召开
 - B. 土地改革
 - C. 大跃进和人民公社运动
 - D. 原子弹爆炸成功
9. 下列国家与其文明成果对应错误的一组是
- A. 古希腊——民主政治
 - B. 古埃及——金字塔
 - C. 古罗马——象形文字
 - D. 古巴比伦——汉谟拉比法典


10. 下列三幅图片所代表的宗教分别是



释迦牟尼图



耶稣受难图



清真寺图

- A. 基督教 佛教 伊斯兰教
 - B. 道教 基督教 伊斯兰教
 - C. 伊斯兰教 基督教 道教
 - D. 佛教 基督教 伊斯兰教
11. 恩格斯说:“城市是中世纪的花朵”。10世纪西欧城市重新兴起的意义在于
- A. 推动西欧封建等级制度的形成
 - B. 封建主对市民的剥削加重
 - C. 为资本主义的兴起准备了条件
 - D. 加速了拜占廷帝国的灭亡

12. 右图是英国为纪念一部重要法律文献颁布300周年发行的纪念币。这部文献的名称是

- A. 《权利法案》
- B. 《独立宣言》
- C. 《人权宣言》
- D. 《解放宣言》




13. 1963年8月28日,美国黑人民权运动的领袖马丁·路德金在演讲中说:“一百年前,一位伟大的美国人签署了解放黑奴宣言……。”这位伟大的美国人是指

- A. 华盛顿
- B. 林肯
- C. 威尔逊
- D. 罗斯福



14. 科技创新给人们的生活带来了新变化。以下成果属于第二次工业革命的是



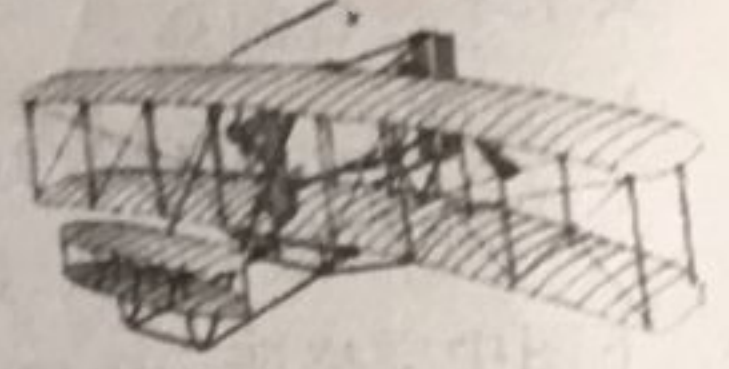
①火车机车



Windows
②电脑视窗



③汽车



④飞机

A. ①②

B. ①④

C. ②④

D. ③④

15. 美国南北战争、俄国农奴制改革、日本明治维新对历史发展的相同影响是

- A. 推动了资本主义发展
- C. 摆脱了半殖民地命运

- B. 维护了国家统一
- D. 废除了奴隶制度

16. 右侧是张历史知识卡片、请选择合适的主题

- A. 英德竞争
- B. 三国同盟与三国协约
- C. 第一次世界大战
- D. 凡尔赛——华盛顿体系

主题：_____

- ①1914年6月28日，奥匈皇储遇刺。
- ②1916年，“凡尔登绞肉机”。
- ③这是一场掠夺的战争。

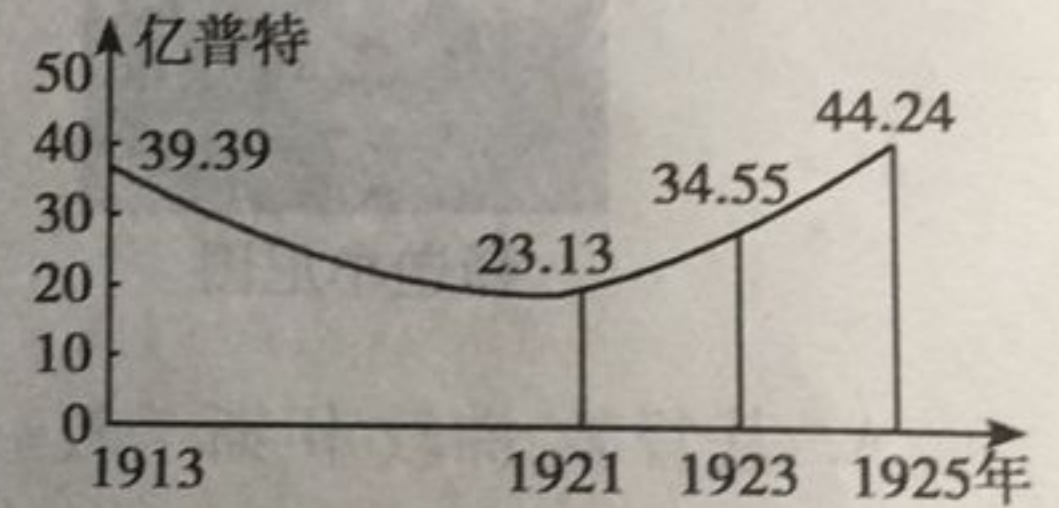
17. 世界近代史上涌现出许多卓有成就的伟人，下列组合不正确的是

- A. 贝多芬——《英雄交响曲》
- C. 达尔文——《物种起源》

- B. 但丁——《神曲》
- D. 牛顿——相对论

18. 右图为苏俄(联)粮食产量变化曲线图，其中导致1921~1925年粮食产量变化的主要因素是实施了

- A. 战时共产主义政策
- B. 新经济政策
- C. 第一个五年计划
- D. 农业集体化



19. 一战以后，英、法、美三国主导下建立了一种新的国际关系体系，与此体系建立有关的会议有

①巴黎和会

②华盛顿会议

③慕尼黑会议

④雅尔塔会议

A. ①②

B. ②③

C. ③④

D. ①④

20. 右图是20世纪30年代英国的漫画《三头怪兽》，其反映的史实是

- A. 《凡尔赛和约》惩罚德国
- B. 德、意、日形成法西斯轴心
- C. 慕尼黑阴谋
- D. 第二次世界大战爆发





21. 罗斯福新政实施是在国会支持下,通过系列法案而实现的,体现了“新政”突出的特点是

- A. 整顿银行
- B. 国家干预经济
- C. 发展对外贸易
- D. 改变资本主义制度

22. 右图中的历史事件标志着

- A. 国际反法西斯联盟建立
- B. 第二次世界大战的转折
- C. 欧洲第二战场的开辟
- D. 日本法西斯彻底覆灭



诺曼底登陆


23. 下列图片反映了同一个主题,概括最恰当的是



杜鲁门主义



马歇尔计划



北约的成立

- A. 美国推行的冷战政策
- B. 欧洲逐渐走向一体化
- C. 世界政治格局的多极化趋势
- D. 经济全球化趋势的加强

24. 下列图片属于欧盟旗帜的是



A



B



C



D

右图是联合国总部前的两座雕塑,它们表现的主题是

- A. 环境与保护
- B. 可持续发展
- C. 和平与发展
- D. 政治多极化



打结的手枪



铸剑为犁



第二部分(非选择题 共50分)

中华文明的繁盛有赖于中华优秀传统文化的传承,其中思想与制度体系的创建
功不可没。阅读下列材料,回答问题。

材料一 为政以德,譬如北辰(北辰:北极星),居其所而众星拱(拱:围绕)之。子为政
有司,子欲善而民善矣。

——《论语·为政》

材料二 孔子为儒家构建了一个体大思精的政治伦理思想体系,具有普遍的永恒
价值,影响之深远,是中国任何一个思想家或学派所无法比拟的。

——《国史概要》

(1)根据材料一、二,概括儒家政治伦理体系的核心内容是什么?结合所学,说明孔子历
史贡献。(4分)

材料三 这位始皇帝开始将早先在本国取得辉煌成功的法家学说应用到全中国。他
废除了所有封建国家和王国,将广阔的国土划分为若干郡县,每一郡县都配备一批由
中央政府任命,并向中央政府负责的官员。……他还通过统一度量衡和货币来实现
经济集中化……

——摘自斯托夫里阿诺斯《全球通史》

(2)结合所学,说明材料中“早先在本国取得辉煌成功的法家学说”所指历史事件是什
么?“这位皇帝”施政创立的制度是什么?例举其治国措施之一,说明其意义。
(4分)

材料四 “进士科始于隋大业中,盛于贞观、永徽之际;缙绅虽位极人臣,不由进士者,
终不为美……”

(唐太宗)见新进士缀行而出,喜曰:“天下英雄入吾彀中(原指箭射出去所能达到的范
围,后用以比喻牢笼,圈套)矣”……正所谓“太宗皇帝真长策,赚得英雄尽白头”。

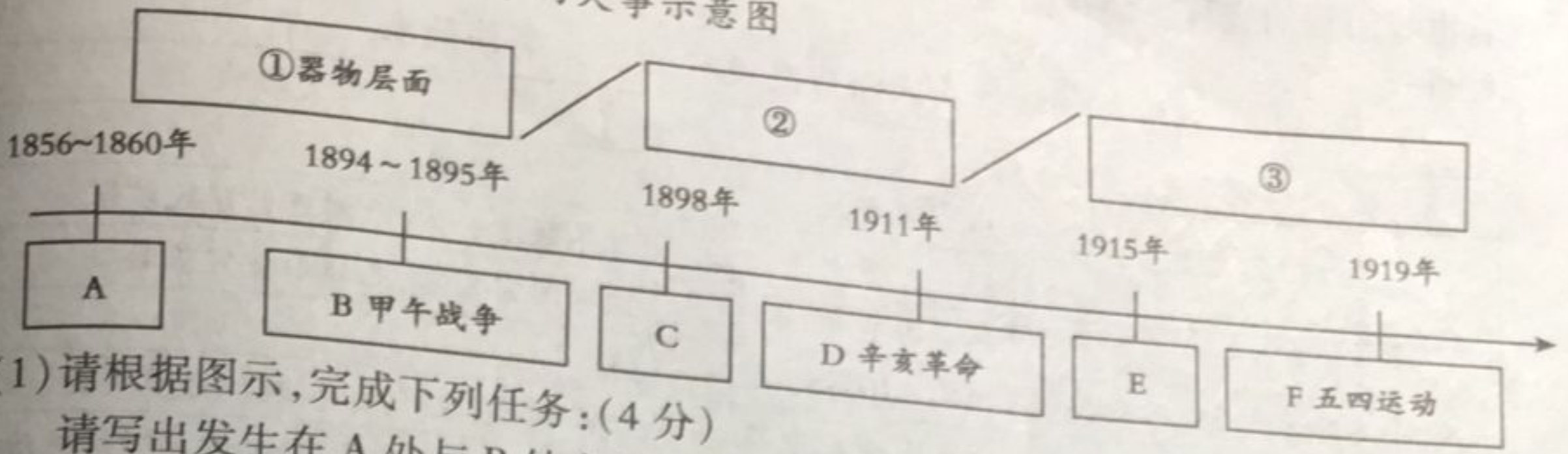
——摘自《唐摭言》

(3)阅读材料四,判断所述内容说明的是中国古代的哪项制度?描述了唐太宗看到了什
么样的情景?说明他“喜从何来”? (4分)



27. (12分) 建立时空观, 探寻中国近现代历史的发展进程。
【1860年~1919年的探索之路】

材料一 中国近代化历程中的大事示意图

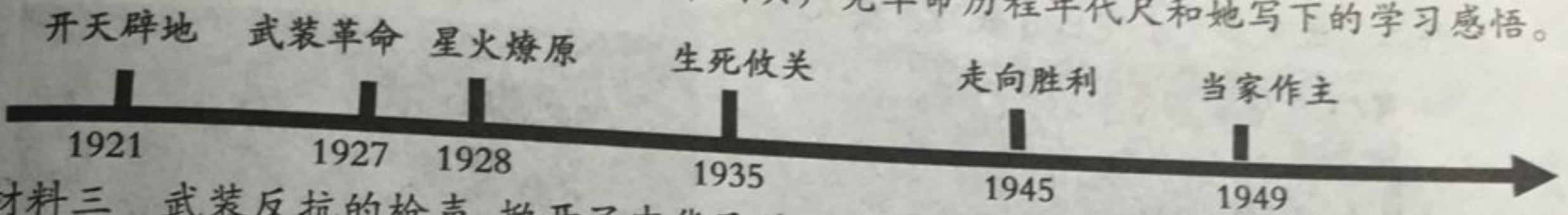


(1) 请根据图示, 完成下列任务:(4分)

请写出发生在 A 处与 B 处之间体现中国近代化的重大历史事件名称 _____。
结合所学分析 1898 年后中国近代化探索的内容变化, ② _____ ③ _____。
结合近代中国国情, 中国近代化道路始终与“救亡图存”相结合的原因是 _____。

【1919年~1949年的民族独立之路】

材料二 选自王芳同学的学习笔记: 中国共产党革命历程年代尺和她写下的学习感悟。



材料三 武装反抗的枪声, 掀开了中华民族从苦难走向振兴的新的一页。从那时起, 中国共产党人从井冈山一路走来, 走过人类历史上绝无仅有的万里长征, 走过艰苦卓绝、浴血荣光的 14 年抗战, 走过“将革命进行到底”的解放战争, 走过戍边御敌、投身建设改革的辉煌岁月……

(2) 请你综合两则材料并结合所学, 选择其中的两个时间节点对应的重要事件, 简述历史意义。(4分)

【1949年开始的民族复兴之路】

材料四




图3 毛泽东在开国大典

图4 邓小平在十一届三中全会

(3) 结合材料四的相关信息, 联系史实, 分别说明两位伟人的历史贡献。(4分)



28. (14分) 15世纪以后的欧洲因资本主义的兴起与发展,改变了欧洲的历史轨迹,也影响着世界历程的进程。请你阅读下列表格,回答问题。

材料一

影响近代欧洲历史进程的重要事件简表

序号	大事件	时间	历史影响
1	文艺复兴运动	14-16世纪	①
2	②	15-16世纪	世界联成一体,欧洲开始殖民扩张
3	殖民扩张	15-19世纪	欧洲国家富有,亚非拉贫穷落后
4	英国资产阶级革命	1640-1688	③
5	工业革命	18-19世纪中期	工厂制度,生产生活、政治力量巨变
6	④	1789-1814	法国资本主义发展,动摇欧洲封建统治基础
7	⑤	19世纪中后期开始	生产生活巨变,进入电气时代
8	⑥《共产党宣言》发表	1848年	无产阶级革命斗争的纲领,马克思主义诞生
9	俄国废除农奴制改革	1861年	资本主义迅速发展,俄国历史转折点

(1) 根据上述表格提示信息,结合所学,请按要求填写相关内容。(6分)

材料二 近代历史上突出贡献的重要人物



图1 达·芬奇自画像




图2 哥伦布画像



图3 瓦特在实验室




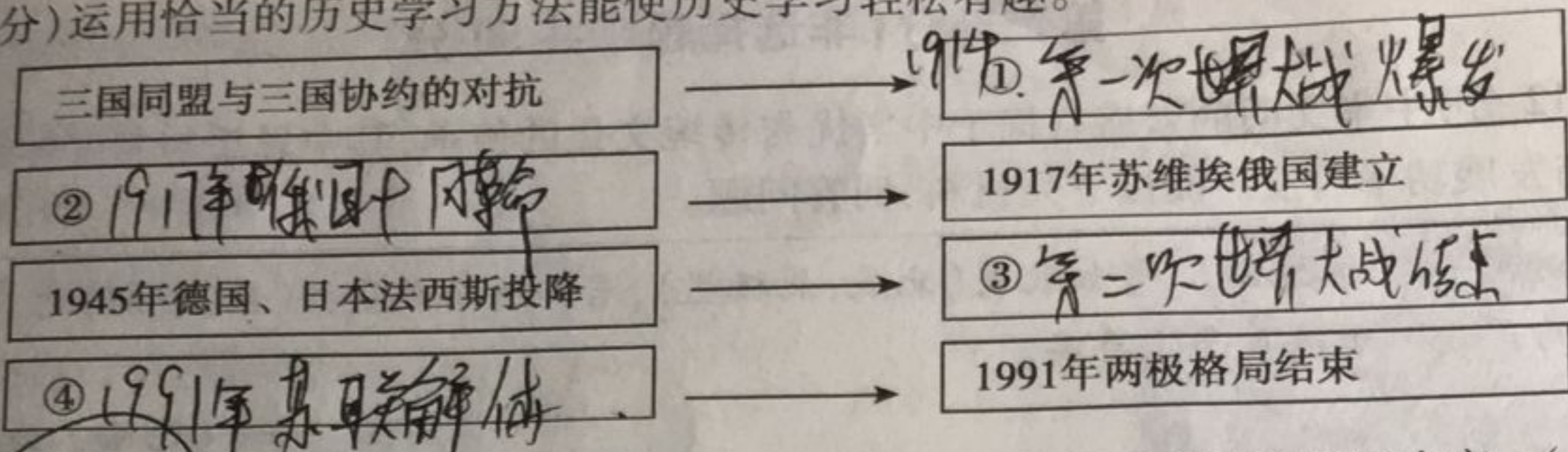
图4 爱迪生上《时代》杂志封面

(2) 请选择上面图片中的任意一个人,结合所学判断上表中与他有关的大事件,并介绍其重要发明成果和他具有的精神品质。(4分)

(3) 根据上表并结合所学,概括欧洲主要国家走上资本主义道路的主要方式,分析促进欧洲近代资本主义迅速发展的因素有哪些?(4分)



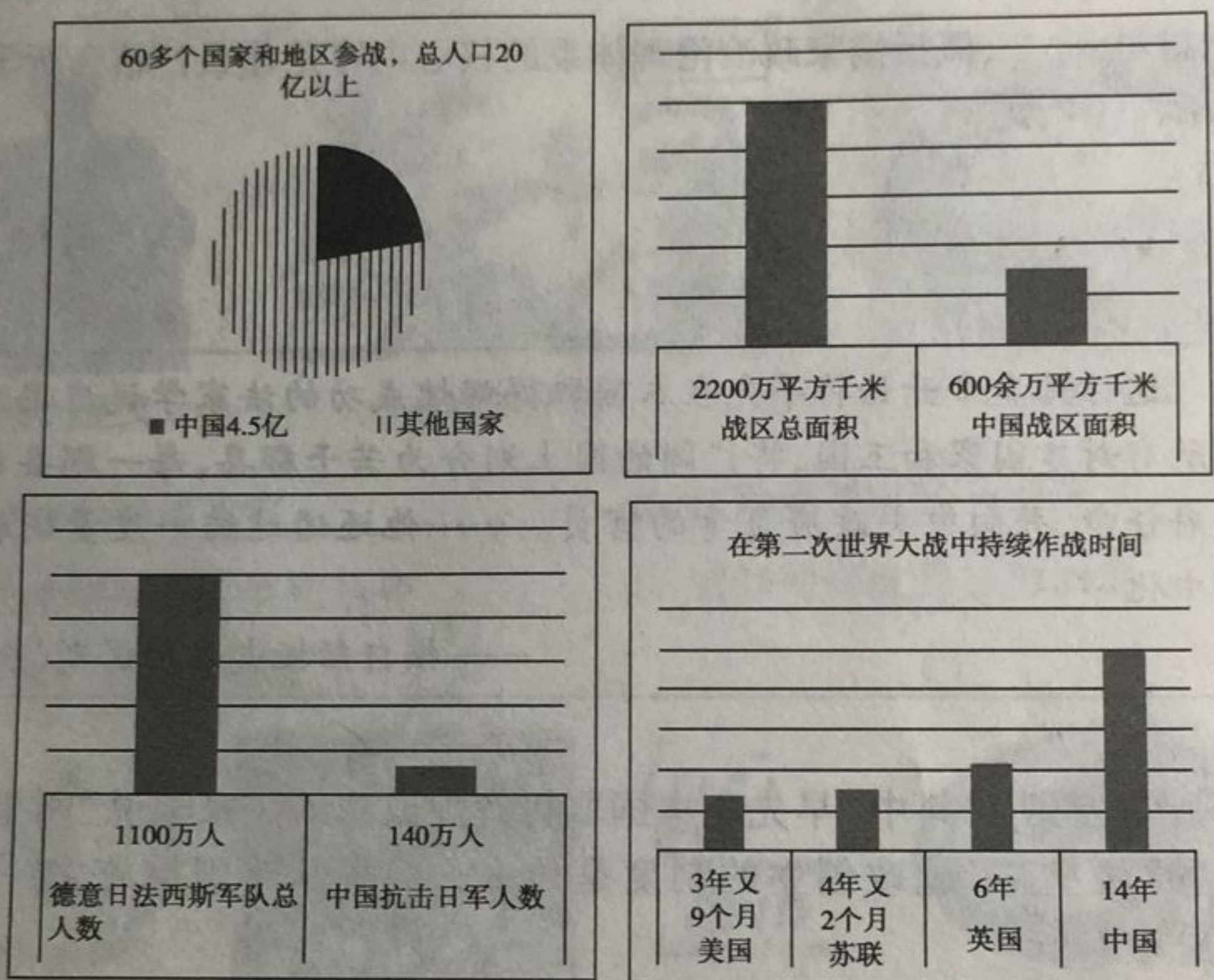
29. (12分) 运用恰当的历史学习方法能使历史学习轻松有趣。



(1) “因果关系”方法有利于理解历史事件的内在关系,将上面空格补充对应的内容。(4分)

材料一 第二次世界大战的有关数据图

(改编自人教版《中国历史》八年级上册配套地图册)



(2) 学会用“数据图表”表达历史。读上述图表,归纳中国抗日战争对第二次世界大战的贡献。(3分)

材料二 科学不仅刷新了我们的世界图景,也刷新了我们的日常生活。……然而,在科学成功的背后,我们必须看到一个潜在的危险正在显露出来。

——吴国盛《科学的历程》

材料三 北京市空气重污染应急指挥部决定2018年11月4日0时至8日0时,本市启动空气重污染橙色预警。中小学停止户外课程和活动。

——北京新闻

(3) 辩证、客观看问题是历史思维。依据材料信息提示,结合自身生活,举例说明科技“刷新了我们的日常生活”和其带来的“潜在危险”,并提出避免“危险”的建议。(5分)