

2018北京市西城区初一（下）期末

历史



试卷满分：100分 考试时间：60分钟

学校_____ 班级_____ 姓名_____ 学号_____ 分数_____

题号	1~25	26	27	28	29	总分
分数						

一、选择题(下列各题的四个选项中，只有一项符合题意。每小题2分，共50分)

- 589年，结束了长期分裂的局面，使我国南北再次实现统一的朝代是
A. 秦朝 B. 隋朝 C. 唐朝 D. 元朝
- “在唐之民，不胜其利也……北通涿郡之渔商，南运江都之转输，其为利也博哉！”据此，大运河在唐朝发挥的作用有
①沟通了南北的交通 ②促进南北经济交流
③加强对全国的统治 ④推动造船业的发展
A. ①② B. ①③ C. ②④ D. ③④
- 将重要人物的事迹进行整理是历史学习的好方法。在某张卡片上记有“君舟民水”“天可汗”“贞观之治”等词语。该历史人物是
A. 唐高祖 B. 唐太宗 C. 武则天 D. 唐玄宗
- 发明和推广先进的生产工具能促进经济的发展。图1是唐朝的筒车，它的用途是
A. 耕作 B. 冶铁 C. 灌溉 D. 运输
- 下列历史人物与事件对应正确的是
A. 耶律阿保机——灭亡西夏 B. 赵匡胤——陈桥兵变
C. 完颜阿骨打——统一契丹 D. 赵构——定都开封
- 北宋武举共取士868人，年均仅5人，总数不及宋真宗景德二年文士录取人数的三分之一。这说明当时
A. 实行重文轻武政策 B. 正式确立了科举制度
C. 科技与文化的繁荣 D. 中央集权进一步加强
- 南宋时期，取得过郾城大捷的抗金将领是
A. 司马光 B. 岳飞 C. 辛弃疾 D. 文天祥




图1



8. 《宋史》记载：“国家根本，仰给东南”，民间谚语称“苏湖熟，天下足”。两者共同反映了

- A. 政治中心的东移
- B. 商业的繁荣兴旺
- C. 社会生活的丰富
- D. 经济重心的南移

9. 北宋四川地区出现的最早的纸币是

- A. 会子
- B. 瓦子
- C. 交子
- D. 票号

10. 产生于唐代，在宋代成为主要的文学形式的是

- A. 诗
- B. 话本
- C. 词
- D. 杂剧

11. “若止印三二本，未为简易；若印数十百千本，则极为神速。”这描述的是四大发明中的

- A. 火药
- B. 指南针
- C. 印刷术
- D. 造纸术

12. 成吉思汗被誉为“一代天骄”，他的功绩主要是

- A. 统一蒙古
- B. 起兵抗辽
- C. 建立元朝
- D. 定都大都

13. 元朝设置管辖琉球的机构是

- A. 行省
- B. 宣政院
- C. 澎湖巡检司
- D. 台湾府

14. 明太祖给子孙留下了“不许立丞相”的祖训，其目的是

- A. 强化皇权
- B. 控制军队
- C. 钳制思想
- D. 八股取士

15. 提出“均田免赋”的口号、率领起义军推翻明王朝的农民起义军领袖是

- A. 陈胜
- B. 吴广
- C. 黄巢
- D. 李自成

16. 欣欣同学在进行复习时，制作了主题式学习卡片。右侧卡片的“主题”处最适宜填入

- A. 民族团结
- B. 和平交往
- C. 社会变革
- D. 反抗侵略

主题： 史实 1：戚继光抗倭 史实 2：郑成功收复台湾 史实 3：雅克萨之战

17. 南瓜原产美洲，明朝嘉靖年间传入中国。《本草纲目》中记载：“南瓜，甘，温，无毒。补中益气。”据此可知，这部著作

- A. 见证了中外的物种交流
- B. 创新了药物的分类法
- C. 修正了前人的错误记载
- D. 具有广泛的世界影响

18. 被誉为“中国 17 世纪的工艺百科全书”的是

- A. 《齐民要术》
- B. 《梦溪笔谈》
- C. 《农政全书》
- D. 《天工开物》



19. 我国拥有多项世界文化遗产。下列文化遗产中，能够体现明朝建筑水平的有

- ①大昭寺 ②长城 ③北京故宫 ④承德避暑山庄
- A. ①② B. ②③ C. ②④ D. ③④

20. 图 2 是雍正帝还是雍亲王时命人绘制的《耕织图》（局部），图中站在田边的正是雍正。从中可以看出

- A. 清朝统治者重视农业生产
B. 新型耕作工具曲辕犁产生
C. 开垦荒田缓解了人口压力
D. 稻麦复种技术得到了推广




图 2

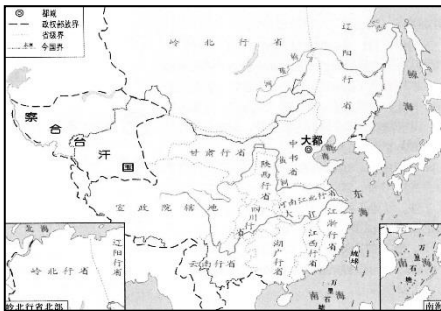
21. 下列史实中，体现清朝君主专制强化的是

- A. 枢密院的创设 B. 三省六部制的完善
C. 军机处的设立 D. 通判的设置

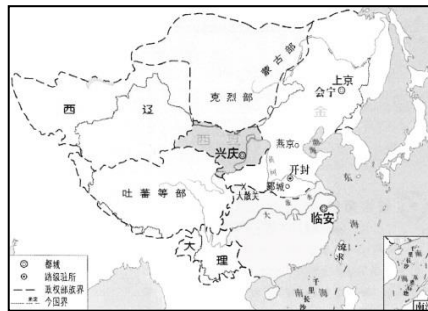
22. 自清中叶开始，清朝在海上只有广州一口对外通商，并对外商的活动和进出口货物的数量进行限制。这说明清朝实行了_____政策

- A. 重农抑商 B. 开放海禁 C. 轻徭薄赋 D. 闭关锁国

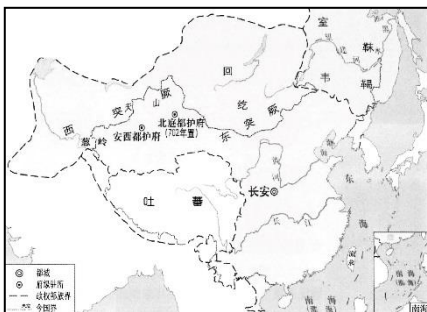
23. 下面是中国古代不同时期的疆域图，按照朝代先后进行排序，正确的是



①



②



③



④

- A. ①②③④ B. ③②①④ C. ②③④① D. ①③②④



24. 清代的小说创作取得了空前的成就，其中艺术成就最高、影响最深远的是

- A. 《水浒传》
- B. 《三国演义》
- C. 《西游记》
- D. 《红楼梦》

25. 2018年5月，“我的北京故事”等活动在雅典刮起一阵中国风，其中“亮相·国风——时尚□□秀”惊艳四座（图3是表演照片）。其中，□□缺省的字应是

- A. 秦腔
- B. 昆曲
- C. 京剧
- D. 徽剧



图3

二、综合题（第26题13分，第27题12分，第28题13分，第29题12分，共50分）

26.（13分）唐诗是我国优秀传统文化中灿烂夺目的瑰宝。

材料一 杜甫《忆昔》（部分）

忆昔开元全盛日，小邑犹藏万家室。

稻米流脂粟米白，公私仓廩俱丰实。

九州道路无豺虎，远行不劳吉日出。

……

岂闻一绢直万钱，有田种谷今流血。

洛阳宫殿烧焚尽，宗庙新除狐兔穴。

（1）依据诗的前六句，“开元盛世”表现在哪些方面？（2分）

材料二 开元初，上留心理道，革去弊讹，不六七年，天下大理。河清海晏，物殷俗阜。……天宝十五载正月，安禄山反，陷洛阳。

——王谔《唐语林》

（2）请指出材料二中“安禄山反”所指的历史事件名称及其影响。（2分）

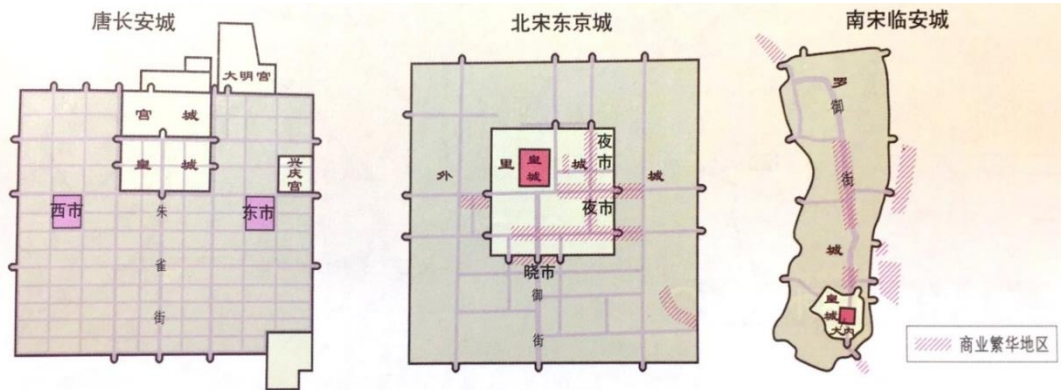
（3）杜甫的诗有“_____”之称。比较材料一与材料二，简要说明他的诗得此称号的原因。（3分）

材料三 据统计，《全唐诗》有诗歌48900多首，诗人2200多人。其中进士是盛唐时期诗人创作队伍中的生力军。诗家风格既有“摩诘之高妙，太白之俊逸，昌黎之奇崛，义山之窈眇”，又有“如郊之寒，如岛之瘦，如李贺之诡奇”；而杜诗则包罗万象，集众家之长。翻检唐诗，题材有边塞诗、山水田园诗、讽喻诗、怀古咏史诗等等，描述内容从朝廷大政到市井风情，举凡三教九流、生活琐事等都被唐诗囊括殆尽。

（4）依据材料三，概括唐诗的特点。结合所学，从多个角度分析唐诗兴盛的原因。（6分）

27. (12分) 某历史研究小组开展了“经济视角看宋朝”的主题探究活动。

探究1: 城市发展



(1) 观察图片, 比较唐宋都城形状布局和商业活动的不同特点, 完成下表。(6分)

都城 特点	唐长安城	北宋东京城	南宋临江城
形状布局	①	未完全形成对称布局	③
商业活动	主要商业活动限于东、西两市	②	城外形成新的商业区

探究2: 边界互市

宋辽订立“澶渊之盟”后, 双方达成协议, 在河北沿边陆续开放了四处榷场。在宋辽边界贸易中, 宋输出的商品以农产品、手工制品和海外香料为主。而辽则主要输出牲畜、皮货、草药、矿物并盐类。

对于敏感商品, 宋辽都有严格限制, 辽严格限制军用战马出口到宋, 宋对制作火药所用的硫磺和硝、金属铜铁、兵器弓箭等也严格限制出境。

(2) 结合材料, 边界榷场贸易体现出宋与辽之间怎样的关系?(2分)

探究3: 海外贸易

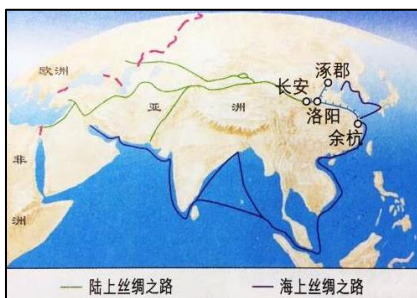


图4 丝绸之路与大运河



图5 水罗盘(模型)



图6 宋代蹴鞠铜镜



图7 泉州出土的宋代海船



图5 广州十三行

(3) 研究小组的同学拟制作“图说宋代海上丝绸之路”的展板。以上图片中他们可直接选用哪两幅？请简要说明理由。(4分)

28. (13分) 我国古代对外交往频繁，中外友好交往促进了人类社会的进步。
材料一



图9 玄奘西行与鉴真东渡图

(1) 参照范例并结合所学，完成你对玄奘西行的简介。(2分)

【范例】唐朝高僧鉴真排除千难万险东渡日本弘扬佛法，传播中国的医药和书法等，为中日文化交流作出卓越贡献。

(2) 结合所学，比较玄奘西行和鉴真东渡的相同点和不同点。(4分)

材料二 在西方航海时代来临前，明朝从成祖永乐三年至宣宗宣德八年派遣郑和率船队七下西洋。船队最多时有船 200 多艘，人员 27000 多人。

除使用前人季风确定航线、指南针导航等技术外，船队还利用天文导航，留下了众多星宿定位的数据和天体高度变化的记录。船队虽然配备了强大武装，但从未侵占过一寸土地，通过和平方式得到了各国信任。亚非的一些地方至今仍有纪念郑和的三宝庙等遗迹。

(3) 依据材料二，对以下表述做出判断：直接从材料得出的，在括号内划“√”；违背材料所表达意思的，在括号内划“×”；材料没有涉及的，在括号内划“○”。(5分)



- ① 郑和七次远航都是受明成祖的派遣。 ()
- ② 郑和下西洋时间早、规模大、人数多。 ()
- ③ 郑和船队的航海技术在继承前人的基础上进一步发展。 ()
- ④ 郑和船队用丝绸、瓷器交换别国的宝石、香料。 ()
- ⑤ 纪念郑和的历史遗迹遍布亚洲各国。 ()

(4) 著名学者梁启超曾称赞郑和“全世界历史上所号称航海伟人，能与并肩者，何其寡也”。请你结合所学，简述郑和远航的历史意义。(2分)

29. (12分) 某校“民族关系”学习小组通过多种方式来研究西藏的历史。

【走进博物馆】

首都博物馆的“天路文华——西藏历史文化展”备受瞩目。在第四单元“和同一家”展出了著名的历史画卷——唐代画家阎立本的作品《步辇图》(图10)。



图 10

(1) 结合所学，说明展品《步辇图》与展览单元主题“和同一家”的关系。(4分)

(提示：可从文物反映的事件及其影响两个角度叙述)

【搜集文献资料】

(2) 元朝时“西藏正式成为中央直接管辖下的一个地方行政区域”。为了论证这个观点，同学们搜集了以下资料。请将它们与各自佐证的结论进行连线。(4分)

资 料

结 论

《经世大典·站赤》：“乌思藏等除小站七所勿论，其大站二十八处。”

元朝设立了宣政院直接管理西藏

《元史·百官志》：“宣政院，掌释教僧徒及吐蕃之境而隶治之。”

元朝在西藏建立起各级地方政府机构

《汉藏史集》记载，纳里速古鲁孙和乌思藏四茹共有户口 36453 帐，其中纳里速和藏地为 15690 帐，乌思为 20763 帐。

元朝在西藏建立了驿站制度

《萨加世系史》：“每二十五小户为一大户，每两个大户为一个马头。每两个马头为一个百户。每十个百户为一个千户。每十个千户为一个万户。每十个万户为一个路。每十个路为一个省。”

元朝对西藏户口进行了清查和统计

【观看纪录片】

1750年，西藏因贵族谋叛而陷入纷乱之中。六世班禅立场坚定，支持中央平乱，赏赐平叛官军，又睿智地处理好了七世达赖喇嘛转世问题，受到乾隆皇帝的赞赏。

1770年，在拒绝英国东印度公司乔治·波格尔的通商申请时，六世班禅坚定地说：“西藏属中国领土，一切要听从中国大皇帝的圣旨办事。”

——整理自纪录片《圣途》第二集“倾心内向”

(3) 列举两项清廷管辖西藏地区的措施；结合所学，说明这些措施的意义。(4分)



2018北京市西城区初一（下）期末历史参考答案



一、选择题(本大题25小题，每小题2分，共50分)

题号	1	2	3	4	5	6	7	8	9	10
答案	B	A	B	C	B	A	B	D	C	C
题号	11	12	13	14	15	16	17	18	19	20
答案	C	A	C	A	D	D	A	D	B	A
题号	21	22	23	24	25					
答案	C	D	B	D	C					

二、综合题（第26题13分，第27题12分，第28题13分，第29题12分，共50分）

26. (共 13 分)

(1) 表现：经济繁荣、国库充盈、人口众多、社会安定等。（答出 2 点，给 2 分）

(2) 安史之乱使唐朝由盛转衰。（2 分）

(3) “诗史”（1 分）

原因：杜甫的诗反映了历史的真情实况。（2 分，具体回答两则材料的相同点可酌情给分）

(4) 特点：数量巨大，名家辈出，风格多样，题材广泛，内容丰富。

（答出 2 点，给 2 分）

原因：政治上，科举制以诗赋取士推动了文人的诗歌创作；

经济上，国力的强盛为唐诗的繁荣奠定了物质基础；

社会风气上，包容与开放的社会风气促进了唐诗的蓬勃发展；

统治阶级对于文学的爱好、提倡与重视，对唐诗的繁荣起了积极的推动作用等。

（答出 2 点给 4 分；其他回答言之有理即可）

27. (12 分)

(1) ①布局严整对称；②商业活动已突破时间和空间的限制；③呈现不规则形状

（每空 2 分，共 6 分）

(2) 政治上并立与对峙，经济上互补与交流。

(1 点 1 分，共 2 分；回答“政权对峙，经济交流”可给分)

(3) 选用：图5、图7 (2分)

理由：宋代造船技术的高超和航海工具的完善，使中国商船的远航能力大为加强，为海上丝绸之路的发展提供了条件和保障。(2分)

28. (13分)

(1) 唐朝高僧玄奘不畏艰险前往天竺求取佛经，回到长安后主持译经工作，为中国佛教的发展作出重大贡献。(2分)

或：唐朝高僧玄奘不畏艰险前往天竺求取佛经，回到长安后口授而成《大唐西域记》一书，成为研究中外文化交流的珍贵文献。(2分)

(2) 相同点：都促进了佛教的发展；都体现出坚持不懈的品质；都为中外文化交流做出贡献。(答出 1 点，给 2 分)

不同点：玄奘是西行学习佛法，鉴真是东渡弘扬佛法；玄奘是吸收外来文化，鉴真是向外传播文化。(答出 1 点，给 2 分)

(3) ×；√；√；○；× (5分)

(4) 历史意义：郑和的远航，时间之长，规模之大，堪称世界航海上的壮举；增进了中国与亚非国家和地区的相互了解和友好往来；开创了西太平洋与印度洋之间的亚非海上交通线；为人类的航海事业作出了伟大贡献。(任答 1 点，给 2 分)

29. (12分)

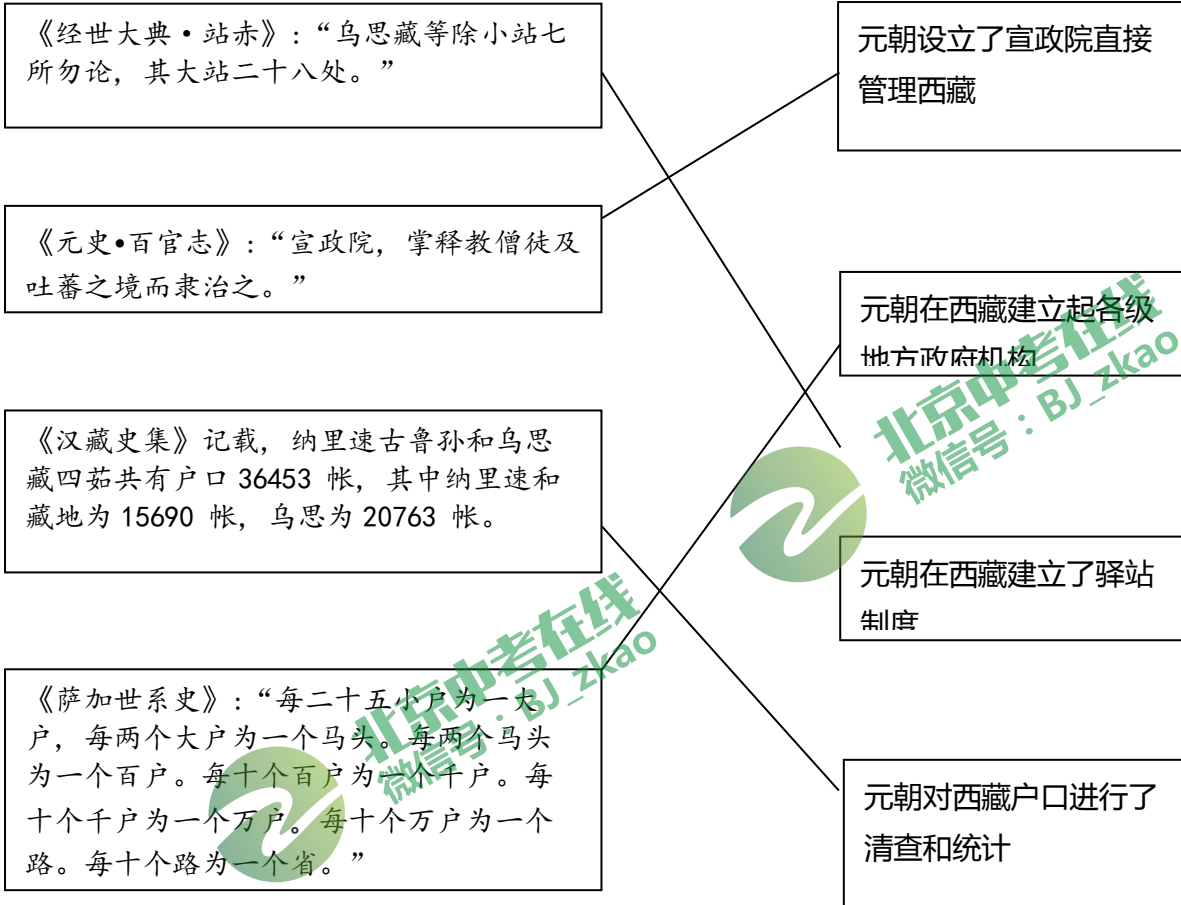
(1) 《步辇图》反映了吐蕃(今西藏)赞普松赞干布迎娶文成公主入藏的历史事件。(2分)唐蕃和亲促进了吐蕃经济和社会的发展，这幅画作是汉藏民族友好情谊的历史见证。(2分)

(回答出“文成公主入藏”及其影响，可各给 2 分)

(2) (4分)

资料

结论



(3) 措施：册封达赖和班禅，设置驻藏大臣，设立嘎厦，颁布《钦定藏内善后章程》等。（任答 2 点，给 2 分）

意义：有效地加强了中央政府对西藏的管辖，增强了中华民族的向心力和凝聚力。（答出 1 点，给 2 分）