



房山区 2018—2019 学年度第二学期期中检测试卷

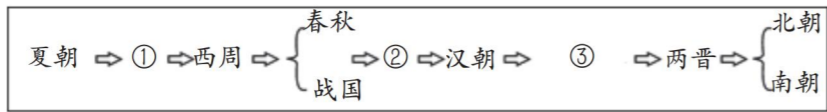
九年级历史

考生须知

1. 本试卷共 12 页，34 道题，满分 90 分，考试时间 90 分钟。
2. 在试卷和答题卡上准确填写学校名称、姓名。
3. 试题答案一律书写在答题卡上，在试卷上作答无效。
4. 在答题卡上，选择题用 2B 铅笔作答，其他试题用黑色字迹签字笔作答。
5. 考试结束，将本试卷、答题卡一并交回。

第一部分 选择题 (共 45 分)

1. 考古发现可以说明北京人会使用和保存火种的依据是
 - A. 北京人头盖骨化石
 - B. 洞内厚达 4 米的灰烬
 - C. 遗址中的打制石器
 - D. 北京人的生活想象图
2. 《左传》载：“其怀柔天下也，犹惧有外侮，捍御侮者，莫如亲亲，故以亲屏周。”材料中涉及的制度是
 - A. 禅让制
 - B. 分封制
 - C. 郡县制
 - D. 行省制
3. 以下示意图中与②相关的史实是



中国古代朝代更替示意图 (局部)

- A. 制作青铜器
 - B. 修建都江堰
 - C. 统一度量衡
 - D. 实施推恩令
4. 下列事件与汉代丝绸之路开辟有关的是
 - A. 张骞通西域
 - B. 鉴真东渡
 - C. 文成公主入藏
 - D. 郑和下西洋
 5. 某位皇帝不仅使“贞观之风一朝重振”，而且使唐朝进入鼎盛时期。这位皇帝是
 - A. 唐太宗
 - B. 唐高宗
 - C. 武则天
 - D. 唐玄宗
 6. 右图所反映的历史事件的影响是
 - A. 传授佛经，传播中医和建筑技术
 - B. 翻译佛经，促进了中国佛教的发展
 - C. 密切了唐朝和吐蕃的关系
 - D. 促进了汉朝和西域各国的友好往来



7. 宋朝儿童念的《神童诗》，一开头就是“天子重英豪，文章教尔曹；万般皆下品，惟有读书高。”材料主要表明宋朝
 - A. 等级森严
 - B. 商业繁荣
 - C. 重农抑商
 - D. 重文轻武
8. 四大发明对人类的文明与进步产生了巨大的影响，其中最有利于书籍快速、广泛传播和交流的是
 - ①火药
 - ②指南针
 - ③印刷术
 - ④造纸术
 - A. ①②
 - B. ②③
 - C. ③④
 - D. ①④
9. 《东京梦华录》记载：“街南桑家瓦子，近北则中瓦，次里瓦，其中大小勾栏 50 余座，……瓦中多有货药、卖卦、喝故衣、探博、饮食、剃剪、纸画、令曲之类。终日居此，不觉抵暮。”这一现象出现的原因是
 - A. 士大夫的提倡
 - B. 达官贵人的需要
 - C. 商品经济的繁荣
 - D. 海外贸易的兴盛
10. 某班同学开展关于中国古代文明的书籍分享活动，其中和古代农业生产技术相关的书籍有
 - A. 《本草纲目》《红楼梦》
 - B. 《天工开物》《伤寒杂病论》
 - C. 《齐民要术》《农政全书》
 - D. 《大唐西域记》《马可·波罗行纪》
11. 下列材料体现的时代特征是



平定准噶尔图卷



金奔巴瓶及象牙签

- A. 经济重心的南移
 - B. 政权分立与民族交融
 - C. 繁荣与开放的社会
 - D. 统一多民族国家的巩固发展
12. 下列图示反映了中国古代王朝行政机构设置的情况，按其设置时间正确排序的是

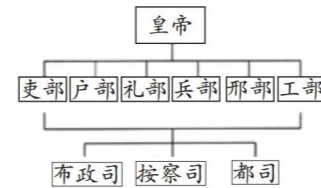


图 1

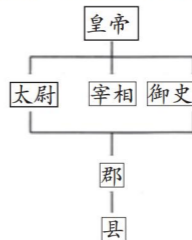


图 2

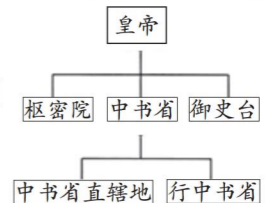


图 3

- A. 图 1、图 2、图 3
- B. 图 2、图 3、图 1
- C. 图 3、图 2、图 1
- D. 图 2、图 1、图 3

姓名 密封线内不能答题 班级 学校



13. 青花瓷是中国瓷器中的名品。其底色是蒙古人崇尚的白色，青蓝色花纹受伊斯兰文化影响，制作花纹的颜料“钴蓝”由波斯商人带来，它的花纹既有汉人推崇的梅兰竹菊、蒙古人喜欢的牡丹、芍药，也有西亚文化的葡萄藤。青花瓷的这些特性表明中华文明

- A. 经久不衰 B. 开放包容 C. 成就辉煌 D. 绵延不绝

14. “它不仅是英国对中国的胜利，而且是先进的西方对古老东方的最初胜利”，陈旭麓在《近代中国社会的新陈代谢》一书中对一场战争进行了这样的表述，它是指

- A. 鸦片战争 B. 第二次鸦片战争 C. 甲午中日战争 D. 八国联军侵华

15. 李鸿章认为“古今国势，必先富而后自强，尤先富在民生，而国本乃可益固。”体现“求富”思想的活动是

- A. 创办安庆内军械所 B. 创办轮船招商局 C. 创办大生纱厂 D. 设立京师大学堂

16. 右图照片中的内容体现的是哪一运动的核心精神

- A. 太平天国运动 B. 洋务运动 C. 义和团运动 D. 五四运动



17. 蒋介石在台儿庄大捷后的电报中说“此次台儿庄之捷，幸赖我前方将士之不惜牺牲，后方同胞之共同奋斗，乃获此初步之胜利。”由此说明

- A. 全民族抗战是此次胜利之源 B. 国民党拥有强大的军事实力 C. 日本战线太长，兵力不足 D. 国民党军事方针受到中共抗战政策影响

18. 一位同学以中国共产党的奋斗历程为题材，搜集资料进行整理，以下资料按时间先后排序正确的是

- ①“开天辟地” ②“生死攸关” ③“中流砥柱” ④“星火燎原” A. ①③④② B. ①④②③ C. ②①③④ D. ①②④③


19. 20世纪70年代，中美关系开始走向正常化，今年是中美正式建交多少周年？

- A. 36年 B. 38年 C. 40年 D. 42年



20. 某学校将要组织一次“国防和军队建设成就展”活动，你认为下列图片能够入选的是

- A. ①②④ B. ①②③ C. ①③④ D. ②③④



21. 右图反映古代两河流域

- A. 是世界最早的农业发源地之一 B. 掌握了青铜冶炼技术 C. 创造了世界上最早的文字之一 D. 发明轮子，制造车辆



以楔形文字写成的汉谟拉比法典

22. 阿拉伯帝国在科学、文学、哲学等诸多领域取得了辉煌的成就。下列成就属于阿拉伯帝国的有

- ①“阿拉伯数字” ②《医典》 ③《天方夜谭》 ④创造“代数学”一词 A. ①②③ B. ①②④ C. ①③④ D. ②③④

23. 该作品



《小椅子上的圣母》

这是拉斐尔绘制圣母画像的集大成之作。除表现了“上帝之母”的光辉形象，还流露了人类母亲的平凡之美。

- A. 体现了文艺复兴的核心精神 B. 以夸张强烈的色彩表现物象 C. 折射出社会发展的主要趋势 D. 体现了现代主义艺术的风格

24. 19世纪上半期，英国兴起了创办机械学校和工学院的热潮，在许多大城市、中小城镇还建立了职工讲习所。这体现了

- A. 民主范围的扩大 B. 大学的兴起 C. 行会组织的建立 D. 工业革命的影响

25. 以俄国农奴制改革、日本明治维新、美国南北战争为研究材料，可确定的主题是

- A. 资本主义扩展 B. 民族独立战争 C. 君主专制加强 D. 对外殖民扩张

26. 英国著名历史学家霍布斯鲍姆在《极端的年代》中写道：“这一事件产生的实际后果，远比1789年更为深远……。”“这个事件”创建了人类历史上第一个社会主义国家，这个事件是指

- A. 英国资产阶级革命 B. 美国罗斯福新政 C. 第一次世界大战 D. 俄国十月革命

27. 甘地是印度民族解放运动中的领袖人物，由于他的努力，“精神运动取代了武装暴动，祈祷取代了枪炮”。材料反映甘地主张

- A. 武装夺取政权 B. 非暴力不合作 C. 提倡世俗改革 D. 抵制西方文明





密封线内不能答题

28. 下面是第二次世界大战进程示意图，图中②应选择的历史事件是



- A. 德国突袭波兰
 - B. 德军突袭苏联
 - C. 日本偷袭珍珠港
 - D. 斯大林格勒战役
29. 二战期间，反法西斯同盟召开多次国际会议，商讨重大事件。其中宣布“日本所窃取于中国之领土，例如满洲、台湾、澎湖列岛等”归还中国的会议是
- A. 华盛顿会议
 - B. 德黑兰会议
 - C. 开罗会议
 - D. 雅尔塔会议
30. 根据下列内容判断，材料反映的主题是

① 1947年 印度独立。
② 1949年 中华人民共和国成立。
③ 1960年 喀麦隆、塞内加尔等17个国家宣布独立。这一年被称为“非洲独立年”。
④ 1999年 巴拿马收回巴拿马运河区主权。




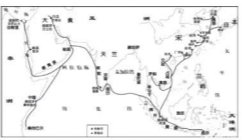
- A. 亚非拉国家的独立和振兴
- B. 两极格局的形成
- C. 非洲殖民体系最终崩溃
- D. 世界格局多极化

第二部分 材料解析题 (45分)

31. 改革开放是强国之路。(12分)

材料一

中国古代改革开放大事记 (部分)

时期	史实	影响	时期	史实	影响
战国	 ①	秦国经济得到发展，军队战斗力加强，为秦统一六国奠定基础。	②	 孝文帝改革	推动了社会发展，促进了北方民族交融。
唐朝	 遣唐使来唐	推动日本社会的发展、促进中日友好交流。	宋朝	 海上丝绸之路	海上“陶瓷之路”发展兴盛，政府为管理海外贸易，在主要港口设立③

(1) 将材料一的表格填写完整。(3分)

材料二

对于“百日新政”的长期效果如何评价，罗斯福把它交给选民去表决。在新政出台一年之后，1934年6月28日，罗斯福在炉边谈话中向公民提问“你们的日子比去年好过吗？你们的债务负担减小了吗？你们的银行存款安全了吗？你们的工作条件好些了没有？你们对自己的前途信念有了更牢固的基础吗？”多数选民对此的回答是肯定的。

——《身残志坚罗斯福》

(2) 材料二所说的“百日新政”指的是什么事件？(1分)它有何作用？(2分)

材料三 邓小平谈改革和发展

谈改革	谈发展
1. 改革是中国的第二次革命。这是一件很重要的必须做的事，尽管是有风险的事。	1. 发展才是硬道理。
2. 不管黑猫白猫，捉住老鼠就是好猫。	2. 解放思想，开动脑筋，实事求是。
3. 计划多一点还是市场多一点，不是社会主义与资本主义的本质区别。	3. 科学技术是第一生产力。
4. 思想解放些改革开放步子更快些。	4. 一部分地区有条件先发展起来，先发展起来的地区带动后发展的地区，最终达到共同富裕。
5. 改革和建设都要走自己的路。	5. 要创造一种环境，使拔尖人才能够脱颖而出。
6. 什么事情总要有有人试第一个，才能开拓新路。	6. 中国式的现代化必须从中国的特点出发。

(3) 依据材料三，谈谈邓小平在改革开放中的作用？(1分)

材料四 改革开放40周年主要成就 (部分)

序号	主要成就
①	“西气东输”是我国距离最长、口径最大的输气管道，西起塔里木盆地的轮南，东至上海。全线采用自动化控制，供气范围覆盖中原、华东、长江三角洲地区。
②	教育事业全面发展，九年义务教育巩固率达93.8%。
③	实施“一国两制”基本方针，相继恢复对香港、澳门行使主权，洗雪了中华民族百年屈辱。
④	我们坚持一个中国原则和“九二共识”，加强两岸经济文化交流合作，推动两岸关系和平发展，坚决反对和遏制“台独”分裂势力，牢牢掌握两岸关系发展主导权和主动权。
⑤	2018年全国铁路固定资产投资完成8028亿元，中国铁路运营里程突破13万公里，其中高铁运营里程超2.9万公里，约占世界高铁总里程的2/3，稳居世界第一。
⑥	2019年，我国建成了包括养老、医疗、低保、住房在内的世界最大的社会保障体系，基本养老保险覆盖超过9亿人，医疗保险覆盖超过13亿人。



(4) 根据材料四，概括改革开放 40 周年主要成就 (5 分)

要求：仿照示例，完成表格

序号	主题	序号	主题	序号	主题
②	保障教育		完善基建		
⑥	改善民生		发展经济		

32. 推动建设人类命运共同体，是中国领导人基于对世界大势的准确把握而贡献的“中国方案”。(11 分)

【渊源】

材料一

人类命运共同体思想，扎根于中国传统文化的沃土中，汲取着中华文明的源头活水。中国传统文化思想中的诸多优秀成分，构成了人类命运共同体思想的基本理论要素。如先秦儒家、道家、墨家等天人体的宇宙观念、天下一家的人类情怀、中和之道的协调智慧等优秀传统文化，均为人类命运共同体思想提供了重要的智慧资源。

——摘自人民网

(1) 请将下列思想主张填到相应的位置上 (只填写序号)。(3 分)

①道法自然 ②兼爱非攻 ③己所不欲，勿施于人

A 道家：_____ B 儒家：_____ C 墨家：_____

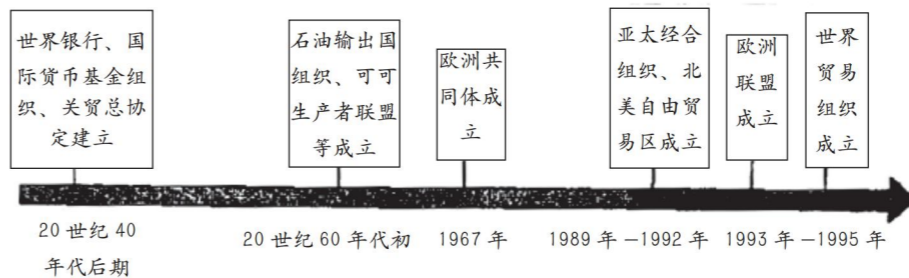
【联结】

材料二



(2) 以上三位人物和哪一历史事件相关? (1 分) 这一历史事件带来哪些积极影响? (2 分)

材料三 20 世纪中后期世界经济发展大事示意图



(3) 依据材料三并结合所学知识，概括二战后世界经济发展的主要趋势。(2 分)

【发展】

材料四

全球热点问题此起彼伏、持续不断，气候变化、网络安全、难民危机等非传统安全威胁持续蔓延，保护主义、单边主义抬头，全球治理体系和多边机制受到冲击。我们要坚持共商共建共享的全球治理观，坚持全球事务由各国人民商量着办，积极推进全球治理规则民主化。……共同推动构建人类命运共同体。

——习近平在中法全球治理论坛闭幕式上的讲话

(4) 根据材料四及所学谈谈现代社会发展面临哪些问题? (2 分) 中国为构建人类命运共同体采取了哪些具体措施? (1 分)

33. 每个人的前途命运都与国家和民族的前途命运紧密相连。(14 分)

材料一

“人固有一死，或重于泰山，或轻于鸿毛。”

——司马迁

“国破山河在，城春草木深。感时花溅泪，恨别鸟惊心。烽火连三月，家书抵万金。白头搔更短，浑欲不胜簪。”

——杜甫

“天下兴亡，匹夫有责！”

——顾炎武

“苟利国家生死以，岂因祸福避趋之！”

——林则徐

“为中华之崛起而读书！”


——周恩来



(1) 依据上述这组材料,对以下表述做出判断:直接从材料得出的,在括号内划“√”;违背材料所表达意思的,在括号内划“×”;材料没有涉及的,在括号内划“○”。(4分)

- ①司马迁的《史记》是中国历史上第一部纪传体通史。()
- ②《春望》一诗写作背景是唐朝开元盛世。()
- ③林则徐在禁烟抗英问题上,不顾个人安危的态度,虽遭革职充军也无悔意。()
- ④这组材料共同反映了个人命运与国家命运休戚相关。()

材料二



(2) 从材料二中的人物中任选其一,说出他的主要贡献(2分)
示例:华盛顿,领导美国独立战争并取得胜利。

材料三

实现民族的伟大复兴是中华民族近代以来的伟大梦想。近代中国人为争取民族独立,实现民族复兴,进行了不懈的探索。



余致力国民革命凡四十年……必须唤起民众及联合世界上以平等待我之民族,共同奋斗
——孙中山



富民强国之本实在于工,非商战不可以救国。中国须振兴实业,其责任须在士大夫。
——张謇



凡是愚弱的国民,使体格如何健全,也只能做毫无意义的示众的材料和看客,以我们的第一要著,是在改变他们的精神。
——鲁迅

(3) 阅读材料三,指出以上历史人物探索救国道路的方式有何不同?(3分)

材料四

1949年12月,国家政务院文化教育委员会成立了“办理留学生回国事务委员会”,统筹回国留学生接待事宜。12月18日,周恩来通过北京人民广播电台,代表党和中央人民政府郑重邀请在海外的留学生回国参加新中国建设。于是,一批在海外学习和工作的科学家毅然归国,为祖国建设鞠躬尽瘁。

钱三强(1913—1992)	世界著名的科学家	1948年回国
梁思礼(1924—2016)	火箭系统控制专家	1949年回国
朱光亚(1924—2011)	“两弹一星功勋奖章”获得者	1950年回国
邓稼先(1924—1986)	物理学家	1950年回国
钱学森(1911—2009)	中国现代科学家	1955年回国
师昌绪(1918—2014)	中国材料科学家	1955年回国

(4) 依据以上材料,说出1949年后出现了什么现象?(1分)结合所学,分析出现这一现象的原因。(2分)

材料五

开着飞机送快递。人生有梦,才精彩。



赵立杰大专毕业后在河北廊坊当上了一名快递小哥。一次偶然的机,顺丰速运在全国招收6名内部员工作为飞行学员,经过严格体检和英语考核,赵立杰幸运的成为其中一员,开始了两年飞行员集训。经过无数次考核和严格训练,赵立杰闯过了一道道难关,十年来,他从普通的飞行员拼搏到机长。

历史告诉我们,每个人的前途命运都与国家和民族的前途命运紧密相连。国家好,民族好,大家才会好。实现中华民族伟大复兴是一项光荣而艰巨的事业,需要一代又一代中国人共同为之努力。空谈误国,实干兴邦。

——习近平

(5) 依据以上材料,请你谈谈怎样实现个人理想,助力国家建设。(2分)



34. 2019年春节,故宫博物院开展了“紫禁城里过大年”主题活动,某历史小组开展了“探秘紫禁城”的研学活动。(8分)

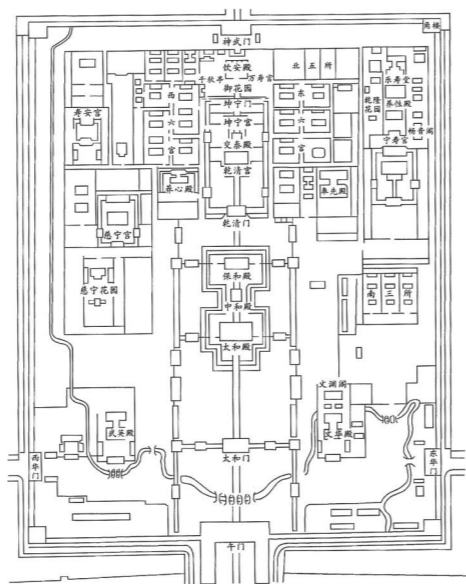
【紫禁城的布局】

材料一

紫禁城内的建筑分为外朝和内廷两部分。外朝的中心为太和殿、中和殿、保和殿,统称三大殿,是国家举行大典礼的地方。内廷的中心是乾清宫、交泰殿、坤宁宫,统称后三宫,是皇帝和皇后居住的正宫。

宫殿是沿着一条南北向中轴线排列,三大殿、后三宫、御花园都位于这条中轴线上。并向两旁展开,南北取直,左右对称。这条中轴线不仅贯穿在紫禁城内,而且南达永定门,北到鼓楼、钟楼,贯穿了整个城市。

(1) 依据材料一,在紫禁城平面图上用“——”标示出紫禁城外朝、内廷的分界线和南北中轴线。(2分)



紫禁城平面图

【紫禁城的变迁】

材料二

紫禁城于公元1406年开始建设,曾有25位皇帝在此住过。历代封建王朝的统治者都将自己喻为是“上天之子”,即“天子”,在人间的住所称为“紫宫”。……皇帝居住的皇宫四周警戒森严,有严格的宫禁,不可以随便出入。

1925年10月10日下午2时,故宫博物院在乾清门举行开幕典礼。……值此双十节,北京城万人空巷,人潮涌向故宫。会后,善后委员会通电各界,宣布故宫博物院成立。

(2) 阅读材料二,结合所学知识,说说紫禁城的功能发生了什么变化?(2分)

【紫禁城的今天】

材料三

故宫的整个建筑金碧辉煌,庄严绚丽,被誉为世界五大皇宫之一,并被联合国科教文组织列为“世界文化遗产”。收藏有大量古代艺术珍品,据统计共达1052653件,占中国文物总数的六分之一,是中国收藏文物最丰富的博物馆,也是世界著名的古代文化艺术博物馆。

(3) 阅读材料,结合所学知识,概括故宫博物院有哪些特点?(2分)

【紫禁城的未来】

材料四

故宫博物院推进“学术故宫”建设,研究领域涵盖了考古、戏曲、书画、陶瓷、玉器、宫廷技艺、钟表、文化遗产、中医药文化等22项,使研究成果不断转化为弘扬中华优秀传统文化、服务广大社会公众的丰富内容,使各项活动充满文化内涵。



“数字故宫社区”建设的不断深入,使得故宫博物院丰富的文物藏品资源能够通过数字技术,以广大观众喜闻乐见的多种方式传播。

借助互联网和信息技术平台的数据统计,故宫打造了一系列的文化产品,使人们不断接触到一个锐意创新、不断发展的“新”故宫。

2020年,故宫建成600年,院长单霁翔说:“把壮美的紫禁城,完整地交给下一个600年!”

(4) 习近平主席说过“要让收藏在博物馆里的文物、陈列在广阔大地上的遗产、书写在古籍里的文字都活起来。”结合上述材料,举例说明故宫博物院是如何践行这句话的?(2分)