

历史试卷

2023.6

本试卷共 8 页，共两部分，24 个小题，满分 70 分。考试时间 70 分钟。考生务必将答案填涂或书写在答题卡上，在试卷上作答无效。考试结束后，请交回答题卡。

一、单项选择题（每小题 1.5 分，共 30 分）

- 1949 年 10 月 1 日下午 3 时，开国大典在天安门广场隆重举行。毛泽东庄严宣告：“中华人民共和国中央人民政府今天成立了！”中华人民共和国的成立
 - 开辟了中国历史的新纪元
 - 壮大了世界和平民主和社会主义的力量
 - 彻底结束了旧中国半殖民地半封建社会的历史
 - 开始了全面的社会主义建设事业

A. ①②③ B. ①②④ C. ①③④ D. ②③④
- 下列历史事件中，标志着祖国大陆获得统一，各族人民实现了大团结的是

A. 北平和平解放 B. 解放西南各省 C. 西藏和平解放 D. 西部大开发
- 1953 年，朝鲜停战协定签字后，彭德怀自豪地宣告：“西方侵略者几百年来只要在东方一个海岸上架起几尊大炮就可霸占一个国家的时代是一去不复返了”！抗美援朝战争
 - 使国民经济得到根本好转
 - 为成立新中国做出了贡献
 - 保卫了中国人民和平生活
 - 抵御了帝国主义侵略扩张

A. ①② B. ①③ C. ②③ D. ③④
- 1954 年，毛泽东在《为建设一个伟大的社会主义国家而奋斗》中说：“这次会议所制定的宪法将大大地促进我国的社会主义事业。”这次会议是

A. 中央人民政府委员会第一次全体会议

B. 第一届全国人民代表大会第一次会议

C. 中国共产党第十三次全国代表大会

D. 第十二届全国人民代表大会第一次会议
- 从 1954 年起，国家对资本主义工商业进行社会主义改造。在改造过程中，按全行业公私合营时资本家的资本发给定息，实现了和平过渡的政策是

A. 农民土地所有制 B. 农业合作化 C. 赎买政策 D. 国有企业改革
- 下表是 1952—1956 年我国国民收入结构情况。由此可知 1956 年我国

年份	国营经济	合作社经济	公私合营经济	个体经济	资本主义经济
1952 年	19.1%	1.5%	0.7%	71.8%	6.9%
1956 年	32.2%	53.4%	7.3%	7.1%	趋于零

- A. 经济建设在探索中曲折前进 B. 建立起社会主义基本制度
- C. 工农业生产得到恢复 D. 民主政治建设加紧进行



7. 在社会主义经济建设的火热年代, 全国各条战线上涌现出了大批英雄模范人物。其中被誉为“解放军好战士”的是

- A. 黄继光 B. 王进喜 C. 焦裕禄 D. 雷锋

8. 从 1956 年到 1966 年全面建设社会主义的十年, 是党对中国社会主义建设道路艰辛探索的十年, 虽然经历曲折, 仍然取得了无可否认的巨大成就。下列成就属于这一时期的是

①建成武汉、包头钢铁基地 ②完成人工合成结晶牛胰岛素

③举办第 29 届夏季奥运会 ④成立中国自由贸易试验区

- A. ①② B. ①③ C. ②③ D. ②④

9. 某历史学习小组开展研究性学习, 收集了右侧资料。

请判断该研究性学习的主题是

- A. 农村经济体制改革
B. 城市经济体制改革
C. 农村乡镇企业发展
D. 全行业公私合营

实行经营承包责任制
增强企业活力
股份制改革

10. 以下是《中国共产党简史》的部分目录, 其中第七章的标题应为

第七章 _____

三、农村改革、创办经济特区和改革开放的起步

四、党的十二大和社会主义现代化建设的全面展开

五、党的十三大和党在社会主义初级阶段基本路线的确立

六、国防战略的调整

- A. 中华人民共和国的成立和社会主义制度的建立
B. 社会主义建设的探索和曲折发展
C. 伟大历史转折和中国特色社会主义的开创
D. 把中国特色社会主义全面推向 21 世纪

11. 右侧是某同学所绘制的知识结构图。①处应填写的是

- A. “三步走”战略部署
B. 中国梦宏伟蓝图
C. 中国特色社会主义理论体系
D. “四个全面”战略布局

①

邓小平理论
“三个代表”重要思想
科学发展观
习近平新时代中国特色社会主义思想

12. 民族区域自治制度是我国的一项基本政治制度。我国建立的第一个自治区是




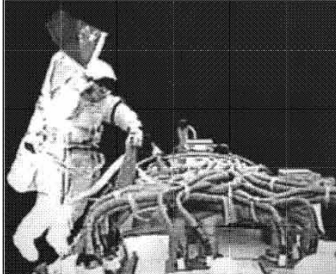
- A. 内蒙古自治区 B. 新疆维吾尔自治区
C. 广西壮族自治区 D. 宁夏回族自治区

13. 邓小平从维护祖国和中华民族根本利益出发, 创造性地提出这一伟大构想, 为香港和澳门回归祖国开辟了途径。这一伟大构想是

- A. 人民代表大会制度 B. “一国两制”
C. 社会主义市场经济体制 D. “九二共识”



14. 它由核导弹部队、常规导弹部队、作战保障部队等组成，是中国战略威慑的核心力量，主要担负遏制他国对中国使用核武器、遂行核反击和常规导弹精确打击任务。“它”是
- A. 海军 B. 陆军 C. 空军 D. 火箭军
15. 2016年，中国人民解放军成立五大战区，调整组建五大军种，国防和军队改革取得历史性突破，形成军委管总、战区主战、军种主建的新格局。这标志着我国
- A. 军事科技取得重大突破 B. 空军现代化建设的进步
- C. 海军的武器装备不断更新换代 D. 军队组织架构实现革命性重塑
16. 经过几代航天人的接续奋斗，我国航天事业取得了一系列辉煌成就。下列照片中，反映我国在探索太空征程上迈出第一步的是

			
A. 第一颗原子弹爆炸成功	B. 成功发射东方红一号	C. 神舟一号完成飞行试验	D. 航天员出舱实现太空行走

17. 2019年9月，国家主席习近平签署主席令，授予我国一位著名的农业科学家“共和国勋章”，以表彰其为我国粮食安全、农业科学发展和世界粮食供给做出的杰出贡献。这位科学家是
- A. 钱学森 B. 邓稼先 C. 袁隆平 D. 莫言
18. 2022年，我国研发经费投入达30870亿元，首次突破3万亿大关，自“十三五”以来已经连续7年保持两位数增长。这表明我国
- A. 推进人民币国际化进程 B. 文化领域出现繁荣景象
- C. 大力发展群众体育运动 D. 已进入创新型国家行列

19. 右侧表格内容体现出改革开放以来，社会发展的趋势是

年份	城镇居民人均可支配收入(元)	农村居民人均可支配收入(元)
1978年	343.4	133.6
1990年	1510.2	686.3
2000年	6255.7	2282.1
2017年	36396.2	13432.4
2021年	47411.9	18930.9

20. 历史解释是对史实的分析或判断。下列选项中属于历史解释的是
- A. 1956年，三大改造完成是中国历史上最深刻的社会变革
- B. 1984年，《中华人民共和国民族区域自治法》颁布实施
- C. 1997年，中华人民共和国香港特别行政区成立
- D. 2012年，中国共产党第十八次全国代表大会在北京举行

二、非选择题（共40分）



21.（9分）铭记奋斗历程，担当历史使命。

材料一 9月27日，会议通过了四项决定：（一）中华人民共和国国都定于北平，自即日起将北平改为北京。（二）采用公元纪年，当年为1949年。（三）在国歌未正式制定前，以《义勇军进行曲》为国歌。（四）国旗为红地五星旗，象征中国革命人民大团结。

——摘自王桧林等《中国现代史》

（1）依据材料一并结合所学，说出相关会议名称及其意义。（2分）

材料二

		
<p>①20世纪70年代初，屠呦呦领导团队发现青蒿素，开创了治疗疟疾的新方法</p>	<p>②2005年，十届全国人大三次会议通过《反分裂国家法》</p>	<p>③2019年10月1日，中华人民共和国成立70周年国庆阅兵在北京举行</p>

（2）从材料二中找出能说明以下主题的历史事实。（3分。写序号，多选、错选均不得分）

维护国家统一：

国防建设成就：

科学技术探索：

材料三 《中共中央关于党的百年奋斗重大成就和历史经验的决议》对党的百年奋斗历程进行了总结。

历史阶段	社会主义革命和建设时期	改革开放和社会主义现代化建设新时期	中国特色社会主义进入新时代
主要任务	实现从新民主主义到社会主义的转变，进行社会主义革命，推进社会主义建设，为实现中华民族伟大复兴奠定根本政治前提和制度基础	继续探索中国建设社会主义的正确道路，解放和发展社会生产力，使人民摆脱贫困、尽快富裕起来，为实现中华民族伟大复兴提供充满新的活力的体制保证和快速发展的物质条件	实现第一个百年奋斗目标，开启实现第二个百年奋斗目标新征程，朝着实现中华民族伟大复兴的宏伟目标继续前进
史实	①胜利油田建成	②_____	③_____

（3）将下列史实填入相应位置。（2分。写序号）从材料三中任选一个史实，参照示例，说明史实与该时期面临的主要任务的关系。（2分。示例除外）

A. 全面建成小康社会

B. 深圳经济特区设立

示例：史实①胜利油田的建成，我国初步形成了独立的、比较完整的工业体系和国民经济体系，为社会主义现代化建设打下了坚实的物质基础。

22. (10分) 农业发展见证了社会的发展进程。

材料一

这一政策的实施使“耕者有其田”的理想变成了现实，农民不仅获得了土地，还分得大批生产资料和生活资料，普遍添置了新农具，改善和扩大了自己的经营。1949年到1952年的农业迅速发展，全国农业产值1952年比1949年增长了48.5%

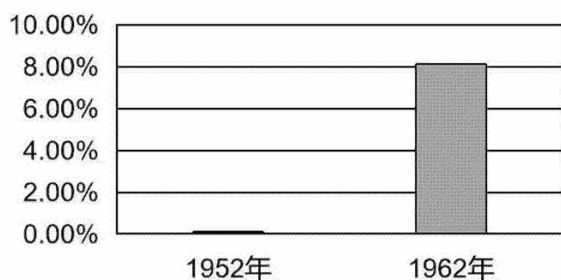


农民分到了劳动生产工具

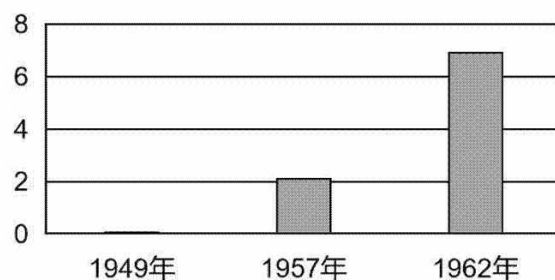
(1) 指出材料一中“这一政策”的名称。(1分) 依据材料一并结合所学，概括该政策实施的意义。(3分)

材料二 我国农业机械化发展情况 (部分)

农业机械化率



大型农机数量 (万台)



新中国成立之初，中央政府在资源极度稀缺的背景下推动了农机化的发展。1959年，在以农机化为核心发展农业现代化的指导思想下，推进农业机械化和电气化，全国范围内形成了农机化运动的浪潮。

——摘编自方师乐、黄祖辉《新中国成立70年来我国农业机械化的阶段性演变与发展趋势》

(2) 依据材料二，说出新中国成立后我国农业机械化的发展趋势。(2分) 结合所学，从国家政策的角度分析20世纪五六十年代农业机械化发展的原因。(1分)

材料三

《人民日报》曾刊登过一篇题为《象南海县那样把农村搞活变富》的社论，其中写道“只要象南海县那样解放思想，从实际出发，充分发掘人的潜力、地的潜力，发挥集体和社员的积极性，每个地方都可以在现有水平上有较快的发展。南海县农村经济蓬勃发展的状况可用一个‘活’字来概括。无论是社员、干部，务农还是务工，搞养殖还是搞种植，各条战线协同一致……无论是国营企业、集体经济还是社员家庭副业，到处充满生机……放开了农民的手脚，农村经济很快由死变活，生财之道越多，农民生活越富。”

人民日报

RENMIN RIBAO

1983年8月26日
星期二
第四版
国内统一刊号：CN11-001
零售每份五分

在祖国南部的珠江三角洲，有一个八千万人口的南海县。这个县，去年工农业总产值达5.8亿元，对国家的贡献越来越大。今年上半年，总产值已突破亿元，去年人均收入集体分配部分已逾241元，今年更被预计人均收入增加十五元。这是一个多么鼓舞人心的消息！

象南海县那样把农村搞活变富

党的政策打开了各种禁区，政府开了农民生产之门，农村经济焕发出旺盛的生机，农民生活越过越好。我们的农村集体经济是社会主义经济，必须接受国家计划的指导，执行国家的政策和法令，完成国家下达的征购和统购任务。对农业的方针，主要是国家引导和扶持，尊重农民自主权，发展多种经营，逐步实现农业现代化。

劳动有用武之地 致富无后顾之忧 南海县生产上得快 社员生活富起来

对国家对集体贡献大，集体经济产值高，去年人均收入超过四百元。本报记者汪新华报道：广东省南海县今年上半年工农业产值超过五亿元。这个县八十万人口，去年人均收入集体分配部分已逾241元，今年更被预计人均收入增加十五元。这是一个多么鼓舞人心的消息！

南海县在党的政策指引下，农村经济焕发出旺盛的生机，农民生活越过越好。我们的农村集体经济是社会主义经济，必须接受国家计划的指导，执行国家的政策和法令，完成国家下达的征购和统购任务。对农业的方针，主要是国家引导和扶持，尊重农民自主权，发展多种经营，逐步实现农业现代化。


党的政策打开了各种禁区，政府开了农民生产之门，农村经济焕发出旺盛的生机，农民生活越过越好。我们的农村集体经济是社会主义经济，必须接受国家计划的指导，执行国家的政策和法令，完成国家下达的征购和统购任务。对农业的方针，主要是国家引导和扶持，尊重农民自主权，发展多种经营，逐步实现农业现代化。

(3) 依据材料三判断，这一报道应该发生在_____。(1分。写序号) 并说明判断理由。(2分)

- ①20世纪50年代末，中共八大后我国开始全面的大规模的社会主义建设时期
- ②20世纪80年代初，十一届三中全会后我国开始改革开放和社会主义现代化建设的新时期

23. (12分) 新中国外交发展的历程，彰显大国风范。
材料一

在这一协议中，它们规定了指导两国之间关系的某些原则。这些原则是：
甲、互相尊重领土主权
乙、互不侵犯
丙、互不干涉内政
丁、平等互利
戊、和平共处
两国总理重申这些原则，并且感到在他们与亚洲以及世界其他国家的关系中也应该适用这些原则……这将使这些国家的自信增长，并导致这些国家相互之间和它们与邻国之间的友好关系



《中印两国总理联合声明》(中方手稿)
现保存于中国国家博物馆

(1) 依据材料一并结合所学，指出“这些原则”的重要价值。(2分)

材料二 新中国成立后，我们党坚持独立自主的外交政策……20世纪70年代初，国际形势经过第二次世界大战后20多年的发展，发生了重大变化，新的国际格局初露端倪。这为中国外交战略的转变提供了机遇。经过多方努力，到70年代初，我国外交工作打开新的局面，迎来了新中国成立第二次建交高潮……70年代上半期是中国外交突破性历史

大发展的时期，到1976年，同中国建交的国家已经有110多个，这包括了当时世界上的绝大多数国家。

——摘自《中国共产党简史》

(2) 依据材料二并结合所学，说出20世纪70年代“中国外交突破性大发展”取得的外交成就。(2分) 概括这一时期我国外交取得突破性大发展的原因。(2分)

材料三 新中国成立以来中国参与国际事务情况 (部分)

1955年	周恩来率中国代表团出席在印度尼西亚万隆举行的有29个国家参与的 ①
1990年	中国政府首次向联合国停战监督组织派遣5名军事观察员，开启中国参加联合国维和行动的序幕
2001年	中国正式成为 ② 成员，中国对外开放进入新的阶段
2006年	中非合作论坛北京峰会举行，峰会通过《中非合作论坛北京峰会宣言》
2015年	中国成立亚洲基础设施投资银行
2016年	中国签署气候变化《巴黎协定》
2017年	首届“一带一路”国际合作高峰论坛在北京举办

——整理自《中华人民共和国大事记(1949年10月-2019年9月)》

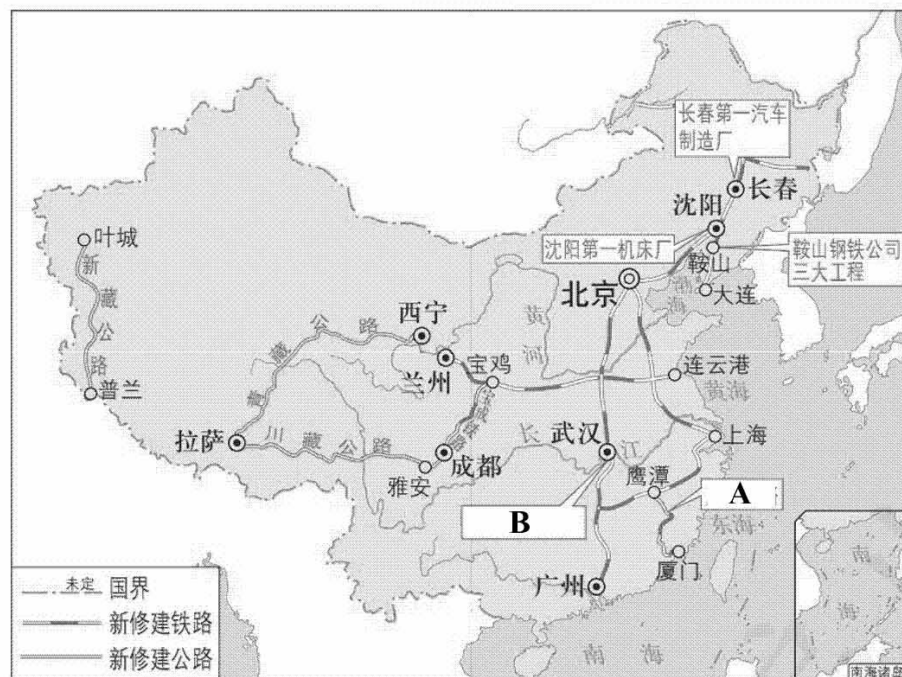
(3) 完成材料三的表格。(2分) 依据材料三，指出新中国成立以来中国积极参与国际事务的方式。(2分)

(4) 综合上述材料，谈谈对中国积极参与国际事务的认识。(2分)

24. (9分) 铁路发展见证中华民族历史性飞跃。

材料一

经过这一时期的建设，全国铁路里程从1952年的22876公里增加到1957年的26708公里，新建成宝成、鹰厦等铁路30余条。原有铁路路线经过不同程度的技术改造，运输能力普遍有所提高，建成武汉长江大桥，粤汉铁路与京汉铁路终于连通。机车车辆及器材工业形成配套生产能力，已能初步满足铁路建设和生产需要。铁路经营管理制度逐步改善与健全，促进铁路运输水平的提高



20世纪50年代我国工业交通建设主要成就分布示意图

(1) 依据材料一，将图中 A、B 内容补充完整。(2 分) 概括这一时期我国铁路事业发展的表现。(2 分)

材料二 新中国成立以来铁路发展取得了辉煌成就，如今我国已拥有先进、发达的铁路系统。其根本原因在于中国共产党的领导，在于发挥了社会主义制度优势。20 世纪 80 年代以来，铁路以市场化为导向，在体制创新方面进行了积极探索与实践，实现政企分开，获得了更大的发展空间。同时，铁路发展把科技进步摆在突出位置，坚持自主创新与引进消化吸收相结合，不断提升铁路科技水平，把核心技术、关键技术掌握在自己手中。在发展过程中，中国铁路孕育了具有铁路特色的优良传统和奋斗精神，推动铁路不断向前发展。

——摘编自傅志寰等《中国铁路百年发展与创新》

(2) 依据材料二并结合所学，谈谈 20 世纪 80 年代以来我国铁路发展的原因。(3 分)

材料三 下表是同学们在整理铁路建设成就时搜集到的部分资料

		
2006 年，青藏铁路全线通车，当地运输条件得到改善，来往更加便捷，吸引了很多企业来西藏投资	2011 年，首列中欧班列成功开行，成为中国与沿线国家贸易合作推进“一带一路”的重要载体	2011 年，京沪高铁正式开通运营，作为我国高速铁路主通道之一，是当时世界上技术标准最高的高速铁路

(3) 依据材料三并结合所学，任选一项铁路建设成就，仿照示例，进行说明。(2 分。示例除外)

示例：2011 年，京沪高铁开通运营，密切了北京与上海之间的联系，提高了我国高铁网络覆盖水平。

一、单项选择题（共 30 分）

题号	1	2	3	4	5	6	7	8	9	10
答案	A	C	D	B	C	B	D	A	B	C
题号	11	12	13	14	15	16	17	18	19	20
答案	C	A	B	D	D	B	C	D	A	A

二、非选择题（共 40 分）

21. (9 分)

(1) 中国人民政治协商会议第一届全体会议 (1 分)

中国人民政治协商会议的成功召开，标志着中国共产党领导的多党合作和政治协商制度正式确立；这次会议对中华人民共和国的成立，发挥了重要的历史作用。(1 分。答出一点即可)

(2) 维护国家统一：②

国防建设成就：③

科学技术探索：① (3 分)

(3) ②B；③A (2 分)

②深圳经济特区的设立，为推动国内的进一步改革，扩大对外经济交流，发展社会主义现代化事业起到了极为重要的作用。

③全面建成小康社会，历史性地解决了绝对贫困问题，实现了第一个百年奋斗目标，使中华民族伟大复兴进入了不可逆转的历史进程。(2 分。作用 1 分，与主要任务的关系 1 分)

22. (10 分)

(1) 《中华人民共和国土地改革法》的实施 (1 分)

意义：摧毁了 2000 多年的封建土地制度，消灭了地主阶级；农民翻了身，得到了土地，成为了土地的主人；巩固了人民政权；解放了农村生产力（恢复和发展了农业生产）；为国家的工业化准备了条件。(3 分。每点 1 分，答出三点即可)

(2) 发展趋势：农业机械化率提升；大型农机数量增加。(2 分。每点 1 分)

原因：1957 年底一五计划完成，我国开始改变工业落后的面貌，向社会主义工业化迈进。(1 分)

(3) ② (1 分)

判断理由：1978 年十一届三中全会，确定了解放思想、开动脑筋、实事求是、团结一致向前看的指导方针。家庭联产承包责任制在全国农村普遍实行，激发了农民的劳动热情，解放了农村生产力，农业生产和农民收入均有很大提高，因此这一报道发生在 20 世纪 80 年代初。(2 分。依据 1 分，结论 1 分)



23. (12分)

- (1) 价值：和平共处五项原则广为世界上的国家接受，在国际上产生深远影响；成为处理国与国之间关系的基本准则；为我国同亚非拉国家友好关系发展奠定了基础；为新中国创造了稳定的国际环境。(2分。每点1分，答出两点即可)
- (2) 外交成就：中国恢复联合国合法席位；尼克松访华（中美建交）；中美双方签署并发表了《联合公报》；中日建交（田中角荣访华）。(2分。每点1分，答出两点即可)
- 原因：外交方针政策的调整；坚持独立自主的外交政策；中国国际地位的提高；国际形势的变化；。(2分。每点1分，答出两点即可)
- (3) ①亚非会议 ②世界贸易组织 (2分)
- 方式：加入国际组织；参与国际行动；举办国际会议；成立国际金融机构。(2分。每点1分，答出两点即可)
- (4) 认识：中国成为维护和促进世界和平、稳定与发展的坚定力量，在国际事务中发挥着日益重要的作用；中国是当代国际秩序的参与者、维护者，也是改革者，努力为全球治理贡献中国智慧和力量；引导全球治理体系改革和建设。(2分。每点1分，答出两点即可。其他答案言之有理也可得分)

24. (9分)

- (1) A：鹰厦铁路 B：武汉长江大桥 (2分)

表现：铁路运输能力提高；铁路运营里程数增加；配套工业生产能力逐步形成；铁路经验管理制度不断健全完善。(2分。每点1分，答出两点即可)

- (2) 原因：坚持党的领导；坚持中国道路；坚持开拓创新；坚持独立自主。

铁路发展以市场化为导向；社会主义市场经济体制的优势；科技不断创新。

改革开放引进国外先进技术和管理经验；经济不断发展；社会主义建设时期的工业积累。

中国铁路的优良传统和奋斗精神。

(3分。每点1分，答出三点即可。其他答案言之有理也可得分)

- (3) (2分。史实1分，意义1分)

2006年，青藏铁路全线通车，改善了当地交通运输环境，大大加强了祖国内地与边疆地区的联系，促进了青海、西藏地区的经济社会发展。

2011年，中欧班列开通以来，推动“一带一路”建设，密切了沿线国家之间的经贸往来，促进我国加快构建开放型经济新体制。